

تم تحميل هذا الملف من موقع المناهج البحرينية



* للحصول على أوراق عمل لجميع الصفوف وجميع المواد اضغط هنا

<https://almanahj.com/bh>

* للحصول على أوراق عمل لجميع مواد الصف السابع اضغط هنا

<https://almanahj.com/bh/7>

* للحصول على جميع أوراق الصف السابع في مادة جغرافيا ولجميع الفصول, اضغط هنا

<https://almanahj.com/bh/7geography>

* للحصول على أوراق عمل لجميع مواد الصف السابع في مادة جغرافيا الخاصة بـ الفصل الثاني اضغط هنا

<https://almanahj.com/bh/7geography2>

* لتحميل كتب جميع المواد في جميع الفصول للـ الصف السابع اضغط هنا

<https://almanahj.com/bh/grade7>

[almanahjbhbot/me.t//:https](https://t.me/almanahjbhbot)

للتحدث إلى بوت على تلغرام: اضغط هنا

مملكة البحرين

وزارة التربية والتعليم

إدارة الامتحانات / قسم الامتحانات

الإجابة النموذجية

للفصل الأول 2016--2017

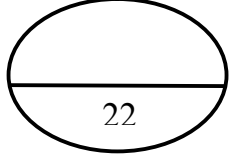
للسف الأول الإعدادي

الزمن: ساعتان

المادة: المواد الاجتماعية (الجغرافيا والتربية للمواطنة)

القسم الأول: أسئلة المواد الاجتماعية:

السؤال الأول :-



أولاً- ضع دائرة حول الحرف الدال على الإجابة الصحيحة من بين البدائل الآتية :-

1- ب- بناء السدود.

12 علامة لكل نقطة علامتان

2- أ- نشاطاتها النفطية.

3- ج- النخيل.

4- ب- العام.

5- أ الفتیان.

6- ج- السعودية.

ثانياً- صحّح ما تحته خط في كل عبارة من العبارات الآتية، واكتب الإجابة الصحيحة في السطر الذي يليها:-

10 علامات لكل نقطة علامتان

1- التجارية.

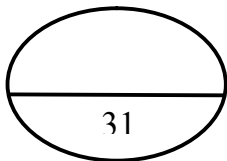
2- اليابان.

3- الخفيفة.

4-النفطي.

5- أبوظبي.

السؤال الثاني :-



12 علامة لكل نقطة علامتان

أولاً- علل لما يأتي :-

1- نشوء المدن في دول مجلس التعاون الخليجي قبل اكتشاف النفط.

• لموقعها التجاري البري / الموقع التجاري البحري.

• لمكانتها الدينية / لمكانتها السياسية .
(يكتفى بإجابتين)

2- تقلص رقعة الغطاء النباتي في دول مجلس التعاون الخليجي.

• الرعي الجائر.

• قطع الأشجار.

3- ارتفاع التزايد السكاني في دول مجلس التعاون الخليجي.

• ارتفاع الزيادة السكانية الطبيعية / أعداد الوافدين إليها .
(يكتفى بإجابة واحدة)

4- تعرض المياه الجوفية في دول مجلس التعاون الخليجي لخطر النضوب والتملح.

• بسبب كثرة الاستهلاك ففاقت نسبة الاستخراج نسبة ما يغذيها من مياه الأمطار / تسرب مياه البحر المالحة إلى طبقات المياه

الجوفية.
(يكتفى بإجابة واحدة)

9 علامات لكل نقطة علامة

ثانياً- أجب عن الأسئلة الآتية:

1- ما المجالات التي يستفاد من قيمة أرباحها نتيجة حركة التبادل التجاري لدول مجلس التعاون الخليجي؟

• تطوير المشاريع الاقتصادية القائمة.

• تحسين مستوى الخدمات.
(يكتفى ب3 إجابات)

• يشجع على إقامة مشاريع اقتصادية جديدة. / توفير خدمات إضافية للمواطنين.

2- ما الفوائد الناجمة عن السيول في دول مجلس التعاون الخليجي؟

• نمو النباتات حول مجاريها.

• قيام القرى حيث توفرت المياه.

• شكل النبات مراعي للحيوانات.

3- بين أبرز العوائق التي تعترض قطاع الصناعة التحويلية في دول مجلس التعاون الخليجي؟

• النقص في القوى العاملة الوطنية خاصة الفنية.

• الاعتماد على الخارج (المواد الخام ، الآلات ، قطع الغيار).

• المنافسة التي تتعرض لها في الأسواق العالمية.

ثالثاً: من خلال الرسم البياني المناخي لمحطة صلالة في سلطنة عمان . أجب عما يلي:

أ) ما الشهر الأكثر مطرا؟

- يوليو.

ب) ما الشهر الأعلى في درجة الحرارة؟

- يونيو

ج) ما الأشهر التي تتساقط فيها الأمطار؟

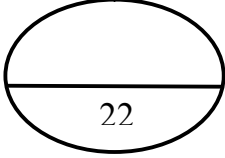
- كل أشهر السنة

د) ما الشهر الأدنى في درجة الحرارة؟

- يناير

هـ) ما المناخ الذي تقع فيه محطة صلالة المناخية؟

- صحراوية (منطقة شبه صحراوية)



السؤال الثالث :-

أولاً- اكتب في الجدول الآتي الجهود التي بذلتها دول مجلس التعاون الخليجي لتطوير القطاع الزراعي ومجال العناية الصحية.

12 علامات لكل نقطة علامتان

القطاع	الجهود التي بذلت للتطوير
الزراعة	توفير مياه الري ببناء السدود /إنشاء أكثر من 60 مركزا للبحوث والتجارب الزراعية/ بناء العديد من الصوامع لتخزين الحبوب /تعميم استخدام المعدات والآليات الزراعية الحديثة / استعمال المبيدات والأسمدة الكيماوية /نشر الزراعة المحمية/تقديم القروض المالية والطويلة الأمد للمزارعين /إعطاء المزارعين ما يلزمهم من معدات /حملات الترشيد من قبل المختصين /تنظيم الندوات والمحاضرات الإرشادية. (يكتفى بثلاث نقاط)
الصحة	إنشاء العديد من المستشفيات الحكومية المجهزة بالمعدات والآلات الطبية /نشر المراكز الصحية/تأسيس الكليات والمعاهد الطبية /منح التسهيلات للقطاع الأهلي لإنشاء مؤسسات صحية /حملات الترشيد للأم الحامل/حملات التلقيح المجانية /إعداد برامج إعلامية وصحية/إمداد المنازل في المدينة والريف بالمياه الصالحة للشرب . (يكتفى بثلاث نقاط)

ثانياً: اكتب ما تمثله مدلولات الأرقام الموضحة على خريطة دول مجلس التعاون لدول الخليج العربية الصماء بحسب ما يناسبه في الجدول الذي يليها.

الظواهر الجغرافية	مدلولات الأرقام
دول مجلس التعاون	1- عمان 2- الإمارات 3- الكويت
عواصم	4- الدوحة
مسطح مائي	5- البحر الأحمر 6- الخليج العربي 7- بحر العرب
رياح	8- المتوسطية 9- الموسمية
دائرة عرض رئيسية	10- مدار السرطان

القسم الثاني: أجوبة التربية للمواطنة

25

السؤال الأول: ضع دائرة حول الحرف الدال على الإجابة الصحيحة من بين البدائل الآتية:

(4 علامات لكل نقطة علامة)

1- ألقى جلالة الملك المفدى حمد بن عيسى آل خليفة في 13 مارس 1999م خطاباً سامياً بمناسبة:

ج- توليه الحكم.

2- تأسست شركة نفط البحرين في عهد:

ب- عيسى بن سلمان آل خليفة.

3- لقب المغفور له الشيخ عيسى بن سلمان آل خليفة ب:

ج- أمير دولة البحرين.

4- يطلق المجلس الوطني في مملكة البحرين على:

د- مجلسي الشورى والنواب.

السؤال الثاني:- ضع علامة (√) أمام العبارة الصحيحة، وعلامة (x) أمام العبارة الخاطئة:

(5 علامات لكل نقطة علامة)

1- أُجري الاستفتاء الشعبي العام على مشروع ميثاق العمل الوطني في فبراير 2001م. (√)

2- تولى سمو المغفور له الأمير عيسى بن سلمان آل خليفة مقاليد الحكم عام 1916م. (x)

3- أسهمت مؤسسات المجتمع المدني في إعداد مشروع ميثاق العمل الوطني. (√)

4- يعود حكم آل خليفة إلى نهاية القرن الثامن الميلادي. (x)

5- استحدثت بمقتضى التعديلات الدستورية لعام 2002م ديوان للرقابة الإدارية. (√)

السؤال الثالث: - أتمم المخطط الآتي بما يناسب: (4 علامات)

المجلس	عدد الأعضاء	طريقة اختيار الأعضاء
مجلس الشورى	40	التعيين
مجلس النواب	40	الانتخاب

السؤال الرابع: (12 علامة) (ملاحظة تقبل أي إجابة منطقية)

1- شكلت التعديلات الدستورية التي أصدرها جلالة الملك المفدى حمد بن عيسى آل خليفة خطوة جديدة نحو العمل الديمقراطي، اذكر اثنين منها:

- إعلان البحرين مملكة دستورية.
- إعادة الحياة النيابية.
- تغيير الاسم الرسمي لدولة البحرين ليصبح مملكة البحرين.
- منح المرأة كافة حقوقها السياسية.
- تعزيز الشفافية في كافة إدارات الدولة.
- تحديد ملامح جديدة لعلم مملكة البحرين.

2- حدّد اثنين من مظاهر الدولة الحديثة في عهد الشيخ عيسى بن سلمان آل خليفة.

- إنهاء المعاهدات السياسية والعسكرية.
- تأسيس الحياة النيابية.
- وضع الدستور.
- الاهتمام بالتطور الاقتصادي.
- تطور قطاع التعليم والصحة.
- الاهتمام بالإسكان والعمران.
- توفير مشاريع البنية التحتية.
- إقامة علاقات دبلوماسية.
- الانتماء لجامعة الدول العربية ومنظمة التعاون الإسلامي ومنظمة الأمم المتحدة.

3- ما النتائج المترتبة عن اختلاط جلالة الملك المفدى حمد بن عيسى آل خليفة بذوي الخبرة في مجالات العلم المختلفة؟

- تميزه بسعة الأفق.
- انفتاحه على قضايا العالم.
- تمرسه بأمر الحكم.
- اكتسابه قدرات قيادية متنوعة.

انتهت الأجوبة