

تم تحميل هذا الملف من موقع المناهج البحرينية



## الملف المذكرة الذهبية في المواد الاجتماعية

موقع المناهج ← الصف الثامن ← المواد الاجتماعية ← الفصل الأول ← الملف

## روابط مواقع التواصل الاجتماعي بحسب الصف الثامن



## روابط مواد الصف الثامن على تلغرام

[الرياضيات](#)

[اللغة الانجليزية](#)

[اللغة العربية](#)

[التربية الاسلامية](#)


## المزيد من الملفات بحسب الصف الثامن والمادة المواد الاجتماعية في الفصل الأول

<a href="#">مراجعة الاختبار الثاني في المواد الاجتماعية</a>	1
<a href="#">كراسة التمارين في المواد الاجتماعية</a>	2
<a href="#">مذكرة الاجتماعيات والتربية للمواطنة</a>	3
<a href="#">مذكرة المواد الاجتماعية</a>	4
<a href="#">مذكرة المواد الاجتماعية</a>	5



رؤيتنا : معاً يبدأ بيد نبني تميز الغد

# المذكرة الذهبية



تم تحميل هذا الملف من

موقع المناهج البحرينية

**للمواد الاجتماعية**

[alManahj.com/bh](http://alManahj.com/bh)

**للف الثاني الاعدادي**

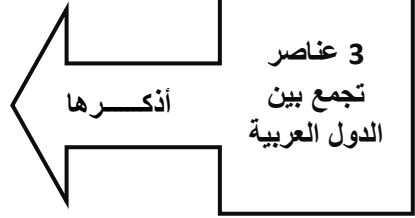
## الفصل الدراسي الاول للعام 2022-2023

إعداد الاستاذ/ حمزة عبدالرحيم فاضل

قسم المواد الاجتماعية

**\*\* ملاحظة : الكتاب المدرسي هو الأساس ، والمذكرة عبارة عن وسيلة مساعدة فقط .**

1. الاسلام
2. اللغة
3. التاريخ المشترك / الحضارة العربية الاسلامية



### اذكر 3 عناصر جعلت من الوطن العربي مهماً؟

1. يحتل الوطن العربي موقعاً وسطياً بنن قارات العالم القديم.
2. يعتبر الوطن العربي معبراً هاماً لطرق التجارة العالمية البرية والبحرية.
3. يشرف الوطن العربي على ممرات حيوية هامة أبرزها قناة السويس ومضيق هرمز ومضيق جبل طارق.

### اذكر 4 ممرات مائية في الوطن العربي

1. قناة السويس
2. مضيق هرمز
3. مضيق باب المندب
4. مضيق جبل طارق

أكمل الفراغ :

- 1- يقع الوطن العربي في وسط العالم القديم بين خطي الطول 59 شرقاً و 16.5 غرباً .
- 2- انضمت جزر القمر إلى جامعة الدول العربية سنة 1993م.
- 3- مساحة الوطن العربي 14.2 مليون كم2 ، منها 28% في آسيا و72% في أفريقيا .
- 4- تشكل مساحة الوطن العربي 10.2 % من مساحة العالم، ويبلغ تعداد سكانه 415 مليون نسمة.

س1: أذكر ثلاث هضاب في الوطن العربي؟

- 1- هضبة بلاد الشام
- 2- هضبة شبة الجزيرة العربية
- 3- هضبة الصحراء الكبرى

س2: ما مميزات الجبال في الوطن العربي؟

- 1- وعرة مسالكها و شدة انحدار سفوحها
- 2- اعتدال حرارة جوها و تركز السكان في سفوحها بحيث مارسوا الزراعة و الرعي
- 3- تتميز الجبال المتوسطة بوفرة ينابيعها و انهارها

المظاهر	الخصائص
السهول الساحلية	<ol style="list-style-type: none"> <li>1- تنتشر على سواحلها المرافئ التجارية.</li> <li>2- شواطئها قليلة التعاريج.</li> <li>3- ضيق مساحتها وخاصة عند اقتراب الجبال من الشواطئ.</li> </ol>
السهول النهرية	<ol style="list-style-type: none"> <li>1. خصوبة تربتها.</li> </ol>

س3: ارسم جدولاً تقارن من خلاله خصائص مميزات السهول في الوطن

تغطي الصحري الكبرى والجزيرة العربية مساحات واسعة وتتكون من:

- الكثبان الرملية وتسمى ( العروق ).
- ومساحات يكسوها الحصى وتسمى ( الرق ).
- ومساحات تنتشر فيها المساحات الصخرية تسمى ( حمادى ).

الصحاري

تنقسم السلاسل الجبلية في الوطن العربي الي نوعين :

- 1- سلاسل جبلية التوائية ذات صخور رسوبية : ( أطلس ، جبال الشام ، كردستان ).
- 2- سلاسل جبلية ذات صخور قديمة التكوين : ( عمان ، حضرموت ، عسير ، الحجاز ).

الجبال

يتركز معظم سكان الوطن العربي في ( السهول الساحلية )

س3: أذكر أنواع المناخات السائدة في الوطن العربي؟

- 1- المناخ المتوسطي
- 2- المناخ الصحراوي
- 3- المناخ المداري الرطب

س2: حدد مواقع الأقاليم المناخية في الوطن العربي؟ (الجنوب، الشمال، الوسط) بالرجوع الي خريطة الأقاليم المناخية ص 41

المناطق الشمالية من المغرب والجزائر وتونس وليبيا بالإضافة إلى فلسطين ولبنان وسوريا وشمال العراق.	1- المناخ المتوسط
الصحراء الكبرى وصحراء شبه الجزيرة العربية.	2- المناخ الصحراوي
جنوب موريتانيا، جنوب السودان، جنوب الصومال.	3- المناخ المداري الرطب

## س1: لخص الخصائص المناخية للبيئة المتوسطة؟

تسود البيئة المتوسطة في مناطق الوطن العربي الشمالية المطلة على البحر الأبيض المتوسط.

➤ يتميز بوجود فصلين رئيسيين:

➤ الشتاء: معتدل وممطر.

➤ الصيف: حار وجاف.

أما الربيع والخريف: فصلان انتقاليان قصيران قليلا الأمطار

## س2: حلل أسباب انحسار رقعة الغابات الكثيفة في بيئة الوطن العربي؟

1- سكن الإنسان في تلك المنطقة منذ القدم، وحاجته إلى أراضٍ للزراعة ومراعٍ للحيوان جعلاه يقضي على معظم هذه الغابة

2- أسهمت الحرائق في زوال الغابات والآن لم يتبق منها سوى بعض البقع المبعثرة على سفوح الجبال المطلة على البحر

alManahj.com/bh

- أنهار دائمة الجريان مثل العاصي اللبثاني الأردن. مجردة الشليف أم الربيع.  
- تنبع من الجبال وتتلقى كميات كبيرة من المتساقطات. ويصب معظمها في البحر المتوسط.

تأثرها بالظروف المناخية السائدة

الصيف		الشتاء	
النتائج	الأسباب	النتائج	الأسباب
- نقل كميات المياه الضرورية لحاجات الإنسان وري المزروعات.	- ينحض صبيب الينابيع.	- أضرار بالطرق و المباني و الأراضي الزراعية	- تغزر مياهها و تفيض في بعض الأوقات
- نضوب بعض الأنهار قبل وصولها إلى مصباتها.	- تشح معظم الأنهار.		
	- استعمال مياه الأنهار بشكل كثيف.		

تسود البيئة الصحراوية معظم مناطق الوطن العربي. وتتنحصر بين البيئة المتوسطية في الشمال والبيئة المدارية الرطبة في الجنوب.

س3: أستخلص الخصائص المناخية في البيئة الصحراوية؟

- يتميز بقلة الأمطار وعدم انتظامها وارتفاع الحرارة وتقتصر الفصول فيها على فصلين:
- فصل جاف طويل.
- فصل ممطر قصير.

س3: قارن بين أقسام البيئة الصحراوية من حيث الأمطار والنبات؟

نوع الغطاء النباتي	كمية الأمطار	أقسام البيئة الصحراوية
ينعدم النبات الطبيعي.	تتميز بندرة أمطارها التي لا تتجاوز الـ 10 ملم في السنة. وقد يغيب المطر عنها سنوات عدة.	1- منطقة القحط
على بعض الأعشاب الشوكية والشجيرات التي تنتشر انتشاراً متقطعاً على طول الأودية الجافة.	وتتميز بأمطارها القليلة جداً التي لا تتجاوز الـ 100 ملم في السنة وتتصف بأنها غير منتظمة.	2- المنطقة الصحراوية
تكثر الأعشاب، وتنتشر بعض الأشجار.	وتتساقط أمطارها فوق الأطراف الشمالية شتاءً، وفوق أطرافها الجنوبية صيفاً. وهي أمطار منتظمة، كمياتها قليلة لا تتعدى الـ 300 ملم في السنة.	3- المنطقة شبة الصحراوية

س4: أقترح حلول واقعية لمشكلة محدودية المياه في البيئة الصحراوية؟

- 1- إقامة السدود
- 2- حفر الآبار و الإفلاج

تقع البيئة الصحراوية بين البيئتين المتوسطة في الشمال والمدارية في الجنوب

1- تبلغ الكثافة السكانية في الوطن العربي حوالي 29 نسمة/كم<sup>2</sup>.

2- تعد الكثافة السكانية في الوطن من بين الكثافات المنخفضة في العالم.

صنف المعلومات التالية في الجدول أدناه؟

عوامل جذب للسكان ( كثافة مرتفعة )	عوامل طرد للسكان ( كثافة منخفضة )
تزيد عن 20 نسمة / كم <sup>2</sup>	تقل عن 2 نسمة / كم <sup>2</sup>
1- الاطراف الساحلية ومناطق المرتفعات الجبلية	سيطرة البيئة الصحراوية
2- المناطق الصناعية والعواصم الكبيرة	
3- احواض النيل ودجلة والفرات	

المناطق  
الساحلية

عدم توافر فرص  
العمل

مناطق الثروة  
النفطية

البيئة  
الصحراوية

الامطار الوفيرة  
والانهار



س1: أنظر المستند التالي: ( نسبة الإعالة الاقتصادية في الوطن العربي عام 2011م )



مستند ٢) نسبة الإعالة الاقتصادية في الوطن العربي والعالم سنة ٢٠١١م

س1: كم تبلغ نسبة الإعالة الاقتصادية في الوطن العربي؟ الإجابة: 61.9

س2: كم بلغت نسبة الإعالة الاقتصادية في الدول المتقدمة اقتصادياً؟ الإجابة: 38.1

س2: علل ارتفاع نسبة الإعالة الاقتصادية في دول الوطن العربي؟

1- ارتفاع نسبة الفتيان في الوطن العربي

2- تدني مشاركة المراه في النشاط الاقتصادي في معظم الدول العربية

3- زيادة نسبة الطلبة في الجامعات

ارتفاع  
نسبة  
الإعالة  
الاقتصادية

س3: أذكر جهود دول الوطن العربي في نشر التعليم ومحو الأمية؟

1- انشأت الجامعات الجديدة

2- اضافة كليات وأقسام جديدة الى الجامعات القائمة

3- الاهتمام بتطوير التعليم المهني و التقني

4- الاهتمام بتعليم الاناث

جهود في  
نشر  
التعليم

س4: استنتج نتائج جهود دول الوطن العربي في نشر التعليم ومحو الأمية؟

1- ارتفاع عدد الطلبة في جميع المراحل

2- ارتفاع نسبة الاناث المتعلمات

3- انخفاض نسبة الامية

4- ارتفاع اعداد طلبة التعليم العالي

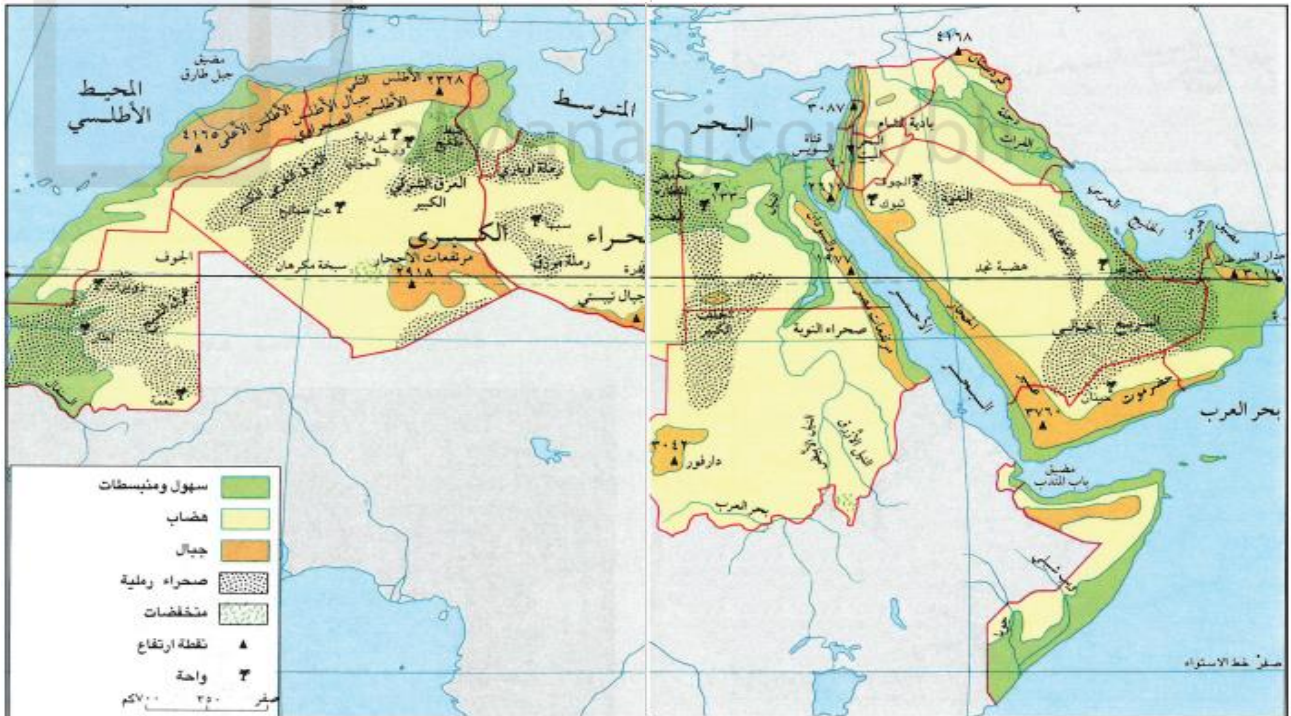
نتائج  
الجهود  
في نشر  
التعليم

## الخرائط المطلوبة في الاختبار الأول

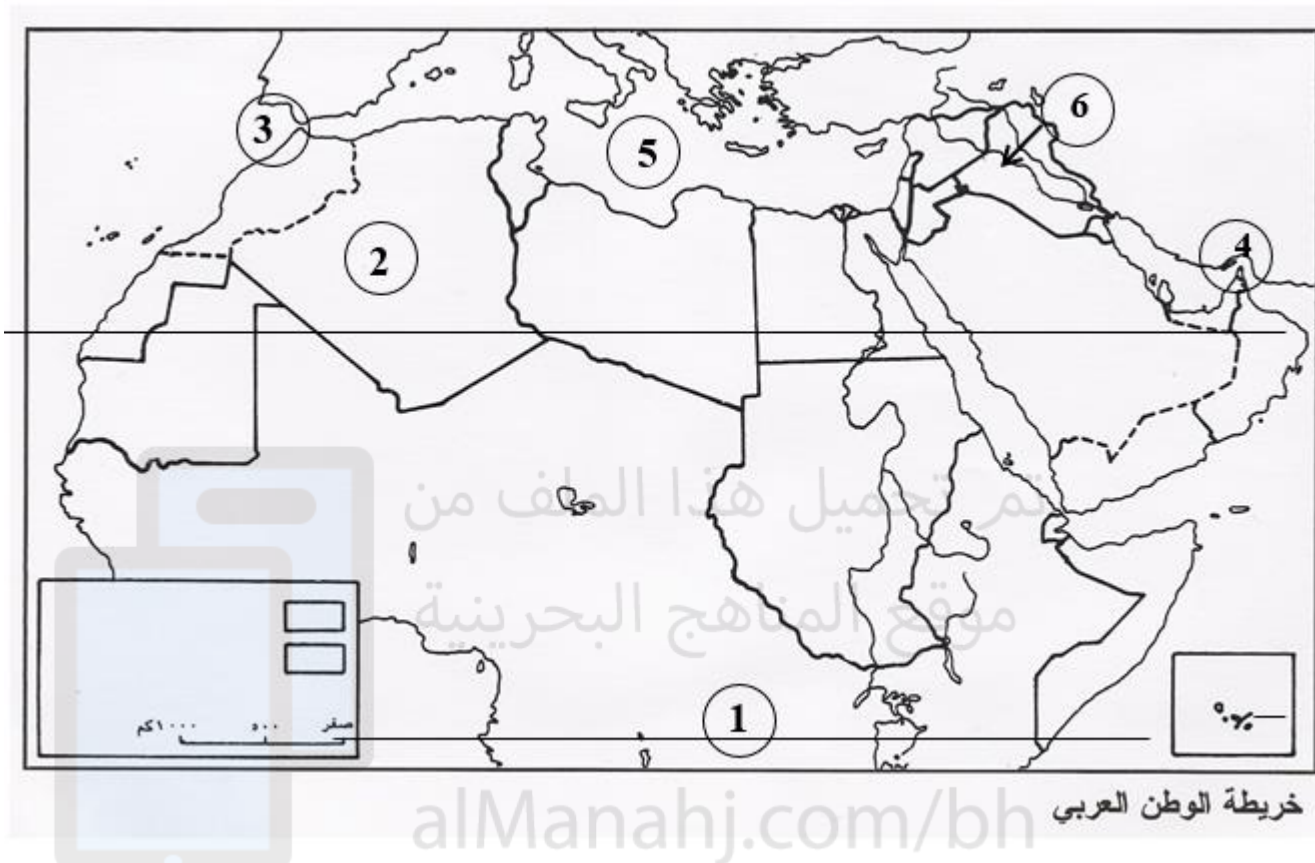


مستند ١ خريطة الوطن العربي السياسية

## موقع المناهج البحرينية



أمامك خريطة صماء للوطن العربي ، أكمل بيانات الجدول الوارد أدناه بذكر أسماء الظواهر الجغرافية التي تمثلها الأرقام الموجودة على الخريطة.



نوع الظاهرة التضاريسية	الظاهرة الواردة على الخريطة
دوائر العرض	1- .....
الدول	2- .....
الممرات المائية	3- ..... 4- .....
المسطحات المائية	5- .....
الأنهار	6- .....