

تم تحميل هذا الملف من موقع المناهج البحرينية



تم تحميل هذا الملف من
موقع المناهج البحرينية

alManahj.com/bh

الملف مذكرة الاجتماعيات والتربية للمواطنة

[موقع المناهج](#) ⇐ ⇐ [الصف الثامن](#) ⇐ [المواد الاجتماعية](#) ⇐ [الفصل الأول](#)

روابط مواقع التواصل الاجتماعي بحسب الصف الثامن



روابط مواد الصف الثامن على تلغرام

[الرياضيات](#)

[اللغة الانجليزية](#)

[اللغة العربية](#)

[التربية الاسلامية](#)

المزيد من الملفات بحسب الصف الثامن والمادة المواد الاجتماعية في الفصل الأول

ملخص أسئلة وأجوبة	1
مذكرة شاملة	2
مذكرة أسئلة وأجوبة	3
مذكرة ومراجعة منتصف الفصل الأول	4
شرح درس الموقع ومظاهر السطح	5

مذكرة الإجتماعيات والترربية للمواطنة للمصف الثاني الإعدادي

الفصل الدراسي الأول

2022-2023م

مراجعة المحتوى: أ. فاطمة علي مكي + أ. حورية علي المدبر + أ. آيات وليد جمعان

أعداد أ. ليلى السيد مهدي شرف

تصميم وإشراف منسقة المواد الاجتماعية أ. علوية السيد علي

تمهيد

هذا الملف هو اجتهاد لدعم كتاب الطالب/ة
المدرسي وتنظيم عمالية المفروض اليومية
والأنشطة الصفية واللاصفية .

جاهدين كل الجهد لتحقيق الأهداف التربوية
لمادة المواد الاجتماعية المقررة للصف الثاني
الإعدادي في الفصل الدراسي الأول.

كما ويساعد المعلم/ة على تقويم نتائج الطالب/ة
بشكل أفضل وأدق وأشمل . ويعمل على تحقيق
تواصل مستمر مع ولي الأمر.

اعداد المعلمة

أعداد أ/ ليلى السيد مهدي شرف

الرؤية

جيل مبدع يرتقى بوطنه

القيم

الانتماء والمواطنة والتعايش في
النظافة الاحترام تحمل المسؤولية

الرسالة

تسعى المدرسة لتقديم خدمات تربوية وتعليمية ذات
جودة تسهم في بناء جيل متميز يرتقى بالوطن في
ظل مشاركة مجتمعية فاعلية.

الهدف من
دراساتك لمادة
الاجتماعيات
والتربية
للمواطنة

اتفاقية مادة الاجتماعيات



المشاركة الفعالة في الصف



احترام المعلمة و الزميلات



المحافظة على نظافة الصف



احضار الأدوات كاملة



التزام الهدوء



التعاون مع الزميلات

الدروس المطلوبة للفصل الدراسي الأول 2022-2023م للجغرافيا والتربية للمواطنة

رقم الصفحة	دروس الجغرافيا	رقم الدرس
33	جغرافية الوطن العربي (الموقع والمميزات)	7
39-36	خريطة سطح الوطن العربي + السطح	9.8
40	خريطة الأقاليم المناخية في الوطن العربي	10
43	البيئة المتوسطة	11
45	البيئة الصحراوية	12
55-52	السكان + الكثافة و الزيادة السكانية	14,15
63	الخصائص الاقتصادية والاجتماعية	16
66	النمو السكاني المدني	17
69	مشكلات نمو السكاني المدني	18
73	خامات المعادن	19
75	مصادر الطاقة	20
79	توزع الأراضي الزراعية	22
83	الإنتاجية الزراعية والاكتفاء الذاتي	24
87	أنواع الصناعات	26
88	مشكلات الصناعة	27
95	التجارة	30
دروس التربية للمواطنة		
12	الثقافة الشعبية في البحرين	1
23	المرأة و دورها في المجتمع البحريني	2
38-23	القانون في حياتنا	3
42-39	الحوار	4



الوطن
العربي

الموقع والمميزات

يضم الوطن العربي 22 دولة (انضمت جزر القمر إلى الوطن العربي عام 1993 م).

السمات المشتركة بين دول الوطن العربي

4- الحضارة العربية الإسلامية

3- التاريخ المشترك

2- اللغة العربية

1- الإسلام

أولاً: موقع الوطن العربي:

● يقع الوطن العربي في وسط العالم القديم (آسيا و أوروبا و أفريقيا)

● الموقع الفلكي للوطن العربي:

- يقع بين خطي الطول 59 شرقاً و 16.5 غرب خط غرينتش.
- و بين دائرتي العرض 1.5 جنوباً و 37.5 شمال خط الإستواء.

● الممرات البحرية التي يطل عليها الوطن العربي:

قناة السويس / مضيق هرمز / مضيق باب المندب / مضيق جبل طارق

● ((بسبب تحكمه بممرات مائية مهمة. و إشرافه على واجهة بحرية طويلة. شكل الوطن العربي معبرا لطرق التجارة العالمية. البحرية و البرية. فوصل بين الشرق و الغرب. و أفريقيا بأوروبا)).

عالي تغطي الصحاري النسبة الأكبر من من مساحة الوطن العربي؟

لأن الوطن العربي يمتد في المنطقة الحارة القليلة الأمطار مما يجعل موارده المائية قليلة. و مساحة غطاءه النباتي و أراضيه الزراعي ضيقة.

ثانياً عدد السكان و مساحته.

- مساحة الوطن العربي 14.2 مليون كلم² و تشكل 10.2 ٪ من مساحة العالم.
- مساحة الوطن العربي (28٪ من المساحة في جنوب غرب قارة آسيا. 72٪ في شمال و شرق أفريقيا).
- عدد سكان الوطن العربي 415 مليون نسمة عام 2017 م و تشكل 5.2 ٪ من مجموع سكان العالم.

مساحة الوطن العربي أكبر من مساحة الولايات المتحدة و الصين بينما عدد سكانه أقل من الهند أو الصين لماذا ؟

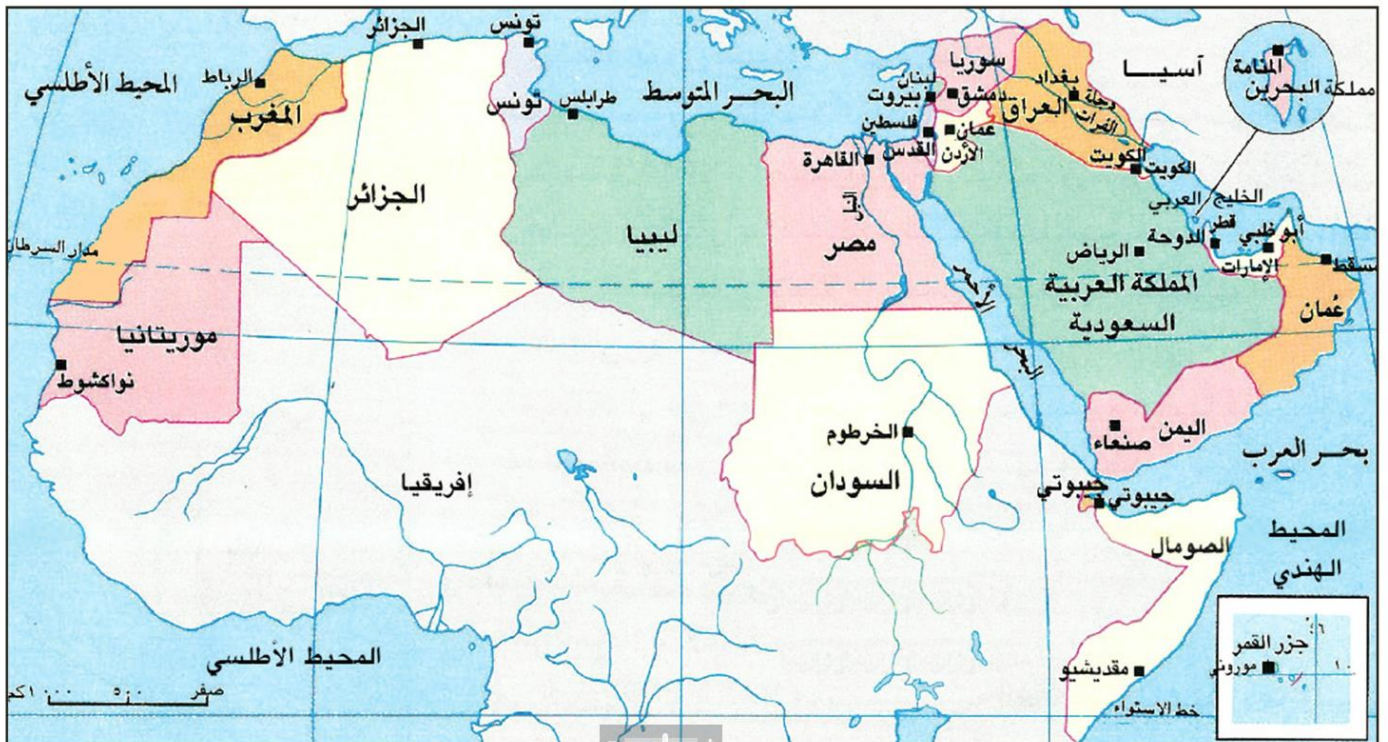
لأنه تغلب على مساحته الصحاري التي يقل سكن الإنسان فيها.

ثالثاً أهمية موقع الوطن العربي

- 1) يحتل الوطن العربي موقعا وسطيا بين قارات العالم القديم
- 2) يشرف الوطن العربي على ممرات بحرية هامة أبرزها قناة السويس و مضيق هرمز و مضيق جبل طارق
- 3) توجد في الوطن العربي خيرات طبيعية أبرزها النفط حيث يحتوي على 66٪ من المحزون النفطي العالمي
- 4) يعتبر الوطن العربي معبراً هاماً لطرق التجارة العالمية البرية و البحرية

أبرز الدول الأوروبية الإستعمارية المسيطرة على الوطن العربي ؟

البرتغال . أسبانيا . فرنسا . بريطانيا





الوطن
العربي

السطح

خريطة سطح الوطن العربي ص 36 . ص 37

المميزات	مناطق انتشارها	أشكال السطح (التضاريس)
<p>1- يسيطر الجفاف عليها.</p> <p>2- تنتشر فيها:</p> <ul style="list-style-type: none"> ● مساحات من الكثبان الرملية تعرف «بالعروق» ● مساحات من الحصى تعرف «بالرقوق» ● مساحات صحيرية تعرف «بالحمادي» <p>3- تخترقها شبكة من الأودية الجافة.</p> <p>4- يقطع انبساطها الجبال المنعزلة الأحجار تيبستي . دارفور.</p> <p>5- يقطع انبساطها المنخفضات (البحر الميت في فلسطين . القطارة في مصر . السودود في جنوب السودان).</p> <p>6- غير ملائمة للسكن إلا في الواحات.</p> <p>7- طبيعتها صحراوية</p>	<p>تغطي معظم مساحة الوطن العربي وتشمل:</p> <ul style="list-style-type: none"> ● هضبة الصحراء الكبرى ● هضبة شبه الجزيرة العربية 	الهضاب
<p>1- طبيعتها الصحراوية</p> <p>2- تغطي الصحور البركانية معظم مساحتها.</p> <p>3- تقطعها مرتفعات جبلية (جبل العرب . جبال تدمر في سوريا.</p> <p>4- أقل جفافا من هضاب الوطن العربي لتساقط الأمطار الشتوية مما سمح بتركز السكان في سهولها الخصبة.</p>	هضبة بادية الشام	

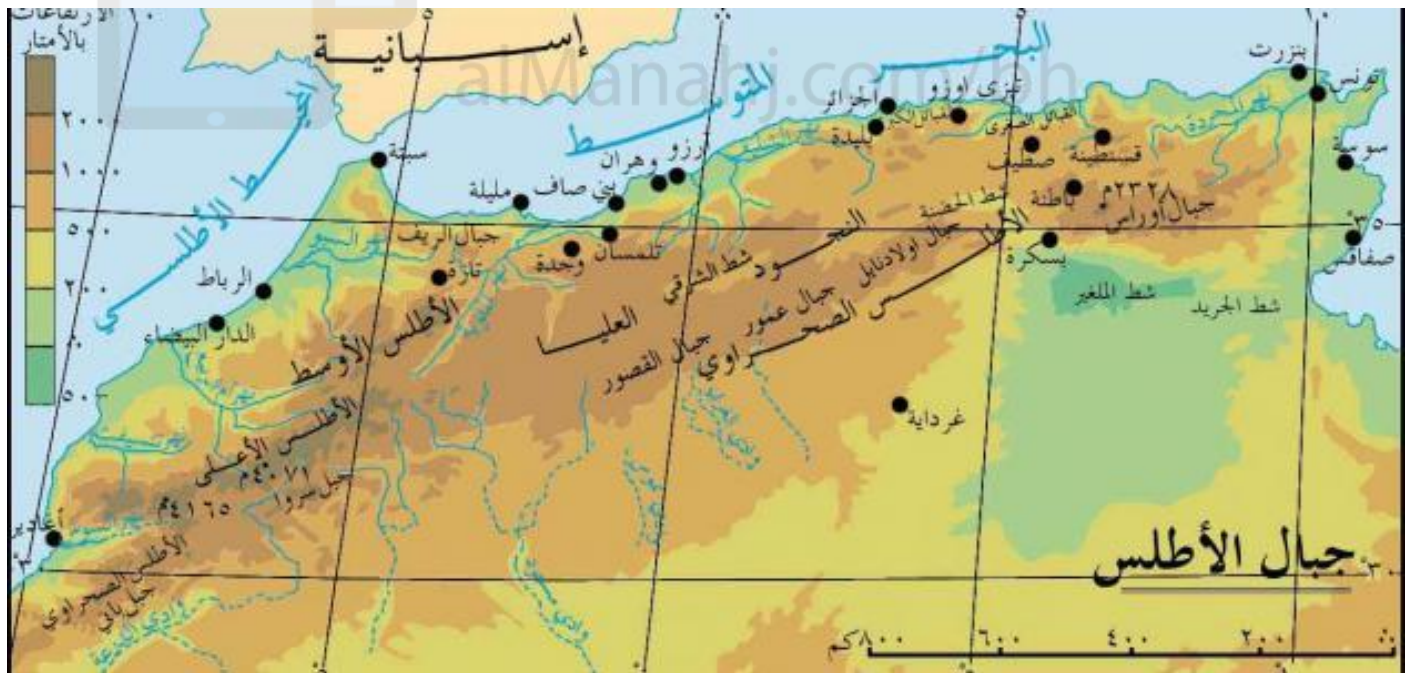
9



الكثبان الرملية تعرف «بالعروق»



المميزات	مناطق انتشارها	أشكال السطح
<ul style="list-style-type: none"> - وعورته مسالكها. - شدة انحدار سفوحها. - اعتدال حرارة جوها. - تتميز الجبال المتوسطة بوفرة ينابيع و أنهارها. - يتركز السكان على سفوحها حيث مارسوا الزراعة والرعي. 	<p>● تمتد على المناطق المحاذية لسواحلها و تنقسم إلى</p> <p>1- جبال التوائية ذات صحور رسوبية (جبال الأطلس . جبال بلاد الشام المتوسطة . جبال كردستان)</p> <p>2- جبال ذات صحور قديمة التكوين (جبال عمان . حضرموت . الحجاز و مرتفعات البحر الأحمر)</p>	الجبال
<ul style="list-style-type: none"> - ضيق مساحتها و خاصة عند اقتراب الجبال من الشواطئ. - تتميز السهول الساحلية الرملية بكثرة السبخات. - تطل على شواطئ قليلة التعاريج. - تنتشر على سواحلها المرافئ التجارية. 	<p>1- السهول الساحلية.</p> <p>أ- سهول ساحلية خصبة (تمتد على طول السواحل من شمال سوريا حتى فلسطين و من تونس حتى المغرب)</p> <p>ب- سهول ساحلية رملية (باقي الدول العربية)</p>	السهول
<ul style="list-style-type: none"> - خصوبة تربتها. - معظمها ضيقة تتسع حول الأنهار الكبرى - يتركز في السهول الساحلية و النهرية. 	السهول النهرية	





الوطن العربي الأقاليم المناخية في الوطن العربي

الأقاليم المناخية في الوطن العربي الخريطة ص 40 . 41

<input type="checkbox"/>	<input type="checkbox"/>	<input type="checkbox"/>
المناخ المداري الرطب	المناخ الصحراوي	المناخ المتوسطي

يسود أكبر مساحة من الوطن العربي وينقسم إلى ثلاث مناطق هي

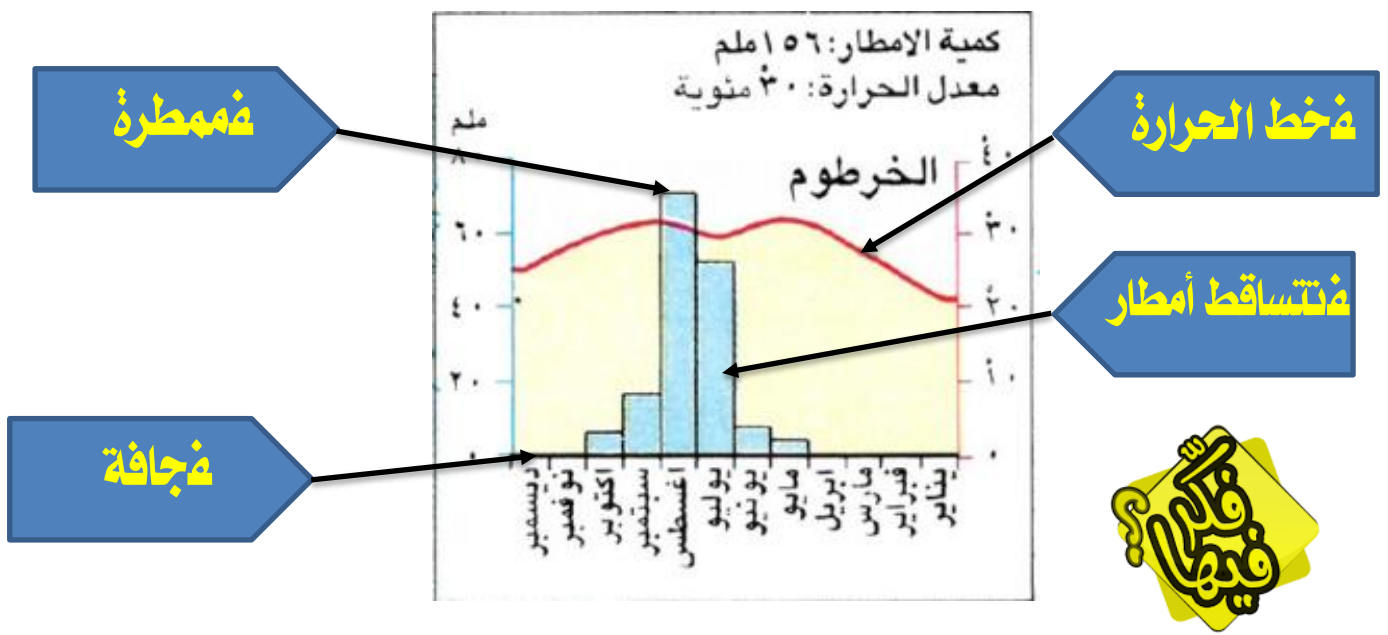
<input type="checkbox"/>	<input type="checkbox"/>	<input type="checkbox"/>
المنطقة شبه الصحراوية	المنطقة الصحراوية	منطقة القحط

الأشهر الممطرة : تشهد تساقط كميات كبيرة من الأمطار وتكون الأعمدة أعلى من خط الحرارة.

الأشهر الجافة : الأشهر التي يغيب عنها المطر أو تسقط كميات قليلة منه وتكون الأعمدة تحت خط الحرارة بالإضافة إلى الأشهر التي لا وجود لأعمدة التساقطات فيها.

الأشهر التي يتساقط في المطر : الأعمدة التي أعلى من خط الحرارة أو التي أدنى من خط الحرارة.

11



نشاط تدريبي في مهارة قراءة الرسم البياني المناخي



لاحظي الرسم البياني المناخي لمحطة المنامة واستخرجي المعلومات التالية:

1- ماذا يمثل الخط الأفقي؟

2- ماذا يمثل الخط العمودي جهة اليمين؟

3- ماذا يمثل الخط العمودي جهة اليسار؟

4- ماذا يمثل الخط المتعرج في الرسم البياني؟

5- ماذا تمثل الأعمدة؟

6- كم تبلغ كمية الأمطار السنوية في محطة المنامة؟

7- كم يبلغ معدل الحرارة السنوي في محطة المنامة؟

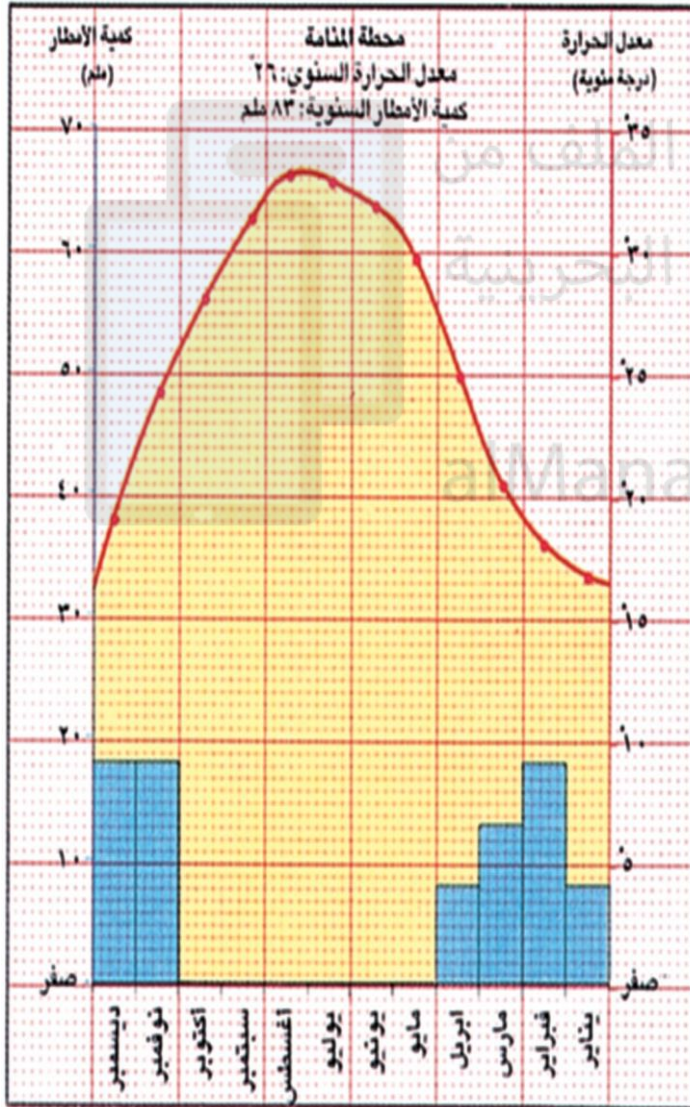
8- عددي الأشهر الجافة؟

9- عددي الأشهر الممطرة؟

10- عددي الأشهر التي تشهد تساقطاً للأمطار في

السنة؟

11- ما نوع المناخ في هذه المحطة؟



نشاط تدريبي في مهارة قراءة الرسم البياني المناخي

لاحظي الرسم البياني المناخي لمحطة بيروت. وأجوبي عن الأسئلة التالية.



1- كم تبلغ كمية الأمطار السنوية؟

.....

2- كم يبلغ معدل الحرارة السنوي؟

.....

3- ما الشهر الذي ارتفعت فيه الحرارة إلى أعلى درجة؟

.....

4- ما الشهر الأدنى حرارة؟

.....

5- ما الشهر الذي سقطت فيه أعلى كمية من الأمطار؟

.....

6- ما الشهر الذي سقطت فيه أقل كمية من الأمطار؟

.....

7- عددي الأشهر الجافة؟

.....

8- في أي فصل تكون الأشهر جافة في محطة بيروت؟

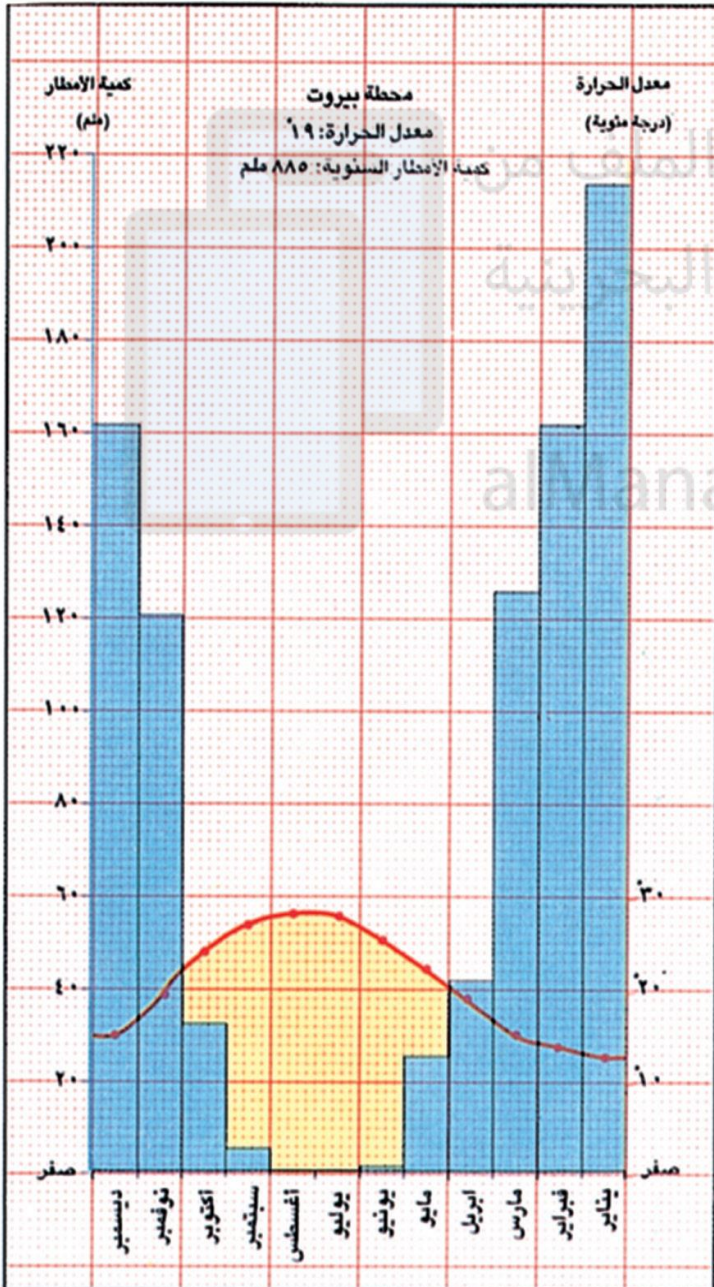
.....

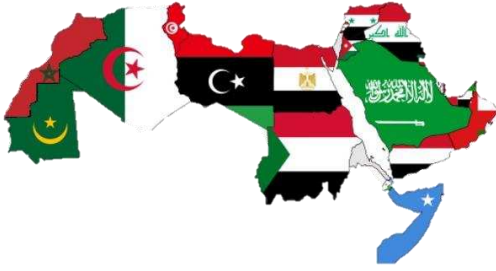
9- عددي الأشهر الممطرة؟

.....

10- في أي فصل تكون الأشهر ممطرة في محطة بيروت؟

.....





الوطن العربي

البيئة المتوسطة

الموقع	الخصائص																				
المناخية الخصائص	<p>مناطق الوطن العربي الشمالية المطلة على البحر المتوسط. حار جاف صيفاً . معتدل و ممطر شتاءً.</p> <ul style="list-style-type: none"> تتساقط فيها الأمطار بغزارة فتؤدي إلى انجراف التربة. تختلف كمية الأمطار بين منطقة و أخرى <table border="1"> <tr> <td>السفوح الغربية لسلاسل الجبلية</td> <td>المناطق الشرقية خلف السلاسل الجبلية</td> <td>المناطق التي يزيد ارتفاعها عن 1500 م</td> </tr> <tr> <td>تواجه الرياح الرطبة القادمة من البحر المتوسط و المحيط الأطلسي و تتلقى أكبر كمية من الأمطار.</td> <td>لا تصلها سوى كميات ضئيلة من الأمطار. لذلك يسودها مناخ شبه صحراوي.</td> <td>تتحول الأمطار إلى الثلوج.</td> </tr> </table>	السفوح الغربية لسلاسل الجبلية	المناطق الشرقية خلف السلاسل الجبلية	المناطق التي يزيد ارتفاعها عن 1500 م	تواجه الرياح الرطبة القادمة من البحر المتوسط و المحيط الأطلسي و تتلقى أكبر كمية من الأمطار.	لا تصلها سوى كميات ضئيلة من الأمطار. لذلك يسودها مناخ شبه صحراوي.	تتحول الأمطار إلى الثلوج.														
	السفوح الغربية لسلاسل الجبلية	المناطق الشرقية خلف السلاسل الجبلية	المناطق التي يزيد ارتفاعها عن 1500 م																		
تواجه الرياح الرطبة القادمة من البحر المتوسط و المحيط الأطلسي و تتلقى أكبر كمية من الأمطار.	لا تصلها سوى كميات ضئيلة من الأمطار. لذلك يسودها مناخ شبه صحراوي.	تتحول الأمطار إلى الثلوج.																			
الغطاء النباتي	<ul style="list-style-type: none"> غابات دائمة الخضرة. مثل: السنديان و الصنوبر و الأرز أسباب تعرضها لخطر الزوال <table border="1"> <tr> <td>الأسباب</td> <td>النتائج</td> </tr> <tr> <td> <ul style="list-style-type: none"> حاجة الإنسان إلى أرض للزراعة . و مراعي للحيوانات. سكن الإنسان في تلك المنطقة منذ القدم. الحرائق و الجفاف الصيفي. </td> <td> <ul style="list-style-type: none"> انحسار الغابات بسبب الجفاف و نمو أنواع أخرى من النبات الطبيعي مكانها . مثل الماكي و الفاريك. </td> </tr> </table>	الأسباب	النتائج	<ul style="list-style-type: none"> حاجة الإنسان إلى أرض للزراعة . و مراعي للحيوانات. سكن الإنسان في تلك المنطقة منذ القدم. الحرائق و الجفاف الصيفي. 	<ul style="list-style-type: none"> انحسار الغابات بسبب الجفاف و نمو أنواع أخرى من النبات الطبيعي مكانها . مثل الماكي و الفاريك. 																
	الأسباب	النتائج																			
<ul style="list-style-type: none"> حاجة الإنسان إلى أرض للزراعة . و مراعي للحيوانات. سكن الإنسان في تلك المنطقة منذ القدم. الحرائق و الجفاف الصيفي. 	<ul style="list-style-type: none"> انحسار الغابات بسبب الجفاف و نمو أنواع أخرى من النبات الطبيعي مكانها . مثل الماكي و الفاريك. 																				
المياه السطحية	<p>* أنهار دائمة الجريان . مثل: العاصي . اللباني . الأردن . مجردة . الشليف أم الربيع .</p> <p>* تنبع من الجبال و تتلقى كميات كبيرة من المتساقطات . و يصب معظمها في البحر المتوسط.</p> <p>تأثرها بالظروف المناخية السائدة</p> <table border="1"> <tr> <td colspan="2">الشتاء</td> <td colspan="2">الصيف</td> </tr> <tr> <td>الأسباب</td> <td>النتائج</td> <td>الأسباب</td> <td>النتائج</td> </tr> <tr> <td>تغزر مياهها و تفيض في بعض الأوقات</td> <td>أضرار بالطرق و المباني و الأراضي الزراعية</td> <td>ينحس صبيب الينابيع .</td> <td>- تقل كميات المياه الضرورية لاحتياجات الإنسان و ري المزروعات .</td> </tr> <tr> <td></td> <td></td> <td>- تشح معظم الأنهار .</td> <td>- نضوب بعض الأنهار قبل وصولها إلى مصباتها .</td> </tr> <tr> <td></td> <td></td> <td>- استعمال مياه الأنهار بشكل كثيف .</td> <td></td> </tr> </table>	الشتاء		الصيف		الأسباب	النتائج	الأسباب	النتائج	تغزر مياهها و تفيض في بعض الأوقات	أضرار بالطرق و المباني و الأراضي الزراعية	ينحس صبيب الينابيع .	- تقل كميات المياه الضرورية لاحتياجات الإنسان و ري المزروعات .			- تشح معظم الأنهار .	- نضوب بعض الأنهار قبل وصولها إلى مصباتها .			- استعمال مياه الأنهار بشكل كثيف .	
	الشتاء		الصيف																		
الأسباب	النتائج	الأسباب	النتائج																		
تغزر مياهها و تفيض في بعض الأوقات	أضرار بالطرق و المباني و الأراضي الزراعية	ينحس صبيب الينابيع .	- تقل كميات المياه الضرورية لاحتياجات الإنسان و ري المزروعات .																		
		- تشح معظم الأنهار .	- نضوب بعض الأنهار قبل وصولها إلى مصباتها .																		
		- استعمال مياه الأنهار بشكل كثيف .																			

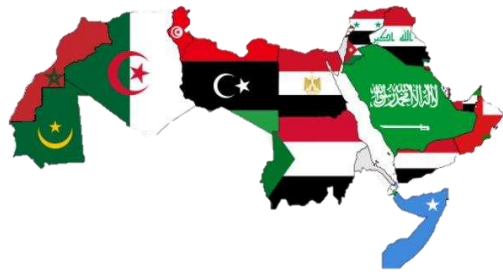


الوطن
العربي

البيئة الصحراوية

البيئة الصحراوية	
الموقع	تتحصر بين البيئة المتوسطية في الشمال و البيئة المدارية الرطبة في الجنوب.
الخصائص المناخية	<ul style="list-style-type: none"> - تتميز بقلّة الأمطار و عدم انتظامها - ارتفاع الحرارة - تدني نسبة الرطوبة - تتميز بوجود فصلين فصل جاف طويل و فصل ممطر قصير
الغطاء النباتي	<ul style="list-style-type: none"> - فقر في الغطاء النباتي بسبب الجفاف الشديد
الموارد المائية	<ul style="list-style-type: none"> - تعيب الأنهار دائمة الجريان عن البيئة الصحراوية. - تعبرها أنهار تنبع من خارجها (نهر النيل و نهر دجلة و الفرات) - تقتصر المياه في البيئة الصحراوية على السيول التي تحدثها الأمطار الغزيرة - تجري السيول في الأودية مما سمح بقيام تجمعات سكنية ريفية مستفيدة من هذه المياه في ري المزروعات و سقي المواشي. - كمية مياه السيول محدودة جدًا فاجأ سكان الصحراء إلى إقامة السدود و حفر الأفلاج و الآبار لإستخراج المياه الجوفية.

المناطق المناخية	الموقع	الأمطار	الغطاء النباتي
منطقة القحط	المناطق الداخلية للبيئة الصحراوية	ندرة الأمطار و لا تتجاوز 10 ملم في السنة	ينعدم الغطاء النباتي
المنطقة الصحراوية	تحيط بمنطقة القحط	قليلة جدًا و لا تتجاوز 100 ملم في السنة (غير منتظمة و تأتي فجأة)	بعض الأعشاب الشوكية و الشجيرات
الشبه صحراوية	الأطراف الشمالية و الجنوبية للبيئة الصحراوية	تتساقط فوق الأطراف الشمالية شتاءً و فوق أطرافها الجنوبية صيفًا. كمياتها لا تتعدى 300 ملم في السنة.	تكثر الأعشاب و تنتشر بعض الأشجار.



الوطن
العربي

السكان

الكثافة والزيادة السكانية

نما عدد سكان الوطن العربي نمواً كبيراً. فازداد من حوالي 140 مليون نسمة سنة 1974 م إلى حوالي 415 مليون نسمة سنة 2017 م.

أولاً: الكثافة السكانية في الوطن العربي. (مستند 3 ص 52 . مستند 1 ص 54)

- تبلغ الكثافة السكانية في الوطن العربي حوالي 29 نسمة/كلم².
- تعتبر الكثافة السكانية في الوطن العربي من بين الكثافات السكانية المنخفضة في العالم.
- تختلف الكثافة السكانية في الوطن العربي من منطقة عربية إلى أخرى. و من دولة إلى دولة. و في داخل الدولة الواحدة.

فأماكن توزيع الكثافة السكانية في الوطن العربي

فمنخفضة (أقل من نسمة / الكلم 2)		فمرتفعة (أكثر من 20 نسمة في الكلم 2)	
فالمناطق	فالسبب	فالمناطق	فالسبب
فالمناطق الداخلية للوطن العربي	فالسبب	فالأطراف الساحلية	فالسبب
فالمناطق الصحراوية	فالسبب	فالمرتفعات الجبلية	فالسبب
فالمناطق الداخلية للوطن العربي	فالسبب	فمناطق تواجد الثروة النفطية	فالسبب
فالمناطق الداخلية للوطن العربي	فالسبب	فأحواض النيل ودجلة و الفرات	فالسبب
فالمناطق الداخلية للوطن العربي	فالسبب	فالتربة الخصبة	فالسبب

تختلف الكثافة السكانية بين دول الوطن العربي:

- تزيد على 1760 نسمة / كلم² في (مملكة البحرين) /// - تبلغ 4 نسمة/كلم² في (موريتانيا و ليبيا)

● **عالي الكثافة السكانية مرتفعة في مدن الوطن العربي و خاصة العواصم؛**

لأن المدن الكبرى تجذب غالبية السكان بسبب توافر فرص العمل المختلفة.

ثانياً: النمو السكاني المتسارع:

● **عالي تسارع النمو السكاني الطبيعي في الوطن العربي حوالي**

1- ارتفاع نسبة الولادات.

2- انخفاض نسبة الوفيات بسبب التقدم الصحي و ارتفاع مستوى المعيشة.





عالي. فتوه مجتمع الوطن العربي؟

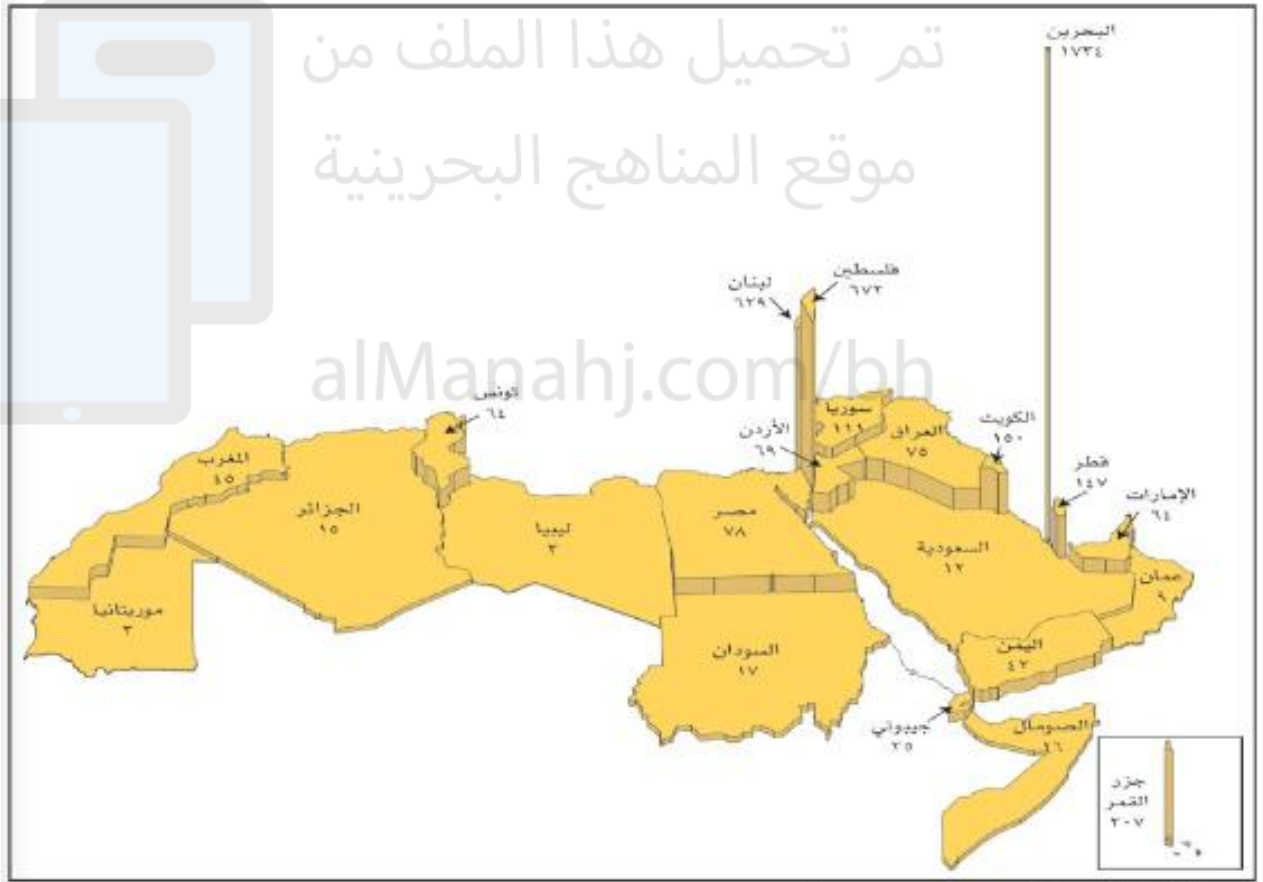
بسبب ارتفاع نسبة الولادات في الوطن العربي.

عالي. ارتفاع متوسط عمر الإنسان في الوطن العربي؟

(بسبب انخفاض نسبة الوفيات)

لماذا يشكل النمو السكاني المتسارع عبئاً على دخل معظم دول الوطن العربي

لأن إيراداتها الاقتصادية لا تنمو بالسرعة التي ينمو فيها السكان



مستند 1 الكثافة السكانية في دول الوطن العربي سنة ٢٠١٠ م



الوطن
العربي

الخصائص

الاقتصادية والاجتماعية

كم تبلغ نسبة الأشخاص الذين يمارسون نشاطات اقتصادية في الوطن العربي؟
نسبة الأشخاص الذين يمارسون نشاطات اقتصادية في الوطن العربي = 38.1% (نسبة قليلة).

كم تبلغ نسبة الأشخاص الذين لا يمارسون نشاطات اقتصادية؟

نسبة الأشخاص الغير منتجين (الإعالة الاقتصادية) = 61.9% (نسبة مرتفعة).
ف نستنتج أن إعالة أبناء الوطن العربي تقع على عاتق القليل من سكانه

نسبة الإعالة الاقتصادية

هي نسبة الأشخاص الذين

هم خارج نطاق العمل.

عالي ارتفاع نسبة الإعالة الاقتصادية في دول الوطن العربي.

أ- ارتفاع نسبة الفتيان في المجتمع العربي.

ب- تدني نسبة مشاركة المرأة في النشاط الاقتصادي في معظم الدول العربية.

ج- ازدياد نسبة الطلبة في الجامعات.

ف (هؤلاء جميعا لا يمارسون نشاط اقتصادي منتج)

ف

النتائج	الجهود	القطاع
1- ارتفاع عدد الطلبة في جميع المراحل. 2- ارتفاع نسبة الإناث المتعلمات. 3- انخفاض نسبة الأمية. 4- ارتفاع أعداد طلبة التعليم العالي.	1- أنشأت الجامعات الجديدة. 2- إضافة كليات وأقسام جديدة إلى الجامعات القائمة. 3- الاهتمام بتطوير التعليم المهني والتقني. 4- الاهتمام بتعليم الإناث.	التعليم
1- انخفاض معدل الوفيات الرضع في مجموع الدول العربية. 2- انخفاض نسبة الوفيات.	1- ازدياد عدد المستشفيات والمراكز الصحية وعدد الأطباء والمرضات. 2- انتشار حملات التوعية الصحية للأهالي وخصوصا الأمهات. 3- التعاون مع المنظمات الصحية الدولية وخصوصا في مجال تطعيم الأطفال.	الصحة



الوطن العربي

النمو السكاني المدني

- عرف الوطن العربي الظاهرة المدنية منذ القدم.
- غير أن هذه الظاهرة اتسعت خلال السنوات الأخيرة . مما أدى إلى ازدياد كبير في عدد سكان الكثير من مدن الوطن العربي.

أولاً: نمو مدن الوطن العربي

- شهدت دول الوطن العربي نمواً سكانياً مدنياً متسارعاً في غضون النصف الأخير من القرن العشرين .
- نسبة سكان المدن في سنة 1960 تساوي نحو 24% من إجمالي السكان-أصبحت في 2017 تساوي 58%
 - تختلف هذه النسبة من دولة إلى أخرى (مستند 1 ص 66 . خريطة توزع المدن العربية من حيث عدد السكان)
 - تصل إلى 100% في الكويت وقطر.
 - تقل عن 30% في جزر القمر واليمن.

عالي تسارع النمو السكاني المدني في الوطن العربي

ارتفاع نسبة الزيادة الطبيعية في المدن	النزوح الريفي إلى المدن	توافد الأيدي العاملة الأجنبية
---------------------------------------	-------------------------	-------------------------------

عالي النزوح الريفي إلى المدن ؟



1. مغريات الحياة العصرية في المدن.
2. توقعهم لكسب الأموال فيها (توافر فرص العمل).
3. بقاء الأرياف على هامش التطور و ضعف إنتاجها الزراعي.

ثانياً هيمنة العاصمة على باقي المدن في الوطن العربي

<ul style="list-style-type: none"> - العواصم تأتي في مركز الصدارة. وتهيمن بعدد سكانها على بقية المدن. - بعض دول الوطن العربي تبرز مدينة رئيسية ثانية مثل (المحرق ودبي وجدة والإسكندرية وبنغازي). - مدينتي الدار البيضاء في المغرب وحلب في سوريا عدد سكانهما يفوق عدد سكان العاصمة. 	<p>ظاهرة عدم التوازن بين مدن الوطن العربي من حيث عدد السكان</p>
<ul style="list-style-type: none"> 1- النزوح الريفي. 2- ازدياد اعداد الوافدين. 3- تركز المؤسسات الحكومية و الاقتصادية والصحية والتر بوية والسياحية في العواصم (مما يتيح فرص العمل) 	<p>ما أسباب هيمنة العاصمة . أو العاصمة ومدينة رئيسية ثانية على باقي مدن الوطن العربي ؟</p>
<p>تحول بعضها إلى مدن مليونية (يفوق عدد سكانها المليون نسمة)</p>	<p>ما النتائج المترتبة على تركز سكان المدن في العواصم والمدن الرئيسية الثانية</p>
<ul style="list-style-type: none"> - عدد المدن المليونية 23 مدينة . منها 14 عاصمة - وتعتبر مدينة القاهرة أكبر المدن العربية . 	<p>ما عدد المدن المليونية في الوطن العربي ؟ وما أكبر مدينة عربية مليونية ؟</p>

موقع المناهج البحرينية

alManahj.com/oh



الوطن
العربي

مشكلات النمو المدني

عالي عجز معظم دول الوطن العربي باستثناء دول الخليج العربية عن استيعاب الأعداد الكبيرة من النازحين و الوافدين إلى مدنها.


بسبب عدم تمكن مؤسسات المدينة من سد احتياجات القادمين إليها.

المشاكل التي نجمت عن الاكتظاظ السكاني في المدن العربية الكبرى

النتائج المترتبة عليها	الأسباب	المشكلة
1- نشوء أحياء فقيرة (أطراف القاهرة و بيروت وغيرها..) 2- تضاعف الطلب على الخدمات الأساسية من مياه وكهرباء وهاتف. 3- عدم تأمين السكن الصحي الملائم لأعداد كبيرة من النازحين للمدن.	النزوح من الريف إلى المدن.	1. مشكلة السكن (تحتل المرتبة الأولى)
أزمات سير خانقة.	إنشاء شبكة مواصلات قديمة غير قادرة على استيعاب النمو المدني المتسارع ولا مواجهة الأعداد المتزايدة من وسائل النقل المختلفة.	2. مشكلة المواصلات والسير
هجرة الفائض من الكفاءات العربية إلى الخارج بحثاً عن العمل.	لم تتمكن الوظائف المتوافرة من استيعاب النازحين من ذوي الكفاءة.	3. مشكلة البطالة
قلة المساحات الزراعية - اقتصرت المساحات الزراعية المحيطة بمدينة القاهرة على شريط ضيق على ضفاف النيل. - اختفت مساحات شاسعة من غوطة دمشق.	توسع المدن وزيادة أبنيتها السكنية ومراكزها التجارية والصناعية وتمددتها على حساب الأراضي الزراعية.	4. مشكلة التوسع العمراني على حساب الأراضي الزراعية

س. ما التدابير التي اتخذتها حكومات دول الوطن العربي لحل هذه المشاكل؟

ب - لتخفيف الضغط السكاني على العواصم: وجهت بعض الدول تدفق النازحين نحو مدن أخرى متوسطة الحجم أو مدن جديدة تم بناؤها مثل:	أ- الحد من النزوح الريفي إلى المدن: (عن طريق إنماء الريف)
1) مدينة حمد ومدينة زايد في البحرين. 2) الدمام والظهران في السعودية. 3) مدينة الرقة في سوريا. 4) مدينتي تبسه و سطيف في الجزائر. 5) مدينة وجده في المغرب.	1) وسعت مشاريع الري واستصلاح الأراضي. 2) تنشيط الصناعات الريفية. 3) وفرت الخدمات التعليمية والصحية. 4) مدت الأرياف بالماء والكهرباء.



تم تحميل هذا الملف من
موقع المناهج البحرينية

alManahj.com/bh



الوطن
العربي

خامات المعادن

تتنوع خامات المعادن في الوطن العربي لكن كمياتها المتوافرة لا تكفي لاستغلالها اقتصادياً ويستثنى من ذلك الفوسفات والحديد والرصاص والكبريت.

المعدن	أهم الدول العربية المنتجة للمعدن	نسبة الإنتاج	استخداماته
1- الفوسفات (يحتل المركز الثاني بعد النفط من حيث أهميته و حجم انتاجه)	يتركز في : - المملكة المغربية - تليها تونس والأردن	34% من الانتاج العالمي. (المرتبة الثانية بعد الصين).	- صناعة الاسمدة الكيماوية. - صناعة المبيدات الحشرية.
2- الذهب	- سلطنة عمان (المرتبة الأولى عربياً) - تليها السودان والسعودية.	0.7% من الانتاج العالمي.	يحظى بأهمية اقتصادية عالمية (تستعمله الدول احتياطي لدى مصارفها المركزية لتحقيق الاستقرار النقدي)
3- الحديد (الأكثر استعمالاً في الصناعة)	- موريتانيا (المرتبة الأولى عربياً) - تليها الجزائر ومصر	1% من الانتاج العالمي	- صناعة آلات المصانع - صناعة الآلات الزراعية - صناعة وسائل النقل وغيرها.
4- الرصاص	- المملكة المغربية الأولى عربياً - تليها تونس والجزائر	2.5% من الانتاج العالمي	- صناعة البطاريات والأوزان - صناعة الزجاج والكريستال - الطلاء وبعض الصناعات الكيماوية. - تستعمل صفائحها لعزل الصوت والإشعاعات النووية.

ينتج الوطن العربي معادن أخرى مثل الكروم . الكوبالت . الفضة . الزنك . النحاس . المنغنيز والبوتاس غير أن انتاجه من هذه المعادن ضئيل جداً.



الوطن العربي

مصادر الطاقة

يشكل النفط و الغاز الطبيعي المصدرين الأساسيين للطاقة في الوطن العربي.

س: أين تنحصر بصورة أساسية حقول النفط و الغاز الطبيعي في الوطن العربي؟
تنتشر في معظم دول الوطن العربي و تنحصر ضمن شريطين رئيسيين.

- الشريط الأول في القسم الآسيوي . و يمتد من شمال شرق سوريا حتى جنوب عمان مروراً بالخليج العربي.
- الشريط الثاني القسم الإفريقي . و يمتد من مصر شرقاً حتى الجزائر غرباً.

مصادر الطاقة	نسبة الاحتياطي	المركز الذي يحتله الوطن العربي عالمياً من حيث المحزون (الاحتياطي)	نسبة الإنتاج العالمي	المركز الذي يحتله الوطن العربي من حيث الإنتاج عالمياً من حيث الإنتاج
النفط	46,6%	يحتل الوطن العربي المركز الأول متمثلاً في المملكة (السعودية)	30%	يحتل الوطن العربي المركز الأول.
الغاز الطبيعي	29%	1 - الولايات المتحدة الأمريكية. 2- الوطن العربي في المرتبة الثانية عالمياً متمثلاً في دولة قطر	27%	1- مجموعة الدول المستقلة (الاتحاد السوفياتي سابقاً) 2- الولايات المتحدة الأمريكية 3- الوطن العربي متمثلاً في دولة قطر الأولى عربياً في الاحتياطي والإنتاج.

يتم استخراج الغاز الطبيعي في الوطن على شكلين	
من الآبار النفطية حيث يكون مصاحبا للنفط.	حقوق مستقلة لا وجود للنفط فيها (في الجزائر وقطر

الفحم الحجري وجوده محدود و يستخرج بكميات ضئيلة في المغرب و الجزائر و مصر.
ما المصادر التي يعتمد عليها الوطن العربي في استهلاكه للطاقة؟

- 1- يعتمد الوطن العربي في استهلاكه للطاقة على النفط و الغاز الطبيعي و هما متوافران بكثرة في مناطقه.
- 2- الفحم الحجري و المياه (تستعمل في إنتاج الطاقة الكهرومائية) فما يزال الاعتماد عليهما محدودا.

لتوليد الطاقة الكهرومائية يشترط توافر	
المساقط المائية العالية	السدود

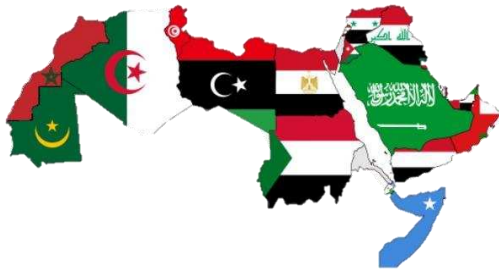
عددي الدول العربية التي تتوافر فيها السدود والمساقط المائية العالية؟
العراق. سوريا. المغرب. السودان. لبنان. الجزائر. تونس و مصر (مصر تنتج أكثر من نصف إنتاج الوطن العربي)

تمت بحمد الله من
موقع المناهج البحرينية
alManahj.com/bh

الواجب الصفي

صممي خريطة مفاهيمية موضحة أهم المصادر التي يعتمد عليها الوطن العربي في استهلاكه للطاقة؟





الوطن العربي

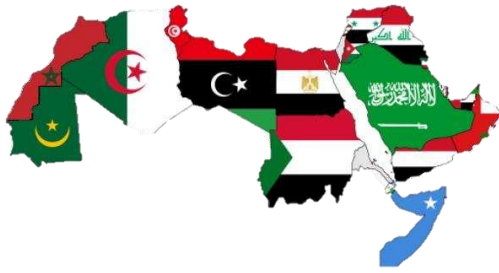
توزيع الأراضي الزراعية

- يتميز الوطن العربي بقلة أراضيه الصالحة للزراعة و انتشار المراعي - خريطة توزيع الأراضي الزراعية في الوطن العربي (مستند 1 ص 78).

توزيع الأراضي في الوطن العربي	مساحتها	المناطق المناخية التي تنتشر فيها	خصائصها
1- أراضي غير صالحة للزراعة		المناطق الصحراوية	مساحتها واسعة جدا
2- أراضي صالحة للزراعة وتنقسم إلى مروية وبعلية	14٪	المناطق التي يسودها المناخ المتوسطي والمداري الرطب وحول الأنهار	لا تزال محدوده ربعها في السودان ونصفها يتوزع بين المغرب والجزائر وسوريا والعراق والربع الأخير يتوزع بين بقية الدول العربية.
3- المراعي	35.5٪	تنتشر في معظم أنحاء الوطن العربي خاصة المناطق شبة الصحراوية	- تنتشر بمساحات شاسعة - تحتل المراعي السودانية المرتبة الأولى من حيث المساحة (نصف مساحة المراعي العربية) - أبرز المشاكل هي تقلص غطاءها النباتي بفعل الرعي الجائر وتعرض تربتها للانجراف وعوامل التعرية.
4- الغابات			

مقارنة بين الأراضي الزراعية (البعلية والمروية) في الوطن العربي

الأراضي المزروعة في الوطن العربي	مساحتها من الأراضي المزروعة	المشاكل	الحلول
أراضي مروية	لا تتعدى 18,7٪	مساحتها ضئيلة لا تتعدى 18,7٪ من مجمل الأراضي المزروعة.	1- بناء السدود وحفر الآبار والقنوات. 2- الاعتماد على أساليب ري حديثة للحد من هدر المياه.
أراضي بعلية (تروى بمياه الأمطار)	تشكل أكثر مساحة الأراضي المزروعة 42٪	تفاوت كبير في إنتاجها الزراعي بين سنة وأخرى بسبب: 1- عدم انتظام الأمطار من سنة إلى أخرى. 2- تعرضها لموجات جفاف. 3- تعرضها للسيول التي تسبب انجراف التربة. 4- تقلص مساحتها بسبب التوسع العمراني	1- بناء السدود والقنوات 2- الحد من التوسع العمراني واستغلال مساحة الأراضي الغير صالحة للزراعة للتوسع العمراني.




الوطن
العربي

الإنتاجية الزراعية والاكتفاء الذاتي

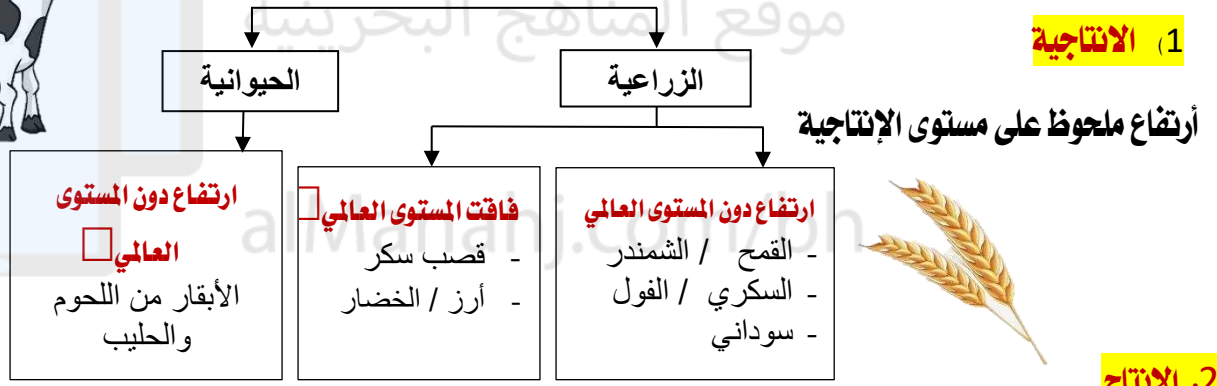
التدابير التي اتخذتها دول الوطن العربي لتطوير زراعتها.

- 1) اعتماد الوسائل الحديثة في الزراعة (الآلات الزراعية . البذور المحسنة . الأسمدة . المبيدات و البيوت المحمية .
- 2) تطوير برامج التدريب و الإرشاد .
- 3) إنشاء مراكز البحوث العلمية .
- 4) إقامة مزارع حديثة لتربية المواشي و الدواجن و التعاونيات الزراعية .
- 5) الدول النفطية عمدت إلى إمداد القطاع الخاص بأموال اللازمة لإقامة مشاريع زراعية .
- 6) استخدام نظم ري حديثة .



نتائج التدابير على صعيد الإنتاجية . الإنتاج و الاكتفاء الذاتي

1. الإنتاجية



2. الإنتاج

- ارتفاع إنتاج المواد الغذائية ← نتيجة ارتفاع الإنتاجية الزراعية من المحاصيل الزراعية و التوسع في مساحة الأراضي الزراعية.
- ارتفاع إنتاج الأبقار و المواشي ← نتيجة ارتفاع الإنتاجية الحيوانية من المواشي و الدواجن.

3. الاكتفاء الذاتي


- أ- تحسين نسبة الاكتفاء الذاتي .
- ب- وصلت بعض المواد الغذائية إلى الاكتفاء الذاتي في بعض المواد الغذائية مثل الفواكه . البطاطس . السمك . الخضار .

ما المعوقات التي لابد لدول الوطن العربي تخطيها للوصول إلى المستوى العالمي «أسباب التدهور في الإنتاج

- 1- النقص الكبير في القوى العاملة المدربة.
- 2- انتشار أساليب الزراعة التقليدية على نطاق واسع.
- 3- ارتفاع كلفة الأسمدة والمبيدات والآلات الزراعية.
- 4- النقص في أعداد المهندسين الزراعيين.
- 5- ضآلة استثمارات القطاع العام في المجال الزراعي.

الحلول

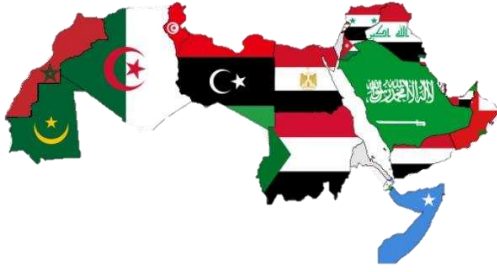
1. تطوير برامج التنمية الزراعية المشتركة وتطويرها.
2. التعاون والتنسيق بين جميع أقطار الوطن العربي.



تم تحميل هذا الملف من

موقع المنهج البحرينية

alManahj.com/bh



الوطن
العربي

أنواع الصناعات

أنواع الصناعات في الوطن العربي	
الصناعة التحويلية	الصناعة الاستخراجية
	<ul style="list-style-type: none"> - استخراج النفط و الغاز الطبيعي - تشكل 99٪ - (تتركز في الدول العربية النفطية) - المصدر الرئيسي لمنتجاتها المحلي
	استخراج المعادن (محدودة)

أبرز الصناعات التحويلية	الدول التي تتركز بها الصناعة	الإنتاج و الاستهلاك و التصدير للصناعة
صناعة تكرير النفط	تنتشر في معظم دول الوطن العربي. 31٪ في المملكة العربية السعودية.	يستهلك الوطن العربي نصف إنتاجه من النفط المكرر ويصدر الباقي إلى الخارج
صناعة البتر وكيمياوية	يتركز إنتاجها في الدول العربية النفطية وخاصة في السعودية	تشكل منتجات الصناعة البتر وكيمياوية أهم السلع الصناعية العربية المصدر إلى الخارج بعد النفط
صناعة الأسمدة الكيماوية	تتركز صناعة الأسمدة في الدول النفطية والمغرب وتونس وسوريا والأردن.	يستهلك الوطن العربي 28٪ من هذه الأسمدة ويصدر الباقي إلى الخارج
صناعة الإسمنت	تنتشر في معظم الدول العربية	يكفي إنتاجها معظم الاستهلاك المحلي.
صناعة الحديد والصلب	تنتشر في معظم الدول الوطن العربي أقاموا مصانع للحديد و الصلب مصر / قطر / العراق / السعودية	الإنتاج ضئيل لا يسد سوى 50٪ من حاجة السوق العربية
الصناعات الغذائية	تنتشر مصانعها في جميع الدول العربية وتنتج مصر والجزائر وسوريا والسعودية أكثر من 70٪ الإنتاج الصناعي الغذائي في الوطن العربي	الإنتاج ما يزال ضعيفا ولا يكفي حاجة الاستهلاك
صناعة النسيج	تنتج مصر حوالي 50٪ من إنتاج النسيج العربي وكذلك الجزائر وسوريا والسعودية	الإنتاج ما يزال ضعيفا ولا يكفي حاجة الاستهلاك

ف

تنتشر في الوطن العربي صناعات أخرى كصناعة بناء السفن و إصلاحها و صناعة الزجاج و غيرها بالإضافة إلى الصناعات

الحرفية كالفضار و السجاد و المحلي .



الوطن العربي

مشكلات الصناعة

ما يزال حجم القطاع الصناعي في الوطن العربي صغيرا بسبب المشاكل التي تواجهه.

الحلول المقترحة لتخطي المشكلة	النتائج التي تربت على المشكلة	مشاكل الصناعة في الوطن العربي
1- زيادة المشاريع الصناعية المشتركة.	1) عدم توافر فرص العمل لعدد كبير من القوى العاملة. 2) عدم قدرة منتجات الصناعة التحويلية على سد احتياجات السكان من السلع الاستهلاكية.	1- صغر حجم الصناعة التحويلية في الوطن العربي.
2- دعم التعليم الصناعي.	1) عدم التوازن بين أنواع الصناعات 2) الاعتماد على الصناعات الاستهلاكية (سلع مصنعة تستعمل لسد احتياجات السكان الآنية مثل الصناعة النسيجية والغذائية) و الصناعات المعدة للتصدير تكرير النفط والبتر وكيمائيات.	2- غياب الصناعات الرأسمالية عن الصناعة. عرفي الصناعة الرأسمالية واذكري متطلباتها ؟ هي صناعة تحتاج إلى: 1) رؤوس أموال ضخمة. 2) معدات وتقنيات متطورة. 3) خبرات عالية مثل صناعة الآلات.
3- تنشيط مراكز البحوث والتدريب والمعاهد الصناعية.	3) ضعف في الصناعة الرأسمالية.	3- اعتماد الصناعة العربية في مستلزماتها على الخارج.
4- تسهيل انتقال الأشخاص ورؤوس الأموال بين الدول العربية.	1) الاستعانة بالخبراء والتقنيين الأجانب لتشغيل آلات المصانع وتدريب القوى العاملة فيها. 2) استيراد المحركات والمعدات المتطورة وبعض الخامات من الخارج.	4- نقص التنسيق بين الدول العربية في المجال الصناعي.
	1) تنافس المنتجات العربية في الأسواق العربية. 2) لجوء بعض الدول العربية لاستيراد منتجات صناعية من الخارج بالرغم من توافر مثيلاتها في الدول العربية	



الوطن
العربي

التجارة

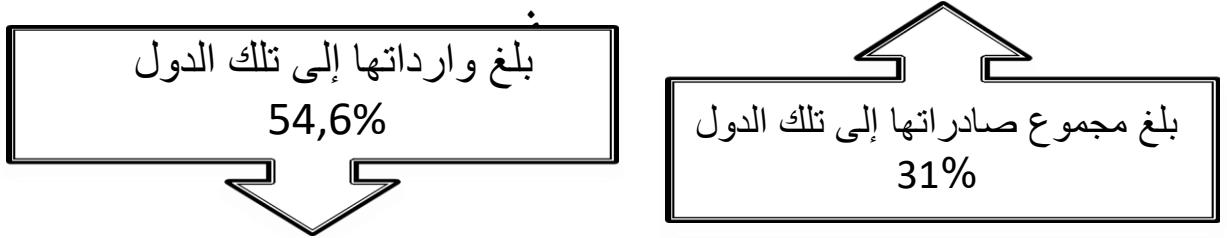
النشاط التجاري	
التجارة البيئية	التجارة الخارجية
هي التي تكون بين الدول العربية ذاتها.	هي التي تكون بين دول الوطن العربي ودول العالم الأخرى.

أولاً: التجارة الخارجية:

س. ما أهم صادرات الوطن العربي؟ وما أهم الدول المستقبلية لها؟

أهم الدول المستقبلية	صادرات الوطن العربي
يعتمد الوطن العربي في مجال التصدير بالدرجة الأولى على	1) النفط والغاز الطبيعي.
1) دول الاتحاد الأوروبية	2) السلع المصنعة الخفيفة
2) الصين	3) السلع الكيماوية
3) اليابان	4) المواد الغذائية والمشروبات
4) الولايات المتحدة الأمريكية	

س. ما نسبة صادرات الدول العربية إلى تلك الدول؟ وما نسبة وارداتها؟



يتبوا النفط والغاز الطبيعي في صادرات الوطن العربي المركز الأول لكن غير أن نسبة هذه الصادرات انخفضت.

س. لماذا انخفضت نسبة إسهام النفط والغاز الطبيعي في مجموع الصادرات العربية الإجمالية؟

بسبب ازدياد حصة السلع المصنعة الخفيفة. و السلع الكيماوية و المواد الغذائية و المشروبات في صادرات الوطن العربي.

ما أهم واردات الوطن العربي؟ ومن أين؟

واردات الوطن العربي	تستورد دول الوطن العربي من
1) الآلات ومعدات النقل (تحتل المركز الأول بين واردات الوطن العربي الإجمالية).	1) دول الاتحاد الأوروبية
2) المواد الغذائية	2) الصين
3) المنتجات الكيماوية والمواد الخام	3) اليابان
	4) الولايات المتحدة الأمريكية

علي انخفاض حصة المواد الغذائية من الواردات؟
بسبب اهتمام الدول العربية بتنمية قطاعها الزراعي.

ثانياً التجارة البينية

ف

لماذا انخفضت نسبة التجارة البينية من مجمل التجارة العربية؟	بسبب عجز الإنتاج المحلي من السلع عن تلبية احتياجات الأسواق العربية.
ما أهمية دور التجارة البينية في بعض الدول العربية؟	اعتماد بعض الدول اعتماداً أساسياً على الأسواق العربية كمنفذ لصادراتها أو مصدر ل وارداتها كالصومال ولبنان وجيبوتي واليمن وسوريا.
ما المقصود بالميزان التجاري؟	يقصد به طرح قيمة صادرات بلد ما من قيمة وارداته فنحصل على ميزانه التجاري (الميزان التجاري = الصادرات - الواردات)
علي حقق الميزان التجاري العربي فائضاً كبيراً؟	ناجم عن فائض الموازين التجارية في الدول النفطية.
أما الدول الغير النفطية فتشهد عجزاً في ميزانها التجاري وغالباً ما تلجأ إلى مساعدات الدول النفطية لسد بعض هذا العجز.	

ف

مذكرة

التربية للمواطنة

للمصف الثاني الإعدادي

الفصل الدراسي الأول

2022-2023م



مراجعة المحتوى: أ. فاطمة علي مكي + أ. حورية علي المدبر + أ. آيات وليد جمعان

أعداد: أ. ليلى السيد مهدي شرف

تصميم وإشراف منسقة المواد الاجتماعية أ. علوية السيد علي



الثقافة الشعبية في مملكة البحرين

لماذا تولي معظم دول العالم اهتماما كبيرا لتراثها الشعبي؟

- هو المعبر عن شخصيتها . وعن عادات و تقاليد شعوبها.
- من خلاله يمكن الإطلاع على الإرث التاريخي و الامتداد الحضاري لشعوب العالم.

الثقافة الشعبية هي المعارف والخبرات والتصورات الموروثة والغير المدونة وتتصل بالعادات والتقاليد والتعبيرات الفنية (محكية .حركية .موسيقية و تشكيلية) تعكس أساليب المعيشة وقواعد العمل والسلوك والآداب والأخلاق الاجتماعية.

أشكال الثقافة الشعبية

المآثورات الشعبية	التراث و البحر
1. أغاني الأطفال الشعبية	1. صناعة السفن
2. الالعب الشعبية	2. صيد اللؤلؤ
3. الفنون الشعبية الغنائية	3. صيد الاسماك
4. الأمثال الشعبية	



أولاً: التراث و البحر

كان ومازال البحر عنصراً مهماً في الاقتصاد وأسهم في صياغة حياة الإنسان المادية ومصدر للرزق.

التراث و البحر		
صيد الاسماك	صيد اللؤلؤ	صناعة السفن
<p>اختلفت وسائل الصيد باختلاف حجم الأسماك وأماكن وجودها ومن أهم وسائل صيد الأسماك الحظرة / الشبك (الغزل) / الياروف / المنصب / القرقور / الكوفة .</p>	<p>متى بدأ صيد اللؤلؤ في جزيرة البحرين ؟ منذ العام 2000 قبل الميلاد.</p> <p>مالفترة الذهبية التي مر بها صيد اللؤلؤ في البحرين ؟ منذ أواخر القرن التاسع عشر حتى ثلاثينات القرن العشرين.</p> <p>مظاهر احياء تراث صيد اللؤلؤ تم إدراج (طريق اللؤلؤ) كموقع في قائمة التراث الإنساني العالمي في 30 يونيو 2012م من قبل منظمة اليونسكو حيث يقع طريق اللؤلؤ في مدينته المحرق /الذ / باعتبارها عاصمة صيد اللؤلؤ في البحرين و المركز الأساسي لصيد اللؤلؤ في الخليج العربي قديماً.</p> <p>المشروع عبارته عن 3 مصائد للؤلؤ وهو ما يطلق عليه بالهيرات (هير بولثامة هير بوعمامة و هير شتبه) وهي تقع شمالي البحرين كمحميات طبيعيه عند قلعة بوماهر.</p>	<p>- يطلق علي طريقة بناء السفن (أوشار)</p> <p>- يطلق على بناء السفن أي الذي يقوم ببناء السفينة هو (القلاب)</p> <p>- تصنع السفينة من خشب يسمى (الساج) الذي يتميز بأنه مقاوم للرطوبة والتآكل</p> <p>- وأنواع السفن هي : البوم – البتيل / البغلة / السنوك / البانوش</p>

ثانياً: المآثورات الشعبية

تظهر المآثورات الشعبية في صور كثيرة منها الشعر الشعبي والأغاني والموسيقى والأمثال الشعبية الموروثة ومن خلال العادات والتقاليد والمعارف والطقوس والألعاب والحرف والرقصات الشعبية وكل أساليب التواصل الشعبية التي تنتقل المعارف من جيل إلى جيل.

فما أهمية المآثورات الشعبية ؟

1- التعرف على حضارة الشعب وأنماط عيشه وقيمته الأخلاقية والإنسانية .

2- التعرف الأدب الشعبي بأنواعه المختلفة (قصة شعبية أو نادرة) .

3- تشكل ذاكرتنا الوطنية وتجمع بيننا .

4- تسهم في تهذيب الأجيال و تقويم الأخلاق .

المآثورات الشعبية		
الأنون الشعبية الغنائية	الألعاب الشعبية	أغانى الأطفال الشعبية
الأغنية الشعبية هي شكل من أشكال التعبير الإنساني يمارسها الأفراد في الأفراح والمناسبات السعيدة وعند مزوالة العمل والأنون الشعبية الغنائية لها أنواع منها .	من أمثلة الألعاب الشعبية : لعبة الصبة - لعبة اللقفة - لعبة السكينة - لعبة الخشيشة - لعبة الخبصة -	- يتعرف الطفل من خلال علاقته بأمه ذلك أن الأم غالباً ما تعني لطفلها بقلبها الحنون . - من أمثلة الأغاني الشعبية : هولوو - صباحك الصباحي - حبش لبش - باجر العيد .
1. فن النهمة		
2. فن الفجري		
3. فن العرضة		
4. فن المراد		
5. أهزوجة القرقاعون		

أ- فن النهمة يقوم النهام بالغناء للغواصين بهدف بث الحماس في نفوس الغاصة وتشجيعهم على العمل .	ب- فن الفجري وهو غناء السمر عند الغواصين والبجارة و يعكس المعاناة البحرية وقد سمي هذا الفن بالفجري لأن البجارة يمارسونه عند طلوع الفجر .
ج- فن العرضة تؤدى فن العرضة في الاحتفالات الوطنية والأعياد والمناسبات وتسمى فن العرضة أيضاً (باحتفالية الحرب والسلام) حيث تدعو لمواجهة العدو و الوقوف خلف القائد و الدفاع عن الوطن . من أهم مستلزمات فن العرضة هي اللباس التقليدي التراثي و الخناجر والسيوف و الطبل و حمل الراية (العلم) . تتميز العرضة البحرينية عن غيرها من دول مجلس التعاون الخليجي بالطابع الحضري .	
د- فن المراد هو فن من الأنون البدوية الغنائية الراقصة و القديمة وكان يؤدى بواسطة الفتيات فقط (من 20 إلى 30 فتاة) في المناسبات مثل الأعياد وعند إنزال سفينة جديد أو عند رجوع المسافرين من السفر وعند شفاء المريض .	د- أهزوجة القرقاعون هي من العادات والتقاليد القديمة التي تمارس في البحرين ودول الخليج العربي والجزء الشرقي من السعودية ويقوم الأطفال بممارستها في منتصف شهر رمضان .

الأمثال الشعبية:

- يعتبر المثل الشعبي من أصدق وأكثر تجارب الإنسان حكمة وخبره ولكل شعب من الشعوب أمثاله الشعبية الخاصة .
 - من أمثالتنا الشعبية (إذ كنت في دارهم دارهم) (الجذب حبله قصير) (اللي ما يطيع إيضيع) .
- كيف للمواطن البحريني المحافظة على ثقافته الشعبية :**
- 1- احترام القوانين التي تصدرها هيئة البحرين للثقافة والآثار من أجل حماية الثقافة الشعبية في البحرين .
 - 2- إقامة الفعاليات التي تدعو على المحافظة على الثقافة الشعبية .
 - 3- توعية المواطنين بوجوب المحافظة على الثقافة الشعبية .
 - 4- الترويج للثقافة الشعبية في الداخل والخارج .



المراة ودورها في المجتمع البحريني

للمراة دور مهم في النهضة الإنسانية فهي المريية الأولى للأجيال وهي تمثل نصف المجتمع وقد ساهمت منذ القدم بفاعلية في فجميع الأنشطة التعليمية والصحية والثقافية والعلمية والاقتصادية والمدنية والسياسية.

أولاً: المراة في المجتمع البحريني

ما الأدوار التي كانت تمارسها المراة البحرينية قديماً

الأعمال المنزلية . تربية الأطفال . خياطة الملابس . صناعة السلال . تربية الماشية . الزراعة و المتاجرة ببعض السلع البسيطة.

أ- تعليم المراة

- أدركت المراة البحرينية حاجتها إلى التعليم منذ القدم وسارعت بتعليم مبادئ الدين الإسلامي وقراءة القرآن الكريم .
- ومع تطور المجتمع افتتحت أول مدرسة حكومية للبنات في عام 1928م (مدرسة خديجة الكبرى) .
- أخذ التعليم في التوسع والزيادة وأرسلت أول البعثة من طالبات البحرين للدراسة في الخارج في الأربعينات وتوالت بعدها البعثات إلى الدول العربية والأجنبية.

أبرز النتائج التعليمية

- انفتحت أفق رحبة أمام المراة للعمل خارج المنزل
- ازدادت أعداد الخريجات من كافة التخصصات
- تدنى مستوى الأمية بين النساء.
- عملت المراة أولاً في قطاع التدريس ثم التمريض والصحة ثم ازدادت مشاركة المراة في جميع القطاعات .

ب- المراة في المجال السياسي

- منح ميثاق العمل الوطني ودستور مملكة البحرين حق الانتخاب والترشح
- شاركت في الانتخابات النيابية والترشح.

أصبح لها وجود في السلطات الثلاث .

أ- السلطة التشريعية	ب- السلطة التنفيذية	ج- السلطة القضائية
أصبحت عضواً في مجلس الشورى ومجلس النواب.	تقلدت منصب وزير في - وزارة الصحة - وزارة الثقافة - وزارة التنمية الاجتماعية - وزارة الدولة للشؤون الإعلام	- عينت المرأة قاضية في المحكمة المدنية عام 2006م - وعلى المستوى الدولي انتخبت رئيساً للدورة 61 لجمعية العامة للأمم المتحدة وحصلت مرشحة البحرين على مقعد في لجنة حقوق الطفل في الأمم المتحدة .

ج- دور المرأة في مجال العمل الاجتماعي والتطوعي

- بدأ هذا الدور منذ العشرينات والثلاثينات.
- شاركت في خدمة أبناء مجتمعها من خلال الجمعيات الأهلية .
- (تأسيس نادي البحرين للسيدات وجمعية نهضة فتاة البحرين في عام 1955 وجمعية رعاية الطفولة والأمومة عام 1960م)
- ساهمت هذه الجمعيات في برامج التنمية الاقتصادية والاجتماعية ونشر الوعي الصحي والتعليمي والثقافي والاجتماعي وتقديم المساعدات للأسر الفقيرة والمطالبة بالقضاء على جميع أشكال التمييز ضد المرأة.

ثانياً المجلس الأعلى للمرأة

أ- أهميته واختصاصه.	المبادئ التي يسعى المجلس إلى تحقيقها	ب- إنجازات المجلس الأعلى للمرأة
- سنة التأسيس 2001م . - أهميته . يعتبر المرجع لجميع الجهات الرسمية فيما يتعلق بشؤون المرأة . - تبعيته . جلالة الملك حمد بن عيسى آل خليفة . - الرئيس . ترأسه الشيخة سبيكة بنت إبراهيم آل خليفة . - عدد الأعضاء 16 عضوة (من الشخصيات النسائية العامة من ذوات الخبرة في شؤون المرأة)	1. تمكين المرأة البحرينية وإدماج احتياجاتها في برامج التنمية . 2. تعزيز مبدأ تكافؤ الفرص . 3. ضمان تعدد وتنوع الخيارات المتاحة للمرأة البحرينية .	1- وضع خطة وطنية للنهوض بالمرأة في جميع المجالات . 2- تبني المجلس برنامج التمكين السياسي للمرأة تحت شعار (معاً نبني الوطن) 3- تم تخصيص يوم للأحتفال بالمرأة البحرينية (1 ديسمبر) 4- إنشاء لجان تكافؤ الفرص لمختلف المجالات الحكومية .

ثالثاً : اتفاقية القضاء علي جميع أشكال التمييز ضد المرأة .

حرصاً من مملكة البحرين على حقوق المرأة والقضاء علي أشكال التمييز ضدها وأهمية دورها في المجتمع انضمت البحرين إلي الاتفاقية (القضاء علي جميع أشكال التمييز ضد المرأة) التابعة للأمم المتحدة سنة 2002 م .

- شملت التدابير المتخذة بهدف القضاء علي التمييز ضد المرأة شتى الميادين (السياسية و العمل و الصحة و الزواج و التعليم)
- وقد تضمن ميثاق العمل الوطني و دستور مملكة البحرين العديد من المبادئ التي دعمت دور المرأة في التنمية في جميع المجالات .
- وفي سنة 2009 م صدر قانون أحكام الأسرة لتعديل أحوال المرأة .

معنى التمييز ضد المرأة :

أي تفرقة أو استبعاد أو تقييد يتم على أساس الجنس ويكون من آثاره أو أغراضه النيل من الاعتراف بالمرأة على أساس تساوي الرجل والمرأة بحقوق الانسان والحريات الاساسية في الميادين السياسية والاقتصادية والاجتماعية والثقافية والمدنية أو في ميادين أخرى .

أي تفرقتها عن الرجل في جميع مجالات الحياة وعدم الاعتراف بحقوقها .

من مضامين حقوق المرأة :

- 1- مشاركة المرأة في السياسة الدولية .
- 2- القضاء علي التمييز ضد المرأة في العمل .
- 3- المساواة أمام القانون .
- 4- المساواة في التعليم .
- 5- حماية الأمومة
- 6- منع الاتجار بالمرأة .
- 7- المساواة المرأة بالرجل في الأنشطة الاقتصادية والاجتماعية .



القانون في حياتنا

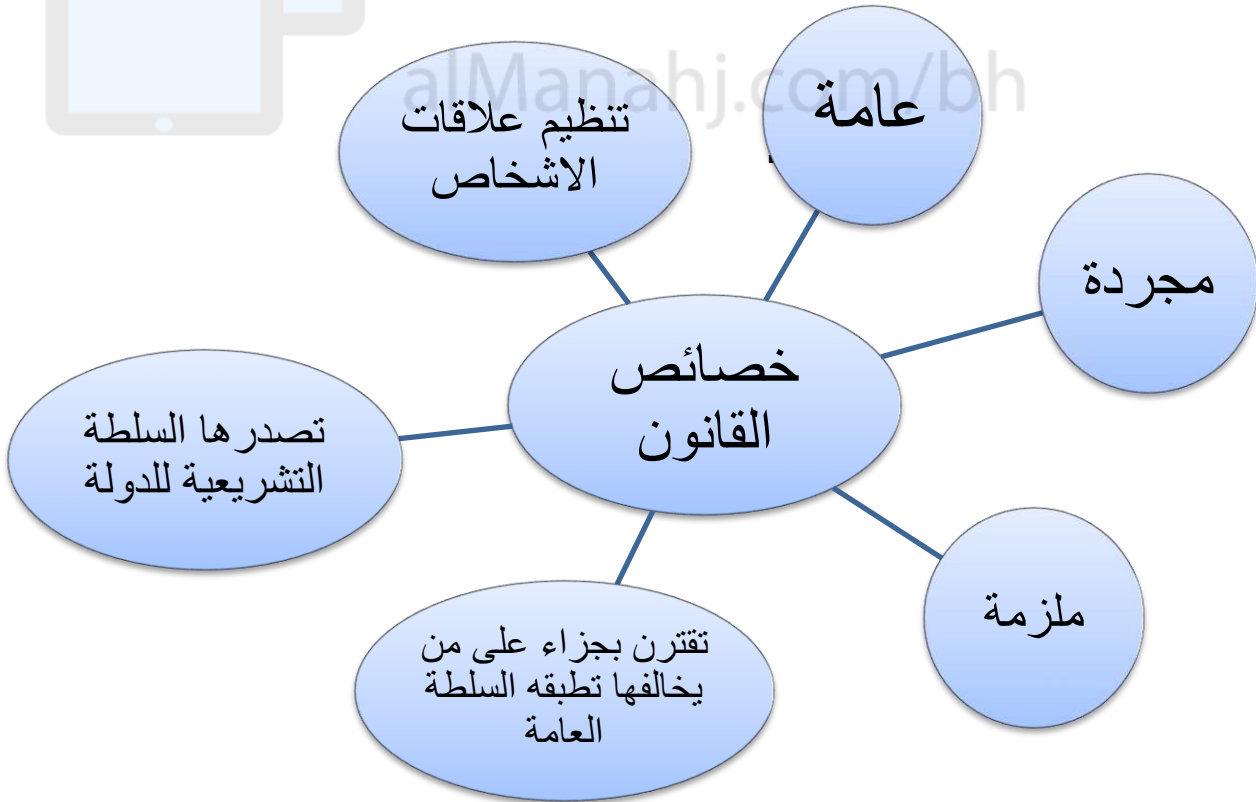
منذ أن تطور الإنسان من الحالة الطبيعية إلى الحالة المدنية وضعت المجتمعات الإنسانية قواعد تنظم الحياة في المجتمع أطلق عليها اسم القانون. وبفضل هذا التطور المدني المهم أصبح القانون العمود الفقري لضمان العيش المشترك داخل المجتمع.

أولاً القانون:

1- مفهوم القانون

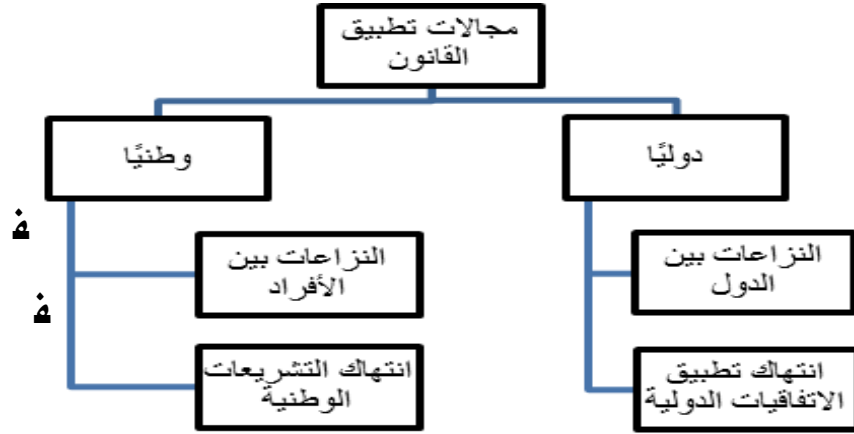
القانون هو مجموعة من القواعد والمبادئ العامة. المجردة. والملزمة تنظم علاقات الأشخاص في المجتمع تصدرها السلطة التشريعية للدولة وتفترن بجزاء على من يخالفها تطبيقه عليه السلطة العامة.

2- خصائص القانون



– مبادئ القانون و بعض مجالات تطبيقه.

مجالات تطبيق القانون



س. أذكر بعض المجالات الأخرى التي يطبق فيها القانون في حياتنا ؟

(1) الصحة	(2) الإدارات
(3) البيئة	(4) العلاقة بين المنتج والمستهلك
(5) التعليم	(6) المعاملات اليومية بين الناس
(7) العقارات	

ثانيًا: مزايا احترام القانون و مخاطر خرقه.

المحاضر	الفوائد
(1) الأضرار المادية والمعنوية.	(1) الاحترام المتبادل بين الناس.
(2) ضياع الحقوق.	(2) فض النزاعات بطرق سلمية قانونية.
(3) الاستهتار بالواجبات .	(3) تحسين نوعية الحياة .
(4) العقوبات المتزايدة	(4) تأمين الحقوق وضمانها.

سؤال : صنفى المواقف الآتية بوضع علامة (√) في الجدول الآتي وفقاً للمطلوب.

الموقف	سلوك يحترم القواعد	سلوك لا يحترم القواعد
مراعاة قواعد السلامة المرورية .		
تكرار الوصول المتأخر إلى المدرسة .		
الاستهتار بالمنشآت العامة .		
الوقوف في الطابور عند قضاء المصالح .		
السهر على راحة الجار وعدم إزعاجه .		

