

تم تحميل هذا الملف من موقع المناهج العُمانية



* للحصول على أوراق عمل لجميع الصفوف وجميع المواد اضغط هنا

<https://almanahj.com/bh>

* للحصول على أوراق عمل لجميع مواد الصف الثامن اضغط هنا

<https://almanahj.com/bh/8>

* للحصول على جميع أوراق الصف الثامن في مادة اجتماعيات وجميع الفصول, اضغط هنا

<https://almanahj.com/bh/8social>

* للحصول على أوراق عمل لجميع مواد الصف الثامن في مادة اجتماعيات الخاصة بـ الفصل الثاني اضغط هنا

<https://almanahj.com/bh/8social2>

* لتحميل كتب جميع المواد في جميع الفصول للـ الصف الثامن اضغط هنا

<https://almanahj.com/bh/grade8>

للتحدث إلى بوت على تلغرام: اضغط هنا

https://t.me/omcourse_bot

الرقم السري

مملكة البحرين

وزارة التربية والتعليم

إدارة الامتحانات / قسم الامتحانات

امتحان نهاية الفصل الدراسي الثاني للعام الدراسي 2015/2014م
الصف الثاني الإعدادي

الزمن : ساعتان

المادة : المواد الاجتماعية والتربية للمواطنة

الدرجة المعطاة بالأرقام والحروف:

السؤال	الدرجة بالأرقام	الدرجة بالحروف	إمضاء المصححين
الأول			
الثاني			
الثالث			
الرابع			
الخامس			
السادس			
السابع			
الثامن			
التاسع			
العاشر			
المجموع			



جمعه : -----

راجع الجمع : -----

توقيع المراجع : -----

بطاقة بيانات



مملكة البحرين

وزارة التربية والتعليم

إدارة الامتحانات / قسم الامتحانات

الرقم السري

امتحان نهاية الفصل الدراسي الثاني للعام الدراسي 2015/2014م

المدرسة : _____

اسم الطالب : _____ رقم الجلوس : _____

المادة : المواد الاجتماعية والتربية للمواطنة (الصف / الثاني الإعدادي) التاريخ : _____

مملكة البحرين

وزارة التربية والتعليم

إدارة الامتحانات / قسم الامتحانات

امتحان نهاية الفصل الدراسي الثاني للعام الدراسي 2015/2014م

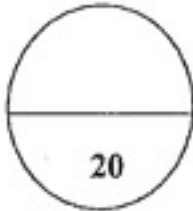
للمصف الثاني الإعدادي

الزمن : ساعتان

المادة : المواد الاجتماعية (التاريخ والتربية للمواطنة)

القسم الأول: التاريخ (75 علامة)

السؤال الأول :



أولاً- ضع دائرة حول الحرف الدال على الإجابة الصحيحة من بين البدائل الآتية:

1- ترجع أصول المغول إلى :

أ- تركيا

ب- فارس

ج- الصين

د- الهند

2- القائد الأيوبي الذي حقق الوحدة لمصر وسوريا:

أ- أسد الدين شير كوه

ب- نور الدين محمود

ج- صلاح الدين

د- عماد الدين زنكي

3- الحروب الصليبية جاءت استجابة للنداء الصائر سنة 1095م في مؤتمر:

أ- جنوى

ب- كليرمونت

ج- باريس

د- بيانزا

4- انتهى الوجود الصليبي في الشرق عام 1291م بعد سقوط آخر حصونهم على يد:

أ- الأيوبيون

ب- العثمانيين

ج- المغول

د- المماليك

5- سيطر العثمانيين على مصر سنة 1517م بعد انتصارهم في معركة:

أ- نيكوبوليس

ب- مرج الصفر

ج- قوصوة

د- الريدانية

6- حاول السلطان العثماني بايزيد الأول احتلال القسطنطينية سنة 1402م إلا أنه تراجع عنها بسبب:

أ- صد هجوم المغول في الشرق

ب- مناعتها البحرية

ج- تحالف ملوك فرنسا والمجر ضده

د- خطر الصوفيين في بلاد فارس

7- ارتكز الاقتصاد العثماني على موردين أساسيين هما:

- أ- الصناعة والحرف
ب- الزراعة والتجارة
ج- التجارة والصناعة
د- الصناعة والزراعة

8- برزت الحركة الوهابية في العهد العثماني في نجد عام 1740م وتبناها الأمير:

- أ- محمد بن عبد الوهاب
ب- تركي بن سعود
ج- فيصل بن سعود
د- محمد بن سعود

9- الدولة التي حكمت البحرين في القرن 14م وتميزت بعلاقتها الودية مع المماليك:

- أ- العصفوريين
ب- العيونيين
ج- الطيبين
د- القرامطة

10- تولى آل خليفة حكم البحرين في أواخر القرن 18م وهم من قبائل:

- أ- الجبور
ب- عبد القيس
ج- العتوب
د- بكر بن وائل

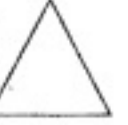
ثانيًا- صحح ما تحته خط في كل عبارة من العبارات الآتية واكتب الإجابة الصحيحة في السطر الذي يليها :
(1) القائد المغولي الذي دمر بغداد للمرة الثانية سنة 1401م جنكيزخان.

(2) المؤسس الفعلي للدولة العثمانية أوروخان بن عثمان.

(3) استطاعت دولة العيونيين من القضاء على دولة الطيبين في البحرين.

(4) الولايات التي شكلت الجزء الأكبر من الإمبراطورية العثمانية هي الأوروبية.

(5) اعتمد القرامطة في البحرين نظام حكم يقوم على مجلس يتكون من 4 أعضاء.



1- تراجع جيوش المسلمين أمام الغزو الصليبي في بلاد الشام والعالم الإسلامي.

.....
.....

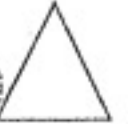
2- فشل الحملة العثمانية في الاستيلاء على فيينا عاصمة النمسا.

.....
.....

3- رفض أهل البحرين لحكم القرامطة .

.....
.....

ثانياً- ما النتائج المترتبة على الأحداث التاريخية الآتية :



1- الاجتياح المغولي لبغداد سنة 656 هـ - 1258 م .

.....
.....

2- فتح القسطنطينية عام 1451 م .

.....
.....
.....

3- الضعف والفساد في الإدارة العثمانية في القرن 18 م .

.....
.....

4- الحروب الصليبية.

.....
.....

السؤال الثالث:

أولاً- اختر من العمود (ب) أسماء الشخصيات التاريخية المناسبة للمنجزات والأعمال الميينة في

العمود (أ) ثم اكتب الحرف الدال على الإجابة الصحيحة في المكان المخصص له في الجدول أدناه:

16

العمود (أ) المنجزات والأعمال	الإجابة	العمود (ب) الشخصية
القائد المغولي الذي اعتنق الإسلام	()	أ) نور الدين محمود
المؤسس الفعلي لدولة المماليك	()	ب) محمد علي باشا
مؤسس فرقة الإنكشارية في الجيش العثماني	()	ج) محمود غازان
تصدى للحملة الصليبية الثانية وأجبرها على الانسحاب	()	د) السلطان قطز
والي مصر الذي تمكن من القضاء على الحركة الوهابية في نجد والإحساء	()	هـ) الأشرف خليل
		و) أروخان بن عثمان

ثانياً- صنف نتائج المعارك الآتية حسب ما هو مطلوب في الجدول أدناه :

انتصار السلطان العثماني مراد الأول - وضع حدًا للاجتياح المغولي الكاسح - هزيمة المماليك -

احتلال صوفيا ومسالونيك - استيلاء العثمانيين على بلاد الشام - اقتناع المسلمين بشرعية دولة المماليك.

النتائج	المعركة
.....*	معركة مارتييز
.....*	1363م
.....*	معركة عين جالوت 658هـ -
.....*	1260 م
.....*	معركة مرج دابق
.....*	1516م

السؤال الرابع :

أولاً - في ضوء دراستك لموضوع ((الأيوبيون يتصدون للغزو الصليبي)) ومستعيناً بالنص الذي أمامك أجب عن الأسئلة الآتية:

20

اكتشف الصليبيون أن صلاح الدين استغل ستر الليل ليضرب نطاقاً حولهم، وبدأ صلاح الدين هجومه المكاسح، وعلت سيوف جنوده في الصليبيين الذين احتموا بجبل حطين (...) حتى بقي منهم ملك بيت المقدس ومعه مائة وخمسون من الفرسان، فسبق إلى خيمة صلاح الدين (...) الذي استقبلهم أحسن استقبال، وأمر لهم بالماء، وكان العفو الذي أبداه صلاح الدين سبباً لتزيين تاريخ صلاح الدين في الغرب وتطري شهامته غير العادية. لم تكن هزيمة الصليبيين في حطين هزيمة طبيعية، وإنما كانت كارثة حلت بهم؛ حيث فقدوا زهرة فرسانهم، وقُتل منهم أعداد هائلة، ووقع في الأسر مثلها. رغبت فلسطين عقب حطين في متناول قبضة صلاح الدين، فشرع يفتح البلاد والمدن والثغور الصليبية واحدة بعد الأخرى، حتى توج جهوده بتحرير بيت المقدس (...). بتصرف، مقتبس من أحمد تمام، معركة حطين الفاصلة

1) ضع عنواناً مناسباً للنص.

.....*

2) ما اسم المعركة التي يتحدث عنها النص؟

.....*

3) وضح نتائج هذه المعركة؟

.....*

.....*

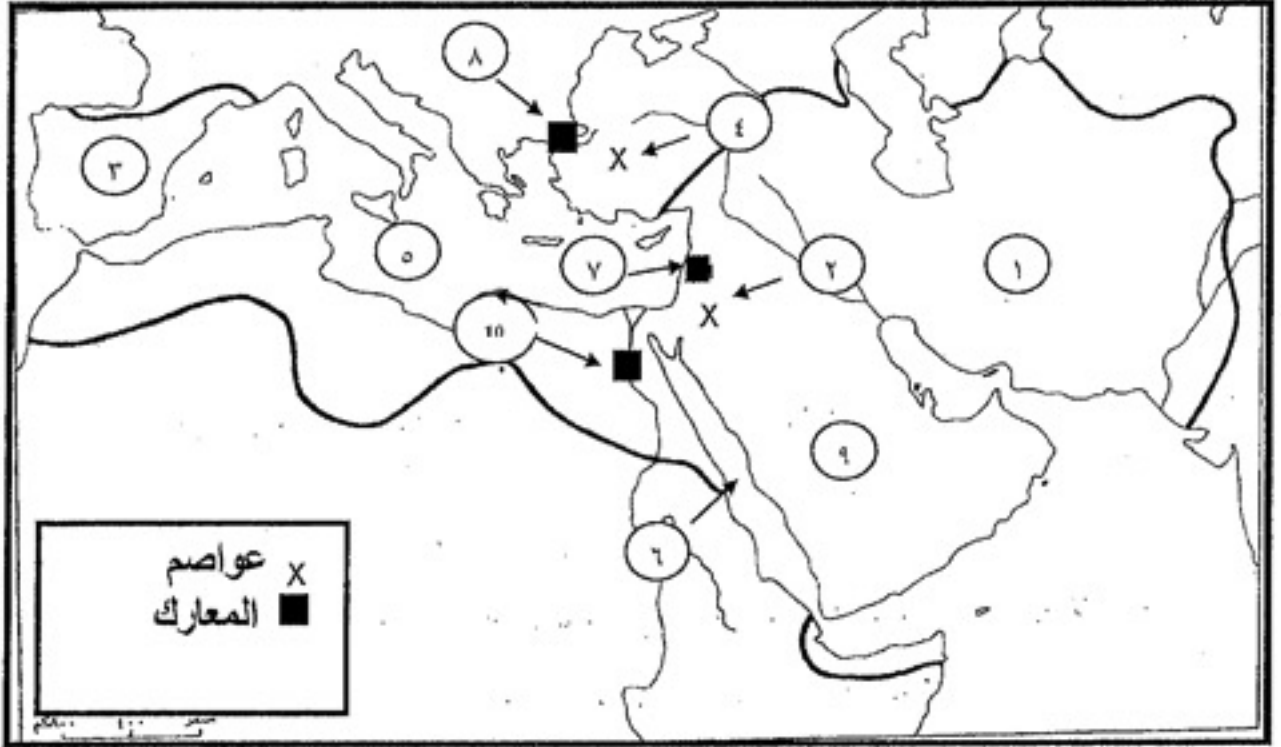
3) ما الحدث الذي زين تاريخ صلاح الدين الأيوبي في الغرب؟

.....*

4) ما رأيك في الدور الذي قام به صلاح الدين الأيوبي في هذه المعركة؟

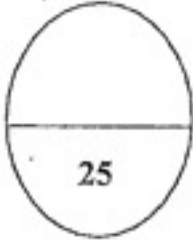
.....*

ثانياً - أمامك خارطة صماء تمثل الدولة الإسلامية في العصر العباسي، أكتب أمام كل من المواقع الظواهر الجغرافية والأحداث التاريخية الواردة في الجدول الرقم الدال عليها ، وفقاً لموضع الأرقام المبينة على الخريطة .



الرقم	المواقع والأحداث التاريخية	الرقم	المواقع والأحداث التاريخية
(.....)	القاهرة	(.....)	شبه الجزيرة العربية
(.....)	البحر الأحمر (بحر القلزم)	(.....)	دمشق
(.....)	القسطنطينية	(.....)	البحر المتوسط (بحر الروم)
(.....)	إمارة أموية	(.....)	معركة عين جالوت
(.....)	خراسان	(.....)	معركة أنقرة

القسم الثاني : التربية للمواطنة (25 علامة)



المسألة الخامسة:

أولاً- ضع علامة (√) أمام العبارة الصحيحة وعلامة (×) أمام العبارات الخاطئة:

- 1- أول مدرسة نظامية للبنات في البحرين خديجة الكبرى ()
- 2- تغير مسمى (مديرية التربية والتعليم) إلى (وزارة التربية والتعليم) بعد استقلال مملكة البحرين عام 1971م ()
- 3- تقدم المنظمات الحكومية في وزارة التنمية الاجتماعية مختلف الخدمات لرعاية الأسر المحتاجة ()
- 4- ترجع نشأة القانون إلى الإمبراطور الروماني قسطنطين الأول ()
- 5- أولت القيادة الحكيمة العنصر البشري موقع الصدارة في التنمية البشرية باعتباره الثروة الحقيقية للوطن ()

ثانياً- أكتب ثلاثة من:-

1- المشاريع التطويرية لوزارة التربية والتعليم في مملكة البحرين.

-
-
-

2- الخدمات التي تقدمها وزارة التنمية الاجتماعية في مملكة البحرين.

-
-
-

3- وظائف القانون في حياتنا .

-
-
-

ثالثاً- صنف مهام القضاء في البحرين حسب الجدول الذي أمامك:-

القضاء في الأحوال الشخصية للمسلمين - الفصل في القضايا التجارية والمدنية والجنائية - الطعن في الأحكام الصادرة.

القضاء	المهام
المحكمة المدنية*
المحكمة الشرعية*
المحكمة التمييز أو الاستئناف*

رابعاً- في ضوء دراستك لموضوع ((التنمية الاقتصادية في مملكة البحرين)) ومستعيناً بالنص الذي أمامك أجب عن الأسئلة الآتية:

رؤية البحرين المستقبلية 2030م

أطلقت السلطات البحرينية حديثاً رؤية اقتصادية طموحة تمتد لعام 2030 تهدف الرؤية إلى جعل الاقتصاد متميزاً على المستوى العالمي عبر التركيز على بعض القطاعات مثل الخدمات المالية فضلاً عن الصناعة والسياحة وخدمات الأعمال، ترى الرؤية وجود الحاجة إلى تنفيذ إصلاحات اقتصادية متكاملة بالنظر للتطورات المحلية والإقليمية والدولية (...).

تعتمد الرؤية الاقتصادية للبحرين على ثلاثة مبادئ رئيسية وهي الاستدامة والتنافسية والعدالة. تؤكد الرؤية ضرورة الاستثمار في رأس المال البشري والتعليم والتدريب لضمان استدامة أو استمرارية المشاريع الاقتصادية (...)

وقد تقدمت البحرين ست مراتب في غضون سنة واحدة ما يعكس وجود تقدير عالمي للسياسات الاقتصادية (...)

1- ما الفكرة الأساسية للنص السابق ؟

.....*

2- ما الهدف الأساسي لرؤية البحرين المستقبلية للعام 2030؟

.....*

3- ما هي المبادئ الأساسية التي تقوم عليها رؤية البحرين عام 2030 ؟

.....*

.....*

.....*

4- برأيك هل استطاعت البحرين من تحقيق بعض من طموحاتها المتوقعة لها في العام 2030؟

.....*

5- واجهت البحرين كثير من الانتقادات حول نجاح خططها للعام 2030 ومدى فاعليتها للمجتمع وللمواطن

البحريني ، دلل بأسلوبك عن مدى النجاح من خلال مشاهداتك لواقع المجتمع البحريني.

.....*

انتهت الأسئلة مع تمنياتنا للجميع بالنجاح والتوفيق