

تم تحميل هذا الملف من موقع المناهج البحرينية



* للحصول على أوراق عمل لجميع الصفوف وجميع المواد اضغط هنا

<https://almanahj.com/bh>

* للحصول على أوراق عمل لجميع مواد الصف التاسع اضغط هنا

<https://almanahj.com/bh/9>

* للحصول على جميع أوراق الصف التاسع في مادة اجتماعيات ولجميع الفصول, اضغط هنا

<https://almanahj.com/bh/9social>

* للحصول على أوراق عمل لجميع مواد الصف التاسع في مادة اجتماعيات الخاصة بـ الفصل الأول اضغط هنا

<https://almanahj.com/bh/9social1>

* لتحميل كتب جميع المواد في جميع الفصول للـ الصف التاسع اضغط هنا

<https://almanahj.com/bh/grade9>

* لتحميل جميع ملفات المدرس حسين علي أحمد اضغط هنا

[almanahjbhbot/me.t//:https](https://t.me/almanahjbhbot)

للتحدث إلى بوت على تلغرام: اضغط هنا

مملكة البحرين
وزارة التربية والتعليم
مدرسة عالي الاعدادي للبنين
قسم المواد الاجتماعية

نماذج

انشطة علاجية للنصف الثاني من الفصل الدراسي الاول

الصف الثالث الاعدادي

المواد الاجتماعية

العام الدراسي ٢٠١٣-٢٠١٤



أولاً: أسئلة في (دروس جغرافية البحرين)

السؤال الأول- أكمل الفراغات الآتية بما يناسبها :

- ١- السلعة التي تحتل المرتبة الأولى في صادرات البحرين هي [النفط] .
- ٢- تستورد البحرين السلع النفطية من [السعودية] .
- ٣- تستورد البحرين معظم السلع الغير نفطية من [الدول الآسيوية وأوروبا الغربية والولايات المتحدة] .
- ٤- الجهاز الذي يشرف على تنظيم القطاع المصرفي ومراقبته في مملكة البحرين [مؤسسة نقد البحرين] .
- ٥- تتوجه معظم صادرات البحرين إلى مجموعة الدول [الآسيوية] .
- ٦- من صادرات البحرين [النفط والألمنيوم والحديد والملابس]
- ٧- القطاع الذي يشكل دعامة الاقتصاد البحريني لكونه ممولاً لجميع المشاريع الإنمائية هو [القطاع المصرفي] .
- ٨- أدى تطور قطاع السياحة في البحرين إلى تنشيط وتمية قطاعات اقتصادية أخرى أهمها: [الفنادق] و [النقل والاتصال] و [التجارة] .
- ٩- تدنت نسبة النفط من إجمالي الصادرات في البحرين بسبب [إتباع سياسة تنويع مصادر الدخل وعدم الاعتماد على النفط فقط] .
- ١٠- تنحصر أراضي الصالحة للزراعة بالبحرين بشرط يمتد من [المنامة] شمالاً حتى [الزقاق] غرباً .
- ١١- كانت البحرين قديماً تعتمد في تجارتها على ميناء [المنامة] .
- ١٢- تصدر البحرين خلال أشهر الصيف بعض الأنواع من الأسماك خصوصاً إلى [المملكة العربية السعودية] .
- ١٣- يركز قطاع الصناعة التحويلية في مملكة البحرين على الصناعات [التصديرية] .
- ١٤- أنشئت البحرين ميناء سترة لتصدير [النفط] .
- ١٥- أنشئت البحرين ميناء ألبا [لاستيراد الأمونيا وتصدير منتجات الألمنيوم] .
- ١٦- تستورد مملكة البحرين خلال أشهر الشتاء بعض الأنواع من الأسماك خصوصاً من دولتي [الإمارات وعمان] .
- ١٧- الطرق التي تربط بين المدن أو تحيط بها كشارع الشيخ عيسى بن سلمان تسمى الطرق [السريعة] .
- ١٨- الطرق المتفرعة من الشوارع إلى داخل الأحياء السكنية والتجارية تسمى الطرق [الداخلية الفرعية الخدمية] .
- ١٩- من نتائج وانعكاسات تطور القطاع المصرفي على الاقتصاد البحريني [تقديم قروض لقطاعات اقتصادية أخرى + توفير فرص عمل] .
- ٢٠- زادت أهمية البحرين التجارية بسبب [خططها للنهوض بالاقتصاد + إتباعها سياسة الحرية الاقتصادية والانفتاح على الخارج] .
- ٢١- مركز الصناعات اليدوية في البحرين من المعطيات السياحية [الحضارية الحديثة] ، وبيت الجسرة من المعطيات السياحية [التاريخية] .
- ٢٢- المشاريع النموذجية في البحرين مشروع هورة عالي والبحير ومشروع عذارى وبوري لإنتاج [الأعلاف والفواكه] ، ومشروع الهمة لتربية [الأغنام والماعز] .
- ٢٤- استقادت البحرين في ري الأراضي الزراعية من المياه المعالجة في محطة [تويلى] .
- ٢٣- تسمى الطرق البرية التي تربط الجزيرة الأم بالمدن المجاورة بالطرق [الخارجية أو الإقليمية] .
- ٢٤- من واردات البحرين [النفط والمواد الغذائية والسلع الرأسمالية ومعدات النقل] .
- ٢٥- السياسة التي اتبعتها مملكة البحرين لتشجيع المستثمرين للعمل هي سياسة [الحرية الاقتصادية] .
- ٢٦- تدعم مملكة البحرين القطاع السمكي بقصد [سد حاجة السوق المحلية] .
- ٢٧- المعطيات التي تعكس مدى التطور والتقدم الذي بلغته مملكة البحرين هي المعطيات [الحضارية الحديثة] .
- ٢٨- يربط جزيرة البحرين الأم بالحد جسر الشيخ [خليفة بن سلمان] .
- ٢٩- المعطيات التي تعكس الأهمية التاريخية للبحرين هي المعطيات [التاريخية] .
- ٣٠- يربط جزيرة البحرين الأم بستره جسر [ستره] .
- ٣١- مصارف تقدم أنواع الخدمات المصرفية ولكن على المستوى الخارجي أي خارج البحرين هي المصارف [الخارجية] .
- ٣٢- صناعة تهدف إلى إنتاج سلع معدة للاستهلاك الداخلي بغية التخفيف من استيراد السلع المثلية لها هي صناعة [إحلال الواردات] .
- ٣٣- يساهم القطاع السياحي داخل البحرين في تنشيط القطاع [الفندقي والنقل والاتصالات والتجارة] .
- ٣٤- المحرك الأساسي للنشاط الاقتصادي البحريني هو قطاع [النفط] .

السؤال الثاني: علل لما يأتي:

١- علل : تطور القطاع المصرفي في مملكة البحرين .

- (أ) الموقع الوسطي المتميز . (ج) التمتع بموقع زمني مناسب لأكبر البورصات العالمية . (ب) تطور الاتصالات والمواصلات . (د) توفر الأيدي العاملة الفنية المتخصصة . (هـ) الحرية الاقتصادية من حيث تسهيل عمليات التحويل الخارجي وعدم فرض ضرائب .

٢- علل : الفائض في الميزان التجاري في مملكة البحرين عام ٢٠٠١م .

- (أ) ارتفاع حجم وقيمة الصادرات غير النفطية . (ب) ارتفاع حجم وقيمة الصادرات النفطية . (ج) انخفاض حجم الواردات النفطية .

٣- علل : يعاني القطاع السمكي في مملكة البحرين من عدة مشاكل .

- (أ) قلة مصانع الثلج والبرادات لحفظ الأسماك . (ب) الحاجة إلى أرصفة لاستقبال مراكب الصيد . (ج) تلوث البحر . (د) الحاجة إلى مراكز تدريب للصيادين . (هـ) قلة الأيدي العاملة الوطنية . (و) عمليات الحفر والردم بالسواحل .



٨- ما النتائج المترتبة على تطور القطاع السياحي في مملكة البحرين .

(أ) ازدياد عدد السياح . (ب) تنمية قطاعات أخرى كالقطاع الفندقي وقطاع النقل والتجارة . (ج) الإسهام في الناتج المحلي الإجمالي .

٩- بما تمثل التطور الذي شهدته التجارة الخارجية في مملكة البحرين؟

(أ) ارتفاع قيمة التبادل التجاري . (ب) ازدياد أهمية القطاع التجاري . (ج) ارتفاع نسبة إسهامه في الناتج المحلي الإجمالي .

١٠- ما النتائج المترتبة على الحوافز التي قدمتها حكومة البحرين لتنمية القطاع الصناعي؟

(أ) زيادة الاستثمار المحلي والأجنبي في القطاع الصناعي . (ب) تنويع القاعدة الإنتاجية للاقتصاد الوطني . (ج) توفير فرص عمل .

١١- وضح التطورات في مجال الاتصالات السلكية واللاسلكية في مملكة البحرين .

(أ) تعتبر البحرين رائدة في استخدام نظم الاتصال السلكي واللاسلكي المتطورة . (ب) تم إدخال نظم اتصال متطورة كالنقل والإنترنت . (ج) تعمل الاتصالات من خلال الأقمار الاصطناعية . (د) تعمل جميع البدالات بالنظام الرقمي . (هـ) إصدار جرائد ومجلات .

١٢- وضح باختصار التطورات في مجال المواصلات البرية والبحرية والجوية في مملكة البحرين .

& التطور في الطرق البرية : * أنشأت شبكة متطورة و متميزة بمواصفاتها العالية ، وتضم مجموعتين من الطرق :
(أ) مجموعة الطرق الداخلية : وهي تنقسم إلى [الطرق الداخلية الفرعية (الخدمية) + الطرق الداخلية الرئيسية + الطرق السريعة] .
(ب) مجموعة الطرق الخارجية أو الإقليمية: وهي تربط الجزيرة الأم بالمدن المجاورة عبر خمسة جسور كجسر الشيخ حمد و سترة .
& التطور في المواصلات البحرية : (أ) كانت البحرين قديماً تعتمد في التجارة على ميناء المنامة الصغير .
(ب) تم بناء ميناء سلمان عام ١٩٥٨م وتوسعته، وتأهيل العاملين فيه، وتطويره بأحدث الوسائل وإقامة منطقة صناعية حرة حوله يسمح للأجانب بإنشاء المصانع فيها . (ج) يوجد موانئ أخرى مثل ميناء سترة لتصدير النفط، وميناء ألبا، وميناء خليفة بن سلمان .
& التطور في المواصلات الجوية : (أ) شكل المطار محطة عبور ثم زادت أهميته بعد النفط والنهضة الاقتصادية في نقل الركاب .
(ب) تم توسيع المطار وتجهيزه بأحدث المعدات . (ج) تمتلك البحرين وعمان والإمارات شركة طيران الخليج .

١٣- علام اعتمدت حكومة البحرين في تنفيذ سياسة تنويع مصادر دخلها؟

توظيف إيراداتها النفطية في تنفيذ الخطط والبرامج التنموية الاقتصادية والبشرية الشاملة .

١٤- ما التدابير التي اتخذتها البحرين على صعيد البنية التحتية لإنجاح خطتها التنموية؟

(أ) أنشأت المناطق الصناعية . (ب) مدت شبكات المياه والكهرباء والمجاري إلى مختلف مناطق البلاد .
(ج) تحديث شبكة الاتصالات السلكية واللاسلكية . (د) طورت شبكة المواصلات البرية والجوية .
(و) تحسين جميع الخدمات وتطويرها لاسيما الخدمات الصحية والتعليمية والإسكانية .

١٥- في ما تمثلت سياسة الحرية الاقتصادية التي تتبعها البحرين؟

(أ) إصدار مجموعة من القوانين التي شجعت المستثمرين على العمل في البحرين ومنها :
١- إعطاء الحرية في إدخال رؤوس الأموال وإخراجها .
٢- السماح للأجانب بامتلاك جميع أسهم الشركات التي يؤسسونها في البحرين من دون حاجة إلى شريك بحريني .
٣- إعفاء الشركات الصناعية والمؤسسات المصرفية من الضرائب لفترة زمنية محددة بعد التأسيس .
(ب) التسهيلات تقدمها الدوائر الحكومية لاستصدار تراخيص التأسيس لمختلف الشركات .

١٦- ما النتائج التي ترتبت على سياسة الحرية الاقتصادية التي اتبعتها حكومة البحرين؟

(أ) توسيع قاعدة الاقتصاد البحريني وتنوعه . (ب) ارتفاع نسبة إسهام القطاعات الاقتصادية الأخرى خاصة قطاع الصناعة التحويلية والخدمات في الناتج المحلي الإجمالي

السؤال الرابع :- قارن بين الصناعات التصديرية وصناعة إحلال الواردات في مملكة البحرين .

وجه المقارنة	الصناعات التصديرية	صناعة إحلال الواردات
بعض أنواعها	تكرير النفط + بتروكيماويات + تسيليل الغاز + ألمنيوم + مكيفات هوائية + سخانات + مطابخ + كريات الحديد... الخ	مواد غذائية + أدوية + مشروبات غازية + مياه معدنية + الزجاج + مواد بناء + ورق... الخ
مميزاتها	(أ) كثرة رؤوس أموالها . (ب) كثرة العمال فيها . (ج) كثرة إنتاجها، ومعظم منتجاتها من المواد الأولى والوسيلة (د) يمتلكها القطاع العام (الحكومي) أو حكومات وشركات أجنبية	(أ) قلة رؤوس أموالها . (ب) قلة العمال فيها . (ج) قلة إنتاجها الذي يستهلك محلياً بشكل مباشر . (د) يمتلكها القطاع الخاص (الأفراد) .
مشاكلها	(أ) المنافسة الشديدة من قبل شركات إقليمية أو عالمية . (ب) البعد عن الأسواق المستهلكة مما يزيد من التكاليف . (ج) تقلبات الأسعار في الأسواق العالمية . (د) التكاليف المرتفعة للمواد الأولية المستوردة . (هـ) فرض بعض الدول رسوم جمركية مرتفعة على وارداتها منها	(أ) الاعتماد على الخارج في تأمين آلات المصانع وموادها الأولية . (ب) قلة تنوعها في السوق الداخلية . (ج) التنافس بين المنتجات الوطنية المتشابهة وبينها وبين المنتجات المستوردة .

ثانياً: أسئلة في (دروس خاتمة أوروبا)



السؤال الأول :- أكمل الفراغات الآتية بما يناسبها :

- ١- نشأت الجبال الحديثة التكوين في أوروبا بسبب [اصطدام الكتلة الأفريقية بالكتلة الآسيوية الأوروبية] .
- ٢- انخفضت نسبة الوفيات في أوروبا بسبب [تحسن المعيشة وتقدم الطب]
- ٣- القارة الوحيدة التي لا يوجد فيها صحاري هي [أوروبا] بسبب [بعدها عن المناطق المدارية] .
- ٤- من أشهر مناطق السياحة الجبلية بالعالم منطقة جبال [الألب]
- ٥- تلتقي أوروبا من جهة الشرق بقارة [آسيا] بمحاذاة جبال [اورال] .
- ٦- تؤثر السياحة سلبياً على البيئة لما يسببه السياح من [حرائق وتلوث وعمران فوضوي يشوه جمال الطبيعة] .
- ٧- تحتل أوروبا من حيث عدد السكان بين قارات العالم المرتبة [الثانية] بينما تحتل من حيث الكثافة السكانية المرتبة [الأولى] .
- ٨- تعاني أوروبا من انخفاض في ثقلها الديموغرافي في العالم بسبب [انخفاض نسبة الزيادة السكانية] .
- ٩- ترتفع نسبة المسنين في أوروبا بسبب [ارتفاع متوسط عمر الإنسان وقلة نسبة الولادات] .
- ١٠- من مشاكل القطاع الزراعي في أوروبا مشكلة [تخزين المنتجات الزراعية وتصريفها في الأسواق] .
- ١١- من مميزات الجبال الحديثة التكوين في أوروبا [شدة ارتفاعها + قممها مسننة + منحدراتها قوية + وعورة مسالكها + أوديتها عميقة]
- ١٢- أصبحت الجبال قديمة التكوين في أوروبا هضاباً مدببة القمم متوسطة الارتفاع بسبب [عوامل التعرية] .
- ١٣- تمتد الجبال حديثة التكوين في أطراف أوروبا [الجنوبية] بمحاذاة سواحل [البحر المتوسط] .
- ١٤- تمتد الجبال قديمة التكوين بأوروبا [الشمالية الغربية ووسطها] .
- ١٥- يتميز المناخ القاري بأوروبا بقساوته بسبب [بعده عن تأثيرات المحيط الأطلسي وتياراته]
- ١٦- يتميز المناخ المحيطي بلطافته في أوروبا بسبب [تأثيره بالرياح الغربية القادمة من المحيط الأطلسي، وكذلك تأثيره بتيار جولف ستريم الحار] .
- ١٧- تعتبر أوروبا القارة الوحيدة التي تغيب عنها الصحاري بسبب [بعدها عن المناطق المدارية] .
- ١٨- التيار البحري الذي يحد من تدني درجة حرارة السواحل الغربية لأوروبا شتاءً هو تيار [الخليج الدافئ (جولف ستريم)] .
- ١٩- من مؤشرات تطور الصناعة في أوروبا [وجود أربع دول أوروبية أعضاء في مجموعة الدول السبع الأكثر تصنيعاً في العالم]
- ٢٠- تؤثر السياحة بشكل سلبي على البيئة لما تسببه السياح من [حرائق وتلوث وعمران فوضوي يشوه جمال الطبيعة] .
- ٢١- ترتفع الكثافة السكانية في قارة أوروبا في مناطق [الزراعة الحديثة المتخصصة والأماكن الصناعية] .
- ٢٢- تنخفض الكثافة السكانية في قارة أوروبا في مناطق [الجبال العالية ومناطق الغابات الشمالية] .

السؤال الثاني :- أجب عن الأسئلة التالية:

١- علل : تدني نسبة الزيادة السكانية الطبيعية في قارة أوروبا .

بسبب تدني نسبة الخصوبة و انخفاض الولادات وهذا بدوره انعكس على المجتمع الأوروبي ، وحكومات الدول الأوروبية، حيث أن بعض دول أوروبا لم يعد بإمكانها تجديد سكانها. (ب) فزادت نسبة المسنين مما أدى إلى تحمل أعباء إضافية لتأمين الخدمات لهم. (أ)

٢- علل : يعتبر موقع أوروبا وتنوعها الطبيعي ثروة سياحية .

* تحتل أوروبا المتوسطة المرتبة الأولى من حيث استقبال السياح الذين يأتون إليها للتمتع [بالشمس + دفء المياه + المناطق الأثرية] . * تعتبر جبال الألب أولى المناطق السياحية الجبلية في العالم حيث يأتيها السياح [لممارسة التزلج + التمتع بالمناظر الجميلة] .

٣- علل : تقدم القطاع الزراعي وتطوره في قارة أوروبا .

بسبب (أ) توافر السهول الخصبة (ب) توافر المياه . (ج) توافر المراعي. (د) استخدام التقنيات الحديثة (الزراعة الممكنة) .

٤- علل : تقدم القطاع الصناعي وتطوره في قارة أوروبا .

بسبب (أ) توافر الفحم الحجري والحديد . (ب) التقدم العلمي . (ج) استخدام الطاقة الكهربائية والنووية .

٥- أذكر الخصائص السكانية في قارة أوروبا .

أ- انخفاض نسبة الزيادة السكانية الطبيعية . ب- انخفاض نسبة الولادات . ج- انخفاض نسبة الوفيات . د- انخفاض نسبة الفتيان . هـ- ارتفاع نسبة المسنين . و- ارتفاع الكثافة السكانية .

٦- أذكر ما يدل على تداخل البر والبحر في قارة أوروبا وعدم تماسكها .

أ- كثرة أشباه الجزر فيها . ب- كثرة جزرها . ج- تخترقها بحار فرعية . د- شواطئها متعرجة تكثر فيها الرؤوس والخلجان .

السؤال الثالث :- قارن بين ما يلي :

موارد طبيعية غير متجددة في أوروبا	موارد طبيعية متجددة (لا تنفذ بالاستخدام) في أوروبا
الفحم الحجري + النفط + الحديد + الخ	١- التربة الزراعية . ٢- الغابات . ٣- الأنهار الصالحة للملاحة . ٤- وفرة المياه للطاقة الكهرومائية . ٥- المسطحات المائية الغنية بالسماك
الرصاص + اليورانيوم + البوكسيت .. الخ	

٤

مناطق ذات كثافة سكانية منخفضة في أوروبا

مناطق ذات كثافة سكانية مرتفعة في أوروبا

إعداد

أ.حسين علي أحمد

* هي المناطق التي يصعب على الإنسان استغلالها زراعياً مثل:-
 ١- الجبال العالية .
 ٢- الغابات الشمالية .
 ٣- مناطق الأرياف التي تشهد نزوحاً للمدن .

١- مناطق الزراعات الحديثة .
 ٢- المناطق الصناعية .
 ٣- المناطق الزراعية والصناعية في آن واحد .

أوجه المقارنة	الإقليم القطبي	الإقليم المعتدل القاري
المناطق التي يسودها	منطقة صغيرة في شمال أوروبا	مناطق أوروبا الوسطى والشرقية
المميزات المناخية	١- شتاؤه لا تنخفض فيه الحرارة عن [١٥-٢٥ تحت الصفر] لتأثره بتيار جولف ستريم . ٢- صيفه رطب وأكثر دفئاً من الشتاء	١- شتاؤه بارد وجاف وأمطاره ثلجية قليلة . ٢- صيفه يمتاز بشدة الحرارة وتساقط أمطار يرافقها عواصف رعدية . ٣- المدى الحراري السنوي مرتفع . ٤- يزداد هذا المناخ قساوة في المناطق الداخلية .
المميزات النهريّة	لا يوجد	عدم انتظام جريان الأنهار

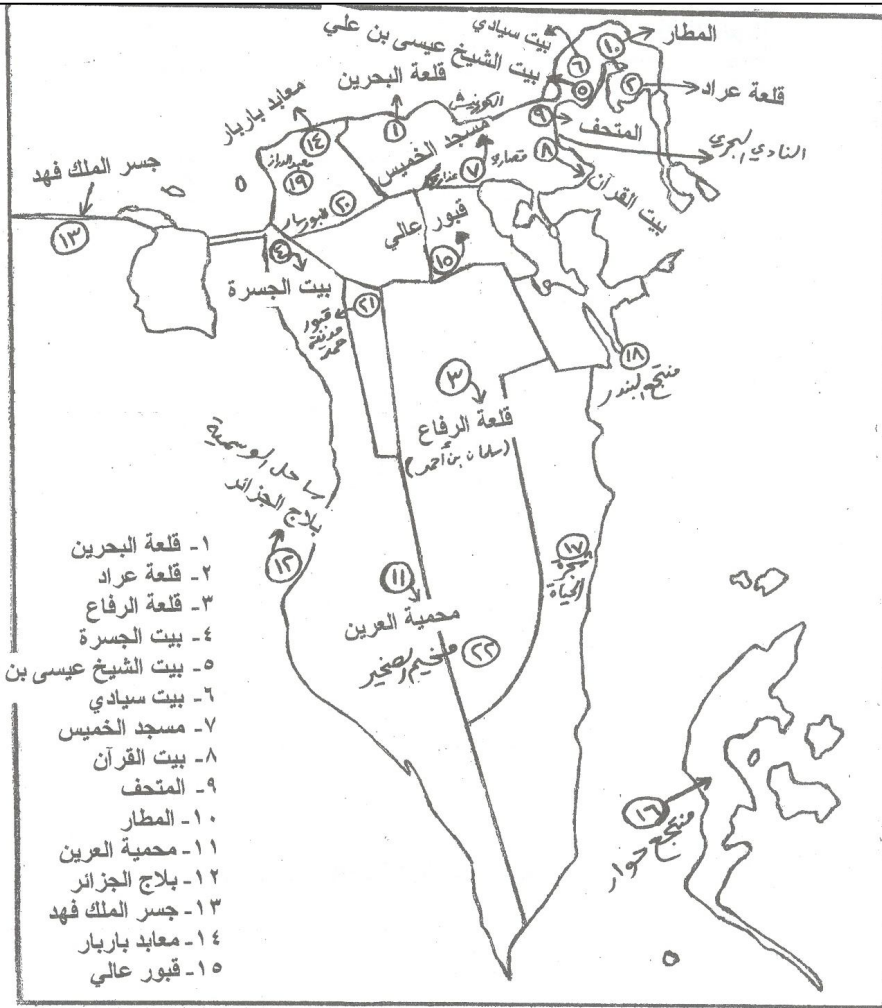
أوجه المقارنة	الإقليم المعتدل المحيطي	الإقليم المتوسطي
المناطق التي يسودها	الشريط الذي يطل على المحيط الأطلسي	مناطق جنوبي أوروبا على البحر المتوسط
المميزات المناخية	١- مناخه لطيف لتأثره بالمحيط الأطلسي وتيار الخليج الدافئ . ٢- تأثره بالرياح الغربية اللطيفة ٣- المدى الحراري السنوي صغير حيث أن حرارته تصل إلى ١٥ صيفاً و ٧ شتاءً .	١- حار جاف صيفاً دافئ ممطر شتاءً . ٢- قد تنخفض درجة الحرارة بسبب هبوب الرياح الشمالية القطبية الباردة .
فصل سقوط المطر	كل الفصول وخاصة الخريف والشتاء .	فصل الشتاء
المميزات النهريّة	انتظام جريانها وصالحه للملاحة طوال العام	عدم انتظام جريان الأنهار

ثالثاً: أسئلة في (دروس قارة أمريكا الشمالية والوسطى)

السؤال الأول : أكمل الفراغات الآتية بما يناسبها :

- ١- السكان الأصليون لقارة أمريكا الشمالية والوسطى هم [الهنود الحمر والإسكيمو] .
- ٢- تنخفض درجة الحرارة شتاءً في السواحل الشمالية الشرقية لأمريكا الشمالية بسبب [مرور تيار لابرادور] .
- ٣- تمتد جبال الأبلش في قارة أمريكا الشمالية في الجهة [الشرقية] .
- ٤- أعلى قمة جبلية بأمريكا الشمالية تسمى قمة جبل [ماك كينلي] .
- ٥- سلسلة جبلية قديمة التكوين في أمريكا الشمالية هي جبال [الأبلش] التي ترجع للزمن الجيولوجي [الثاني] .
- ٦- ترتفع الحرارة في السواحل الغربية لأمريكا وكندا بسبب [مرور تيار كوروشيفو الحار] .
- ٧- تطل أمريكا الشمالية من جهة الغرب على المحيط [الهادئ] ومن الشرق على المحيط [الأطلسي] .
- ٨- يسيطر على الأطراف الشمالية لقارة أمريكا الشمالية المناخ [القطبي] ، وفي المناطق الداخلية المناخ [المعتدل القاري] .
- ٩- تتنوع المناخات بأمريكا الشمالية وتندرج من القطبي للمداري بسبب [امتداد القارة من القطب الشمالي حتى خط الاستواء] .
- ١٠- تكثر البراكين والزلازل في الجبال الغربية بأمريكا الشمالية بسبب [اصطدام كتلة أمريكا بكتلة المحيط الهادئ] .
- ١١- البحيرات الخمس الكبرى من أكبر المسطحات المائية العذبة بقارة [أمريكا الشمالية] وتقع على الحدود [الكندية - الأمريكية] .
- ١٢- الجبال الغربية هي جبال حديثة التكوين في قارة [أمريكا الشمالية] تعود للزمن الجيولوجي [الثالث] .
- ١٣- تأتي قارة أمريكا الشمالية من بين قارات العالم من حيث المساحة في المرتبة [الثالثة] .
- ١٤- نشأت العديد من الخلجان والجزر والبحيرات في شمال أمريكا الشمالية بسبب [تأثير الموجات الجليدية في الزمن الرابع] .
- ١٥- يعود حوالي ٩٠% من مجمل سكان أمريكا الشمالية والوسطى إلى أصل [أوروبي] .
- ١٦- تشهد الولايات المتحدة الأمريكية انتقالاً سكانياً من مدن منطقة البحيرات والساحل الشرقي نحو مدن السواحل الجنوبية والغربية بسبب [تحسن الاقتصاد وتوافر فرص العمل] .
- ١٧- من الخصائص السكانية لدول قارة أمريكا الشمالية [تدنى نسبة الخصوبة والولادات] .
- ١٨- لم يندمج البيض والسود والسكان الأصليين في أمريكا الشمالية بسبب [ممارسة البيض التمييز العنصري ضد السود والسكان الأصليين] ، بينما نجد أن تلك الأعراق الثلاثة اندمجت في أمريكا [الوسطى] .
- ١٩- لاتزال الجبال الغربية بأمريكا الشمالية تتعرض للزلازل العنيفة بسبب [استمرار عملية تصادم الكتلة الأمريكية بكتلة المحيط الهادئ] .
- ٢٠- تندرج الأقاليم المناخية من البارد شمالاً إلى الحار جنوباً في قارة [أمريكا الشمالية] .
- ٢١- سمح انفتاح مناطق أمريكا الشمالية شمالاً بتغلغل الرياح [القطبية الباردة] شتاءً، بينما سمح انفتاحها جنوباً بتغلغل الرياح [المدارية الرطبة] صيفاً .
- ٢٢- تتسع السهول الساحلية الشرقية في أمريكا الشمالية عند [خليج المكسيك] وتضيق عند [الأطلسي] .

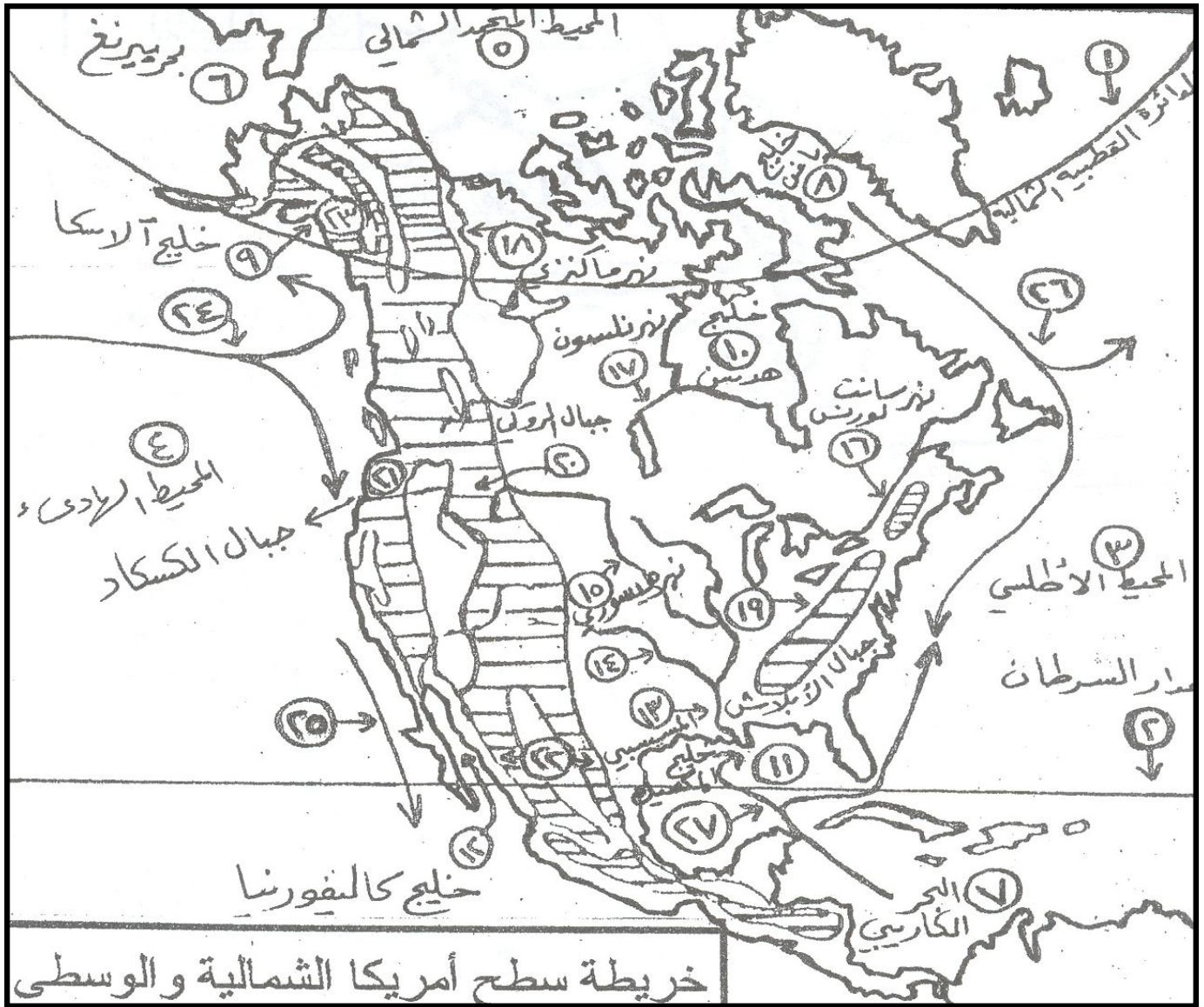




س ٤- أمامك خريطة صماء لدولة البحرين . . . حدد عليها ما يلي :-

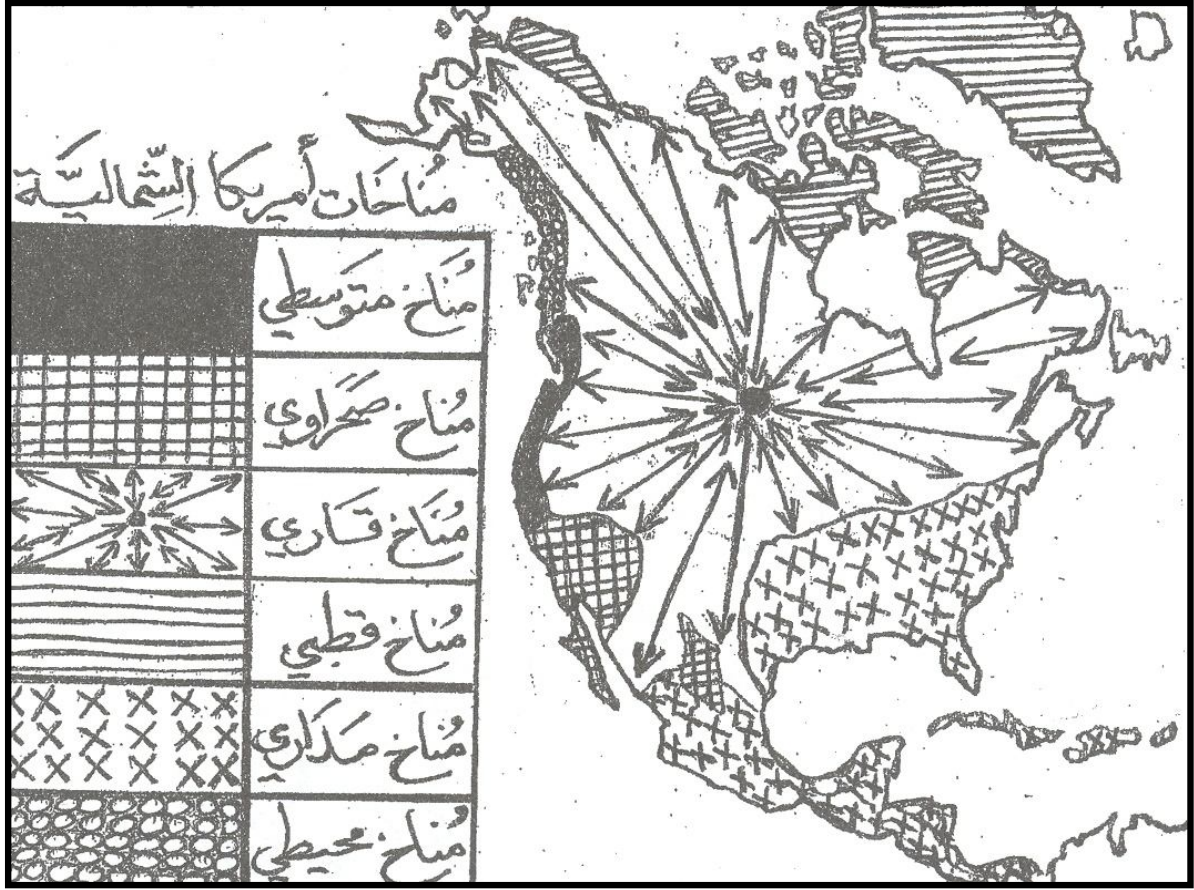
- أ- المناطق الصناعية .
- ب- مصانع وشركات: [الخوض الجاف (أسري) + بتروكيماويات + تكرير النفط + تسيل الغاز + ألبا + بلكسكو + باي + ميدال + جارمكو] .
- ج- مدن وقرى: [الديع + عوالي + عالي + جو + الزلاق + الدور + عسكر + سافرة + السنابس + الدراز + كراتنة + الجسرة + دمستان + أم الحصم] .



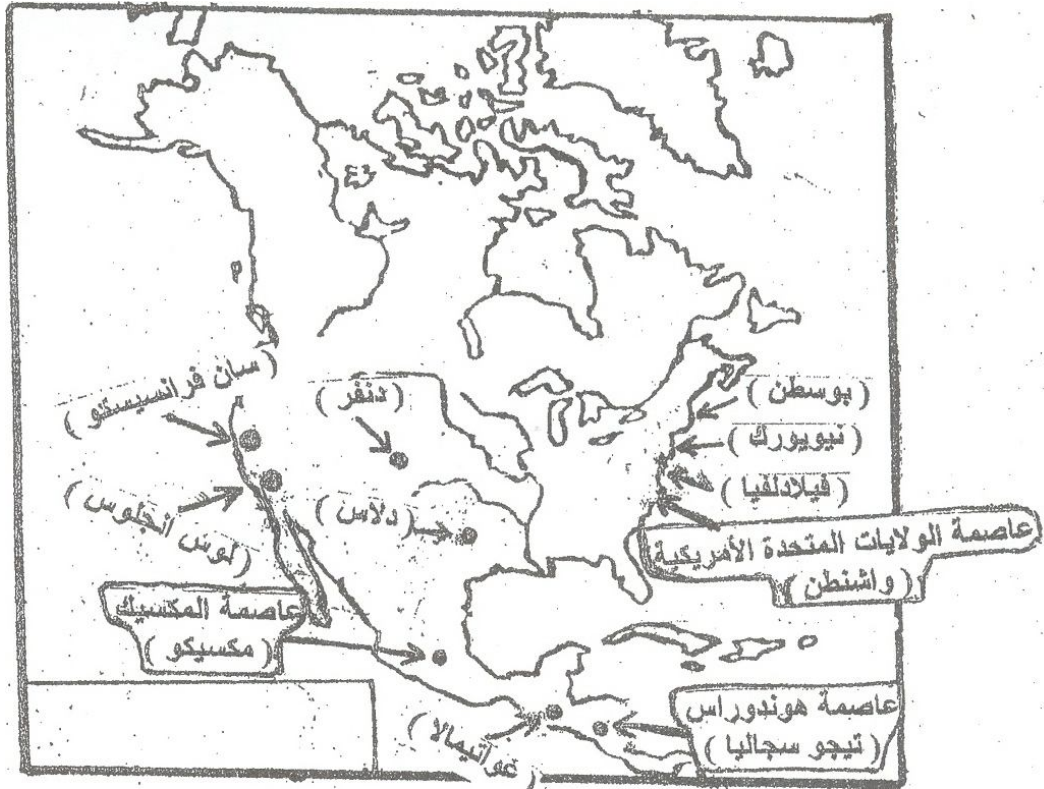


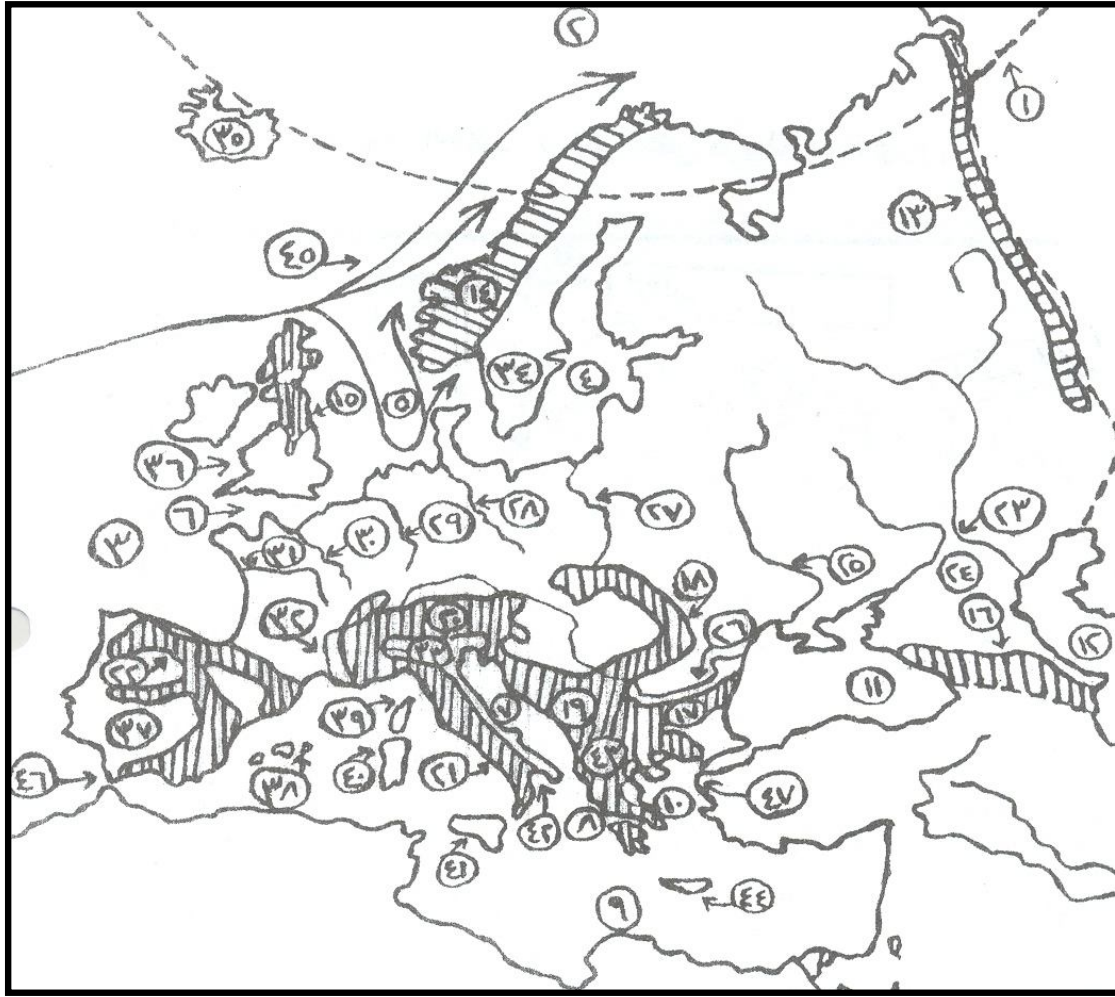
خريطة سطح أمريكا الشمالية والوسطى

نوع الظاهرة التضاريسية	الظاهرة الواردة على الخريطة
دوائر عرض	١- الدائرة القطبية الشمالية ٢- مدار السرطان
محيطات	٣- المحيط الأطلسي ٤- المحيط الهادي ٥- المحيط المتجمد الشمالي
بحار	٦- بحر بيرنج ٧- البحر الكاريبي
خلجان	٨- خليج بافن ٩- خليج آلاسكا ١٠- خليج هدسن ١١- خليج المكسيك ١٢- كاليفورنيا
أنهار	١٣- نهر الميسيسيبي ١٤- نهر أركنساس ١٥- نهر ميسوري ١٦- نهر سانت لورنس ١٧- نهر نلسون ١٨- نهر ماكنزي
جبال	١٩- جبال الأبلاتش ٢٠- جبال الروكي ٢١- جبال الكسكاد ٢٢- سييراماديرا ٢٣- آلاسكا
تيارات بحرية	٢٤- كوروشيفو الحار ٢٥- كاليفورنيا البارد ٢٦- لابرادور البارد ٢٧- غولف ستريم الحار

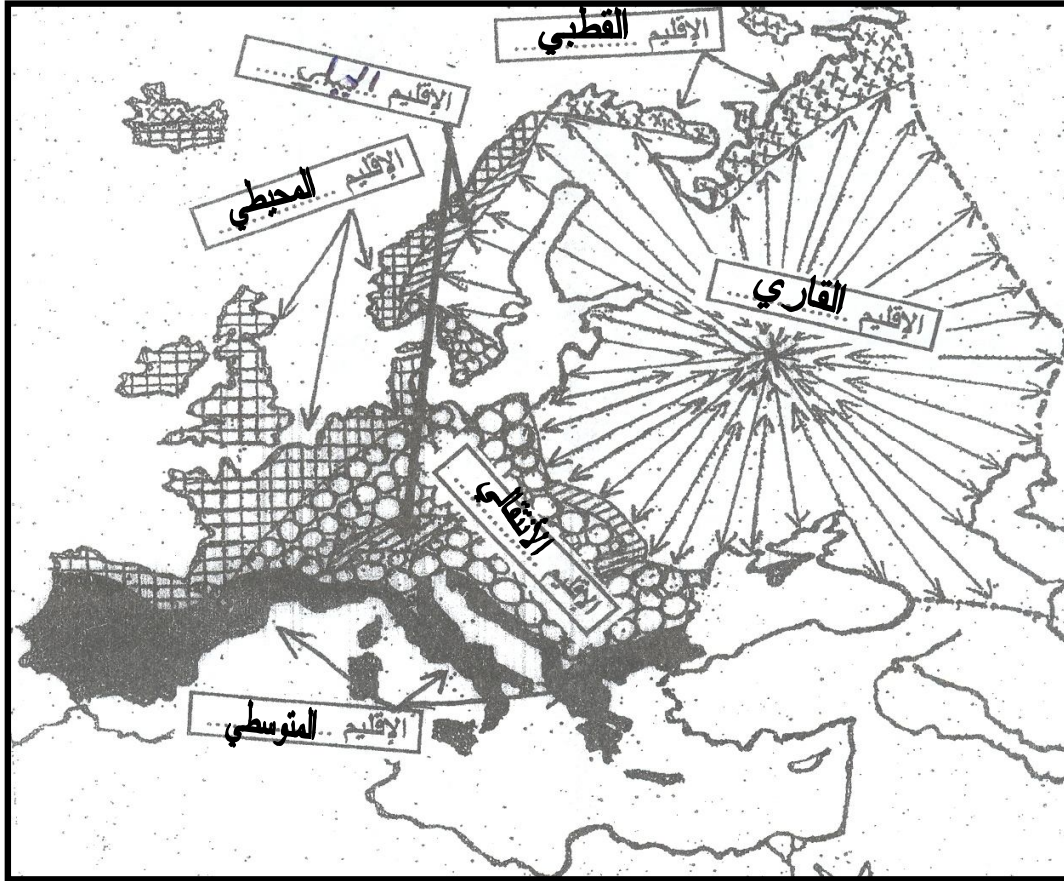


س- حدّد أهم المدن والعواصم على خريطة قارة [أمريكا الشمالية والوسطى] .





نوع الظاهرة التضاريسية	الظاهرة الواردة على الخريطة
دوائر عرض	١- <u>الدائرة القطبية الشمالية</u>
المحيطات	٢- <u>المحيط المتجمد الشمالي</u> ٣- <u>المحيط الأطلسي</u>
البحار	٤- <u>بحر البلطيق</u> ٥- <u>بحر الشمال</u> ٦- <u>بحر المانش</u> ٧- <u>البحر الأدرياتيكي</u> ٨- <u>البحر الأيوني</u> ٩- <u>البحر المتوسط</u> ١٠- <u>بحر إيجه</u> ١١- <u>البحر الأسود</u> ١٢- <u>بحر قزوين</u>
الجبال	١٣- <u>جبال الأورال</u> ١٤- <u>جبال الألب الاسكندنافية</u> ١٥- <u>جبال بنالين</u> ١٦- <u>جبال القوقاز</u> ١٧- <u>جبال البلقان</u> ١٨- <u>جبال الكربات</u> ١٩- <u>جبال الألب الدينارية</u> ٢٠- <u>جبال الألب</u> ٢١- <u>جبال إبنين</u> ٢٢- <u>جبال كانتبريان</u>
الأنهار	٢٣- <u>نهر الفولغا</u> ٢٤- <u>نهر الدون</u> ٢٥- <u>نهر الدنيبر</u> ٢٦- <u>نهر الدانوب</u> ٢٧- <u>نهر الفيستول</u> ٢٨- <u>نهر الألب</u> ٢٩- <u>نهر الراين</u> ٣٠- <u>نهر السين</u> ٣١- <u>نهر اللوار</u> ٣٢- <u>نهر الرون</u> ٣٣- <u>نهر البو</u>
الجزر وأشباه الجزر	٣٤- <u>شبه جزيرة اسكندنافية</u> ٣٥- <u>جزيرة آيسلندا</u> ٣٦- <u>الجزر البريطانية</u> ٣٧- <u>شبه جزيرة ايبيريا</u> ٣٨- <u>جزر البليار</u> ٣٩- <u>جزيرة كوروسيك</u> ٤٠- <u>جزيرة سردينيا</u> ٤١- <u>جزيرة صقلية</u> ٤٢- <u>شبه جزيرة إيطاليا</u> ٤٣- <u>شبه جزيرة البلقان</u> ٤٤- <u>جزيرة كريت</u>
التيارات بحرية	٤٥- <u>تيار غولف ستريم البحري الحار (تيار الخليج الدافئ)</u>
المضائق	٤٦- <u>المحيط المتجمد الشمالي</u> ٤٧- <u>المحيط الأطلسي</u>



س- حدّد أهم المدن والعواصم على خريطة قارة [أوروبا] .

