

تم تحميل هذا الملف من موقع المناهج البحرينية

الملف مذكرة المواد الاجتماعية

[موقع المناهج](#) ⇐ ⇐ [الصف التاسع](#) ⇐ [المواد الاجتماعية](#) ⇐ [الفصل الأول](#)

روابط مواقع التواصل الاجتماعي بحسب الصف التاسع



روابط مواد الصف التاسع على تلغرام

[الرياضيات](#)

[اللغة الانجليزية](#)

[اللغة العربية](#)

[التربية الاسلامية](#)

المزيد من الملفات بحسب الصف التاسع والمادة المواد الاجتماعية في الفصل الأول

[أسئلة امتحان \(الإعدادية العامة والدينية\)](#)

1

[إجابة نموذجية \(الإعدادية العامة والدينية\)](#)

2

[أسئلة امتحان](#)

3

[أسئلة امتحان جغرافية والتربية للمواطنة](#)

4

[أسئلة امتحان جغرافيا والتربية للمواطنة](#)

5

مذكرة المواد الاجتماعية لنهاية الفصل الدراسي الأول للصف الثالث الإعدادي للعام الدراسي ٢٠١٧-٢٠١٨ م

أولاً: أسئلة هامة جداً في (دروس جغرافية البحرين)

السؤال الأول- أكمل الفراغات الآتية بما يناسبها :

- ١- السلعة التي تحتل المرتبة الأولى في صادرات البحرين هي [النفط] .
- ٢- تستورد البحرين السلع النفطية من [السعودية] .
- ٣- تستورد البحرين معظم السلع الغير نفطية من [دول أوروبا الغربية والصين والبرازيل والولايات المتحدة الأمريكية] .
- ٤- الجهاز الذي يشرف على تنظيم القطاع المصرفي ومراقبته في مملكة البحرين [مصرف البحرين المركزي] .
- ٥- من صادرات البحرين [النفط والألمنيوم والحديد والملابس]
- ٦- القطاع الذي يشكل دعامة الاقتصاد البحريني لكونه ممولاً لجميع المشاريع الإنمائية هو [القطاع المصرفي] .
- ٧- من المكاسب التي يعود بها تطور قطاع السياحة على الاقتصاد البحريني هو [تنشيط قطاعات اقتصادية أهمها: الفنادق و النقل والاتصال و التجارة] .
- ٨- تزدت نسبة النفط من إجمالي الصادرات في البحرين بسبب [اتباع سياسة تنويع مصادر الدخل، و [عدم الاعتماد على النفط فقط] .
- ٩- تتحصر أراضي الصالحة للزراعة بالبحرين بشرط يمتد من [المنامة] [شمالاً] حتى [الزلاقي] [غرباً] .
- ١٠- كانت البحرين قديماً تعتمد في تجارتها على ميناء [المنامة] .
- ١١- الدول التي تمتلك شركة طيران الخليج هي [البحرين] .
- ١٢- يرتكز قطاع الصناعة التحويلية في مملكة البحرين على الصناعات [التصديرية] .
- ١٣- أنشئت البحرين ميناء سترة لتصدير [النفط] .
- ١٤- أنشئت البحرين ميناء ألبا لاستيراد [الأمونيا] وتصدير [منتجات الألمنيوم] .
- ١٥- تستورد مملكة البحرين الأسماك في فصل الشتاء من دولتي [الإمارات وعمان] .
- ١٦- الطرق السريعة هي [الطرق التي تربط بين المدن أو تحيط بها كشارع الشيخ عيسى بن سلمان، وشارع الشيخ خليفة وشارع الملك فيصل] .
- ١٧- الطرق الداخلية الفرعية الخدمية هي [الطرق المتفرعة من الشوارع إلى داخل الأحياء السكنية والتجارية] .
- ١٨- الطرق الداخلية الرئيسية هي [طرق تحيط بأحياء سكنية وتجارية، وتربط بين أجزاء المدن الداخلية بشكل دائري تقطعه الشوارع الإشعاعية]
- ١٩- مركز الصناعات اليدوية في البحرين من المعطيات السياحية [الحضارية الحديثة]، وبيت الجسرة من المعطيات السياحية [التاريخية] .
- ٢٠- المشاريع النموذجية في البحرين مشروع هورة عالي ومشروع عذاري وبوري لإنتاج [الأعلاف والفواكه] ومشروع الهمة لتربية [الأغنام والماعز] .
- ٢١- استفادت البحرين في ري الأراضي الزراعية من المياه المعالجة في محطة [توبلي] .

السؤال الثاني: علل لما يأتي:

١- علل : تميز الاقتصاد البحريني بالتوازن بين مختلف قطاعاته وتنوعه

أ) التنمية الاقتصادية . ب) سياسة الحرية الاقتصادية

٢- علل : إتباع حكومة البحرين سياسة التنويع في مصادر الدخل .

بسبب إدراك حكومة البحرين لخطر نفاذ النفط .

٣- علل : أدت سياسة الحرية الاقتصادية في مملكة البحرين إلى جذب المستثمرين .

أ) إعطاء الحرية في إدخال رؤوس الأموال وإخراجها . ب) إعفاء الشركات من الضرائب لمدة معينة .

ج) السماح للأجانب بامتلاك جميع أسهم الشركات . د) تقديم التسهيلات في الدوائر الحكومية لهم .

٤- علل : تطور القطاع المصرفي في مملكة البحرين. او [ما الأسباب التي جعلت البحرين مركزاً مالياً مهماً بين الأسواق العالمية ؟]

أ) الموقع الوسطي المتميز. ج) التمتع بموقع زمني مناسب لأكبر البورصات العالمية. ب) تطور الاتصالات والمواصلات.

د) توفر الكوادر الفنية المدربة . هـ) الحرية الاقتصادية من حيث تسهيل عمليات التحويل الخارجي وعدم فرض ضرائب.

٥- علل : الفائض في الميزان التجاري في مملكة البحرين .

أ) ارتفاع حجم إجمالي الصادرات غير النفطية وقيمتها . ب) ارتفاع حجم الصادرات النفطية وقيمتها .

٦- علل : لا تزال تربية الحيوانات (المواشي) في مملكة البحرين محدودة .

أ) ارتفاع نسبة تكاليف الإنتاج ب) الظروف المناخية المتمثلة في عدم وجود مراعي طبيعية .

د) تربية مواشي بطرق تقليدية تنتمي إلى سلالات ضعيفة الإنتاجية . ج) توجه السكان الى العمل في قطاعي الصناعة والخدمات .

٧- علل : إنشاء الصناعات التصديرية المتنوعة في مملكة البحرين .

أ) توافر النفط والغاز كمصدرين رئيسيين لتوليد الطاقة الكهربائية . ب) ضيق السوق المحلية . ج) توافر رؤوس الأموال الضخمة.

٨- علل : محدودية الأراضي الصالحة للزراعة في البحرين .

أ) قلة مياه الري . ب) ملوحة التربة وافتقارها للمواد .

٩- علل : تحتل البحرين مركزا تجاريا مميزا بين دول المنطقة .

- أ- تعدد خطط إنماء قطاعات الاقتصاد البحريني ب- التقاليد التجارية العريقة ج- تغير نمط العيش وتحسن ظروفه
د- مؤشر الحرية الاقتصادية (انعدام الضرائب على الأرباح - انعدام الحواجز الإدارية و اللوجستية)

السؤال الثالث: أجب عن الأسئلة التالية:

١- عدّد ثلاثة من التدابير التي اتخذتها البحرين على صعيد البنية التحتية لإنجاح خططها التنموية .

- (أ) أنشأت المناطق الصناعية. (ب) طورت شبكة المواصلات والاتصالات. (ج) مدت شبكات المياه والكهرباء والمجاري لمختلف المناطق

٢- ما الإجراءات التي قامت بها البحرين لتنمية قطاعها السياحي؟ [علل: نمو قطاع السياحة في البحرين بشكل متسارع]

- (أ) أنشأت عدداً من الإدارات المختصة بالسياحة والآثار ومن أبرز مهامها التنقيب عن الآثار وترميمها والاعتناء بها .
(ب) أعدت عمالة وطنية متخصصة في مجال السياحة (ج) شجعت وكالات السفر والسياحة الأجنبية على فتح مكاتب لها في البحرين.

٣- اذكر أبرز المهام التي تقوم بها مؤسسة نقد البحرين (مصرف البحرين المركزي) .

- رسم السياسة النقدية والائتمانية وتنفيذها من خلال : (أ) تنظيم القطاع المالي (ب) إصدار الاوراق المالية
(ج) الرقابة على البنوك وشركات الاستثمار (د) المساعدة على توفير بيئة اعمال متطورة

٤- اشرح مقومات السياحة في مملكة البحرين .

- (أ) المعالم والمعطيات الطبيعية السياحية : (أ) الموقع الجغرافي بين الأقاليم المختلفة : مما جعلها محطة استراحة للمسافرين .
(ب) طبيعة البحرين الجزرية . (ج) طول سواحلها المتعددة الأشكال: [سواحل رملية (بلاج الجزائر) + سواحل جرفية (منتجع حوار)] .
(د) صغر مساحة البحرين : تمكن السائحين من زيارة معالمها السياحية بفترة زمنية قصيرة وبكلفة قليلة . (هـ) المناخ الشتوي الربيعي.
(ب) المعالم التاريخية القديمة مثل: [القلاع + المقابر كمقابر عالي + المعابد كمعبد باربار + البيوت القديمة + مسجد الخميس] .
(ج) المعالم والمعطيات الحضرية الحديثة مثل: [المتحف الوطني + بيت القرآن + مركز الصناعات اليدوية + المجمعات + المنزهات] .
(د) توافر خدمات الفنادق والمطاعم والشقق والمواصلات والاتصالات والبنوك الموجودة في مختلف مناطق البحرين .

٥- وضح جهود مملكة البحرين لتطوير قطاعها الزراعي.

- (أ) تقديم القروض ومستلزمات الإنتاج. (ب) إجراء البحوث الميدانية لإدخال البذور المحسنة. (ج) تقديم الخدمات الإرشادية.
(د) توفير خدمات الوقاية الزراعية. (ي) إنشاء مشاريع نموذجية مثل مشروع هورة عالي والبحير و عذاري وبوري لإنتاج الأعلاف والفواكه.
(هـ) زيادة مساحة الأراضي الزراعية من خلال إنشاء شبكة تصريف للمياه للتخلص من ملوحة التربة ومعالجة مياه المجاري للزّي.

٦- وضح جهود مملكة البحرين لتطوير قطاعها الحيواني .

- (أ) تقديم القروض ومستلزمات الإنتاج. (ب) تقديم الخدمات الإرشادية. (ج) توفير خدمات الرعاية البيطرية.
(د) إدخال السلالات الحيوانية العالية الإنتاج. (هـ) إنشاء مشاريع نموذجية مثل مشروع الهملة لتربية الأغنام والماعز.

٧- اذكر جهود مملكة البحرين لتطوير قطاعها السمكي .

- (أ) طورت بعض الموانئ كفضتي ستره والمحرق والحد . (ب) قدّمت الإعانات المادية ومستلزمات الصيد للصيادين.
(ج) قدمت القروض الميسرة. (د) أسست مشروع رأس حيان لتربية الأحياء البحرية. (هـ) نظمت دورات تدريبية للصيادين.

٨- اشرح الجهود التي قامت بها حكومة البحرين الحوافز التي قدمتها لتنمية القطاع الصناعي .

- (أ) أنشأت المناطق الصناعية . (ب) أعطت الأفضلية للمنتج الوطني. (ج) أعفت المصانع من الضرائب.
(د) قدمت القروض. (هـ) توفير الأراضي بأجر رمزي لأصحاب المشاريع. (و) سمحت للأجانب بإنشاء المصانع.
(ي) أصدرت قوانين لحماية الصناعات الوطنية مثل [فرض جمارك على السلع المستوردة + إعفاء الآلات والمواد الأولية من الجمارك] .

٩- ما النتائج المترتبة على تطور القطاع السياحي في مملكة البحرين .

- (أ) ازدياد عدد السياح. (ب) تنمية قطاعات أخرى كالقطاع الفندقي والنقل والاتصالات والتجارة. (ج) الإسهام في الناتج المحلي الإجمالي .

١٠- ما النتائج المترتبة على الحوافز التي قدمتها حكومة البحرين لتنمية القطاع الصناعي؟

- (أ) زيادة الاستثمار المحلي والأجنبي في القطاع الصناعي. (ب) تنويع القاعدة الإنتاجية للاقتصاد الوطني. (ج) توفير فرص عمل للمواطنين.

١١- وضح التطورات في مجال الاتصالات السلكية واللاسلكية في مملكة البحرين .

- (أ) تعتبر البحرين رائدة في استخدام نظم الاتصال السلكي واللاسلكي المتطورة. (ب) تم إدخال نظم اتصال متطورة كالتلفن والإنترنت.
(ج) تعمل الاتصالات من خلال الأقمار الاصطناعية . (د) تعمل جميع البدالات بالنظام الرقمي . (هـ) إصدار جرائد ومجلات

١٢- وضح باختصار التطورات في مجال المواصلات البرية والبحرية والجوية في مملكة البحرين .

& التطور في الطرق البرية : * أنشأت شبكة متطورة ومتميزة بمواصفاتها العالية ، وتضم مجموعتين من الطرق هي:

(أ) الجسور (ب) مجموعة الطرق الداخلية : وهي تنقسم إلى [الطرق الداخلية الفرعية (الخدمية) + الطرق الداخلية الرئيسية + الطرق السريعة].

& التطور في المواصلات البحرية : (أ) كانت البحرين قديماً تعتمد في التجارة على ميناء المنامة الصغير .

(ب) تم بناء ميناء سلمان وتوسعته، وتأهيل العاملين فيه، وتطويره بأحدث الوسائل وإقامة منطقة صناعية حرة حوله يسمح للأجانب بإنشاء المصانع فيها.

(ج) يوجد موانئ أخرى مثل ميناء سترة لتصدير النفط، وميناء ألبا، وميناء خليفة بن سلمان .

& التطور في المواصلات الجوية : (أ) شكل المطار محطة عبور ثم زادت أهميته بعد النفط والنهضة الاقتصادية في نقل الركاب.

(ب) تم توسيع المطار وتجهيزه بأحدث المعدات. (ج) تمتلك البحرين شركة طيران الخليج .

السؤال الرابع :- قارن بين الصناعات التصديرية وصناعة إحلال الواردات في مملكة البحرين .

وجه المقارنة	الصناعات التصديرية	صناعة إحلال الواردات
بعض أنواعها	تكرير النفط + بتروكيماويات + تسيليل الغاز + الألمنيوم + مكيفات هوائية + سخانات + مطابخ + كريات الحديد+ والثلاجات ...الخ	مواد غذائية + أدوية + مشروبات غازية + مياه معدنية + الزجاج + مواد بناء + ورق ...الخ
مميزاتها	(أ) كثرة رؤوس أموالها. (ب) كثرة العمال فيها. (ج) كثرة إنتاجها، ومعظم منتجاتها من المواد الأولى والوسيلة (د) يمتلكها القطاع العام (الحكومي) أو حكومات وشركات أجنبية	(أ) قلة رؤوس أموالها. (ب) قلة العمال فيها. (ج) قلة إنتاجها الذي يستهلك محلياً بشكل مباشر. (د) يمتلكها القطاع الخاص (الأفراد) .
مشاكلها	(أ) المنافسة الشديدة من قبل شركات إقليمية أو عالمية . (ب) البعد عن الأسواق المستهلكة مما يزيد من التكاليف . (ج) تقلبات الأسعار في الأسواق العالمية . (د) التكاليف المرتفعة للمواد الأولية المستوردة . (هـ) فرض بعض الدول رسوم جمركية مرتفعة على وارداتها منها	(أ) الاعتماد على الخارج في تأمين آلات المصانع وموادها الأولية . (ب) قلة تنوعها في السوق الداخلية . (ج) التنافس بين المنتجات الوطنية المتشابهة وبينها وبين المنتجات المستوردة .

ثانياً: أسئلة هامة جداً في (دروس قارة أوروبا)

السؤال الأول :- أكمل الفراغات الآتية بما يناسبها :

- ١- نشأت الجبال الحديثة التكوين في أوروبا بسبب [اصطدام الكتلة الأفريقية بالكتلة الآسيوية الأوروبية] .
- ٢- القارة الوحيدة التي لا يوجد فيها صحاري هي [أوروبا] .
- ٣- من أشهر مناطق السياحة الجبلية بالعالم منطقة جبال [الألب]
- ٤- تلتقي أوروبا بقارة آسيا في الشرق بخط ينطلق شمالاً بمحاذاة جبال [أورال] .
- ٥- تحتل أوروبا من حيث عدد السكان بين قارات العالم المرتبة [الثانية] بينما تحتل من حيث الكثافة السكانية المرتبة [الأولى] .
- ٦- تعاني أوروبا من انخفاض في ثقلها الديموغرافي في العالم بسبب [انخفاض نسبة الزيادة السكانية] نتيجة انخفاض نسبة الخصوبة والولادات .
- ٧- ترتفع نسبة المسنين في أوروبا بسبب [ارتفاع متوسط عمر الإنسان وقلة نسبة الولادات] .
- ٨- من مشاكل القطاع الزراعي في أوروبا مشكلة [تخزين المنتجات الزراعية وتصريفها في الأسواق] .
- ٩- منميزات الجبال الحديثة التكوين في أوروبا [شدة ارتفاعها + قممها مسننة + منحدراتها قوية + وعورة مسالكها + أوديتها عميقة]
- ١٠- أصبحت الجبال قديمة التكوين في أوروبا هضاباً مديبة القمم متوسطة الارتفاع بسبب [عوامل التعرية] .
- ١١- تمتد الجبال حديثة التكوين في أطراف أوروبا [الجنوبية] بمحاذاة سواحل [البحر المتوسط] .
- ١٢- تمتد الجبال قديمة التكوين بأوروبا [الشمالية الغربية ووسطها] .
- ١٣- انخفضت الوفيات في أوروبا بسبب [تحسن المعيشة و تقدم الطب] .
- ١٤- يتميز المناخ القاري في أوروبا بقساوته بسبب [بعده عن تأثيرات المحيط الأطلسي وتياراته] .
- ١٥- تعتبر أوروبا القارة الوحيدة التي تغيب عنها الصحاري بسبب [بعدها عن المناطق المدارية] .
- ١٦- يتميز المناخ المحيطي بلطافته في أوروبا بسبب [تأثيره بالرياح الغربية القادمة من المحيط الأطلسي، وتيار جولف ستريم الحار] .
- ١٧- تؤثر السياحة بشكل سلبي على البيئة لما يسببه السياح من [حرائق وتلوث وعمران فوضوي يشوه جمال الطبيعة] .
- ١٨- التيار البحري الذي يحد من تدني درجة حرارة السواحل الغربية لأوروبا شتاءً هو تيار [الخليج الدافئ (جولف ستريم)] .
- ١٩- من مؤشرات تطور الصناعة في أوروبا

[وجود أربع دول أوروبية أعضاء في مجموعة الدول السبع الأكثر تصنيعاً في العالم] وهي [ألمانيا وفرنسا وبريطانيا وإيطاليا] .

٢٠- يطل المناخ المعتدل المحيطي في أوروبا على المحيط [الأطلسي]، بينما يقع الإقليم المتوسطي في مناطق جنوبي أوروبا على البحر [المتوسط] .

٢١- يقع المناخ المعتدل القاري في مناطق أوروبا [الوسطى والشرقية]، بينما يقع الإقليم القطبي في منطقة صغيرة في [شمال أوروبا] .

السؤال الثاني :- أجب عن الأسئلة التالية:

١- علل : تدني نسبة الزيادة السكانية الطبيعية في قارة أوروبا .

بسبب تدني نسبة الخصوبة و انخفاض الولادات وهذا بدوره انعكس على المجتمع الأوروبي ، وحكومات الدول الأوروبية، حيث (أ) أن بعض دول أوروبا لم يعد بإمكانها تجديد سكانها. (ب) فزادت نسبة المسنين مما أدى إلى تحمّل أعباء إضافية لتأمين الخدمات لهم.

٢- علل : يعتبر موقع أوروبا وتنوعها الطبيعي ثروة سياحية .

* تحتل أوروبا المتوسطة المرتبة الأولى من حيث استقبال السياح الذين يأتون إليها للتمتع [بالشمس + دفء المياه + المناطق الأثرية] .
* تعتبر جبال الألب أولى المناطق السياحية الجبلية في العالم حيث يأتيها السياح [لممارسة التزلج + التمتع بالمناظر الجميلة] .

٣- علل : تقدم القطاع الزراعي وتطوره في قارة أوروبا .

بسبب (أ) توافر السهول الخصبة + توافر المياه . (ب) توافر المراعي. (ج) استخدام الآلات الحديثة .

٤- علل : تقدم القطاع الصناعي وتطوره في قارة أوروبا .

بسبب (أ) توافر الفحم الحجري والحديد . (ب) التقدم العلمي . (ج) استخدام الطاقة الكهربائية والنوية .

٥- اذكر الخصائص السكانية في قارة أوروبا .

أ- انخفاض الزيادة السكانية الطبيعية والولادات . ج- انخفاض الوفيات . د- انخفاض الفتيان . هـ- ارتفاع المسنين . و- ارتفاع الكثافة السكانية

٦- اذكر ما يدل على تداخل البر والبحر في قارة أوروبا وعدم تماسكها . [ما النتائج المترتبة على تداخل البر والبحر بكثافة في أوروبا؟]

أ- كثرة أشباه الجزر فيها . ب- كثرة جزرها . ج- تخترقها بحار فرعية . د- شواطئها متعرجة تكثُر فيها الرووس والخلجان .

السؤال الثالث :- قارن بين ما يلي :

موارد طبيعية غير متجددة في أوروبا	موارد طبيعية متجددة (لا تنفذ بالاستخدام) في أوروبا
الفحم الحجري + النفط + الحديد + الرصاص + اليورانيوم + البوكسيت .. إلخ	١- التربة الزراعية . ٢- الغابات . ٣- الأنهار الصالحة للملاحة . ٤- وفرة المياه للطاقة الكهرومائية . ٥- المسطحات المائية الغنية بالسمك

مناطق ذات كثافة سكانية مرتفعة في أوروبا	مناطق ذات كثافة سكانية منخفضة في أوروبا
١- مناطق الزراعات الحديثة . ٢- المناطق الصناعية . ٣- المناطق الزراعية والصناعية في آن واحد .	* هي المناطق التي يصعب على الإنسان استغلالها زراعياً مثل:- ١- الجبال العالية . ٢- الغابات الشمالية . ٣- مناطق الأرياف التي تشهد نزوحاً للمدن .

الإقليم المعتدل القاري	الإقليم القطبي	أوجه المقارنة
مناطق أوروبا الوسطى والشرقية	منطقة صغيرة في شمال أوروبا	المناطق التي يسودها
١- شتاؤه بارد وجاف وأمطاره ثلجية قليلة . ٢- صيفه يمتاز بشدة الحرارة وتساقط أمطار يرافقها عواصف رعدية . ٣- المدى الحراري السنوي مرتفع . ٤- يزداد هذا المناخ قسوة في المناطق الداخلية .	١- شتاؤه لا تنخفض فيه الحرارة عن [١٥-٢٥ تحت الصفر] لتأثره بتيار جولف ستريم . ٢- صيفه رطب وأكثر دفناً من الشتاء	المميزات المناخية
عدم انتظام جريان الأنهار	لا يوجد	المميزات النهرية

الإقليم المتوسطي	الإقليم المعتدل المحيطي	أوجه المقارنة
مناطق جنوبي أوروبا على البحر المتوسط	الشريط الذي يطل على المحيط الأطلسي	المناطق التي يسودها
١- حار جاف صيفاً دافئ ممطر شتاءً . ٢- قد تنخفض درجة الحرارة بسبب هبوب الرياح الشمالية القطبية الباردة .	١- مناخه لطيف لتأثره بالمحيط الأطلسي و تيار الخليج الدافئ . ٢- المدى الحراري السنوي صغير حيث أن حرارته تصل إلى ١٥ صيفاً و ٧ شتاءً	المميزات المناخية
فصل الشتاء	كل الفصول وخاصة الخريف والشتاء .	فصل سقوط المطر
عدم انتظام جريان الأنهار	انتظام جريانها وصالحه للملاحة طوال العام	المميزات النهرية

ثالثاً: أسئلة هامة جداً في (دروس قارة أمريكا الشمالية والوسطى)

السؤال الاول : أكمل الفراغات الآتية بما يناسبها :

- ١- السكان الأصليون لقارة أميركا الشمالية والوسطى هم [الهنود الحمر والإسكيمو] .
- ٢- تنخفض درجة الحرارة شتاءً في السواحل الشمالية الشرقية لأميركا الشمالية بسبب [مرور تيار لابرادور].
- ٣- تمتد جبال الأبالاش في قارة أميركا الشمالية في الجهة [الشرقية] .
- ٤- أعلى قمة جبلية بأميركا الشمالية تسمى قمة جبل [ماك كينلي] .
- ٥- سلسلة جبلية قديمة التكوين في أميركا الشمالية هي جبال [الأبالاش] التي ترجع للزمن الجيولوجي [الثاني] .
- ٦- ترتفع الحرارة في السواحل الغربية لآلاسكا وكندا بسبب [مرور تيار كوروشيفو الحار] .
- ٧- تطل أميركا الشمالية من جهة الغرب على المحيط [الهادئ] ومن الشرق على المحيط [الأطلسي] .
- ٨- يسيطر على الأطراف الشمالية لقارة أميركا الشمالية المناخ [القطبي] ، وفي المناطق الداخلية المناخ [المعتدل القاري] .
- ٩- تختلف المناخات بأميركا الشمالية وتندرج من القطبي للمداري بسبب [امتداد القارة من القطب الشمالي حتى خط الاستواء] .
- ١٠- تكثر البراكين والزلازل في الجبال الغربية بأميركا الشمالية بسبب [اصطدام كتلة أميركا بكتلة المحيط الهادئ] .
- ١١- البحيرات الخمس الكبرى من أكبر المسطحات المائية العذبة بقارة [أميركا الشمالية] وتقع على الحدود [الكندية – الأمريكية] .
- ١٢- الجبال الغربية هي جبال حديثة التكوين في قارة [أميركا الشمالية] تعود للزمن الجيولوجي [الثالث] .
- ١٣- تأتي قارة أميركا الشمالية من بين قارات العالم من حيث المساحة في المرتبة [الثالثة] .
- ١٤- نشأت العديد من الخلجان والجزر والبحيرات في شمال أميركا الشمالية بسبب [تأثير الموجات الجليدية في الزمن الرابع] .
- ١٥- يعود حوالي ٩٠% من مجمل سكان أميركا الشمالية والوسطى إلى أصل [أوروبي] .
- ١٦- انتقل سكان أميركا الشمالية من مدن البحيرات والساحل الشرقي نحو مدن الساحل الجنوبي والغربي بسبب [تحسن الاقتصاد وتوافر فرص العمل] .
- ١٧- من الخصائص السكانية لدول قارة أميركا الشمالية [تدنى نسبة الخصوبة والولادات] .
- ١٨- لم يندمج البيض والسود والسكان الأصليين في أميركا الشمالية بسبب [ممارسة البيض تمييز عنصري ضد السود والسكان الأصليين] ، بينما نجد أن تلك الأعراق الثلاثة اندمجت في أميركا [الوسطى] .
- ١٩- لاتزال الجبال الغربية بأميركا الشمالية تتعرض للزلازل العنيفة بسبب [استمرار عملية تصادم الكتلة الأمريكية بكتلة المحيط الهادئ] .
- ٢٠- تندرج الأقاليم المناخية من البارد شمالاً إلى الحار جنوباً في قارة [أميركا الشمالية] .
- ٢١- سمح انفتاح مناطق أميركا الشمالية شمالاً بتغلغل الرياح [القطبية الباردة] شتاءً ، وانفتاحها جنوباً بتغلغل الرياح [المدارية الرطبة] صيفاً .
- ٢٢- تتسع السهول الساحلية الشرقية في أميركا الشمالية عند [خليج المكسيك] وتضيق عند [الأطلسي] .
- ٢٣- يعتمد القطاع الصناعي التقليدي في دول أميركا الوسطى بشكل رئيسي على [صناعة استخراج المواد المعدنية والنفطية] التي يُصدّر إنتاجها خصوصاً إلى [الولايات المتحدة الأمريكية] ويعتمد على [الصناعات البتروكيماوية والصناعات الخفيفة] .
- ٢٤- أكثر مدن أميركا الوسطى ازدحاماً بالسكان هي مدينة [مكسيكو] .

السؤال الثاني :- أجب عما يأتي :

١- عدّد المقومات المشتركة التي سمحت بقيام زراعة متنوعة في أميركا الشمالية والوسطى .

(أ) التنوع المناخي. (ب) توافر المياه. (ج) خصوبة التربة (د) السهول الواسعة.

٢- علل: تعتبر كندا والولايات المتحدة الأمريكية المخزن الرئيسي للغذاء في العالم .

(أ) استخدام آلات حديثة. (ب) توافر رؤوس الأموال. (ج) توافر أسمدة ومبيدات. (د) الأيدي العاملة المتخصصة.

٣- علل: تقدّم القطاع الصناعي وتطوره في أميركا الشمالية .

(أ) تتوافر المعادن. (ب) وجود أكبر احتياطي للفحم الحجري فيها. (ج) توافر الأسواق. (د) توافر رؤوس الأموال. (هـ) استخدام آلات وتقنيات حديثة. (و) توافر أيدي عاملة متخصصة.

٤- علل: يسود المناخ القاري في المناطق [الداخلية] من أميركا الشمالية .

لوجود جبال الأبالاش والجبال الغربية التي تحجز الرياح الرطبة القادمة من المحيط الهادئ والأطلسي .

٥- ما الأسباب التي أدت إلى التفاوت القائم في القطاع الزراعي بين دول أميركا الشمالية، ودول أميركا الوسطى؟

وذلك بسبب توافر مقومات خاصة بدول أميركا الشمالية وهي توافر [رؤوس الأموال + تقنيات وآلات حديثة + مبيدات وأسمدة + أيدي عاملة خبيرة] ، بينما في دول أميركا الوسطى تنتشر [تنتشر زراعة تقليدية معيشية لتلبية الاحتياجات المحلية] .

٦- ما تأثيرات الموجات الجليدية على سطح أميركا الشمالية؟

(أ) تفتت صحور الهضاب. (ب) تكون الخلجان والجزر وأشباه الجزر. (ج) تشكل الفُجر (الفيوردات). (د) تكون البحيرات الخمس الكبرى.

السؤال الثالث: قارن بين كل مما يأتي : [وضح التفاوت بين قارتي أمريكا الشمالية ، وأمريكا الوسطى في كل من:]

الخصائص السكانية في أمريكا الشمالية	الخصائص السكانية في أمريكا الوسطى
١- قلة الولادات . ٢- قلة نسبة الفتيان . ٣- ارتفاع متوسط عمر الإنسان (٧٦ سنة) . ٤- ارتفاع نسبة المسنين . ٥- انعدام الأمية تقريباً بين الشباب دون ٢٥ سنة .	١- ارتفاع الولادات . ٢- ارتفاع نسبة الفتيان . ٣- يختلف متوسط عمر الإنسان بين دولها (٥٣ سنة في هايتي و ٧٥ سنة في كوبا) ٤- انخفاض نسبة المسنين . ٥- ارتفاع نسبة الأمية تقريباً بين الشباب دون ٢٥ سنة .

الزراعة في أمريكا الشمالية	الزراعة في أمريكا الوسطى
# قامت زراعة (ممكنة متطورة) ومتنوعة بأمريكا الشمالية بسبب : ١- توافر المياه . ٢- التنوع المناخي . ٣- توافر رؤوس الأموال . ٤- أيدي عاملة خبيرة . ٥- استخدام آلات حديثة . ٦- توافر مبيدات وأسمدة . ٧- خصوبة التربة والسهول الواسعة . # للأسباب السابقة تعتبر الولايات المتحدة وكندا المخزن الرئيسي للغذاء في العالم . # تصدر كميات كبيرة من منتجاتها للخارج .	# تنتشر زراعة [تقليدية معيشية] بدول أمريكا الوسطى لتلبية الاحتياجات المحلية . # يوجد فيها زراعات تجارية تمولها وتسوق إنتاجها للخارج شركات كبرى .

الصناعة في أمريكا الشمالية	الصناعة في أمريكا الوسطى
# قامت صناعة متطورة في دول أمريكا الشمالية للأسباب التالية:- ١- توافر المعادن . ٢- وجود أكبر احتياطي للفحم الحجري فيها . ٣- توافر الأسواق . ٤- توافر الأيدي العاملة المتخصصة . ٥- توافر رؤوس الأموال . ٦- استخدام الآلات الحديثة . # القطاع الصناعي فيها يقوم على مؤسسات عملاقة تنتج مواد ذات جودة مثل [السيارات والطائرات والأجهزة] .	# القطاع الصناعي فيها تقليدي بسبب محدودية مقومات الصناعة الحديثة . # يعتمد القطاع الصناعي فيها على : ١- استخراج المواد المعدنية والنفطية . ٢- الصناعات البتروكيماوية . ٣- الصناعات الخفيفة كالمواد الغذائية .

السؤال الرابع: قارن بين سكان دول أمريكا الشمالية ودول أمريكا الوسطى من حيث:

المجال	دول أمريكا الوسطى	دول أمريكا الشمالية
واقع الاندماج العرقي	اندمجت الأعراق السكانية (البيض والسود والسكان الأصليين).	لم تندمج الأعراق السكانية (البيض والسود والسكان الأصليين).
الانصهار السكاني	نتائجه	أدى التمييز العنصري الذي فرضه البيض إلى عدم انصهار الأعراق ، فعاش السود في أحياء فقيرة، كما عاش السكان الأصليين في مناطق بعيدة.
اتجاه حركة الانتقال السكاني	انتقال السكان من الأرياف حيث البؤس والفقر إلى المدن.	انتقال السكان من منطقة البحيرات و الساحل الشرقي نحو مدن السواحل الجنوبية والغربية.

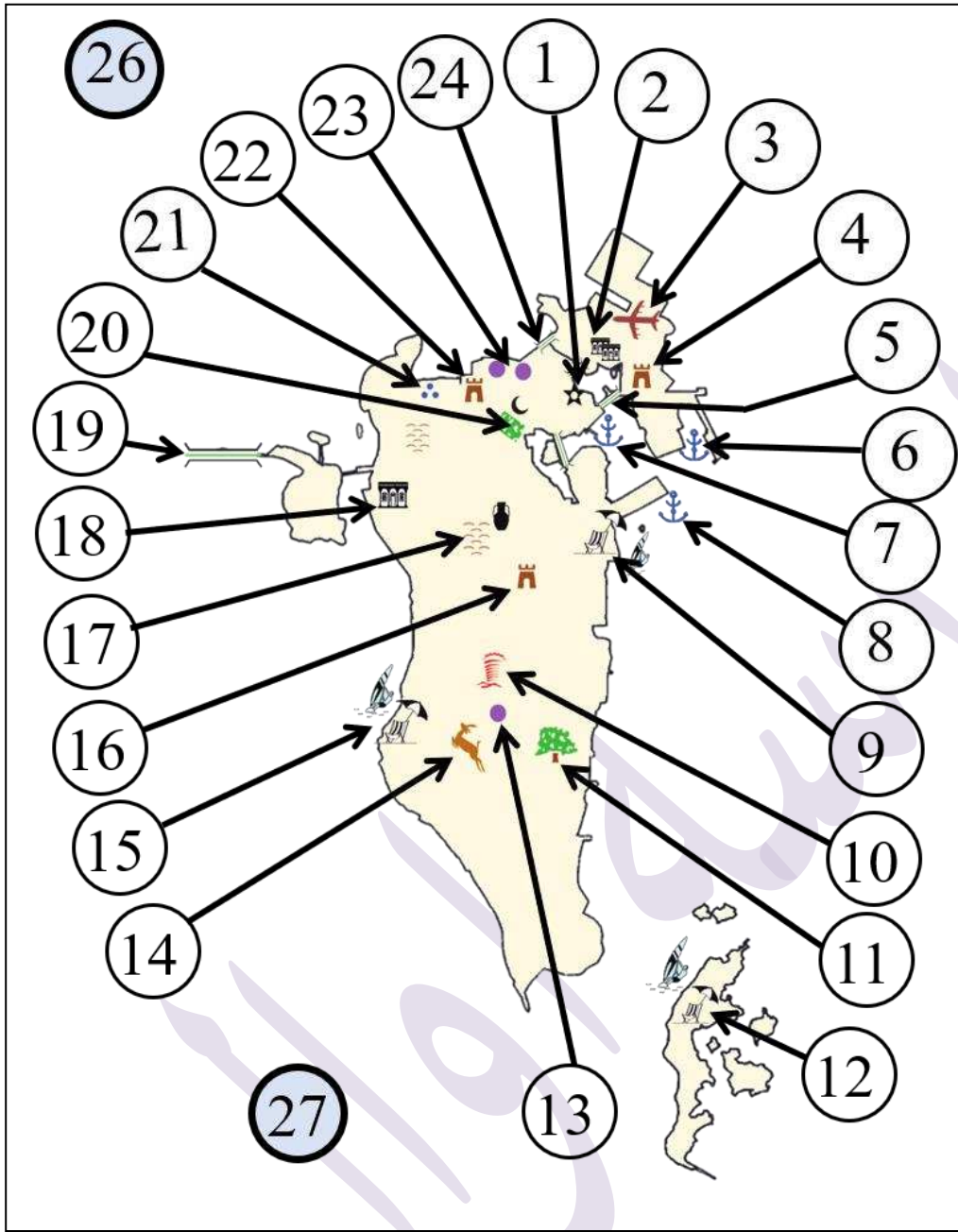
السؤال الخامس: ضع علامة (✓) أمام الخصائص السكانية لدول أوروبا وأمريكا الشمالية والوسطى في المكان المناسب في الجدول أدناه:

الخصائص السكانية	دول قارة أوروبا		دول قارة أمريكا الشمالية		دول قارة أمريكا الوسطى	
	مرتفع	منخفض	مرتفع	منخفض	مرتفع	منخفض
مستوى المعيشة	✓		✓			✓
نسبة الولادات		✓		✓	✓	
نسبة الفتيان		✓		✓	✓	
نسبة المسنين	✓		✓			✓
نسبة الأمية		✓		✓		✓

السؤال السادس: قارن بين التيارات البحرية المؤثرة في مناخ قارتي (أوروبا - أمريكا الشمالية والوسطى).

اسم التيار	القارة	نوعه	مناطق	أثره على المناخ
كاليفورنيا	أمريكا الشمالية والوسطى	بارد	الشواطئ الغربية لكاليفورنيا والمكسيك	تدني الحرارة والأمطار
كوروشيفو	أمريكا الشمالية والوسطى	حار	السواحل الغربية لألاسكا وكندا	ارتفاع الحرارة والأمطار
لابرادور	أمريكا الشمالية والوسطى	بارد	السواحل الشمالية الشرقية للقارة	انخفاض الحرارة شتاءً
الخليج (غولف ستريم)	أوروبا	حار	الشواطئ الغربية لقارة أوروبا	يحدّ من تدني الحرارة شتاءً

س١ : اكتب امام كل من الظواهر الجغرافية الواردة في الجدول الرقم الدال عليها وفقا لموضوعه على الخريطة ؟

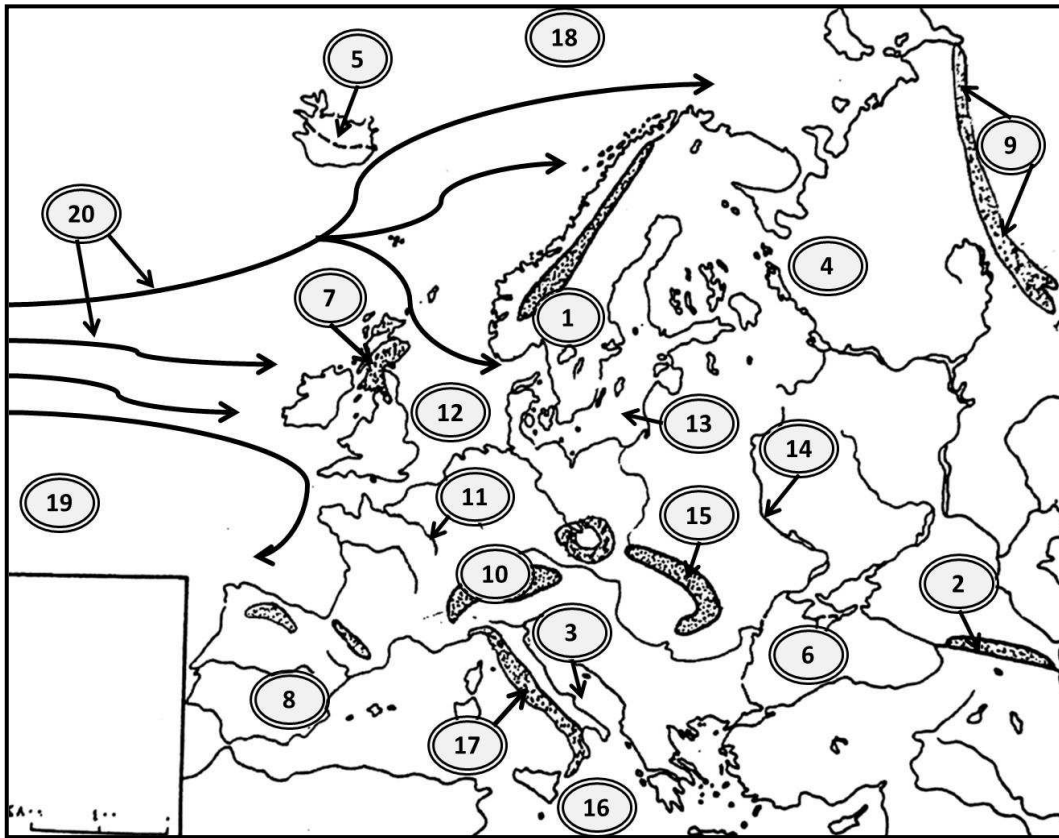


الظاهرة الجغرافية	الرقم المناسب
منتجع البندر	٩
منتجع حوار	١٢
شجرة الحياة	١١
بلاج الجزائر	١٥
قلعة عراد	٤
قلعة الشيخ سلمان بن احمد الفاتح	١٦
مقابر عالي	١٧
بيت الجسرة	١٨
معابد باربار	٢١
قلعة البحرين	٢٢
بيت سيادي	٢
بيت الشيخ عيسى بن علي	٢
مسجد الخميس	٢٠
المتحف الوطني	١
بيت القرآن	١
حلبة البحرين	١٠
جنا دلمون المفقودة	١٣
محمية العرين	١٤
منتزه عذاري	٢٠
مجمع ستي سنتر	٢٣
مجمع السيف	٢٣
مجمع العالي	٢٣
الخليج العربي	٢٦
خليج البحرين	٢٧

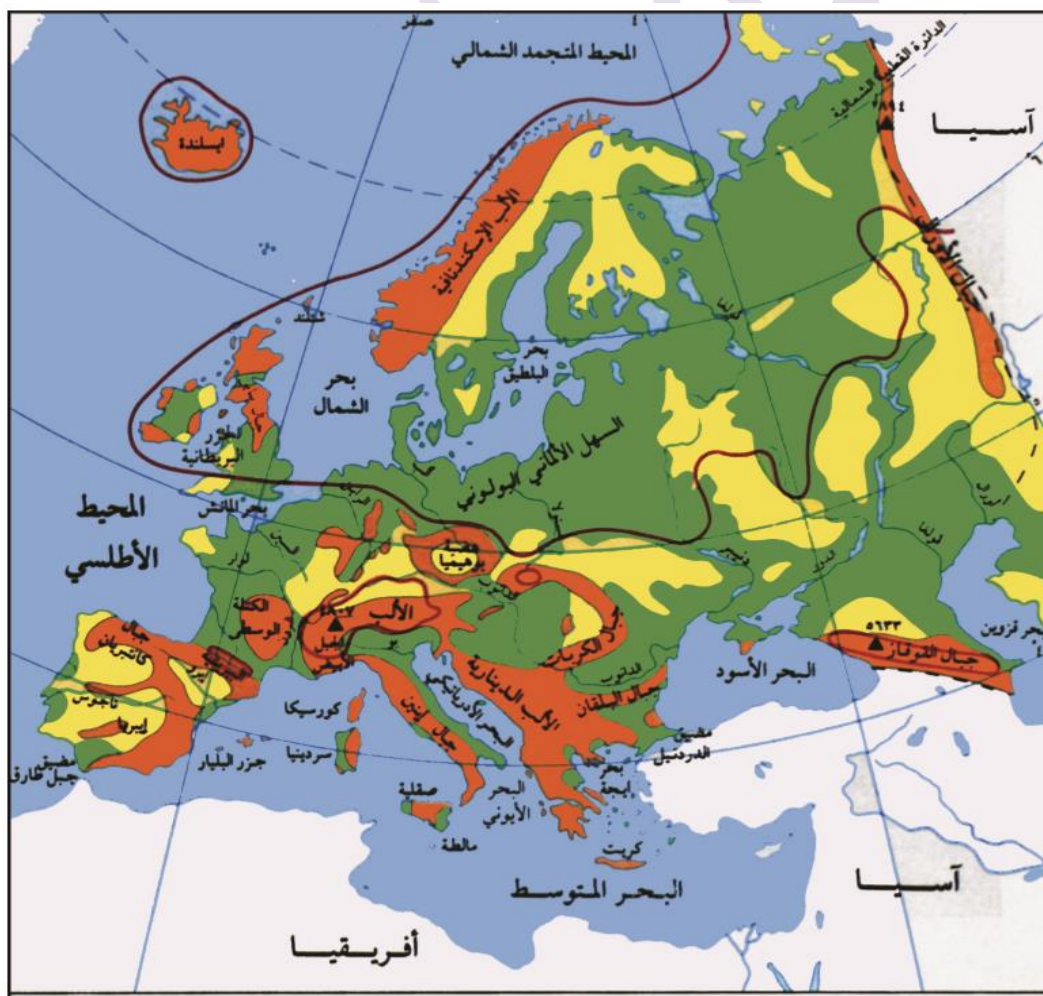
الجسور	الرقم المناسب
جسر الشيخ خليفة	٥
جسر الملك فهد	١٩
جسر الشيخ عيسى	٢٤

المطار و الموانئ	الرقم المناسب
مطار البحرين	٣
ميناء خليفة	٦
ميناء سلمان	٧
ميناء سترة	٨

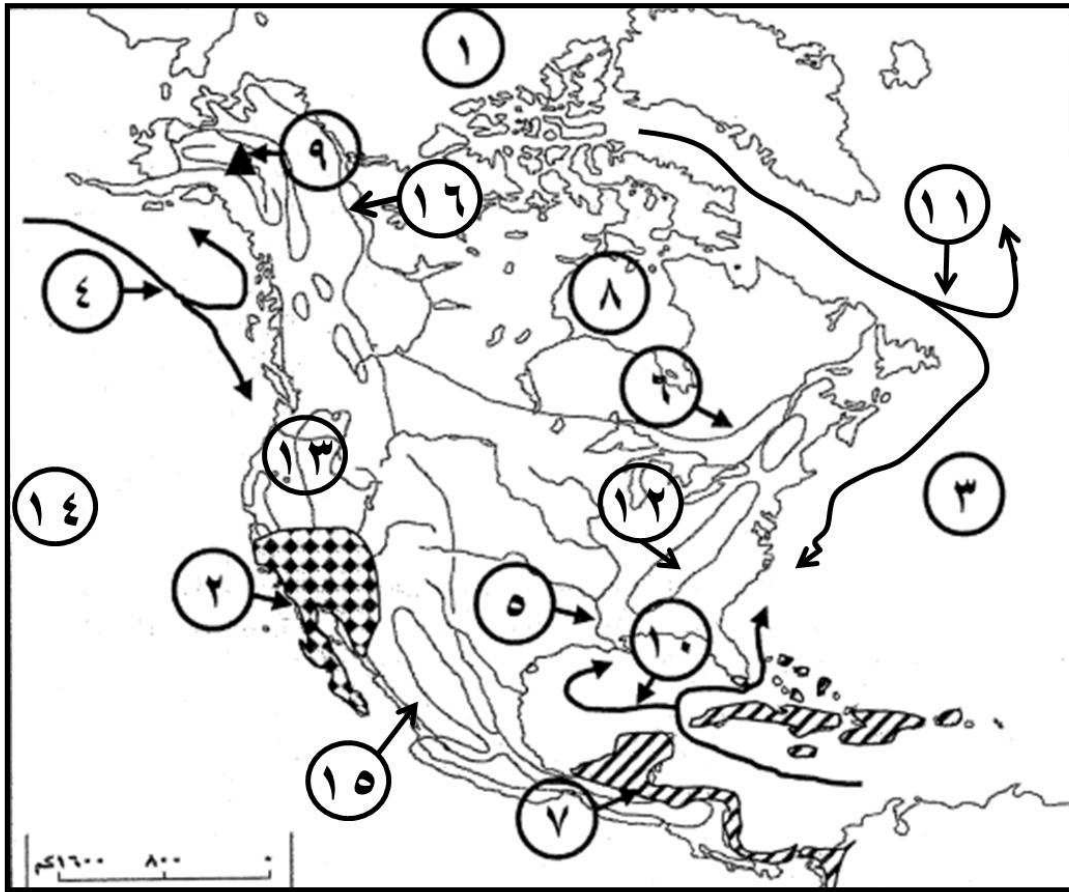
٢: من دراستك لقارة أوروبا اكتب امام كل من الظواهر الجغرافية الواردة في الجدول الرقم الدال عليها وفقاً لموضع الارقام المبينة على الخريطة ؟



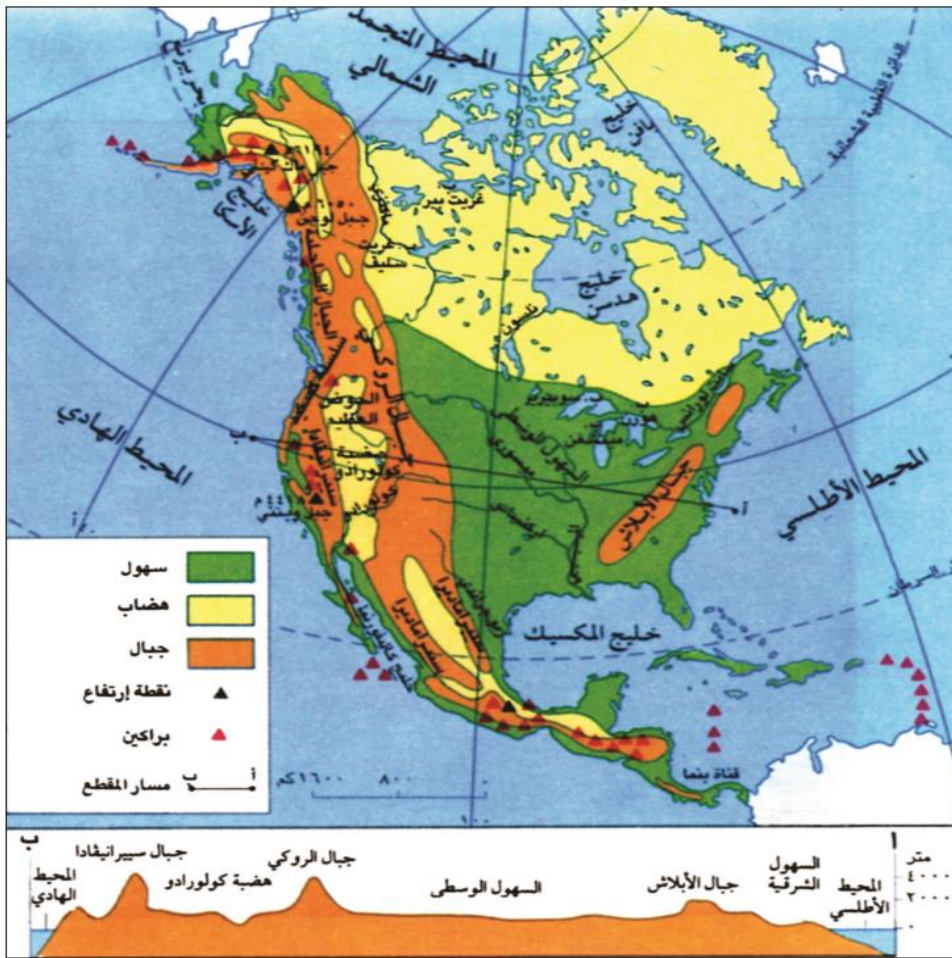
الظاهرة الجغرافية	الرقم المناسب
جبال الالب	١٠
جبال القوقاز	٢
جبال الاورال	٩
جبال الكربات	١٥
جبال ابينين	١٧
جبال بنالين	٧
شبه الجزيرة الاسكندنافية	١
جزر ايسلنده	٥
البحر الادرياتيكي	٣
البحر المتوسط	١٦
البحر الاسود	٦
بحر الشمال	١٢
بحر البلطيق	١٣
المحيط الاطلسي	١٩
المحيط المتجمد الشمالي	١٨
نهر الدنيبر	١٤
نهر السين	١١
اقليم المناخ المتوسطي	٨
السهل الالماني البولوني	٤
تيار جولف ستريم البحري	٢٠



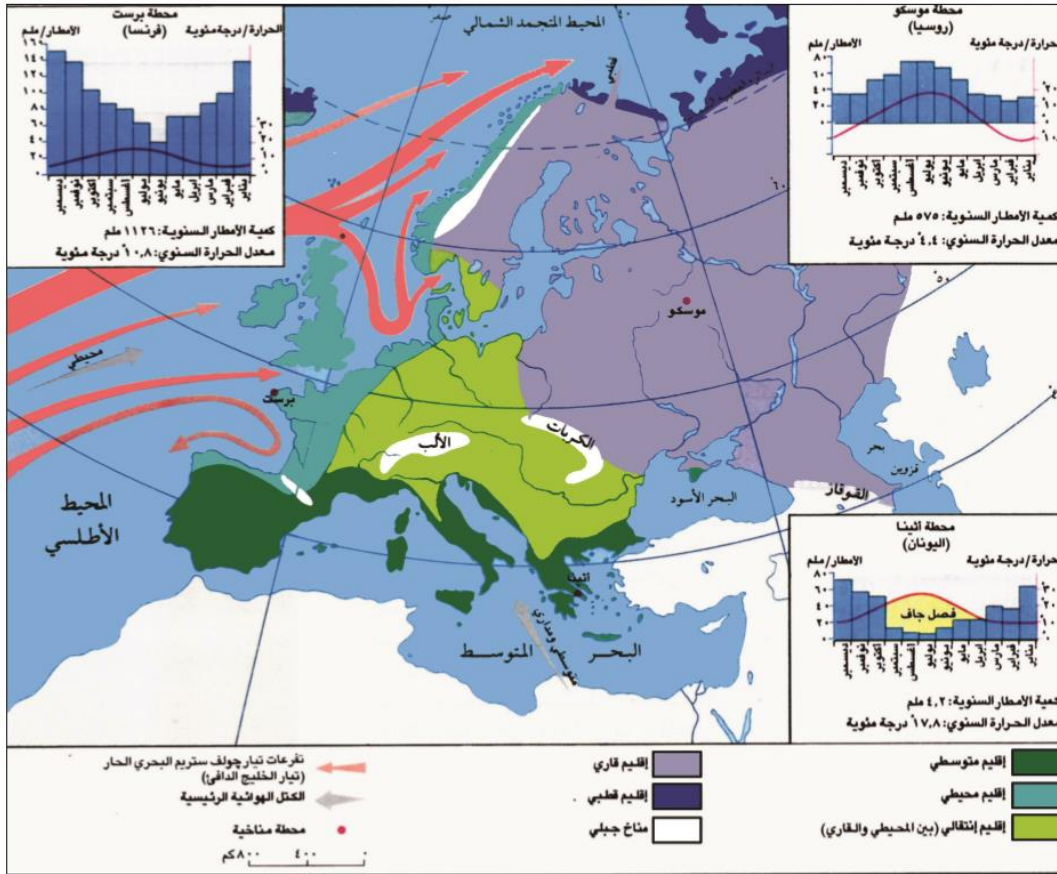
س٣: من دراستك لقارة أمريكا اكتب امام كل من الظواهر الجغرافية الواردة في الجدول الرقم الدال عليها وفقاً لموضع الارقام المبينة على الخريطة ؟



الظاهرة الجغرافية	الرقم
نهر الميسيسيبي	٥
نهر ماكنزي	١٦
نهر سنت لورانس	٦
المحيط الهادي	١٤
المحيط الاطلسي	٣
المحيط المتجمد الشمالي	١
خليج هدسن	٨
جبال سييراماديرا	١٥
جبال الابلاش	١٢
جبل ماك كينلي	٩
هضبة كولورادو	١٣
تيار كوروشيفو	٤
تيار لابرادور	١١
تيار جولف ستريم	١٠
مناخ مدار شديد الرطوبة	٧
مناخ صحراوي	٢



١) سطح أمريكا الشمالية والوسطى

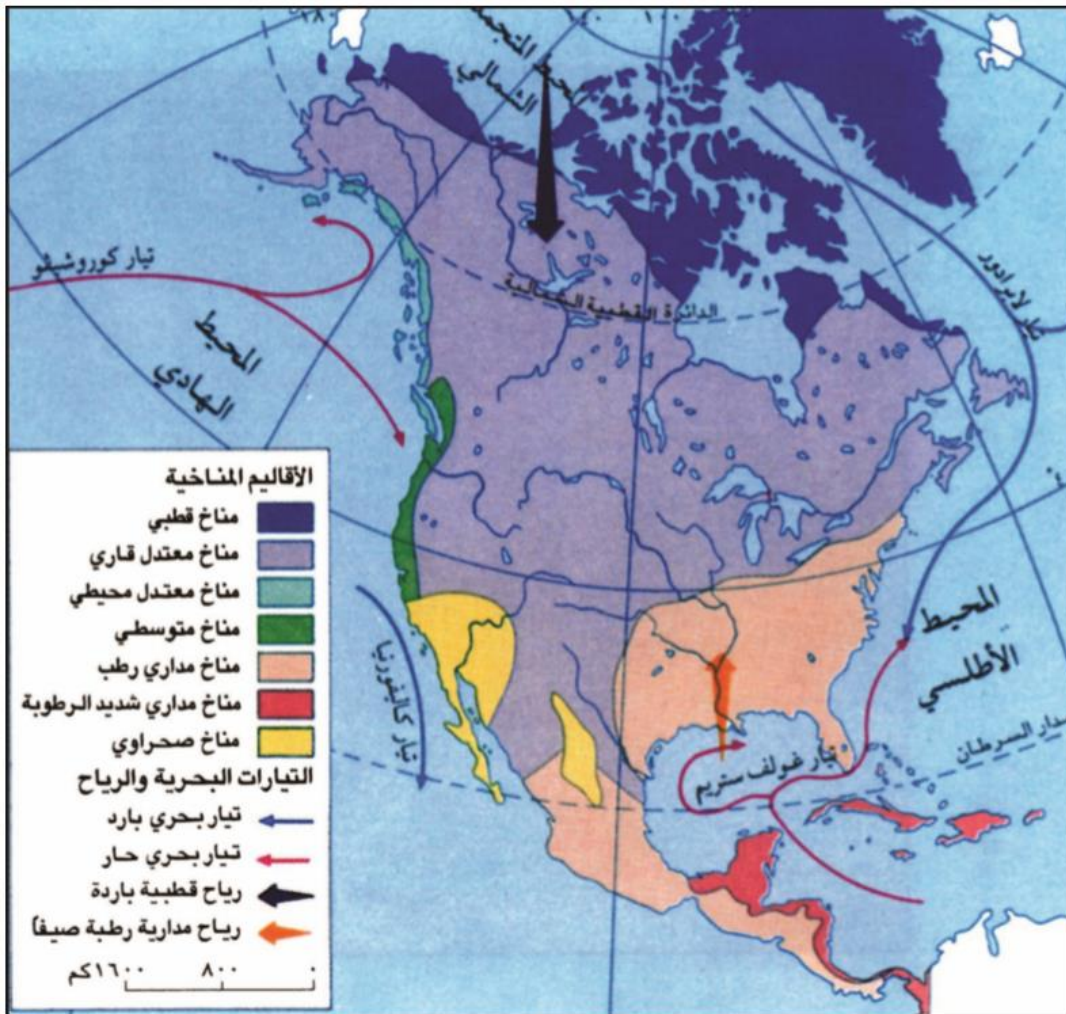


س ٤ : حدّد الأقاليم المناخية على خريطة قارة أوروبا ؟

الأقاليم المناخية في أوروبا
القطبي
المعتدل القاري
المعتدل المحيطي
المتوسطي

١ الأقاليم المناخية في أوروبا

س ٦ : حدّد الأقاليم المناخية على خريطة قارة أمريكا ؟



الأقاليم المناخية في أوروبا
القطبي
المعتدل القاري
المعتدل المحيطي
المتوسطي
المداري
الصحراوي

٢ مناخ أمريكا الشمالية والوسطى