

تم تحميل هذا الملف من موقع المناهج البحرينية



* للحصول على أوراق عمل لجميع الصفوف وجميع المواد اضغط هنا

<https://almanahj.com/bh>

* للحصول على أوراق عمل لجميع مواد الصف التاسع اضغط هنا

<https://almanahj.com/bh/9>

* للحصول على جميع أوراق الصف التاسع في مادة اجتماعيات ولجميع الفصول, اضغط هنا

<https://almanahj.com/bh/9social>

* للحصول على أوراق عمل لجميع مواد الصف التاسع في مادة اجتماعيات الخاصة بـ الفصل الثاني اضغط هنا

<https://almanahj.com/bh/9social2>

* لتحميل كتب جميع المواد في جميع الفصول للـ الصف التاسع اضغط هنا

<https://almanahj.com/bh/grade9>

* لتحميل جميع ملفات المدرس مدارس الفلاح الخاصة اضغط هنا

للتحدث إلى بوت على تلغرام: اضغط هنا

https://t.me/omcourse_bot

مدارس الفلاح



اجتماعيات ومواطنة الصف الثالث الإعدادي مراجعة نهاية الفصل الدراسي الثاني للعام الدراسي 2016-2017

محتوى الاختبار : الاجتماعيات / الدروس من 34 حتى 47 ما عدا 37
المواطنة الدروس 8 ، 9 ، 10

ملحوظة : المذكرة لا تغني عن الكتاب وضرورة مراجعة جميع الخرائط من الكتاب المدرسي

أولاً الاجتماعيات : (1) الحرب العالمية الثانية (1939 - 1945)
***س1: ضع علامة (✓) أمام العبارات الصحيحة وعلامة (X) أمام العبارات الخاطئة**

- 1- وقع هتلر مع ستالين 1936 م معاهدة فرساي ()
 2- في المرحلة الأولى من الحرب أحتل هتلر الدنمارك والنرويج وهولندا وبلجيكا وفرنسا ()
 3- الجنرال الفرنسي الذي وقع اتفاق هدنة مع ألمانيا هو بيتان ()
 4- وقع هتلر مع بريطانيا في أغسطس عام 1938م معاهدة عدم اعتداء ()
 5- الجنرال الفرنسي الذي رفض الاستسلام لهتلر هو شيراك ()
- ***س2: كتب أطراف المعاهدات التي تمت كمقدمات للحرب العالمية الثانية في الجدول التالي :**

المعاهدة	الأطراف
الحلف الفولاذي	1-.....
	2-.....
معاهدة عدم الاعتداء	1-.....
	2-.....

*****س3 : ما هو السبب المباشر لقيام الحرب العالمية الثانية**

1-.....

*****س4 : صنف في الجدول التالي الدول المشاركة في الحرب العالمية الثانية حسب معسكرها:**

فرنسا - اليابان - إيطاليا - الاتحاد السوفيتي - بريطانيا - الولايات المتحدة - ألمانيا

الحلفاء	المحور

***س6: ضع علامة (✓) أمام العبارات الصحيحة وعلامة (X) أمام العبارات الخاطئة**

- 1- اجتاحت الجيوش الألمانية الاتحاد السوفيتي عام 1941م ()
 2- دخلت الولايات المتحدة الحرب بعد قصف ألمانيا لميناء بيرل هاربر 1941م ()
 3- سحق الجيش الأحمر الروسي الجيش الألماني في معركة ستالين غراد ()
 4- هُزمت إيطاليا وخرجت من الحرب عام 1943م ()
 5- استسلمت اليابان بعد إلقاء قنبلتين ذريتي الأولى على ناكازاكي والثانية على هيروشيما ()
- ***س7 : علل تدويل الحرب العالمية الثانية عام 1941م**

- 1-.....
 2-.....

****س 3 : قارن بين المعارك التالية في الجدول أدناه**

المعركة	الأطراف	النتائج
العلمين 1942	-1 -2
ستالينجراد 1942م	-1 -2

****س 8- أكمل الخط الزمني التالي عن الحرب العالمية الثانية ؟**

انتصار الإنجليز على الألمان في معركة العلمين- سقوط النظام الفاشي في إيطاليا - وقع (بيتان) اتفاق هدنة مع الألمان- تحرير الحلفاء لفرنسا - قنبلتين ذريتين على هيروشيما وناجازاكي- دخول الولايات المتحدة الحرب مع الحلفاء

--	--	--	--	--	--

1945 1944م 1943م 1942م 1941 1940

****س 9: ما أهم نتائج الحرب العالمية الثانية ؟**

- 1-
- 2-
- 3-
- 4-

(2) حركات الاستقلال في المشرق العربي

أكمل ما يأتي

- أ- ممثل فرنسا في القاهرة الذي أعلن استقلال سوريا ولبنان هو
- ب- اول رئيس منتخب لسوريا 1943م بعد إعلان الاستقلال هو
- ج أسفرت الانتخابات في لبنان عن وصول لرئاسة لبنان .
- د- تشكلت حكومة وطنية في لبنان برئاسة

****س 2- تتبع على الخط الزمني التالي استقلال سوريا**

--	--	--	--

1936م 1941م 1943م 1946م

****س 3- ما هي المراحل الزمنية لاستقلال العراق ؟**

- 1921م ←
- 1932م ←
- 1941م ←
- 1955م ←
- 1958م ←

****س 4- علل : انقلب رشيد عالي الكيلاني بالعراق عام 1941م ؟**

.....

****س5 - تتبع على الخط الزمني التالي استقلال مصر**

--	--	--	--	--

1956م

1952 م

1936م

1922 م

1917م

****س6 - ما أهم نتائج المعاهدة البريطانية المصرية عام 1936م**

***س7 - إلى من تنسب الأعمال التالية**

- أسس حزب الوفد في مصر عام 1922م. (.....)
- قاد ثورة الضباط الأحرار التي أطاحت بالملكية وأم قناة السويس (.....)
- كان وصي على العرش في العراق أثناء انقلاب رشيد عالي الكيلاني (.....)
- وافقت حكومته على دخول العراق في حلف بغداد (.....)

(3) حركات الاستقلال في المغرب العربي (1)

***س1: ضع علامة (√) أمام العبارات الصحيحة ، وعلامة (×) أمام العبارات الخاطئة فيما يلي :**

- 1- () استخدم الاستعمار الإيطالي في ليبيا أعنف الأساليب من أجل إلغاء شخصية البلاد الإسلامية
- 2- () بلغت المقاومة الليبية ذروتها سنة 1922م بقيادة محمد إدريس السنوسي .
- 3- () قاتل الليبيون إلى جانب الحلفاء في الحرب العالمية الثانية بسبب رغبتهم احتلال بريطانيا لليبيا
- 4- () لم تفي بريطانيا بوعودها وتقاسمت السيطرة على ليبيا بعد الحرب مع فرنسا
- 5- () تشكلت هيئة تحرير ليبيا عام 1947م ورُفعت القضية إلى الأمم المتحدة
- 6- () عام 1951م اختار الليبيون معمر القذافي ملكاً عليهم ، واعترف العالم باستقلالهم

****س2: تتبع كفاح تونس ضد الاستعمار الفرنسي بين عامي (1908 - 1956) :**

- 1- انشأ التونسيون أحزاباً عدة طالبت بالاستقلال هي في 1907م وحزب في 1920م وحزب بزعامة في 1934م
 - 2- التف التونسيون حول الباي وأيدوا موقف " الحبيب بورقيبة " الداعي لمساندة الحلفاء في الحرب العالمية الثانية بسبب رغبتهم في الحصول على الاستقلال.
 - 3- بعد أن اضطهدت فرنسا زعماء حزب الدستور الجديد لجأ الحبيب بورقيبة إلى.....
 - 4- في عام 1954 م منحت فرنسا التونسيون ولكن التونسيون رفضوا .
 - 5- أجبرت فرنسا عامم على الاعتراف باستقلال تونس بعد إضراب عام ومقاومة ناشطة .
- **س3: ضوء دراستك لمسيرة استقلال المغرب ضد الاستعمار الأسباني والفرنسي رتب الأحداث التالية ترتيباً زمنياً على الخط الزمني أدناه :**

نفي السلطان محمد الخامس - حزب الاستقلال ينادي باستقلال المغرب - علل الفاسي يتزعم كتلة العمل الوطني -

إعلان استقلال المغرب - عبد الكريم الخطابي يقود الثورة ضد الأسبان في الريف المغربي

--	--	--	--	--

1956م

1953م

1944م

1935م

1926م

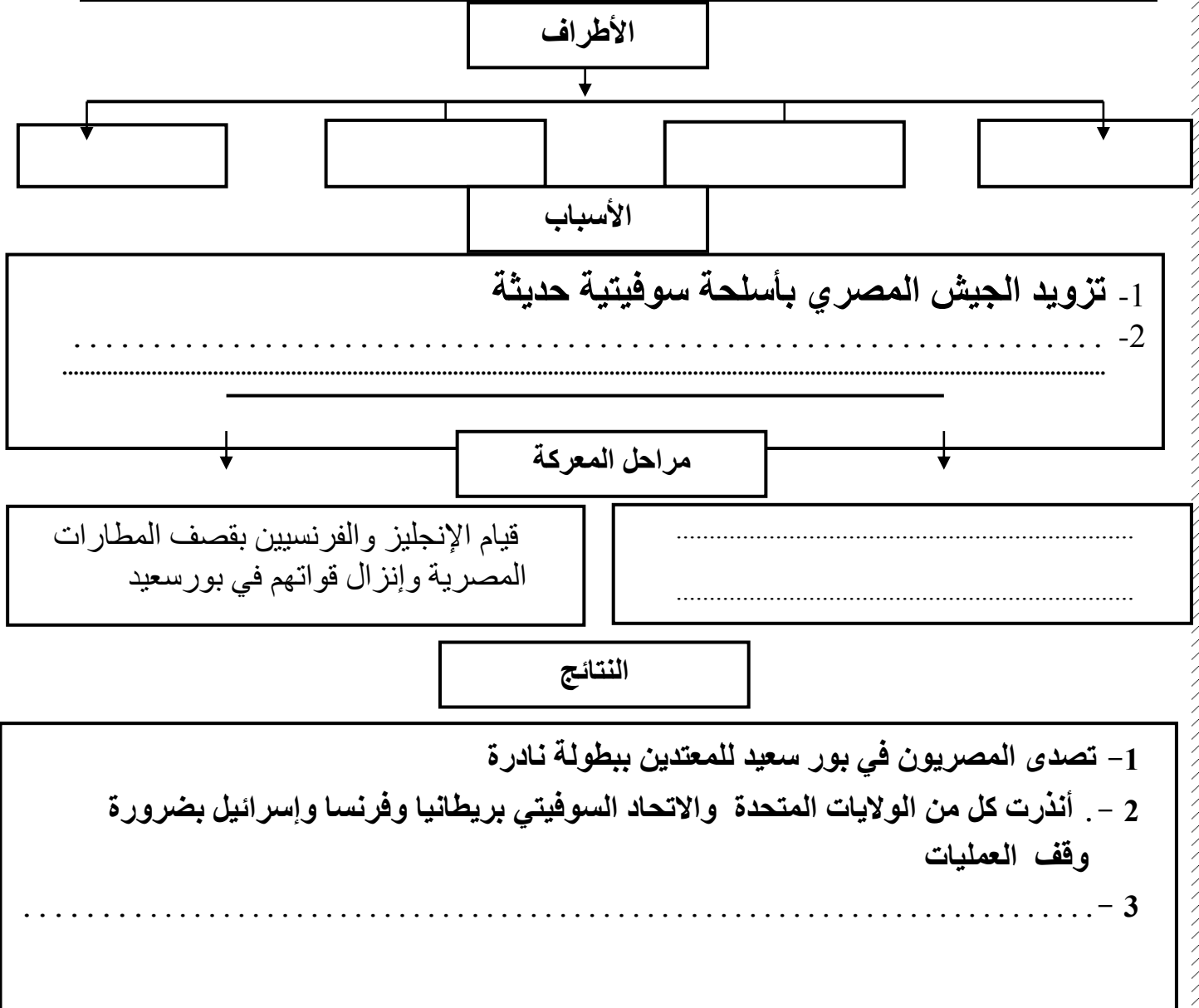
****س4 علل اندلاع الثورة المغربية الشاملة عام 1953م**

(4) الحروب العربية الإسرائيلية

**س1: أكمل العبارات التالية

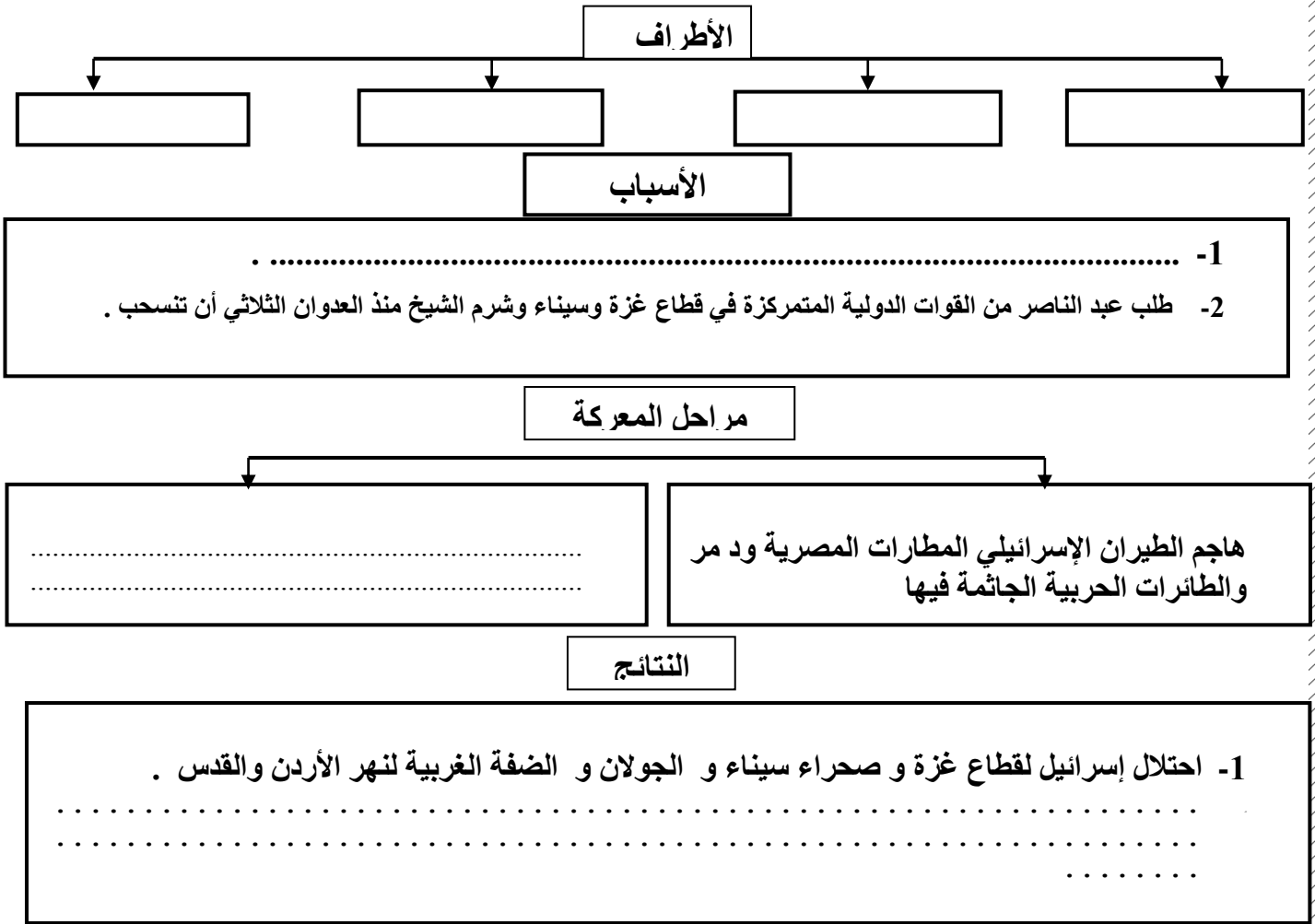
- 1- الدولة التي اقترحت تقسيم فلسطين عام 1947م هي
- 2- تم إعلان قيام دولة إسرائيل عام 1948م على يد
- 3- كانت أول الدول التي اعترفت بدولة إسرائيل هي و
- 4- اغتال اليهود عام 1948م الوسيط الدولي الكونت
- 5- انتهت الحرب العربية - الإسرائيلية الأولى بعقد اتفاقيات هدنة في جزيرة

***س2: أكمل الرسم التخطيطي التالي عن الحرب العربية الإسرائيلية الثانية عام 1956م



(تابع : الصراع العربي الإسرائيلي)

***س1: أكمل الرسم التخطيطي التالي عن الحرب العربية الإسرائيلية الثالثة عام 1967م



*س2: ضع دائرة حول الإجابة الصحيحة فيما يأتي:

- 1- قامت الحرب العربية الإسرائيلية الرابعة عام 1973 بين إسرائيل و:
(أ) مصر و سوريا (ب) مصر والأردن (ج) مصر وفلسطين (د) سوريا والأردن
- 2- قامت الحرب العربية الإسرائيلية الرابعة في يوم :
(أ) السادس من رمضان (ب) العاشر من رمضان (ج) العاشر من شوال (د) السادس من شوال
- 3- اجتاز الجيش المصري قناة السويس ودمر خط :
(أ) هرتيزل (ب) الاستواء (ج) بارليف (د) مانير
- 4- الدولة الغربية التي دعمت إسرائيل في الحرب العربية الإسرائيلية الرابعة أنقذتها من هزيمة حتمية هي :
(أ) الولايات المتحدة (ب) هولندا (ج) بريطانيا (د) فرنسا
- 5- عقد مؤتمر للفصل بين إسرائيل والقوات على الجبهة المصرية والجبهة السورية في مدينة :
(أ) بازل (ب) باريس (ج) برلين (د) جنيف

(5) تأسيس المملكة العربية السعودية

*س1: ضع علامة (√) أمام العبارات الصحيحة ، وعلامة (×) أمام العبارات الخاطئة فيما يلي :

- 1- () نجحت الحملة المصرية التي أرسلها " محمد علي باشا" في القضاء النهائي على أمير نجد
- 2- () تولى أمير نجد " محمد بن سعود " نشر فكر الشيخ محمد بن عبد الوهاب في شبه الجزيرة العربية
- 3- () سيطر " آل رشيد " على نجد عام 1890م بمساعدة " العثمانيين.
- 4- () قضى عبد الرحمن آل سعود على حكم آل رشيد في الرياض عام 1902م على رأس 40 رجلاً
- 5- () انتصر عبد العزيز آل سعود على القوات العثمانية في نجد فانسحبت عام 1906م .
- 6- () سيطر عبد العزيز على الأحساء عام 1914م ووسّع نفوذه إلى سواحل الخليج

**س2: أكمل ما يلي :

- 1- وقع عبد العزيز معاهدة تحالف مع..... بشرط معاملة الشريف حسين كملك على الحجاز فقط
- 2- لم تلتزم بريطانيا بالمعاهدة مع عبد العزيز آل سعود لحاجتها ل.....في الثورة على الأتراك
- 3- غضب واستاء عبدالعزيز آل سعود من الشريف حسين عام 1918م بسبب
- 4- انتصر عبدالعزيز على الشريف حسين في عام 1924م وسيطر على
- ثم سيطر على عام 1925م
- 5- في عام 1926م سيطر عبد العزيز آل سعود على إقليم
- 6- اعترض إمام اليمن يحيى حميد الدين على ضم عسير للسعودية فقامت حرب بينهما انتهت بتوقيع معاهدة.....
- 7- اعلن عبد العزيز آل سعود قيام المملكة العربية السعودية عام

**س3: أكمل الجدول التالي عن معاهدة الطائف

المعاهدة	الأطراف المشتركة	النتائج
معاهدة الطائف	1-
	2-

**س3: وضّح خطوات عبدالعزيز وأولاده على طريق التقدم والاستقرار .

- *
- *

**س3: ضوء دراستك لمسيرة تأسيس المملكة العربية السعودية رتب الأحداث التالية ترتيباً زمنياً على الخط الزمني أدناه

إعلان تأسيس المملكة العربية السعودية - سيطر عبد العزيز آل سعود على الأحساء عام 1912م - السيطرة على مكة
القضاء على حكم آل رشيد في الرياض - معاهدة الطائف - إخضاع عسير - استسلمت المدينة المنورة

1902م	1912م	1924م	1925م	1926م	1932م	1934م
-------	-------	-------	-------	-------	-------	-------

(6) اليمن

س1- علل: أ - لم تتمكن الدولة العثمانية من السيطرة الفعلية على اليمن .

- 1-
- 2-

ب- عقد مشايخ منطقة جنوب شبه الجزيرة العربية اتفاقيات مع بريطانيا

- 1-
- 2-

ج- تدخل بريطانيا بشؤون جنوب شبه الجزيرة واحتلالها عدن عام 1839

س2: أكمل الأحداث في الجدول التالي.

الحدث	الأطراف المشتركة	الأسباب	النتائج
الثورة اليمنية ضد الأتراك 1918-1904	1-	1-
المعاهدة (اليمنية - البريطانية) 1934م	3-	1-
	4-	2-

س3: ما أهم إسهامات اليمن بين عامي 1934-1958م في المجتمع الدولي ؟

- 1 -
- 2 -
- 3 -

س4: اكتب عن أهم الأحداث التي حدثت باليمن في السنوات التالية : حتى عام 1990م .

- أ) 1962م :
- ب) 1968م :
- ج) 1990م :

(7): استقلال دول الخليج العربي 1

*س1: ضع علامة (√) أمام العبارات الصحيحة ، وعلامة (×) أمام العبارات الخاطئة فيما يلي :

- 1- () شكل الخليج العربي في القرون الوسطى منطقة هامة للتجارة ودخل في التنافس الاستعماري
- 2- () نجحت فرنسا في السيطرة على منطقة الخليج في القرن 18 م
- 3- () عقدت بريطانيا معاهدات تحالف مع مشايخ الخليج لتأمين طريقها إلى اليمن .
- 4- () تفردت بريطانيا بالسيطرة على الخليج بعد اكتشاف النفط

***س2: علل :- السيطرة البريطانية على الخليج وعقدها معاهدات التحالف مع مشايخ المنطقة .

-
-

*س3- تابع حركات التحرر العمانية والنضال من أجل الوحدة والاستقلال .

- أ- طرد العمانيون البرتغاليين من الساحل العماني بمساعدة
- ب- طرد الشيخ " أحمد بن سعيد " الفرس عام من عمان بمساعدة
- ت- انتفض العثمانيون على الحماية البريطانية عام 1913 واختاروا الشيخ " إماماً للبلاد.
- ث- انقسمت عمان إلى سلطتين حكومة الخروصي في المنطقة و حكومة البوسعيد في
- ج- في 1955 تم ضم عمان إلى مسقط على يد السلطان
- ح- حصلت عمان عام 1971 م على الاستقلال في عهد السلطان

س4- ضع دائرة حول الإجابة الصحيحة فيما يأتي:

- 1- قدم آل ثاني في بداية القرن 18م من إقليم في نجد
 - أ) الأفلاج (ب) الوشم
 - ب) (ج) سدير
 - ج) (د) الرياض
- 2- في عام 1851م أصبح الشيخ محمد بن ثان حاكماً للذوذة وحافظ على ولائه ل.
 - أ) آل خليفة (ب) آل سعود
 - ب) آل نهيان (ج) آل صباح
 - ج) (د) آل صباح
- 3- عقد الشيخ عبد الله بن قاسم في الحرب الأولى معاهدة تحالف مع :
 - أ) فرنسا (ب) البرتغال
 - ب) بريطانيا (ج) اسبانيا
 - ج) (د) اسبانيا
- 4- حصلت قطر عام 1971 على الاستقلال في عهد الشيخ :
 - أ) عبد الله بن قاسم (ب) علي بن عبد الله
 - ب) (ج) خليفة بن أحمد
 - ج) (د) أحمد بن علي بن عبد الله
- 5- تم إرساء قواعد جديدة في الحكم والانفتاح على العالم في عهد الشيخ :
 - أ) خليفة بن أحمد (ب) حمد بن خليفة آل ثان
 - ب) (ج) علي بن عبد الله
 - ج) (د) أحمد بن علي بن عبد الله

س5: ما النتائج المترتبة : أ- على استقلال قطر عام 1971م .

-
ب- تسلم حمد بن خليفة آل ثاني الحكم في قطر عام 1995م

(8) استقلال دول الخليج العربية (2)

س1: أكمل الجمل التالية بالكلمات الصحيحة من خلال دراستك للفقرة الأولى:

- أ) هاجر آل الصباح من نجد إلى الكويت في القرن 18م، وكان أول حكامها من آل صباح
ب) كانت الكويت في القرن 18 م خاضعة للحكم
ج) عقدت معاهدة الحماية عام 1899م بين الكويت وبريطانيا في عهد الشيخ
د) شهدت الكويت نهضة اجتماعية وعلمية في عهد الشيخ
س2 علل : عقدت بريطانيا معاهدة 1899 مع الكويت .

س3 : قارن في الجدول التالي بين أهم انجازات الشيخ أحمد الجابر الصباح والشيخ عبد الله السالم الصباح في الكويت

انجازات الشيخ عبد الله السالم الصباح	انجازات الشيخ أحمد الجابر الصباح
•	•
•	•
•	•
•	•

س4: في ضوء دراستك لمسيرة دولة الكويت نحو الوحدة والاستقلال، أكمل الخط الزمني أدناه :

--	--	--	--	--	--

1960م

1950م

1936م

1921م

1899م

س5: في ضوء دراستك لمسيرة دولة الإمارات العربية نحو الوحدة والاستقلال، رتب الأحداث التالية ترتيباً زمنياً على الخط الزمني أدناه :

(قيام اتحاد فدريالي بين أبوظبي ودبي - الإمارات العربية المتحدة دولة مستقلة - بروز إمارة أبوظبي ودبي -

توحيد النقد بين إمارة أبوظبي ودبي - قيام " اتحاد الإمارات العربية " السبع)

	• 18 فبراير		
	• 27 فبراير		

1971م

1968م

1965م

1960م

س6: ما أهم النتائج المترتبة على استقلال الإمارات عام 1971م:

س7: صحح ما تحته خط في الجمل التالية:

- 1- عرفت الإمارات العربية المتحدة في القرن 19 م باسم الساحل المتحالف .
- 2- كان سكان ساحل الإمارات في بدايات القرن 19 يعتمدون على النفط .
- 3- قام اتحاد فدرالي عام 1968م بين أمرتي أبو ظبي والشارقة .
- 4- في عام 1971م تم انتخاب أول حاكم لإمارات العربية المتحدة وكان الشيخ راشد بن سعيد آل مكتوم (9)البرتغاليون في البحرين

****س1 أكمل ما يلي :**

- 1- كانت البرتغال الدولة المسيطرة استعماريا معظم سنوات القرن
- 2- تمكن البرتغاليون من السيطرة على البحرين في عام
- 3- تمكن الفرس عام 1561 م من السيطرة على قلعة من البرتغاليون.
- 4- استنجد أمراء الخليج بالسلطان العثماني للتخلص من البرتغاليون.
- 5- وجه السلطان العثماني أوامره لوالي مصر.....بتوجيه حملة مصرية للخليج لطرده البرتغاليون
- 6- تمكن الأسطول المصري من السيطرة على كل منو.....وفتحت حصون على ساحل

****س2- علل: أ- عدم تمكّن البرتغال من بسط سيطرتها الكاملة على الخليج بالقرن 16م**

(أ)

(ب)

****ب- استنجد امراء الهند المسلمين وعرب الخليج بالدولة العثمانية.**

****ج- سم الأسر العربية التي حكمت البحرين من القرن 16م حتى القرن 18م ؟**

*

*

****س3: اختر الإجابة الصحيحة من البدائل التالية :**

- 1- الدولة تمكنت من السيطرة على هرمز عام 1620 بالتحالف مع الإنجليز هي .
أ - العثمانية (ب) الفارسية (ج) الهولندية (د) البرتغالية
- 2- تولى آل خليفة الحكم في القرن :
أ - السابع عشر (ب) الثامن عشر (ج) التاسع عشر (د) العشرون
- 1- ارسم خريطة الخليج العربي بين القرنين 16 و17م
- 2- ما أبرز خصائص التطور السياسي في البحرين خلال القرنين 17 و18 م .

.....

.....

.....

.....

.....

(10) هجرة آل خليفة إلى البحرين

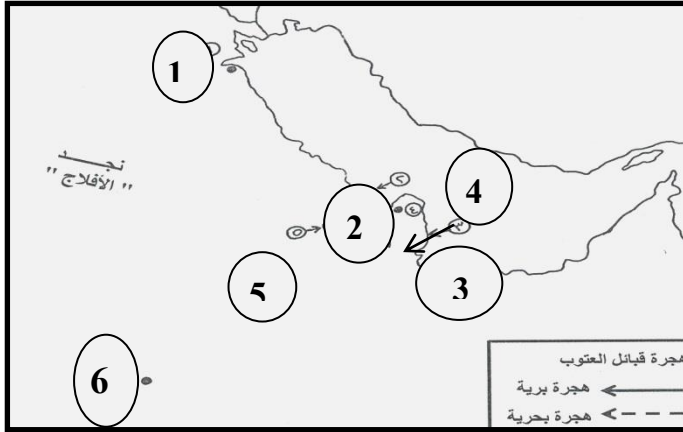
س1: أكمل ما يلي:

- 1- هاجر آل خليفة في القرن م من منطقة في نجد إلى.....
 - 2- كانت هجرة آل خليفة الثانية من إلى.....
 - 3- انتقل فرع من آل خليفة برئاسة الشيخ..... إلى قطر عام 1762م.
 - 4- استقر الشيخ محمد بن خليفة في وهي مدينة تقع في شمال قطر وتشتهر بصيد.....
- س2: علل : التف سكان الزيارة حول الشيخ محمد بن خليفة.

س3- أكمل الجدول التالي عن معركة الزيارة .

المعركة	الأطراف المتنازعة	نتائج المعركة
الزيارة	1-	1-
	2-	2-
	3-	3-

س4- من خلال دراستك لهجرة آل خليفة اكتب ما تمثله دلالات الأرقام الواردة على الخريطة بالجدول التالي:



أولاً : دول وصل إليها آل خليفة في هجرتهم إلى نجد

- 1-
 - 2-
 - 3-
- ثانياً : مناطق ومدن وصل إليها آل خليفة في هجرتهم إلى نجد
- 4-
 - 5-
 - 6-

س5: إلى من تنسب الأعمال الآتية :

- 1- نقل مقر حكمه إلى البحرين نهائياً عام 1797
 - 2- واحد من عشائر العتوب استعان به الشيخ سلمان بن أحمد الفاتح لاستعادة البحرين عام 1810م
- س6: علل : تخلى الشيخ سلمان بن أحمد الفاتح عن البحرين وعاد إلى الزيارة

(11) البحرين من 1821 م إلى 1973م

** س 1 : أكمل ما يلي

- 1 - استمر الشيخ سلمان بن أحمد الفاتح في الحكم حتى عام
 - 2- آلت السلطة في البحرين عام 1869 إلى الشيخ
 - 3- كان الخطر الاستعماري الأكبر في القرن 19 م في منطقة الخليج مصدره
 - 4- انعقدت آخر معاهدة بين بريطانيا والبحرين والتي أرست نفوذ بريطانيا على العلاقات مع البحرين عام
- س2: * علل : ما يدل تعدد المعاهدات بين بريطانيا والبحرين ؟

س3: * ما الإجراءات التي اتخذتها بريطانيا في البحرين أثناء الحرب العالمية الأولى ؟

*س4: تتبع ردود الفعل الوطنية في البحرين في مواجهة التدابير البريطانية في البحرين .

الفترة	ردود الفعل الوطنية في البحرين	النتائج
خلال الحرب العالمية الأولى والعشرينيات	انعقاد مجلس وطني سنة 1923م	
الثلاثينيات	ظهرت في البحرين فئات اجتماعية جديدة مثل عمال النفط وطلاب المدارس وشعور الناس بالاستياء والحاجة للإصلاح	
الأربعينيات	صدرت جريدة وكان له دور مشهود في هذه المجلة	
الخمسينيات	- أصبحت الحركة الوطنية أكثر شعبية	-

***س5- ضع دائرة حول الإجابة الصحيحة فيما يأتي:

1- المناضل الذي أقنع حاكم البحرين بإنشاء مجلس تأسيسي للحد من التدخل البريطاني في شئون البحرين (أ) عبد الوهاب الزباني (ب) عبد الرحمن الباكر (ج) عبد الرحمن آل فاضل (د) عبدالله بن قاسم

2- وطني بحريني كان له دور مشهود في نشاط مجلة صوت البحرين التي نادى باستقلال البحرين . (أ) عبد الوهاب الزباني (ب) عبد الرحمن الباكر (ج) عبد الرحمن آل زايد (د) عيسى بن علي

3- مستشار عينته بريطانيا لدى حكومة البحرين .

(أ) الفونسو البوكيرك (ب) يو ثانت (ج) بلغريف (د) باركر

(12) تأسيس الدول العصرية

*س1: ضع علامة (✓) أمام العبارات الصحيحة ، وعلامة (×) أمام العبارات الخاطئة فيما يلي :

- 1- () شهد المجتمع في البحرين نهضة حديثة منذ ثلاثينيات القرن العشرين حيث انتشر المذيع وزاد عدد الطلاب
 - 2- () شاركت البحرين قبل الاستقلال سياسياً في بعض لجان الجامعة العربية.
 - 3- () أرسلت الأمم المتحدة إلى البحرين بعثة لتقصي الحقائق للوقوف على آراء السكان بشأن مستقبلهم السياسي عام 1973م
 - 4- () جاء في تقرير لجنة تقصي الحقائق تطلع أهل البحرين لدولة عربية مستقلة ذات سيادة
 - 5- () رفض مجلس الأمن بالإجماع تقرير بعثة تقصي الحقائق في البحرين في 11 مايو 1971م
- ***س2: متى تم إعلان استقلال البحرين ؟ ومن أعلنه ؟

***س3: ما النتائج المترتبة على إعلان بيان استقلال البحرين 14 أغسطس 1971م

- 1-
- 2-
- 3-
- 4-
- 5-

*س4: ضوء دراستك لمسيرة استقلال البحرين رتب الأحداث التالية ترتيباً زمنياً على الخط الزمني أدناه :

تولى جلالة الملك حمد الحكم - إعلان بريطانيا أنها ستسحب منطقة الخليج - البحرين عضو في الأمم المتحدة - استقلال البحرين - بعثة الأمم المتحدة لتقصي الحقائق في البحرين - البحرين عضو في جامعة الدول العربية

	11 سبتمبر			
	21 سبتمبر			

1971م

14 أغسطس 1971م

مارس 1970م

1968م

س5: بين العوامل التي ساعدت على اتجاه البحرين نحو بناء دولة جديدة .
على الصعيد الاجتماعي

- 1-
- 2-
- 3-
- 4-

الصعيد السياسي :

- 1-
- 2-
- 3-
- 4-

س1 صنف مجالات النهضة في البحرين بوضع علامة (√) أمام كل إنجاز في (المجال الاقتصادي - المجال السياسي - المجال الاجتماعي - البنية الأساسية) حسب الجدول التالي:

المجال الاجتماعي	البنية الأساسية	المجال الاقتصادي	الإنجازات
			1- افتتاح مطار البحرين 1972م
			2- أضيفت صناعات متطورة أهمها صناعة الألمونيوم
			3- تطورت الطرق التقليدية إلى مدن عصرية
			4- انتشرت الخدمات الأساسية (التعليمية والصحية والثقافية)
			5- افتتاح جسر الملك حمد 1986م
			6- احتلت البحرين المرتبة 39 عالمياً والثالثة عربياً ضمن البلاد ذات التنمية البشرية المرتفعة
			7- اتسع النشاط البنكي وازدهرت التجارة
			8- العناية بالطرق والجسور
			9- أنشأت البحرين هياكل عصرية في كل المجالات
			10- تنويع الإنتاج للحد من الاعتماد على النفط
			11- إنشاء مدن جديدة مثل مدينة عيسى ومدينة زايد

**س2: أبرز مجالات النهضة السياسية في البحرين خلال الألفية الجديدة .

- 1-
- 2-
- 3-
- 4-
- 5-

س3: دلل على نجاح الدولة في البحرين في إنشاء مجتمع عصري .

- 1-
- 2-
- 3-

س4: ضع علامة (√) أمام العبارات الصحيحة ، وعلامة (×) أمام العبارات الخاطئة فيما يلي :

- 1- () في الألفية الجديدة توسعت الخدمات العلمية والصحية والإسكان في البحرين
- 2- () توالى الانتخابات في البحرين كل خمس سنوات .
- 3- () زادت نسبة البطالة في البحرين في الألفية الجديدة .
- 4- () انضمت البحرين إلى جامعة الدول العربية في 21 سبتمبر 1971 .
- 5- () أعلن الشيخ خليفة بن سلمان بيان الاستقلال نيابة عن أخيه الشيخ عيسى بن علي عام 1971 م .

(13) دور البحرين على المستويين العربي والدولي

*س1: ضع علامة (√) أمام العبارات الصحيحة ، وعلامة (×) أمام العبارات الخاطئة فيما يلي :

- 1- () كانت البحرين سباقة إلى تطوير مؤسساتها بعد الاستقلال بسبب انفتاحها على الخارج و تفاعلها مع حضارة العصر.
- 2- () تفاعلت البحرين مع القضايا العربية عامة والقضية الفلسطينية خاصة
- 3- () تأسس الحوض الجاف في البحرين بالتعاون مع منظمة الدول العربية المصدرة للنفط في المجال السياسي
- 4- () تأسست وكالة أنباء الخليج في البحرين عام 1978 م .
- 5- () إنشاء جامعة الخليج العربي في البحرين عام 1979 م تعاون في المجال الثقافي

***س2: وضّح دور البحرين الفاعل في الوطن العربي بعد حصولها على الاستقلال .

أ - التفاعل مع القضايا العربية عامة والقضية الفلسطينية خاصة.

ب-

ج - توثيق العلاقات مع الدول العربية الشقيقة.

د -

هـ - تأسيس وكالة أنباء الخليج في البحرين 1976م

ز -

***س3: وضّح دور البحرين في حل القضايا والمشكلات المعاصرة في العالم .

أ-

ب-

ت-

ث-

ج-

ح-

خ-

***س4: صنف أدوار البحرين على المستوى الدولي بوضع (√) أمام كل إنجاز حسب الجدول التالي

الإنجازات			قضايا سياسية	قضايا اجتماعية واقتصادية	قضايا إنسانية
1-	شاركت في اجتماعات الأمم المتحدة لتحقيق السلام والأمن والعدل في العالم				
2-	اهتمت بمشاكل إنسانية كبرى كالتمييز العنصري ونزع السلاح ومكافحة الإرهاب				
3-	شاركت في اجتماعات المؤتمر الإسلامي .				
4-	أسهمت في معالجة بعض المشاكل السياسية والاقتصادية في أفريقيا و في حل مشكلة قبرص				
5-	دخلت في كتلة دول عدم الانحياز				
6-	أكدت على تسوية أزمة الشرق الأوسط وإشراك جميع الأطراف بما فيها الطرف الفلسطيني				
7-	ترأست الشيخة هيا آل خليفة الجمعية العامة للأمم المتحدة في دورتها 61 عام 2006م				

ثانياً المواطنة : التضامن والتعاون الدولي

س1: علل : أصبحت الحاجة ماسة إلى العمل بمبدأ التضامن والتعاون الدولي .
بسبب -

س2: أكمل ما يلي بالكلمات الصحيحة

1. تمتلك الدول المتقدمة حوالي من الناتج الداخلي الخام والدول النامية حسب عام 2004م
2. الكارثة النووية التي وقعت عام 1986م في الإتحاد السوفيتي سابقا تُعرف بكارثة
3. المنظمة الدولية التي تهتم بتقديم الخبرة الفنية في التربية والعلوم والثقافة هي ومقرها
4. المنظمة الدولية التي تتولى الدفاع عن حقوق الطفل هي ومقرها
5. المنظمة الدولية التي تهتم بدعم الزراعة والقضاء على الجوع هي ومقرها
6. مقر برنامج الأمم المتحدة الإنمائي يوجد في
7. يطلق على الجنود الأمميون الذين يتولون حفظ السلام في مناطق النزاعات اسم
8. الأطراف المسؤولة عن التضامن والتعاون الدولي هي و..... و.....
9. من المنظمات التطوعية الأهلية منظمة و..... و.....
10. أكبر العقبات التي تواجه الدول النامية هي مشكلة

س3: ما أهم أهداف منظمة الأمم المتحدة؟

- ↔ المحافظة على السلام والأمن في العالم
↔ تعزيز التضامن والتعاون الدولي في كافة المجالات
↔ إنجاز مشروعات ذات بعد اقتصادي واجتماعي

س4: ما أهم نتائج التضامن والتعاون الدولي؟

س5: كيف يتم إرساء وضع دولي أكثر عدلاً؟ يتم عن طريق عدة شروط هي:

- ↔ تجنب النظر إلى التعاون أنه استعطاف ، والنظر إليه أنه تعاون
↔ مراجعة الأطراف المانحة لتعاملها مع الشعوب النامية خاصة في مستوى الديون
↔ ضمان انتفاع الدول النامية من نمو الاقتصاد العالمي دون تهميش أو إقصاء .
↔ ضرورة أن يتلائم النمو الاقتصادي مع التنمية الشاملة

س5: ما هي الثوابت التي تستند إليها البحرين في سياستها الخارجية؟

- ↔ القراءة المتأنية والمتزنة للوضع العالمي
↔ الالتزام بالمبادئ و المواثيق الدولية في معالجة المشكلات
↔ التفاعل مع قضايا العصر ومشكلاته
↔ بناء علاقات شراكة وتعاون مع مختلف دول العالم

س6: وزع الدوائر التي تقوم عليها علاقات البحرين الدولية .

س7 ما المقصود بالمصطلحات التالية :

1- الناتج المحلي الخام

2- المساعدات العمومية

3- الدخل القومي الإجمالي

4- التنمية

5- مفاعل تشرنوبيل

القانون الدولي الإنساني

س:1 ما المقصود بالقانون الإنساني الدولي؟

س:2 فرق بين النزاع المسلح الدولي والنزاع المسلح غير الدولي

النزاع المسلح غير الدولي	النزاع المسلح الدولي
.....
.....
.....

س:3 أكمل ما يلي بالكلمات الصحيحة

11. كانت بداية القانون الإنساني الدولي في منتصف القرن الميلادي
12. تمثل اتفاقيات المرجع الأساسي للقانون الإنساني الدولي .
13. أنشأت المحكمة الجنائية الدولية عام.....م

س:4 علل - يحظى الأطفال بعناية خاصة في القانون الدولي.

1. لأنهم لا يشاركون مباشرة في الحرب
2. حظر أعمال الإكراه والإيذاء البدني والتعذيب والعقوبات الجماعية
3. حظر بعض مواد التجنيد الإجباري في القوات المسلحة
4. توجد في اتفاقية جنيف 25 مادة تعني بالأطفال وحمائهم إضافة إلى حقوق الطفل
- 5- كان الإسلام سباقاً في تشريع حقوق الإنسان واحترامها في السلم والحرب .

س:6: قارن بين القانون الإنساني الدولي والإعلان العالمي لحقوق الإنسان ؟

المقارنة	القانون الدولي الإنساني	الإعلان العالمي لحقوق الإنسان
الاختلاف	1- يتم تطبيقه في الظروف الاستثنائية 2- تقتصر أحكامه في النزاعات المسلحة فقط	a. يعمل به في كل الظروف وعلى جميع الأشخاص b. قد يتم تعليق أو تقييد بعض الحقوق في الطوارئ العامة مثل حق التجمع والتنقل
التشابه		

س:1: أكمل ما يلي بالكلمات الصحيحة

- 1- الأطراف المسؤولة عن تنفيذ القانون الإنساني الدولي هي و..... و
- 2- بلغ عدد الدول التي صادقت على القانون الإنساني الدولي دولة .
- 3- أقتبست شارة الصليب الأحمر الدولي من علم دولة
- 4- أول من اتخذ إشارة الهلال الأحمر هي الدولة أثناء حربها مع
- 5- يتم وضع الشارات الخاصة بالهيئات والمنظمات الدولية على

س:2: علل: أهمية الشارات الخاصة بالهيئات الدولية مثل الهلال الأحمر والصليب الأحمر.

س:3: عدد الإجراءات التي اعتمدت عليها الأمم المتحدة في برنامج "العقد الدولي لثقافة السلام والملاعف للأطفال

-
-
-
-

س4- ما هي الوسائل التي اتبعتها الأمم المتحدة لنشر ثقافة السلام؟ وما الوسائل البديلة في حال الفشل؟

.....

.....

.....

الوسائل البديلة

.....

.....

.....

حوار الحضارات

س:1 ما المقصود بالحوار وما نتائجه؟

.....

وإيضاً :

نتائجه :

س2: ما هي العوامل التي تؤدي إلى نشأة حوار بين الحضارات؟

.....

.....

.....

س3: عدد أهم شروط الحوار بين الحضارات

.....

.....

.....

س4: علل؟ لفهم الآخر نتائج متعددة.

- الاحتكام إلى الموضوعية في تقدير الخلاف .
- اعتبار الاختلاف عنصر ثراء وتكامل .
- تخير الحلول الملائمة من أوساط حضارية مختلفة .
- اعتبار البحث عن نقاط الالتقاء هدفاً أساسياً للحوار .

س5- ما أهم نتائج الاعتزاز بالانتماء الحضاري؟

.....

.....

.....

س6- كيف وفرت البحرين إطاراً عاماً للحوار؟

- الاهتمام بالقضايا الإنسانية مثل احترام حقوق الإنسان ونزع السلاح ورفض الحرب ومكافحة الإرهاب وتأكيد الحق في مقاومة الاحتلال.
- توفير مناخ داخلي من التسامح بين كل الأديان والطوائف.
- اعتماد سياسة خارجية قوامها احترام الإتفاقات الدولية والثنائية.
- إقامة عديد الندوات والمؤتمرات في موضوع حوار الأديان مثل مؤتمر حوار الحضارات الذي عقد بالمنامة عام 2008 م.

س7: برأيك ما هي المعوقات التي تحد من فاعلية الحوار بين الحضارات؟

.....

.....