

تم تحميل هذا الملف من موقع المناهج البحرينية



* للحصول على أوراق عمل لجميع الصفوف وجميع المواد اضغط هنا

<https://almanahj.com/bh>

* للحصول على أوراق عمل لجميع مواد الصف التاسع اضغط هنا

<https://almanahj.com/bh/9>

* للحصول على جميع أوراق الصف التاسع في مادة علوم ولجميع الفصول, اضغط هنا

<https://almanahj.com/bh/9science>

* للحصول على أوراق عمل لجميع مواد الصف التاسع في مادة علوم الخاصة بـ الفصل الأول اضغط هنا

<https://almanahj.com/bh/9science1>

* لتحميل كتب جميع المواد في جميع الفصول للـ الصف التاسع اضغط هنا

<https://almanahj.com/bh/grade9>

[almanahjbhbot/me.t//:https](https://t.me/almanahjbhbot)

للتحدث إلى بوت على تلغرام: اضغط هنا

ورقة عمل درس / التيار الكهربائي

الاسم/

الفصل/




س1: أكمل العبارات التالية:

1- تزود البطارية الدائرة الكهربائية بالطاقة من خلال التفاعل المنتج للالكترونات فيها

2- تقاس المقاومة الكهربائية بوحدة الاوم

3- للنحاس مقاومة كهربائية منخفضة لذلك يعتبر من أفضل المواد الموصلة للكهرباء فهو لا يسخن ولا يسبب حرائق .

س2: على ماذا يدل كل رمز مما يلي:

الرمز	الدلالة
	بطارية - مقاومة - فولتميتر - مصباح
	مفتاح كهربائي - مقاومة - بطارية - مصباح
	أميتر - مفتاح كهربائي - بطارية - مصباح

س3: اكتب البيانات على الرسم التالي:

