

تم تحميل هذا الملف من موقع المناهج البحرينية



* للحصول على أوراق عمل لجميع الصفوف وجميع المواد اضغط هنا

<https://almanahj.com/bh>

* للحصول على أوراق عمل لجميع مواد الصف التاسع اضغط هنا

<https://almanahj.com/bh/9>

* للحصول على جميع أوراق الصف التاسع في مادة اجتماعيات ولجميع الفصول, اضغط هنا

<https://almanahj.com/bh/9social>

* للحصول على أوراق عمل لجميع مواد الصف التاسع في مادة اجتماعيات الخاصة بـ الفصل الثاني اضغط هنا

<https://almanahj.com/bh/9social2>

* لتحميل كتب جميع المواد في جميع الفصول للـ الصف التاسع اضغط هنا

<https://almanahj.com/bh/grade9>

* لتحميل جميع ملفات المدرس عبد الشهيد سرحان اضغط هنا

للتحدث إلى بوت على تلغرام: اضغط هنا

https://t.me/omcourse_bot

مراجعة نهاية الفصل الدراسي الثاني في المواد الاجتماعية والمواطنة للصف الثالث الإعدادي

• السؤال الأول: (أولا):- ضع دائرة حول رمز الإجابة الصحيحة من بين العبارات الآتية:

١- الرئيس المصري الذي ألقى الانجليز عن قناة السويس ثم أممها عام ١٩٥٦م:
أ- جمال عبد الناصر
ب- محمد نجيب
ج- فؤاد الأول
د- أنور السادات

٢- نشطت الحركة الفكرية المنادية بتحرير البحرين في فترة الأربعينات بصدر مجلة:
أ- هنا البحرين
ب- صدى الأسبوع
ج- صوت البحرين
د- صوت الخليج

٣- الدولة التي اختارت رمز الهلال كشارة مميزة لمساعدة الضحايا في حربها مع روسيا:
أ- ألمانيا
ب- الدولة العثمانية
ج- فرنسا
د- سويسرا

٤- جميع المنظمات التالية تابعة للأمم المتحدة ما عدا:
أ- أطباء بلا حدود
ب- اليونيسيف
ج- اليونسكو
د- الفاو

٥- يبلغ عدد الدول التي صادقت على القانون الدولي الإنساني:
أ- ١٩٤ دولة
ب- ١٩٥ دولة
ج- ١٩٦ دولة
د- ١٩٧ دولة

٦- بدأت أول خطوة للاتحاد في دولة الإمارات عام ١٩٦٥م بين إمارتي:
أ- دبي والشارقة
ب- رأس الخيمة والشارقة
ج- أبوظبي ودبي
د- عجمان وأم القيوين

٧- تصدى لأطماع حاكم أصفهان، ورد الحملة الفارسية على أعقابها قرابة عام ١٧٨٢م:
أ- محمد بن خليفة
ب- خليفة بن محمد
ج- حمد بن عيسى
د- سلمان بن أحمد

٨- اخضع الملك عبد العزيز آل سعود عام ١٩٢٦م إقليم:
أ- نجد
ب- الحجاز
ج- الإحساء
د- عسير

٩- بلغت المقاومة الليبية ذروتها عام ١٩٢٢م عندما تسلم قيادتها المجاهد:
أ- عبد الكريم الخطابي
ب- عبد القادر الجزائري
ج- الحبيب بورقيبة
د- عمر المختار

١٠- البلد العربي الذي تعرض للاستعمارين الفرنسي والاسباني:
أ- سوريا
ب- المغرب
ج- تونس
د- ليبيا

١١- من المنظمات غير الحكومية والتي تقدم أعمالا تطوعية إنسانية وتنموية:
أ- اليونسكو
ب- منظمة الصحة العالمية
ج- الهلال الأحمر
د- اليونيسيف

١٢- انتفض العمانيون على الحماية البريطانية عام ١٩١٣م، واختاروا إماما لهم أ- محمد بن عبد الله الخليلي
ب- سعيد بن تيمور
ج- احمد بن سعيد
د- سالم بن راشد الخروصي

١٣- الصراع الاستعماري على الخليج العربي كان بين الدول التالية:
أ- الدولة العثمانية- البرتغال- هولندا
ب- بريطانيا- البرتغال- هولندا
ج- بريطانيا - هولندا - ألمانيا
د- بريطانيا - البرتغال - الدولة العثمانية

١٤- انضمت البحرين إلى عضوية جامعة الدول العربية والأمم المتحدة في:
أ- يوليو ١٩٧١ م
ب- اغسطس ١٩٧١ م
ج- سبتمبر ١٩٧١ م
د- أكتوبر ١٩٧١ م

١٥ - منطقة في نجد نزح منها العتوب إلى الإحساء في أواخر القرن ١٧م هي:
أ- الأفلاج
ب- الهدار
ج- الوشم
د- الهوف

١٦- توج نضال حزب الوفد عام ١٩٣٦م بمعاهدة بريطانية مصرية نصت على:
أ- إلغاء النظام الملكي وإعلان الجمهورية
ب- تكون حماية الأجانب من مسؤولية بريطانية
ج- انسحاب جيش الاحتلال البريطاني إلى منطقة القناة
د- اعتراف بريطانيا باستقلال مصر

١٧- إحدى الاتفاقيات التالية تعتبر المرجع الأساسي للقانون الدولي الإنساني:
أ- اتفاقيات جنيف الأربع لعام ١٩٤٩م
ب- اتفاقية لندن
ج- اتفاقية سايبكس بيكو
د- اتفاقية روما

١٨- حظر القانون الدولي الإنساني التجنيد الإجباري للأطفال الذين لم يبلغوا:
أ- ١٨ سنة
ب- ١٩ سنة
ج- ٢٠ سنة
د- ٢١ سنة

١٩ - اقتبست شارة الصليب الأحمر على رقعة بيضاء من علم:
أ- تركيا
ب- اليونان
ج- فنلندا
د- سويسرا

٢٠- تمثلت السياسة التي اتبعها الشيخ عبد الله السالم الصباح لإعمار الكويت في:
أ- تأسيس مدينة الأحمدية
ب- منح الشركات الأجنبية امتياز التنقيب عن النفط
ج- إلغاء المحاكم الأجنبية
د- الموافقة على سكة الحديد بين الأسنانة والبصرة

٢١- نتيجة للمؤتمر الوطني في البحرين عام ١٩٢٣م قامت بريطانيا بتعديل سياستها في البلاد:
أ- بتعيين بلغريف كمستشار لحكومة البحرين
ب- بالتنقيب عن النفط
ج- بسحب قواتها من البحرين
د- بمنح البحرين حكما ذاتيا

٢٢- احد هؤلاء من مشايخ آل خليفة والذي لقب (بالفاتح):
أ- محمد بن خليفة
ب- احمد بن محمد
ج- سلمان بن احمد
د- خليفة بن محمد

٢٣- المنظمة التي تسعى لنشر ثقافة السلام في العالم هي :
أ- منظمة الأغذية والزراعة
ب- اليونسيف
ج- اليونسكو
د- الصليب الأحمر

٢٤- المجاهد المغربي الذي قاد الحركة الوطنية وهزم الأسيان في منطقة الريف:
أ- محمد عبد الكريم الخطابي
ب- علال الفاسي
ج- الحسن الثاني
د- محمد الخامس

٢٥- سلطان المغرب الذي ساند حزب الاستقلال الذي طالب باستقلال المغرب وعروبتها هو:
أ- محمد الخامس
ب- محمد السادس
ج- الحسن الثاني
د- الحسن الثالث

٢٦- حازت بريطانيا سبق في السيطرة على إمارات الخليج العربي في القرن ١٨م عن طريق:
أ- الاحتلال العسكري المباشر
ب- تطبيق نظام الانتداب
ج- التبادل التجاري
د- عقد معاهدات تحالف مع مشايخ المنطقة

(ثانياً) :- صح ما تحته خط في العبارات التالية واكتب العبارة الصحيحة على السطر:

- (١) الدولة الاستعمارية التي سيطرت على الخليج العربي منذ القرن ١٨م هي البرتغال.
- (٢) اتفقت إماراتي دبي و ابوظبي في أول خطوة توحيدية بينهما عام ١٩٦٥م على قيام اتحاد فدرالي.
- (٣) تخلصت البحرين من النفوذ أصفوي في الثاني من القرن ١٨م على يد أسرة آل جبور.
- (٤) الذي وقع معاهدة الحماية بين البحرين وبريطانيا عام ١٨٩٢م هو الشيخ سلمان بن حمد آل خليفة.
- (٥) انتصر آل خليفة على الفرس في معركة الرحلين.
- (٦) وصل آل ثاني إلى قطر في أوائل القرن الثامن نازحين من إقليم الهدار في نجد.
- (٧) اتسعت مدينة الزبارة وازدهرت في عهد الشيخ سلمان بن احمد آل خليفة.
- (٨) الدولة الخليجية التي حصلت على استقلالها عام ١٩٦١م هي عمان.
- (٩) خضعت البحرين في الفترة ما بين ١٥٢٠م و ١٦٠٢م للنفوذ الهولندي.
- (١٠) استقلت البحرين في ١٤ اغسطس ١٩٧١م في عهد الشيخ سلمان بن حمد آل خليفة.
- (١١) استطاع عبد العزيز آل سعود توسيع نفوذ إمارته عام ١٩١٢م بالسيطرة على الحجاز.
- (١٢) مؤسس الحزب الحر الدستوري الجديد في تونس هو الباي محمد المنصف.

٧ السؤال الثاني : علل لما يأتي:

١- قيام الحرب العربية الإسرائيلية الرابعة ١٩٧٣م.

٢- استقلال دول الخليج العربي في النصف الثاني من القرن العشرين .

(أ) (ب)

٣- قيام العدوان الثلاثي على مصر عام ١٩٥٦ م .

.....

٤- الحاجة الى حوار الحضارات.

أ- التنوع الحضاري حافظ للحوار

ب-

ج-

٥- الاتفاق على شارات الحماية واعتمادها دوليا بالنسبة للمنظمات الدولية والغير حكومية.

لتحقيق هدف الهيئات والمنظمات الإنسانية في

.....

٦- التفاف سكان الزبارة حول الشيخ محمد بن خليفة.

.....

٧- التضامن والتعاون الدولي مسئولية جماعية تتولاها عدة أطراف .

أ-

ب-

ت-

٨- قيام الحرب العربية الإسرائيلية الأولى عام ١٩٤٨ م.

.....

٩- السيطرة البريطانية على الخليج العربي وعقد معاهدات التحالف مع مشايخ المنطقة .

أ- ب- ج-

١٠- علل : قيام الحرب العربية الإسرائيلية الثالثة (النكسة الكبرى) عام ١٩٦٧ م .

بسبب قيام جمال عبدالناصر بإغلاق

+ سحب القوات الدولية المتمركزة في

• السؤال الثالث : أكمل العبارات الآتية بما يناسبها :

١- استقلت البحرين وانضمت إلى جامعة الدول العربية والأمم المتحدة في عام [١٩٧١ م] في عهد الشيخ [.....

.....] .

٣- انتصر آل خليفة على الفرس (حاكم أصفهان) في معركة الزبارة في عهد [.....

٤- لقب بالفاتح لأنه فتح البحرين ١٧٨٣ وكان يقيم فيها صيفاً وفي الزبارة شتاءً هو الشيخ [.....

بينما الذي نقل مركز الحكم نهائياً للبحرين ١٧٩٥ هو [.....

٥- الدولة التي سيطرت على البحرين في القرن ١٩ م هي [.....

- ٦ - عقدت البحرين معاهدة حماية ١٨٩٢م مع [] في عهد [] .
- ٧- أعلن البيان الرسمي لاستقلال البحرين عام ١٩٧١م هو الشيخ [] .
- ٨- تولى آل خليفة حكم البحرين في النصف الثاني من القرن ١٨م وخلصوا البلاد من السيطرة [] .
- ٩- ينتسب آل خليفة إلى العتوب من قبيلة عنزة وقد هاجروا في القرن ١٧م من منطقة [] في [] .
- ١٠- الأسرة العربية التي حكمت البحرين قبل وأثناء الاحتلال البرتغالي للبحرين تسمى [] .
- ١١- سلطان عثماني أمر والي مصر سليمان باشا بالقيام بحملة بحرية لتحرير الخليج من البرتغاليين هو [] .
- ١٢- وقعت البحرين في مطلع القرن السادس عشر الميلادي في الفترة ما بين ١٥٢٠-١٦٠٢م تحت السيطرة [] .
- ١٣- يعتبر الاستفتاء على ميثاق العمل الوطني أحد مظاهر النهضة في عهد [] .
- ١٤- استعان الشيخ خليفة في فتح البحرين ببعض الموالين له من العتوب للقضاء على الحماية [] .
- ١٥- رئيس مصري طرد الإنجليز من قناة السويس وأمّمها عام ١٩٥٦م هو [] .
- ١٦- أول رئيس حكومة لبنانية سنة ١٩٤٣م هو [] .
- ١٧- الجنرال الفرنسي الذي أعلن من القاهرة عام ١٩٤١م إلغاء الانتداب على سوريا ولبنان هو [] .
- ١٨- أول رئيس منتخب للجمهورية اللبنانية بعد الاستقلال عام ١٩٤٣م هو [بشارة الخوري]، بينما أول رئيس لسوريا هو [] .
- ١٩- وقع انقلاب بالعراق عام ١٩٤١م أطاح بالنظام الملكي وقطع العلاقات مع بريطانيا بقيادة [] .
- ٢٠- قائد مصري طالب بالاستقلال وأنشأ حزب الوفد ورأس الوزارة في عهد الملك فؤاد يسمى [] .
- ٢١- رئيس عراقي وافق على انضمام العراق إلى حلف بغداد هو [] .
- ٢٢- أول حاكم للكويت هو الشيخ [] .
- ٢٣- الملك الذي وصل إلى حكم مصر عام ١٩١٧م وكلف سعد زغول برئاسة الوزارة هو الملك [] .
- ٢٤- أصبح الشيخ محمد بن ثاني حاكماً على الدوحة، واحتفظ بولائه [] .
- ٢٥- استقلت دولة الامارات العربية المتحدة عام ١٩٧١م في عهد الشيخ [] .
- ٢٧- الأسرة التي سيطرت على نجد بمساعدة العثمانيين عام ١٨٩٠م تسمى [] .
- ٢٨- زعيم الحزب النازي الذي استولى على الحكم في ألمانيا عام ١٩٣٣م () [] .
- ٢٩- زعيم الحزب الفاشي الذي استولى على الحكم في ايطاليا عام ١٩٢٢م () [] .
- ٣٠- الأمير الذي نُصب ملكاً على العراق ١٩٢١م هو [] .
- ٣١- مؤسس دولة الإمارات العربية المتحدة هو الشيخ () [] .
- ٣٢- أدت ثورة الضباط الأحرار في مصر ضد الملك فاروق عام ١٩٥٢م إلى [] .
- ٣٣- أرسى قواعد جديدة في حكم قطر، واتبع سياسة الانفتاح نحو العالم منذ ١٩٩٥م هو [] .
- ٣٤- وصل آل ثاني إلى قطر في القرن ١٨م نازحين من إقليم [] .
- ٣٥- استقلت قطر ١٩٧١م في عهد الشيخ []، بينما استقلت عمان في عهد السلطان [] .
- ٣٦- ثورة عراقية قضت على النظام الملكي وأعلنت الجمهورية تسمى [] .
- ٣٧- اختار الليبيون بعد استقلالهم ملكاً عليهم سنة ١٩٥١م يسمى [] .
- ٣٨- حزب تونسي طالب بالاستقلال بزعامة صالح بن يوسف والحبيب بورقيبة هو [] .
- ٣٩- مجاهد مغربي قاد أخطر ثورة ضد الاحتلال الأسباني للريف هو [] .
- ٤٠- مجاهد مغربي تزعم كتلة العمل الوطني التي نجحت في إفشال المخطط الفرنسي هو [] .
- ٤١- خضعت ليبيا عام ١٩١١م للاستعمار [] .
- ٤٢- أصدر مجلس الأمن القرار رقم ٢٤٢ القاضي بانسحاب إسرائيل من الأراضي العربية المحتلة في الحرب العربية الإسرائيلية [] .
- ٤٣- من المشاكل التي تهدد أمن واستقرار البشرية () [] .
- ٤٤- اعترفت بريطانيا باستقلال الكويت ١٩٦١م في عهد [] .
- ٤٥- اعترفت بريطانيا في معاهدة ١٨٩٩م بإمارة الشيخ مبارك الصباح على الكويت مقابل [] .
- ٤٦- حزب مصري توج نضاله بانسحاب الجيش البريطاني إلى منطقة القناة عام ١٩٣٦م هو حزب [] .
- ٤٧- استنجد أمراء الهند المسلمون وعرب الخليج بالدولة العثمانية للتخلص من [] .

- ٤٨- استولى الفرس عام ٦٢٢م على [] بتحالفهم مع []، ثم طردوا [] من منطقة الخليج بشكل نهائي.
- ٤٩- باي تونس الذي أحرز تأييداً شعبياً خلال الحرب العالمية الثانية هو [].
- ٥٠- من أهم النتائج المترتبة على التضامن والتعاون الدولي (-----).
- ٥١- بدأت الحرب العربية الإسرائيلية الرابعة عام ١٩٧٣م في العاشر من [].
- ٥٢- وقعت السعودية معاهدة الطائف ١٩٣٤م مع [].
- ٥٣- أخذت السعودية موقعاً بارزاً من خلال مشاركتها سنة ١٩٤٥م في تأسيس [].
- ٥٤- تمكن عبد العزيز آل سعود من إعلان قيام المملكة العربية السعودية عام ١٩٣٢م بعد إخضاع إقليم [].
- ٥٥- أسفر التحالف بين بريطانيا والدولة الصفوية في القرن ١٧م عن وقوع البحرين تحت السيطرة [].
- ٥٦- انتصر الإنجليز على الألمان في الجبهة الأفريقية في معركة (-----).
- ٥٧- المشكلات التي تتخطى الحدود الوطنية للدول، ويستدعي حلها إمكانيات لا تمتلكها كل دولة لوحدها هي [] [-----].
- ٥٨- بدأ ظهور القانون الدولي الإنساني في النصف الثاني من القرن [-----].
- ٥٩- انطلقت الأزمة الاقتصادية عام ١٩٢٩م من (-----).
- ٦٠- خسرت روسيا مساحات شاسعة من أراضيها نتيجة لمعاهدة (-----).
- ٦١- القانون الدولي الإنساني (قانون الحرب) هو [هو جزء أساسي من القانون الدولي العام، ويشتمل على مجموعة من القواعد والقوانين التي تهدف إلى حماية الأشخاص وكرامتهم الإنسانية خلال النزاعات المسلحة، والحد من دمار الحروب، وتخفيف معاناة الضحايا غير المشاركين فيها].
- ٦٢- أكبر مشكلة سببتها المساعدات المالية للدول النامية هي [-----].
- ٦٣- اقتبست شارة الصليب الأحمر على رقعة بيضاء من علم [-----] عرفاناً بدورها في مجال [-----].
- ٦٤- الشارة الدولية التي ليس لها أي مدلول سياسي أو ديني، شكلها عبارة عن [-----].
- السؤال الرابع: أكمل الجداول التي أمامك:

(أولاً)- قارن بين الحروب العربية الإسرائيلية من حيث الأطراف المشتركة والنتائج بالجدول التالي:

النتائج	الأطراف المشتركة	الحرب
# اغتيال إسرائيل للوسيط الدولي (برنادوت). # لم يستطع العرب الصمود أمام أسلحة إسرائيل الحديثة فعدوا اتفاقات هدنة مع إسرائيل بجزيرة رودس عام ١٩٤٩	١- لبنان والأردن ومصر ٢- سوريا والعراق إسرائيل	العربية الإسرائيلية الأولى ١٩٤٨
- انسحاب قوات العدوان الثلاثي من مصر بعد إنذارها من أمريكا والاتحاد السوفيتي .	١- { مصر } ٢- { فرنسا + بريطانيا + إسرائيل }	العربية الإسرائيلية الثانية (العدوان الثلاثي) ١٩٥٦
١- احتلال إسرائيل لقطاع غزة + صحراء سيناء + الجولان + الضفة الغربية. ٢- إصدار مجلس الأمن قرار ٢٤٢ القاضي بانسحاب إسرائيل من الأراضي التي احتلتها .	١- { مصر + سوريا + الأردن } ٢- { إسرائيل }	العربية الإسرائيلية الثالثة (النكسة الكبرى) ١٩٦٧
١- إيقاف الدول الكبرى للحرب وفقاً لقرار مجلس الأمن ٣٣٨. ٢- عقد مؤتمر جنيف لفصل القوات على الجبهتين المصرية والسورية .	١- { مصر + سوريا } ٢- { إسرائيل }	العربية الإسرائيلية الرابعة ١٩٧٣

(ثانيا) أكمل الجدول الذي أمامك بحسب البيانات المطلوبة لأحداث التاريخية الآتية :

النتائج	الأطراف المشتركة	الحدث التاريخي
		معركة الزبارة ١٧٨٢م
		مؤتمر ميونيخ ١٩٣٨م
		معاهدة الطائف ١٩٣٤
		اتفاقية رودس ١٩٤٩
		مؤتمر جنيف (١٩٧٤)
		الثورة اليمنية ١٩٠٦م

(ثالثا) قارن بين موقف كل من { العراق+تونس+ليبيا } من الحلفاء بالحرب العالمية الثانية وأسباب اتخاذ ذلك الموقف ونتائجه.

الدولة	موقفها من الحلفاء بالحرب العالمية الثانية	أسباب اتخاذها هذا الموقف	نتائج اتخاذها هذا الموقف
العراق		للتخلص من الحماية البريطانية	
ليبيا		للتخلص من الاستعمار الإيطالي	
تونس		لرغبتهم في الحصول على الاستقلال	

٧ السؤال الخامس: في ضوء دراستك ،،، اجب عن الأسئلة التالية:

١- وضح الخطوات التي اتخذتها البحرين فور إعلان استقلالها ١٩٧١م (النتائج المترتبة على الاستقلال.

أ) ----- (ب) ----- (ج) -----
----- (د) -----

٢. انكر أهداف القانون الدولي الإنساني.

أ) ----- ب) -----
ج) ----- د) -----
هـ) -----

٣- وضح المبادئ التي أكد عليها الإسلام والتي تتفق مع القانون الدولي الإنساني .

أ) ----- ب) -----
ج) ----- د) -----

٤- وضح دور البحرين الفاعل في مجال السياسة الدولية.

أ) ----- (ب) ----- (ج) -----
----- (د) ----- (هـ) -----

٥- بين مظاهر النهضة الحديثة في عهد صاحب الجلالة الملك حمد بن عيسى آل خليفة.

أ) ----- (ب) -----
ج) ----- (د) -----
هـ) ----- (و) -----

٦- بين الأسباب التي أدت إلى قيام الحرب العالمية الثانية (الأسباب المباشرة) ١٩٣٩.

أ) ----- ب) -----
ج) ----- د) -----

٧- بين أوجه الشبه والاختلاف بين الإعلان العالمي لحقوق الإنسان والقانون الدولي الإنساني.
(أوجه الشبه) (أوجه الاختلاف)

يختلفان في الظروف التي يتم فيها تطبيق كل منها، فالإعلان العالمي يُعمل به في كل الظروف، وعلى كل الأشخاص، أما القانون الدولي الإنساني فيُطبق في الظروف الاستثنائية، وتقتصر أحكامه على النزاعات المسلحة.	كلاهما يهتم بحق الإنسان في السلامة البدنية والكرامة وعدم التمييز وحظر المعاملة القاسية والتعذيب.
---	--

٨- بين أبرز الأعمال التي قامت بها الأمم المتحدة في حفظ السلام والأمن الدوليين.

أ) ----- ب) -----
ج) ----- د) -----
هـ) -----

٩- وضح دور البحرين الفاعل في الوطن العربي بعد حصولها على الاستقلال.

أ) ----- (ب) -----
ج) ----- (د) -----

١١- أذكر بنود معاهدة سنة ١٨٩٢م التي وقّعها حاكم البحرين الشيخ عيسى بن علي آل خليفة مع بريطانيا .

- أ) عدم السماح بعقد اتفاقيات مع أي دولة إلا بعد موافقة بريطانيا.
ب) عدم السماح بتأسيس قنصليات أجنبية إلا بعد موافقة بريطانيا.
ج) عدم السماح للبحرين باستخراج أي مواد معدنية أو بترولية إلا بموافقة بريطانيا

١٢- أذكر أمثلة من الثوابت التي تستند إليها مملكة البحرين في سياستها الخارجية.

- أ- القراءة المتأنية المتزنة للوضع العالمي مما يضيفي مصداقية على تحركها. ب- التفاعل مع قضايا العصر ومشكلاته. ج- الحرص على الالتزام بالمبادئ والمواثيق الدولية في معالجتها.

١٣- أذكر نتائج الحرب العالمية الثانية.

- أ-
ب-
ج-

١٤- أذكر أبرز المنظمات والبرامج المتخصصة التي أنشأتها الأمم المتحدة لتعزيز التضامن والتعاون الدولي.

- أ- منظمة الأمم المتحدة للتربية والعلوم والثقافة (اليونسكو).
ب- منظمة الأمم المتحدة للطفولة (اليونيسيف).
ج- منظمة التغذية والزراعة (الفاو).
د- منظمة الصحة العالمية.
هـ- برنامج الأمم المتحدة الإنمائي.

١٥- أبرز دور المملكة العربية السعودية في الوطن العربي.

- أ- المشاركة في تأسيس جامعة الدول العربية. ب- دعم القضايا العربية لاسيما القضية الفلسطينية.
ج- عملت على قيام مجلس التعاون لدول الخليج العربية.

١٦- وضح الخطوات التمهيديّة لاستقلال البحرين .

- أ) أرسل يوثان (الأمين العام للأمم المتحدة) عام ١٩٧٠م بعثة لتقصي الحقائق في البحرين ف جاء في تقريرها بأن الجميع يريدون الاستقلال.
ب) أرسل الشيخ عيسى وفوداً إلى إيران ودول عربية لطلب دعمها في إعلان الاستقلال.

١٧- ما هي الأطراف المسؤولة عن تنفيذ القانون الدولي الإنساني؟

- أ-
ب-
ج-

١٨- ما دور جمعية الهلال الأحمر البحرينية؟

- أ- تقديم مساعدات للضحايا في الدول المحتاجة مثل لبنان و العراق وفلسطين.
ب- المساهمة في التوعية بالقانون الدولي الأساسي.

١٩- ما العناصر المكونة لثقافة السلام كما حددتها المنظمة الدولية للتربية والعلوم والثقافة (اليونسكو) ؟

- أ- احترام الحياة بكل أنواعها.
ب- نبذ العنف.
ج- المشاركة و العطاء.
د- الإصغاء والحوار سبيل للتفاهم.
هـ- التضامن المتجدد.
و- حماية كوكب الأرض.

السؤال السادس:- اختر من العمود (ب) أسماء الشخصيات التاريخية المناسبة للإنجازات المبينة في العمود (أ) ثم اكتب الحرف الدال على الإجابة الصحيحة في المكان المحدد من الجدول:

العمود (ب)	الإجابة الصحيحة	العمود (أ)
أ- عبد الله السالم		١- مؤسس المملكة العربية السعودية عام ١٩٣٢م
ب- سعيد بن تيمور		٢- أظهر بطولة أسطورية في مقاومة الاحتلال الإيطالي عام ١٩٢٢م
ج- محمد الخامس		٣- ألغى المحاكم الأجنبية في الكويت عام ١٩٥٠م
د- يوثان		٤- نصب ملكا على العراق عام ١٩٢١
هـ- عبد الوهاب الزياتي		٥- أخرج الفرس من عمان بمساعدة الانجليز عام ١٧٩٨م
و- عمر المختار		٦- ساند حزب الاستقلال الذي طالب باستقلال المغرب وأكد عروبته
ز- احمد بن سعيد		٧- أصبحت عمان ومسقط عام ١٩٥٥م دولة واحدة في عهد هـ
ح- أحمد بن علي آل ثاني		٨- قاد ثورة الضباط الأحرار ضد الملك فاروق ١٩٥٢م
ط- احمد الجابر الصباح		٩- اقنع حاكم البحرين الشيخ عيسى بن علي بإنشاء مجلس تأسيسي للحد من التدخل البريطاني.
ي- فيصل بن الحسين		١٠- أرسل بعثة الأمم المتحدة لتقصي الحقائق في البحرين عام ١٩٧٠م
ن- جمال عبد الناصر		١١- استقلت قطر في عهده عام ١٩٧١م
ك- سعد زغلول		١٢- شهدت الكويت في عهده اكتشاف النفط وبداية النهضة الحديثة
ل- عبد العزيز آل سعود		١٣- تمكن من توحيد اليمن الشمالي والجنوبي في دولة واحدة
م- حمد بن خليفة آل ثاني		
ع- علي عبدالله صالح		

السؤال السابع: من خلال دراستك نفذ المطلوب من الخرائط التالية:

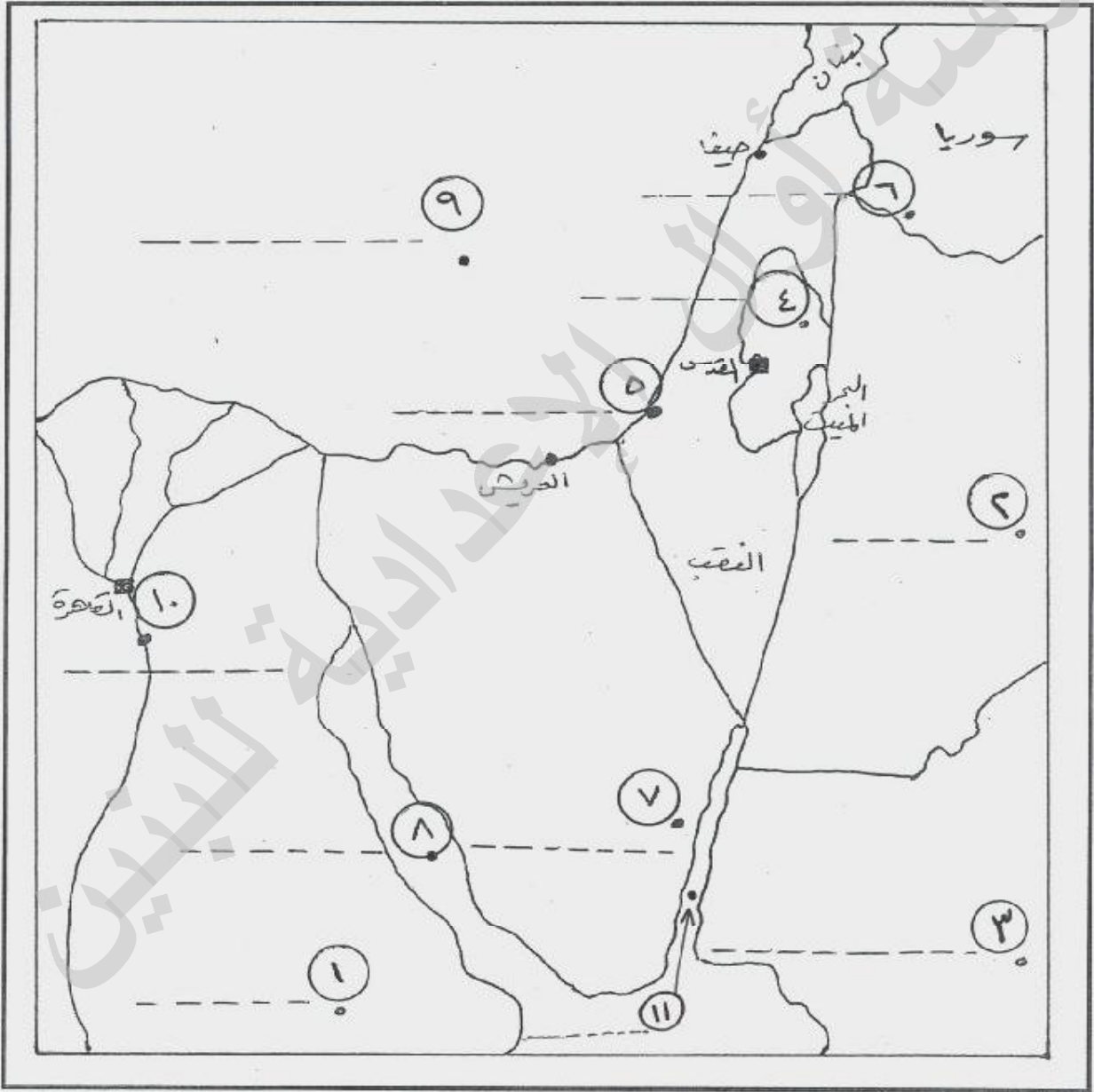
• (أولاً) خريطة ((الحرب العربية الإسرائيلية الثالثة سنة ١٩٦٧م))

س- في ضوء دراستك لخريطة الحرب العربية الإسرائيلية الثالثة سنة ١٩٦٧م، حدّد على الخريطة ما يلي:

(أ) أسماء الدول العربية المجاورة لفلسطين، والتي تمثلها الأرقام (٣ ، ٢ ، ١)

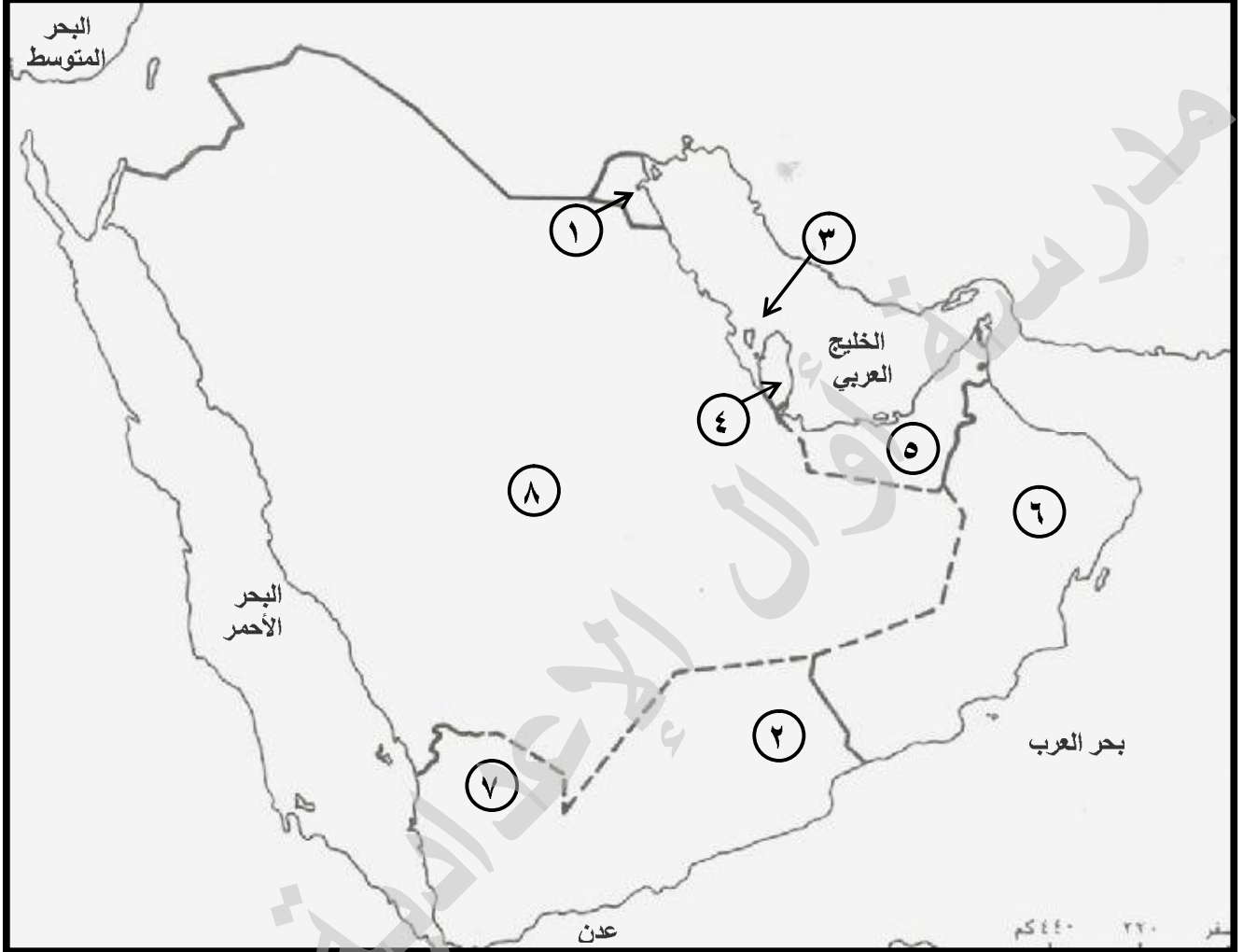
(ب) أسماء الأراضي التي احتلتها إسرائيل عام ١٩٦٧م، والتي تمثلها الأرقام (٧ ، ٦ ، ٥ ، ٤)

(ج) أسماء المسطحات المائية والأنهار، والتي تمثلها الأرقام (١١ ، ١٠ ، ٩ ، ٨)



• (ثانيا) خريطة استقلال دول الخليج العربي

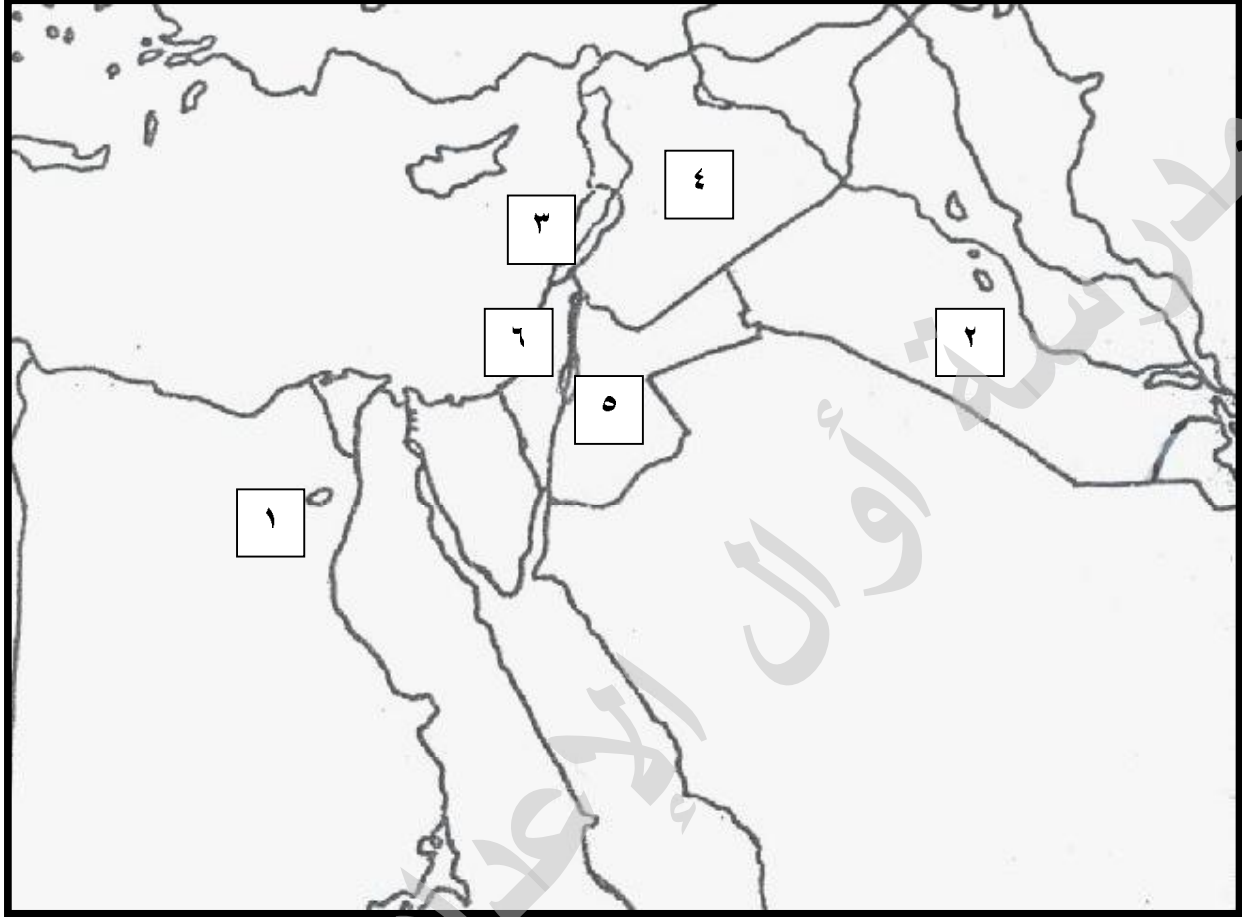
س- أمامك خريطة صماء لدول الخليج العربية، اكتب ما تمثله الأرقام التي عليها بالجدول الذي يليها حسب البيانات الواردة فيه:



سنة الاستقلال	الدولة الأوروبية الاستعمارية	الدولة العربية	الرقم على الخريطة
١٩٦١	١
١٩٦٧	٢
١٩٧١	٣
١٩٧١	٤
١٩٧١	٥
١٩٧١	٦
	لم تستعمر	٧
	لم تستعمر	٨

• (ثالثًا) استقلال دول المشرق العربي

س- أمامك خريطة صماء لدول المشرق العربي ، اكتب ما تمثله الأرقام التي عليها بالجدول الذي يليها حسب البيانات الواردة فيه:



سنة الاستقلال	الدولة الأوروبية الاستعمارية	الدولة العربية	الرقم على الخريطة
١٩٢٢	١
١٩٣٢	٢
١٩٤٣	٣
١٩٤٣	٤
١٩٤٦	٥
لم تستقل	...تحت الاحتلال الإسرائيلي	٦

- (رابعا) استقلال دول المغرب العربي
 (أ) أمامك خريطة صماء لدول المغرب العربي , اكتب عليها الدول الأوروبية المستعمرة لبلاد المغرب العربي حسب المناطق والدول العربية التي استعمرتها.



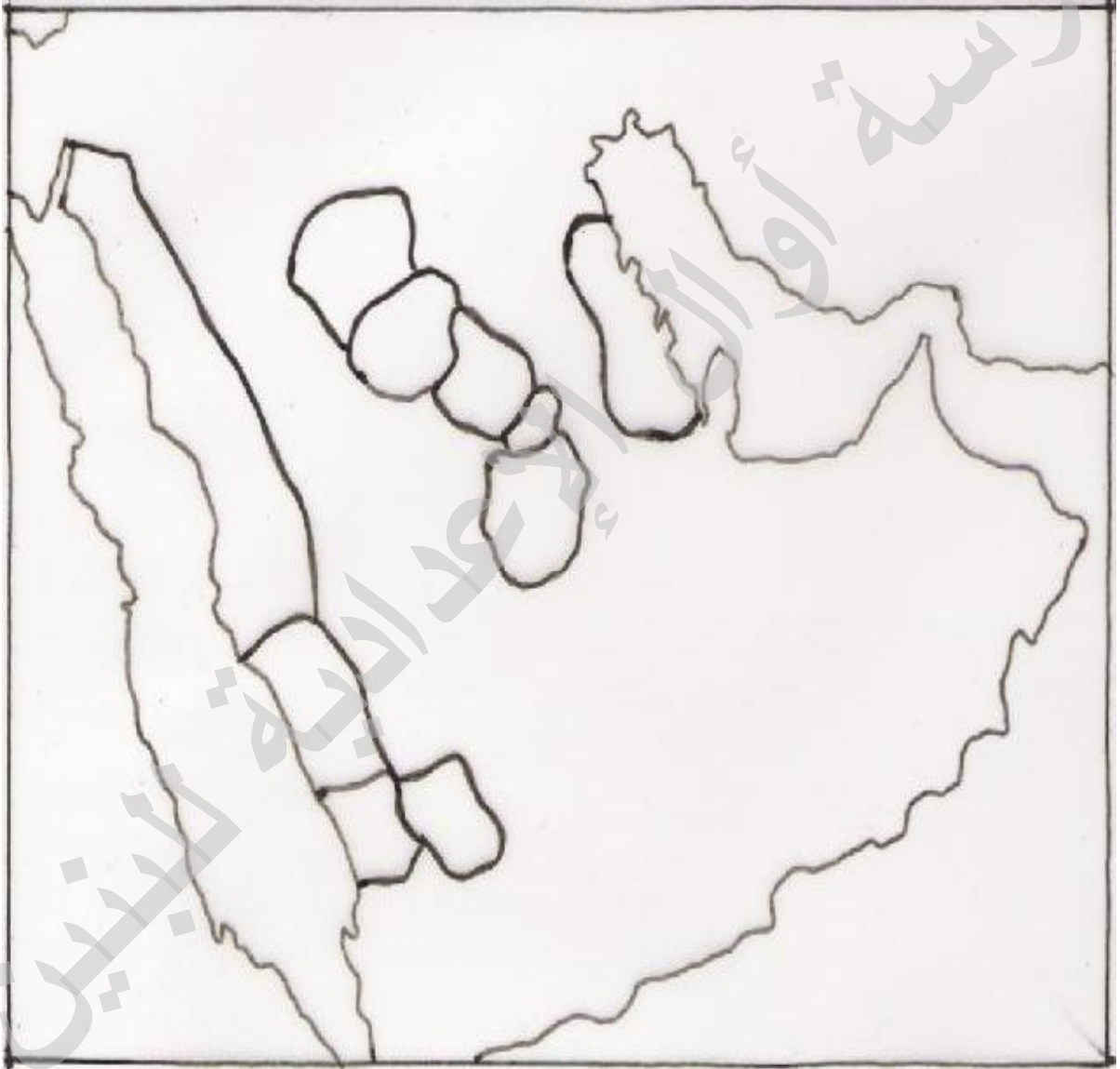
الأرقام من (١) إلى (٣) على الخريطة تشير إلى الدول الأوروبية الاستعمارية التي استعمرت دول المغرب العربي وهي :

- ١ -
- ٢ -
- ٣ -

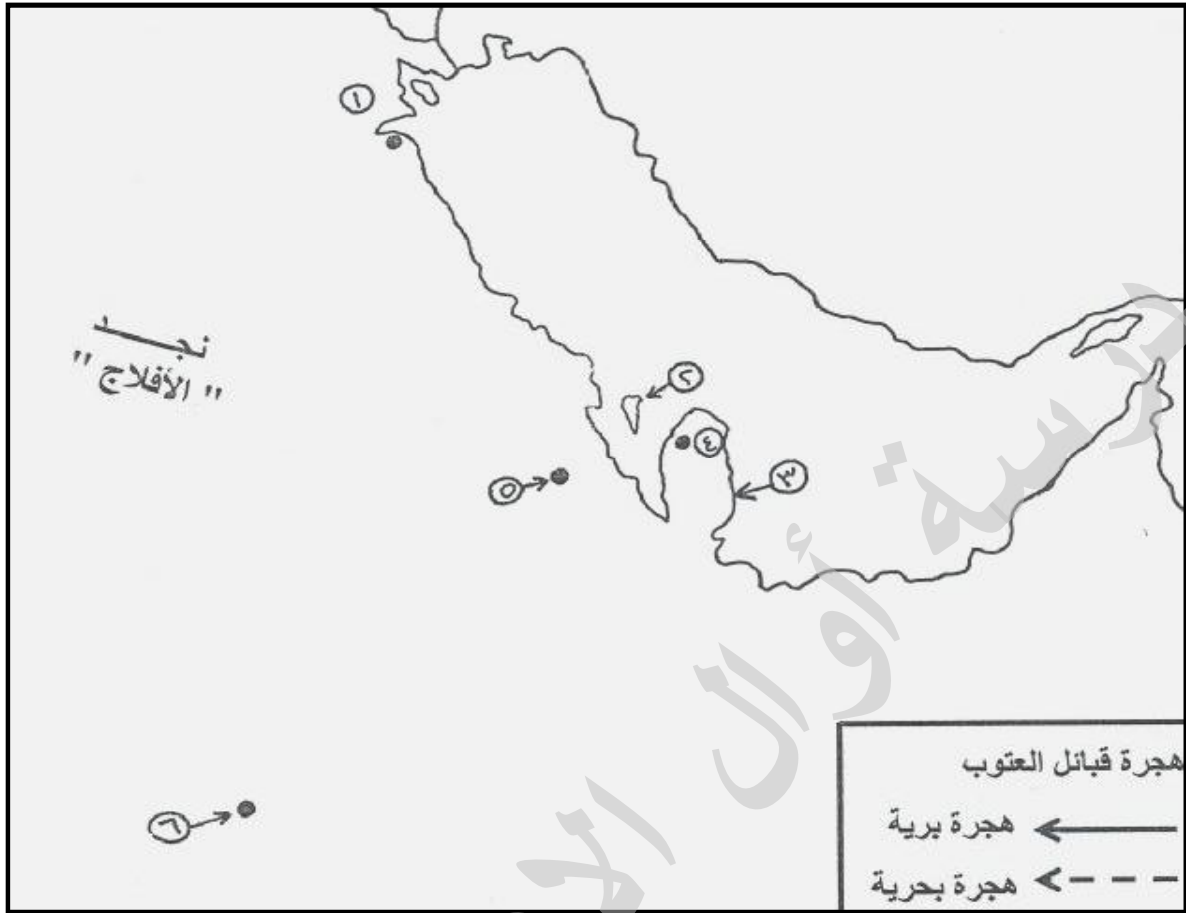
• (خامساً) مراحل تأسيس المملكة العربية السعودية

س- رتب تاريخياً على الخريطة التي أمامك مراحل تأسيس المملكة العربية السعودية بكتابة اسماء المناطق التي سيطر عليها عبدالعزيز آل سعود من (١) إلى (١٠) :

- ١- ٢- ٣-
٤- ٥- ٦-
٧- ٨- ٩-
١٠-



(سادسا) -- أمامك خريطة صماء لشبه الجزيرة العربية، أجب عن الأسئلة التي تليها:



(أ) اكتب ما تمثله دلالات الأرقام الواردة على الخريطة بالجدول التالي:

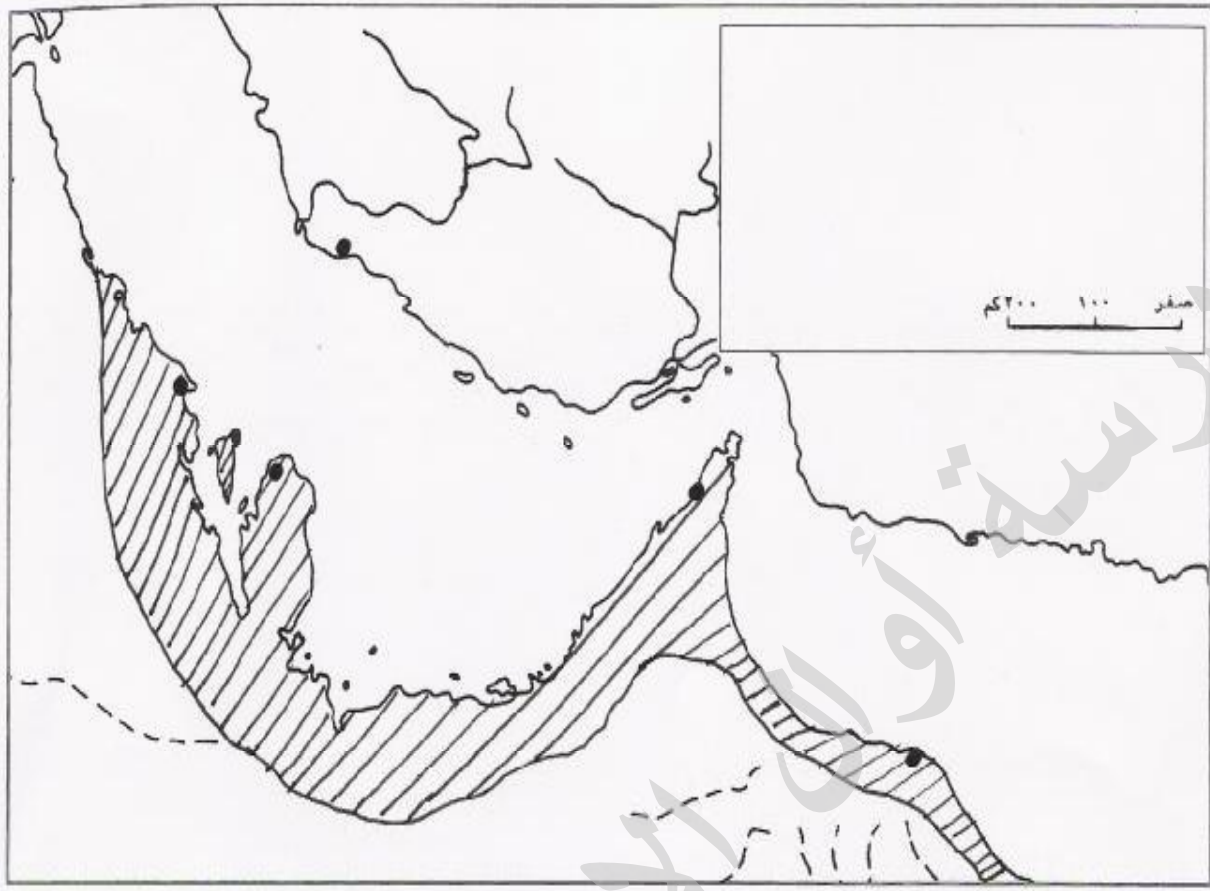
دول وصل إليها آل خليفة في هجرتهم إلى البحرين		
١-	٢-	٣-
.....
مناطق ومدن وصل إليها آل خليفة في هجرتهم إلى البحرين		
٤-	٥-	٦-
.....

(ب) حدّد على الخريطة هجرة قبائل العتوب مستعيناً بمفتاح الخريطة.

(ج) ما اسم القبيلة العربية التي ينتسب إليها العتوب (آل خليفة - آل سعود - آل الصباح)؟

.....

- (سابعاً) الخليج العربي بين القرنين ١٦ و١٨م أمامك خريطة الخليج العربي بين القرنين ١٦ و١٨م، أجب عن الأسئلة التي تليها:



- ١- ما هي القوى غير العربية التي ظهرت في الخليج العربي في تلك المرحلة؟
 (أ) البرتغال. (ب) بريطانيا. (ج) هولندا. (د) الدولة العثمانية.
- ٢- اذكر الدولتين الاستعماريتين اللتين تنافستا على الخليج العربي خلال تلك المرحلة؟
 (أ) البرتغال. (ب) بريطانيا.
- ٣- الجزء المظلل على الخريطة يشير إلى دولة حكمتها أسرة عربية قادت المقاومة ضد البرتغاليين تسمى [أسرة الجبور].
- ٤- أين وقعت الثورات ضد البرتغاليين؟
 في البحرين.
- ٥- ما اسم الأسرة التي حكمت البحرين في أواخر القرن ١٨م؟
 أسرة آل خليفة.
- ٦- ضع أسماء المدن التالية في أماكنها على الخريطة: القطيف - الزبارة - رأس الخيمة - مسقط - كنجان.
- ٧- ضع أسماء المسطحات المائية التالية في أماكنها على الخريطة: الخليج العربي - المحيط الهندي.

تنسيق واخراج: الأستاذ عبدالشهيدي سرهان

مدرسة أوال الإعدادية للبنين