

تم تحميل هذا الملف من موقع المناهج البحرينية



* للحصول على أوراق عمل لجميع الصفوف وجميع المواد اضغط هنا

<https://almanahj.com/bh>

* للحصول على أوراق عمل لجميع مواد الصف التاسع اضغط هنا

<https://almanahj.com/bh/9>

* للحصول على جميع أوراق الصف التاسع في مادة اجتماعيات ولجميع الفصول, اضغط هنا

<https://almanahj.com/bh/9social>

* للحصول على أوراق عمل لجميع مواد الصف التاسع في مادة اجتماعيات الخاصة بـ الفصل الأول اضغط هنا

<https://almanahj.com/bh/9social1>

* لتحميل كتب جميع المواد في جميع الفصول للـ الصف التاسع اضغط هنا

<https://almanahj.com/bh/grade9>

[almanahjbhbot/me.t//:https](https://t.me/almanahjbhbot)

للتحدث إلى بوت على تلغرام: اضغط هنا

مملكة البحرين

وزارة التربية والتعليم

إدارة الامتحانات / قسم الامتحانات

امتحان الشهادة الإعدادية العامة والدينية للعام الدراسي 2016/2017م

الفصل الدراسي الأول

المادة: المواد الاجتماعية (الجغرافيا/التربية للمواطنة) الزمن: ساعتان

القسم الأول: الجغرافيا

25

السؤال الأول:

12

أولاً- ضع دائرة حول الحرف الدال على الإجابة الصحيحة من بين البدائل الآتية:

1- القطاع الذي يُعدُّ المحرك الأساسي للنشاط الاقتصادي في مملكة البحرين هو:

أ- الزراعي. ب- السياحي. ج- النفطي. د- السمكي.

2- تستورد مملكة البحرين الأسماك خلال أشهر الشتاء خصوصاً من:

أ- سلطنة عمان. ب- دولة الكويت. ج- دولة قطر. د- المملكة العربية السعودية.

3- يُعدُّ شارع الشيخ خليفة بن سلمان في مملكة البحرين من الطرق:

أ- الداخلية الفرعية. ب- الداخلية الرئيسية. ج- الإقليمية. د- السريعة.

4- المدينة التي أختيرت عاصمة السياحة العربية عام 2013م هي:

أ- المنامة. ب- القاهرة. ج- تونس. د- عمان.

5- يتميز المجتمع الأوروبي بارتفاع في نسبة:

أ- الفتيان. ب- المسنين. ج- الولادات. د- الوفيات.

6- تأتي قارة أمريكا الشمالية والوسطى من حيث المساحة بين قارات العالم في المرتبة:

أ- الأولى. ب- الثانية. ج- الثالثة. د- الرابعة.

8

ثانياً- أكمل كل عبارة من العبارات الآتية بما يناسب:

1- تتميز صناعات إحلال الواردات في مملكة البحرين بمليكتيتها.....

2- أدى موقع البحرين الزمني بالنسبة لوقت عمل البورصات العالمية إلى تطور قطاعها.....

3- حقق الميزان التجاري البحريني فائضاً بسبب ارتفاع.....

4- الإقليم المناخي الذي يسود منطقة صغيرة تقع في أقصى شمال أوروبا هو.....

5

4- صنّف مظاهر السطح والمسطحات المائية الآتية حسب القارة التي تنتمي إليها في الجدول التالي:

- جزيرة كورسيكا. - هضبة كولورادو. - أرخبيل الأنتيل. - سهل الدانوب. - الجبال الغربية.
- نهر الرون. - البحر الإديراتيكي. - نهر المسيسيبي. - جبال الألب. - خليج هدسن.

مظاهر السطح والمسطحات المائية					القارة
.....	أوروبا
.....	أمريكا الشمالية والوسطى

10

السؤال الثاني:

27

أولا- علل ما يأتي:

1- محدودية الأراضي الصالحة للزراعة في مملكة البحرين.

-
-

2- أدى اتباع سياسة الحرية الاقتصادية في مملكة البحرين إلى جذب المستثمرين إليها.

-
-

3- تُعدُّ الطبيعة في قارة أوروبا ثروة سياحية.

-
-

17

ثانيا- أجب عن الأسئلة الآتية:

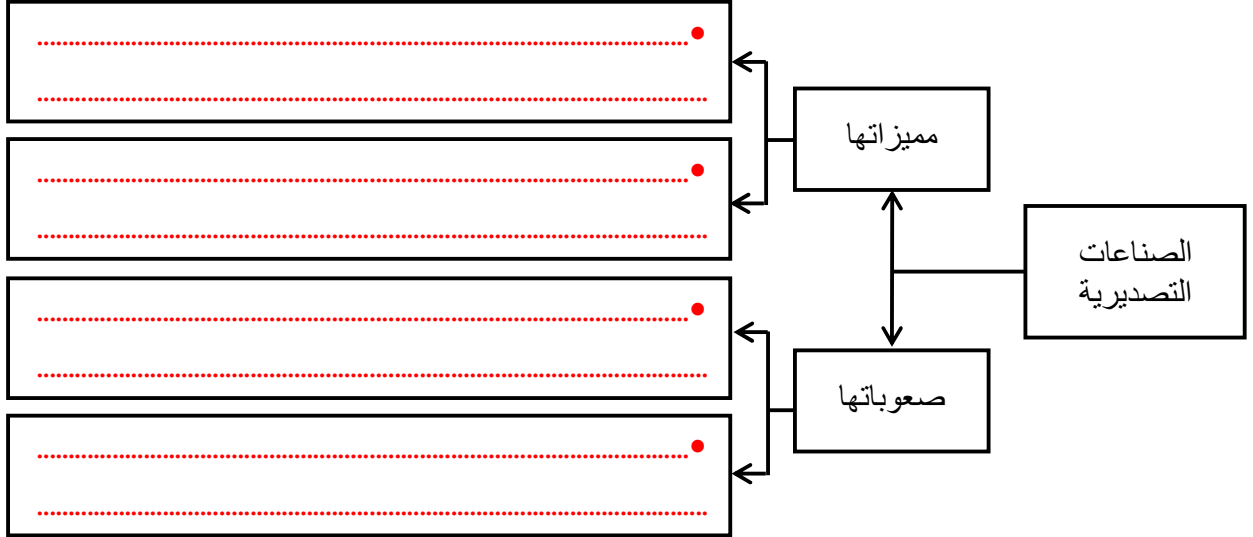
1- اكتب ثلاثة جهود قامت بها مملكة البحرين من أجل تنمية القطاع السمكي.

-
-
-

2- بيّن النتائج المترتبة على تطور القطاع المصرفي في مملكة البحرين.

-
-

3- أكمل المخطط الآتي، بكتابة مميزات الصناعات التصديرية والصعوبات التي تواجهها في مملكة البحرين.

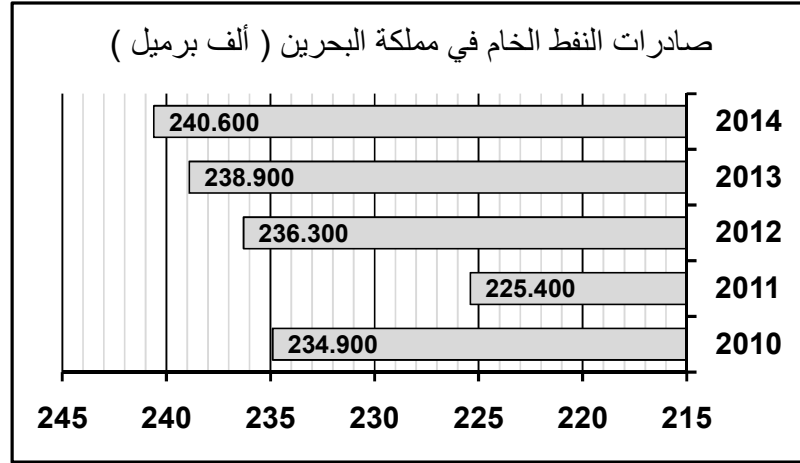


4- صنف كل ميزة من المميزات السكانية والاقتصادية الآتية حسب القارة التي تمتاز بها في الجدول الذي يليها:

- انتشار الزراعة المعيشية.
- تدني نسبة الولادات.
- تميز الإنتاج الصناعي بالجودة العالية.
- ارتفاع نسبة المسنين.
- ارتفاع نسبة الولادات.
- الاعتماد على صناعة استخراج المعادن.
- ارتفاع نسبة الفتيان.
- اعتماد الزراعة الممكنة.

القارة	أمريكا الشمالية	أمريكا الوسطى
المميزات السكانية والاقتصادية	•	•
	•	•
	•	•
	•	•

أولاً- في ضوء دراستك، ومن خلال الرسم البياني الوارد أمامك والذي يوضح صادرات النفط الخام في مملكة البحرين (2010-2014م)، أجب عن الأسئلة التالية:



1- أكمل العبارات الآتية بما يناسب:

- أ- السنة الأدنى في حجم صادرات النفط الخام في مملكة البحرين هي.....
- ب- السنة الأعلى في حجم صادرات النفط الخام في مملكة البحرين هي
- ج- بلغ حجم صادرات النفط الخام في مملكة البحرين سنة 2012م..... ألف برميل.
- د- السنة التي بلغ فيها حجم صادرات النفط الخام في مملكة البحرين 234,900 ألف برميل هي.....
- هـ - الدولة التي تستورد منها مملكة البحرين السلع النفطية هي

2- استكمل الجدول الآتي بكتابة مثالين لأهم صادرات مملكة البحرين وواراداتها:

واردات مملكة البحرين	صادرات مملكة البحرين
• السلع النفطية.	• النفط.
•	•
•	•

3- لماذا أصبحت مملكة البحرين تحتل مركزا تجاريا مميزا بين دول المنطقة؟

-
-

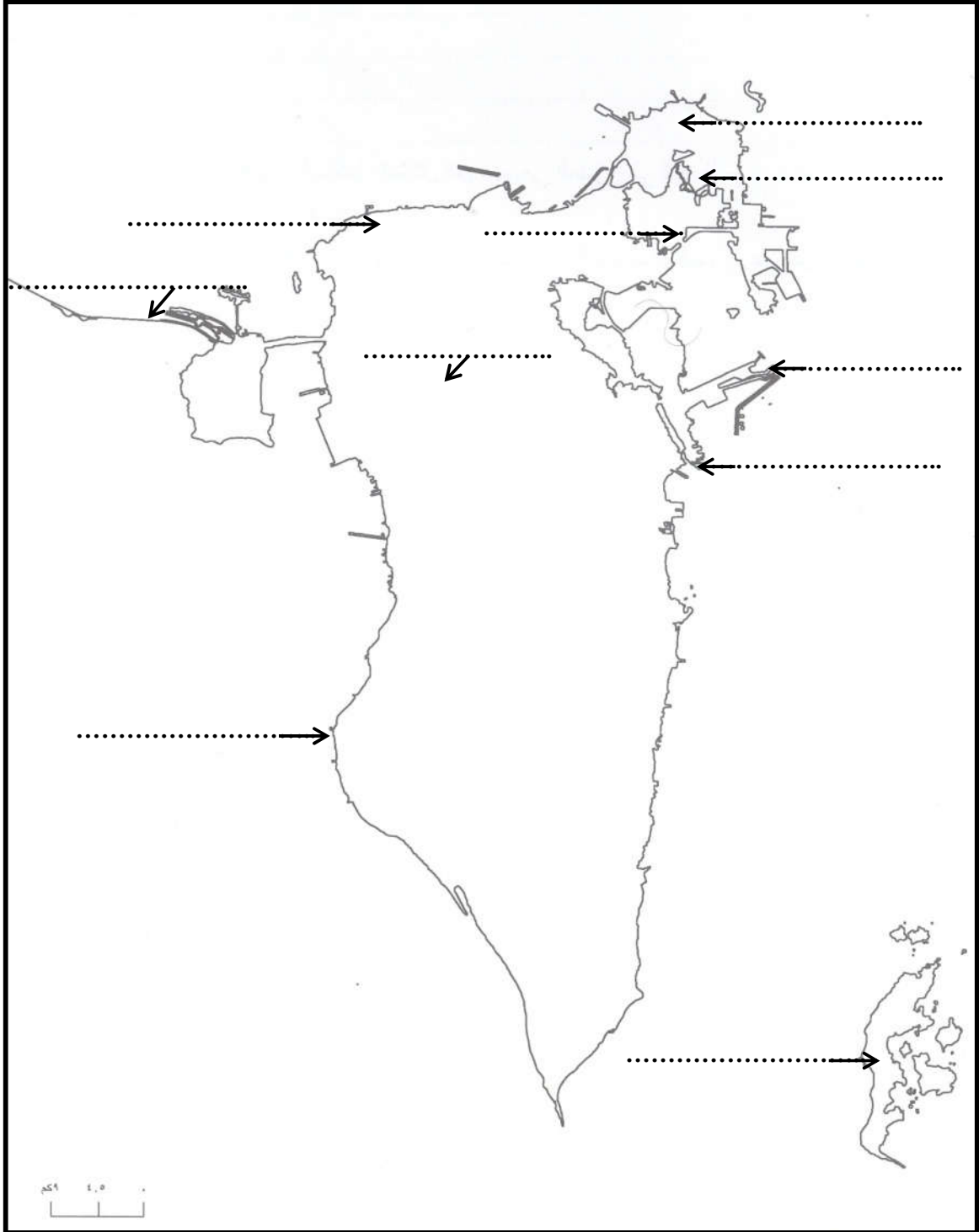
ثانيا- اكتب أسماء المعالم السياحية وطرق المواصلات الآتية في مواقعها الصحيحة وفقا للفراغات الميينة على

10

خريطة مملكة البحرين:

- المعالم السياحية: [قلعة عراد - معابد باربار - بلاج الجزائر - منتجع البندر - مقابر عالي - منتجع حوار].

- طرق المواصلات: [مطار البحرين الدولي - جسر الشيخ خليفة - ميناء سترة - جسر الملك فهد].



7

أولاً- ضع علامة (✓) يمين العبارات الصحيحة وعلامة (x) يمين العبارات الخاطئة:

- 1- () للحد من التلوث تقوم الحكومات والمنظمات الدولية والأهلية بزيادة تهيئة الحدائق والمحميات.
- 2- () نشأ العمل وتطورت فكرته مع ظهور الاكتشافات الحديثة.
- 3- () لكل شخص وجد قطعة أثرية مدفونة تحت الأرض حق التصرف فيها كما يشاء.
- 4- () تُعدُّ قلعة البحرين أحد المعالم الأثرية التي سُجِّلت ضمن قائمة التراث العالمي سنة 2005م.
- 5- () يتفاقم الخلل البيئي نتيجة تفاعل الأنشطة البشرية مع الأسباب الطبيعية.
- 6- () يسهم العمل التطوعي في رفعة المجتمع وتنمية روح التعاون بين أفرادهِ.
- 7- () يحدث التلوث الكيميائي نتيجة تسرب المواد المشعة في المحطات النووية.

8

ثانياً- أجب عن الأسئلة الآتية:

1- اكتب ثلاثاً من الآليات التي اعتمدها مملكة البحرين لحماية البيئة الطبيعية والحياة الفطرية.

-
-
-

2- ما أنواع العمل؟

-
-
-

3- بيّن إحدى النتائج المترتبة عمّا يأتي:

- انتشار ثقافة العيب في المجتمع:

-

- اتقان الموظف المهنة التي يعمل فيها:

-

10

ثالثاً- اقرأ النص الآتي، ثم أجب عن الأسئلة التي تليه انطلاقاً منه، وفي ضوء ما درست.

أعلنت هيئة البحرين للثقافة والآثار، خلال مؤتمر صحفي، عُقد في متحف البحرين الوطني، عن اكتشاف تاريخي مهم بينير فصلاً من فصول تاريخ مملكة البحرين المكتوب، إذ يعود إلى أكثر من 3.700 سنة - أي تقريباً إلى عام 1.700 قبل الميلاد، حيث تم اكتشاف أسماء ملكيين من ملوك دلمون ممن حكموا أثناء العصر البرونزي، فضلاً عن تحديد مدفيهما الملكيين.

ولفتت رئيسة هيئة البحرين للثقافة والآثار الشيخة مي بنت محمد آل خليفة إلى أن التراث والآثار هي ما يميز البحرين، وأن الاكتشاف جاء نتيجة لجهود امتدت على مدى سنوات، وهذا ما يجعل هيئة البحرين للثقافة والآثار تخصص عنوان العام المقبل ليكون "آثارنا إن حكت"، حيث إن لمملكة البحرين تراثاً إنسانياً يستحق المحافظة عليه والترويج له بما يساهم في دعم الاقتصاد من خلال السياحة الثقافية القائمة على التراث والآثار.

مستند رقمي (بتصرف)

أ- أين عقدت هيئة البحرين للثقافة والآثار مؤتمرها الصحفي؟

.....

ب- ما الاكتشاف التاريخي الذي أعلنت عنه هيئة البحرين للثقافة والآثار في هذا المؤتمر الصحفي؟ والى أي عام يعود هذا

الاكتشاف؟

.....

.....

ج- ما العنوان الذي اختارته هيئة البحرين للثقافة والآثار ليكون عنوان العام المقبل؟

.....

د- برأيك ، لماذا يجب المحافظة على التراث الإنساني لمملكة البحرين؟

.....

.....

هـ- إلآم يعود ثراء متحف البحرين الوطني؟

.....

.....

انتهت الأسئلة، مع تمنياتنا للجميع بالنجاح والتوفيق