

تم تحميل هذا الملف من موقع المناهج البحرينية



* للحصول على أوراق عمل لجميع الصفوف وجميع المواد اضغط هنا

<https://almanahj.com/bh>

* للحصول على أوراق عمل لجميع مواد الصف التاسع اضغط هنا

<https://almanahj.com/bh/9>

* للحصول على جميع أوراق الصف التاسع في مادة اجتماعيات ولجميع الفصول, اضغط هنا

<https://almanahj.com/bh/9social>

* للحصول على أوراق عمل لجميع مواد الصف التاسع في مادة اجتماعيات الخاصة بـ الفصل الأول اضغط هنا

<https://almanahj.com/bh/9social1>

* لتحميل كتب جميع المواد في جميع الفصول للـ الصف التاسع اضغط هنا

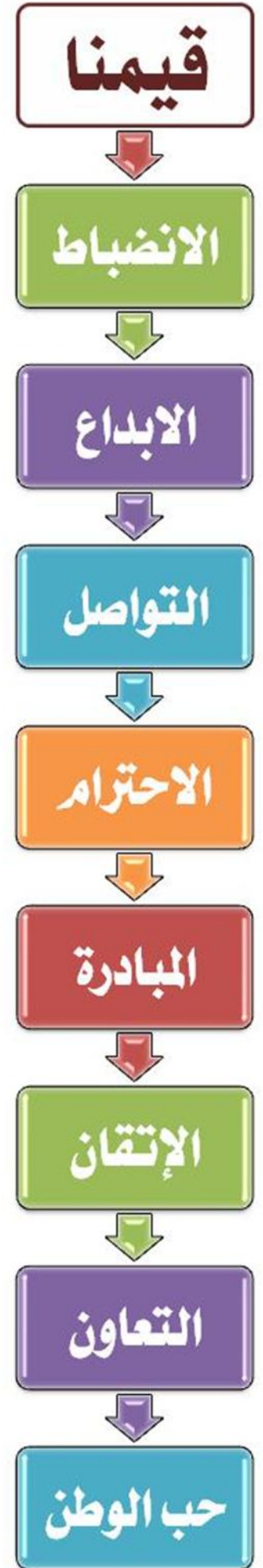
<https://almanahj.com/bh/grade9>

* لتحميل جميع ملفات المدرس محمد علي محمد دسمال اضغط هنا

[almanahjbhbot/me.t//:https](https://t.me/almanahjbhbot)

للتحدث إلى بوت على تلغرام: اضغط هنا

مملكة البحرين
وزارة التربية والتعليم
مدرسة عالي الإعدادية للبنين
برنامج التهيئة للامتحانات النهائية
نماذج امتحانات سابقة (صفوف الثالث الإعدادي)



تصميم: أ.رضا يوسف رضي اختصاصي الإرشاد الاجتماعي

بالعلم والقيم .. يسموا بنا الوطن

مملكة البحرين

وزارة التربية والتعليم

إدارة الامتحانات / قسم الامتحانات

امتحان الشهادة الإعدادية العامة والدينية للعام الدراسي ٢٠١٣/٢٠١٤م

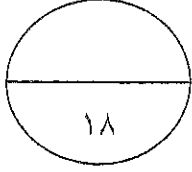
الفصل الدراسي الأول

الزمن: ساعتان

المادة: المواد الاجتماعية (الجغرافيا والتربية للمواطنة)

القسم الأول: الجغرافيا (٧٥ علامة)

السؤال الأول:



أولاً- ضع دائرة حول رمز الإجابة الصحيحة:

- ١- تعتمد التنمية الاقتصادية في مملكة البحرين منذ مطلع السبعينات بشكل أساسي على:
- أ- الإيرادات النفطية.
ب- زيادة الإنتاج الزراعي.
ج- الاستثمارات الصناعية.
د- تنمية القطاع السياحي.

٢- تستورد مملكة البحرين السلع النفطية من:

- أ- الولايات المتحدة الأمريكية.
ب- دول غرب أوروبا.
ج- المملكة العربية السعودية.
د- دول شرق آسيا.

٣- يبلغ عدد الجسور البحرية في مملكة البحرين:

- أ- أربعة.
ب- خمسة.
ج- ستة.
د- سبعة.

٤- الإقليم المناخي الأوروبي الذي يتميز بتساقط الأمطار في كل فصول السنة هو:

- أ- المتوسطي.
ب- القطبي.
ج- الجبلي.
د- المحيطي.

٥- أدى ارتفاع متوسط عمر الإنسان وانخفاض نسبة الولادات في أوروبا إلى ارتفاع:

- أ- نسبة الفتيان.
ب- الكثافة السكانية.
ج- نسبة المسنين.
د- نسبة الخصوبة.

٦- الدولة التي تنعدم فيها الأمية تقريباً من بين الدول الآتية هي:

- أ- غواتيمالا.
ب- نيكاراغوا.
ج- هايتي.
د- كندا.



ثانياً- صحّح ما تحته خط في كل عبارة من العبارات الآتية، واكتب الإجابة الصحيحة في السطر الذي يليها:

١- القطاع الاقتصادي الإنتاجي الذي يعاني من مشكلة التلوث النفطي في مملكة البحرين هو قطاع الزراعة.

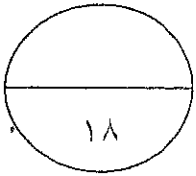
٢- الجهة الرسمية المعنية بتنظيم القطاع المالي ومراقبته في مملكة البحرين هي مجلس التنمية الاقتصادية.

٣- يُعدُّ بيت الجسرة في مملكة البحرين أحد المعالم السياحية الطبيعية.

٤- تحتل أوروبا المتوسطة من حيث استقبالها السياح في العالم المرتبة الثالثة.

٥- ترتفع درجة الحرارة في المناطق الغربية الساحلية لآلاسكا وكندا بسبب مرور تيار غولف ستريم الحار.

٦- يعتمد القطاع الصناعي في دول أمريكا الوسطى بشكل رئيس على صناعة الآلات الرأسمالية.



السؤال الثاني:

أولاً- علل ما يأتي:

١- ازدياد أهمية القطاع التجاري بمملكة البحرين.

٢- تطور القطاع المصرفي في مملكة البحرين.

٣- قيام صناعة متطورة في قارة أوروبا.

٤- تعرض الجبال الغربية بأمريكا الشمالية للزلازل الأرضية العنيفة.



ثانياً- وضح ما يأتي:

١- التدابير التي اتخذتها مملكة البحرين لتوفير البنية التحتية والموارد البشرية اللازمة لإنجاح خططها التنموية الاقتصادية.

.....

.....

.....

٢- الإجراءات التي اتبعتها مملكة البحرين لتنمية قطاعها السياحي.

.....

.....

.....

٣- المميزات المناخية للإقليم المتوسطي في قارة أوروبا.

.....

.....

٤- الأعراق البشرية التي تعيش في قارة أمريكا الشمالية.

.....

.....

.....

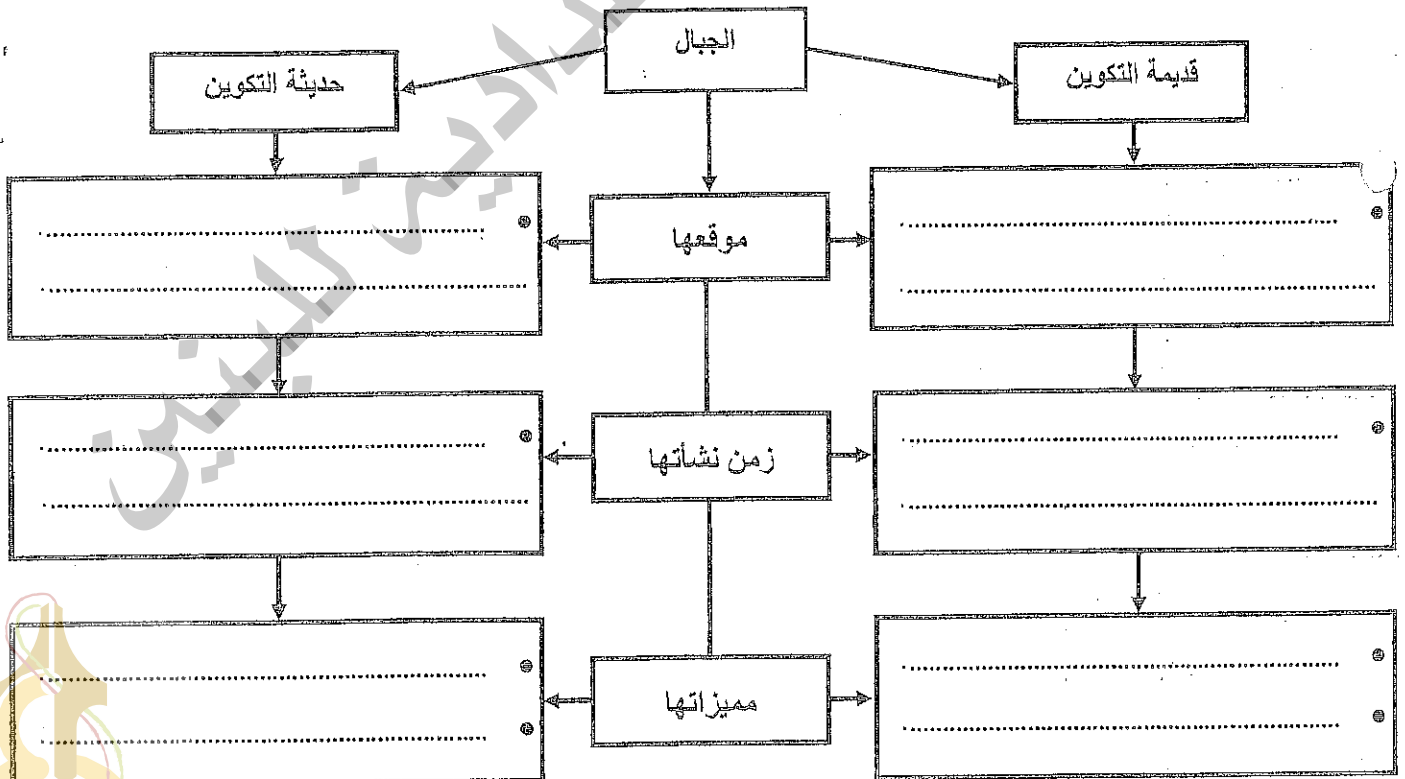


السؤال الثالث:

أولاً- أكمل الجدول الآتي، بكتابة المشكلات والصعوبات التي تواجه قطاعي الزراعة وصيد السمك في مملكة البحرين، وجهود المملكة لتطويرهما:

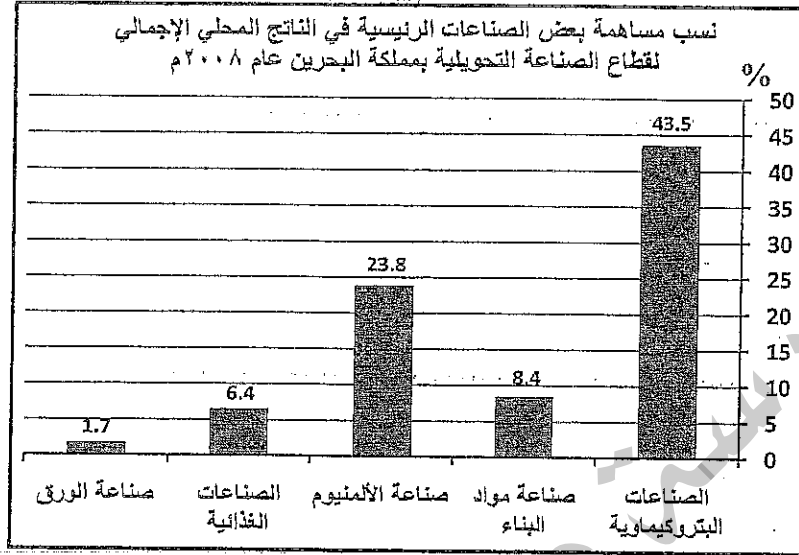
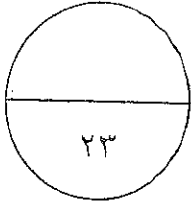
القطاع	مشكلات وصعوبات تواجه القطاع	جهود مملكة البحرين لتطوير القطاع
الزراعي
صيد السمك

ثانياً- فيما يلي أكمل المخطط الآتي، بكتابة موقع الجبال قديمة التكوين وحديثة التكوين بقارة أوروبا وزمن نشأتها ومميزاتها، حسب المعطيات الواردة فيه:



السؤال الرابع:

أولاً- من خلال الرسم البياني الذي يبين مساهمة بعض الصناعات الرئيسية في الناتج المحلي الإجمالي لقطاع الصناعة التحويلية بمملكة البحرين عام ٢٠٠٨م، وفي ضوء ما درست، أجب عما يليه من أسئلة:



أ- ما الصناعة الأكثر مساهمة في الناتج المحلي الإجمالي لقطاع الصناعة التحويلية بمملكة البحرين عام ٢٠٠٨م؟

ب- ما المرتبة التي تحتلها صناعة الألمنيوم من حيث نسبة مساهمتها في الناتج المحلي الإجمالي البحريني عام ٢٠٠٨م؟

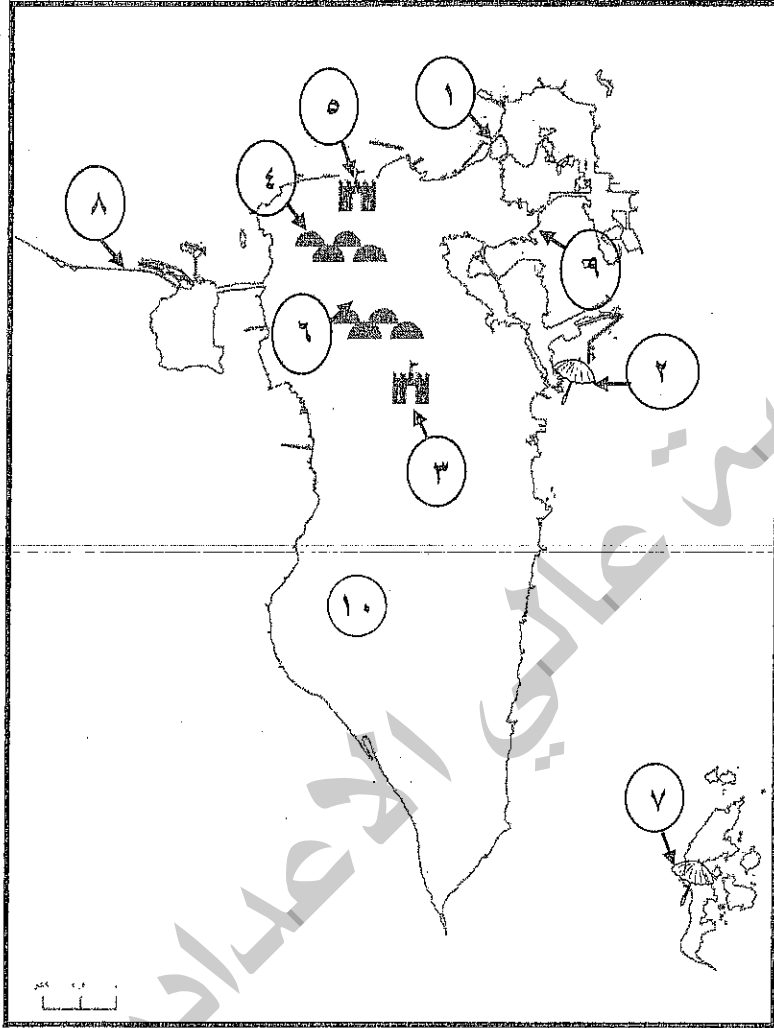
ج- كم بلغت نسبة مساهمة الصناعة الغذائية من الناتج المحلي الإجمالي البحريني عام ٢٠٠٨م؟

د- صنّف الصناعات الواردة في الرسم البياني، إلى صناعات تصديرية وصناعات إحلال الواردات، ثم اكتب مميزات كلّ منها حسب معطيات الجدول الآتي:

الصناعة	التصديرية	إحلال الواردات
أمثلة عليها من		
الرسم البياني		
مميزاتها		



ثانياً- من خلال دراستك لجغرافيا البحرين، اكتب أمام كل من الظواهر الجغرافية الواردة في الجدول الرقم الدال عليها وفقاً لموضعه على الخريطة:



الظواهر الجغرافية	الرقم المناسب	الظواهر الجغرافية	الرقم المناسب
محمية العرين		مقابر سار الأثرية	
منتجع البندر		منتجع حوار	
مقابر عالي الأثرية		قلعة سلمان بن أحمد	
ميناء سلمان		جسر الشيخ عيسى	
جسر الملك فهد		قلعة البحرين	



السؤال الخامس:

أولاً- ضع علامة (✓) يمين العبارات الصحيحة وعلامة (×) يمين العبارات الخاطئة:

- ١- () تحرص مملكة البحرين على مشاركة مواطنيها في الرقابة البيئية عبر المجالس البلدية.
- ٢- () يحتاج كل عمل يدوي إلى جهد عضلي فقط دون الحاجة إلى خبرات معرفية.
- ٣- () سنت مملكة البحرين قانوناً خاصاً بالحفاظ على الآثار.
- ٤- () تُعد منطقة الخليج العربي من المناطق التي تَخَصّت من ظاهرة التلوث.
- ٥- () ينبغي أن تُقاس قيمة المهنة بنوعها أو باسمها.

ثانياً- حدّد شكل التلوث (آلي - كيميائي- إشعاعي) الذي تدل عليه كل عبارة من العبارات الواردة بالجدول الآتي:

الرقم	العبارة	شكل التلوث
أ	تحتل آلات التنبيه بالسيارات المرتبة الأولى بين مصادر الضجيج في المناطق ذات الازدحام المروري بمصر.
ب	أدى انفجار في محطة إيداهو النووية الأمريكية عام ١٩٦١م إلى قتل ثلاثة عمال بالمحطة.
ج	تشكل المخلفات الصناعية السائلة خطراً بيئياً في مملكة البحرين، لأنها قد تتسرب إلى طبقات المياه الجوفية.
د	تعاني البيئة البحرية وشعابها المرجانية في مملكة البحرين من آثار الردم العشوائي.

ثالثاً- ((لدى مملكة البحرين نحو ١٥ ألف وظيفة في قطاع السياحة، لا تجد من يشغلها من البحرينيين، فمعظم الشباب يعرف عن هذه المهن، (..)، وحتى لو التحق أحد الشباب بمهن السياحة والضيافة في الفنادق والمطاعم كطاهي أو موظف استقبال أو غيرها، فإنه يكون في إطار عملية بحثه عن فرصة عمل أفضل في القطاع الحكومي، (..)، رغم أن الراتب في القطاع السياحي قد يفوق الراتب في وظائف أخرى))، انطلاقاً من هذه القضية، ومستفيداً مما درست، أجب عن الأسئلة الآتية:

أ- استخراج من النص المهن التي يرفض الشباب البحريني العمل فيها. ثم اذكر سبب رفضهم العمل فيها برأيك.

- المهن التي يرفض الشباب البحريني العمل فيها هي:
- سبب رفض العمل في هذه المهن:

ب- اذكر إحدى النتائج المترتبة عن عزوف الشباب وتعاليمهم عن العمل في بعض المهن.

-

ج- بماذا تتصح هؤلاء الشباب؟

-

د- اكتب فائدتين للعمل الشريف.

-
-



رابعاً- اقرأ النص الذي أمامك، ثم أجب عن الأسئلة التي تليه انطلاقاً منه، ومستفيداً مما درست:

شارك وفد مملكة البحرين في اجتماعات الدورة الـ ٣٧ للجنة للتراث العالمي التابعة لليونسكو في مملكة كومبوديا، وقدمت مملكة البحرين نسخة من «إستراتيجية إدارة موقع قلعة البحرين» بحضور ممثلين عن نحو ١٨٠ دولة على مستوى العالم. وقد أكد رئيس الوفد البحريني على التزام مملكة البحرين واهتمامها بتطبيق بنود اتفاقية التراث العالمي، ولاسيما أنها تحتضن المركز الإقليمي العربي للتراث العالمي وذلك يأتي تأكيداً لهذا الالتزام وتكريساً لإيمان البحرين بقضايا التراث العالمي. وكانت مملكة البحرين ترأست اجتماعات اللجنة في دورتها الـ ٣٥، وتأتي مشاركة البحرين في هذه الاجتماعات استكمالاً ومواصلة لدورها الثقافي وحضورها كداعم وشريك أساسي حريص على تطبيق بنود اتفاقية التراث العالمي والالتزام بها. يُذكر أنه تم تسجيل مشروع طريق اللؤلؤ كموقع تراث إنساني العام الماضي وبذلك يصبح موقع طريق اللؤلؤ ثاني موقع يسجل بعد موقع قلعة البحرين الذي تم تسجيله في العام ٢٠٠٧. كما وتم التحضير من قبل وزارة الثقافة لطرح سلسلة التلال الأثرية كالثالث موقع من المؤمل إدراجه على قائمة التراث الإنساني العالمي.

مقال صحفي، بتصريف

أ- ما الذي قدّمه وفد مملكة البحرين في اجتماعات الدورة الـ ٣٧ للجنة للتراث العالمي؟

.....

ب- سمّ الموقعين التراثيين البحرينيين المسجلين ضمن قائمة التراث الإنساني العالمي.

.....

ج- دلل من النص على التزام مملكة البحرين بتطبيق بنود اتفاقية التراث العالمي.

.....

.....

د- بين الأدوار التي تقوم بها لجنة التراث العالمي.

.....

.....

خامساً- أجب عن السؤالين الآتيين:

١- كيف تتصرف عندما تجد أحد المواطنين يحاول القيام بتصدير أو تهريب قطعة أثرية إلى خارج مملكة البحرين؟

.....

٢- اكتب سببين يؤديان إلى حدوث التلوث.

.....

.....

انتهت الأسئلة، مع تمنياتنا للجميع بالنجاح والتوفيق

