

تم تحميل هذا الملف من موقع المناهج البحرينية



* للحصول على أوراق عمل لجميع الصفوف وجميع المواد اضغط هنا

<https://almanahj.com/bh>

* للحصول على أوراق عمل لجميع مواد الصف التاسع اضغط هنا

<https://almanahj.com/bh/9>

* للحصول على جميع أوراق الصف التاسع في مادة اجتماعيات ولجميع الفصول, اضغط هنا

<https://almanahj.com/bh/9social>

* للحصول على أوراق عمل لجميع مواد الصف التاسع في مادة اجتماعيات الخاصة بـ الفصل الأول اضغط هنا

<https://almanahj.com/bh/9social1>

* لتحميل كتب جميع المواد في جميع الفصول للـ الصف التاسع اضغط هنا

<https://almanahj.com/bh/grade9>

* لتحميل جميع ملفات المدرس الشاخوري اضغط هنا

[almanahjbhbot/me.t//:https](https://t.me/almanahjbhbot)

للتحدث إلى بوت على تلغرام: اضغط هنا

مملكة البحرين
وزارة التربية والتعليم
مدرسة عالي الإعدادية للبنين
قسم الاجتماعيات

مذكرة نهاية الفصل الأول

للمصف الثالث الإعدادي

للعام الدراسي ٢٠١٤ / ٢٠١٥ م

اسم الطالب: الصف: ٣ /

أولاً: أسئلة هامة جداً في (دروس جغرافية البحرين)

السؤال الأول- أكمل الفراغات الآتية بما يناسبها :

- ١- السياسة التي اتبعتها مملكة البحرين لتشجيع المستثمرين للعمل في البحرين هي سياسة [الحرية الاقتصادية]
- ٢- السلعة التي تحتل المرتبة الأولى في صادرات البحرين هي [النفط] . ٣- تستورد البحرين السلع النفطية من [السعودية] .
- ٤- تستورد البحرين معظم السلع الغير نفطية من [الدول الآسيوية وأوروبا الغربية والولايات المتحدة] .
- ٥- الجهاز الذي يشرف على تنظيم القطاع المصرفي ومراقبته في مملكة البحرين [مؤسسة نقد البحرين] .
- ٦- تتوجه معظم صادرات البحرين إلى مجموعة الدول [الآسيوية] . ٧- من صادرات البحرين [النفط والألمنيوم والحديد والملابس]
- ٨- القطاع الذي يشكل دعامة الاقتصاد البحريني لكونه ممولاً لجميع المشاريع الإنمائية هو [القطاع المصرفي] .
- ٩- أدى تطور قطاع السياحة في البحرين إلى تنشيط وتنمية قطاعات اقتصادية أخرى أهمها: [الفنادق] و[النقل والاتصال] و[التجارة] .
- ١٠- تدنت نسبة النفط من إجمالي الصادرات في البحرين بسبب [إتباع سياسة تنويع مصادر الدخل وعدم الاعتماد على النفط فقط] .
- ١١- تتحصر أراضي الصالحة للزراعة بالبحرين بشرط يمتد من [المنامة] شمالاً حتى [الزلاق] غرباً .
- ١٢- كانت البحرين قديماً تعتمد في تجارتها على ميناء [المنامة] . ١٣- الميناء التجاري الرئيسي في البحرين هو ميناء [سلمان] .
- ١٤- الدول الخليجية التي تمتلك شركة طيران الخليج بالتساوي هي [البحرين والإمارات وعمان] .
- ١٥- يرتكز قطاع الصناعة التحويلية في مملكة البحرين على الصناعات [التصديرية] . ١٦- أنشئت البحرين ميناء سترة لتصدير [النفط]
- ١٧- تستورد مملكة البحرين خلال أشهر الشتاء بعض الأنواع من الأسماك خصوصاً من دولتي [الإمارات وعمان] .
- ١٨- الطرق التي تربط بين المدن أو تحيط بها كشارع الشيخ عيسى بن سلمان تسمى الطرق [السريعة] .
- ١٩- الطرق المتفرعة من الشوارع إلى داخل الأحياء السكنية والتجارية تسمى الطرق [الداخلية الفرعية الخدمية] .
- ٢٠- من نتائج وانعكاسات تطور القطاع المصرفي على الاقتصاد البحريني [تقديم قروض لقطاعات اقتصادية أخرى + توفير فرص عمل] .
- ٢١- زادت أهمية البحرين التجارية بسبب [خططها للنهوض بالاقتصاد + إتباعها سياسة الحرية الاقتصادية والانفتاح على الخارج] .
- ٢٢- مركز الصناعات اليدوية في البحرين من المعطيات السياحية [الحضارية الحديثة] ، وبيت الجسرة من المعطيات السياحية [التاريخية] .
- ٢٣- المشاريع النموذجية في البحرين مشروع هورة عالي والبحير ومشروع عذارى وبوري لإنتاج [الأعلاف والفواكه] ، ومشروع الهملة لتربية [الأغنام والماعز] .
- ٢٤- تسمى الطرق البرية التي تربط الجزيرة الأم بالمدن المجاورة بالطرق [الخارجية أو الإقليمية] .
- ٢٥- من واردات البحرين [سلع نفطية من (السعودية) و مواد غذائية و سلع رأسمالية ومعدات نقل من دول (آسيا وأوروبا الغربية وأمريكا]

السؤال الثاني: علل لما يأتي:

١- علل : تطور القطاع المصرفي في مملكة البحرين .

- (أ) الموقع الوسطي المتميز . (ج) التمتع بموقع زمني مناسب لأكبر البورصات العالمية . (ب) تطور الاتصالات والمواصلات . (د) توفر الأيدي العاملة الفنية المتخصصة . (هـ) الحرية الاقتصادية من حيث تسهيل عمليات التحويل الخارجي وعدم فرض ضرائب .

٢- علل : الفائض في الميزان التجاري في مملكة البحرين عام ٢٠٠١ م .

- (أ) ارتفاع حجم وقيمة الصادرات غير النفطية . (ب) ارتفاع حجم وقيمة الصادرات النفطية . (ج) انخفاض حجم الواردات النفطية .

٣- علل : يعاني القطاع السمكي في مملكة البحرين من عدة مشاكل .

- (أ) قلة مصانع الثلج والبرادات لحفظ الأسماك . (ب) الحاجة إلى أرصفة لاستقبال مراكب الصيد . (ج) تلوث البحر . (د) الحاجة إلى مراكز تدريب للصيادين . (هـ) قلة الأيدي العاملة الوطنية . (و) عمليات الحفر والردم بالسواحل .

٤- علل : أدت سياسة الحرية الاقتصادية في مملكة البحرين إلى جذب المستثمرين .

- (أ) إعطاء الحرية في إدخال رؤوس الأموال وإخراجها . (ب) إعفاء الشركات من الضرائب لمدة معينة . (ج) السماح للأجانب بامتلاك جميع أسهم الشركات . (د) تقديم التسهيلات في الدوائر الحكومية لهم .

٥- علل : لا تزال تربية الحيوانات (المواشي) في مملكة البحرين محدودة .

- (أ) ارتفاع نسبة تكاليف الإنتاج . (ب) قلة المراعي الطبيعية . (ج) الظروف المناخية . (د) تربية مواشي تنتمي إلى سلالات تقليدية ضعيفة الإنتاجية . (هـ) توجه الشباب للعمل في قطاعي الصناعة والخدمات .

٦- علل : إنشاء الصناعات التصديرية المتنوعة في مملكة البحرين .

- (أ) توافر النفط والغاز كمصدرين رئيسيين لتوليد الطاقة الكهربائية . (ب) ضيق السوق المحلية . (ج) توافر رؤوس الأموال الضخمة .

٧- علل : محدودية الأراضي الصالحة للزراعة في البحرين .

- (أ) قلة مياه الري . (ب) انتشار التربة الرملية المالحة الفقيرة

٨- علل : إتباع حكومة البحرين سياسة التنويع في مصادر الدخل .

- بسبب إدراك حكومة البحرين لخطر نفاذ النفط .

٩- علل: يعتمد صيد الأسماك في مملكة البحرين على الطرق التقليدية (حظرة + شبك صيد + قوارب خشبية صغيرة) .

بسبب منع الصيد الصناعي طبقاً للقرار الوزاري رقم (٥) الصادر عام ١٩٩٧ م .

١٠- علل : تميز الاقتصاد البحريني بالتوازن بين مختلف قطاعاته وتنوعه (أ) التنمية الاقتصادية . (ب) سياسة الحرية الاقتصادية

السؤال الثالث: أجب عن الأسئلة التالية:

١- ما الإجراءات التي قامت بها البحرين لتنمية قطاعها السياحي؟ [علل: نمو قطاع السياحة في البحرين بشكل متسارع]

(أ) أنشأت عدداً من الإدارات المختصة بالسياحة والآثار تابعة لوزارة الإعلام وذلك للتنقيب عن الآثار والاهتمام بها .
(ب) أعدت عمالة وطنية في مجال السياحة
(ج) شجعت وكالات السفر والسياحة الأجنبية على فتح مكاتب لها في البحرين.

٢- اذكر أبرز المهام التي تقوم بها مؤسسة نقد البحرين .

(أ) حق إصدار النقد. (ب) الحفاظ على قيمة الدينار البحريني. (ج) تنظيم المهنة المصرفية. (د) مراقبة وجهة توظيف القروض.

٣- اشرح مقومات السياحة في مملكة البحرين .

(أ) المعالم والمعطيات الطبيعية السياحية : (أ) الموقع الجغرافي بين الأقاليم المختلفة : مما جعلها محطة استراحة للمسافرين .

(ب) طبيعة البحرين الجزرية . (ج) طول سواحلها المتعددة الأشكال: [سواحل رملية (بلاج الجزائر) + سواحل جرفية (منتجع حوار)] .
(د) صغر مساحة البحرين : تمكن السائحين من زيارة معالمها السياحية بفترة زمنية قصيرة وبكلفة قليلة . (هـ) المناخ الشتوي الربيعي.

(ب) المعالم التاريخية القديمة مثل: [القلاع + المقابر كمقابر عالي + المعابد كمعبد باربار + البيوت القديمة + مسجد الخميس] .

(ج) المعالم والمعطيات الحضارية الحديثة مثل: [المتحف الوطني + بيت القرآن + مركز التراث الوطني + المجمعات + المنتزهات] .

(د) توافر خدمات الفنادق والمطاعم والشقق والمواصلات والاتصالات والبنوك الموجودة في مختلف مناطق البحرين .

٤- وضح جهود مملكة البحرين لتطوير قطاعها الزراعي والحيواني .

(أ) زيادة مساحة الأراضي الزراعية من خلال إنشاء شبكة تصريف للمياه للتخلص من ملوحة التربة ومعالجة مياه المجاري.

(ب) تقديم القروض ومستلزمات الإنتاج للمزارعين. (ج) إدخال البذور المحسنة. (د) تقديم الخدمات الإرشادية.

(هـ) توفير خدمات الوقاية الزراعية والبيطرية. (و) استخدام أساليب حديثة. (ن) إدخال السلالات العالية الجودة. (ي) إنشاء مشاريع نموذجية مثل مشروع هورة عالي والبحير ومشروع عذاري وبوري لإنتاج الأعلاف والفواكه، ومشروع الهملة لتربية الأغنام والماعز.

٥- اذكر جهود مملكة البحرين لتطوير قطاعها السمكي .

(أ) طورت بعض الموانئ كفرستي ستره والمحرق.

(ب) قدمت الإعانات المادية ومستلزمات الصيد للصيادين.

(ج) قدمت القروض الميسرة. (د) أسست مشروع رأس حيان لتربية الأحياء البحرية. (هـ) نظمت دورات تدريبية للصيادين.

٦- اشرح الجهود التي قامت بها حكومة البحرين الحوافز التي قدمتها لتنمية القطاع الصناعي .

(أ) أنشأت المناطق الصناعية (١٠ مناطق). (ب) أعطت الأفضلية للمنتج الوطني. (ج) أعفت المصانع من الضرائب.

(د) قدمت القروض. (هـ) توفير الأراضي بأجر رمزي لأصحاب المشاريع. (و) سمحت للأجانب بإنشاء المصانع.

(ي) أصدرت قوانين لحماية الصناعات الوطنية مثل [فرض جمارك على السلع المستوردة + إعفاء الآلات والمواد الأولية من الجمارك] .

٧- عدد التدابير التي اتخذتها البحرين على صعيد البنية التحتية لإنجاح خططها التنموية .

(أ) أنشأت المناطق الصناعية. (ب) طورت شبكة المواصلات [برية وبحرية وجوية] والاتصالات السلكية واللاسلكية.

(ج) حسنت الخدمات العامة [صحية وتعليمية وإسكانية] . (د) مدّت شبكات المياه والكهرباء والمجاري إلى شتى المناطق

٨- وضح التطورات في مجال الاتصالات السلكية واللاسلكية في مملكة البحرين .

(أ) تعتبر البحرين رائدة في استخدام نظم الاتصال السلكي واللاسلكي المتطورة. (ب) تم إدخال نظم اتصال متطورة كالتلفون والإنترنت.

(ج) تعمل الاتصالات من خلال الأقمار الاصطناعية . (د) تعمل جميع البدالات بالنظام الرقمي . (هـ) إصدار جرائد ومجلات

٩- وضح باختصار التطورات في مجال المواصلات البرية والبحرية والجوية في مملكة البحرين .

& التطور في الطرق البرية : * أنشأت شبكة متطورة و متميزة بمواصلاتها العالية ، وتضم مجموعتين من الطرق :

(أ) مجموعة الطرق الداخلية : وهي تنقسم إلى [الطرق الداخلية الفرعية (الخدمية) + الطرق الداخلية الرئيسية + الطرق السريعة] .

(ب) مجموعة الطرق الخارجية أو الإقليمية: وهي تربط الجزيرة الأم بالمدن المجاورة عبر خمسة جسور كجسر الشيخ حمد و ستره .

& التطور في المواصلات البحرية : (أ) كانت البحرين قديماً تعتمد في التجارة على ميناء المنامة الصغير .

(ب) تم بناء ميناء سلمان عام ١٩٥٨م وتطويره بأحدث الوسائل وإقامة منطقة صناعية حرة حوله يسمح للأجانب بإنشاء المصانع فيها.

(ج) يوجد موانئ أخرى كميناء ستره لتصدير النفط وميناء ألبالاستيراد الأمونيا وتصدير الألمنيوم، وميناء خليفة بن سلمان جنوب شرقي الحدّ .

& التطور في المواصلات الجوية : (أ) شكل المطار محطة عبور ثم زادت أهميته بعد النفط والنهضة الاقتصادية في نقل الركاب.

(ب) تم توسيع المطار وتجهيزه بأحدث المعدات. (ج) تمتلك البحرين وعمان والإمارات شركة طيران الخليج .

السؤال الرابع :- قارن بين الصناعات التصديرية وصناعة إحلال الواردات في مملكة البحرين .

وجه المقارنة	الصناعات التصديرية	صناعة إحلال الواردات
--------------	--------------------	----------------------

بعض أنواعها	تكرير النفط + بتروكيماويات + تسيليل الغاز + ألومنيوم + مكيفات هوائية + سخانات + مطابخ + كريات الحديد... الخ	مواد غذائية + أدوية + مشروبات غازية + مياه معدنية + الزجاج + مواد بناء + ورق... الخ
مميزاتها	(أ) كثرة رؤوس أموالها. (ب) كثرة العمال فيها. (ج) كثرة إنتاجها، ومعظم منتجاتها من المواد الأولى والوسيلة (د) يمتلكها القطاع العام (الحكومي) أو حكومات وشركات أجنبية	(أ) قلة رؤوس أموالها. (ب) قلة العمال فيها. (ج) قلة إنتاجها الذي يستهلك محلياً بشكل مباشر. (د) يمتلكها القطاع الخاص (الأفراد).
مشاكلها	(أ) المنافسة الشديدة من قبل شركات إقليمية أو عالمية. (ب) البعد عن الأسواق المستهلكة مما يزيد من التكاليف. (ج) تقلبات الأسعار في الأسواق العالمية. (د) التكاليف المرتفعة للمواد الأولية المستوردة. (هـ) فرض بعض الدول رسوم جمركية مرتفعة على وارداتها منها	(أ) الاعتماد على الخارج في تأمين آلات المصانع وموادها الأولية. (ب) قلة تنوعها في السوق الداخلية. (ج) التنافس بين المنتجات الوطنية المتشابهة وبينها وبين المنتجات المستوردة.

ثانياً: أسئلة هامة جداً في (دروس قارة أوروبا)

السؤال الأول :- أجب عن الأسئلة التالية:

١- علل : تدني نسبة الزيادة السكانية الطبيعية في قارة أوروبا .

بسبب تدني نسبة الخصوبة وانخفاض الولادات وهذا بدوره انعكس على المجتمع الأوروبي ، وحكومات الدول الأوروبية، حيث (أ) أن بعض دول أوروبا لم يعد بإمكانها تجديد سكانها. (ب) فزادت نسبة المسنين مما أدى إلى تحمّل أعباء إضافية لتأمين الخدمات لهم.

٢- علل : يعتبر موقع أوروبا وتنوعها الطبيعي ثروة سياحية .

* تحتل أوروبا المتوسطة المرتبة الأولى من حيث استقبال السياح الذين يأتون إليها للتمتع [بالشمس + دفء المياه + المناطق الأثرية] .
* تعتبر جبال الألب أولى المناطق السياحية الجبلية في العالم حيث يأتونها السياح [لممارسة التزلج + التمتع بالمناظر الجميلة] .

٣- علل : تقدم القطاع الزراعي وتطوره في قارة أوروبا .

بسبب (أ) توافر السهول الخصبة + توافر المياه . (ب) توافر المراعي. (ج) استخدام الآلات الحديثة .

٤- علل : تقدم القطاع الصناعي وتطوره في قارة أوروبا .

بسبب (أ) توافر الفحم الحجري والحديد . (ب) التقدم العلمي . (ج) استخدام الطاقة الكهربائية والنوية .

٥- أذكر الخصائص السكانية في قارة أوروبا .

أ- انخفاض نسبة الزيادة السكانية الطبيعية . ب- انخفاض نسبة الولادات . ج- انخفاض نسبة الوفيات .
د- انخفاض نسبة الفتيان . هـ- ارتفاع نسبة المسنين . و- ارتفاع الكثافة السكانية .

٦- أذكر ما يدل على تداخل البر والبحر في قارة أوروبا وعدم تماسكها .

أ- كثرة أشباه الجزر فيها . ب- كثرة جزرها . ج- تخرقها بحار فرعية . د- شواطئها متعرجة تكثرت فيها الرؤوس والخلجان .

السؤال الثالث :- قارن بين ما يلي :

موارد طبيعية متجددة (لا تنفذ بالاستخدام) في أوروبا	موارد طبيعية غير متجددة في أوروبا
١- التربة الزراعية . ٢- الغابات . ٣- الأنهار الصالحة للملاحة . ٤- وفرة المياه للطاقة الكهرومائية .	الفحم الحجري + النفط + الحديد + الرصاص + اليورانيوم + البوكسيت .. الخ

مناطق ذات كثافة سكانية منخفضة في أوروبا	مناطق ذات كثافة سكانية مرتفعة في أوروبا
* هي المناطق التي صعب على الإنسان استغلالها زراعياً مثل:- ١- الجبال العالية . ٢- الغابات الشمالية . ٣- مناطق الأرياف التي تشهد نزوحاً للمدن .	١- مناطق الزراعات الحديثة . ٢- المناطق الصناعية . ٣- المناطق الزراعية الصناعية في آن واحد .

أوجه المقارنة	الإقليم القطبي	الإقليم المعتدل القاري
المناطق التي يسودها	منطقة صغيرة في شمال أوروبا	مناطق أوروبا الوسطى والشرقية
المميزات المناخية	١- شتاؤه لا تنخفض فيه الحرارة عن [١٥- ٢٥ تحت الصفر] لتأثره بتيار جولف ستريم . ٢- صيفه رطب وأكثر دفئاً من الشتاء	١- شتاؤه بارد وجاف وأمطاره ثلجية قليلة . ٢- صيفه يمتاز بشدة الحرارة وتساقط أمطار يرافقها عواصف رعدية . ٣- المدى الحراري السنوي مرتفع . ٤- يزداد هذا المناخ قساوة في المناطق الداخلية .
المميزات النهريّة	لا يوجد	عدم انتظام جريان الأنهار

أوجه المقارنة	الإقليم المعتدل المحيطي	الإقليم المتوسطي
المناطق التي يسودها	الشريط الذي يطل على المحيط الأطلسي	مناطق جنوبي أوروبا على البحر المتوسط
المميزات المناخية	١- مناخه لطيف لتأثره بالمحيط الأطلسي وتيار الخليج الدافئ . ٢- المدى الحراري السنوي صغير حيث أن حرارته تصل إلى ١٥ صيفاً و ٧ شتاءً	١- نار جاف صيفاً دفي ممطر شتاءً . ٢- قد تنخفض درجة الحرارة بسبب هبوب الرياح الشمالية القطبية الباردة .

فصل سقوط المطر	كل الفصول وخاصة الخريف والشتاء .	فصل الشتاء
المميزات النهريّة	انتظام جريانها وصالحه للملاحة طوال العام	عدم انتظام جريان الأنهار

السؤال الرابع :- أكمل الفراغات الآتية بما يناسبها :

- نشأت الجبال الحديثة التكوين في أوروبا بسبب [اصطدام الكتلة الأفريقية بالكتلة الآسيوية الأوروبية] . ٢- انخفضت الوفيات بسبب [تحسن المعيشة وتقدم الطب]
- القارة الوحيدة التي لا يوجد فيها صحاري هي [أوروبا] بسبب [بعدها عن المناطق المدارية] . ٤- من أشهر مناطق السياحة الجبلية بالعالم منطقة جبال [الألب]
- تلقّي أوروبا من جهة الشرق بقارة [آسيا] . ١٧- تؤثر السياحة سلباً على البيئة لما يسببه السياح من [حرائق وتلوث وعمران فوضوي يشوه جمال الطبيعة] .
- تحتل أوروبا من حيث عدد السكان بين قارات العالم المرتبة [الثانية] بينما تحتل من حيث الكثافة السكانية المرتبة [الأولى] .
- تعاني أوروبا من انخفاض في ثقلها الديموغرافي في العالم بسبب [انخفاض نسبة الزيادة السكانية] . ٨- ترتفع نسبة المسنين في أوروبا بسبب [ارتفاع متوسط عمر الإنسان وقلة نسبة الولادات] .
- ٩- من مشاكل القطاع الزراعي في أوروبا مشكلة [تخزين المنتجات الزراعية وتصريفها في الأسواق] .
- ١٠- من مميزات الجبال الحديثة التكوين في أوروبا [شدة ارتفاعها + قممها مسننة + منحدراتها قوية + وعورة مسالكها + أوديتها عميقة]
- ١١- أصبحت الجبال قديمة لتكوين في أوروبا هضاباً مدببة القمم متوسطة الارتفاع بسبب [عوامل التعرية] .
- ١٢- تمتد الجبال حديثة التكوين في أطراف أوروبا [الجنوبية] بمحاذاة سواحل [البحر المتوسط] .
- ١٣- تمتد الجبال قديمة التكوين بأوروبا [الشمالية الغربية ووسطها] . ١٤- يتميز المناخ القاري بأوروبا بقساوته بسبب [بعده عن تأثيرات المحيط الأطلسي وتياراته]
- ١٥- يتميز المناخ المحيطي بلطافته في أوروبا بسبب [تأثيره بالرياح الغربية القادمة من المحيط الأطلسي، وكذلك تأثيره بتيار جولف ستريم الحار] .

ثالثاً: أسئلة هامة جداً في (دروس قارة أمريكا الشمالية والوسطى)

السؤال الأول :- أجب عما يأتي :

١- عدد المقومات المشتركة التي سمحت بقيام زراعة متنوعة في أمريكا الشمالية والوسطى .

(أ) التنوع المناخي.	(ب) توافر المياه.	(ج) خصوبة التربة	(د) السهول الواسعة.
---------------------	-------------------	------------------	---------------------

٢- علل: تعتبر كندا والولايات المتحدة الأمريكية المخزن الرئيسي للغذاء في العالم .

(أ) استخدام آلات حديثة.	(ب) توافر رؤوس الأموال.	(ج) توافر أسمدة ومبيدات.	(د) الأيدي العاملة المتخصصة.
-------------------------	-------------------------	--------------------------	------------------------------

٣- علل: تقدّم القطاع الصناعي وتطوره في أمريكا الشمالية .

(أ) تتوافر المعادن.	(ب) وجود أكبر احتياطي للفحم الحجري فيها.	(ج) توافر الأسواق.	(د) توافر رؤوس الأموال.
(هـ) استخدام آلات وتقنيات حديثة.	(و) توافر أيدي عاملة متخصصة.		

٤- علل: يسود المناخ القاري في المناطق الداخلية من أمريكا الشمالية .

لوجود جبال الأبالاش والجبال الغربية التي تحجز الرياح الرطبة القادمة من المحيط الهادئ والأطلسي .

٥- قارن بين كل مما يأتي :

الخصائص السكانية في أمريكا الشمالية	الخصائص السكانية في أمريكا الوسطى
١- قلة الولادات .	١- ارتفاع الولادات .
٢- قلة نسبة الفتيان .	٢- ارتفاع نسبة الفتيان .
٣- ارتفاع متوسط عمر الإنسان (٧٦ سنة) .	٣- يختلف متوسط عمر الإنسان بين دولها فمثلاً (٥٣ سنة في هايتي و ٧٥ سنة في كوبا) .
٤- ارتفاع نسبة المسنين .	٤- انخفاض نسبة المسنين .
٥- انعدام الأمية تقريباً بين الشباب دون ٢٥ سنة .	٥- ارتفاع نسبة الأمية تقريباً بين الشباب دون ٢٥ سنة .

الزراعة في أمريكا الشمالية	الزراعة في أمريكا الوسطى
# قامت زراعة مكثفة ومتنوعة بأمريكا الشمالية بسبب : ١- توافر المياه + التنوع المناخي +	# تنتشر زراعة تقليدية معيشية بدول
خصوبة التربة والسهول الواسعة . ٢- توافر رؤوس الأموال ٣- استخدام آلات حديثة .	أمريكا الوسطى لتلبية الاحتياجات المحلية
٦- توافر مبيدات وأسمدة ٧- أيدي عاملة خبيرة # للأسباب السابقة تعتبر الولايات المتحدة وكندا المخزن الرئيسي للغذاء في العالم . # تصدّر كميات كبيرة من منتجاتها للخارج	# يوجد فيها زراعات تجارية تمولها وتسوق إنتاجها للخارج شركات كبرى .

الصناعة في أمريكا الشمالية	الصناعة في أمريكا الوسطى
# قامت صناعة متطورة في دول أمريكا الشمالية للأسباب التالية :-	# القطاع الصناعي فيها تقليدي بسبب محدودية مقومات الصناعة الحديثة . # يعتمد القطاع الصناعي فيها على: [استخراج المواد المعدنية والنفطية + الصناعات البتر وكيميائية + الصناعات الخفيفة كالمواد الغذائية] .
١- توافر المعادن .	
٢- وجود أكبر احتياطي للفحم الحجري فيها .	
٣- توافر الأسواق .	
٤- توافر الأيدي العاملة المتخصصة .	
٥- توافر رؤوس الأموال .	
٦- استخدام الآلات الحديثة .	
# تقوم بالصناعة مؤسسات عملاقة تنتج مواد ذات جودة مثل سيارات وطائرات وأجهزة	

السؤال الثاني : أكمل الفراغات الآتية بما يناسبها :

- السكان الأصليون لقارة أمريكا الشمالية والوسطى هم [الهنود الحمر والإسكيمو] .
- تنخفض درجة الحرارة شتاءً في السواحل الشمالية الشرقية لأمريكا الشمالية بسبب [مرور تيار لابرادور] .
- تمتد جبال الأبالاش في قارة أمريكا الشمالية في الجهة [الشرقية] . ٤- أعلى قمة جبلية بأمريكا الشمالية تسمى قمة جبل [ماك كينلي] .
- سلسلة جبلية قديمة التكوين في أمريكا الشمالية هي جبال [الأبالاش] التي ترجع للزمن الجيولوجي [الثاني] .
- ترتفع الحرارة في السواحل الغربية لآلاسكا وكندا بسبب [مرور تيار كوروشيفو الحار] .
- تطل أمريكا الشمالية من جهة الغرب على المحيط [الهادئ] ومن الشرق على المحيط [الأطلسي] .
- يسيطر على الأطراف الشمالية لقارة أمريكا الشمالية المناخ [القطبي] ، وفي المناطق الداخلية المناخ [المعتدل القاري] .
- تتنوع المناخات بأمريكا الشمالية وتندرج من القطبي للمداري بسبب [امتداد القارة من القطب الشمالي حتى خط الاستواء] .
- تكثر البراكين والزلازل في الجبال الغربية بأمريكا الشمالية بسبب [اصطدام كتلة أمريكا بكتلة المحيط الهادئ] .

- ١١- البحيرات الخمس الكبرى من أكبر المسطحات المائية العذبة بقارة [أمريكا الشمالية] وتقع على الحدود [الكندية - الأمريكية]
- ١٢- الجبال الغربية هي جبال حديثة التكوين في قارة [أمريكا الشمالية] تعود للزمن الجيولوجي [الثالث] .
- ١٣- تأتي قارة أمريكا الشمالية من بين قارات العالم من حيث المساحة في المرتبة [الثالثة] .
- ١٤- نشأت العديد من الخلجان والجزر والبحيرات في شمال أمريكا الشمالية بسبب [تأثير الموجات الجليدية في الزمن الرابع] .
- ١٥- يعود حوالي ٩٠% من مجمل سكان أميركا الشمالية والوسطى إلى أصل [أوروبي] .
- ١٦- تشهد الولايات المتحدة الأمريكية انتقالاً سكانياً من مدن منطقة البحيرات والساحل الشرقي نحو مدن السواحل الجنوبية والغربية بسبب [تحسن الوضع الاقتصادي وتوافر فرص العمل] .
- ١٧- تتدرج الأقاليم المناخية من البارد شمالاً إلى الحار جنوباً في قارة [أمريكا الشمالية] .
- ١٨- لم يندمج البيض والسود والسكان الأصليين في أمريكا الشمالية بسبب [ممارسة البيض التمييز العنصري ضد السود والسكان الأصليين] ، بينما نجد أن تلك الأعراق الثلاثة اندمجت في أمريكا [الوسطى] .
- ١٩- لاتزال الجبال الغربية بأمريكا الشمالية تتعرض للزلازل العنيفة بسبب [استمرار عملية تصادم الكتلة الأمريكية بكتلة المحيط الهادئ] .
- ٢٠- سمح انفتاح مناطق أمريكا الشمالية شمالاً بتغلغل الرياح [القطبية الباردة] شتاءً ، بينما سمح انفتاحها جنوباً بتغلغل الرياح [المدارية الرطبة] صيفاً .
- ٢١- تتسع السهول الساحلية الشرقية في أمريكا الشمالية عند [خليج المكسيك] وتضيق عند [المحيط الأطلسي] .
- ٢٢- يعتمد القطاع الصناعي التقليدي في دول أمريكا الوسطى بشكل رئيسي على [صناعة استخراج المواد المعدنية والنفطية] التي يُصدّر إنتاجها خصوصاً إلى [الولايات المتحدة الأمريكية] .

س- قارن بين سكان دول أمريكا الشمالية ودول أمريكا الوسطى من حيث:

المجال	دول أمريكا الوسطى	دول أمريكا الشمالية
الانصهار السكاني	اندمجت الأعراق السكانية (البيض والسود والسكان الأصليين).	لم تندمج الأعراق السكانية (البيض والسود والسكان الأصليين).
نتائج	دول أمريكا الوسطى شعب واحد، يشكل الخلاسيون منه نسبة كبيرة تزيد عن ٦٠% مثل شعب المكسيك.	أدى التمييز العنصري الذي فرضه البيض إلى عدم انصهار الأعراق ، فعاش السود في أحياء فقيرة، كما عاش السكان الأصليين في مناطق بعيدة.
اتجاه حركة الانتقال السكاني	انتقال السكان من الأرياف حيث البؤس وال فقر إلى المدن.	انتقال السكان من منطقة البحيرات و الساحل الشرقي نحو مدن السواحل الجنوبية والغربية.

سادساً: أسئلة هامة جداً من دروس متفرقة

السؤال الأول: ضع علامة (✓) أمام كل إقليم من الأقاليم المناخية بحسب تمثله في قارات العالم الموضحة بالجدول أدناه:

الأقاليم المناخية	قارة أوروبا	قارة أمريكا الشمالية
الصحراوي		✓
الأستوائي		
المعتدل المتوسطي	✓	✓
المعتدل القاري	✓	✓
القطبي البارد	✓	✓
المداري		✓
المعتدل المحيطي	✓	✓

السؤال الثاني: قارن بين التيارات البحرية المؤثرة في مناخ قارات (أوروبا - أمريكا الشمالية والوسطى).

اسم التيار	القارة	نوعه	مناطق	أثره على المناخ
كاليفورنيا	أمريكا الشمالية والوسطى	بارد	الشواطئ الغربية لكاليفورنيا والمكسيك	تدني الحرارة والأمطار
كوروشيفو	أمريكا الشمالية والوسطى	حار	السواحل الغربية لألاسكا وكندا	ارتفاع الحرارة والأمطار
لابرادور	أمريكا الشمالية والوسطى	بارد	السواحل الشمالية الشرقية للقارة	نخفاض الحرارة شتاءً
الخليج (غولف ستريم)	أوروبا	حار	الشواطئ الغربية لقارة أوروبا	حدّ من تدني الحرارة شتاءً

السؤال الثالث: ما النتائج المترتبة على الحوافز التي تقدمها حكومة البحرين لتنمية قطاعها الصناعي؟

- (أ) تشجيع المستثمرين المحليين والأجانب على الاستثمار في القطاع الصناعي .
(ب) توفير فرص عمل للمواطنين.
(ج) تنويع القاعدة الإنتاجية للاقتصاد الوطني.

السؤال الرابع: ما النتائج المترتبة على تطور القطاع المصرفي في مملكة البحرين؟

- (أ) توفير فرص عمل للمواطنين .
(ب) تقديم القروض للقطاعات الاقتصادية الأخرى لتمويل مشاريعها الإنمائية.

السؤال الخامس: بما تفسر حدوث الظواهر الجغرافية التالية؟

- ١- حدوث الكثير من الزلازل والبراكين في الجبال الحديثة التكوين في أوروبا .
التفسير هو أن هذه الجبال لا تزال تنهض حتى الآن.

٢- انتظام جريان أنهار الإقليم المحيطي في أوروبا. التفسير هو لتغذيها بمياه الأمطار بصورة مستمرة ما يجعلها صالحة للملاحة.

٣- تميز المناخ المعتدل المحيطي بلطافته. بسبب أ) قربه من المحيط الأطلسي. ب) تأثره بتقدمات تيار جولف ستريم الحار

٤- سيادة المناخ القاري في المناطق الداخلية من أمريكا الشمالية.

بسبب وجود جبال الأبالاش والجبال الغربية التي تحجز الرياح الرطبة القادمة من المحيطين الهادئ والأطلسي.

٥- تدني الحرارة وكمية الأمطار في الشواطئ الغربية لكاليفورنيا والمكسيك. التفسير هو بسبب مرور تيار كاليفورنيا البارد.

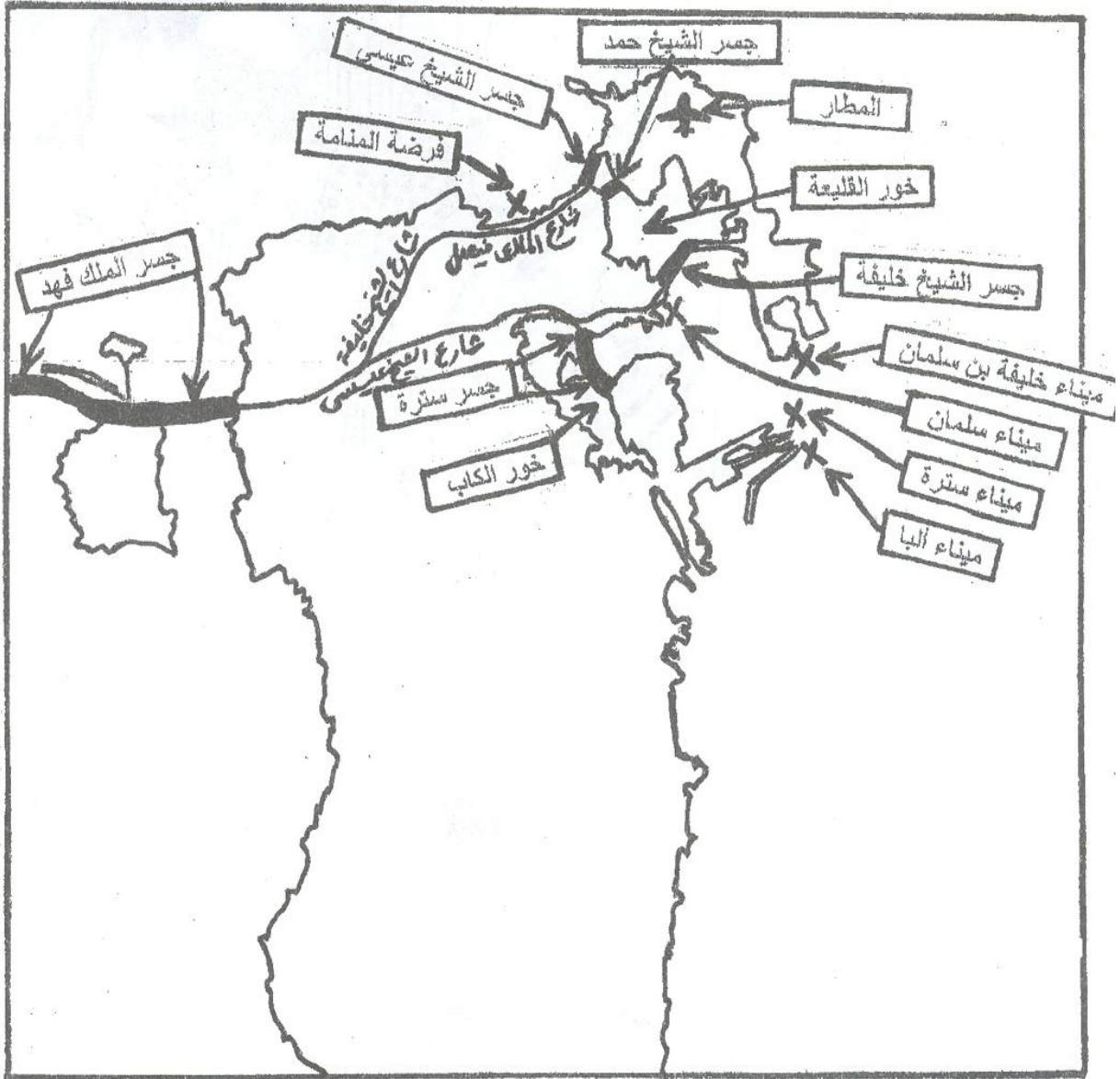
٦- ارتفاع الحرارة في المناطق الغربية لآلاسكا وكندا التفسير هو بسبب مرور تيار كوروشيفو الحار.

٧- انخفاض الحرارة شتاءً في السواحل الشمالية الشرقية لأمريكا الشمالية التفسير هو بسبب مرور تيار لابرادور البارد.

٨- قيام العديد من المصارف الوطنية والأجنبية في العمل بالبحرين في فترة السبعينات

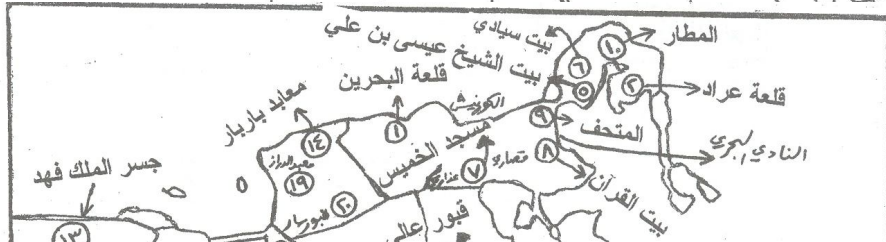
بسبب ارتفاع أسعار النفط التي أدت إلى توافر فوائض نقدية ضخمة.

سأمامك خريطة البحرين الصّماء ، حدّد عليها مواقع [المطار + الجسور + الموانئ + الطرق الرئيسية + الأخوار] .

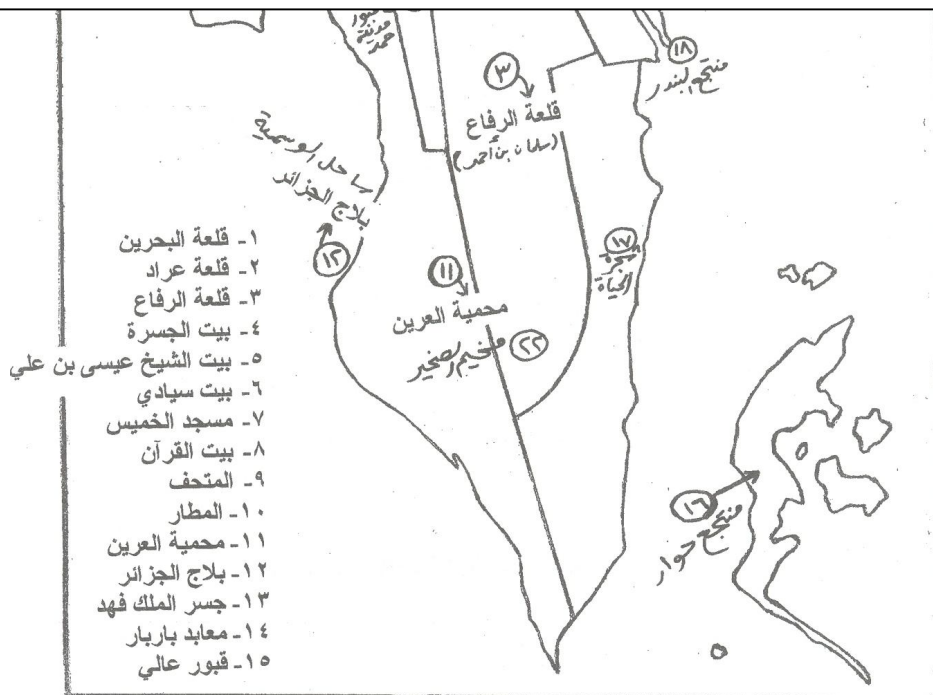


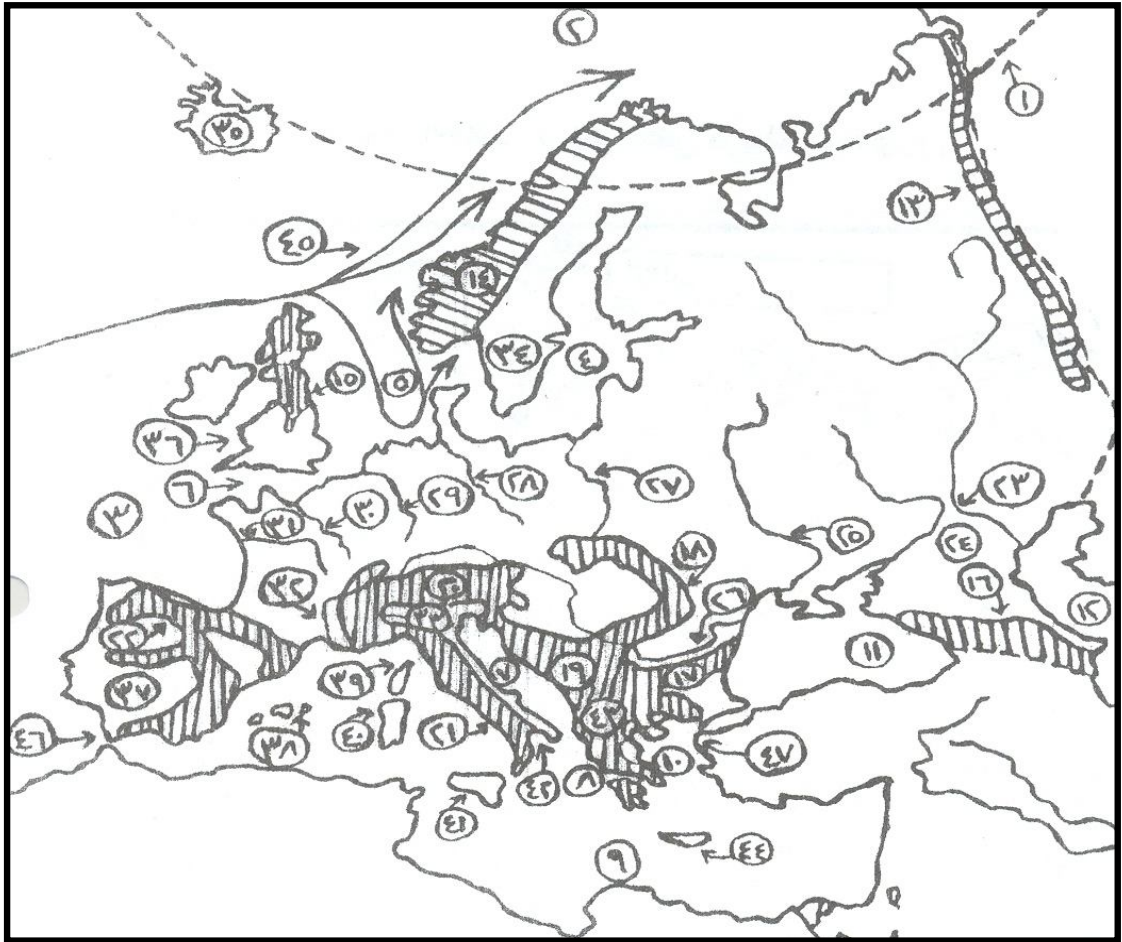
س ٤- أمامك خريطة صماء لدولة البحرين . . . حدد عليها ما يلي :-

- أ- المناطق الصناعية .
 ب- مصانع وشركات : [الحوض الجاف (أسري) +
 بتروكيماويات + تكرير النفط + تسييل الغاز +
 ألبا + بلكسكو + باي + ميدال + جارمكو] .
 ج- مدن وقرى : [المديع + عوالي + عالي + جو +
 الزلاق + الدور + عسكر + سافرة + السنابس +
 الدراز + كرانة + الجسرة + دمستان + أم الحصم] .



س- أمامك خريطة البحرين الصماء ، وزع عليها أسماء أهم المواقع السياحية الحضارية الحديثة والطبيعية والتاريخية.







خريطة سطح أمريكا الشمالية والوسطى

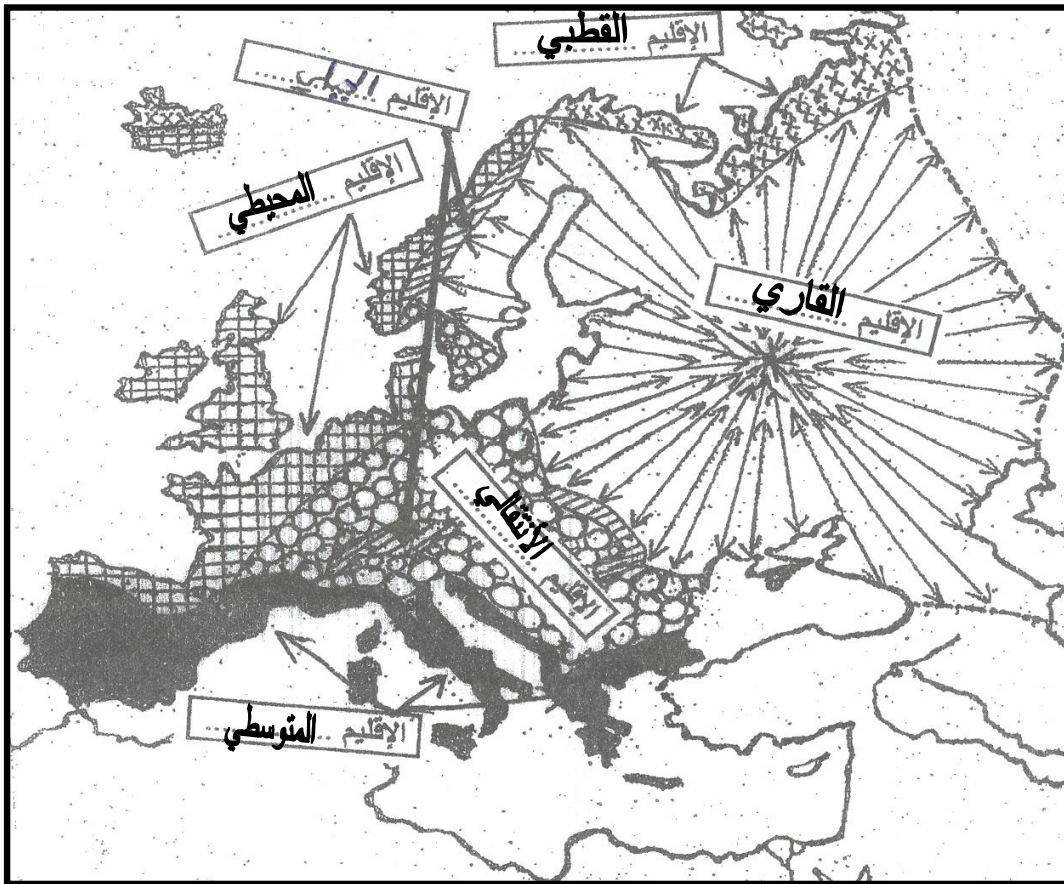
١١ - نهر النوار	١١ - نهر الرون	١١ - نهر النيو	
٣٤ - شبه جزيرة اسكندنافيه	٣٥ - جزيرة آيسلندا	٣٦ - الجزر البريطانية	٣٧ - شبه جزيرة ايبيريا
٣٨ - جزر البليار	٣٩ - جزيرة كوروسيك	٤٠ - جزيرة سردينيا	٤١ - جزيرة صقلية
٤٢ - شبه جزيرة ايطاليا	٤٣ - شبه جزيرة البلقان	٤٤ - جزيرة كريت	
٤٥ - تيار غولف ستريم البحري الحار (تيار الخليج الدافئ)			
٤٦ - المحيط المتجمد الشمالي	٤٧ - المحيط الأطلسي		
الجزر وأشباه الجزر			التيارات بحرية
المضائق			

س- على خريطة قارة أمريكا الشمالية والوسطى الصمّماء التي أمامك مجموعة أرقام تمثل عدداً من الظواهر الجغرافية، اكتب ما تمثله هذه الأرقام على الخريطة حسب البيانات المبينة في الجدول الذي

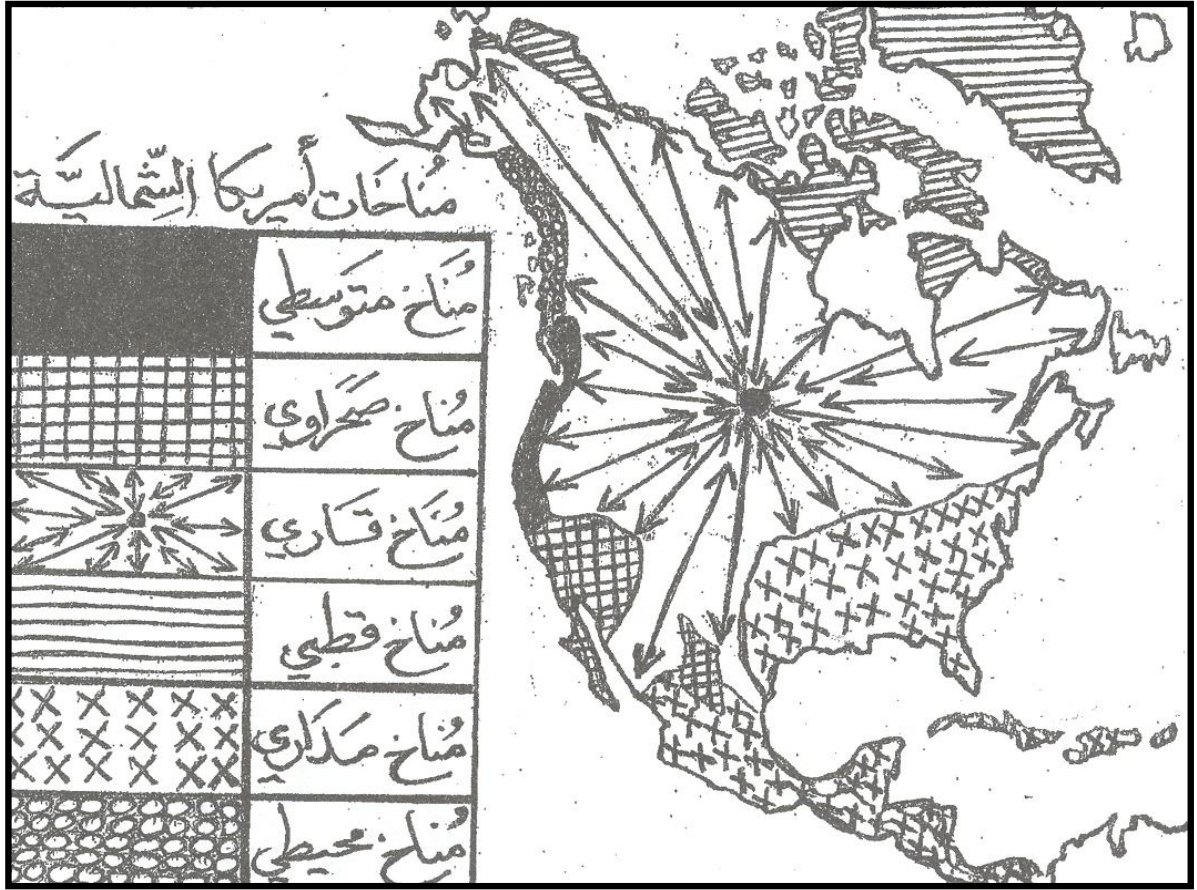
نوع الظاهرة التضاريسية	الظاهرة الواردة على الخريطة
------------------------	-----------------------------

دوائر عرض	١- الدائرة القطبية الشمالية	٢- مدار السرطان
محيطات	٣- المحيط الأطلسي	٤- المحيط الهادئ
بحار	٦- بحر بيرنغ	٧- البحر الكاريبي
خلجان	٨- خليج بافن	٩- خليج آلاسكا
أنهار	١٣- نهر الميسيسيبي	١٤- نهر أركنساس
جبال	١٩- جبال الأبلش	٢٠- جبال الروكي
تيارات بحرية	٢٤- كوروشيفو الحار	٢٥- كاليفورنيا البارد
		١٠- خليج هدسن
		١١- خليج المكسيك
		١٢- كاليفورنيا
		١٥- نهر ميسوري
		١٦- نهر سانت لورنس
		١٧- نهر نلسون
		١٨- نهر ماكنزي
		٢١- جبال الكسكاد
		٢٢- سييراماديرا
		٢٣- آلاسكا
		٢٦- لايرادور البارد
		٢٧- غولف ستريم الحار

س- حدّد الأقاليم المناخية على خريطة قارة [أوروبا] .

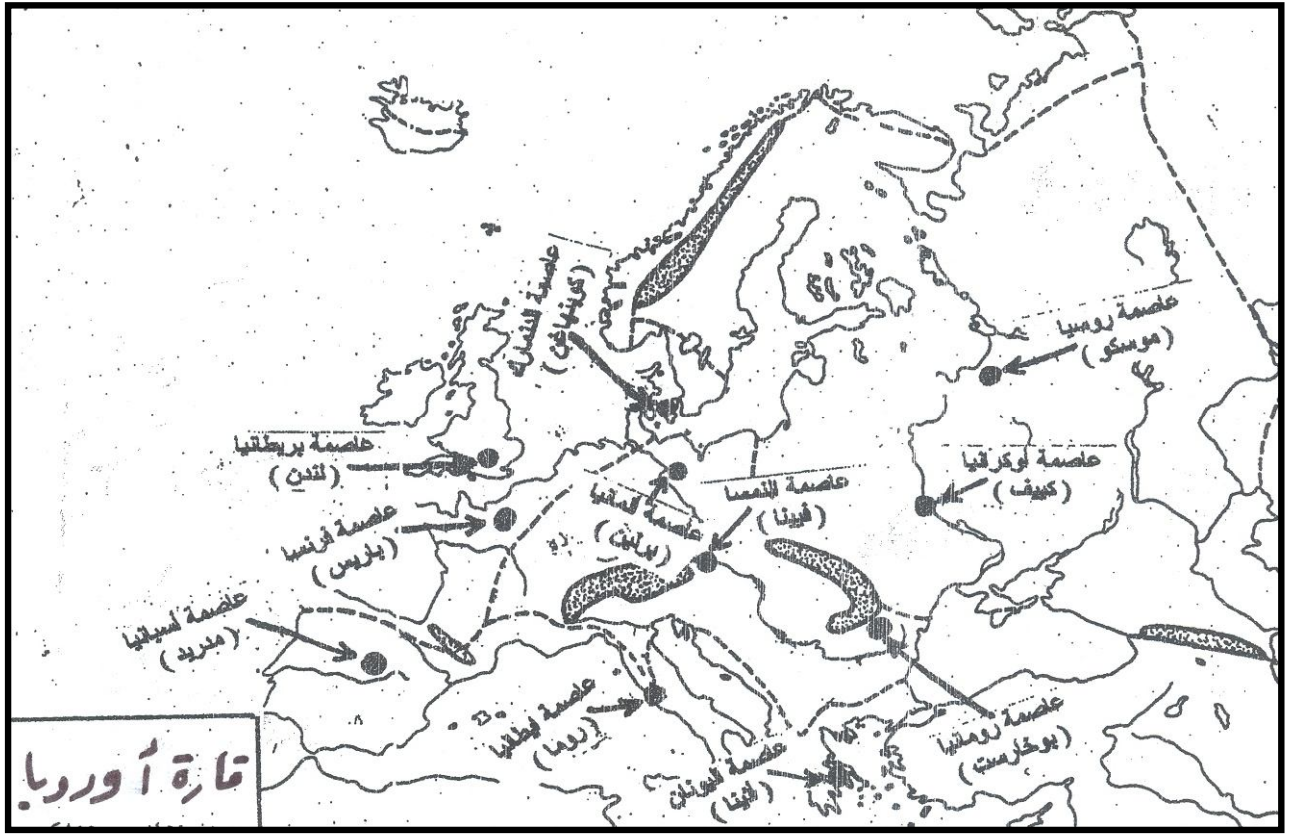


س- حدّد الأقاليم المناخية على خريطة قارة [أمريكا الشمالية والوسطى] .



س-

س- حدّد أهم المدن والعواصم على خريطة قارة [أوروبا].



قسم المواطنة

الحواسن

السؤال الأول: أكمل الفراغات التالية بما يناسبها :

- 1- جمعت مملكة البحرين أثارها في [المتحف الوطني]، واعتنت ببقية الآثار في [مواقعها].
- 2- الموقع التراثي البحريني الذي تم تسجيله ضمن قائمة التراث العالمي في يوليو 2005م هو [قلعة البحرين].
- 3- اللجنة التي تنشر قائمة بالتراث العالمي المعرض للخطر، وتقديم العون للدول هي [لجنة التراث العالمي (اللجنة الدولية الحكومية)].
- 4- يكمن دور صندوق حماية التراث العالمي في [تقديم المساعدات للدول لصون تراثها].
- 5- المنظمة التي أقرت الاتفاقية الدولية لحماية التراث الثقافي والطبيعي هي [منظمة الأمم المتحدة للتربية والعلوم والثقافة (اليونسكو)].
- 6- من أمثلة التلوث الألي: [ردم مساحات مائية ومنخفضات، قطع الأشجار، إقامة السدود وتحويل مجاري الأنهار، الصيد والرعي الجائر، الضجيج].
- 7- من أهم مصادر التلوث الإشعاعي هي [التجهيزات النووية].
- 8- من أهم مصادر التلوث الكيماوي هي [الصناعة بمنتجاتها ونفاياتها].
- 9- من أمثلة التلوث الألي: [ردم مساحات مائية ومنخفضات، قطع الأشجار، إقامة السدود وتحويل مجاري الأنهار، الصيد والرعي الجائر، الضجيج].
- 10- من المهن الحيوية المرتبطة بالتنمية في المجتمع البحريني هي [الطبيب، والمعلم، والمهندس، والمحاسب، والمحامي وغيرها].
- 11- العمل هو [مصدر الإنتاج والتطور والرخاء في أي مرحلة من مراحل التطور البشري]، أما تعريف العمل في قانون العمل بمملكة البحرين هو [مجهود يقوم به الإنسان بإرادته، واختياره للحصول على أمر يكفل له الحياة، وتحقيق الرفاهية والسعادة لجميع أفراد المجتمع].
- 12- العمل التطوعي [هو عمل خال من الربح والعائد، يقوم به الأفراد لصالح المجتمع ككل، وهو لا يمثل مهنة، ويأخذ أشكالاً متعددة].
- 13- المهنة هي [مجموعة من النشاطات المتجانسة، والمتكاملة تتطلب مهارات فكرية، أو جسدية، أو الإثنين معاً، ويحاولها الفرد لقاء أجر معين].
- 14- نشأ العمل وتطورت فكرته مع نشأة الإنسان وتطوره منذ [القدم].
- 15- كل مهنة يؤديها الإنسان هي عبارة عن [عمل]، مثل المحاسب والخباز؛ ولكن ليس كل عمل يؤديه الإنسان مهنة، مثل أن يقوم [بتنظيف منزله].
- 16- يقوم به الإنسان لصالح مجتمعه دون ربح أو عائد مادي كتنظيف ساحل القرية، يُعرف بالعمل [التطوعي].
- 17- تحدثه النفايات الصناعية، وينتج عنه تغير في تركيبة التربة أو الماء أو الهواء، هو التلوث [الكيماوي].
- 18- القاعة التي أنشئت في متحف البحرين الوطني لتأكيد الحفاظ على الوسط البيئي والحياة الفطرية هي قاعة [التاريخ الطبيعي].
- 19- الحفاظ على التراث مهمة عالمية وإنسانية لأن [بعض الآثار تعتبر ملكاً للبشرية جمعاء].

السؤال الثاني: علل لما يأتي (فسّر أو اذكر السبب) :

س1- علل: ثراء التراث البحريني.

أ- تاريخ البحرين الطويل، حيث إنها جزر مأهولة بالسكان منذ فجر التاريخ. ب- تميز البحرين ببيئة ثقافية قائمة على الانفتاح والتسامح والاستفادة من كل تقدم حضاري. ج- موقع البحرين المتميز بين مؤثرات حضارية متنوعة في مختلف العصور.

س2- علل: ثراء المتحف الوطني لمملكة البحرين.

بسبب تعدد قاعاته ذات الاختصاصات المختلفة، حيث يتميز المتحف بمخطط هندسي وظيفي، يضم أمثلة مصغرة لمواقع ومعالم وأدوات أثرية وحرف وتقاليد ووثائق ومخطوطات، وقاعات أخرى (قاعة التاريخ الطبيعي - قاعة الفنون التشكيلية).

س3- علل: سنّت مملكة البحرين قانوناً يختص بالحفاظ على الآثار .

بسبب: أ) مكانتها التاريخية والوطنية. ب) لما لها من دور اقتصادي واجتماعي وثقافي.

س4- علل: تفاقم الخلل البيئي في القرن الماضي وبداية القرن الحالي.

أ- الأنشطة البشرية. ب- الأسباب الطبيعية.

س5- علل: يُعد التلوث خطراً يهدد البشرية جمعاء.

لأن السفن تجوب البحار والمحيطات، والطائرات تعبر القارات، والأنهار والرياح والأعاصير تتجاوز حدود الدول، والحروب تشمل مساحات متسعة، ومن أمثلة ذلك:

- أ- الرياح الغربية التي تنقل التلوث الهوائي من أمريكا إلى أوروبا، ومن أوروبا إلى آسيا.
- ب- التلوث بمنطقة الخليج العربي، التي عرفت عدة حروب، وتسارعت فيها الأنشطة الإنمائية، وزيادة الاستهلاك، وتزايدت الملاحة البحرية.
- ج- الحوادث الصناعية والبحرية، وظاهرة الاحتباس الحراري.

السؤال الثاني: اجب عما يلي :

س1- صنّف المآثر (المعالم) التراثية على حسب طبيعتها.

- أ- معالم (قلعة - مسجد ... الخ).
- ب- قطع أثرية (أدوات - نقود - نحت - رسوم - مخطوطات ... الخ).
- ج- أدوات حرفية. د- طرائق عمل وإنتاج. هـ- نباتات وحيوانات. و- مشاهد حضرية وريفية.
- ي- عادات (احتفالية وجنائزية). ن- مآثورات أدبية (شعر - نثر - أمثال - حكم - موسيقى ... الخ).
- ل- إنتاج فكري وتراثي مادي ولا مادي (قيم وأخلاق). ع- تراث ثقافي وبيئي.

س2- صنّف المآثر التراثية على حسب مرحلتها التاريخية.

أ- ما قبل الإسلام. ب- إسلامية.

س3- صنّف المآثر التراثية على حسب المواد التي صنعت منها.

أ- خشب. ب- نسيج. ج- صخر.

المآثر التراثية على حسب مجال استخدامه.

ب- دينية. ج- عسكرية. د- اقتصادية. هـ- احتفالية.

ضم متحف البحرين الوطني؟

أ) أمثلة مصغرة لمواقع ومعالم وأدوات أثرية وحرف وتقاليد ووثائق ومخطوطات.
ب) قاعة للتاريخ الطبيعي؛ لتأكيد الحفاظ على الوسط البيئي والحياة الفطرية.
ج) قاعة عرض الفنون التشكيلية.
د) قاعات متعددة ذات اختصاصات مختلفة.

كون التراث العالمي؟

أ) قيمة معمارية أو فنية أو علمية. ب- مواقع طبيعية، أو مهياة من قبل الإنسان.

مهمة العمل الشريف؟

أ) كرامة الإنسان. ب- يُسهم في دفع عجلة التنمية. ج- يُنمي اقتصاد البلد في كل المجالات.

تأثير المترتبة على تسرب ثقافة العيب لبعض الناس في مجتمعنا؟

أ) تزايد من مشكلة البطالة بين الشباب وخريجي الجامعات. ج- تمنع الراغبين من ممارسة أعمال مهنية كثيرة.

شكل (أصناف) التلوث الأساسية؟

أ) يشمل تغيير المشاهد الطبيعية، ومجال عيش الكائنات وتغيير أشكال سطح الأرض مثل ردم مساحات مائية ومنخفضات.
ب) يماوي: هو الأكثر انتشاراً وخطورة، وينتج عنه تغير في تركيبة التربة، والماء، والهواء، وتحدثه الصناعة بمنتجاتها ونفاياتها.
ج) معاعي: يحدث عند تسرب المواد المشعة (النووية) من الأوعية التي تحتويها من خلال ثقبها، أو نتيجة انفجارها.

مثالاً على تفاعل أشكال التلوث مع بعضها.

أ) مثلاً يزيد من حدة الاتجراف والتصحّر ويغير تركيبة التربة ويحد من الأكسجين في الهواء ويزيد في ثقب الأوزون، فيسبب
ب) جات الحرارة على سطح الأرض، والاختلال المناخي: (حدة الجفاف في مناطق، وأعاصير وفيضانات في مناطق أخرى)،
ج) كائنات حية؛ مما يحدث خللاً بيئياً بالغاً.

مصادر التلوث الأساسية.

أ) الإنمائية والعمرانية والتنمية الاجتماعية. ب- الحروب. ج- الأسباب الطبيعية، كالفيضانات والأعاصير، والتدريّة الريحية.

الدور الذي قامت به العديد من الحكومات والمنظمات الدولية والأهلية في برامجها للحد من التلوث؟

أ) تقنيات المناسبة والمواد القابلة للتحلل الطبيعي، أو قابلة لإعادة الاستعمال. ب- اختيار الحلول البيولوجية الملائمة.
ب) بيئة الحدائق والمحميات. د- الاهتمام بمقاومة التصحر. هـ- الحفاظ على الموارد والحياة الفطرية.

ب الأدوار أو الآليات التي اعتمدها منكرة البحرين لحماية البيئة الطبيعية والحياة الفطرية.

أ) بتقويم التأثيرات البيئية للمشروعات. ب) الأخذ بالإدارة البيئية السليمة للمناطق الساحلية البحرية.
ب) إشراك المواطنين في الرقابة البيئية عبر المجالس البلدية والمنظمات الأهلية. د) اتخاذ تدابير للحد من التدهور البيئي وحماية الحزام الأخضر.
ج) استحداث جائزة الشيخ خليفة بن سلمان للحفاظ على التنوع البيئي عام 2005. ي) معالجة أضرار الملوثات البيئية.
د) معالجة أضرار الملوثات البيئية. هـ) معالجة أضرار الملوثات البيئية.

تتبع في الجدول التالي تاريخ إقرار الاتفاقية الدولية لحماية التراث الثقافي والطبيعي، والمنظمة التي أقرتها، وغرضها، التي أقرتها لحماية الآثار.

تاريخ إقرارها	المنظمة التي أقرتها	غرضها	الآليات التي أقرتها لحماية الآثار
16 نوفمبر 1972م	منظمة الأمم المتحدة للتربية والعلم والثقافة (اليونسكو)	التعريف بالتراث وتنظيم الحماية الوطنية والدولية له.	1- اللجنة الدولية الحكومية، التي تنشر قائمة بالتراث العالمي المعرض للخطر، وتقديم العون للدول، والتعاون مع المنظمات الدولية. 2- صندوق حماية التراث العالمي، الذي يقدم المساعدات للدول لحماية تراثها. 3- المناهج التربوية، لتعزيز احترام الشعوب للتراث.

نتمنى لكم التوفيق والنجاح

الدرس الخامس: العمل أساس التنمية ص ٣٩-٤٤

س ١- ((نشأ العمل وتطورت فكرته مع نشأة الإنسان منذ، وقد أخذت نظرة الإنسان لهذه الفكرة عدة صور وأشكال عبر الحضارات القديمة والحديثة، مما أثر في قيمة العمل، ودرجة قبوله بين الناس)) في ضوء هذه العبارة، اقرأ ص ٣٩-٤٣، ثم أجب عن الأسئلة التالية:
أجرّف مفهوم " العمل " كما ورد في قانون العمل بمملكة البحرين.

ب) ما أهمية العمل الشريف؟

ج) ((نجد بعض الناس في مجتمعنا، تسربت إليهم ثقافة العيب يرفضون بعض المعن، بل ويعيبون من يمتنها ويسخرون منه))، ما النتائج المترتبة على تسرب ثقافة العيب لبعض الناس في مجتمعنا؟

س ٢- اقرأ ص ٤٢-٤٣، ثم أكمل العبارات الآتية:

- ١- مجموعة من النشاطات المتجانسة والمتكاملة تتطلب مهارات فكرية أو جسدية، أو الاثنين معاً، ويزاولها الفرد لقاء أجر هي [.....] .
- ٢- من المهن الحيوية المرتبطة بالتنمية في المجتمع البحريني هي [.....] و و و و [.....] .
- ٣- كل مهنة يؤديها الإنسان هي عبارة عن [.....]، مثل المحاسب والخباز؛ ولكن ليس كل عمل يؤديه الإنسان [.....]، مثل أن يقوم [.....].
- ٤- العمل التطوعي هو [.....] .

مع تحياتي لكم ---- الشاخوري