

تم تحميل هذا الملف من موقع المناهج البحرينية



الملف الموقع والمساحة في الوطن العربي

[موقع المناهج](#) ⇐ ⇐ [الصف التاسع](#) ⇐ [المواد الاجتماعية](#) ⇐ [الفصل الأول](#)

روابط مواقع التواصل الاجتماعي بحسب الصف التاسع



روابط مواد الصف التاسع على تلغرام

[الرياضيات](#)

[اللغة الانجليزية](#)

[اللغة العربية](#)

[التربية الاسلامية](#)

المزيد من الملفات بحسب الصف التاسع والمادة المواد الاجتماعية في الفصل الأول

[أسئلة امتحان \(الإعدادية العامة والدينية\)](#)

1

[إجابة نموذجية \(الإعدادية العامة والدينية\)](#)

2

[أسئلة امتحان](#)

3

[أسئلة امتحان جغرافية والتربية للمواطنة](#)

4

[أسئلة امتحان جغرافيا والتربية للمواطنة](#)

5

(الدرس 1 ص 17): الموقع والمساحة

س1: أذكر أهمية موقع البحرين قديما و حديثا ؟

قديمًا: للبحرين موقع جغرافي وسطي مميز جعلها منذ القدم مركزا تجاريا مهما.
حديثًا: ازداد أهميته مع النهضة الاقتصادية وهي اليوم من أبرز المراكز التجارية والمالية في المنطقة.

س2: حدد موقع البحرين الفلكي و الجغرافي ؟

الفلكي: تنحصر بين دائرتي عرض 27.10.07 شمالا, 25.32.06 شمال خط الاستواء وبين خطي طول 51.7.11 شرقا و 50.16.13 شرق خط غرينتش.

الجغرافي: تقع منتصف المسافة تقريبا (قلب الخليج العربي) بين مضيق هرمز ومصب شط العرب. وتبعد عن الساحل الشرقي للسعودية حوالي 22 كلم, وعن شبه جزيرة قطر حوالي 25 كلم.

almanahj.com/bh

س3: وضح أهمية موقع البحرين الاستراتيجي ؟

- همزة وصل بالعالم الخارجي.
- وقوعه بين طريق حيوي هو أحد أهم طرق التجارة الرئيسية قديما وحديثا.
- تصل بين إقليمين من أقاليم العالم الكبرى وهما شرق آسيا وغرب أوروبا.
- تتوسط البحرين حوض الخليج العربي الذي شغل مكانا ملحوظا في العالم القديم باعتباره ممرا مائيا مهما.

- *- تمتد الأرصفة والشعاب المرجانية حول السواحل إلى مسافات بعيدة تحت سطح الماء تصل إلى 2 كلم او 3 وربما 10 كم او تزيد.
- *- تتميز الأرصفة بضخالة مياهها

س4: وضح دور الأرصفة المرجانية حول سواحل البحرين ؟

- حماية طبيعية من أخطار الأمواج والتيارات البحرية
- تهيئة قيام بيئة بحرية غنية بالثروة السمكية.

س5: علل تغير شكل السواحل في البحرين ؟

- بسبب عمليات الردم المستمرة بغرض استغلالها في مختلف الأنشطة العمرانية والاقتصادية
- النتيجة: ارتفعت مساحة البحرين الإجمالية 662 كم2 عام 1969م والى 711 كم2 عام 2014م.

- *- تشكل جزيرة الأم (البحرين) حوالي 80,48 % من المساحة الاجمالية وتقع فيها العاصمة المنامة. اما جزر حوار فتبلغ مساحتها 51,7 كم2 ، وتبلغ جزيرة المحرق حوالي 85.2 كم2.

- *- بفضل إنشاء جسر الملك فهد 1986م اتصلت البحرين لأول مرة بجسر بحري بطول 25 كم بالسعودية.

س6: علل إنشاء نظام المحافظات في مملكة البحرين ؟

- دعم كفاءة نظام الحكم المحلي.
- تطبيق خطط التنمية والخدمات الاجتماعية والثقافية.
- تدعيم وتفعيل الأنشطة الاجتماعية.
- الحفاظ على الأمن والنظام العام.

*- قسمت البحرين إلى أربع محافظات هي: محافظة المحرق والعاصمة والمحافظات الشمالية والمحافظات الجنوبية.

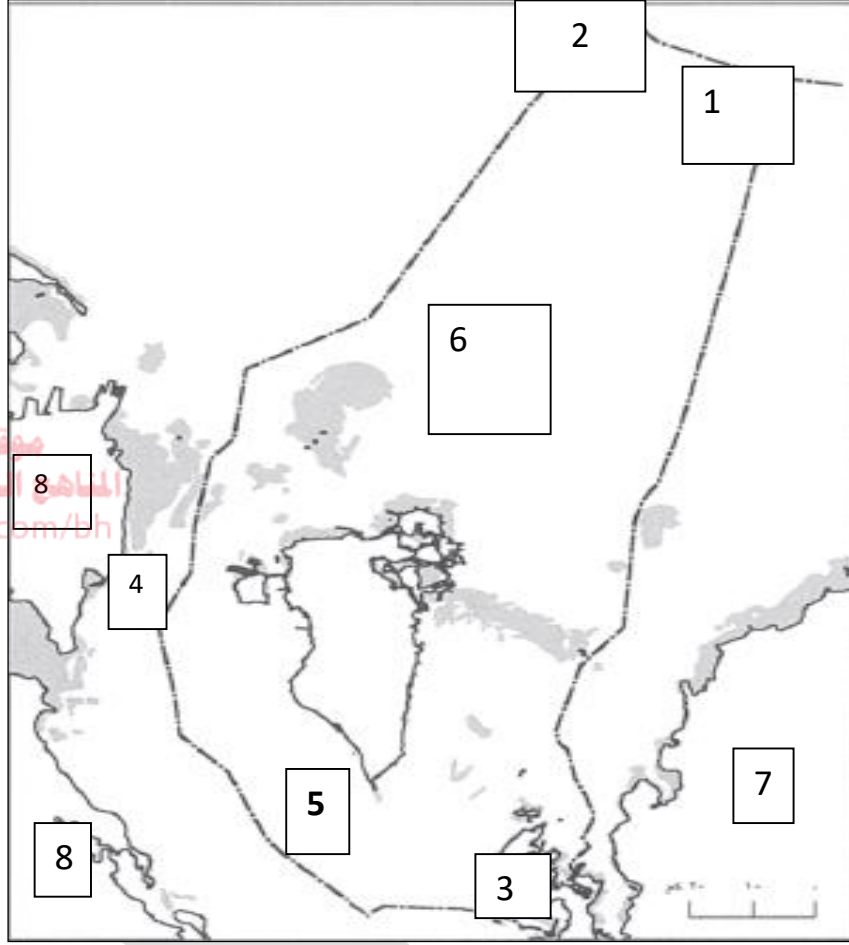


تدريب:

صح ما تحته خط وأكتب الأجابة الصحيحة بين القوسين: almanahj.com/bh

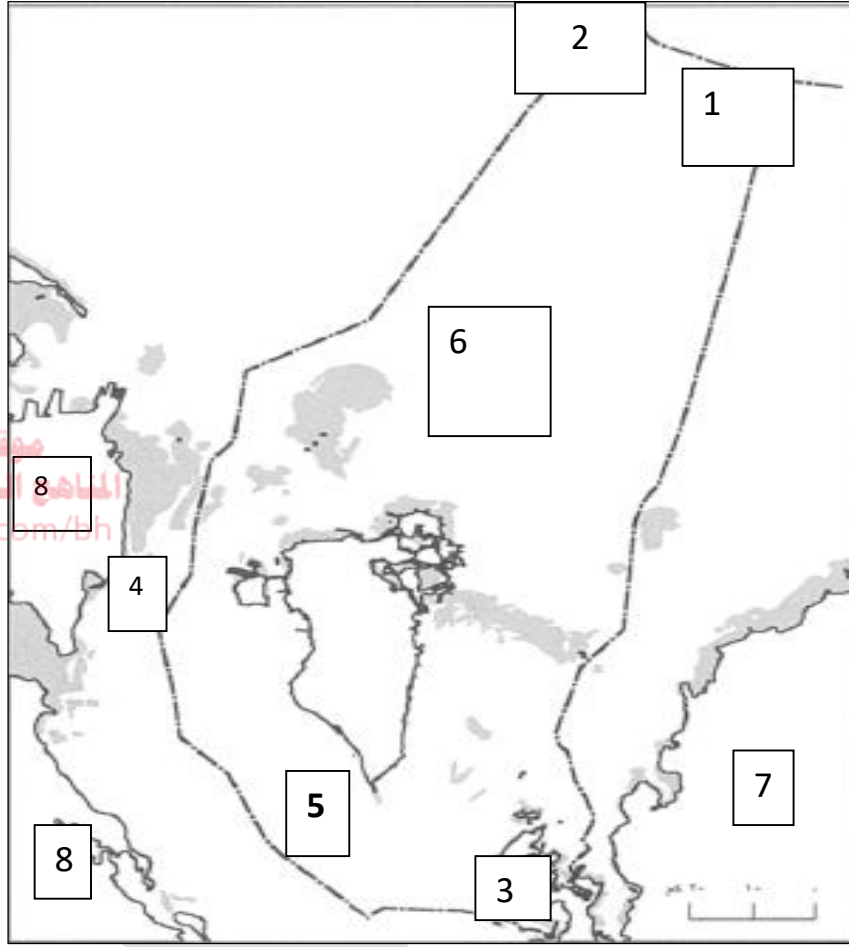
- 1- تنحصر مملكة البحرين بين دائرتي عرض 27 شمالاً و 32 شمال خط الاستواء.
(.....)
- 2- تقع مملكة البحرين شمال الخليج العربي. (.....)
- 3- تمتد الأرصفة والشعاب المرجانية حول المناطق الداخلية. (.....)
- 4- تهيئ الأرصفة المرجانية قيام مراعي طبيعية غنية بالثروة السمكية. (.....)
- 5- تغير شكل سواحل في مملكة البحرين بسبب ازدياد عدد السكان. (.....)
- 6- تعتبر جزيرة حوار أكبر جزر البحرين وتقع فيها العاصمة المنامة. (.....)
- 7- اتصلت البحرين لأول مرة بجسر بحري طوله 25 كلم بالسعودية عام 1986م بفضل جسر الملك سلمان. (.....)
- 8- قسمت البحرين إلى خمس محافظات. (.....)
- 9- إنشئ نظام المحافظات في مملكة البحرين لحفظ الأمن الغذائي. (.....)

س1: من خلال الخريطة أجب عن الأسئلة التالية مستعيناً بالكتاب مستند 1 صفحة 10



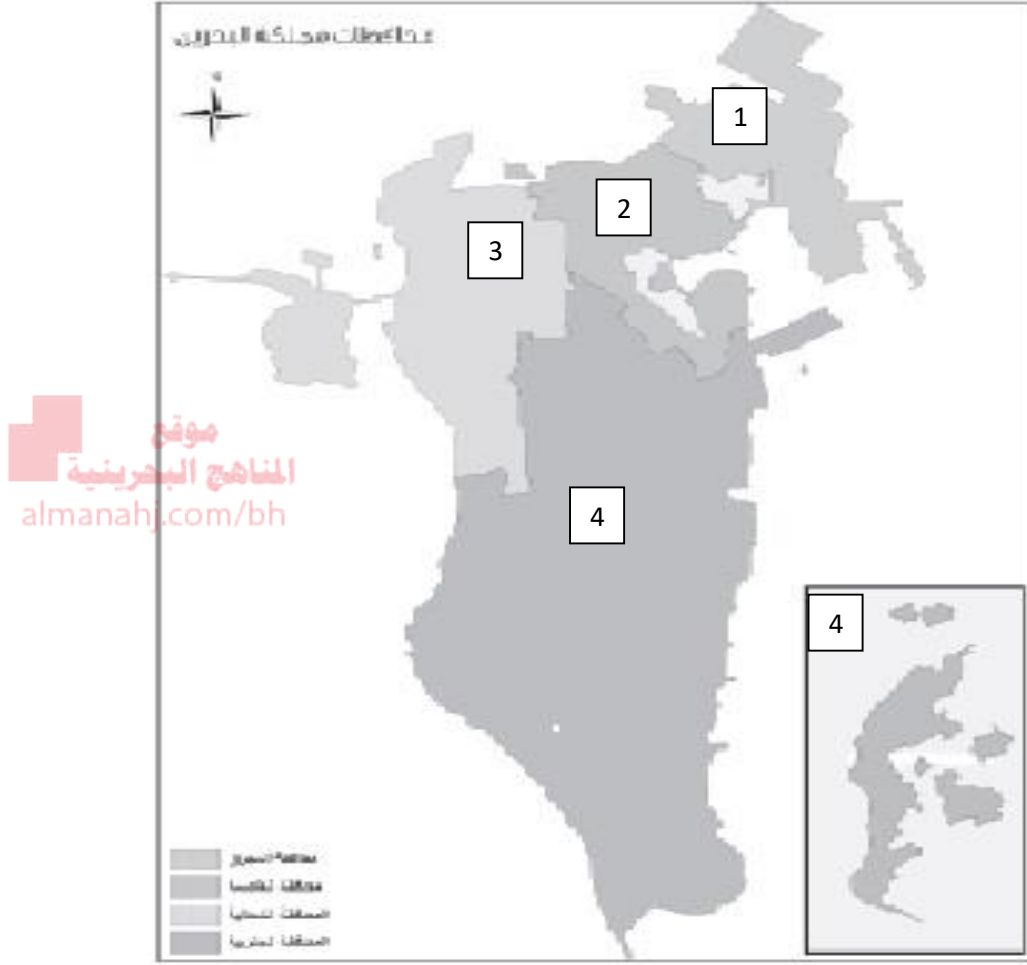
المدلول				المعطيات
27.10.7	2	51.7.11	1	خطوط الطول و دوائر العرض
	4		3	
	6		5	مسطحات مائية
	8		7	دول مجاورة

حل أسئلة الخريطة (مستند 1 صفحة 10)



المدلول				المعطيات
27.10.7	2	51.7.11	1	خطوط الطول و دوائر العرض
50.16.13	4	25.32.6	3	
الخليج العربي	6	خليج البحرين	5	مسطحات مائية
السعودية	8	قطر	7	دول مجاورة

تدريب (2) : من خلال الخريطة من أجب عن الأسئلة التالية:



المدلول		المعطيات
3	1	المحافظات
4	2	

تمنياتي لكم بالتوفيق والنجاح

يسمح بطباعة وتصوير هذا الدرس فقط



sarhan_js.as

ملاحظة: المذكرة تحتوي على تلخيص لجميع الدروس المطلوبة لمادة الاجتماعيات والتربية للمواطنة

يسمح بتصوير وطباعة هذا الدرس فقط