

تم تحميل هذا الملف من موقع المناهج البحرينية



\* للحصول على أوراق عمل لجميع الصفوف وجميع المواد اضغط هنا

<https://almanahj.com/bh>

\* للحصول على أوراق عمل لجميع مواد الصف التاسع اضغط هنا

<https://almanahj.com/bh/9>

\* للحصول على جميع أوراق الصف التاسع في مادة اجتماعيات ولجميع الفصول, اضغط هنا

<https://almanahj.com/bh/9social>

\* للحصول على أوراق عمل لجميع مواد الصف التاسع في مادة اجتماعيات الخاصة بـ الفصل الأول اضغط هنا

<https://almanahj.com/bh/9social1>

\* لتحميل كتب جميع المواد في جميع الفصول للـ الصف التاسع اضغط هنا

<https://almanahj.com/bh/grade9>

[almanahjbhbot/me.t//:https](https://t.me/almanahjbhbot)

للتحدث إلى بوت على تلغرام: اضغط هنا

مملكة البحرين

وزارة التربية والتعليم

إدارة الامتحانات / قسم الامتحانات

امتحان الشهادة الإعدادية العامة والدينية للعام الدراسي ٢٠١٥/٢٠١٦م

الفصل الدراسي الأول

الزمن: ساعتان

المادة: المواد الاجتماعية (الجغرافيا/التربية للمواطنة)

١٢

٢٣

القسم الأول: الجغرافيا

السؤال الأول:

أولاً- ضع دائرة حول الحرف الدال على الإجابة الصحيحة من بين البدائل الآتية:

١- يعاني القطاع الزراعي في مملكة البحرين من محدودية الأراضي الصالحة للزراعة بسبب:

أ- الرعي الجائر. ب- التلوث النفطي. ج- ملوحة التربة. د- المنافسة الخارجية.

٢- الطرق المتفرعة من الشوارع إلى داخل الأحياء السكنية والتجارية تسمى:

أ- الداخلية الفرعية. ب- الداخلية الرئيسية. ج- الخارجية. د- السريعة.

٣- حققت مملكة البحرين فائضا في ميزانها التجاري عام ٢٠١٢م بسبب:

أ- الضرائب على الأرباح. ب- ارتفاع حجم الواردات. ج- انخفاض أسعار النفط. د- ارتفاع حجم الصادرات.

٤- تمتد الجبال حديثة التكوين في جنوب أوروبا بمحاذاة:

أ- البحر المتوسط. ب- بحر البلطيق. ج- المحيط الأطلسي. د- المحيط المتجمد الشمالي.

٥- تعاني قارة أوروبا من انخفاض في نسبة:

أ- الكثافة السكانية. ب- الزيادة السكانية الطبيعية. ج- متوسط عمر الإنسان. د- سكان المدن.

٦- يعتمد القطاع الصناعي في أمريكا الوسطى بشكل رئيسي على صناعة:

أ- المحركات بأنواعها. ب- استخراج المعادن. ج- الأجهزة الكهربائية. د- الآلات الرأسمالية.

٥

ثانيا- أكمل كل عبارة من العبارات الآتية بما يناسب:

١- زادت أهمية البحرين كم منطقة جذب لرؤوس الأموال والمستثمرين، نتيجة اتباع الحكومة سياسة.....

٢- الميناء الذي أنشأته مملكة البحرين لاستيراد الأمونيا وتصدير منتجات الألمنيوم، هو ميناء.....

٣- تغير مسمى مؤسسة نقد البحرين منذ سبتمبر سنة ٢٠٠٦م إلى .....

٤- من أمثلة الموارد الطبيعية المتجددة التي تتوافر في قارة أوروبا هي .....

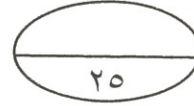
٥- السكان الذين لا تتعدى نسبتهم حاليا ١% من مجمل سكان أمريكا الشمالية هم .....

٦

ثالثا-صنّف المعالم السياحية الآتية بوضع علامة (✓) في العمود المناسب لكل منها حسب معطيات الجدول الآتي:

المعالم السياحية	الطبيعية	التاريخية	الحضارية الحديثة
مسجد الخميس			
بيت القرآن			
بلاج الجزائر			
بيت سيادي			
شجرة الحياة			
منتزه عذاري			

١٠



السؤال الثاني:

أولاً- علل ما يأتي:

١- اتباع مملكة البحرين سياسة التتويع في مصادر الدخل.

.....

٢- تطور القطاع المصرفي في مملكة البحرين.

.....

.....

٣- نمو القطاع السياحي في مملكة البحرين بشكل متسارع في السنوات الأخيرة.

.....

.....

٤- تطور القطاع الزراعي في قارة أوروبا.

.....

.....

٥- تعرض الجبال الغربية في قارة أمريكا الشمالية للبراكين والزلازل الأرضية العنيفة.

.....

ثانياً- أجب عن الأسئلة الآتية:

١- سمّ أهم السلع التي تستوردها مملكة البحرين.

- .....
- .....

٢- اكتب ثلاثة مظاهر تُبرز تطور شبكة الاتصالات السلكية واللاسلكية في مملكة البحرين.

- .....
- .....
- .....

٣- بيّن في فقرة (لا تتعدى أربعة أسطر) كيفية توزيع الكثافة السكانية بين مناطق القارة الأوروبية.

- .....
- .....
- .....
- .....

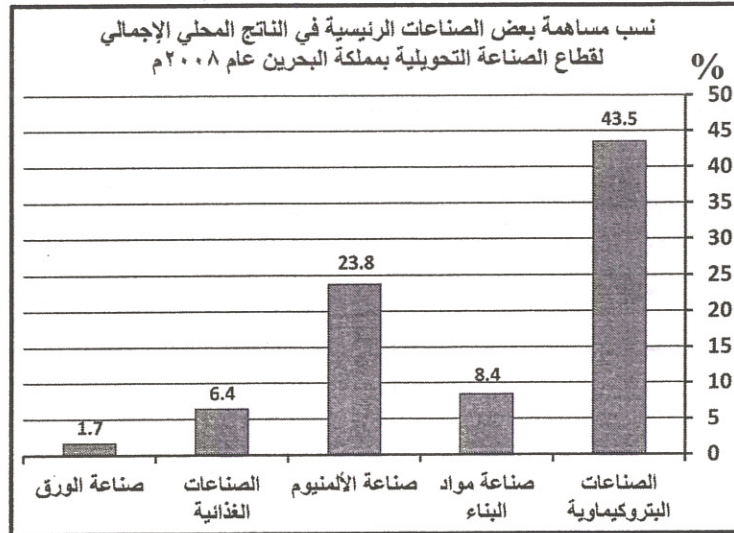
٤- أكمل الجدول الآتي، بكتابة اثنتين من المشاكل التي يعاني منها القطاعين الآتيين وجهود مملكة البحرين في تطويرهما:

القطاع	المشاكل التي يعاني منها القطاع	جهود مملكة البحرين في تطويره
السمكي	..... ..... .....	..... ..... .....
الصناعي (الصناعات التصديرية وإحلال الواردات)	..... ..... .....	..... ..... .....

أولاً- قارن بين الإقليم المتوسطي والإقليم المعتدل القاري في قارة أوروبا من حيث أوجه المقارنة المبينة بالجدول الآتي:

الإقليم المعتدل القاري	الإقليم المتوسطي	أوجه المقارنة	
.....	.....	الموقع	
.....	.....	صيفا	درجة الحرارة
.....	.....	شتاء	
.....	.....	صيفا	الأمطار
.....	.....	شتاء	

ثانياً- في ضوء دراستك، ومن خلال الرسم البياني الوارد أمامك والذي يوضح نسبة مساهمة بعض الصناعات الرئيسية في الناتج المحلي الإجمالي لقطاع الصناعة التحويلية بمملكة البحرين سنة ٢٠٠٨م، أكمل العبارات الآتية:



أ- الصناعة الأعلى في نسبة مساهمتها في الناتج المحلي الإجمالي لقطاع الصناعة التحويلية بمملكة البحرين سنة ٢٠٠٨م هي .....، وتبلغ نسبة مساهمتها حوالي .....%.

ب- الصناعة الأدنى في نسبة مساهمتها في الناتج المحلي الإجمالي لقطاع الصناعة التحويلية بمملكة البحرين سنة ٢٠٠٨م هي .....، وتبلغ نسبة مساهمتها حوالي .....%.

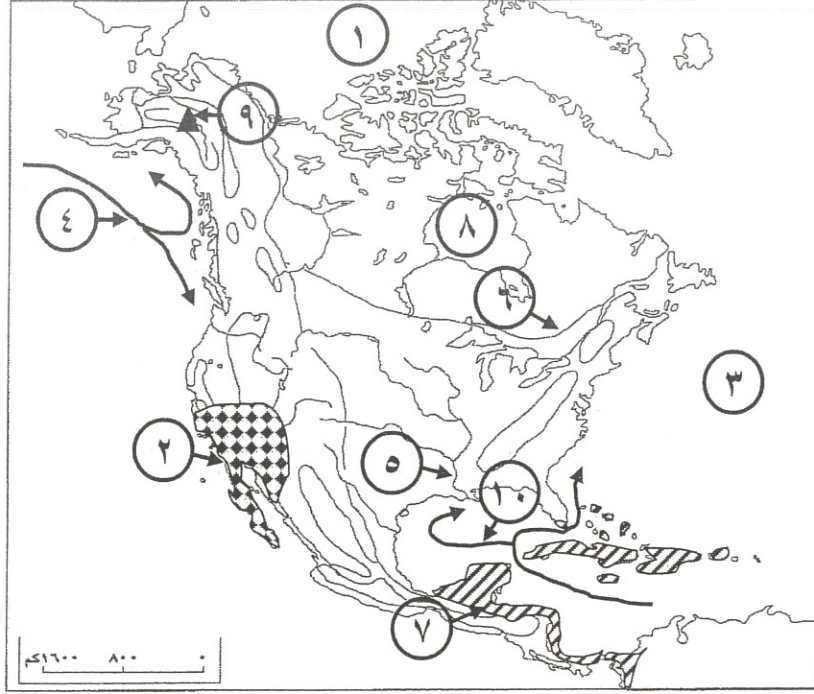
ج- تأتي صناعة الألمنيوم من حيث نسبة مساهمتها في الناتج المحلي الإجمالي لقطاع الصناعة التحويلية بمملكة البحرين سنة ٢٠٠٨م في المرتبة .....

د- من أمثلة الصناعات التصديرية الواردة في الرسم هي صناعة .....

هـ- من أمثلة صناعات إحلال الواردات الواردة في الرسم هي صناعة .....

ثالثاً- من خلال دراستك لجغرافية أمريكا الشمالية والوسطى، اكتب أمام كلٍ من الظواهر الجغرافية الواردة في الجدول الرقم الدال عليها وفقاً لموضع الأرقام المبينة على الخريطة:

١٠



خريطة صماء لأمريكا الشمالية والوسطى

الظاهرة الجغرافية	الرقم المناسب	الظاهرة الجغرافية	الرقم المناسب
مناخ مداري شديد الرطوبة		نهر الميسيسيبي	
جبل ماك كينلي		المحيط المتجمد الشمالي	
تيار كوروشيفو		تيار غولف ستريم	
المحيط الهادي		مناخ صحراوي	
نهر سانت لورانس		خليج هدسن	

أولاً- ضع علامة (✓) يمين العبارات الصحيحة وعلامة (x) يمين العبارات الخاطئة:

٦

- ١- ( ) تُصنف المآثر التراثية حسب مجال استخدامها إلى آثار دينية وعسكرية واقتصادية وغيرها.
- ٢- ( ) يقدم صندوق حماية التراث العالمي المساعدات للدول لحماية بيئتها الطبيعية من التلوث.
- ٣- ( ) يُعدُّ التلوث الآلي الأكثر خطورة من أنواع التلوث الأخرى.
- ٤- ( ) يشارك المواطنون في الرقابة البيئية عبر مجالس البلديات في مملكة البحرين.
- ٥- ( ) تتمثل وظيفة العمل الأساسية في حصول المجتمع على السلع والخدمات.
- ٦- ( ) يؤدي انتشار ثقافة العيب إلى التخلص من البطالة بين الشباب في المجتمع.

ثانياً- أجب عن الأسئلة الآتية:

٨

١- ما أهمية العمل؟

- .....
- .....

٢- ( التلوث خطر لا يعترف بالحدود بين الدول )، مما درست، اشرح هذه العبارة مع ذكر مثالا واحدا.

- .....
- .....
- .....
- .....

٣- كيف تتصرف في كل حالة من الحالات الآتية:

التصرف	الحالة
.....	يُنجز الموظف المهام المكلف بإنجازها بسرعة ودون تركيز؛ مما يؤدي إلى ارتكابه العديد من الأخطاء في عمله.
.....	أثناء تنزهك مع أصدقائك في حديقة الحي، شاهدت بعض الألعاب التالفة والعديد من الأوساخ التي تشوه منظر الحديقة.
.....	أثناء قيام والدك بعملية الحفر لبناء منزلكم، تم العثور على قطع أثرية هي عبارة عن نقود ذهبية وأواني فخارية.

ثالثاً- ما شكل التلوث الذي تمثله كل عبارة من العبارات الواردة في الجدول الآتي:

شكل التلوث	العبارة
.....	ارتفاع وتيرة قطع الأشجار في غابات الأمازون البرازيلية بنسبة كبيرة جدا في أكتوبر ٢٠١٤م.
.....	تسرب نفايات نووية من ستة صهاريج في موقع هانفورد للاحتياطي النووي في واشنطن عام ٢٠١٣م.
.....	ازدياد عملية الصيد الجائر في جنوب أفريقيا منذ بداية عام ٢٠١٥م يهدد حيوان وحيد القرن بالانقراض.
.....	حدوث تسرب نفطي هائل في خليج المكسيك عام ٢٠١٠م بعد انفجار "منصة بحرية لاستخراج النفط".

رابعاً - اقرأ الوضعية التي أمامك، ثم أجب عن الأسئلة التي تليها انطلاقاً منها، وفي ضوء ما درست.

محمد طائب في الصف الثالث إعدادي، استضافت مدرسته وفداً من مدرسة خليجية لعقد ندوة حول موضوع التراث الخليجي، وذلك في إطار التبادل الثقافي بين أبناء الخليج العربي. وبهذه المناسبة نظم محمد وزملاؤه معرضاً تراثياً تحت شعار " التراث الحضاري في خدمة الوحدة الخليجية "؛ حيث ضم المعرض العديد من الصور والنماذج والمجسمات لمختلف المآثر التراثية التي تزخر بها مملكة البحرين. وقد ثمن منسق الوفد المبادرة وخاطبه قائلاً: " لاشك أن هذا التراث الحضاري شاهد على القرون الطويلة لتاريخ البحرين العريق، والمحافظة عليه تشكل تحدياً إلى جانب تحديات أخرى تواجه بلداننا في مختلف المجالات. " أبدى محمد اهتماماً بذلك ووعد الضيف بمواصلة النقاش حول كيفية المحافظة على التراث الحضاري ضمن محاور الندوة المرتقبة.

أ- لماذا استضافت مدرسة محمد وفدا من مدرسة خليجية؟

.....

ب- ما شعار المعرض التراثي الذي نظمه محمد وزملاؤه؟

.....

ج- اكتب سببين أدت إلى ثراء التراث البحريني.

- .....
- .....

د- ( لاشك أن الحفاظ على التراث الحضاري يشكل تحدياً إلى جانب تحديات أخرى تواجه بلداننا في مختلف المجالات) برأيك، كيف تمكنت مملكة البحرين من الحفاظ على تراثها الحضاري؟

.....

.....

انتهت الأسئلة، مع تمنياتنا للجميع بالنجاح والتوفيق