

تم تحميل هذا الملف من موقع المناهج الإماراتية



\*للحصول على أوراق عمل لجميع الصفوف وجميع المواد اضغط هنا

<https://almanahj.com/eg>

\* للحصول على أوراق عمل لجميع مواد الصف الرابع اضغط هنا

<https://almanahj.com/eg/4>

\* للحصول على جميع أوراق الصف الرابع في مادة اجتماعيات ولجميع الفصول, اضغط هنا

<https://almanahj.com/eg/4social>

\* للحصول على أوراق عمل لجميع مواد الصف الرابع في مادة اجتماعيات الخاصة بـ الفصل الأول اضغط هنا

<https://almanahj.com/eg/4social1>

\* لتحميل كتب جميع المواد في جميع الفصول للـ الصف الرابع اضغط هنا

<https://almanahj.com/eg/grade4>



(الجهة ١٦)

- (١) أممك خريطة صماء لقارة من قارات العالم القديم، اكتب ما تدل عليه الأرقام:
- ١- قارة أفريقيا
  - ٢- دولة مصر
  - ٣- البحر الأحمر
  - ٤- البحر المتوسط
  - ٥- قناة السويس
- ماذا يحدث إذا لم ؟

- ٢- يتم حفر قناة السويس . يتم تحديد عنوان للخريطة.
- حمل العبارات التالية بالكلمات المناسبة:
- تقع مصر في الركن ..... من قارة .....
- ربطت قناة السويس البحر المتوسط بالبحر .....
- يوجد في أي خريطة سهم يشير إلى اتجاه .....
- معتبر (١: ١٠٠٠٠ سم) مقياس رسم .....
- م تفسير ؟

أهمية موقع مصر الجغرافي.

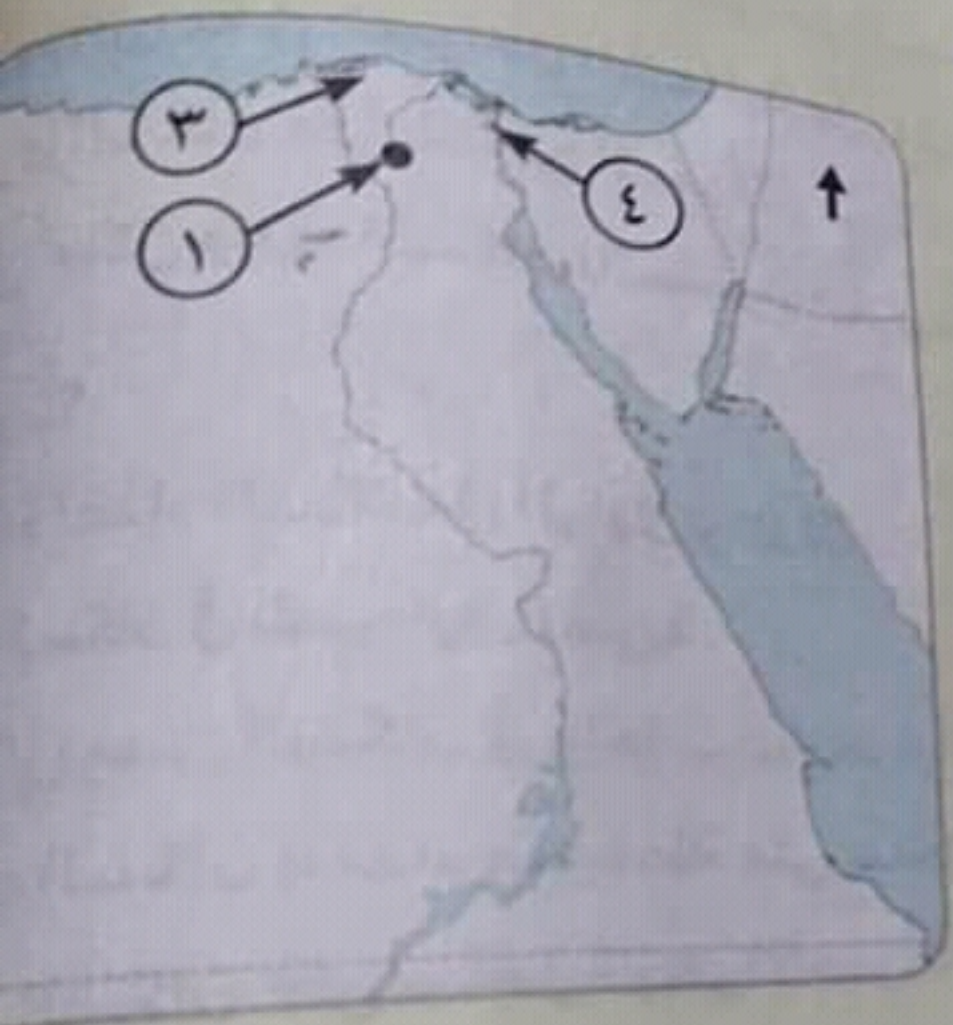
٢- أهمية الخريطة في حياتنا.

- ب كلمة (صح) أمام العبارة الصحيحة، وكلمة (خطأ) أمام العبارة غير الصحيحة فيما يلي:
- ل مصر على ثلاثة بحار مهمة.
- اعدنا مفتاح الخريطة في توضيح ما تحتويه الخريطة من بيانات.
- للتاح الملتصقة على ؟
- مصر تتميز.
- ما لحنه خط.

٢- حفر قناة السويس.

- قارات العالم القديم من آسيا وأوروبا وأستراليا.
- نا مقياس الرسم على تحديد الاتجاهات على الخريطة.
- أهمية مصر بعد حفر قناة بنما.





١ امامك خريطة صماء لمصر، حدد ما تشير إليه الأرقام:

١- مدينة **القاهرة** عاصمة جمهورية مصر العربية.

٢- جبل **العوينات**

٣- منطقة ذات كثافة سكانية مرتفعة **الوليتا**.

٤- قناة **السويس**

٢ أحمّل العبارات الآتية بالكلمات المناسبة:

( أ ) يتركز معظم سكان مصر في ..... و .....

( ب ) تقوم كل دولة بعمل ..... لسكانها كل عدة سنوات.

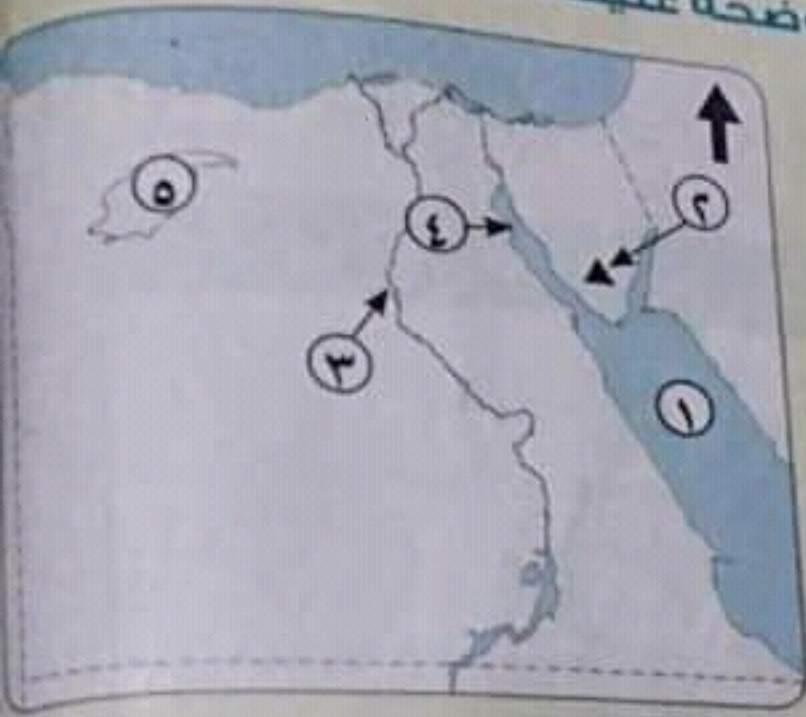
( ج ) يندرج وجود السكان بمصر في المنطقة .....

( د ) تتميز مصر بارتفاع نسبة .....

اكتب المفهوم الدال على



امامك خريطة صماء لمصر، اكتب ما تدل عليه الأرقام الموضحة عليها:



- ١- البحر الأحمر
- ٢- جبل سانت كاترين
- ٣- وادي نهر النيل
- ٤- خليج السويس
- ٥- منخفض القطارة

ير الإجابة الصحيحة مما بين القوسين:

( أ ) أرض مستوية قليلة الارتفاع تكونت من رواسب الأنهار، هي .....  
(السهول الساحلية - السهول الفيضية - الهضاب - المنخفضات)

( ب ) يحد مصر من جهة الجنوب .....

( ليبيا - جمهورية السودان - البحر الأحمر - البحر المتوسط ) (الجيزة ٢٠١٦)  
( تلون الجبال على الخريطة باللون .....

( الأزرق - البنفسجي - البني - الأخضر ) (الجيزة ٢٠١٦)  
أشهر المنخفضات في مصر منخفض .....

( القطارة - الجلف الكبير - العوينات - المعازة ) (القاهرة ٢٠١٦)

بت الحدود السياسية بمصر دوراً في استقرارها.  
معية موقع مصر بعد حفر قناة السويس.  
سطح مصر.

إذا لم ...؟

مفتاح الخريطة.

رقناة السويس.

تياس رسم على الخريطة.

(القاهرة ٢٠١٦)

- ( ب ) تكن حدود مصر السياسية واضحة.
- ( د ) يوجد عنوان للنهر.



المجموعة التاسعة

الأشكال والخرائط

(أ) أمانك خريطة صماء لجمهورية مصر العربية اكتب ما تدل عليه الأرقام الموضحة عليها

- ١- البحر المتوسط
- ٢- نهر النيل
- ٣- الصحراء الغربية
- ٤- قناة السويس
- ٥- جبال البحر الأحمر



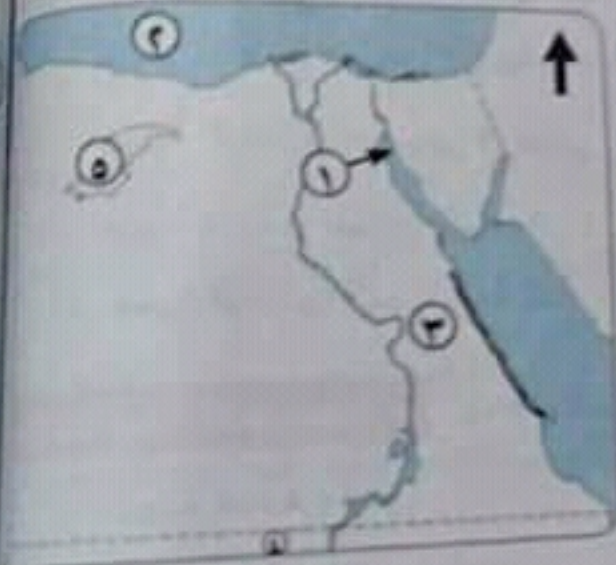
(ب) أمانك خريطة صماء لجمهورية مصر العربية اكتب ما تدل عليه الأرقام الموضحة عليها

- ١- البحر الأحمر
- ٢- قناة سيزميا
- ٣- جبال العريشات
- ٤- دولة ليبيا
- ٥- قناة السويس



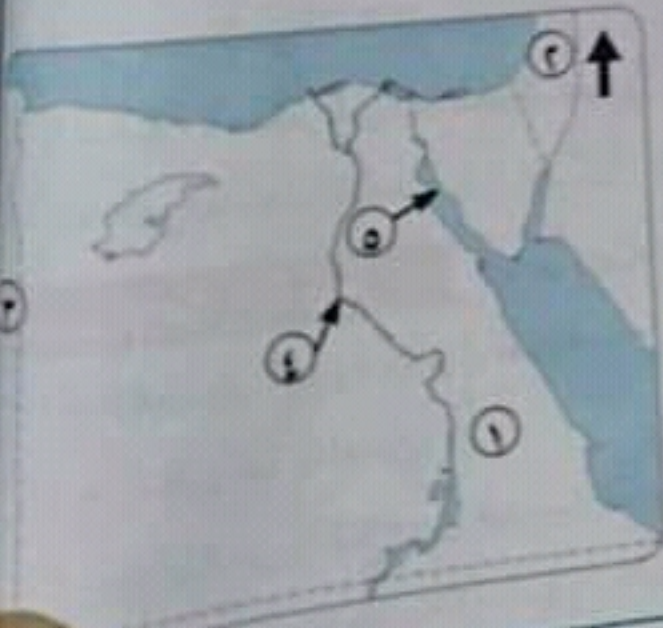
(ج) أمانك خريطة صماء لجمهورية مصر العربية اكتب ما تدل عليه الأرقام الموضحة عليها

- ١- خليج السويس
- ٢- البحر المتوسط
- ٣- جبال البحر الأحمر
- ٤- دولة جمهورية السودان
- ٥- منخفض القطارة



(د) أمانك خريطة صماء لجمهورية مصر العربية اكتب ما تدل عليه الأرقام الموضحة عليها

- ١- الصحراء الشرقية
- ٢- دولة فلسطين
- ٣- دولة ليبيا
- ٤- نهر النيل
- ٥- خليج السويس







(الشمالية ٢٠١٦)



(سوحاج ٢٠١٧)



(بورسعيد ٢٠١٧)



(شبه جزيرة سيناء ٢٠١٧)



(١) املك خريطة صماء لجمهورية مصر العربية، اكتب ما تدل عليه الأرقام الموضحة في الخريطة.

- ١- البحر الأحمر
- ٢- أكبر المحافظات المأهولة بالسكان **القاهرة**.
- ٣- البحر المتوسط
- ٤- محافظة جاذبة للسكان **الأسيوط**.

(٢) املك خريطة صماء لجمهورية مصر العربية، اكتب ما تدل عليه الأرقام الموضحة في الخريطة.

- ١- البحر الأحمر
- ٢- نهر النيل
- ٣- منخفض القطارة
- ٤- دولة ليبيا

(٣) املك خريطة صماء لجمهورية مصر العربية، اكتب ما تدل عليه الأرقام الموضحة في الخريطة.

- ١- البحر الأحمر
- ٢- شبه جزيرة سيناء
- ٣- نهر النيل
- ٤- الصحراء الغربية

(٤) املك خريطة صماء لجمهورية مصر العربية، اكتب ما تدل عليه الأرقام الموضحة في الخريطة.

- ١- جبل سانت كاترين
- ٢- هضبة الجلف الكبير
- ٣- نهر النيل
- ٤- قناة السويس

(٥) املك خريطة صماء لجمهورية مصر العربية، اكتب ما تدل عليه الأرقام الموضحة في الخريطة.

- ١- البحر الأحمر
- ٢- قناة السويس
- ٣- دولة ليبيا
- ٤- جبل العوينات