

تم تحميل هذا الملف من موقع المناهج الإماراتية



*للحصول على أوراق عمل لجميع الصفوف وجميع المواد اضغط هنا

<https://almanahj.com/eg>

* للحصول على أوراق عمل لجميع مواد الصف الخامس اضغط هنا

<https://almanahj.com/eg/5>

* للحصول على جميع أوراق الصف الخامس في مادة جغرافيا التنمية وجميع الفصول, اضغط هنا

<https://almanahj.com/eg/5geography>

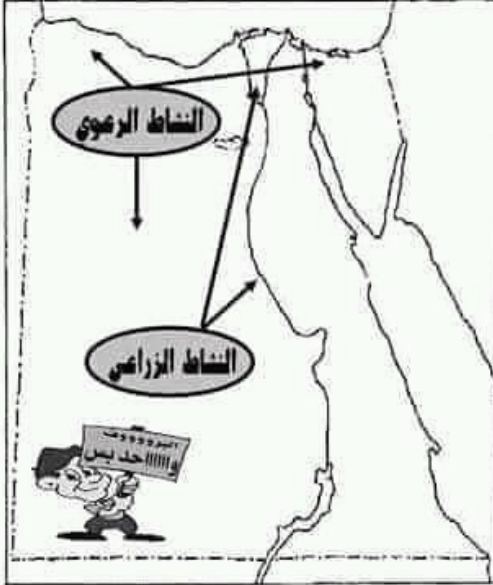
* للحصول على أوراق عمل لجميع مواد الصف الخامس في مادة جغرافيا التنمية الخاصة بـ الفصل الأول اضغط هنا

<https://almanahj.com/eg/5geography1>

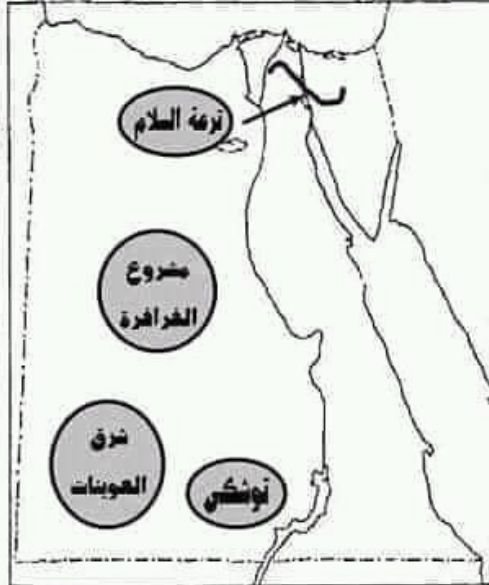
* لتحميل كتب جميع المواد في جميع الفصول للـ الصف الخامس اضغط هنا

<https://almanahj.com/eg/grade5>

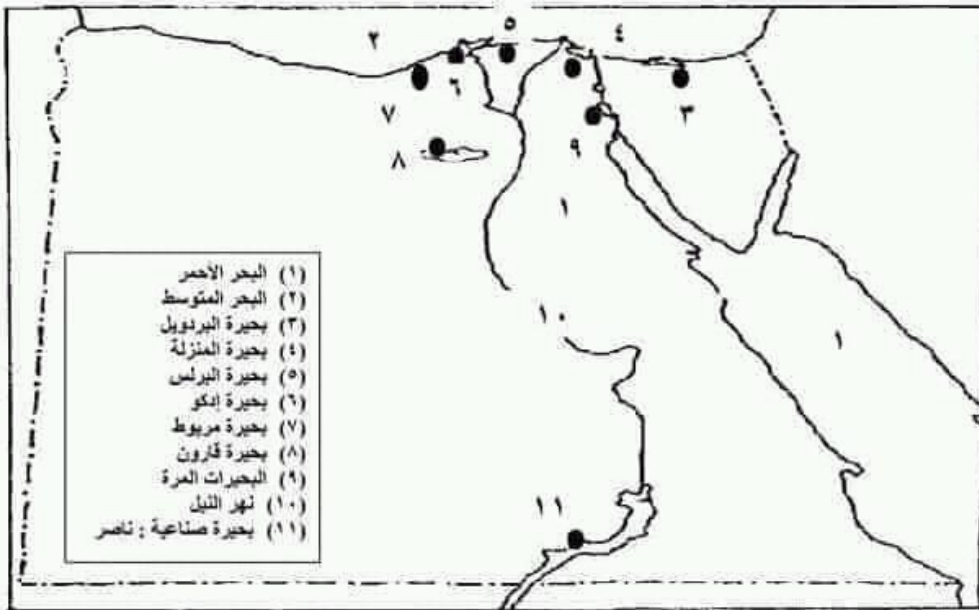
أهم ضرائط درس الإنتاج الزراعي والسمكي والرعي



الانشطة الاقتصادية في مصر

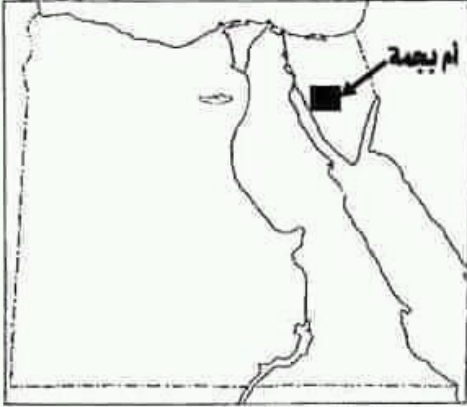


مزروعات التنمية الزراعية في مصر



- (١) البحر الأحمر
- (٢) البحر المتوسط
- (٣) بحيرة البردويل
- (٤) بحيرة المنزلة
- (٥) بحيرة البرلس
- (٦) بحيرة إنكو
- (٧) بحيرة مريوط
- (٨) بحيرة قارون
- (٩) البحيرات المرة
- (١٠) نهر النيل
- (١١) بحيرة صناعية : ناصر

خرائط توزيع المعادن



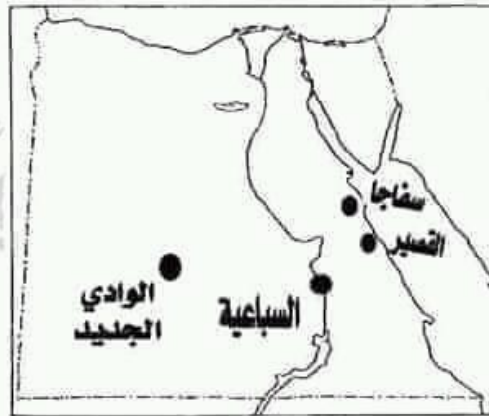
مناطق استخراج المنجنيز ■



مناطق استخراج الحديد ▲



مناطق استخراج الذهب ○

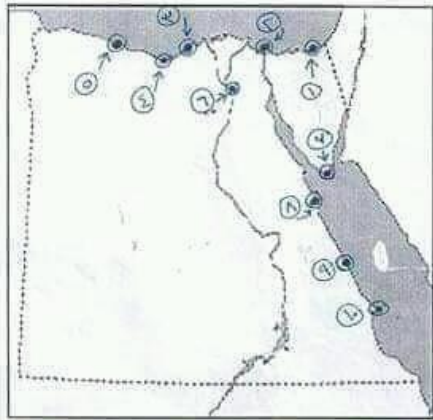


مناطق استخراج الفوسفات ●



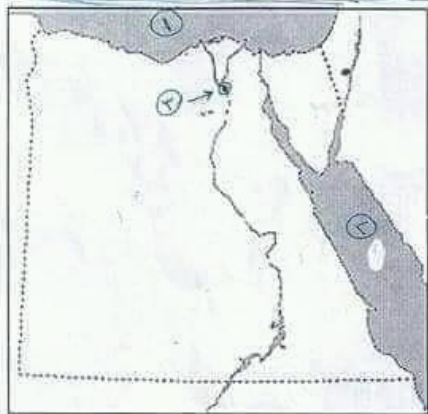
①

خريطة رقم ① :-



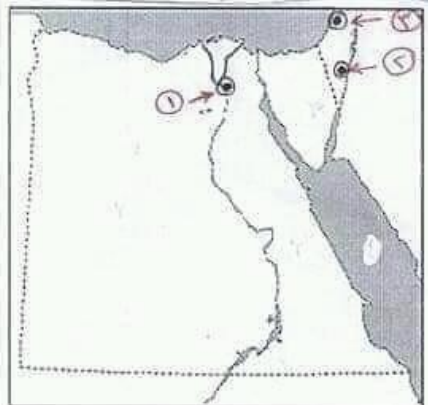
- ① مدينة العريش
- ② مدينة بورسعيد
- ③ مدينة الإسكندرية
- ④ مدينة طابريا
- ⑤ مدينة مرسى مطروح
- ⑥ مدينة القاهرة
- ⑦ مدينة شرم الشيخ
- ⑧ مدينة الفردقة
- ⑨ مدينة مرسى علم
- ⑩ مدينة رأس بناس "سياحة بيئية"

خريطة رقم ② :-



- ① البحر المتوسط
- ② البحر الأحمر
- ③ عاصمة الدولة الفاطمية
أو مدينة أسسها جوهر الصقلي
مدينة القاهرة

① عاصمة الدولة الفاطمية القاهرة



- ② مدينة اتخذها الصليبيون مملكة بيت المقدس
- ③ معركة انتصر فيها سيف الدين قطز على المغول عين جالوت

التدريبات والامتحانات

(ب) قارن بين: سكان البيئة الزراعية وسكان البيئة الصناعية من حيث العادات والتقاليد الإيجابية.

العادات الإيجابية لسكان البيئة الصناعية	العادات الإيجابية لسكان البيئة الزراعية
الملتزم - الانتظام - العمل	احترام الكبير - التواضع
المحاور	المحارث - المتعاضد

ذاتياً التاريخ

٣ (١) اختر الإجابة الصحيحة مما بين القوسين:

- ١- كان نظام الحكم العثماني في مصر قائماً على النظام (الحزبي - الاستبدادي - الديمقراطي - النقابي)
 - ٢- نجح الفرنسيون في احتلال الإسكندرية بعد مقاومة حاكمها
 - ٣- تصارع الإنجليز والعثمانيون والمماليك على السلطة بعد جلاء الحملة الفرنسية عن مصر وتناشوا قوة (الشعب المصري - محمد علي - السلطان العثماني - علي بك الكبير)
 - ٤- كان يتم جلب بواسطة التجار ويشترهم السلاطين. (السنجق - الحرفيون - المماليك - الملتزمون)
 - ٥- أنشأ محمد علي معامل السكر في (الوجه القبلي - الوجه البحري - الوادي الجديد - شبه جزيرة سيناء)
- (ب) صوب ما فوق الخط:

- ١- قام السلطان العثماني محمد الثاني بنقل أمهر الصناعات إلى الأستانة. سليم الأول
- ٢- كانت معركة مرج دابق هي الحد الفاصل لنهاية دولة المماليك. الريدانية
- ٣- أدخل الخديوي إسماعيل محاصيل زراعية جديدة في مصر. محمدي
- ٤- نجح أبناء مدينة دمياط في التصدي للحملة الإنجليزية عام ١٨٠٧م. مستيد - حار

٤ (١) اختب المشهوم الذي تشبه إليه العمارات الأتية.

- ١- استيلاء دولة على دولة أخرى قهراً.
- ٢- فرض دولة سيادتها على دولة أخرى واستغلالها. (مغلقة)
- ٣- مجموعة من الجيش تحمي بلدًا أو موقعًا.
- ٤- الشخص الذي يترب عن الحكومة في جباية الضرائب. (مغلقة)

(ب) قارن بين: ثورة القاهرة الأولى وثورة القاهرة الثانية من خلال الجدول التالي:

ثورة القاهرة الأولى	ثورة القاهرة الثانية
قائلون	كبير
عمر الثورة	عمر الثورة
القائد الفرنسي	القائد الفرنسي

أهلاً بشركي



نموذج (5) مجاب عنه ص ٢٦٥

أولاً، الجغرافيا،

١ (١) أهاك خريطة صماء لمصر، اختب مدلول الأرقام المولعة عليها،

١- ترعة البرايهي تصدق عنها حريوسا

٢- قناطر أ. صمنا

٣- البحر الأحمر

٤- نهر النيل

(ب) اختب المفهوم الجغرافي، البطالة - البيئة الصناعية - النشاط الزراعي.

٢ (١) اختب الإجابة الصحيحة مما بين القوسين،

١- تمدنا البيئة بالمعادن.

٢- من الخصائص الاقتصادية لسكان البيئة الزراعية

(الزراعية - الصناعية - الصحراوية - الساحلية)

٣- (الأمية - انخفاض مستوى دخل الفرد - التمسك بالأرض الزراعية - التعاون)

(القطن - الجلود - الحديد - الرخام)

٤- من الصاعات الكيميائية صناعة

(الحديد والصلب - السيارات - الأدوية - التلجيات)

ارتفع الإنتاج القومي للمواد المعدنية على يد الملك فاروق بقيادة الملك فاروق هجرة سكان الريف إلى البيئة الصناعية.

٣ (١) اختب من العمود (ب) ما يناسب العمود (١)

(ب)	(١)
١- عمر مكرم.	١- تم تحطيم الأسطول الفرنسي في موقعة أبي قير البحرية على يد القائد الإنجليزي (٥)
٢- المماليك.	٢- دعم تولى (محمد علي) حكم مصر عام ١٨٠٥م المشايخ وعلما مصر بزعامة (١١)
٣- محمد كريم.	٣- تم فتح القسطنطينية عاصمة الدولة البيزنطية عام ١٤٥٣م على يد السلطان (٤)
٤- محمد الفاتح.	٤- دبر (محمد علي) في مارس عام ١٨١١م مكيلا للقضاء على (٢)
٥- نلسون.	
٦- نابليون.	

(ب) وم تفسر في مخرجه من حوض صا صا اخترا
١- إرسال فرنسا حملتها على مصر في (١٧٩٨م).
٢- قيام ثورة القاهرة الثانية مارس (١٨٠٠م).
٣- ازدهار دولة المماليك وتمتعها بالثراء الاقتصادي.

٤ (١) ضع علامة (✓) أمام العبارة الصحيحة وعلامة (X) أمام العبارة غير الصحيحة مع التصويب.

١- تولى الجنرال ميتو قيادة الحملة بعد مقتل كليبر.

٢- تدهورت الحياة الفنية من عمارة وفنون وآثار في عصر سلاطين المماليك. المعالم لعمانه

٣- قام العثمانيون بشنق طومان باي على باب زويلة أهلنا

٤- حكم (نابليون) على ستة من مشايخ الأزهر بالإعدام، كان منهم الشيخ السادات. بالمستشار

(٥) تم حذف المعلومة من الشرح في الكتاب المدرس.

(✓)
(X)
(✓)
(X)