

تم تحميل هذا الملف من موقع المناهج الإماراتية



*للحصول على أوراق عمل لجميع الصفوف وجميع المواد اضغط هنا

<https://almanahj.com/eg>

* للحصول على أوراق عمل لجميع مواد الصف الثالث الإعدادي اضغط هنا

<https://almanahj.com/eg/9>

* للحصول على جميع أوراق الصف الثالث الإعدادي في مادة جغرافيا التنمية ولجميع الفصول, اضغط هنا

<https://almanahj.com/eg/9geography>

* للحصول على أوراق عمل لجميع مواد الصف الثالث الإعدادي في مادة جغرافيا التنمية الخاصة بـ الفصل الأول اضغط هنا

<https://almanahj.com/eg/9geography1>

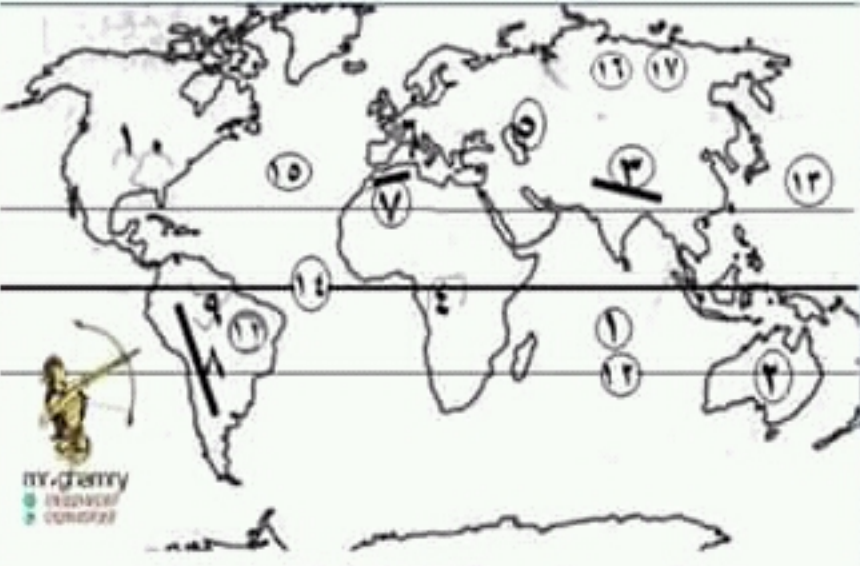
* لتحميل كتب جميع المواد في جميع الفصول للـ الصف الثالث الإعدادي اضغط هنا

<https://almanahj.com/eg/grade9>

* لتحميل جميع ملفات المدرس أحمد الغمري اضغط هنا

■ امامك خريطة صماء للعالم اكتب مدلول الارقام التي عليها ..

- | | |
|------------------------|-----------------------------|
| ١. المحيط : الهندي | ٢. قارة : استراليا |
| ٣. جبال : الهيمالايا | ٤. نهر : الكنغو |
| ٥. بحر : قزوين | ٦. هضبة : فرنسا |
| ٧. جبال : اطلس | ٨. جبال : الانديز |
| ٩. نهر : الامزون | ١٠. نهر : المسيسيبي |
| ١١. هضبة : البرازيل | ١٢. دائرة عرض : مدار الجدى |
| ١٣. المحيط : الهادى | ١٤. دائرة عرض : خط الاستواء |
| ١٥. المحيط : الاطلنطى | ١٦. سهول : سيبيريا |
| ١٧. السلالة : المغولية | |



■ امامك خريطة صماء لقارة امريكا الجنوبية اكتب مدلول الارقام التي عليها ..

- | | |
|--------------------------------|-------------------------|
| ١. جبال : الانديز | ٢. نهر : الامزون |
| ٣. هضبة : البرزيل | ٤. نهر : لابلاتا |
| ٥. نهر : اورينكو | ٦. هضبة : بتاجونيا |
| ٧. اقليم مناخى : البحر المتوسط | ٨. الغابات : الاستوائية |
| ٩. نهر : سان فرانسكو | ١٠. المحيط : الاطلنطى |
| ١١. البحر : الكاريبى | ١٢. المحيط : الهادى |
| ١٣. دائرة عرض : مدار الجدى | ١٤. هضبة : جياتا |
| ١٥. دائرة عرض : خط الاستواء | ١٦. السلالة : المغولية |
| ١٧. صحراء : اتكاما | |



♥ ركز جدا فى الخرنط دى

■ امامك خريطة صماء لقارة امريكا الشمالية اكتب مدلول الارقام التي عليها ..

- | | |
|-------------------------------|-----------------------------|
| ١. خليج : هدسن | ٢. جبال : الابلاش |
| ٣. نهر : المسيسيبي | ٤. المحيط : الهادى |
| ٥. نهر : نلسن | ٦. جبال : الركى |
| ٧. اقليم مناخ : البحر المتوسط | ٨. السلالة : المغولية |
| ٩. دائرة عرض : مدار السرطان | ١٠. اقليم مناخى : القندرا |
| ١١. المحيط : الاطلنطى | ١٢. المحيط : القطبى الشمالى |
| ١٣. نهر : سانت لورانس | ١٤. خليج : المكسيك |



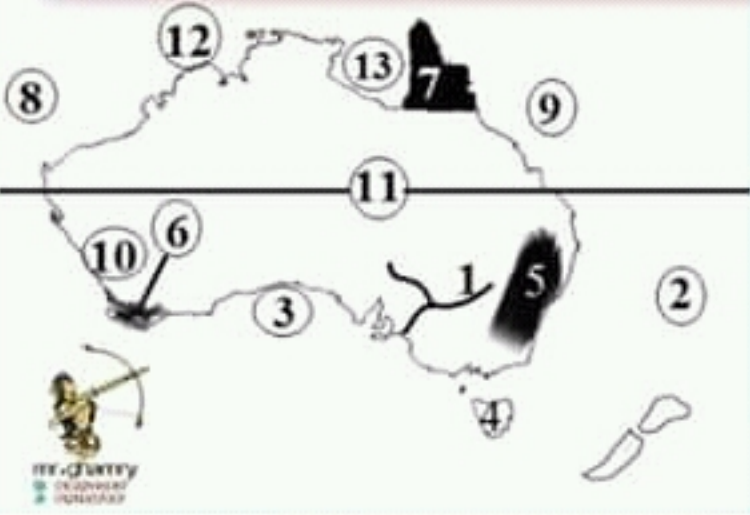
■ امامك خريطة صماء لقارة اوربا اكتب مدلول الارقام التي عليها ..

- | | |
|-----------------------------------|--------------------------------|
| ١. دائرة عرض : القطبية الشمالية | ٢. جبال : الاورال |
| ٣. جبال : البرانس | ٤. هضبة : فرنسا الوسطى |
| ٥. هضبة : الميزيتا | ٦. بحر : قزوين |
| ٧. بحر : الماتش | ٨. بحر : الشمال |
| ٩. نهر : الفولجا | ١٠. نهر : الراين |
| ١١. نهر : الدنوب | ١٢. المحيط : الاطلنطى |
| ١٣. اقليم مناخ : القارى البارد | ١٤. اقليم مناخ : البحر المتوسط |
| ١٥. اقليم نباتى : الغابات النفضية | |



♥ اقتلهم بالنجاح وادفنهم بالابتسامه 😊

اهم الخرائط ..؟؟



- امامك خريطة صماء لقارة استراليا اكتب مدلول الارقام التى عليها ..
١. نهر : مري
 ٢. المحيط : الهادى
 ٣. خليج : الاسترالى الكبير
 ٤. جزيرة : تسامنيا
 ٥. جبال : الحاجز الكبير
 ٦. اقليم مناخى: البحر المتوسط
 ٧. اقليم نباتى : الغابات الموسمية
 ٨. المحيط : الهندى
 ٩. البحر : المرجان
 ١٠. سلالة بشرية: القوقازية
 ١١. دائرة عرض : مدار الجدى
 ١٢. البحر : تيمور
 ١٣. خليج : كارينتريا

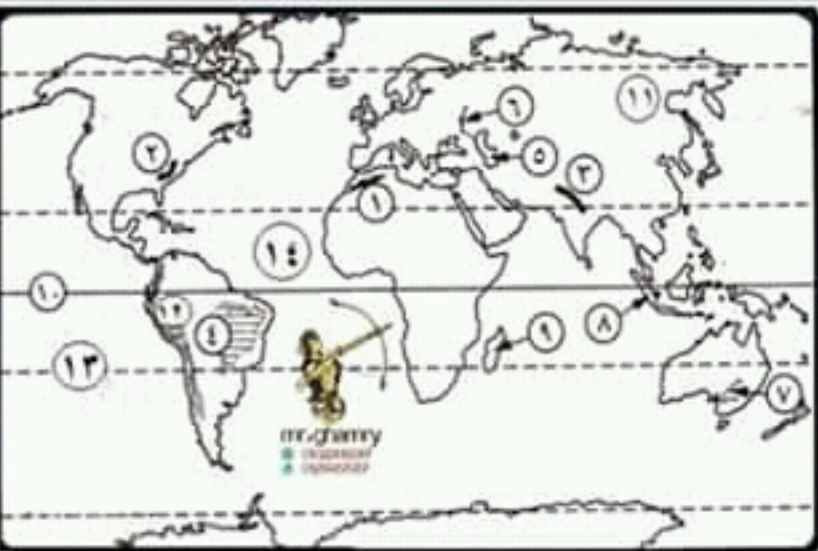


- امامك خريطة صماء لقارة اسيا اكتب مدلول الارقام التى عليها ..
١. المحيط : الهندى
 ٢. دائرة عرض: خط الاستواء
 ٣. جبال : الهيمالايا
 ٤. هضبة : الدكن
 ٥. سهل: منشوريا
 ٦. اقليم مناخى: الاستوانى
 ٧. البحر: قزوين
 ٨. المحيط : الهادى
 ٩. مدار : السرطان
 ١٠. السلالة: القوقازية
 ١١. الغابات: الموسمية
 ١٢. اقليم مناخى: الصحراوى الحار
 ١٣. اقليم مناخى: التندر

ركز جدا فى الخرنط دى ♥



- امامك خريطة صماء لقارة افريقيا اكتب مدلول الارقام التى عليها ..
١. البحر : المتوسط
 ٢. مدار : السرطان
 ٣. دائرة عرض : خط الاستواء
 ٤. جبال : اطلس
 ٥. جبال : دار كنز برج
 ٦. جبال : البحر الاحمر
 ٧. هضبة : البحيرات الاستوانية
 ٨. نهر : الاورنج
 ٩. نهر : الكونغو
 ١٠. مضيق : جبل طارق
 ١١. دائرة عرض : مدار الجدى
 ١٢. المحيط : الاطلنى
 ١٣. المحيط : الهندى
 ١٤. اقليم مناخى : الموسمى
 ١٥. اقليم نباتى : البحر المتوسط



- امامك خريطة صماء للعالم اكتب مدلول الارقام التى عليها ..
١. جبال : اطلس
 ٢. جبال : الابلاش
 ٣. جبال : الهيمالايا
 ٤. هضبة : البرازيل
 ٥. البحر: قزوين
 ٦. نهر : الفولجا
 ٧. نهر : دارلنج
 ٨. الغابات : الاستوانية
 ٩. اقليم مناخى : الموسمى
 ١٠. دائرة عرض : خط الاستواء
 ١١. السلالة : المغولية
 ١٢. جبال : الانديز
 ١٣. دائرة عرض : مدار الجدى
 ١٤. المحيط : الاطلنطى

مازرع الله فى قلبك رغبة الوصول لامر معين الا لانه يعلم انك ستصل اليه

