

تم تحميل هذا الملف من موقع المناهج العُمانية



* للحصول على أوراق عمل لجميع الصفوف وجميع المواد اضغط هنا

<https://almanahj.com/om>

* للحصول على أوراق عمل لجميع مواد الصف الأول اضغط هنا

<https://almanahj.com/om/1>

* للحصول على جميع أوراق الصف الأول في مادة رياضيات ولجميع الفصول, اضغط هنا

<https://almanahj.com/om/1math>

* للحصول على أوراق عمل لجميع مواد الصف الأول في مادة رياضيات الخاصة بـ الفصل الثاني اضغط هنا

<https://almanahj.com/om/1math2>

* لتحميل كتب جميع المواد في جميع الفصول للـ الصف الأول اضغط هنا

<https://almanahj.com/om/grade1>

* لتحميل جميع ملفات المدرس مجموعة المجال الثاني التربوية الالكترونية اضغط هنا

للتحدث إلى بوت على تلغرام: اضغط هنا

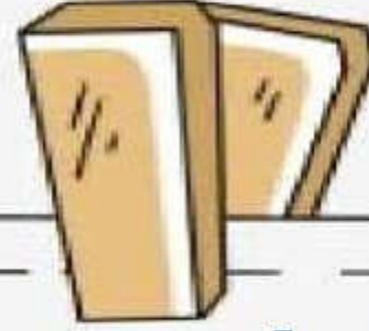
https://t.me/omcourse_bot



الصف الأول

الرياضيات
الممتعة

almanahij.com/lom

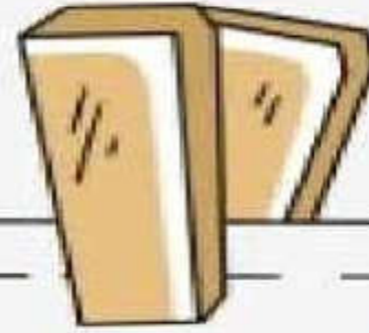



التعلم الفعلي:

هيا نتذكر النقود المعدنية (النقود ذات القيمة المنخفضة)



التمهيد:





مفردات الدرس

النقود

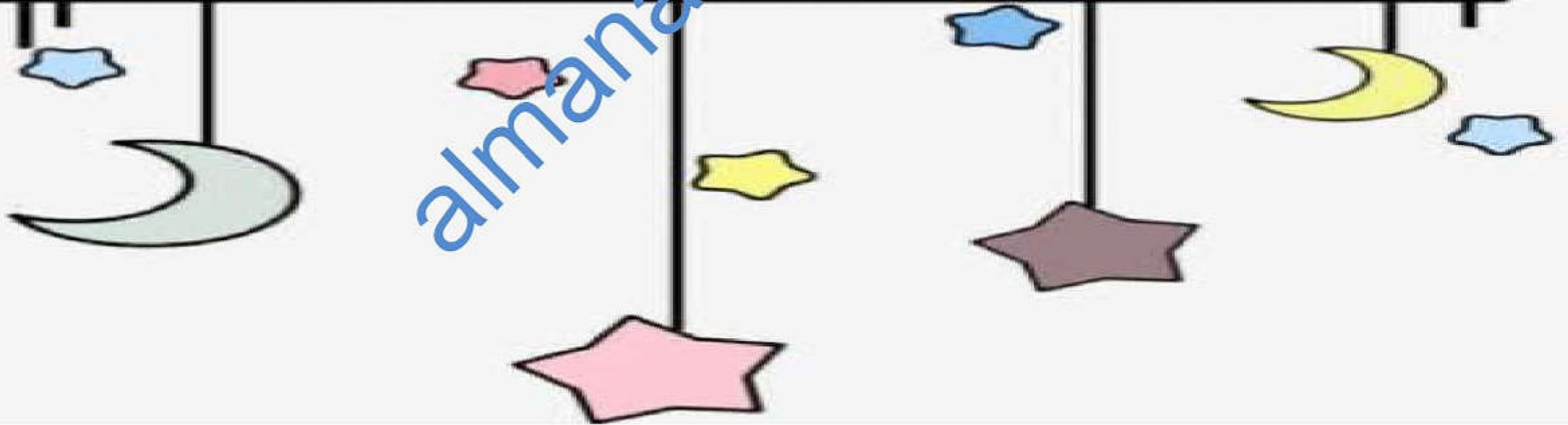
الباقي

قيمة منخفضة

almanahj.com/om

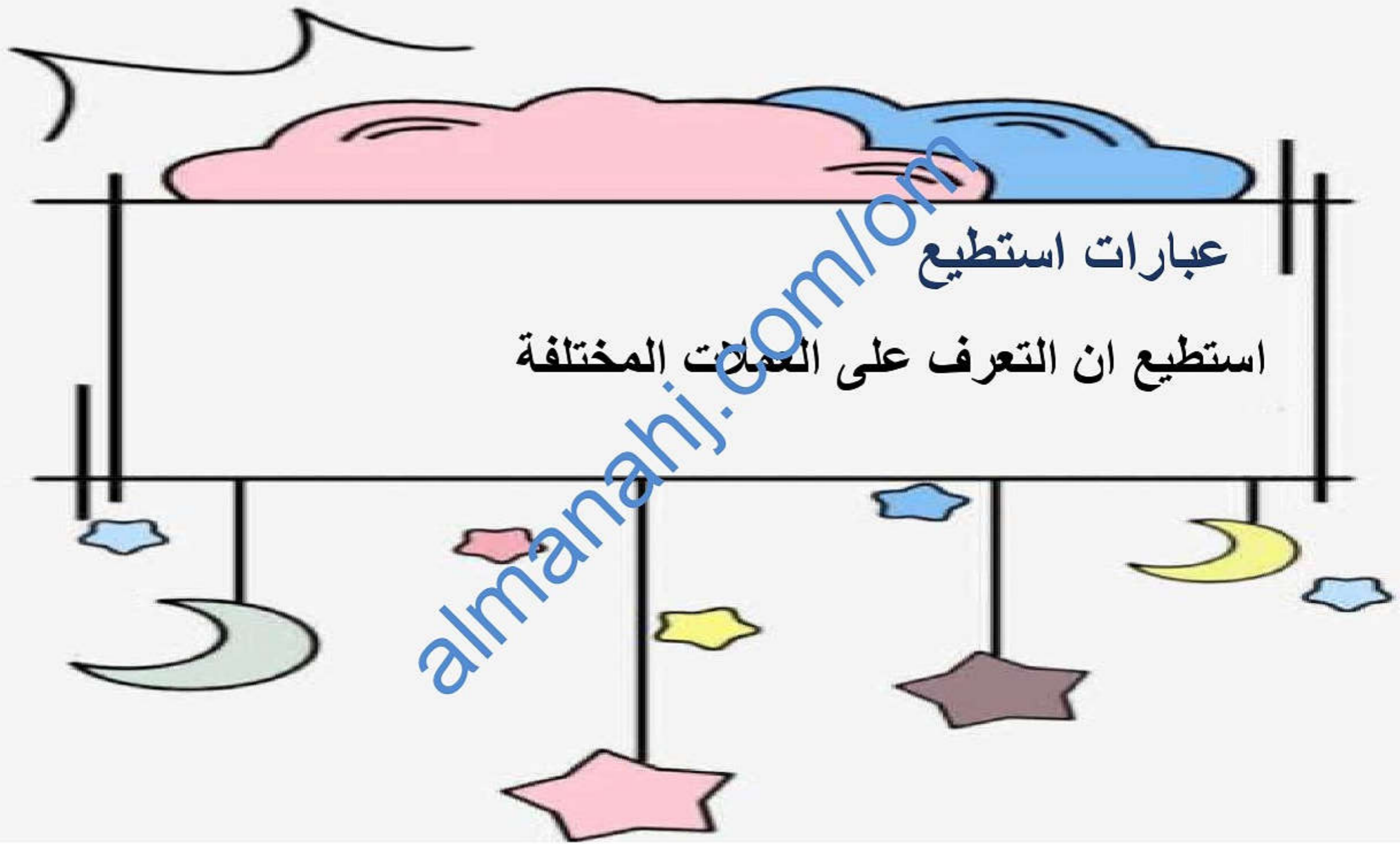
الأهداف التعليمية

1Mm1- يتعرف على جميع العملات الورقية ويتوصل إلى كيفية دفع مبلغ محدد باستخدام عملات ورقية أصغر.



عبارات استطيع

استطيع ان التعرف على العملات المختلفة




درس :-



هل تكفى النقطه

almanahj.com/lom



سير الدررس

هيا يا أصدقائى
ساعدونى فى شراء
بعض الألعاب



almanahj.com/lom



هيا يا عبقرى الرياضيات نجب عن الأسئلة التالية:-



50 بيسة



25 بيسة



50 بيسة



25 بيسة



❖ إذا أراد يدر شراء كرتان فاته سيدفع -----

❖ عند فاطمة . 100 بيسة إذا اشترت مكعبات سيتبقى -----

❖ قيمة السيارة والقطار معا -----

❖ كم تدفع إذا اردت شراء وكرتان وسيارتان ؟



1- أكبر قيمة للفئات النقدية المعدنية هي:-

50 بيسة 100 بيسة 25 بيسة 5 بيسة

2- عند خالد 100 بيسة إذا اشترى قلما بقيمة 50 بيسة فكم يتبقى لديه:-

5 بيسة 50 بيسة 100 بيسة 150 بيسة

3- إذا كان قيمة علبة العصير 500 بيسة فإن قيمة علبتين عصير = :-

200 بيسة نصف ريال ريال 10 ريالات

هيا يا عباقرة نجيب
على هذه الأسئلة:-



الواجب المنزلي:-

هيا يا عباقرة تساعد
كونن في الإجابة عن
الأسئلة التالية:-



• لدى كونن ثلاث قطع معدنية في جيبه ما مجموع ما لديه من نقود؟

• إذا كان لدى كونن  و  هل قيمتهما ذاتها؟ لماذا؟

• إذا لدى كونن  إلى كم سيحتاج من  لتصبح القيمة نفسها؟



مَاذَا تُرِيدُ أَنْ تَشْتَرِيَ؟



هيا نتصفح معا
كتاب التلميذ
ونجب عن الأسئلة

almanani.com/om



تفريد التعلّم :-

تزويدهم بنقود حقيقية ذات قيمة منخفضة أو قيمتين
منخفضتين متساويتين وأتأكد من الربط بين الجمع عند
إستخدام الأعداد.



إدخال مفهوم الباقي إذا كان لدى مثلاً 15 ريال
و أنفقت منها 7 فكم يبقى لدى؟



غلق الدرس :-



أجب عن الأسئلة التالية :-

- 1- إذا كان لدي 50 بيسة هل نقودي تكفي لشراء الكعك؟
- 2- عند أحمد 100 بيسة يقول أنا أستطيع بها شراء قطعة دونات وكنكات؟ هل إجابتة صحيحة؟ فسر إجابتك؟
- 3- عند ريم 10 بيسات إلى كم تحتاج لشراء حلوة مصاص؟

التقييم الذاتي:



أنا لم أفهم وأحتاج
إلى بعض المساعدة.




أنا لم أفهم
الدرس تماماً اليوم.



أنا فهمت الدرس
اليوم.

almanahj.com/om





بارك
الله
فيكم

أشكركم اغلبي
ونلتقي الحصة القادمة
بمشيئة الله

almanahj.com/lom

