

تم تحميل هذا الملف من موقع المناهج العُمانية



* للحصول على أوراق عمل لجميع الصفوف وجميع المواد اضغط هنا

<https://almanahj.com/om>

* للحصول على أوراق عمل لجميع مواد الصف الأول اضغط هنا

<https://almanahj.com/om/1>

* للحصول على جميع أوراق الصف الأول في مادة رياضيات ولجميع الفصول, اضغط هنا

<https://almanahj.com/om/1math>

* للحصول على أوراق عمل لجميع مواد الصف الأول في مادة رياضيات الخاصة بـ الفصل الثاني اضغط هنا

<https://almanahj.com/om/1math2>

* لتحميل كتب جميع المواد في جميع الفصول للـ الصف الأول اضغط هنا

<https://almanahj.com/om/grade1>

* لتحميل جميع ملفات المدرس مجموعة المجال الثاني التربوية الالكترونية اضغط هنا

للتحدث إلى بوت على تلغرام: اضغط هنا

https://t.me/omcourse_bot



المفردات

المفردات

almanahji.com/ona

الأهداف

1Nc17 يُعرف استخدام علامة مثل (?)
للتعبير عن قيمة مجهولة

almanahni.com/lom



لاستطيع أن :

اجد رقم مجهول جملة عددية علي

سبيل المثال $11 = \blacksquare + 6$

almoahzi.com/om



التعلم القلبي
رحلة البحث عن
الاسئلة
مع المحقق كونان

almanahj.com



اكمل السلسلة التالية

..., 19, 18

20

17





$$9 + 0 =$$

10

14



التمهيد

لدى يوسف ٣ بالونات واشتري من المحل بالونات أخرى و أصبح لديه ٥ بالونات، كم بالونه اشتري من المحل؟



$$٥ = ؟ + ٣$$

لدي ٤ قطع كعك كيك ، ولكن سيكون هناك تسعة أشخاص .
ما عدد قطع الكعك الإضافية التي أحتاج إليها؟




$$4 = ? + 9$$

كيف تحصل علي العدد المفقود؟

العد التصاعدي باستخدام خط الاعداد:

$$11 = 4 + 7$$



هيا يا صغيري اوجد العدد المفقود

$$12 = \blacksquare + 9$$

$$14 = \blacksquare + 8$$

تدريب

<https://wordwall.net/ar/resource/8185023>

almanahj.com/lom

مَا الْعَدَدُ الْمَقْفُودُ؟

اتبع الجمل العدديّة.
املأ الأعداد المفقودة.

استخدم عواد العدديّة لتساعدك.




$$12 = \square + 0$$

$$11 = 7 + \square$$

$$9 = 6 + \square$$

$$10 = \square + 4$$

لدى محمد ٧ بالونات ، انفجرت بعض منها وتبقى لديه ٣ بالونات .
كم بالونة انفجرت ؟



$$7 - \text{؟} = 3$$

كيف تحصل علي العدد المفقود؟

العد التنازلي باستخدام خط الأعداد:

$$7 = 4 - 12$$



أوجد العدد المفقود:

$$11 = \dots + 3$$

(ب)

$$14 = 1 + \dots$$

(د)

$$11 = 9 + \dots$$

(و)

$$10 = \dots + 8$$

(ج)

$$12 = \dots + 5$$

(أ)

$$18 = 6 + \dots$$

(ب)

$$11 = 7 + \dots$$

(هـ)

$$10 = \dots + 3$$

(ز)

التقويم الختامي:





الواجب المنزلي :

كتاب النشاط صفحة 39

التعلم الذاتي:

اكتب مجموع النوافذ والابواب في منزلك في المربع الأخضر ، واكتب عدد النوافذ في المربع الأزرق أوجد العدد المفقود في المربع الأصفر .

$$\square = \square + \square$$



إلى اللقاء
نلتقاكم في الحصة القادمة

almanahj.com

