

ملف تعلم الحساب من سلسلة الطيب طيب



تم تحميل هذا الملف من موقع المناهج العمانية

موقع فايلاتي ← المناهج العمانية ← الصف الأول ← رياضيات ← الفصل الأول ← ملفات متنوعة ← الملف

تاريخ إضافة الملف على موقع المناهج: 09:41:45 2026-06-07

ملفات اكتب للمعلم اكتب للطالب | اختبارات الكترونية | اختبارات | حلول | عروض بوربوينت | أوراق عمل
منهج انجليزي | ملخصات وتقارير | مذكرات وبنوك | الامتحان النهائي للمدرس

المزيد من مادة
رياضيات:

إعداد: إيمان طاهر

التواصل الاجتماعي بحسب الصف الأول



صفحة المناهج
العمانية على
فيسبوك

المزيد من الملفات بحسب الصف الأول والمادة رياضيات في الفصل الأول

الاجتبار التحصيلي مع الإجابات بمحافظة مسقط

1

ملف مراجعة كل ماتم دراسته في الصف الأول (إجازتي مفيدة)

2

كتيب أسئلة المنهج

3

ملف تعليم الأرقام من ١ إلى ١٠

4

تعليم الأرقام العربية من سلسلة اكتب ولون

5



الواجب

ضع علامة < أو > أو = :

$٤ \quad \square \quad ٥$

$٩ \quad \square \quad ٧$

$٦ \quad \square \quad ٦$

$٩ \quad \square \quad ١٠$

$٨ \quad \square \quad ٨$

اجمع

$= ٤ + ٤$

$= ٣ + ٥$

$= ٠ + ٦$

$= ٧ + ٣$

$= ٨ + ١$

$= ٥ + ٥$

$= ٠ + ٧$

أكتب العدد السابق

$١ \longrightarrow$

$٤ \longrightarrow$

$٦ \longrightarrow$

أكتب العدد التالي :

$\longleftarrow ٥$

$\longleftarrow ٧$

$\longleftarrow ٣$

أكمل :

$(أ) \quad \dots > ٤, \dots, \dots, \dots, \dots$

$(ب) \quad \dots < ٨, \dots, \dots, \dots, \dots$

$(ج) \quad \dots < ٢, \dots, \dots, \dots, \dots$

$(د) \quad \dots < ١٠, \dots, \dots, \dots, \dots$

أكمل :

$٣ أكبر من, \dots, \dots, \dots$

$٥ أصغر من, \dots, \dots, \dots, \dots$

$٦ أكبر من, \dots, \dots, \dots, \dots$

$٩ أكبر من, \dots, \dots, \dots, \dots$





الحصة

ضع علامة حول العدد الاصغر :

(أ) ٣ - ٧ - ٤

(ب) ٥ - ٤ - ٢

(ج) ١٠ - ٨ - ٩

(د) ٦ - ٠ - ٣

(هـ) ٢ - ٤ - ٥

(و) ٩ - ٦ - ٧

ضع علامة < أو > أو = :

٥ ٣

٤ ٧

٥ ٥

٦ ٩

٨ ٧

١٠ ١٠

٧ ٧

اطرح :

$\begin{array}{r} ٧ \\ - ٦ \\ \hline \end{array}$

$\begin{array}{r} ٧ \\ - ٥ \\ \hline \end{array}$

$\begin{array}{r} ٧ \\ - ٢ \\ \hline \end{array}$

$\begin{array}{r} ٧ \\ - ١ \\ \hline \end{array}$

$\begin{array}{r} ٧ \\ - ٤ \\ \hline \end{array}$

$\begin{array}{r} ٧ \\ - ٣ \\ \hline \end{array}$

اجمع :

$\begin{array}{r} ٨ \\ + ٨ \\ \hline \end{array}$

$\begin{array}{r} ٧ \\ + ٨ \\ \hline \end{array}$


$\begin{array}{r} ٥ \\ + ٧ \\ \hline \end{array}$

$\begin{array}{r} ٦ \\ + ٦ \\ \hline \end{array}$

$\begin{array}{r} ٥ \\ + ٦ \\ \hline \end{array}$

$\begin{array}{r} ٩ \\ + ٥ \\ \hline \end{array}$

عد واكتب العدد بالحروف :





الواجب

أكمل:

..... ، ، ، ، ، < ٤

..... ، ، ، ، ، > ٦

..... ، ، ، ، ، < ٨

..... ، ، ، ، ، > ٢

ضع علامة < أو > أو = :

٩ ٣

٩ ٤

١٧ ١٧

١٢ ١٥

٨ ١٨

ضع دائرة حول العدد الأكبر

(أ) ٦ - ٤ - ٢ - ٧

(ب) ٤ - ٠ - ٩ - ٥

(ج) ٣ - ٧ - ٨ - ٢

(د) ٤ - ٩ - ٦ - ٧

ضع دائرة حول العدد الأصغر :

(أ) ٦ - ٤ - ٢ - ٧

(ب) ٤ - ٠ - ٩ - ٥

(ج) ٣ - ٧ - ٨ - ٢

(د) ٤ - ٩ - ٦ - ٧

ضع علامة < أو > أو = :

سبعة خمسة

تسعة تسعة

عشرة ثمانية

ثلاثة ثلاثة

اكتب العدد بالحروف :

١ ٦

٢ ٧

٣ ٨

٤ ٩

٥ ١٠





العصاة

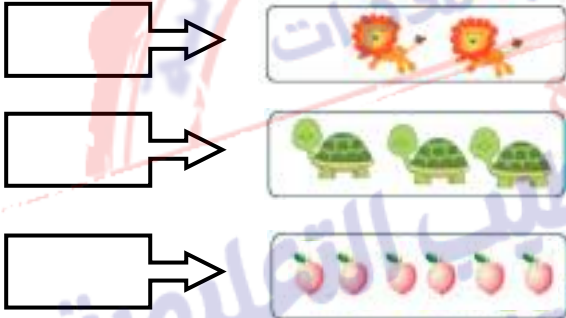
ضع علامة < أو > أو = :

١ + ٣ ستة
١ + ٢ ٧ + ٢
ثمانية ٨
٥ + ١ ٤ + ٣


اجمع

٤ ٤ ٣
٠ + ٢ + ٥ +
_____ _____ _____
٦ ٥ ٧
٣ + ٥ + ٣ +
_____ _____ _____

عد واكتب العدد بالحروف :



اكتب العدد السابق والتالي :



أكمل :

(أ) $4 <$ ، ، ، ، ،
(ب) $8 >$ ، ، ، ، ،
(ج) $10 <$ ، ، ، ، ،

أكمل :

٣ أكبر من ، ، ،
٧ أصغر من ، ، ، ،
٩ أكبر من ، ، ، ،

ضع دائرة حول العدد الأكبر :

(أ) ١ - ٣ - ٥ - ٤
(ب) ٨ - ٥ - ٧ - ٦
(ج) ٠ - ٩ - ٨ - ١٠

ضع دائرة حول العدد الأصغر :

(أ) ١ - ٣ - ٥ - ٤
(ب) ٨ - ٥ - ٧ - ٦
(ج) ٠ - ٩ - ٨ - ١٠





الواجب

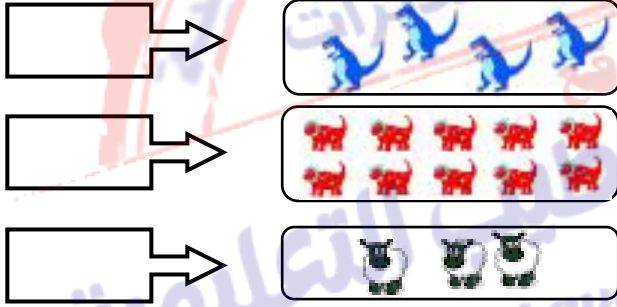
ضع علامة < أو > أو = :

٧	<input type="text"/>	٥
٩ + ٥	<input type="text"/>	عشرة
٣ + ٦	<input type="text"/>	٨
٠ + ٦	<input type="text"/>	٣ + ٣


اجمع

٦	٣	٤
٢ +	٥ +	١ +
_____	_____	_____
٩	٥	٨
٠ +	٥ +	٢ +
_____	_____	_____

عد واكتب العدد بالحروف :



اكتب العدد السابق والتالي :



ضع علامة حول العدد الأكبر :

- (أ) ٧ - ٣ - ٩ - ٨
(ب) ٥ - ٤ - ١ - ٦

ضع علامة حول العدد الأصغر :

- (أ) ٧ - ٣ - ٩ - ٨
(ب) ٥ - ٤ - ١ - ٦

اكتب الأعداد من ٢٠ إلى ٠ :

<input type="text"/>	<input type="text"/>	<input type="text"/>	<input type="text"/>	<input type="text"/>	<input type="text"/>	<input type="text"/>	١
<input type="text"/>	<input type="text"/>	<input type="text"/>	<input type="text"/>	<input type="text"/>	<input type="text"/>	<input type="text"/>	<input type="text"/>
<input type="text"/>	<input type="text"/>	<input type="text"/>	<input type="text"/>	<input type="text"/>	<input type="text"/>	<input type="text"/>	<input type="text"/>

أكمل :

- ٧ أكبر من ، ، ، ،
٨ أصغر من ، ، ، ،
٣ > ، ، ، ،
٩ < ، ، ، ،





الحصة

اطرح :

٩	٧	٤
٤ -	٢ -	٢ -
_____	_____	_____

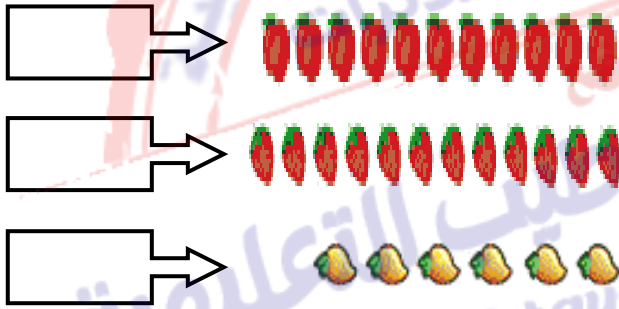
اجمع :

٢	٤	٣
٢ +	٤ +	٥ +
_____	_____	_____


٩	٦	٨
٠ -	١ -	٣ -
_____	_____	_____

٧	١	٢
٠ +	٣ +	٦ +
_____	_____	_____

عد واكتب العدد بالحروف :



اكتب العدد السابق والتالي :



ضع دائرة حول العدد الاكبر :

(١) ٤ - ٣ - ٧ - ٥

(ب) ١ - ٠ - ٣ - ٢

ضع علامة < أو > أو = :

٣ + ٤	<input type="text"/>	خمسة
عشرة	<input type="text"/>	٥ + ٣
٥	<input type="text"/>	ثلاثة
٢ + ٢	<input type="text"/>	٣ + ١
٧	<input type="text"/>	٩
٢	<input type="text"/>	٤

أكمل :

..... ، ، ، < ٣

..... ، ، ، > ٥

٦ أكبر من ، ، ، ،





الواجب

اطرح:

$$\begin{array}{r} 6 \\ - 0 \\ \hline \end{array} \quad \begin{array}{r} 3 \\ - 3 \\ \hline \end{array} \quad \begin{array}{r} 5 \\ - 2 \\ \hline \end{array}$$

$$\begin{array}{r} 9 \\ - 4 \\ \hline \end{array} \quad \begin{array}{r} 7 \\ - 3 \\ \hline \end{array} \quad \begin{array}{r} 8 \\ - 5 \\ \hline \end{array}$$

اجمع:

$$\begin{array}{r} 6 \\ + 0 \\ \hline \end{array} \quad \begin{array}{r} 3 \\ + 3 \\ \hline \end{array} \quad \begin{array}{r} 5 \\ + 2 \\ \hline \end{array}$$

$$\begin{array}{r} 9 \\ + 4 \\ \hline \end{array} \quad \begin{array}{r} 3 \\ + 7 \\ \hline \end{array} \quad \begin{array}{r} 5 \\ + 8 \\ \hline \end{array}$$

أكمل:

$$\begin{array}{r} \square \\ + 8 \\ \hline 11 \end{array} \quad \begin{array}{r} \square \\ + 7 \\ \hline 10 \end{array} \quad \begin{array}{r} \square \\ + 3 \\ \hline 8 \end{array} \quad \begin{array}{r} \square \\ + 2 \\ \hline 5 \end{array}$$

$$\begin{array}{r} \square \\ + 4 \\ \hline 8 \end{array} \quad \begin{array}{r} \square \\ + 3 \\ \hline 5 \end{array} \quad \begin{array}{r} \square \\ + 2 \\ \hline 8 \end{array}$$

اكتب العدد السابق والتالي:

$$\begin{array}{c} \longleftarrow 10 \longrightarrow \\ \longleftarrow 8 \longrightarrow \\ \longleftarrow 5 \longrightarrow \\ \longleftarrow 4 \longrightarrow \end{array}$$

ضع دائرة حول العدد الاصغر:

(أ) 3 - 2 - 6 - 4

(ب) 2 - 1 - 4 - 3

ضع علامة < أو > أو =:

سبعة 2 + 4

2 + 3 ثمانية

0 + 9 تسعة

2 + 2 3 + 1

7 10

2 + 7 5

أكمل:

4 >

6 <

7 أكبر من





الحصّة

اطرح :

٩	٥	٧
٤ -	٥ -	٤ -
_____	_____	_____

٩	٣	٨
٠ -	٣ -	٢ -
_____	_____	_____

اجمع

٩	٥	٤
٤ +	٥ +	٧ +
_____	_____	_____

٢	٣	٨
٣ +	٣ +	٢ +
_____	_____	_____

رتب تصاعدياً وتنازلياً :

(١ - ٢ - ٤ - ٩ - ٨ - ٧ - ٥)

تصاعدياً :

تنازلياً :

اكتب العدد السابق والتالي :

٩ ← →

٧ ← →

٤ ← →

٢ ← →

ضع دائرة حول العدد الاصغر :

(١) ٥ - ٠ - ١ - ٩

(ب) ٨ - ٩ - ٤ - ٧

ضع علامة < أو > أو = :

٣ + ٣ ستة

٦ + ٣ ١٠

٢ + ٥ سبعة

عشرة ١ + ٨

٣ + ٢ ٠ + ٥

أكمل :

٧ < ، ، ، ، ،

٣ > ، ، ، ، ،

٩ أصغر من ، ،

٧ أكبر من ، ، ،





الواجب

اطرح:

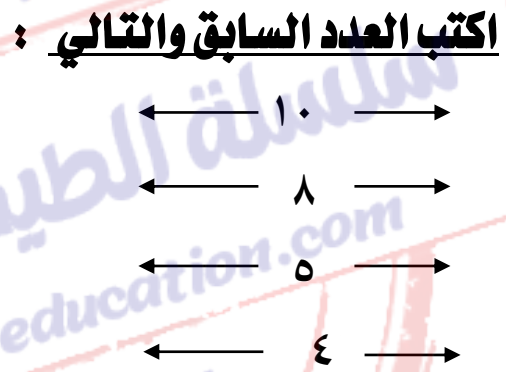
$6 - 3 =$	$4 - 2 =$	$5 - 3 =$
$7 - 0 =$	$8 - 4 =$	$7 - 5 =$

اجمع

$6 + 3 =$	$2 + 4 =$	$5 + 3 =$
$7 + 0 =$	$8 + 4 =$	$7 + 5 =$

أكمل:

$\square + 2 = 8$	$\square + 3 = 9$	$\square + 2 = 6$
$\square + 3 = 5$	$\square + 2 = 4$	



ضع دائرة حول العدد الأكبر:

(أ) 8 - 3 - 5 - 7

(ب) 4 - 6 - 8 - 10

ضع علامة < أو > أو =:

2 + 5

7

3 + 4

عشرة

واحد

سبعة

5

ثمانية

7 + 3

3

أكمل:

..... > 2

..... > 5

..... أكبر من 8

..... أصغر من 6





العصاة

أطرح :

$$= 3 - 5$$

$$= 4 - 7$$

$$= 6 - 8$$

$$= 3 - 9$$

$$= 3 - 7$$

اجمع :

$$= 3 + 5$$

$$= 7 + 4$$

$$= 6 + 8$$

$$= 3 + 9$$

$$= 0 + 7$$

ضع علامة < أو > أو = :

ستة ثلاثة

٢+٥ ٧+٣

٤+٢ عشرة

ثمانية ٦+٢

اكتب العدد السابق والتالي :

← ١١ →

← ٩ →

← ١ →

← ٨ →

ضع دائرة حول العدد الأكبر :

٣ - ٥ - ١ - ٢ (أ)

٩ - ٠ - ٧ - ٦ (ب)

ضع دائرة حول العدد الأصغر :

٣ - ٥ - ١ - ٢ (أ)

٩ - ٠ - ٧ - ٦ (ب)

أكمل :

..... ، ، ، ، ، < ٥

..... ، ، ، ، ، > ٨

..... ، ، ، ، ، ٣ أصغر من

اكتب العدد بالحروف :

..... ٥ ١

..... ٦ ٢

..... ٧ ٣

..... ٨ ٤





الواجب

اطرح :

$$= 3 - 6$$

$$= 0 - 4$$

$$= 1 - 8$$

$$= 5 - 5$$

$$= 3 - 8$$

اجمع

$$= 3 + 6$$

$$= 2 + 4$$

$$= 1 + 8$$

$$= 5 + 5$$

$$= 0 + 8$$

ضع علامة < أو > أو = :

عشرة 7+2

4+5 تسعة

0+3 2+1

ثلاثة 2+2

اكتب العدد السابق والتالي :

← 7 →

← 3 →

← 10 →

← 1 →

ضع دائرة حول العدد الأكبر :

6 - 2 - 5 - 7 (أ)

4 - 9 - 3 - 1 (ب)

ضع دائرة حول العدد الأصغر :

6 - 2 - 5 - 7 (أ)

4 - 9 - 3 - 1 (ب)

أكمل :

..... ، < 6

..... ، > 9

..... ، > 4

اكتب العدد بالحروف :

..... 6

..... 7

..... 8

..... 9

..... 10





العصاة

أطرح :

$$= 0 - 8$$

$$= 5 - 5$$

$$= 2 - 7$$

$$= 7 - 8$$

$$= 5 - 8$$

اجمع :

$$= 5 + 4$$

$$= 4 + 7$$

$$= 4 + 3$$

$$= 3 + 0$$

$$= 2 + 7$$

ضع علامة < أو > أو = :

$$7 \quad \square \quad 1+5$$

$$\text{تسعة} \quad \square \quad 2+2$$

$$\text{ثمانية} \quad \square \quad 8$$

$$5+3 \quad \square \quad 10$$

اكتب العدد السابق والتالي :

$$\leftarrow 8 \rightarrow$$

$$\leftarrow 3 \rightarrow$$

$$\leftarrow 10 \rightarrow$$

$$\leftarrow 1 \rightarrow$$

ضع دائرة حول العدد الأكبر :

$$7 - 1 - 2 - 6 \quad (\text{أ})$$

$$4 - 10 - 5 - 8 \quad (\text{ب})$$

ضع دائرة حول العدد الأصغر :

$$7 - 1 - 2 - 6 \quad (\text{أ})$$

$$4 - 10 - 5 - 8 \quad (\text{ب})$$

أكمل :

4

3

8

أصغر عدد هو

أكبر عدد هو

أكمل :

5

9

0

أصغر عدد هو

أكبر عدد هو





العصاة

أطرح :

$$= 5 - 7$$

$$= 3 - 9$$

$$= 6 - 6$$

$$= 4 - 8$$

$$= 5 - 5$$

اجمع :

$$= 5 + 7$$

$$= 3 + 9$$

$$= 6 + 6$$

$$= 4 + 8$$

$$= 5 + 5$$

ضع علامة < أو > أو = :

$$0 + 5 \quad \square \quad 2 + 3$$

$$\text{سبعة} \quad \square \quad 2 + 6$$

$$3 + 8 \quad \square \quad 3 + 5$$

$$2 + 2 \quad \square \quad \text{أربعة}$$

اكتب العدد السابق والتالي :

$$\leftarrow 8 \rightarrow$$

$$\leftarrow 5 \rightarrow$$

$$\leftarrow 3 \rightarrow$$

$$\leftarrow 1 \rightarrow$$

ضع دائرة حول العدد الأكبر :

$$6 - 5 - 3 - 7 \quad (\text{أ})$$

$$8 - 0 - 4 - 5 \quad (\text{ب})$$

ضع دائرة حول العدد الأصغر :

$$6 - 5 - 3 - 7 \quad (\text{أ})$$

$$8 - 0 - 4 - 5 \quad (\text{ب})$$

أكمل :

5

1

7

أصغر عدد هو

أكبر عدد هو

أكمل :

4

6

3

أصغر عدد هو

أكبر عدد هو





الواجب

اطرح :

$$= 3 - 7$$

$$= 3 - 3$$

$$= 5 - 8$$

$$= 2 - 2$$

$$= 4 - 9$$

اجمع

$$= 7 + 3$$

$$= 3 + 3$$

$$= 5 + 8$$

$$= 2 + 2$$

$$= 3 + 9$$

ضع علامة < أو > أو = :

$$3 + 4 \quad \square \quad 2 + 5$$

$$\text{سوهاج} \quad \square \quad \text{مصر}$$

$$5 + 5 \quad \square \quad 3 + 2$$

$$\text{سبعة} \quad \square \quad 7$$

اكتب العدد السابق والتالي :

$$\leftarrow 4 \rightarrow$$

$$\leftarrow 6 \rightarrow$$

$$\leftarrow 2 \rightarrow$$

$$\leftarrow 9 \rightarrow$$

ضع دائرة حول العدد الاكبر :

$$6 - 4 - 3 - 5 \quad (\text{أ})$$

$$5 - 7 - 9 - 6 \quad (\text{ب})$$

ضع دائرة حول العدد الاصغر :

$$6 - 4 - 3 - 5 \quad (\text{أ})$$

$$5 - 7 - 9 - 6 \quad (\text{ب})$$

أكمل الاعداد :

<input type="text"/>	<input type="text"/>	<input type="text"/>	<input type="text"/>	<input type="text"/>	<input type="text"/>	٢١
<input type="text"/>	<input type="text"/>	<input type="text"/>	<input type="text"/>	<input type="text"/>	<input type="text"/>	<input type="text"/>
<input type="text"/>	<input type="text"/>	<input type="text"/>	<input type="text"/>	<input type="text"/>	<input type="text"/>	<input type="text"/>

أكمل :

٦	١٠	٨	٩
---	----	---	---

أصغر عدد هو

أكبر عدد هو





العصاة

اجمع :

= ٤ + ٤

= ٣ + ٥

= ٤ + ٦

= ٣ + ٨

= ٥ + ٥

أطرح :

= ٤ - ٤

= ٣ - ٥

= ٤ - ٦

= ٣ - ٨

= ٥ - ٥

اكتب العدد السابق والتالي :

← ٣ →

← ١ →

← ١٠ →

← ٧ →

رتب تصاعدياً :

٢ - ٤ - ١ - ٣

٤ - ٦ - ٧ - ٥

أكمل بنفس التسلسل :

..... ٦ ٦ ٦ ٦ ١١ ، ١٠ ، ٩

..... ٦ ٦ ٦ ٦ ٤ ، ٥

..... ٦ ٦ ٦ ٦ ٣ ، ٢

..... ٦ ٦ ٦ ٦ ٧ ، ٦

ضع علامة < أو > أو = :

٤ ٧

٩ عشرة

١ + ٣ ٠ + ٤

خمسة ٢ + ٦

٣ + ٣ ٢ + ٥





الواجب

اطرح:

$$= 5 - 5$$

$$= 2 - 6$$

$$= 4 - 7$$

$$= 5 - 9$$

$$= 4 - 4$$

$$= 3 - 4$$

اجمع

$$= 5 + 5$$

$$= 6 + 2$$

$$= 4 + 7$$

$$= 9 + 5$$

$$= 4 + 4$$

$$= 4 + 3$$

اكتب العدد السابق والتالي:

← 4 →

← 2 →

← 5 →

← 1 →

رتب تصاعدياً:

3 - 6 - 5 - 4

6 - 7 - 9 - 8

أكمل بنفس التسلسل:

..... ، 5 ، 3 ، 4

..... ، 9 ، 8

..... ، 5 ، 6

..... ، 3 ، 2 ، 1

..... ، 12 ، 11 ، 10

ضع علامة < أو > أو =:

4+6 5+3

9 7

5 3

0+3 1+2

5+4 تسعة





العصاة

أطرح :

$$= 3 - 8$$

$$= 2 - 5$$

$$= 5 - 9$$

$$= 3 - 4$$

$$= 5 - 6$$

$$= 7 - 8$$

اجمع :

$$= 3 + 8$$

$$= 2 + 5$$

$$= 5 + 9$$

$$= 3 + 4$$

$$= 5 + 6$$

$$= 7 + 8$$

اكتب العدد السابق والتالي :

← 8 →

← 4 →

← →

← 6 →

رتب تصاعدياً :

6 - 5 - 9 - 7

5 - 2 - 0 - 8

أكمل بنفس التسلسل :

..... ، 8 ، 9

..... ، 4 ، 5

..... ، 12 ، 11

..... ، 9 ، 10

ضع علامة < أو > أو = :

7 2 + 2

5 2 + 3

أربعة 2 + 2

شمس 6





العصاة

أطرح :

$$= 3 - 7$$

$$= 4 - 5$$

$$= 2 - 3$$

$$= 4 - 4$$

$$= 0 - 5$$

اجمع :

$$= 3 + 7$$

$$= 4 + 5$$

$$= 3 + 2$$

$$= 4 + 4$$

$$= 0 + 5$$

اكتب العدد السابق والتالي :

← 10 →

← 11 →

← 14 →

← 5 →

رتب تصاعدياً :

2 - 6 - 9 - 10

5 - 1 - 3 - 7

أكمل بنفس التسلسل :

..... ، 5 ، 4

..... ، 9 ، 8

..... ، 12 ، 13

..... ، 5 ، 6

..... ، 2 ، 1

ضع علامة < أو > أو = :

9 11

9 4

17 17

12 15

8 18





الواجب

أطرح :

$$= 5 - 8$$

$$= 3 - 9$$

$$= 4 - 6$$

$$= 7 - 7$$

$$= 3 - 3$$

$$= 0 - 5$$

اجمع :

$$= 5 + 8$$

$$= 3 + 6$$

$$= 6 + 4$$

$$= 7 + 7$$

$$= 3 + 3$$

$$= 0 + 5$$

اكتب العدد السابق والتالي :

← ١٥ →

← ١١ →

← ١٠ →

← ٨ →

رتب تصاعدياً :

١٤ - ١٠ - ١٢ - ١٥

٧ - ١١ - ٨ - ٩

أكمل بنفس التسلسل :

..... ، ، ، ، ٨ ، ٩

..... ، ، ، ، ١١ ، ١٠

..... ، ، ، ، ٦ ، ٧

..... ، ، ، ، ٤ ، ٥

ضع علامة < أو > أو = :

١٤ ١٣

١٧ ٩

١٨ ١٨

١٠ ١١





الواجب

أطرح :

$$= 4 - 7$$

$$= 2 - 8$$

$$= 6 - 6$$

$$= 3 - 5$$

$$= 5 - 9$$

$$= 0 - 8$$

اجمع :

$$= 8 + 4$$

$$= 2 + 8$$

$$= 6 + 6$$

$$= 3 + 5$$

$$= 5 + 9$$

$$= 0 + 8$$

اكتب العدد السابق والتالي :

$$\leftarrow 18 \rightarrow$$

$$\leftarrow 11 \rightarrow$$

$$\leftarrow 7 \rightarrow$$

$$\leftarrow 4 \rightarrow$$

رتب تصاعدياً :

$$9 - 12 - 7 - 13$$

<input type="text"/>	<input type="text"/>	<input type="text"/>	<input type="text"/>
----------------------	----------------------	----------------------	----------------------

$$1 - 3 - 7 - 5$$

<input type="text"/>	<input type="text"/>	<input type="text"/>	<input type="text"/>
----------------------	----------------------	----------------------	----------------------

أكمل بنفس التسلسل :

$$\dots, 6, \dots, 3, 4$$

$$\dots, 6, \dots, 6, 5$$

$$\dots, 10, 9, \dots$$

$$\dots, 14, 15, \dots$$

ضع علامة < أو > أو = :

$$14 \quad \square \quad 15$$

$$16 \quad \square \quad 11$$

$$14 \quad \square \quad 14$$

$$12 \quad \square \quad 17$$





العصاة

أطرح :

$$= 4 - 5$$

$$= 3 - 7$$

$$= 2 - 8$$

$$= 3 - 5$$

$$= 4 - 6$$

اجمع :

$$= 5 + 4$$

$$= 4 + 7$$

$$= 8 + 2$$

$$= 3 + 5$$

$$= 4 + 6$$

اكتب العدد السابق والتالي :

$$\leftarrow 19 \rightarrow$$

$$\leftarrow 10 \rightarrow$$

$$\leftarrow 8 \rightarrow$$

$$\leftarrow 3 \rightarrow$$

رتب تصاعدياً :

$$16 - 12 - 15 - 17$$

$$8 - 3 - 6 - 9$$

أكمل بنفس التسلسل :

..... ، ، ، ، 12 ، 13

..... ، ، ، ، 18 ، 17

..... ، ، ، ، 14 ، 15

..... ، ، ، ، 6 ، 7

ضع علامة < أو > أو = :

3 + 2 تسعة

خمسة 4 + 4

4 - 8 2 + 2

ستة 1 + 5

7 + 3 عشرة





الواجب

أطرح :

$$= 3 - 8$$

$$= 2 - 2$$

$$= 6 - 7$$

$$= 3 - 5$$

$$= 4 - 9$$

اجمع :

$$= 8 + 3$$

$$= 2 + 2$$

$$= 7 + 1$$

$$= 3 + 5$$

$$= 9 + 4$$

اكتب العدد السابق والتالي :

← 7 →

← 9 →

← 13 →

← 16 →

رتب تصاعدياً :

11 - 9 - 15 - 19

1 - 6 - 2 - 4

أكمل بنفس التسلسل :

..... ، ، ، ، 8 ، 9

..... ، ، ، ، 5 ، 4

..... ، ، ، ، 10 ، 8

..... ، ، ، ، 18 ، 17

ضع علامة < أو > أو = :

9 9 2-3

عشرة 2+8

2-5 4+4

5-9 أربعة

ثلاثة 3-6





العصاة

أطرح :

$$= 2 - 5$$

$$= 3 - 4$$

$$= 2 - 6$$

$$= 5 - 5$$

$$= 0 - 7$$

اجمع :

$$= 2 + 5$$

$$= 4 + 3$$

$$= 6 + 2$$

$$= 5 + 5$$

$$= 0 + 7$$

رتب تنازلياً :

١٠ - ٧ - ٥ - ٩

١ - ٦ - ٨ - ٤

رتب تصاعدياً :

١٠ - ٧ - ٥ - ٩

١ - ٣ - ٨ - ٤

ضع علامة < أو > أو = :

٩ ٥

٤ ٢

٧ ٧

ثلاثة ثمانية

سنة أربعة + ٢

اكتب العدد السابق والتالي :

← ٤ →

← ٢ →

← ٩ →

← ١ →

← ٧ →





الواجب

أطرح :

اجمع :

$$= 5 - 6$$

$$= 6 + 5$$

$$= 3 - 3$$

$$= 3 + 3$$

$$= 1 - 2$$

$$= 1 + 2$$

$$= 0 - 0$$

$$= 0 + 0$$

$$= 2 - 9$$

$$= 2 + 8$$

رتب تنازلياً :

رتب تصاعدياً :

3 - 1 - 2 - 5

3 - 1 - 2 - 5

4 - 6 - 0 - 7

4 - 6 - 0 - 7

ضع علامة < أو > أو = :

اكتب العدد السابق والتالي :

7 3

← 8 →

8 2

← 10 →

أربعة

← 5 →

2+3

← 1 →





العصاة

أطرح :

$$= 2 - 5$$

$$= 3 - 4$$

$$= 2 - 6$$

$$= 5 - 5$$

$$= 0 - 7$$

اجمع :

$$= 2 + 5$$

$$= 4 + 3$$

$$= 6 + 2$$

$$= 5 + 5$$

$$= 0 + 7$$

رتب تنازلياً :

١٠ - ٧ - ٥ - ٩

١ - ٦ - ٨ - ٤

رتب تصاعدياً :

١٠ - ٧ - ٥ - ٩

١ - ٣ - ٨ - ٤

أكمل بنفس التسلسل :

..... ، ٣ ، ٤

..... ، ٧ ، ٦

..... ، ١٠ ، ٩

..... ، ١٥ ، ١٤

..... ، ١٤ ، ١٣

وصل :

$$3 + 5$$

$$2 + 3$$

$$5 - 6$$

$$2 + 2$$

$$4 + 2$$

سنة

أربعة

ثمانية

واحد

خمسة





الواجب

أطرح :

$$= 4 - 5$$

$$= 3 - 6$$

$$= 2 - 7$$

$$= 5 - 8$$

$$= 6 - 9$$

اجمع :

$$= 5 + 4$$

$$= 4 + 6$$

$$= 2 + 7$$

$$= 8 + 3$$

$$= 5 + 9$$

رتب تنازلياً :

١١ - ٧ - ٩ - ١٠

١ - ٤ - ٦ - ٣

رتب تصاعدياً :

١١ - ٧ - ٩ - ١٠

١ - ٤ - ٦ - ٣

أكمل بنفس التسلسل :

..... ، ، ، ، ١٥ ، ١٤

..... ، ، ، ، ٧ ، ٨

..... ، ، ، ، ٤ ، ٣

..... ، ، ، ، ٥ ، ٦

وصل :

١٠ سبعة

٥ + ٤ اثنان

٥ - ٦ تسعة

٣ - ٥ ثلاثة

٢ + ١ عشرة





العصاة

أطرح :

$$= 2 - 9$$

$$= 4 - 6$$

$$= 1 - 8$$

$$= 3 - 5$$

$$= 4 - 7$$

اجمع :

$$= 2 + 9$$

$$= 6 + 4$$

$$= 8 + 1$$

$$= 3 + 5$$

$$= 4 + 7$$

رتب تنازلياً :

$$15 - 13 - 16 - 11$$

$$5 - 2 - 6 - 8$$

رتب تصاعدياً :

$$15 - 13 - 16 - 11$$

$$5 - 2 - 6 - 8$$

ضع علامة < أو > أو = :

$$5 - 8 \quad \square \quad 2 + 3$$

$$4 + 4 \quad \square \quad 3 + 5$$

$$2 + ثمانية \quad \square \quad 1 - 9$$

$$1 - 2 \quad \square \quad \text{واحد}$$

اكتب العدد السابق والتالي :

$$\leftarrow 3 \rightarrow$$

$$\leftarrow 1 \rightarrow$$

$$\leftarrow 6 \rightarrow$$

$$\leftarrow 10 \rightarrow$$

أكمل بنفس التسلسل :

..... ، 3 ، 2 ،

..... ، 10 ، 9 ،

اكتب العدد بالحروف :

..... 5 1

..... 6 2

..... 7 3

..... 8 4





الواجب

أطرح :

$$= 6 - 8$$

$$= 2 - 7$$

$$= 4 - 9$$

$$= 2 - 3$$

$$= 1 - 4$$

$$= 0 - 5$$

اجمع :

$$= 6 + 8$$

$$= 2 + 7$$

$$= 4 + 9$$

$$= 2 + 3$$

$$= 4 + 1$$

$$= 0 + 5$$

رتب تنازلياً :

$$12 - 16 - 14 - 18$$

$$6 - 3 - 0 - 4$$

رتب تصاعدياً :

$$12 - 16 - 14 - 18$$

$$6 - 3 - 0 - 4$$

ضع علامة < أو > أو = :

$$2 + \text{واحد} \quad \square \quad 3 + 5$$

$$\text{ثمانية} \quad \square \quad 6 + 4$$

$$4 - 9 \quad \square \quad 0 + 5$$

$$3 + 6 \quad \square \quad 5 + 4$$

اكتب العدد السابق والتالي :

$$\leftarrow 3 \rightarrow$$

$$\leftarrow 13 \rightarrow$$

$$\leftarrow 4 \rightarrow$$

$$\leftarrow 14 \rightarrow$$

أكمل بنفس التسلسل :

$$, \dots, 6, \dots, 7$$

$$, \dots, 18, 19, \dots$$

اكتب العدد بالحروف :

$$\dots 5 \dots 1$$

$$\dots 6 \dots 2$$

$$\dots 7 \dots 3$$

$$\dots 8 \dots 4$$





اختبار

اجمع :

$= 3 + 8$

$= 5 + 1$

$= 2 + 7$

$= 0 + 0$

أطرح :

$= 3 - 9$

$= 5 - 8$

$= 4 - 6$

$= 0 - 5$

رتب تنازلياً :

٦ - ٢ - ٤ - ٥

١٠ - ١٧ - ١١ - ١٤

رتب تصاعدياً :

٦ - ٢ - ٤ - ٥

١٠ - ١٧ - ١١ - ١٤

ضع علامة < أو > أو = :

سبعة $3 + 4$

$5 - 8$ $2 + 7$

$3 + 3$ أربعة

اكتب العدد بالحروف :

..... ٦ ١

..... ٧ ٢

..... ٨ ٣

..... ٩ ٤

..... ١٠ ٥

اكتب الاعداد :

٣٠

 ٥٠





الواجب

أطرح :

$$= 5 - 6$$

$$= 2 - 4$$

$$= 3 - 8$$

$$= 0 - 9$$

اجمع :

$$= 5 + 6$$

$$= 2 + 4$$

$$= 3 + 8$$

$$= 0 + 9$$

رتب تنازلياً :

١٠ - ٢ - ٦ - ٨

١٦ - ١١ - ١٥ - ١٣

رتب تصاعدياً :

١٠ - ٢ - ٦ - ٨

١٦ - ١١ - ١٥ - ١٣

ضع علامة < أو > أو = :

تسعة ٢ + ٥

٤ + ٤ ثمانية

٥ + ٤ ٧ + ٢

اكتب العدد بالحروف :

..... ٦ ١

..... ٧ ٢

..... ٨ ٣

..... ٩ ٤

..... ١٠ ٥

أكتب الأعداد :

<input type="text"/>	<input type="text"/>	<input type="text"/>	<input type="text"/>	<input type="text"/>	<input type="text"/>	<input type="text"/>	٣٠
<input type="text"/>	<input type="text"/>	<input type="text"/>	<input type="text"/>	<input type="text"/>	<input type="text"/>	<input type="text"/>	<input type="text"/>
٥٠	<input type="text"/>	<input type="text"/>	<input type="text"/>	<input type="text"/>	<input type="text"/>	<input type="text"/>	<input type="text"/>





الحصة

أطرح :

$$= 9 - 9$$

$$= 6 - 8$$

$$= 5 - 7$$

$$= 6 - 6$$

$$= 3 - 7$$

اجمع :

$$= 9 + 9$$

$$= 6 + 8$$

$$= 7 + 5$$

$$= 6 + 6$$

$$= 7 + 7$$

رتب تنازلياً :

١٠ - ١٦ - ١٣ - ١٧

١٦ - ١١ - ١٥ - ١٣

رتب تصاعدياً :

١٠ - ١٦ - ١٣ - ١٧

١٨ - ١٤ - ١٩ - ٢٠

ضع علامة < أو > أو = :

١٧ ١٩

١٦ + ٤ ١٣

٢٠ ٢٠

اكتب العدد بالحروف :

..... ١٦ ١١

..... ١٧ ١٢

..... ١٨ ١٣

..... ١٩ ١٤

..... ٢٠ ١٥

اكتب الاعداد:

<input type="text"/>	<input type="text"/>	<input type="text"/>	<input type="text"/>	<input type="text"/>	<input type="text"/>	٥٠
<input type="text"/>	<input type="text"/>	<input type="text"/>	<input type="text"/>	<input type="text"/>	<input type="text"/>	<input type="text"/>
٧٠	<input type="text"/>	<input type="text"/>	<input type="text"/>	<input type="text"/>	<input type="text"/>	<input type="text"/>





الواجب

أطرح :

$$= 4 - 8$$

$$= 3 - 7$$

$$= 5 - 5$$

$$= 6 + 7$$

$$= 2 - 9$$

اجمع :

$$= 4 + 8$$

$$= 3 + 7$$

$$= 5 + 5$$

$$= 7 + 6$$

$$= 2 + 9$$

رتب تنازلياً :

$$13 - 15 - 10 - 12$$

$$16 - 11 - 15 - 13$$

رتب تصاعدياً :

$$13 - 15 - 10 - 12$$

$$7 - 5 - 8 - 9$$

ضع علامة < أو > أو = :

١٣ احدي عشر

ثمانية عشر

١٦ ستة عشر

اكتب العدد بالحروف :

..... ١٦ ١١

..... ١٧ ١٢

..... ١٨ ١٣

..... ١٩ ١٤

..... ٢٠ ١٥

اكتب الاعداد :

<input type="text"/>	<input type="text"/>	<input type="text"/>	<input type="text"/>	<input type="text"/>	<input type="text"/>	٥٠
<input type="text"/>	<input type="text"/>	<input type="text"/>	<input type="text"/>	<input type="text"/>	<input type="text"/>	
٧٠	<input type="text"/>	<input type="text"/>	<input type="text"/>	<input type="text"/>	<input type="text"/>	





الحصة

أطرح :

$$= 3 - 8$$

$$= 2 - 5$$

$$= 6 - 6$$

$$= 3 - 6$$

$$= 4 - 7$$

اجمع :

$$= 4 + 2 + 3$$

$$= 0 + 1 + 5$$

$$= 3 + 2 + 7$$

$$= 2 + 6 + 4$$

$$= 4 + 5 + 2$$

رتب تنازلياً :

١٢ - ١٧ - ١١ - ١٥

٩ - ٠ - ٢ - ٨

رتب تصاعدياً :

١٢ - ١٧ - ١١ - ١٥

٩ - ٠ - ٢ - ٨

ضع علامة < أو > أو = :

اثنا عشر ١٦

١٧ خمسة عشر

١٩ تسعة عشر

اكتب العدد بالحروف :

..... ١٦ ١١

..... ١٧ ١٢

..... ١٨ ١٣

..... ١٩ ١٤

..... ٢٠ ١٥

اكتب الاعداد:

<input type="text"/>	<input type="text"/>	<input type="text"/>	<input type="text"/>	<input type="text"/>	<input type="text"/>	٥٠
<input type="text"/>	<input type="text"/>	<input type="text"/>	<input type="text"/>	<input type="text"/>	<input type="text"/>	
٧٠	<input type="text"/>	<input type="text"/>	<input type="text"/>	<input type="text"/>	<input type="text"/>	





الواجب

أطرح :

$$= 5 - 6$$

$$= 1 - 5$$

$$= 5 - 8$$

$$= 3 - 9$$

$$= 2 - 4$$

اجمع :

$$= 3 + 6 + 1$$

$$= 4 + 3 + 7$$

$$= 0 + 2 + 4$$

$$= 3 + 1 + 5$$

$$= 0 + 2 + 7$$

رتب تنازلياً :

١٧ - ١١ - ١٦ - ١٣

١٨ - ١٢ - ١٠ - ١٩

رتب تصاعدياً :

١٧ - ١١ - ١٦ - ١٣

١٨ - ١٢ - ١٠ - ١٩

ضع علامة < أو > أو = :

١٣ ثلاثة عشر

١٧ ١٩

٢٠ عشرون

اكتب العدد بالحروف :

..... ١٦ ١١

..... ١٧ ١٢

..... ١٨ ١٣

..... ١٩ ١٤

..... ٢٠ ١٥

اكتب الاعداد:

<input type="text"/>	<input type="text"/>	<input type="text"/>	<input type="text"/>	<input type="text"/>	<input type="text"/>	٥٠
<input type="text"/>	<input type="text"/>	<input type="text"/>	<input type="text"/>	<input type="text"/>	<input type="text"/>	
٧٠	<input type="text"/>	<input type="text"/>	<input type="text"/>	<input type="text"/>	<input type="text"/>	





الحصة

أطرح :

$$= 6 - 7$$

$$= 2 - 6$$

$$= 3 - 5$$

$$= 2 - 8$$

$$= 3 - 3$$

اجمع :

$$= 5 + 1 + 2$$

$$= 1 + 3 + 7$$

$$= 6 + 4 + 5$$

$$= 3 + 2 + 6$$

$$= 0 + 8 + 2$$

رتب تنازلياً :

١٠ - ١٤ - ١٢ - ١٥

١٣ - ٢٠ - ١٩ - ١٧

رتب تصاعدياً :

١٠ - ١٤ - ١٢ - ١٥

١٣ - ٢٠ - ١٩ - ١٧

ضع علامة < أو > أو = :

$$4 + 2 \quad \square$$

خمسة

$$\text{سنة عشر} \quad \square$$

١٤

$$17 \quad \square$$

ثلاثة عشر

$$5 + 4 \quad \square$$

٩

اكتب العدد السابق والتالي :

$$\leftarrow 4 \rightarrow$$

$$\leftarrow 15 \rightarrow$$

$$\leftarrow 19 \rightarrow$$

$$\leftarrow 9 \rightarrow$$





الواجب

أطرح :

$$= 4 - 7$$

$$= 5 - 6$$

$$= 2 - 4$$

$$= 3 - 6$$

$$= 4 - 8$$

اجمع :

$$= 1 + 2 + 4$$

$$= 6 + 1 + 5$$

$$= 0 + 2 + 2$$

$$= 2 + 3 + 6$$

$$= 3 + 5 + 4$$

رتب تنازلياً :

١٣ - ١٤ - ١١ - ١٢

١٦ - ١٧ - ١٥ - ١٨

رتب تصاعدياً :

١٣ - ١٤ - ١١ - ١٢

١٦ - ١٧ - ١٥ - ١٨

ضع علامة < أو > أو = :

١٣ ١٧

اثنا عشر ١٨

٢٠

١٤

١٢

اكتب العدد السابق والتالي :

← ١٣ →

← ١١ →

← ١٧ →

← ٢٠ →





الحصة

أطرح :

اجمع :

$$= 6 - 8$$

$$= 1 + 2 + 4$$

$$= 4 - 5$$

$$= 2 + 6 + 4$$

$$= 1 - 4$$

$$= 2 + 7 + 1$$

$$= 5 - 7$$

$$= 6 + 2 + 3$$

$$= 6 - 9$$

$$= 2 + 2 + 9$$

رتب تنازلياً :

رتب تصاعدياً :

$$15 - 13 - 18 - 16$$

$$15 - 13 - 18 - 16$$

$$11 - 17 - 12 - 19$$

$$11 - 17 - 12 - 19$$

ضع علامة < أو > أو = :

$$16 \quad \square \quad 17$$

$$\leftarrow 18 \rightarrow$$

$$19 \quad \square \quad 15$$

$$\leftarrow 12 \rightarrow$$

$$13 \quad \square \quad 14$$

$$\leftarrow 14 \rightarrow$$

$$\square \quad 10$$

$$\leftarrow 19 \rightarrow$$

$$\square \quad 9$$





الواجب

أطرح :

$$= 6 - 4$$

$$= 3 - 2$$

$$= 5 - 3$$

$$= 7 - 5$$

$$= 9 - 3$$

اجمع :

$$= 3 + 6 + 3$$

$$= 1 + 4 + 7$$

$$= 2 + 3 + 5$$

$$= 7 + 0 + 4$$

$$= 3 + 2 + 6$$

رتب تنازلياً :

١٠ - ١٣ - ١١ - ١٤

٦ - ٥ - ٨ - ٩

رتب تصاعدياً :

١٠ - ١٣ - ١١ - ١٤

٦ - ٥ - ٨ - ٩

ضع علامة < أو > أو = :

١٢

١٤

١٧

ثمانية عشر

١١

١٥

١٩

اكتب العدد السابق والتالي :

← ١٣ →

← ١١ →

← ١٧ →

← ١٥ →





الحصة

أطرح :

$$= 5 - 7$$

$$= 3 - 8$$

$$= 6 - 9$$

$$= 4 - 6$$

اجمع :

$$= 7 + 4 + 1$$

$$= 8 + 2 + 3$$

$$= 4 + 2 + 9$$

$$= 4 + 1 + 5$$

مكونات العدد (٣) :

$$= 2 + 1$$

$$= 0 + 3$$

$$= 1 + 2$$

مكونات العدد (٢) :

$$= 1 + 1$$

$$= 0 + 2$$

$$= 2 + 0$$

رتب تنازلياً :

١٠ - ١١ - ٩ - ١٣

١٣ - ١٦ - ٨ - ١٧

رتب تصاعدياً :

١٠ - ١١ - ٩ - ١٣

١٣ - ١٦ - ٨ - ١٧

ضع علامة < أو > أو = :

١٥ أربعة عشر

١٣

ثمانية عشر

اكتب العدد السابق والتالي :

← ١٩ →

← ١٣ →

← ١٢ →

← ١٠ →





الواجب

أطرح :

$$= 1 - 7$$

$$= 4 - 5$$

$$= 6 - 8$$

$$= 2 - 6$$

اجمع :

$$= 7 + 1 + 3$$

$$= 0 + 6 + 5$$

$$= 4 + 2 + 7$$

$$= 3 + 1 + 9$$

مكونات العدد (٣) :

$$3 = \dots + 1$$

$$3 = 0 + \dots$$

$$3 = \dots + 2$$

مكونات العدد (٢) :

$$2 = \dots + 1$$

$$2 = \dots + 0$$

$$2 = \dots + 2$$

رتب تنازلياً :

$$16 - 18 - 12 - 14$$

$$17 - 19 - 13 - 11$$

رتب تصاعدياً :

$$16 - 18 - 12 - 14$$

$$17 - 19 - 13 - 11$$

ضع علامة < أو > أو = :

$$16 \quad \square \quad 18$$

$$عشرون \quad \square \quad 19$$

$$17 \quad \square \quad \text{اثنا عشر}$$

اكتب العدد السابق والتالي :

$$\leftarrow 19 \rightarrow$$

$$\leftarrow 13 \rightarrow$$

$$\leftarrow 17 \rightarrow$$





الحصة

أطرح :

$$= 2 - 3$$

$$= 3 - 4$$

$$= 2 - 5$$

$$= 6 - 7$$

اجمع :

$$= 0 + 1 + 3$$

$$= 4 + 5 + 2$$

$$= 3 + 1 + 6$$

$$= 2 + 7 + 4$$

مكونات العدد (٥) :

$$5 = \dots + 1$$

$$5 = \dots + 2$$

$$5 = \dots + 3$$

$$5 = \dots + 5$$

مكونات العدد (٤) :

$$4 = 3 + 1$$

$$4 = \dots + 2$$

$$4 = \dots + 4$$

رتب تنازلياً :

$$16 - 20 - 11 - 19$$

<input type="text"/>	<input type="text"/>	<input type="text"/>	<input type="text"/>
----------------------	----------------------	----------------------	----------------------

$$18 - 15 - 14 - 17$$

<input type="text"/>	<input type="text"/>	<input type="text"/>	<input type="text"/>
----------------------	----------------------	----------------------	----------------------

رتب تصاعدياً :

$$18 - 15 - 14 - 17$$

<input type="text"/>	<input type="text"/>	<input type="text"/>	<input type="text"/>
----------------------	----------------------	----------------------	----------------------

$$16 - 20 - 11 - 19$$

<input type="text"/>	<input type="text"/>	<input type="text"/>	<input type="text"/>
----------------------	----------------------	----------------------	----------------------

ضع علامة < أو > أو = :

$$\text{عشرة} \quad \boxed{} \quad 7+3$$

$$1+5 \quad \boxed{} \quad 6+9$$

$$17 \quad \boxed{} \quad 17$$

اكتب العدد السابق والتالي :

$$\leftarrow 14 \rightarrow$$

$$\leftarrow 16 \rightarrow$$

$$\leftarrow 18 \rightarrow$$





الواجب

★★ اجمع :-

٥ ٠ +	٨ ٣ +	٧ ٤ +	٨ ٥ +	٦ ٤ +
----------	----------	----------	----------	----------

★★ أكمل :-

٤١ - ٤ - ٤٣ ٤٧

★★ رتب تصاعدياً :-

٩ - ٥ - ٤ - ١ - ٧

★★ اكتب العدد :-

خمسة
 ستة
 سبعة

★★ اكتب العدد :-

صبري
 زياد
 أحمد

★★ اجمع :-

= ٣ + ٦
= ٤ + ٥
= ٠ + ٨
= ٩ + ٩
= ٥ + ١٠
= + ٤

★★ ضع علامة (<) أو (>) أو (=) :-

٧
٥ + ٤
٣ + ٣





الحصة

** اجمع :-

$$5 = \square + 3$$

$$7 = \square + **$$

$$8 = \square + 3$$

$$6 = \square + 3$$

** أكمل :-

$$31 \square \square \square ** - ** - 25$$

** اشترى سيف لعبة (٩) جنيهاً ، وكشكول (٣) جنيهاً كم دفع سيف؟

$$\text{دفع سيف} = \square + \square = \square \text{ جنيه}$$

** ضع علامة (<) أو (>) أو (=) **

$$5 - 7 \square ** + **$$

$$3 + 3 \square 5 - 8$$

$$3 + 1 \square ** - 6$$

** ضع علامة (+) أو علامة (-) :-

$$4 \square 1$$

$$4 = 3 \square 7$$

$$\text{صفر} = ** \square **$$

$$8 = 5 \square 3$$

** اجمع :-

$$= 3 + 9$$

$$= ** - 8$$

$$= 5 + 7$$

$$= 4 + 9$$

$$= 4 + 7$$

$$= 3 + 8$$

** اكتب العدد السابق :-

$$4 \longrightarrow$$

$$14 \longrightarrow$$

$$** \longrightarrow$$

$$34 \longrightarrow$$

$$44 \longrightarrow$$

$$54 \longrightarrow$$

$$64 \longrightarrow$$





الواجب

** اجمع :-

$$8 = \square + 8$$

$$7 = \square + 4$$

$$6 = \square + **$$

$$5 = \square + **$$

** أكمل :- ٤٩ ٤٥ - ٤٤ - ٤٣

** مع عبد الله (١٠) جنية ، اشترى ساعة (٨) جنية ، فكم تبقي معه ؟

الباقي = - = جنية

** ضع علامة (<) أو (>) أو (=) :-

<input type="text"/>	<input type="text"/>
٣ - ٥	١ + ٣
<input type="text"/>	<input type="text"/>
٦ - ٩	٥ - ٨
<input type="text"/>	<input type="text"/>
** + ٨	٣ + ٣

** ضع علامة (+) أو علامة (-) :-

٦ = ٣	<input type="text"/>	٣
٩ = ٠	<input type="text"/>	٩
٣ = ٥	<input type="text"/>	٨
٧ = ٥	<input type="text"/>	**

** اطرح :-

=	** - ١٠
=	٠ - ٨
=	٣ - ٩
=	١ - ٦
=	** - ٤
=	١ - ٥
=	٤ - ٧

** اجمع :-

=	٧ + ٧
=	٦ + ٦
=	٩ + ٩
=	١٠ + ١٠
=	٥ + ٥
=	٨ + ٨
=	٣ + ٣





الحصة

**** اجمع :-**

$$7 = \blacksquare + \square$$

$$8 = \square + 3$$

$$4 = 1 + \square$$

$$5 = 5 + \square$$

**** اكمل :-**

$$37 \square \square \square \quad 33 - 3 \blacksquare \blacksquare \blacksquare$$

**** مع ربيع (9) جنية ، اشترى قلم (3) جنية ، فكم تبقي مع ربيع ؟**

الباقي $\square = \square - \square =$ جنية

**** ضع علامة (<) أو (>) أو (=) :-**

\square	\square	\square	\square
$3 - 9$	\square	$\blacksquare + 4$	\square
\square	\square	\square	\square
$3 + 4$	\square	$5 - 8$	\square
\square	\square	\square	\square
$\blacksquare - 8$	\square	$3 + 5$	\square

**** ضع علامة (+) أو علامة (-) :-**

$4 = 3$	\square	1
$7 = 7$	\square	7
$7 = 5$	\square	**
$4 = 2$	\square	6

**** اطرح :-**

$= 5 - 8$
$= 1 - 6$
$= 4 - 9$
$= \blacksquare - 7$
$= 5 - 10$
$= 0 - 7$
$= \blacksquare - 5$

**** اجمع :-**

$= 3 + 5$
$= 3 + 4$
$= 5 + 3$
$= 6 + \blacksquare$
$= \blacksquare + 7$
$= 5 + 8$
$= 5 + 4$





الواجب

** اجمع :-

$8 = 3 + \square$

$3 = \square + 1$

$9 = 4 + \square$

$5 = \square + **$

** أكمل :- 38 - 37 - 36 - 35 - 34 - 33 - 32 - 31 - 30 - 29 - 28 - 27 - 26 - 25 - 24 - 23 - 22 - 21 - 20 - 19 - 18 - 17 - 16 - 15 - 14 - 13 - 12 - 11 - 10 - 9 - 8 - 7 - 6 - 5 - 4 - 3 - 2 - 1

** اشترت سلمى لعبة (8) جنية ومسدس (3) جنية فكم دفعت سلمى ؟

ما دفعته سلمى = $\square + \square =$ جنية

** ضع علامة (<) أو (>) أو (=) :-

<input type="checkbox"/>	$5 - 8$	<input type="checkbox"/>	$3 + 3$
<input type="checkbox"/>	$3 + 4$	<input type="checkbox"/>	$** + 5$
<input type="checkbox"/>	$** - 10$	<input type="checkbox"/>	$1 + 4$

** ضع علامة (+) أو علامة (-) :-

$6 = 3$	<input type="checkbox"/>	3
$6 = 4$	<input type="checkbox"/>	**
صفر = 8	<input type="checkbox"/>	8
$5 = 1$	<input type="checkbox"/>	6

** اطرح :-

$= 1 - 7$
$= 3 - 8$
$= ** - 9$
$= 5 - 10$
$= 3 - 7$
$= ** - 6$
$= 5 - 5$

** اجمع :-

$= 5 + 9$
$= 6 + 6$
$= 4 + 8$
$= 3 + 7$
$= 7 + 7$
$= 0 + 8$
$= ** + 9$





الحصة

اجمع :-

$$5 = 1 + \square$$

$$7 = \square + **$$

$$8 = 3 + \square$$

$$6 = \square + 5$$

**أكمل :-

$$41 \square \square \square 37 - 36 - 35$$

**مع شهد (9) جنية ، اشترت لعبة (5) جنية ، فكم تبقي مع شهد ؟

$$\text{المتبقي مع شهد} = \square - \square = \square \text{ جنيه}$$

**ضع علامة (<) أو (>) أو (=) :-

\square	$+$	4	\square	$+$	3	$+$	4
\square	$-$	9	\square	$-$	5	$-$	8
\square	$-$	8	\square	$+$	1	$+$	$**$

**ضع علامة (+) أو علامة (-) :-

$4 = 3$	\square	$**$
$6 = 4$	\square	$**$
$3 = 5$	\square	8
$6 = 3$	\square	9

**اطرح :-

$$= 3 - 8$$

$$= 6 - 6$$

$$= 1 - 4$$

$$= 0 - 7$$

$$= \square - 8$$

$$= 1 - 6$$

**اجمع :-

$$= 5 + 5$$

$$= 6 + **$$

$$= 3 + 3$$

$$= 4 + 8$$

$$= 8 + 7$$

$$= \square + 8$$

$$= 5 + 5$$





الواجب

★★ اجمع :-

$$7 = 3 + \square$$

$$4 = \square + 1$$

$$5 = 1 + \square$$

$$5 = \square + \square$$

★★ أكمل :- ٤٧ - ٤٨ - ٤٩ ٤٩ ٥٣

★★ اشترى علي مسدس (٨) ، وحلوى (٣) جنية ، فكم دفع علي ؟

مادفعه علي = $\square + \square =$ جنية

★★ ضع علامة (<) أو (>) أو (=) :-

\square	$5 - 8$	\square	$1 + 4$
\square	$5 - 9$	\square	$6 - 6$
\square	$5 + 10$	\square	$4 + 3$

★★ ضع علامة (+) أو علامة (-) :-

$6 = 3$	\square	٩
$4 = 0$	\square	٤
$8 = 3$	\square	٥
$9 = 7$	\square	★★

★★ اطرح :-

$= 1 - 7$
$= 5 - 8$
$= 6 - 6$
$= 0 - 9$
$= 3 - 9$
$= 4 - 7$
$= 3 - 8$

★★ اجمع :-

$= 5 + 9$
$= 3 + 6$
$= 8 + 8$
$= 4 + 7$
$= 9 + 9$
$= 5 + 5$
$= 0 + 8$





الحصة

★★ اجمع :-

$10 = \square + 8$

$8 = 3 + \square$

$6 = \square + 1$

$5 = \square + \square$

★★ اكمل :-

$82 \square \square \square 78 - 77 - 76$

★★ رتب تنازلياً :-

$6 - 14 - \square - 10 - 18 - 9 - 5 - 3$

★★ ضع علامة (<) أو (>) أو (=) :-

<input type="text"/>	5 - 10	<input type="text"/>	5 + 3
<input type="text"/>	1 + 3	<input type="text"/>	5 - 9
<input type="text"/>	6 - 8	<input type="text"/>	3 - 7

★★ ضع علامة (+) أو علامة (-) :-

7 = 5	<input type="text"/>	★★
2 = 4	<input type="text"/>	6
6 = 3	<input type="text"/>	3
6 = 4	<input type="text"/>	7

★★ اجمع :-

= 7 + 7
= 8 + 8
= 9 + 9
= 6 + 6
= 5 + 5
= 4 + 4
= 10 + 10

★★ اطرح :-

= - 7
= 1 - 8
= 3 - 3
= 4 - 4
= 5 - 9
= 4 - 6
= 5 - 7





الواجب

جمع: -

$5 = \square + 3$

$4 = 1 + \square$

$4 = \square + 1$

$5 = 3 + \square$

أكمل: ٨٩ ٨٥ - ٨٤ - ٨٣

رتب تصاعدياً: -

٣ - ٨ - ١ - ٩ - ٦ - ١٥ - - ٤

ضع علامة (<) أو (>) أو (=): -

$5 - 8$ $3 + 4$
 $7 - 7$ $6 - 6$
 $5 - 10$ $6 - 9$

ضع علامة (+) أو علامة (-): -

$7 = 3$ 4
 $6 =$ 8
 $6 =$ 6
 $6 = 5$ 1

اطرح: -

$= 3 - 7$
 $= 4 - 8$
 $=$ $- 6$
 $= 6 - 10$
 $= 5 - 8$
 $= 6 - 9$

جمع: -

$= 6 + 7$
 $= 6 + 9$
 $= 8 + 8$
 $= 0 + 9$
 $= 6 + 6$
 $= 4 + 7$





الحصة

اطرح: **

$5 = \square - 9$

$4 = 3 - \square$

$4 = \square - 6$

$3 = 5 - \square$

أكمل: **

$38 - 37 - 36$

رتب تنازلياً: **

$10 - 4 - 9 - 3 - 15 - 7 - 1$

□ □ □ □ □ □ □ □ □ □

ضع علامة (<) أو (>) أو (=): **

□

$3 - 10$

□

□

$4 + 3$

□

$3 + 4$

□

□

$1 - 6$

□

$** + 8$

□

□

$** - 8$

ضع علامة (+) أو علامة (-): **

$5 = 4 \square 9$

$10 = 5 \square 5$

$6 = 3 \square 9$

$4 = 1 \square 5$

اجمع: **

$= 6 + 6$

$= 5 + 7$

$= 4 + 8$

$= 3 + 9$

$= 7 + 7$

$= 6 + 8$

$= 5 + 9$

اطرح: **

$= 3 - 7$

$= \square - 4$

$= 5 - 5$

$= 1 - 4$

$= \square - 3$

$= 1 - 4$

$= \square - 5$





الواجب

**اطرح: -

$5 = \square - 10$

$7 = 5 - \square$

$4 = \square - 6$

$3 = 6 - \square$

**أكمل: - ٤٨ - ٤٩ - ٥٠ - ٥٤

**رتب تصاعدياً: -

٣ - ** - ٦ - ١٧ - ٩ - ١٠ - ٥ - ١ - ٤

**ضع علامة (<) أو (>) أو (=): -

$3 - 8$ $3 + 5$
 $4 - 9$ $4 + 9$
 $3 + 3$ $** - 8$

**ضع علامة (+) أو علامة (-): -

$6 = 3$ 3
 $12 = 6$ 6
 $4 = **$ 6
 $3 = 5$ 8

**اجمع: -

$= 5 + 5$
 $= 4 + 6$
 $= 3 + 7$
 $= ** + 8$
 $= 1 + 9$
 $= 3 + 6$
 $= ** + 7$

**اطرح: -

$= 5 - 9$
 $= 4 - 8$
 $= 3 - 7$
 $= ** - 6$
 $= 1 - 5$
 $= ** - 7$
 $= 4 - 9$





الحصة

**اطرح: -

5 = - 8
3 = - 9

4 = 3 -
5 = 1 -

**أكمل: -

63 - 64 - 65 69

**رتب تنازلياً: -

7-1** 1-8-3-9-5-4-10

**ضع علامة (<) أو (>) أو (=): -

3 - 8 3 + 4

7 - 7 6 - 6

9 - 3 + 3

**ضع علامة (+) أو علامة (-): -

7 = 3 4
6 = 5 1
7 = 7 7
4 = 5 9

**اطرح: -

= 3 - 6
= - 7
= 4 - 4
= 5 - 8
= 4 - 9
= 1 - 6
= 4 - 5

**اجمع: -

= 5 + 5
= 6 + 3
= 4 + 2
= 4 + 4
= 1 + 7
= + 8
= 4 + 9





الواجب

**اطرح: -

$5 = \square - 10$

$4 = 4 - \square$

$3 = \square - 8$

$7 = 3 - \square$

**أكمل: - ٧٧ - ٧٦ - ٧٥ - ٧٤ - ٧٣ - ٧٢ - ٧١

**رتب تصاعدياً: -

٩ - ٥ - ٣ - ١٤ - ٦ - ١ - ٧

□ □ □ □ □ □ □ □

**ضع علامة (<) أو (>) أو (=): -

$\square \quad \square$

$3 - 5 \quad \square$

$3 + 5 \quad \square$

\square

\square

$1 + 4 \quad \square$

$3 - 6 \quad \square$

\square

\square

$\square - 6 \quad \square$

$\square - \square$

**ضع علامة (+) أو علامة (-): -

$5 = 4 \quad \square \quad 1$

$\text{صفر} = \square \quad \square$

$5 = \square \quad \square \quad 7$

$6 = 3 \quad \square \quad 3$

**اطرح: -

$= 5 - 8$

$= 3 - 6$

$= 1 - 4$

$= 8 - 8$

$= 1 - 3$

$= \square - 4$

$= 1 - 6$

**اجمع: -

$= 7 + 7$

$= 4 + 4$

$= 6 + 6$

$= 10 + 10$

$= 5 + 5$

$= 8 + 8$

$= 9 + 9$





الحصة

اطرح: **

$$5 = \square - 7$$

$$\square = \square - 9$$

$$3 = 3 - \square$$

$$5 = \square - \square$$

أكمل: **

$$89 \square \square \square 85 - 84 - 83$$

رتب تصاعدياً: **

$$8 - 6 - 1 - \square - 9 - 5 - 1 - 3 - 4$$

ضع علامة (<) أو (>) أو (=): **

$$\square - 7 \square$$
$$\square + 6 \square$$
$$\square - 7 \square$$

$$\square + 3 \square$$
$$\square + 6 \square$$
$$\square - 9 \square$$

ضع علامة (+) أو علامة (-): **

$$3 = 1 \square 4$$

$$7 = 4 \square 3$$

$$4 = \square \square 6$$

$$6 = 1 \square 7$$

اطرح: **

$$= 3 - 7$$

$$= 4 - 8$$

$$= \square - 6$$

$$= \square - 8$$

$$= 3 - 9$$

$$= 1 - 7$$

اجمع: **

$$= 4 + 5$$

$$= 3 + 7$$

$$= 5 + 4$$

$$= \square + 7$$

$$= 4 + 4$$

$$= 5 + 3$$

$$= \square + \square$$





الواجب

** اطرح: -

$$5 = \square - 9$$
$$4 = \square - 6$$

$$4 = 4 - \square$$
$$3 = 5 - \square$$

** أكمل: ٩٢ ٨٨ - ٨٧ - ٨٦

** رتب تنازلياً: -

٤ - ١ - ** - ٦ - ١٠ - ١٥ - ٧ - ٣

** ضع علامة (<) أو (>) أو (=): -

$$4 - 10 \quad \square \quad ** + 4$$
$$5 + 8 \quad \square \quad 5 - 8$$
$$1 + ** \quad \square \quad 1 + 6$$

** ضع علامة (+) أو علامة (-): -

٧ = ٥ **

٥ = ٤ ١

٥ = ١ ٦

٤ = ٤ ٨

** اطرح: -

$$= 6 - 8$$
$$= 1 - 3$$
$$= ** - 4$$
$$= 3 - 5$$
$$= 5 - 9$$
$$= 4 - 8$$
$$= ** - 6$$

** اجمع: -

$$= 1 + 7$$
$$= 4 + 4$$
$$= 3 + 5$$
$$= ** - 6$$
$$= 1 + 8$$
$$= 3 + 6$$
$$= 4 + 5$$





الحصّة

** اطرح :-

$$5 = \square - \square$$
$$9 = \square - 4$$

$$4 = 3 - \square$$
$$5 = \square - 7$$

** أكمل :-

$$60 \square \square \square \quad 56 - 55 - 54$$

** رتب تصاعدياً :-

$$8 - 9 - 16 - 1 - 7 - 3 - 5 - \square$$

** ضع علامة (<) أو (>) أو (=) :-

$$\square - 8 \quad \square + 3$$
$$\square - 9 \quad \square + 9$$
$$\square + 7 \quad \square - 7$$

** ضع علامة (+) أو علامة (-) :-

$$5 = \square \quad 3$$
$$2 = 5 \quad \square \quad 7$$
$$7 = 3 \quad \square \quad 4$$
$$3 = 3 \quad \square \quad 6$$

** اكتب الكسر :-



** اكتب العدد :-

ستة
 واحد
 عشرة





الواجب

جمع: -

$2 = 4 - \square$

$3 = 1 + \square$

$5 = \square - 7$

$4 = \square - **$

أكمل: - ٣٨ - ٣٧ - ٣٦ - ٣٥ - ٣٤ - ٣٣ - ٣٢ - ٣١ - ٣٠ - ٢٩ - ٢٨ - ٢٧ - ٢٦ - ٢٥ - ٢٤ - ٢٣ - ٢٢ - ٢١ - ٢٠ - ١٩ - ١٨ - ١٧ - ١٦ - ١٥ - ١٤ - ١٣ - ١٢ - ١١ - ١٠ - ٩ - ٨ - ٧ - ٦ - ٥ - ٤ - ٣ - ٢ - ١ - ٠

رتب تنازلياً: -

٧ - ١ - ٦ - ١٠ - ٩ - ** - ١٤ - ٥ - ٤

ضع علامة (<) أو (>) أو (=): -

$5 - 6 > \square$
 $5 + 8 > \square$
 $5 - 10 > \square$

$** + 3 > \square$
 $5 - 8 > \square$
 $4 + 5 > \square$

ضع علامة (+) أو علامة (-): -

$6 = 3 \square 3$
 $3 = 5 \square 8$
 $4 = ** \square 6$
 $4 = 1 \square 5$

اكتب الكسر: -

اكتب العدد: -

ثلاثة
 تسعة
 أربعة





الحصة

**- اجمع :-

$4 = 3 - \square$

$4 = 3 + \square$

$5 = 1 - \square$

$5 = \square + 3$

**- أكمل :-

$4 \square \square \square 38 - 37 - 36$

**- رتب تنازلياً :-

$10 - 6 - 4 - 1 - 9 - 13 - 5 - 7$

**- ضع علامة (<) أو (>) أو (=) :-

$\square - 7 \square$
 $\square - 8 \square$
 $\square - \square \square$

$\square + 3 \square$
 $\square + 8 \square$
 $\square \square$
 4

**- ضع علامة (+) أو علامة (-) :-


$5 = \square \square 3$

$\square = 5 \square 7$

$7 = 3 \square 4$

$3 = 3 \square 6$

**- اكتب الكسر :-



**- اكتب العدد :-

سبعة

اثنان

تسعة

خمسة





الواجب

اشرح: -

$$4 = \square - 7$$
$$5 = \square - 7$$

اجمع: -

$$8 = 4 + \square$$
$$5 = 1 + \square$$

أكمل: - ٤٩ - ٤٨ - ٤٧ - ٥٣

رتب تنازلياً: -

٨ - ١١ - ٤ - ٩ - ١ - ٧ - ٣ - ٥

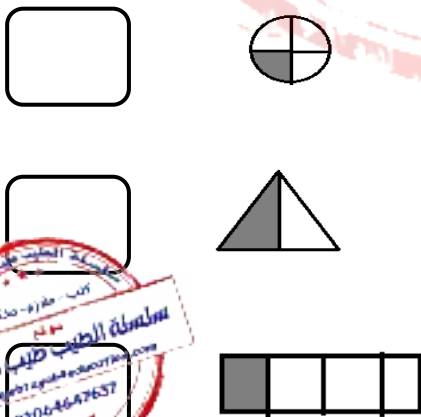
ضع علامة (>) أو (<) أو (=): -

$$\square + 3$$
$$5 + 9$$
$$5 - 8$$
$$\square = 7$$
$$5 - 9$$
$$3 + 3$$

ضع علامة (+) أو علامة (-): -

$$6 = 3 \square 3$$
$$7 = 5 \square **$$
$$\text{صفر} = 8 \square 8$$
$$4 = 5 \square 9$$

اكتب الكسر: -



اكتب العدد: -

واحد
عشرة
خمسة
اثان





الحصة

**- أكمل :-

3 = - 9

7 = 3 +

4 = - **

5 = + 3

**- أكمل :-

4 38 - 37 - 36

**- رتب تصاعدياً :-

8 - 1 - 6 - ** 9 - 11 - 5 - 7 - 4

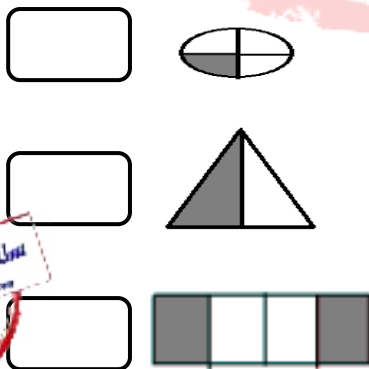
**- ضع علامة (<) أو (>) أو (=) :-

<input type="text"/> + 7	<input type="text"/>	<input type="text"/> + **
<input type="text"/> - 9	<input type="text"/>	<input type="text"/> + 9
<input type="text"/> - 6	<input type="text"/>	<input type="text"/> + 6

**- ضع علامة (+) أو علامة (-)

5 = 3	<input type="text"/>	8
صفر = 7	<input type="text"/>	7
4 = 1	<input type="text"/>	5
6 = 3	<input type="text"/>	3

**- اكتب الكسر :-



**- اكتب العدد :-

<input type="text"/>	واحد
<input type="text"/>	اثنان
<input type="text"/>	اربعة
<input type="text"/>	خمسة





الواجب

★★ أكمل :-

$8 = \square + 3$

$5 = \square + 7$

$3 = \square - 7$

$6 = 3 - \square$

★★ أكمل :- ٤٩ - ٤٨ - ٤٧ - ٤٦ - ٤٥

★★ رتب تنازلياً :-

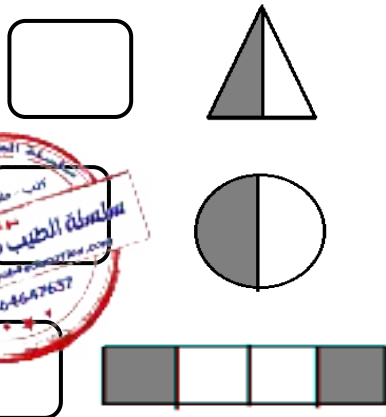
٤ - ٦ - ١ - ٧ - ١ - ٩ - ٥ - ٣

★★ ضع علامة (+) أو علامة (-) :-

$3 + 6$ $3 + 3$
 $3 + 4$ $5 - 1$
 $6 - 6$ $5 - 9$

$5 = 3$ ٨
 $7 =$ صفر ٧
 $4 = 1$ ٥
 $6 = 3$ ٣

★★ اكتب الكسر :-



★★ اكتب العدد :-

أربعة
 ستة
 واحد
 خمسة





الحصة

$$٤ = ٥ - \square$$

$$٦ = ٣ + \square$$

$$١ = \square - ٧$$

$$٧ = \square + ٣$$

***أكمل: -

$$٥٢ \square \square \square ٤٨ - ٤٧ - ٤٦$$

***مع احمد (١٠) جنية، اشترى ساعة (٨) جنية، فكم تبقي مع أحمد؟

الباقي = $\square - \square = \square$ جنية

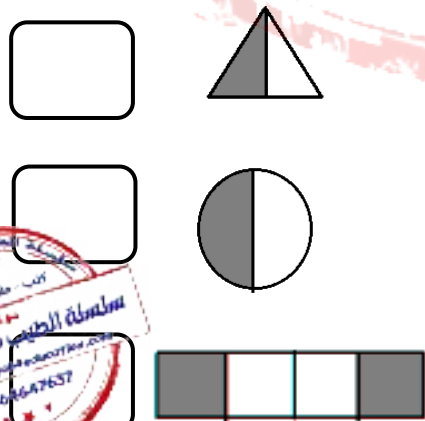
***ضع علامة (<) أو (>) أو (=):

\square	\square
$٤ - ٩$	$٣ + ٤$
\square	\square
$٠ - ٦$	$٠ + ٦$
\square	\square
$٤ - ٨$	$٤ + ٨$

***ضع علامة (+) أو علامة (-):

$٧ = ٤$	\square	٣
$٤ =$	\square	\square
$٣ = ٥$	\square	٨
صفر = ٦	\square	٦

***اكتب الكسر: -



***اكتب العدد: -

خمسة
اثان
عشرة
ثلاثة





الواجب

** أكمل: - ٥٧ - ٥٨ - ٥٩ □ □ □ ٦٣

** اشترى محمود كشكول (٧) جنية ، وقلم (** جنية ، فكم دفع محمود ؟

مادفعه محمود = □ - □ = □ جنية

** ضع علامة (+) أو علامة (-): - ** ضع علامة (<) أو (>) أو (=): -

□ + ٩	□	□ + ٩	□
□ + ٨	□	□ - ٨	□
□ - ١	□	□ - ٢	□

** ٨ = ٦ □

٥ = ١ □ ٤

٦ = ٣ □ ٩

** □ = ١ □ ٣

** اكتب الكسر: -

□	
□	
□	

** اكتب العدد: -

□ أربعة

□ ستة

□ واحد

□ خمسة





الحصة

أكمل : - ٥٦ - ٥٧ - ٥٨ ٦

**رتب تنازلياً :-

٣ - ٦ - ٥ - ١** - ٧ - ١ - ٨ - ١٠ - ٤

**ضع علامة (<) أو (>) أو (=) :-

٣ - ٩ ٣ + ٣
 + ٣ ١ - ٥
١ - ٤ ١ -

**ضع علامة (+) أو علامة (-) :-

٣ ٣ = ٤
٨ ٨ = صفر
 ٣ = ٥ **
٩ ٤ = ٥

**ضع العدد السابق والعدد التالي :-

← ٣٥ →
← ٤٥ →
← ٥٥ →
← ٦٥ →

**اكتب العدد :-

واحد
 اثنان
 اربعة
 خمسة





الواجب

**أكمل:- ٦٩ □ □ □ ٦٥ - ٦٤ - ٦٣

**رتب تصاعدياً:-

٩ - ٤ - ٦ - ٣ - ١١ - ٥ - ** - ٧

□ □ □ □ □ □ □ □



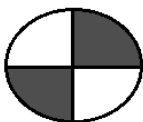
**ضع علامة (<) أو (>) أو (=): -

□ + ٦ □
□ - ٨ □
□ - ١ □
□ + ٤ □
□ + ٨ □
□ - ١ □

**ضع علامة (+) أو علامة (-): -

٥ = ٥ □ ٠
٥ = ** □ ٧
٦ = ٣ □ ٣
٤ = ٤ □ ٨

**اكتب الكسر:-

□ 
□ 
□ 

**اكتب العدد:-

□ اثنان
□ واحد
□ ثمانية
□ أربعة





الحصة

** اجمع: -

$\begin{array}{r} 3 \\ \text{---} \\ \text{**} \end{array}$	$\begin{array}{r} 8 \\ \text{---} \\ 0 + \end{array}$	$\begin{array}{r} 8 \\ \text{---} \\ 3 + \end{array}$	$\begin{array}{r} 7 \\ \text{---} \\ 0 + \end{array}$
---	---	---	---

** أكمل: - ١٨ - ١٩ - ** ٢٤

** رتب تنازلياً: -

٥ - ٣ - ٧ - ١٤ - ٩ - صفر - ١ - ٦ - ١٠

** اجمع: -

= ٤ - ٧

= ٥ + ٨

** اطرح: -

= ٤ - ٧

= ١ - ٨

** ضع علامة (<) أو (>) أو (=): -

١٥ ٩

٧ ٧

٣ ١٠

٤ ٨

** عد الحروف: -

<input type="text"/>	سماح
<input type="text"/>	حين
<input type="text"/>	سجد
<input type="text"/>	عامر

** ضع العدد السابق والعدد التالي: -

← ٢٤ →

← ٣٦ →

← ٤٨ →

← ٥٦ →

← ٢٨ →

** اكتب العدد: -

<input type="text"/>	سنة
<input type="text"/>	اثنان
<input type="text"/>	اربعة
<input type="text"/>	خمسة





الواجب

** اجمع :-

٥ ٢ +	** ** -	٧ ٠ +	٩ ٠ +	٤ ٣ +
----------	------------	----------	----------	----------

** أكمل :- ** - ** - ** ٣٣

** رتب تصاعدياً :-

٤ - ٦ - **	٣ - ٩ - ٧ - ١ - ١٥ - ٨ - **
<input type="text"/>	<input type="text"/> <input type="text"/> <input type="text"/> <input type="text"/> <input type="text"/> <input type="text"/> <input type="text"/>

** اجمع :- ** ضع علامة (<) أو (>) أو (=) :-

٧ <input type="text"/> ٣	= ٤ + ٧
٩ <input type="text"/> ١٨	= ٥ + ٨
١٦ <input type="text"/> ١٦	= ٤ + ٩
	= ٣ + ٦

** اكتب عدد الحروف :-

<input type="text"/>	سماح
<input type="text"/>	هاجر
<input type="text"/>	نور

** اكتب العدد :-

<input type="text"/>	ثلاثة
<input type="text"/>	سبعة
<input type="text"/>	تسعة





الحصة

** اجمع :-

٥ ٣ + _____	٧ ٤ + _____	٩ ٥ + _____	٦ ٤ + _____
-------------------	-------------------	-------------------	-------------------

** أكمل :- ٣٧ - ٣٨ - ٣٩ ٤٣

** رتب تصاعدياً :-

٣ - ١٠ - ٤ - ٦ - ١ - ٨ - ١** - ٩ - ٧ - ٥

** ضع علامة (<) أو (>) أو (=) :-

٩ ١٣
٨ ٨
٧ ٥
١** ١٠

** اجمع :-

= ٧ + ٩
= ٩ + ٨
= ٤ + ٤
= ١ + **

** ضع العدد السابق والعدد التالي :-

← ٥ →
← ** →
← ٣٥ →
← ٤٥ →
← ٥٥ →
← ٦٥ →

** عد الحروف :-

عشرة
 واحد
 خمسة
 سبعة

** اكتب العدد :-

ثلاثة
 عشرة
 روان





الواجب

** اجمع :-

٣ ٠ +	٨ ٦ +	٦ ٥ +	٥ ٤ +	٩ ** +
----------	----------	----------	----------	-----------

** أكمل :- ٥٠ - ٥١ - ٥٢ ٥٦ □ □ □

** رتب تنازلياً :-

٥	٤	٦	٨	١٧	١٥	١	٩	٣
□	□	□	□	□	□	□	□	□

** ضع علامة (<) أو (>) أو (=) :-

١** □	١٣
٩ □	٩
١٠ □	٨
١٤ □	١٥

** اجمع :-

= ٣ + ٣
= ٣ + ٤
= ٠ + ٨
= ١ + ٥

** اكتب عدد الحروف :-

□	سعيد
□	رقية
□	روان
□	أمينة

** اكتب العدد :-

□	سبعة
□	اثنان
□	تسعة
□	أربعة





الحصة

**- اجمع :-

٨ ٠ + _____	٩ ٥ + _____	٦ **- _____	٥ ٤ + _____
-------------------	-------------------	-------------------	-------------------

**- أكمل :- ٤٠ - ٣٩ - ٣٨ - ٤٤

**- رتب تصاعدياً :-

٥ - ٩ - ٣ - ٧ - ١١ - ١٤ - ٦ - ٨ - ١٠ - ١٢

**- ضع علامة (<) أو (>) أو (=) :-

٧	<input type="text"/>	١
١٥	<input type="text"/>	١٨
٣	<input type="text"/>	٩
١٦	<input type="text"/>	١**-

**- ما عدد الحروف :-

<input type="text"/>	ماهر
<input type="text"/>	اسمه
<input type="text"/>	نبيل

**- ضع العدد السابق والعدد التالي :-

←	٤٧	→
←	١٧	→
←	**-	→
←	٣٧	→
←	٥٧	→
←	٦٧	→
←	٧٧	→

**- اكتب الكسر :-

<input type="text"/>	
<input type="text"/>	
<input type="text"/>	





الواجب

**اجمع:-

٦ ٠ + _____	٧ ٥ + _____	٩ ** + _____	٦ ٥ + _____	٨ ٤ + _____
-------------------	-------------------	--------------------	-------------------	-------------------

**أكمل:- ٤٦ - ٤٧ - ٤٨

**رتب تنازلياً:-

٦	١٠	٤	٥	٨	١٣	١٩	٧	٣
<input type="text"/>	<input type="text"/>	<input type="text"/>	<input type="text"/>	<input type="text"/>	<input type="text"/>	<input type="text"/>	<input type="text"/>	<input type="text"/>

**ضع علامة (<) أو (>) أو (=):-

١٨	<input type="text"/>	١٣
١٥	<input type="text"/>	١٥
٩	<input type="text"/>	١**
٧	<input type="text"/>	٦

**ما عدد الحروف:-

<input type="text"/>	أنا
<input type="text"/>	أحب
<input type="text"/>	جاري

**اكتب الكسر:-

<input type="text"/>	
<input type="text"/>	
<input type="text"/>	

**اكتب العدد:-

<input type="text"/>	ثلاثة
<input type="text"/>	تسعة
<input type="text"/>	ثمانية
<input type="text"/>	اثان





الحصة

** اجمع: -

٨ ٠ +	٧ ٥ +	٩ ٤ +	٦ ٣ +
----------	----------	----------	----------

** أكمل: -

٤ ٣٨ - ٣٧ - ٣٦

** رتب تنازلياً: -

١٠ - ٨ - ١ - ٤ - ١ - ١٦ - ٣ - ١٩ - ٧ - ٥

** اشترى احمد كتاب (٧) جنية ، وقلم (٣) جنية ، ما دفع أحمد ؟

مادفة أحمد = + = جنية




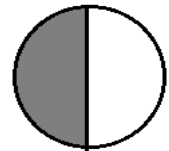
** ضع علامة (<) أو (>) أو (=): -

١٥	<input type="text"/>	١٣	<input type="text"/>
<input type="text"/>	١٠	١ + ٦	<input type="text"/>
٣ -	<input type="text"/>	٧	<input type="text"/>

** اكتب العدد: -

<input type="text"/>	ثلاثة
<input type="text"/>	أربعة
<input type="text"/>	سنة

** اكتب الكسر: -





الواجب

** اطرح: -

**	٧	٧	٨	٨
٠ -	١ -	٤ -	** -	** -

** أكمل: - ٤٧ - ٤٨ - ٤٩

** رتب تصاعدياً: -

٦ - ٣ - ٩ - ١٥ - ١٠ - ٤ - ٧ - ٢ - ١**

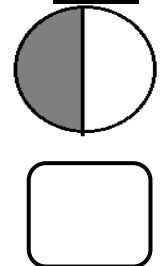
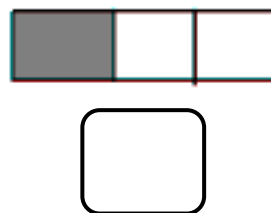
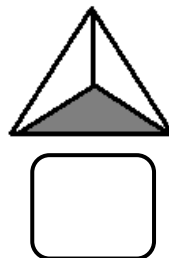
** اشترى أحمد لعبة (٥) جنية ، ومسدس (٣) جنيهاً ، فكم دفع أحمد؟

مادفعه أحمد = + = جنية

** ضع علامة (<) أو (>) أو (=):

<input type="checkbox"/>	سبعة	<input type="checkbox"/>	٨ + ٦	<input type="checkbox"/>	**
<input type="checkbox"/>	واحد	<input type="checkbox"/>	٥ + ١	<input type="checkbox"/>	٤
<input type="checkbox"/>	تسعة	<input type="checkbox"/>	٦ + ٣	<input type="checkbox"/>	٩
<input type="checkbox"/>	ثلاثة	<input type="checkbox"/>	** ١	<input type="checkbox"/>	٣

** اكتب الكسر: -





الحصة

**اجمع: -

٦ ٥ +	٧ ٠ +	٩ ** -	٧ ٤ +
----------	----------	-----------	----------

**أكمل: -

٥٥ □ □ □ ٥١ - ٥٠ - ٤٩

**رتب تصاعدياً: -

٦ - ١ - ٥ - ٣ - ١٠ - ١** - ١٧ - ٨ - ٩
□ □ □ □ □ □ □ □

**اشترى زياد ساعة (٩) جنيهات، و حزام (٥) جنيهات، ما دفع زياد؟

مادفة زياد = □ + □ = □ جنية


**ضع علامة (<) أو (>) أو (=): -

٧ □	□	١ + ٣ □	□
١ + ٣ □	□	١ + ٦ □	□
** - ٣ □	□	٩ □	□

**اكتب العدد: -

ستة □
أربعة □
واحد □

**اكتب الكسر: -





الواجب

** اجمع :-

٨ ٤ + _____	٦ ٣ + _____	٩ ٠ + _____	٨ ** + _____	٧ ٥ + _____
-------------------	-------------------	-------------------	--------------------	-------------------

** أكمل :- ** ٣٥ □ □ □ ٣١ - ٣٠ -

** رتب تنازلياً :-

٤ -	٨ -	**	٩ -	١٣ -	٣ -	١٦ -	٧ -	٥ -
□	□	□	□	□	□	□	□	□

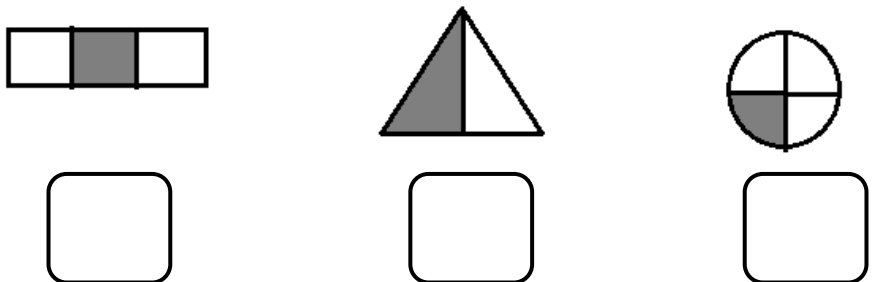
** اشترى محمود كرة (٨) جنيهات ، وقلم (٤) جنيهات ، فكم دفع محمود ؟

مادفعه محمود = □ + □ = □ جنيهات

** ضع علامة (<) أو (>) أو (=) :- ** اكتب العدد :-

□	ثمانية	□	٥	□	١ + ٤	□
□	سبعة	□	** ٣	□	٤	□
□	تسعة	□	٣ + ٥	□	٦	□

** اكتب الكسر :-





الحصة

**- اجمع :-

6 - **	9 + 0	7 + 4	6 + 3
--------------	-------------	-------------	-------------

**- أكمل :-

64 60 - 59 - 58

**- رتب تصاعدياً :-

4 - 6 - 8 - 1 - 9 - 1 - 15 - 7 - 3

**- اشترى أحمد طائرة (8) جنيهات، وكرة (4) جنيهات، ما دفع أحمد؟

مادفة أحمد = + = جنية

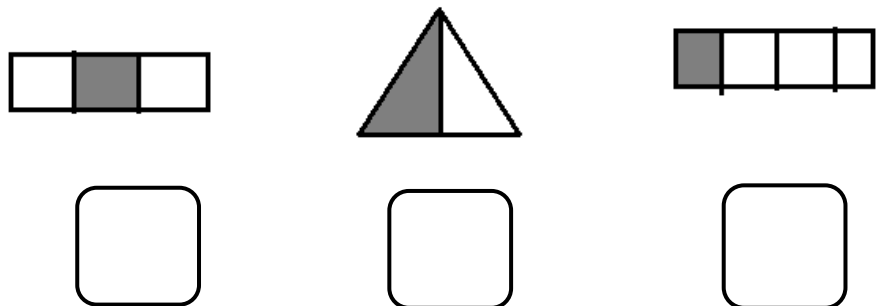
**- ضع علامة (<) أو (>) أو (=) :-

9	<input type="text"/>	3	<input type="text"/>
3 + 4	<input type="text"/>	7	<input type="text"/>
0 + 6	<input type="text"/>	9	<input type="text"/>

**- اكتب العدد :-

ستة
 واحد
 سبعة

**- اكتب الكسر :-





الواجب

** اجمع :-

٧ + **	٦ + ٠	٩ + ٤	٨ + ٦	٧ + ٣
--------------	-------------	-------------	-------------	-------------

** أكمل :- ٦٩ □ □ □ ٦٥ - ٦٤ - ٦٣

** رتب تنازلياً :-

١٠ - ٥ - ١ - ٨ - ٤ - ١٧ - ١** - ٩ - ٣ - ٦
□ □ □ □ □ □ □ □




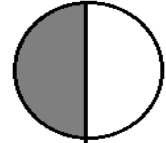
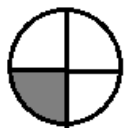
** اشترت ياسمين كتاب (٩) جنية ، وكشكول (٥) جنية ، فكم دفعت ياسمين ؟

مادفعته ياسمين = □ + □ = □ جنية

** ضع علامة (<) أو (>) أو (=) :-

□	ثمانية	٤	□	١ + ٣	□
□	أربعة	٩	□	٠ + ٧	□
□	خمسة	□	□	٠ + ٨	١٠

** اكتب الكسر :-





الحصة

** اجمع :-

٧ ٥ +	٧ ٠ +	٩ ٤ +	٦ ٣ +
----------	----------	----------	----------

** أكمل :-

٧٩ ٧٥ - ٧٤ - ٧٣

** رتب تنازلياً :-

٤ - ٥ - ٩ - ١٣ - ١٠ - ٧ - ٦ - ** *

** اشترت رقية عروسة (٨) جنيهات ، وتوكة (٣) جنيهات ، ما دفعت رقية ؟

مادفعته رقية = + = جنية

** ضع علامة (<) أو (>) أو (=) :-

<input type="text"/>	٩	<input type="text"/>	٥ +	<input type="text"/>
<input type="text"/>	٤ +	<input type="text"/>	٣ + ٣	<input type="text"/>
<input type="text"/>	٣ -	<input type="text"/>	٧	<input type="text"/>

** اكتب العدد :-

ثلاثة

خمسة

سنة

** ظلل الكسر :-

$\frac{1}{**}$

$\frac{1}{3}$





الواجب

** اجمع :-

٨ ٠ +	٦ ٣ +	٩ ٤ +	٨ ٥ +	٧ ٣ +
----------	----------	----------	----------	----------

** أكمل: ٧٤ □ □ □ ٧٠ - ٦٩ - ٦٨

** رتب تصاعدياً :-

٦	١٠	٩	١٢	٥	**	١٨	٧	٣
□	□	□	□	□	□	□	□	□

** اشترى زياد مسدس (١٠) جنيهاً، وكرة (٤) جنيهاً، فكم دفع زياد ؟

مادفعه زياد = □ + □ = جنيته

** اكتب العدد :-

□	ثمانية
□	عشرة
□	أربعة

** ضع علامة (<) أو (>) أو (=) :-

□	٥ + ٤	□	٦
□	٠ + ٨	□	٤ + ٤
□	١٠	□	٤ + ٣

** اكتب الكسر :-

□	□	□





الحصة

** اجمع: -

٦ ٠ +	٧ ٠ +	٨ ٣ +	٦ ٤ +
----------	----------	----------	----------

** أكمل: -

٦٤ ٦٠ - ٥٩ - ٥٨

** رتب تصاعدياً: -

٣ - ٧ - ١٥ - ١٠ - ٩ - ١ - ٤ - ٦ - **

** اشترى عمر كتاب (١٠) جنيهاً ، وساعة (٧) جنيهاً ، ما دفع عمر ؟

مدفوعه عمر = + = جنية

** ضع علامة (<) أو (>) أو (=) :-

٩	<input type="text"/>	٣ - **	<input type="text"/>
٥ + ٣	<input type="text"/>	٨	<input type="text"/>
** - ٤	<input type="text"/>	٧ + ٠	<input type="text"/>

** اكتب العدد: -

ستة


واحد

اثنان

** ظلل الكسر: -



$\frac{1}{3}$



$\frac{1}{2}$ **





الواجب

** اجمع: -

٧ ٤ +	٩ ٠ +	٦ ٣ +	٨ ٥ +	٧ ** +
----------	----------	----------	----------	-----------

** أكمل: - ٣٨ - ٣٧ - ٣٦ - ٣٥ - ٣٤ - ٣٣ - ٣٢ - ٣١ - ٣٠ - ٢٩ - ٢٨ - ٢٧ - ٢٦ - ٢٥ - ٢٤ - ٢٣ - ٢٢ - ٢١ - ٢٠ - ١٩ - ١٨ - ١٧ - ١٦ - ١٥ - ١٤ - ١٣ - ١٢ - ١١ - ١٠ - ٩ - ٨ - ٧ - ٦ - ٥ - ٤ - ٣ - ٢ - ١ - ٠

** رتب تنازلياً: -

٧	٣	٨	١	١	٩	٤	٥	٦
<input type="text"/>	<input type="text"/>	<input type="text"/>	<input type="text"/>	<input type="text"/>	<input type="text"/>	<input type="text"/>	<input type="text"/>	<input type="text"/>

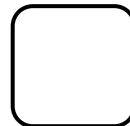
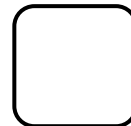

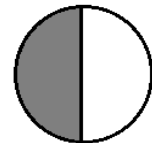
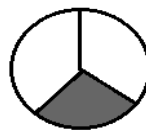
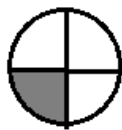
** اشترى أحمد لعبة (٨) جنيهات ، وطائرة (٥) جنيهات ، فكم دفع أحمد؟

مادفعه أحمد = + = جنيه

** ضع علامة (<) أو (>) أو (=): - ** اكتب العدد: -

<input type="text"/>	ثمانية	<input type="text"/>	٣ + ٥	<input type="text"/>	٠ + ٦	<input type="text"/>
<input type="text"/>	عشرة	<input type="text"/>	٦ + ٦	<input type="text"/>	٠ + ٩	<input type="text"/>
<input type="text"/>	سنة	<input type="text"/>	٣ + ٤	<input type="text"/>	١٠	<input type="text"/>

** اكتب الكسر: -





الحصة

**اجمع: -

$\begin{array}{r} 9 \\ + \\ \hline \end{array}$	$\begin{array}{r} 8 \\ + \\ \hline \end{array}$	$\begin{array}{r} 8 \\ + 5 \\ \hline \end{array}$	$\begin{array}{r} 9 \\ + 4 \\ \hline \end{array}$
---	---	---	---

**أكمل: -

٤١ - ٤٣ - ٤٧

**رتب تصاعدياً: -

٤ - ٥ - ١١ - ٣ - ١٧ - ٨ - ٩ - ٦ - ١

**اشترى شريهان عروسة (١٠) جنيهات، وتوكة (٤) جنيهات، ما دفعت شريهان؟

مادفعه شريهان = + = جنية

**ضع علامة (<) أو (>) أو (=): -

<input type="text"/>	$10 + 0$	<input type="text"/>	$7 + 3$	<input type="text"/>
<input type="text"/>	9	<input type="text"/>	$8 + 5$	<input type="text"/>
<input type="text"/>	3	<input type="text"/>	$6 + 0$	<input type="text"/>


**اكتب العدد: -

خمسة

واحد

تسعة

**اكتب الكسر: -





الواجب

** اجمع :-

8 + 0	6 + 0	9 + 5	7 + 4	8 + 6
-------------	-------------	-------------	-------------	-------------

** أكمل :- 35 - 36 - 37 41

** رتب تنازلياً :-

5 - 3 - 6 - 14 - 8 - 10 - 9 - 7

** اشترى عمرو طائرة (9) جنيهات ، وزمارة (5) جنيهات ، فكم دفع عمرو ؟

مادفعه عمرو = + = جنيه

** اكتب العدد :-

ثلاثة

ثمانية

خمسة

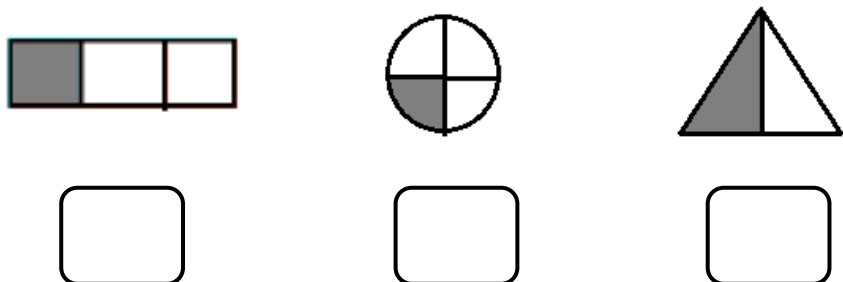
** ضع علامة (<) أو (>) أو (=) :-

- 4 3 + 5

+ 3 0 + 5

4 + 6 11

** اكتب الكسر :-





الحصة

** اجمع: -

٥ ٠ +	٨ ٤ +	٩ ٠ +	٦ ٣ +
----------	----------	----------	----------

** أكمل: -

٥١ - ٥٣ - ٥٧

** رتب تصاعدياً: -

٨ - ١٠ - ٩ - ٧ - ٦ - ٣ - ١٤ - ٥ - **

** اشترى محمود كتاب (١٠) جنيهات، وكراصة (٤) جنيهات، ما دفعت محمود؟

مادفعه محمود = + = جنية

** ضع علامة (<) أو (>) أو (=): -

<input type="text"/>	٧	<input type="text"/>	٤ + **	<input type="text"/>
<input type="text"/>	٣ + ٦	<input type="text"/>	٥ + ٨	<input type="text"/>
<input type="text"/>	٣ + ٥	<input type="text"/>	١٠	<input type="text"/>

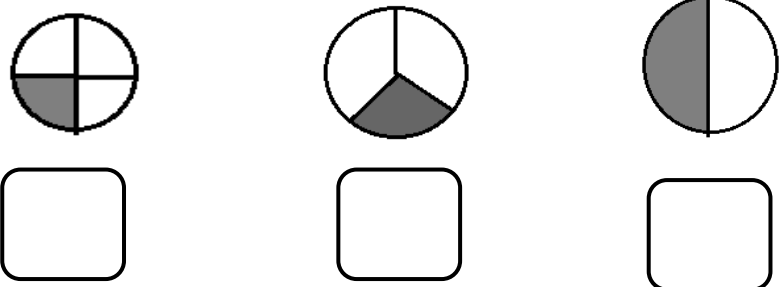
** اكتب العدد: -

ثلاثة

أربعة

خمسة

** اكتب الكسر: -





الواجب

** اجمع :-

٦ ٠ + _____	٩ ** + _____	٥ ٤ + _____	٧ ٧ + _____	٨ ٦ + _____
-------------------	--------------------	-------------------	-------------------	-------------------

** أكمل :- ٦٥ □ □ □ ٦١ - ٦٠ - ٥٩

** رتب تنازلياً :-

٦ - ٣ - ١ - ٨ - ١٧ - ١١ - ٩ - ٤

□ □ □ □ □ □ □ □

** اشترى زياد ساعة (٩) جنيهاً، وحزام (٥) جنيهاً، فكم دفع زياد ؟

مادفعه زياد = □ + □ = □ جنيه

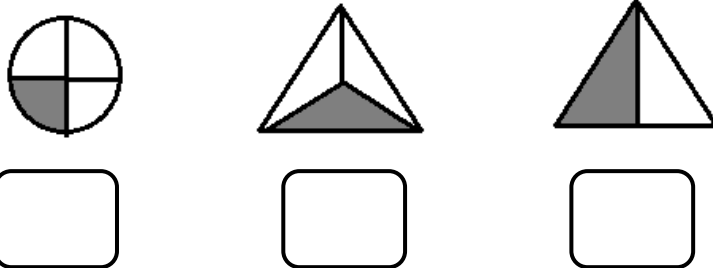
** اكتب العدد :-

□ سبعة
□ اثنان
□ عشرة

** ضع علامة (<) أو (>) أو (=) :-

□ □ □ □ □ □ □ □
٤ + ٤ □ □ □ □ □ □ □ □
□ □ □ □ □ □ □ □
□ □ □ □ □ □ □ □
٤ + ٦ □ □ □ □ □ □ □ □

** اكتب الكسر :-





الحصة

** اكتب العدد السابق والتالي: -

← ** →

← ٣٨ →

← ٤٨ →

← ** →

← ** →

← ٤٦ →

** أكمل: - ٨٣ - ٨٤ - ٨٥ □ □ □ ٨٩

** رتب تنازلياً: -

٣ - ١ - ٥ - ١٩ - ٦ - ١ - ١٠ - ٧
□ □ □ □ □ □ □ □

** اشترت هاجر ساعة (٨) جنية ، وتوكة (٤) جنية ، ما دفعت هاجر؟

مادفعته هاجر = □ + □ = □ جنية

** اكتب العدد السابق: - ** ضع علامة (<) أو (>) أو (=): -

□ ١
**
□ ٤
**
□ ٣
**

٣٥ →
٤٦ →
٤٨ →
٥٧ →
٥٩ →

** اكتب الكسر: -

□ □ □

□ □ □

□ □ □

□

□

□





الواجب

** اجمع :-

= ٠ + ٨

= ٥ + ٦

= ٤ + ٥

= ٧ + ٧

** أكمل :- ٣٨ ٣٤ - ٣٣ - **

** رتب تصاعدياً :-

٦ - ٤ - ٨ - ١ - ١٠ - ٧ - ** - ٣ - ٥

** اشترت هالة ساعة (١٠) جنيهاً، وعروسة (٧) جنيهاً، فكم دفعت هالة ؟

مادفعته هالة = + = جنيه

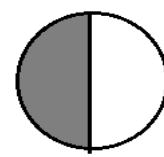
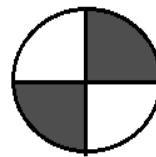
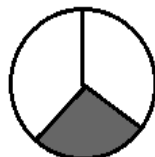
** ضع علامة (<) أو (>) أو (=) :-

$\frac{1}{3}$
 $\frac{3}{4}$
 $\frac{1}{3}$

** اكتب العدد السابق :-

٤٧ →
 ٥٩ →
 ٤٩ →
 ٦٥ →

** اكتب الكسر :-





الحصة

** اكتب العدد التالي :-

← ٣٥

← ٤٦

← ٥٧

← ٦٨

** اكتب العدد السابق :-

١٦ →

١٧ →

٣٥ →

٣٤ →

** أكمل :- ٨٥ - ٨٤ - ٨٣ - ٨٢ - ٨١

** رتب تنازلياً :-

٣ - ١١ - ٥ - ١٩ - ١ - ٦ - ١٠ - ٧

** اشترت روان ساعة (٨) جنيه ، وتوكة (٤) جنيه ، ما دفعت روان ؟

مادفعته روان = + = جنية

** ضع علامة (<) أو (>) أو (=) :-

$\frac{1}{3}$

$\frac{1}{4}$

$\frac{1}{3}$

** اكتب العددين السابق والتالي :-

← ٣٥ →

← ٤٥ →

← ٥٥ →

← ٦٥ →

← ٧٥ →

← ٨٥ →

← ٩٥ →

** اكتب الكسر :-





الواجب

** اوجد الناتج: -

$$= 5 - 6$$

$$= ** - 7$$

$$= 3 - 8$$

$$= 4 - 9$$

$$= 7 + 7$$

$$= 4 + 8$$

$$= 3 + 10$$

$$= 0 + 5$$

** أكمل: - 38 34 - 33 - 32

** رتب تصاعدياً: -

$$6 - 4 - 8 - 1 - 10 - 7 - 11 - 3 - 5$$

** اشترى عمر مسدس (10) جنيهاً، وكرة (6) جنيهاً، فكم دفع عمر؟

مادفعه عمر = + = جنيه

** ضع علامة (<) أو (>) أو (=): -

$$\frac{1}{2} \quad \square \quad \frac{1}{4}$$

$$\frac{1}{3} \quad \square \quad 1$$

$$\frac{1}{2} \quad \square \quad \frac{1}{2}$$

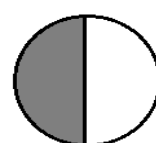
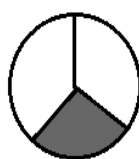
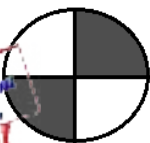
** اكتب العدد: -

ثمانية

خمسة

ثلاثة

** اكتب الكسر: -





الحصة

** اكتب العدد السابق :-

٥٨ →
٥٦ →
٤٦ →
٦٦ →

٤٩ →
٤٧ →
٥٧ →
٦٧ →

٥ →
١٥ →
٢٥ →
** →

** أكمل :-

٩١ □ □ □ ٨٨ - ٨٧ - ٨٦

** رتب تنازلياً :-

١٦ - ٤ - ٩ - ١ - ٧ - ١** - ٥ - ٣

□ □ □ □ □ □ □ □

** مع مروة (٩) جنيه اشترت لعبة (٣) ، فكم تبقي معها؟

الباقى = □ - □ = □ جنيه

** ضع علامة (<) أو (>) أو (=) :-

□ □
٣ - ٩ □ ** ٣
□ □
٨ - ٨ □ ٧ - ٧
□ □
** - ** □ ٣ + ٤

** اكتب العدد التالي :-

← ٦٨
← ٧٨
← ٨٨
← ٩٨
← ٤٨
← **

** اجمع :-

= ٣ + ٧
= ٤ + ٨
= ٥ + ٩



= ٤ + ٦
= ٠ + ٧
= ** + ٨





الواجب

** اوجد الناتج :-

$$= 5 + 6$$

$$= 7 + 7$$

$$= 0 + 9$$

$$= 4 + 5$$

$$= 4 - 9$$

$$= 0 - 5$$

$$= ** - 8$$

$$= 6 - 6$$

** أكمل :- 38 34 - 33 - 3**

** مع مينا (8) جنيهات ، اشترت قلم (** جنيه) ، فكم تبقي معها ؟

البقي = + = جنيه

** ضع علامة (<) أو (>) أو (=) :-

$$** - 3$$

$$** - 6$$

$$1 + 3$$

$$5 - 9$$

$$1 + 5$$

$$4 + 4$$

** اكتب العدد التالي :-

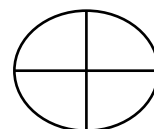
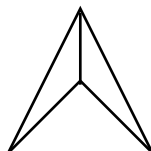
$$= 7 + 7$$

$$= 6 + 6$$

$$= 4 + 4$$

$$= 5 + 5$$

** لون حسب الكسر :-



$$\frac{1}{3}$$

$$\frac{1}{4}$$





الحصة

** اكتب العدد السابق: -

٦٣ →
٧٣ →
٨٣ →
٩٣ →

٦** →
٧** →
٤٣ →
٥٣ →

٣١ →
٤٢ →
٤١ →
٥** →

** أكمل: -

** ١٨ - ١٧ - ١٦

** رتب تنازلياً: -

٤ - ١٠ - ١٣ - ٩ - ** - ١٥ - ٧ - ٣

** ضع علامة (<) أو (>) أو (=): -

٣ - ٣ ٣ + ٣

٦ - ٩ ٥ - ٨

٥ - ١٠ ٤ + ٤

** اكتب العدد التالي: -

← ٣١
← ٤١
← ٤١
← ٥**
← ٦**
← ٧**

** ضع علامة (+) أو علامة (**): -

٤ = ٣ ٧
٤ = ** **
٨ = صفر ٨
٧ = ٥ **

** اجمع: -

= ٧ + ٧
= ٤ + ٤
= ٥ + ٥
= ٣ + ٣
= ٦ + ٦
= ** + **





واجب

** اطرح: -

= 5 - 8

= 0 - 6

= 3 - 5

= 4 - 7

= ** - 7

= 3 - 9

= ** - 8

= 1 - 6

** أكمل: - ٤٧ - ٤٨ - ٤٩ □ □ □ ٥٣

** رتب تصاعدياً: -

٨ - ١ - ١١ - ٣ - ٩ - ٦ - ١ - ٤

□ □ □ □ □ □ □ □

** ضع علامة (<) أو (>) أو (=): -

□ □
** - ٤ □ ** + ٤
□ □
٣ + ٥ □ ٣ - ٥
□ □
٧ - ٧ □ ٦ - ٦

** اكتب العدد التالي: -

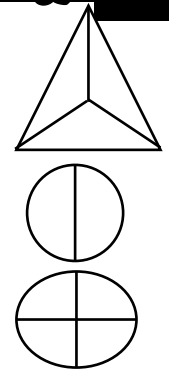
= ** + **
= ٥ + ٥
= ٦ + ٦
= ٩ + ٩
= ١٠ + ١٠
= ٤ + ٤

** ضع علامة (+) أو علامة (**): -

** = ١ □ ٣
٩ = ٤ □ ٥
صفر = ٦ □ ٦
٧ = ٣ □ ٤

** لون حسب الكسر: -

1/3 □
1/3 □
1/4 □
1/4 □





الحصة

** اكتب العدد السابق: -

٧٤ →

٤٤ →

١٤ →

٨٤ →

٥٤ →

** →

٩٤ →

٦٤ →

٣٤ →

** أكمل: -

٨١ ٧٧ - ٧٦ - ٧٥

** رتب تصاعديا: -

٦ - ٧ - ١ - ٣ - ٩ - ١ - ٥ - ٤

** ضع علامة (<) أو (>) أو (=): -

١ - ٦ ٣ + **

٧ + ٧ ٧ - ٧

٠ - ٩ ٠ + ٩

** اكتب العدد التالي: -

← **

← ٦٥

← ٤٥

← ٨٥

← ٣٥

** ضع علامة (+) أو علامة (**): -

٥ = ٤ ٩

صفر = ٧ ٧

٣ = ١ ٤

٨ = ٣ ٥

** اجمع: -

= ١ + ١

= ** + **

= ٣ + ٣

= ٤ + ٤

= ٥ + ٥

= ٦ + ٦





واجب

**** أوجد الناتج: -**

$$= 5 + 6$$

$$= 8 + 6$$

$$= 6 + 8$$

$$= 4 + 9$$

$$= 5 - 9$$

$$= 6 - 6$$

$$= 8 - \text{صفر}$$

$$= 3 - 8$$

**** أكمل: -** ٦٧ ٦٣ - ٦٠ - ٦١ - ٦٠

**** رتب تصاعدياً: -**

٨ - ١١ - ٩ - ٤ - ١٣ - ٧ - ٦ - ٥ - ٣

**** ضع علامة (<) أو (>) أو (=): -**

٣ + ****** ١ + ٤

٥ + ٩ ٥ - ٩

٠ + ٧ ٠ - ٧

**** اجمع: -**

$$= 4 + 4$$

$$= 5 + 5$$

$$= 6 + 6$$

$$= 9 + 9$$

$$= 10 + 10$$

$$= 4 + 4$$

**** ضع علامة (+) أو علامة (**): -**

$$6 = 3 \quad \square \quad 3$$

$$5 = \square \quad 7$$

$$9 = 5 \quad \square \quad 4$$

$$4 = 1 \quad \square \quad 5$$

**** اكتب العدد: -**

ستة

ثلاثة

عشرة

خمسة

واحد





الحصة

** اكتب العدد السابق: -

٤٦ →

٥٨ →

** →

٥٦ →

٥٢ →

٣٦ →

٦٦ →

٦٨ →

٤٢ →

** أكمل: -

٤** □ □ □ ٣٨ - ٣٧ - ٣٦

** رتب تصاعدياً: -

٩ - ٦ - ١ - ٥ - ٧ - ١** - ١٥ - ٤
□ □ □ □ □ □ □ □

** ضع علامة (<) أو (>) أو (=): -

□ □

٤ - ٧ □ ** ٥

□ □

** - ٤ □ ٤ - ٩

□ □

٨ - ٨ □ ٧ - ٧

** اكتب العدد التالي: -

← ** →

← ١٩ →

← ٤٩ →

← ٥٩ →

← ٦٩ →

** ضع علامة (+) أو علامة (**): -

٥ = ٤ □ ٩

صفر = ٧ □ ٧

٣ = ١ □ ٤

٨ = ٣ □ ٥

** اكتب العدد: -

□ اثنان

□ ثمانية

□ سبعة





واجب

**أوجد الناتج :-

$$= 5 - 7$$

$$= 3 - 8$$

$$= 3 - 9$$

$$= 6 - 6$$

$$= 5 + 7$$

$$= 3 + 8$$

$$= 3 + 9$$

$$= 6 + 6$$

**أكمل :- ٥١ ٤٧ - ٤٦ - ٤٥

**رتب تنازلياً :-

١ - ٩ - ٤ - ** - ١٣ - ٧ - ٥

**ضع علامة (<) أو (>) أو (=) :-

٣ - ٩ ١ + ٤

٣ + ٣ ** - ٤

١ + ٣ ٢ - ٩

**اطرح :-

$$= 1 - 8$$

$$= 7 - 7$$

$$= 5 - 9$$

$$= ** - 4$$

$$= 3 - 6$$

$$= 1 - 5$$

**ضع علامة (+) أو علامة (-) :-

٦ = ٣ ٣

٧ = ٦ ١

صفر = ٥ ٥

٥ = ٣ ٨

**اكتب عدد الحروف :-

رسم
 عمر
 لوحة
 جميلة





الحصة

** اكتب العدد السابق: -

٤** →
٥** →
٦** →

٥٧ →
** →
٤** →

٥٦ →
٤٦ →
٣٦ →

** أكمل: -

٨١ □ □ □ ٧٧ - ٧٦ - ٧٥

** رتب تصاعدياً: -

٣ - ٧ - ٤ - ٦ - ١٣ - ٩ - ٥ - **
□ □ □ □ □ □ □ □

** ضع علامة (<) أو (>) أو (=): -

□ □
** - ٩ □ ٣ + ٣
□ □
٣ + ٣ □ ٥ - ٨
□ □
٥ - ٥ □ ٤ - ٤

** اكتب العدد التالي: -

← ٥٧ →
← ٤٦ →
← ١٦ →
← ** →

** ضع علامة (+) أو علامة (**): -

٤ = ٣ □ ١
٣ = ٥ □ ٨
٤ = ** □ **
٦ = ١ □ ٧

** اكتب العدد: -

□ سبعة
□ واحد
□ ستة





واجب

**أوجد الناتج: -

$$\begin{aligned} &= 5 - 9 \\ &= 6 - 6 \\ &= 4 - 7 \\ &= 5 - 8 \end{aligned}$$

$$\begin{aligned} &= 5 + 9 \\ &= 6 + 6 \\ &= 4 + 7 \\ &= 5 + 8 \end{aligned}$$

**أكمل: - ٧٦ - ٧٧ - ٧٨

**رتب تنازلياً: -

٤ - ٦ - ١٥ - ١ - ٨ - ٩ - ١٠ - ٥

**ضع علامة (<) أو (>) أو (=): -

$$\begin{aligned} &\square & \square \\ & \square - 7 & \square + 3 \\ & \square & \square \\ & \square - \square & 5 - 9 \\ & \square & \square \\ & 7 + 7 & \square \quad 7 - 7 \end{aligned}$$

**اطرح: -

$$\begin{aligned} &= 5 - 8 \\ &= 6 - 6 \\ &= 5 - 7 \\ &= 3 - 8 \\ &= \square - 7 \\ &= 1 - 3 \end{aligned}$$

**ضع علامة (+) أو علامة (-): -

$$\begin{aligned} \square &= 5 & \square & 7 \\ 7 &= 4 & \square & 3 \\ 5 &= 4 & \square & 1 \\ \text{صفر} &= 6 & \square & 6 \end{aligned}$$

**اكتب عدد الحروف: -

هيا
نزرع
فوق
سطح
المنزل





الحصة

** اكتب العدد السابق: -

← ٥٨ →

← ٥٣ →

← ** →

← ٤٧ →

← ٥٦ →

← ٧٦ →

** أكمل: -

٩١ ٨٧ - ٨٦ - ٨٥

** رتب تنازلياً: -

٤ - ٥ - ٩ - ١٨ - ** - ١٠ - ١٥ - ٣

** ضع علامة (<) أو (>) أو (=): -

١ - ٧ ٣ + **

١ + ٣ ٨ - ٨

** - ٦ ** + **

** اطرح: -

= ٨ - ٨

= ٣ - ٩

= ١ - ٧

= ٣ - ٥

= ١ - ٦

= ٠ - ٧

** ضع علامة (+) أو علامة (**): -

٧ = ٥ **

٥ = ٤ ٩

٦ = ٣ ٣

صفر = ٥ ٥

** اكتب السابق: -

٥٧ →

٤٦ →

٥٦ →

** →





واجب

** أوجد الناتج: -

$$= 3 - 6$$

$$= 0 - 7$$

$$= \blacksquare - 8$$

$$= 5 - 9$$

$$= 3 + 6$$

$$= 0 + 7$$

$$= \blacksquare + 8$$

$$= 5 + 9$$

** أكمل: - 69 65 - 64 - 63

** رتب تنازلياً: -

$$4 - 9 - \blacksquare - 16 - 5 - 10 - 7 - 3$$

** ضع علامة (<) أو (>) أو (=): -

<input type="text"/>	<input type="text"/>
$3 - 3$	$3 + 3$
<input type="text"/>	<input type="text"/>
$\blacksquare - 4$	$\blacksquare - 7$
<input type="text"/>	<input type="text"/>
$3 + 5$	$5 - 9$

** اطرح: -

$$= 3 - 8$$

$$= 5 - 9$$

$$= 7 - 7$$

$$= 1 - 6$$

$$= 3 - 5$$

$$= 1 - 9$$

$$= 0 - 8$$

** ضع علامة (+) أو علامة (**): -

$5 = 4$	<input type="text"/>	1
صفر = 3	<input type="text"/>	3
$6 = 4$	<input type="text"/>	**
$4 = 5$	<input type="text"/>	9

** اكتب عدد الحروف: -

ذبنا
 خروف
 العيد





****رتب تنازليا : ١٠، ٣، ٩، ٥ :**

****رتب تنازليا : ٦، ١٠، ٢، ٥، ٧، ٩ :**

الترتيب :

الترتيب :

****رتب تصاعديا : ٩، ١٠، ٢، ٦ :**

****رتب تصاعديا : ٥، ٣، ٦، ١٠، ٢، ٧ :**

الترتيب :

الترتيب :

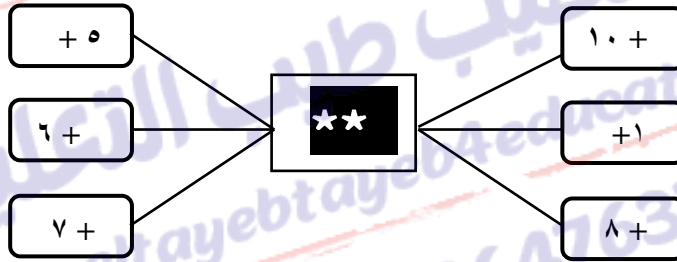
****أكمل : -**

$$\begin{aligned} 8 &= \square + 7 \\ 3 &= \square - 6 \\ 5 &= \square + 2 \\ 7 &= \square + 3 \end{aligned}$$

$$\begin{aligned} 9 &= \square + 2 \\ 4 &= \square - 7 \\ 8 &= \square + 2 \\ 7 &= \square + 5 \end{aligned}$$

$$\begin{aligned} 7 &= \square + 6 \\ 2 &= \square - 9 \\ 4 &= \square - 8 \\ 6 &= \square + 3 \end{aligned}$$

****مكونات العدد عشرة : -**



****أكمل : -**

$$\begin{aligned} 10 &= \square + 7 \\ 10 &= \square + 2 \\ 10 &= \square + 4 \end{aligned}$$

$$\begin{aligned} 10 &= \square + 4 \\ 10 &= \square + 9 \\ 10 &= \square + 8 \end{aligned}$$

$$\begin{aligned} 10 &= \square + 3 \\ 10 &= \square + 7 \\ 10 &= \square + 8 \end{aligned}$$

****ضع خطا تحت العددين اللذان مجموعهما : -**

(٤، ٦)، (١، ٤)، (٣، ٥)
(٣، ٧)، (٢، ٧)، (٦، ١)
(١، ٦)، (١، ٩)، (٢، ٥)

(١، ٧)، (٨، ٢)، (٣، ٦)
(٦، ٤)، (٠، ٩)، (٥، ٥)
(٥، ٤)، (٧، ٣)، (٤، ٦)





سلسلة
** ضالعاتنا (< , > , =) أو :-
التعليمية

1 + 9 2 + 8

4 + 3 5 - 9

5 - 10 2 + 7

4 + 5 1 + 6

3 + 1 7 - 8

2 - 7 3 + 6

3 + 3 5 - 10

4 + 4 7 - 8

5 + 5 3 + 7

4 + 6 2 - 9

** أوجد الناتج :-

..... = 5 - 8

..... = 5 + 4

..... = 6 - 9

..... = 7 - 10

..... = 5 - 10

..... = 2 + 6

..... = 6 + 4

..... = 1 + 9

..... = 1 + 8

..... = 4 - 5

..... = 3 - 7

..... = 6 - 8

..... = 2 - 9

..... = 5 + 4

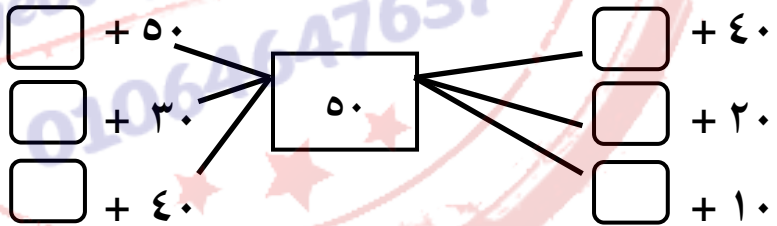
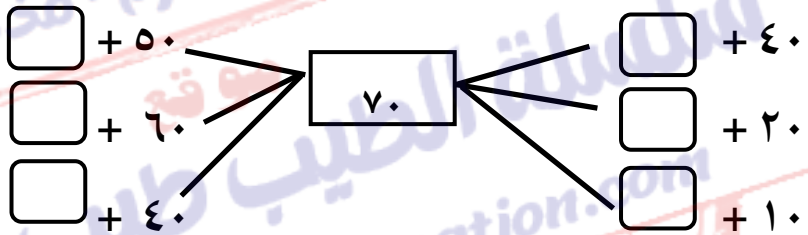
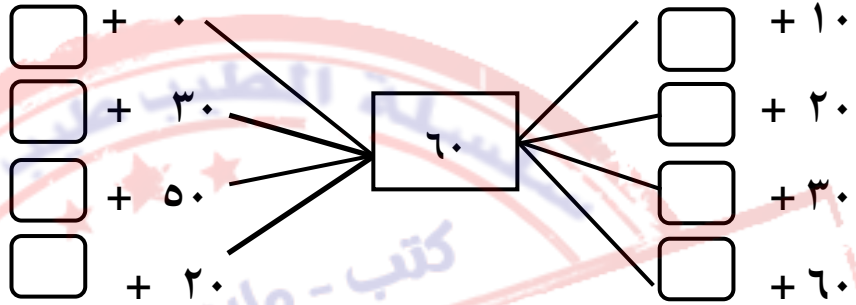




١٠٠	٩٠	٨٠	٧٠	٦٠	٥٠	٤٠	٣٠	٢٠	١٠
-----	----	----	----	----	----	----	----	----	----

العشرات الكاملة

****أكمل :-**



****أكمل كالمثال :-**

٤ عشرات + ٣ عشرات

$٧٠ = ٣٠ + ٤٠ =$

٧ عشرات + ٢ عشرات

$..... = + =$

٥ عشرات + ٣ عشرات

$..... = + =$

٦ عشرات + ٢ عشرات

$..... = + =$





$$\begin{aligned} & \dots\dots\dots = 30 + 10 \\ & \dots\dots\dots = 40 + 50 \\ & \dots\dots\dots = 20 + 20 \\ & \dots\dots\dots = 70 - 90 \\ & \dots\dots\dots = 30 - 80 \\ & \dots\dots\dots = 10 - 60 \\ & \dots\dots\dots = 20 - 50 \end{aligned}$$

$$\begin{aligned} & \dots\dots\dots = 20 + 50 \\ & \dots\dots\dots = 30 + 60 \\ & \dots\dots\dots = 60 - 70 \\ & \dots\dots\dots = 50 - 90 \\ & \dots\dots\dots = 10 + 60 \\ & \dots\dots\dots = 40 + 40 \\ & \dots\dots\dots = 60 - 80 \end{aligned}$$

****أكمل بنفس التسلسل :-**

- | | |
|--|---|
| (ب) ٣٠، ٤٠،،، ٧٠ | (أ) ١٠، ٢٠،،، ٥٠، ٦٠ |
| (د) ٦٠،، ٨٠،، ٩٠ | (ج) ٥٠،، ٧٠،، ٩٠ |
| (و) ٤٠، ٥٠،، ٢٠،، ٦٠،، ٩١، ٨٠،، ٦٠ | (هـ) ٧٠، ٨٠،، ٥٠،، ٢٠،، ٤٠،، ٦٠ |

****أكمل :-**

- ٤ جنيهاً و ٧ عشرات = جنيهاً (٤ + ٧٠ =)
- ٨ جنيهاً و ٣ عشرات = جنيهاً (٨ + =)
- ٩ عشرات وجنية واحد = جنيهاً (..... + =)
- ٦ جنيهاً و ٤ عشرات = جنيهاً (..... + =)





٦ آحاد و ٥ عشرات =
 ٣ آحاد و ٩ عشرات =
 ٤ آحاد و ٢ عشرات =
 ٤ عشرات و ٥ آحاد =
 ٦ عشرات و ٥ آحاد =
 ٨ عشرات و ٣ آحاد =

٧ آحاد و ٣ عشرات = ٣٧
 ٤ آحاد و ٨ عشرات =
 ٦ آحاد و ٥ عشرات =
 ٨ عشرات و ٦ آحاد = ٨٦
 ٧ عشرات و ٥ آحاد =
 ٩ عشرات و ٨ آحاد =

..... + = ٨٤
 + = ٩٦
 + = ٧٤
 ٩٠ + ٣ =
 ٢٠ + ٧ =

٥٠ + ٧ = ٥٧
 + = ٣٢
 + = ٤٦
 ٢٠ + ٨ =
 ٥٠ + ٩ =

أكمل كالمثال :-

أربعة وخمسون = ٥٤ = ٥٠ + ٤

سبعة وتسعون = + =

ثلاثة وستون = + =

خمسة وثلاثون = + =

..... = ٧٠ + ١ =

..... = ٨٠ + ٥ =

٢٩ = + =

٤٦ = + =

٨٤ = آحاد عشرات

٥٩ = آحاد عشرات

١٨ = آحاد عشرات

٢٤ = آحاد عشرات

٧٦ = آحاد عشرات

٧٣ = آحاد عشرات

٤٨ = آحاد عشرات

٩٥ = آحاد عشرات

٣٦ = آحاد عشرات

٢٩ = آحاد عشرات





ضع خط تحت العشرات :

٤٢ - ٦١ - ٢٩ - ٣٥

٥٢ - ٣١ - ٦٩ - ٨٧

ضع خط تحت الآحاد :

٩٣ - ٨٥ - ٣٦ - ٧٢

٨٣ - ٢٧ - ٩١ - ٦٤

لاحظ ثم ارسم دائرة حول قيمة الرقم الذي تحته خط كالمثال :

٥٧ ٧٠ ٧	٩٢ ٩٠ ٩	٤٦ ٤٠ ٦	٨٣ ٨٠ ٨
------------	------------	------------	------------

٢٠ ١٠ ٠	٥٥ ٥٠ ٥	٣٤ ٣٠ ٣	٩٦ ٥٠ ٥
------------	------------	------------	------------

ضع دائرة حول القيمة المكانية للرقم الذي تحته خط كالمثال :

٩ ٩ آحاد عشرات	٥ ٦ آحاد عشرات	٧ ٣ آحاد عشرات	٤ ٨ آحاد عشرات
-------------------	-------------------	-------------------	-------------------

٨ ٢ آحاد عشرات	٢ ٧ آحاد عشرات	٨ ٥ آحاد عشرات	٩ ٣ آحاد عشرات
-------------------	-------------------	-------------------	-------------------

٧ ٩ آحاد عشرات	٤ ٩ آحاد عشرات	٣ ٤ آحاد عشرات	٦ ٥ آحاد عشرات
-------------------	-------------------	-------------------	-------------------

✓ اكتب القيمة المكانية للرقم (٦) كما في المثال :

١٦	٦٩	٦٤	٦	٣٦	٦٥	العدد
.....	آحاد	عشرات	القيمة المكانية للرقم ٦

✓ اكتب القيمة المكانية للرقم (٤) كالمثال :

٧٤	٤٢	٦٤	٩٤	٤٦	العدد
.....	آحاد	عشرات	القيمة المكانية للرقم ٤

ترتيب الاعداد





سلسلة
الكتابات ترتيب الأعداد من (١ : ١٠٠) :-
التعليمية

	٩			٦			٢	١	٠
		١٨			١٥			١٢	١١
٣٠			٢٧			٢٤			٢١
	٢٩			٣٦			٣٣		
		٤٨			٤٥			٤٢	
٦٠			٥٧		٥٥	٥٤			٥١
	٦٩			٦٦			٦٣		
		٧٨			٧٥			٧٢	
	٨٩		٨٧			٨٤		٨٢	
١٠٠				٩٦		٩٤			٩١

*** :-

أ) ٣٨ ، ٣٩ ، ٤٠ ، ، ، ، ٤٤

ب) ٦٥ ، ٦٦ ، ، ٦٩ ، ، ٧١

ج) ١٧ ، ، ١٩ ، ، ٢٢ ، ،

د) ٥٦ ، ، ، ٥٩ ، ٦٠ ، ، ٦٣

*** اكتب *** التالي مباشرة :-

٢٣ ← ٢٤ ١٧ ← ١٨ ٥٨ ← ٥٩

..... ← ٤٧ ← ٣٢ ← ١٤

..... ← ٥٢ ← ٤٩ ← ٧٦

..... ← ١٦ ← ٩١ ← ٧٩

..... ← ٨١ ← ١٣ ← ٣٥

..... ← ٢٩ ← ٦٩ ← ٧١

..... ← ٧٠ ← ٢١ ← ٨٥

*** اكتب العدد السابق مباشرة :-





٣٨ → ٣٧

٨٦ → ٨٥

٤٦ →

٥٢ →

٢١ →

٢٠ →

٩٢ →

٦ →

٩٠ →

٦٠ →

٣٥ →

ضع علامة (<) أو (>) أو (=) :-

٢٣ - ٥٧

١٤ + ٣٢

٨٠

٣١ + ٣٦

٢٠ - ٩٠

٣٠ + ٤٠

٥٣

٢١ + ٧٤

٣٥ + ٤١

١٥ - ٨٦

٧٨

٤٢ + ٢٧

٤٠ + ٢٧

٤٢ - ٩٣

٥٤

١٤ - ٦٨

✓ اكتب خمسة أعداد أقل من (٧٢) :-

الأعداد هي /

✓ اكتب سبعة أعداد أكبر من (٤٠) :-

الأعداد هي /

✓ اكتب ثلاثة أعداد رقم الأحاد (٧) :-

الأعداد هي /

✓ اكتب أربعة أعداد رقم العشرات (٩) :-

الأعداد هي /

✓ امل :-

٣٧ ، ٣٩ ، ٤١ ، ٤٥ ،

٦٥ ، ٦٦ ، ٧٠ ، ٧٢ ،



✓ رتب تصاعدياً من الأصغر للأبزر كالمثال :-





الترتيب / ١٦، ٢٥، ٤٣، ٥٧، ٩٢

٢٥، ٤٣، ٥٧، ٩٢

الترتيب /

٨٠، ٤٥، ١٩، ٣٢، ٦٧

الترتيب / ٦٢، ٨٤، ٢٣، ١٦، ٩١، ٥٧

رتب تنازليا من الأكبر للأصغر كالمثال :

الترتيب / ١٧، ٢٤، ٣٩، ٥٣، ٦٨، ٨٢

٦٨، ٢٤، ١٧، ٣٩، ٨٢، ٥٣

الترتيب /

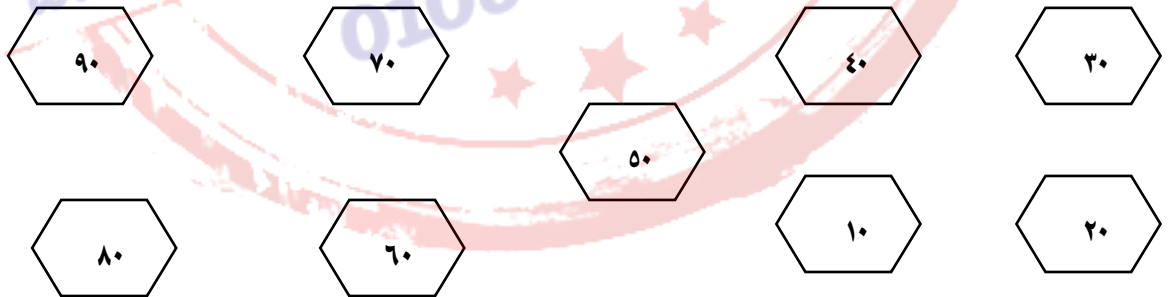
٢٩، ٤٥، ١٣، ٦٢، ٣٧

الترتيب / ٦٢، ٨٤، ١٩، ٩٢، ٥١، ٣٦

ضع علامة (<) أو (>) أو (=) :-

٩١	<input type="text"/>	٦٨	٢١	<input type="text"/>	١٧	٥٢	<input type="text"/>	٣٦
٥٢	<input type="text"/>	٢٥	٥٠	<input type="text"/>	٢٠	٢٩	<input type="text"/>	٦٧
٤٧	<input type="text"/>	٤٧	٤٩	<input type="text"/>	٨٢	٣٢	<input type="text"/>	٣٢
٨١	<input type="text"/>	١٨	٨٢	<input type="text"/>	٧٥	٥٨	<input type="text"/>	٦١

صل بالترتيب :-



كون أكبر عدد واصغر عدد من الارقام كالمثال :-





- أصغر عدد = ٣٧
- أصغر عدد =
- أصغر عدد =
- أصغر عدد =
- أصغر عدد =
- أصغر عدد مكون من الرقمين (٥، ٧) هو
- أكبر عدد مكون من الرقمين (٦، ٣) هو
- أصغر عدد مكون من الرقمين (٤، ٨) هو
- أكبر عدد مكون من الرقمين (٥، ٢) هو
- أصغر عدد مكون من الرقمين (٧، ٦) هو
- (٢، ٦) أكبر عدد =
- (٩، ٤) أكبر عدد =
- (٧، ٨) أكبر عدد =
- (٦، ١) أكبر عدد =

****أكمل:-**

- ٩٠ = + ٧٠
- = ٣٠ + ٢
- ٢٠ = - ٥٠
- ٣٠ = - ٧٠
- = ٨ آحاد و ٧ عشرات
- = ٥ عشرات و ٣ آحاد

****أكمل بنفس النمط:-**

- ، ٥٨ ، ٥٧
- ، ١٤ ، ١٢
- ، ٤٠ ، ٥٠
- ، ٩٨ ، ٩٩



✓ مع ضحي ٤٥ جنية ومع شروق ٢٣ جنية أوجد ما مع الاثنى عشر





..... + = جنيه

✓ مع عبد الرحمن ٣٨ جنيها اشترى كتب بمبلغ ٢٥ جنيها أوجد الباقي؟

الباقي مع عبد الرحمن = - = جنيه

٢٧ = أحاد..... عشرات
 ٩٢ = أحاد..... عشرات
 ٦٥ = أحاد..... عشرات
 ٧٣ = أحاد..... عشرات
 + = ٢٥
 + = ٩٨
 ٤٠ + ٦ =

★★ أكمل ★★
 ٢٦ = + ٦
 ٥٢ = + ٢
 ٣٩ = ٣٠ +
 ٩٠ = +
 ٢٠ = +
 ٧٠ = + ٥٠
 ٦٠ = + ١٠

★★ ضع علامة (<) أو (>) أو (=) :-

٤٥ - ٦٨ <input type="text"/>	٥٢ - ٩٣ <input type="text"/>	٩ أحاد <input type="text"/>	٧ عشرات <input type="text"/>
٨ عشرات <input type="text"/>	٦٠ + ٢٠ <input type="text"/>	٢٣ - ٦٧ <input type="text"/>	٤٣ - ٥٢ <input type="text"/>
٢١ + ٣٦ <input type="text"/>	٥٢ - ٧٤ <input type="text"/>	٢٤ + ١٣ <input type="text"/>	١٧ + ٢٠ <input type="text"/>
٢٠ - ٧٠ <input type="text"/>	١١ + ٦٨ <input type="text"/>	٢٤ - ٥٨ <input type="text"/>	٣٢ + ١٦ <input type="text"/>

★★ ★★ :-

..... / الترتيب ٤٩، ١٦، ٩١، ٢٥، ٧٦ ▪
 / الترتيب ٧٣، ١٦، ٥١، ٤٦، ٩٢، ٨٤ ▪
 / الترتيب ١٨، ٦٥، ٩٢، ٣٧ ▪
 / الترتيب ٥٩، ٣٨، ٢١، ٨٦ ▪





- / الترتيب ٢٧، ٧٢، ٨٣، ١٦، ٥١، ٩٢ ▪
- / الترتيب ٦٣، ٥١، ٤٦، ٩٢، ١٨، ٣٧ ▪
- / الترتيب ٨٦، ١٣، ٩٢، ٦٧ ▪
- / الترتيب ١٧، ٥٢، ٨٣، ٦١ ▪

٣٠ = ٥٢ ٨٢
 ٥٠ = ٢٠ ٧٠
 ٤٠ = ١٠ ٣٠
 ٦٠ = ٢٥ ٨٥
 ٣٩ = ٢٠ ١٩

٢٠ = ٣٠ ٥٠
 ٨٠ = ١٠ ٧٠
 ٩٠ = ٣٠ ٦٠
 ٥٠ = ٧ ٥٧
 ٨٦ = ٤ ٨٢

- = ٦٨ آحاد عشرات ▪
- = ٩٤ آحاد عشرات ▪
- ٧٠ + ٦ = ▪
- + = ٢٥ ▪
- = ٨ عشرات = ٦ آحاد ▪

..... / الترتيب ٢٦، ٥٤، ٩١، ٦٩، ٣٥، ٧٢



٧٣ = + ٤٠ + ٣٠
 ٩٠ = ٤٠ + + ٢٠
 ٥٠ = ٣٠ + ١٠ +
 ٧٧ = ١٠ + + ٦٠

٧٠ = + ٢٠
 ٩٠ = + ٦٠
 ٥٠ = +
 ٨٠ = + ٤٠






آحاد عشرات	آحاد عشرات	آحاد عشرات	آحاد عشرات
$\begin{array}{r} 2 \quad 1 \\ 3 \quad 5 + \\ \hline 5 \quad 6 \end{array}$	$\begin{array}{r} 4 \quad 7 \\ 1 \quad 0 + \\ \hline 5 \quad 7 \end{array}$	$\begin{array}{r} 3 \quad 6 \\ 5 \quad 1 + \\ \hline 8 \quad 7 \end{array}$	$\begin{array}{r} 3 \quad 5 \\ 3 \quad 3 + \\ \hline 6 \quad 8 \end{array}$
$\begin{array}{r} 4 \quad 7 \\ 5 \quad 2 + \\ \hline \end{array}$	$\begin{array}{r} 3 \quad 6 \\ 2 \quad 1 + \\ \hline \end{array}$	$\begin{array}{r} 5 \quad 4 \\ 2 \quad 0 + \\ \hline \end{array}$	$\begin{array}{r} 3 \quad 7 \\ 4 \quad 1 + \\ \hline \end{array}$
$\begin{array}{r} 2 \quad 8 \\ 6 \quad 1 + \\ \hline \end{array}$	$\begin{array}{r} 7 \quad 5 \\ 2 \quad 3 + \\ \hline \end{array}$	$\begin{array}{r} 2 \quad 8 \\ 3 \quad 1 + \\ \hline \end{array}$	$\begin{array}{r} 4 \quad 2 \\ 1 \quad 5 + \\ \hline \end{array}$
$\begin{array}{r} 3 \quad 5 \\ 5 \quad 1 + \\ \hline \end{array}$	$\begin{array}{r} 1 \quad 4 \\ 3 \quad 4 + \\ \hline \end{array}$	$\begin{array}{r} 1 \quad 6 \\ 7 \quad 2 + \\ \hline \end{array}$	$\begin{array}{r} 3 \quad 7 \\ 2 \quad 0 + \\ \hline \end{array}$
$\begin{array}{r} 8 \quad 4 \\ 5 \quad 3 + \\ \hline \end{array}$	$\begin{array}{r} 7 \quad 6 \\ 1 \quad 3 + \\ \hline \end{array}$	$\begin{array}{r} 9 \quad 2 \\ 1 \quad 6 + \\ \hline \end{array}$	$\begin{array}{r} 7 \quad 2 \\ 1 \quad 5 + \\ \hline \end{array}$
$\begin{array}{r} 5 \quad 4 \\ 5 \quad 5 + \\ \hline \end{array}$	$\begin{array}{r} 6 \quad 2 \\ \quad 7 + \\ \hline \end{array}$	$\begin{array}{r} 2 \quad 7 \\ 5 \quad 0 + \\ \hline \end{array}$	$\begin{array}{r} 4 \quad 8 \\ 3 \quad 1 + \\ \hline \end{array}$





آحاد عشرات	آحاد عشرات	آحاد عشرات	آحاد عشرات
$\begin{array}{r} 9 \quad 8 \\ 6 \quad 0 - \\ \hline 6 \quad 7 \end{array}$	$\begin{array}{r} 7 \quad 4 \\ 3 \quad 2 - \\ \hline 4 \quad 2 \end{array}$	$\begin{array}{r} 6 \quad 8 \\ 5 \quad 5 - \\ \hline 1 \quad 3 \end{array}$	$\begin{array}{r} 5 \quad 7 \\ 1 \quad 3 - \\ \hline 4 \quad 4 \end{array}$
$\begin{array}{r} 6 \quad 9 \\ 2 \quad 3 - \\ \hline \end{array}$	$\begin{array}{r} 4 \quad 5 \\ 1 \quad 3 - \\ \hline \end{array}$	$\begin{array}{r} 2 \quad 7 \\ 1 \quad 7 - \\ \hline \end{array}$	$\begin{array}{r} 6 \quad 9 \\ 3 \quad 7 - \\ \hline \end{array}$
$\begin{array}{r} 6 \quad 9 \\ 3 \quad 7 - \\ \hline \end{array}$	$\begin{array}{r} 8 \quad 4 \\ 5 \quad 2 - \\ \hline \end{array}$	$\begin{array}{r} 5 \quad 8 \\ 3 \quad 6 - \\ \hline \end{array}$	$\begin{array}{r} 5 \quad 8 \\ 3 \quad 2 - \\ \hline \end{array}$
$\begin{array}{r} 2 \quad 5 \\ 1 \quad 5 - \\ \hline \end{array}$	$\begin{array}{r} 6 \quad 7 \\ 2 \quad 5 - \\ \hline \end{array}$	$\begin{array}{r} 6 \quad 9 \\ 4 \quad 9 - \\ \hline \end{array}$	$\begin{array}{r} 3 \quad 5 \\ 1 \quad 2 - \\ \hline \end{array}$
$\begin{array}{r} 8 \quad 6 \\ 4 \quad 2 - \\ \hline \end{array}$	$\begin{array}{r} 7 \quad 6 \\ 2 \quad 3 - \\ \hline \end{array}$	$\begin{array}{r} 9 \quad 4 \\ 5 \quad 2 - \\ \hline \end{array}$	$\begin{array}{r} 6 \quad 8 \\ 3 \quad 7 - \\ \hline \end{array}$
$\begin{array}{r} 7 \quad 9 \\ 3 \quad 8 - \\ \hline \end{array}$	$\begin{array}{r} 8 \quad 4 \\ 6 \quad 2 - \\ \hline \end{array}$	$\begin{array}{r} 2 \quad 8 \\ 1 \quad 5 - \\ \hline \end{array}$	$\begin{array}{r} 7 \quad 6 \\ 4 \quad 6 - \\ \hline \end{array}$

✓ مع دعاء ٦٧ وردة ومع جني ٣٥ وردة ما الفرق بين ما مع الاثنين ؟
الفرق بين الاثنين = - =



✓ أخذ حسام من والده ٢٨ جنيها اشترى لعبة بمبلغ ٢٥ جنيها أوجد الباقي مع حسام
الباقي مع حسام = - = جنيها





$$\begin{array}{r} 7 \quad 0 \\ 1 \quad 8 + \\ \hline \end{array}$$

$$\begin{array}{r} 6 \quad 8 \\ 2 \quad 0 + \\ \hline \end{array}$$

$$\begin{array}{r} 5 \quad 2 \\ 3 \quad 4 + \\ \hline \end{array}$$

$$\begin{array}{r} 2 \quad 7 \\ 3 \quad 1 + \\ \hline \end{array}$$

$$\begin{array}{r} 4 \quad 5 \\ 3 \quad 2 - \\ \hline \end{array}$$

$$\begin{array}{r} 6 \quad 7 \\ 3 \quad 1 + \\ \hline \end{array}$$

$$\begin{array}{r} 4 \quad 5 \\ 5 \quad 1 + \\ \hline \end{array}$$

$$\begin{array}{r} 3 \quad 6 \\ \quad 2 + \\ \hline \end{array}$$

$$\begin{array}{r} 9 \quad 5 \\ 6 \quad 5 - \\ \hline \end{array}$$

$$\begin{array}{r} 8 \quad 0 \\ 2 \quad 0 - \\ \hline \end{array}$$

$$\begin{array}{r} 8 \quad 9 \\ 2 \quad 9 - \\ \hline \end{array}$$

$$\begin{array}{r} 7 \quad 6 \\ 4 \quad 5 + \\ \hline \end{array}$$

****أوجد الناتج****

$$\begin{aligned} \dots &= 60 - 18 \\ \dots &= 23 + 50 \\ \dots &= 82 + 17 \\ \dots &= 20 - 80 \\ \dots &= 9 - 59 \end{aligned}$$

$$\begin{aligned} \dots &= 42 + 36 \\ \dots &= 61 + 25 \\ \dots &= 20 - 79 \\ \dots &= 36 - 49 \\ \dots &= 7 - 67 \end{aligned}$$

****أكمل:-**

$$\begin{aligned} 34 &= \dots - 68 \\ 50 &= \dots + 20 \\ 97 &= \dots + 83 \\ \dots + 5 &= 35 \\ \dots + 9 &= 69 \\ 20 + 6 &= \dots \\ 80 + 56 &= \dots \\ \dots + \dots &= 73 \\ \dots + \dots &= 85 \end{aligned}$$

$$\begin{aligned} 80 &= \dots + 60 \\ 23 &= \dots - 75 \\ 56 &= \dots - 79 \\ \dots &= 8 \text{ آحاد و } 3 \text{ عشرات} \\ \dots &= 9 \text{ آحاد و } 9 \text{ عشرات} \\ \dots &= 3 \text{ آحاد و } 9 \text{ عشرات} \\ \dots &= 4 \text{ عشرات و } 2 \text{ عشرات} \\ \dots &= 6 \text{ عشرات و } 3 \text{ عشرات} \\ \dots + 60 &= 67 \end{aligned}$$





**ضع علامة (<) أو (>) أو (=) :-

$32 + 36$ $15 + 82$ ← | $45 - 78$ $2 + 36$ ←
 $40 - 90$ $10 + 40$ ← | $11 + 20$ $56 + 87$ ←

**ضع علامة (✓) أو علامة (×) :-

- () $69 = 31 + 56$ (1)
() (2) العدد 67 يلي العدد 65
() (3) أكبر عدد مكون من (9، 3) هو 93
() (4) قيمة الرقم 6 في العدد 65 تساوي 60
() (5) المائة جنيهاً > خمسون جنيهاً

**أكمل :-

$36 = \dots - 58$ ■

$67 = \dots + 20$ ■

5 عشرات = ■

العدد الذي يسبق 83 هو ■

**رتب تنازلياً :-

84، 16، 59، 32، 75

**ضع علامة (<) أو (>) أو (=) :-

← 7 عشرات

$65 - 97$

$32 - 56$ ←

82 ←

$37 + 32$

$21 + 48$ ←





الرقم	الرقم	الرقم	الرقم	الرقم
١	واحد	٦	١١	١٦
٢		٧	١٢	١٧
٣		٨	١٣	١٨
٤		٩	١٤	١٩
٥		١٠	١٥	٢٠

★★ أوجد ناتج :-

$\begin{array}{r} ٢٠ \\ ١٨+ \\ \hline \dots\dots \end{array}$	$\begin{array}{r} ٦٨ \\ ٢٠+ \\ \hline \dots\dots \end{array}$	$\begin{array}{r} ٥٢ \\ ٣٤+ \\ \hline \dots\dots \end{array}$	$\begin{array}{r} ٢٧ \\ ٣١+ \\ \hline \dots\dots \end{array}$
$\begin{array}{r} ٤٥ \\ ٣+ \\ \hline \dots\dots \end{array}$	$\begin{array}{r} ٦٧ \\ ٣١+ \\ \hline \dots\dots \end{array}$	$\begin{array}{r} ٤٥ \\ ٥١+ \\ \hline \dots\dots \end{array}$	$\begin{array}{r} ٢٦ \\ ٢+ \\ \hline \dots\dots \end{array}$
$\begin{array}{r} ٩٥ \\ ٦٥- \\ \hline \dots\dots \end{array}$	$\begin{array}{r} ٨٠ \\ ٢٠- \\ \hline \dots\dots \end{array}$	$\begin{array}{r} ٨٩ \\ ٢٩- \\ \hline \dots\dots \end{array}$	$\begin{array}{r} ٧٦ \\ ٤٥- \\ \hline \dots\dots \end{array}$
$\begin{aligned} &= ٦٠ + ١٨ \\ &= ٢٣ + ٥٠ \\ &= ٨٢ + ١٧ \\ &= ٢٠ - ٨٠ \\ &= ٩ - ٥٩ \end{aligned}$		$\begin{aligned} &= ٤٢ + ٣٦ \\ &= ٦١ + ٢٥ \\ &= ٢٠ + ٧٦ \\ &= ٣٦ + ٤٩ \\ &= ٧ - ٦٧ \end{aligned}$	





$$\begin{aligned} 34 &= \square - 68 \\ 50 &= \square + 20 \\ 97 &= \square + 83 \\ \dots + 5 &= 35 \\ \dots + 9 &= 69 \\ 20 + 6 &= \dots \\ 80 + 5 &= \dots \\ \dots + \dots &= 73 \\ \dots + \dots &= 85 \end{aligned}$$

$$\begin{aligned} 80 &= \square + 60 \\ 23 &= \square - 75 \\ 56 &= \square - 79 \\ \dots &= 8 \text{ آحاد و } 3 \text{ عشرات} \\ \dots &= 9 \text{ آحاد و } 9 \text{ عشرات} \\ \dots &= 3 \text{ آحاد و } 9 \text{ عشرات} \\ \dots &= 4 \text{ عشرات} + 2 \text{ عشرات} \\ \dots &= 6 \text{ عشرات} + 3 \text{ عشرات} \\ \dots + 60 &= 67 \end{aligned}$$

ضع علامة (<) أو (>) أو (=) :-

$50 - 80$	<input type="text"/>	$30 + 20$
$46 - 89$	<input type="text"/>	$51 + 37$
$20 + 78$	<input type="text"/>	$12 + 35$
$30 + 29$	<input type="text"/>	7 عشرات
84	<input type="text"/>	48
5 آحاد و 7 عشرات	<input type="text"/>	75


أوجد ناتج :-

$\dots = 10 + 10 + 50 \leftarrow$	$\dots = 20 + 20 + 40 \leftarrow$	$\dots = 10 + 30 + 20 \leftarrow$
$\dots = 10 + 40 + 30 \leftarrow$	$\dots = 32 + 5 + 27 \leftarrow$	$\dots = 41 + 12 + 16 \leftarrow$

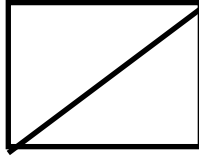




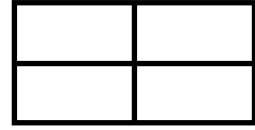
الصفات المميزة للعدد المطلوب :-



٣
**



١
**



١
**



١
**



١
**

** أوجد ناتج :-

٨٩

٤٩+

٦٧

٥٣+

٤٨

٥٠+

٢٧

٣١+

** أكمل :-

٨ آحاد و ٩ عشرات =

..... + = ٧٩

..... = ٧ آحاد

٧ آحاد و ٣ عشرات =

٢٠ = - ٥٠

..... = ٨ عشرات

** رتب تنازلياً :-

٦٢ ، ١٨ ، ٣٦ ، ٩٢ ، ٥٧





$\begin{array}{r} 70 \\ \underline{22+} \end{array}$	$\begin{array}{r} 40 \\ \underline{20+} \end{array}$	$\begin{array}{r} 30 \\ \underline{40+} \end{array}$	$\begin{array}{r} 10 \\ \underline{20+} \end{array}$
58	39	80	99
$\begin{array}{r} 20- \\ \underline{\quad} \end{array}$	$\begin{array}{r} 19- \\ \underline{\quad} \end{array}$	$\begin{array}{r} 40- \\ \underline{\quad} \end{array}$	$\begin{array}{r} 26- \\ \underline{\quad} \end{array}$

****أكمل:**

- (1) ثلاثة أعداد كل منها أكبر من العدد ٧٧ هي ، ،
- (2) أصغر عدد مكون من الرقمين ٣، ٦ هو

****رتب الأعداد الآتية ترتيباً تصاعدياً:**

١٦، ٦١، ٩٣، ٣٩

****أكمل بالعدد المناسب:**

$50 = \square + 20$

$20 = \square - 55$

$39 = \square - 49$

$\square < 20 + 16$

****ضع علامة (✓) أمام العبارة الصحيحة وعلامة (X) أمام العبارة غير الصحيحة:**



- ()
()
()

- (1) أكبر عدد مكون من رقمين هو ٩٩
- (2) يعتبر المكعب من الأشكال الهندسية
- (3) الكرة من المجسمات






سلسلة
الطبيب
التعليمية
مع حنان طبيباً جنيهاً اشترت عروسة بمبلغ ٤٠ جنيهاً ، وقلماً بمبلغ ستة
جنيهاً كم جنيهاً تبقى مع حنان؟

ثمان العروسة والقلم = + = جنيهاً
الباقي = - = جنيهاً

** اكتب اسم الجسم الهندسي :-



.....

.....

.....

** اوجد الناتج :-

$\begin{array}{r} 58 \\ - 46 \\ \hline \end{array}$	$\begin{array}{r} 26 \\ + 63 \\ \hline \end{array}$	$\begin{array}{r} 84 \\ - 54 \\ \hline \end{array}$
$\begin{array}{r} 97 \\ - 54 \\ \hline \end{array}$	$\begin{array}{r} 28 \\ + 41 \\ \hline \end{array}$	$\begin{array}{r} 36 \\ + 22 \\ \hline \end{array}$

** ضع دائرة حول رقم الأحاد :-

١٧ ، ٣٢ ، ٥٦ ، ٨٤

** أكمل بنفس التسلسل :-

..... ، ، ، ٣٤ ، ٢٤ ، ١٤





سلسلة
الطبيب
* ضع علامة (X) أمام العبارة الصحيحة وعلامة () أمام العبارة غير الصحيحة :-

11 $4 + 7$ ■

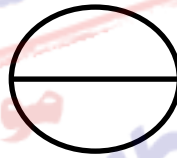

85 75 ■

34 43 ■

**رتب من الأصغر إلى الأكبر :-

72 ، 80 ، 96 ، 58 ، 64

**ضع علامة (✓) أسفل كل شكل متماثل :-



مع خالد 95 قرشاً ، اشترى هدية بمبلغ 75 قرشاً ، كم قرشاً تبقى معه؟
الباقي = - = قرشاً

**أكمل ما يأتي :-

58 42+	54 43+	37 52+	45 32-
34 55+	35 44+	79 34-	45 34+





الخطيب الطيب سلسلة الطيب التعليمية (X) أمام العبارة غير الصحيحة :-

$22 + 52$

$30 + 35$

90

$34 + 53$

$22 + 17$

$41 - 82$

60

$35 - 98$

**رتب تصاعدياً وتنازلياً :-

٩٠ ، ٦٥ ، ٨٢ ، ٧٩ ، ٨٠

تصاعدياً :-


تنازلياً :-

إذا كان عدد تلاميذ الصف الأول الابتدائي ٩٥ تلميذاً ، منهم ٤٥ تلميذة فكم عدد الأولاد؟
عدد الأولاد = ولدًا

**اكتب اسم كل مجسم :-













$\begin{array}{r} 68 \\ 45- \\ \hline \end{array}$	$\begin{array}{r} 43 \\ 45+ \\ \hline \end{array}$	$\begin{array}{r} 78 \\ 25- \\ \hline \end{array}$	$\begin{array}{r} 23 \\ 35+ \\ \hline \end{array}$
$\begin{array}{r} 87 \\ 45- \\ \hline \end{array}$	$\begin{array}{r} 78 \\ 24- \\ \hline \end{array}$	$\begin{array}{r} 59 \\ 40+ \\ \hline \end{array}$	$\begin{array}{r} 67 \\ 23- \\ \hline \end{array}$

**ضع علامة (✓) أمام العبارة الصحيحة وعلامة (X) أمام العبارة غير الصحيحة:-

٩٠	<input type="text"/>	١٥ + ٧٢ ←	١١ - ٩	<input type="text"/>	٣٢ + ٥٦ ←
٤٨	<input type="text"/>	٥٥ - ٩٩ ←	٢١ - ٤	<input type="text"/>	١٣ - ٤٨ ←

**رتب تصاعديًا وتنازليًا:-

٢٨ ، ٤٧ ، ١٥ ، ٣٢ ، ٥٤

تصاعديًا:-

تنازليًا:-

**مع سماح ٧٥ جنيهاً ، صرفت منها ٣٤ جنيهاً ، فكم جنيهاً بقي معها؟

الباقي معها = جنيهاً

