

تم تحميل هذا الملف من موقع المناهج العمانية



سؤال قصير أول نموذج ثالث

موقع فايلاتي ← المناهج العمانية ← الصف الأول ← رياضيات ← الفصل الأول ← ملفات متنوعة ← الملف

تاريخ إضافة الملف على موقع المناهج: 2024-11-26 18:35:50

ملفات اكتب للمعلم اكتب للطالب الاختبارات الكترونية | اختبارات | حلول | عروض بوربوينت | أوراق عمل
منهج انجليزي | ملخصات و تقارير | مذكرات و بنوك | الامتحان النهائي للمدرس

المزيد من مادة
رياضيات:

التواصل الاجتماعي بحسب الصف الأول



صفحة المناهج
العمانية على
فيسبوك

الرياضيات

اللغة الانجليزية

اللغة العربية

التربية الاسلامية

المواد على تلغرام

المزيد من الملفات بحسب الصف الأول والمادة رياضيات في الفصل الأول







سؤال قصير أول نموذج ثاني معرفة وفهم	1
سؤال قصير أول معرفة وفهم	2
نشاط تقيمي الأول	3
نشاط تدريبي لدرس الأزواج العددية للأعداد ٧، ٨، ٩	4
نشاط تدريبي لدرس أزواج الأعداد الأقل من عشرة	5

اسمي:

صفي:

درجتي: 5/.....

سؤال قصير الأول لمادة الرياضيات للصف الأول

الدرجة	المفردة	رقم المفردة
(1)	<p>(1) ظلل الإجابة الصحيحة يا مبدع/ة: - العدد خمسة وأربعون هو</p> <p>45 ○ 54 ○ 40 ○ 5 ○</p>	1
(2)	<p>(2) أكمل :- الشكل الذي له 4 أضلاع هو.....</p>	2
(3)	<p>ارسم ضعف العدد ٢</p> <p></p> <p></p>	3
(4)	<p>أكمل كتابة الأعداد</p> <p>_____، ٥٠٠، _____، ٥٣٠، _____</p>	4
(5)	<p>كم بعد الأشياء وأكتب العدد بطريقة صحيحة</p> <p></p> <p></p> <p></p> <p></p>	5