

تم تحميل هذا الملف من موقع المناهج العُمانية



* للحصول على أوراق عمل لجميع الصفوف وجميع المواد اضغط هنا

<https://almanahj.com/om>

* للحصول على أوراق عمل لجميع مواد الصف الأول اضغط هنا

<https://almanahj.com/om/1>

* للحصول على جميع أوراق الصف الأول في مادة رياضيات ولجميع الفصول, اضغط هنا

<https://almanahj.com/om/1math>

* للحصول على أوراق عمل لجميع مواد الصف الأول في مادة رياضيات الخاصة بـ الفصل الثاني اضغط هنا

<https://almanahj.com/om/1math2>

* لتحميل كتب جميع المواد في جميع الفصول للـ الصف الأول اضغط هنا

<https://almanahj.com/om/grade1>

* لتحميل جميع ملفات المدرس مجموعة المجال الثاني التربوية الالكترونية اضغط هنا

للتحدث إلى بوت على تلغرام: اضغط هنا

https://t.me/omcourse_bot

انصتف الأعداد



قوانين التعلم عن بعد




الأهداف / المخرجات التعليمية

يُجد أنصاف الأعداد الصغيرة والأشكال **1Nn12**

عبر طيّها، ويميز الأشكال التي تم تصنيفها.


يُجد أنصاف الأعداد الزوجية لعناصر **1Nc20**

(أشياء) حتى 10.



عبارات أستطيع :

أستطيع قول الصفاف الاعداد من 1
حتى 10



التعلم القبلي :

ارسم على الجناح الاخر لدعسوقة لإيجاد ضعف الاعداد :-




العدد 10 هو ضعف **5**



العدد 4 هو ضعف **2**




ضعف العدد **3** هو 6



التمهيد:

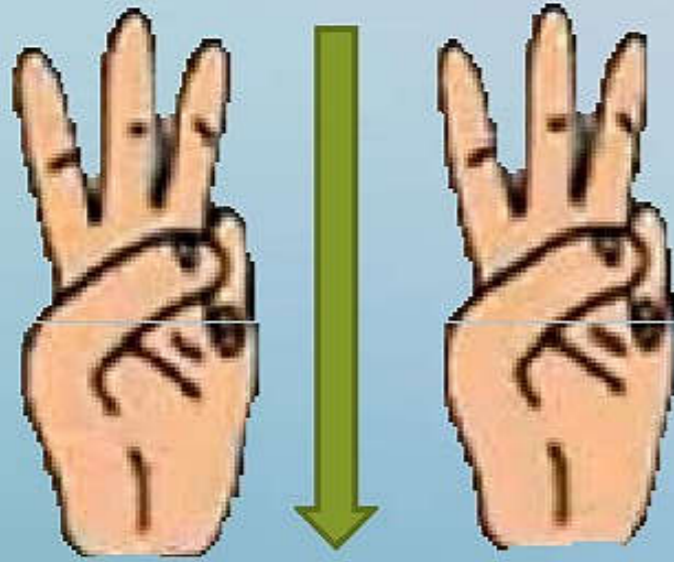
أصدقائي أفكر في عدد من
مكونات 10 تكرر مرتين ، هل
تعرفون العدد الذي أفكر فيه ؟



سير الدررس



طريقة ايجاد النصف باستخدام أصابع اليد :-



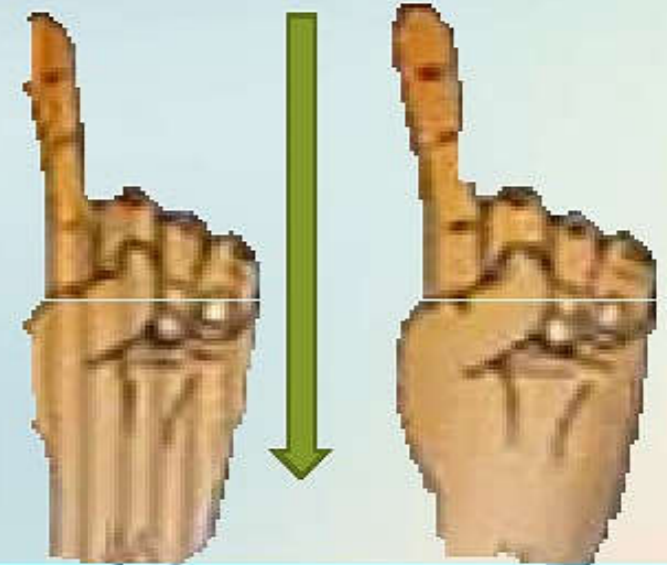
نصف 6

3



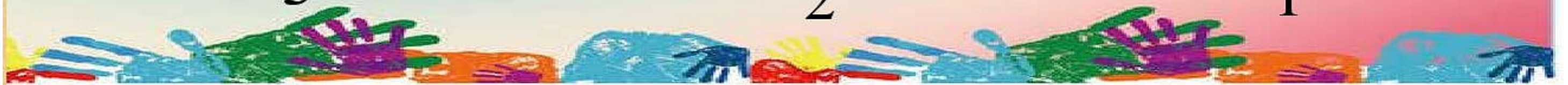
نصف 4

2



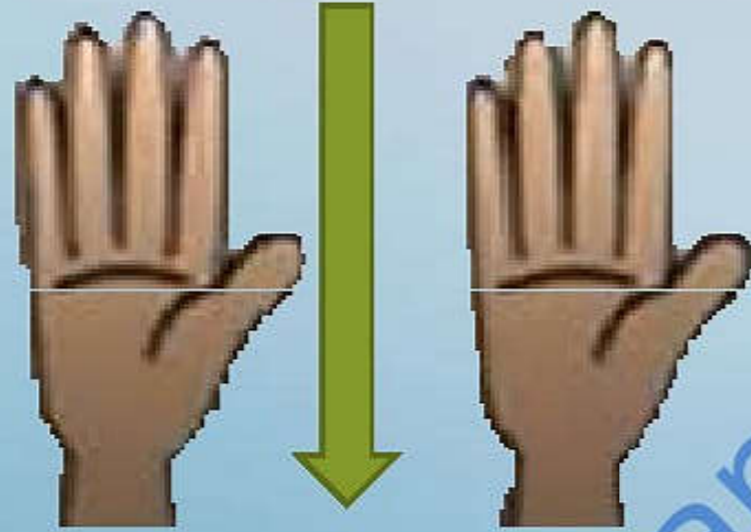
نصف 2

1



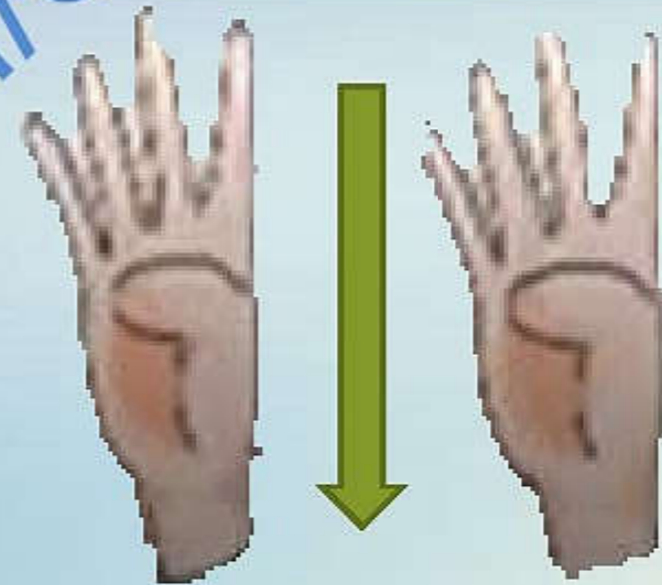


طريقة إيجاد النصف باستخدام أصابع اليد :-



نصف 10

5



نصف 8

4





اكتب نصف الأعداد التالية مستخدماً المكعبات

اضغط هنا لتعلم النصف باستخدام المكعبات

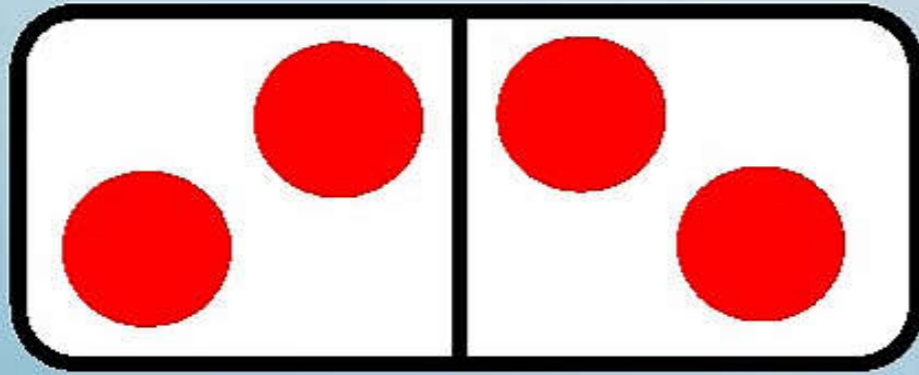
[Unifix Cubes \(didax.com\)](http://UnifixCubes.com)

almanah.com

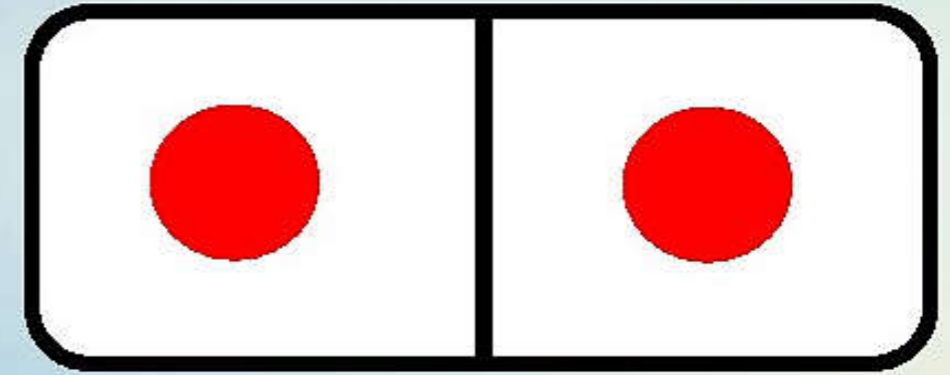




طريقة إيجاد النصف باستخدام قطع الدومينو :-



نصف العدد = 4

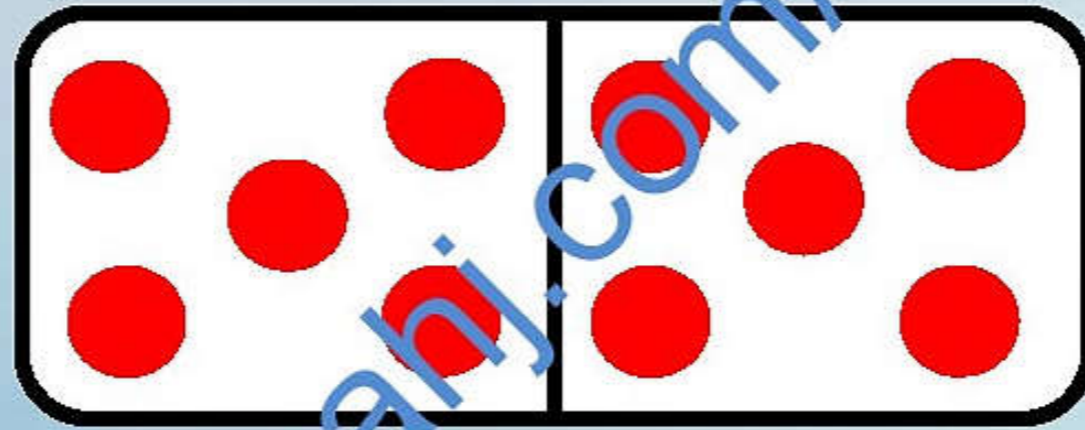


نصف العدد = 2





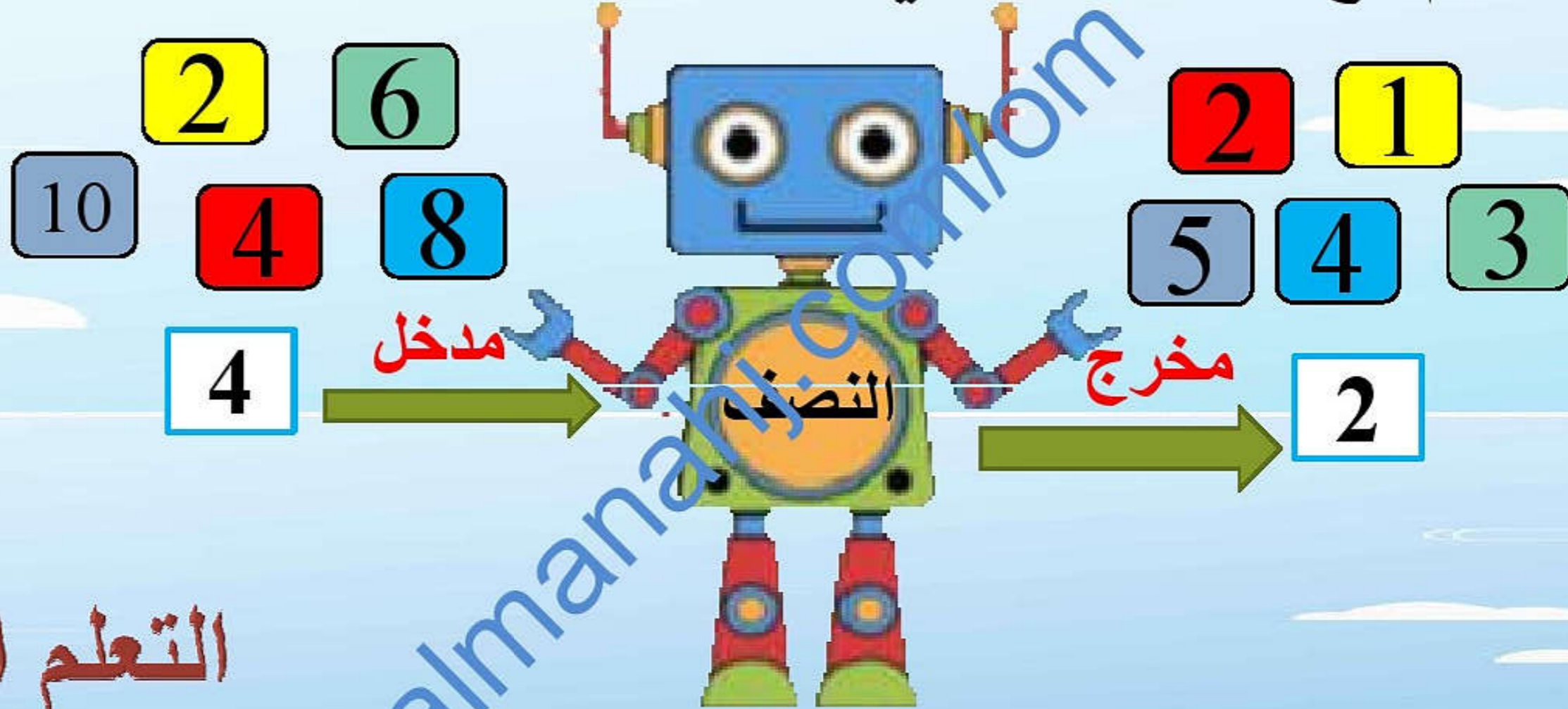
طريقة إيجاد النصف باستخدام قطع الدومينو :-



نصف العدد = 10



امرح وتعلم مع آلة النصف في إيجاد انصاف الاعداد



التعلم الذاتي





صل كل عدد من العمود الأول بنصفه من العمود الثاني:-

2
6
8
4
10

3
5
2
1
4

almanahj.com/08



التر الإجابة الصحيحة :-

نصف العدد 4 هو :-

8

6

2

ضعف العدد 10 هو :-

5

8

6

almanahj.com/om





التمر الإجابة الصحيحة :-

نصف العدد 6 هو :-

8

3

2

نصف العدد 2 هو :-

5

1

3

نصف العدد 8 هو :-

5

4

2





اسئلة :-

1- أي من أبراج المكعبات التالية مكونة من نصف العدد 8



2- أي أبراج المكعبات التالية مكونة من نصف العدد 4





اسئلة :-

3- يكتب أحمد أضعاف الأعداد كما في الجدول التالي:-

العدد	ضعفة
2	1
6	3
8	5

نصف العدد 8 هو 4


صوب الخطأ الذي وقع فيه أحمد



أتحداك في لعبة النصف
هل تقبل التحدي؟



<https://wordwall.net/play/11390/005/717>



الأنصافُ

يَقُومُ عَمْرٌ بِتَمَثِيلِ نِصْفِ الأَرْبَعَةِ.



يَمَثُلُ عَمْرٌ نِصْفَ الثَّمَانِيَةِ.

سَمِعَ كَلِمًا بَدَيْكَ أَمَانًا، وَذَلِكَ بَرَفِ
الأَصَابِعِ نَفْسَهَا فِي كَلِمَتِهَا، ثُمَّ أَبْعَدَ إِخْدَى
بَدَيْكَ.
الآنَ قُمْ بِالْحَطَرَاتِ ذَاتِهَا لِالأَعْدَاءِ
الأُخْرَى.



هَلْ يُمَكِّنُكَ فِعْلُ ذَلِكَ مِنْ أَجْلِ: نِصْفِ الأَثْنَيْنِ، نِصْفِ
السَّتَةِ، وَنِصْفِ العَشْرَةِ؟

هيا يا أبطال نفتح
كتاب التلميذ صفحة
39

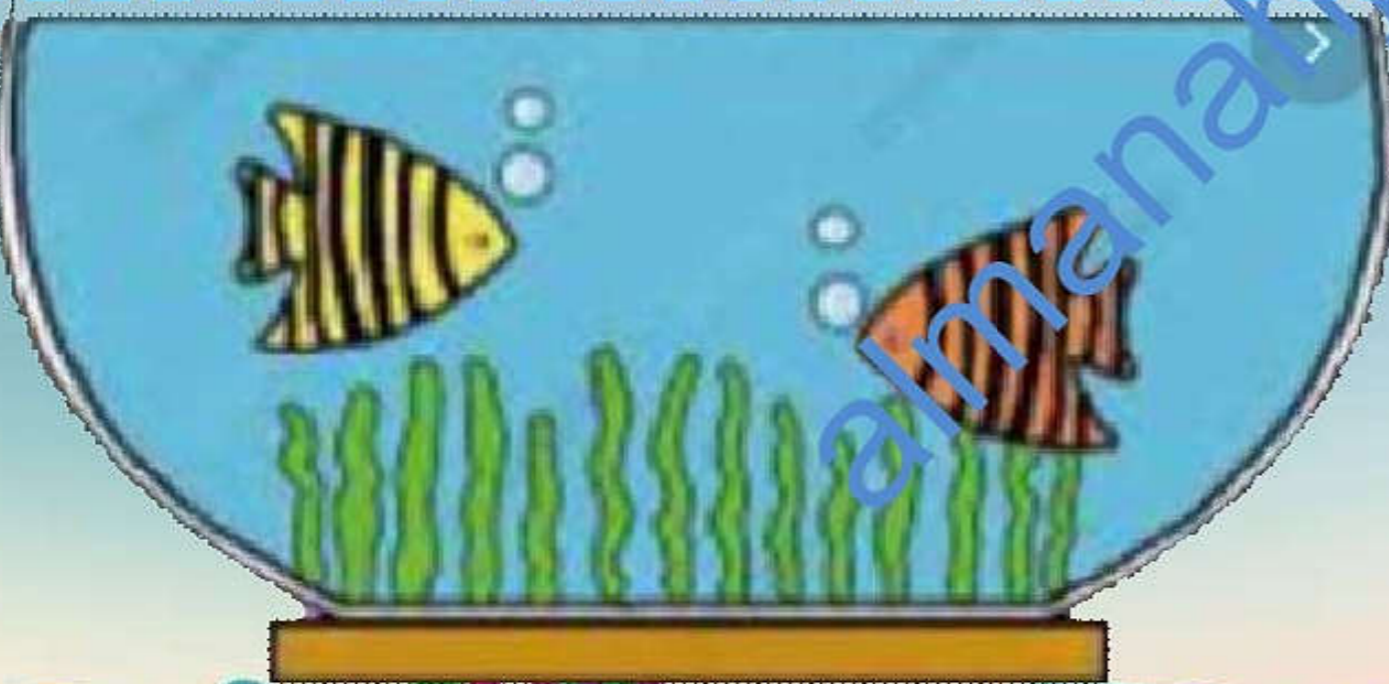


مسائل لفظية (حياتية) :-

في الحوض الصغير سمكتان, وفي الحوض الكبير
نصف ما في الحوض الصغير, كم سمكة في الحوض
الكبير؟

اسمكة

إغلاق الدرس





الواجب المنزلي:-

1- باستخدام الخيط صل كل عدد مع نصفه..

ضعفه

4

2

8

6

10

العدد

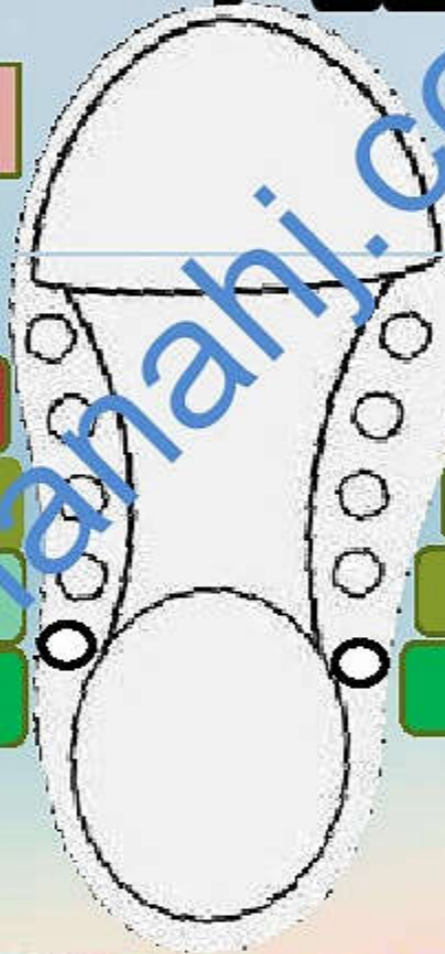
1

2

3

4

5



شكرًا لكم يا طلابي الاعزاء

الى اللقاء

4- ما هو الرقم الذي ضعفه 6 ؟

