

تم تحميل هذا الملف من موقع المناهج العُمانية



\* للحصول على أوراق عمل لجميع الصفوف وجميع المواد اضغط هنا

<https://almanahj.com/om>

\* للحصول على أوراق عمل لجميع مواد الصف الأول اضغط هنا

<https://almanahj.com/om/1>

\* للحصول على جميع أوراق الصف الأول في مادة رياضيات ولجميع الفصول, اضغط هنا

<https://almanahj.com/om/1math>

\* للحصول على أوراق عمل لجميع مواد الصف الأول في مادة رياضيات الخاصة بـ الفصل الثاني اضغط هنا

<https://almanahj.com/om/1math2>

\* لتحميل كتب جميع المواد في جميع الفصول للـ الصف الأول اضغط هنا

<https://almanahj.com/om/grade1>

\* لتحميل جميع ملفات المدرس مجموعة المجال الثاني التربوية الالكترونية اضغط هنا

للتحدث إلى بوت على تلغرام: اضغط هنا

[https://t.me/omcourse\\_bot](https://t.me/omcourse_bot)



الرياضيات للصف الأول

المناهج.com/om



ن و ف ت ا ه

التبتم القبلي:


اكتب في دفترك الجميل الأزواج العددية للعدد 10



almanahj.com



هيا نردد معا أصدقاء  
العشرة



almanahj.com/om

# هيا لنتعرف على درسنا بفتح الصندوق

أنا أحب الرياضيات



أنا ذكي ومبدع





أنا عبقرى وأستطيع





## عبارات أستطيع:

- أستطيع أن استخدم العدد 10 أولاً
- لمساعدتي في العد التصاعدي.
- أستطيع أن أجد رقم مجهول في جملة عددية ، على سبيل المثال  
 $11 = \square + 6$




## الأهداف التعليمية:

- 1Nn4 يبدأ باستخدام الأزواج العددية لـ 10 لتكوين جسر العشرة عند الجمع/الطرح .
- 1Nc17 يتعرف استخدام علامة مثل ( ? ) للتعبير عن قيمة مجهولة.









$$\begin{aligned} 10 &= 10 + 0 \\ 10 &= 9 + 1 \\ 10 &= 8 + 2 \\ 10 &= 7 + 3 \\ 10 &= 6 + 4 \\ 10 &= 5 + 5 \end{aligned}$$

$$10 = 7 + 3$$

$$12 = 7 + 5$$

$$10 = 5 + 5$$

$$9 = 5 + 4$$

$$10 = 2 + 8$$

$$11 = 3 + 8$$

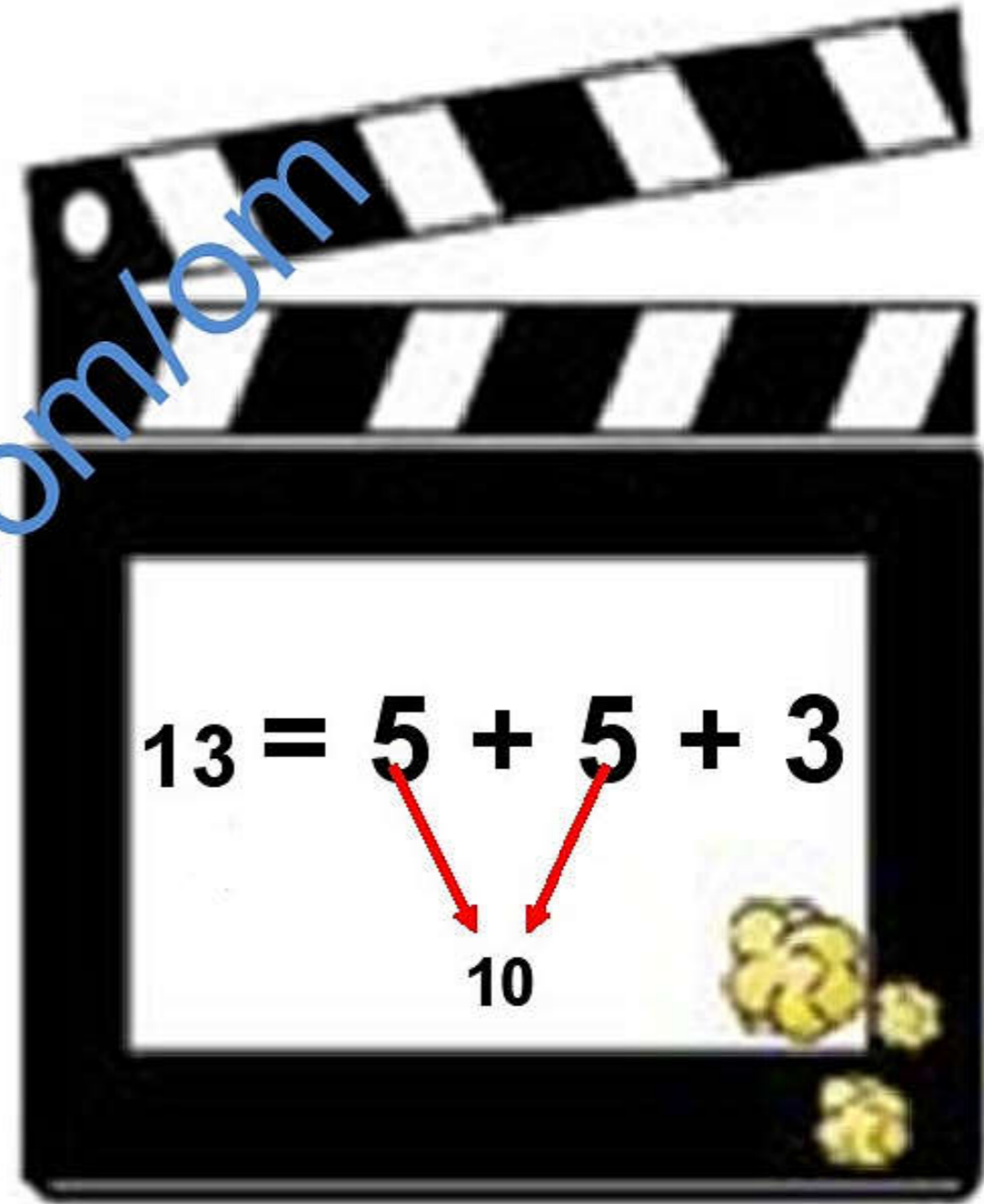
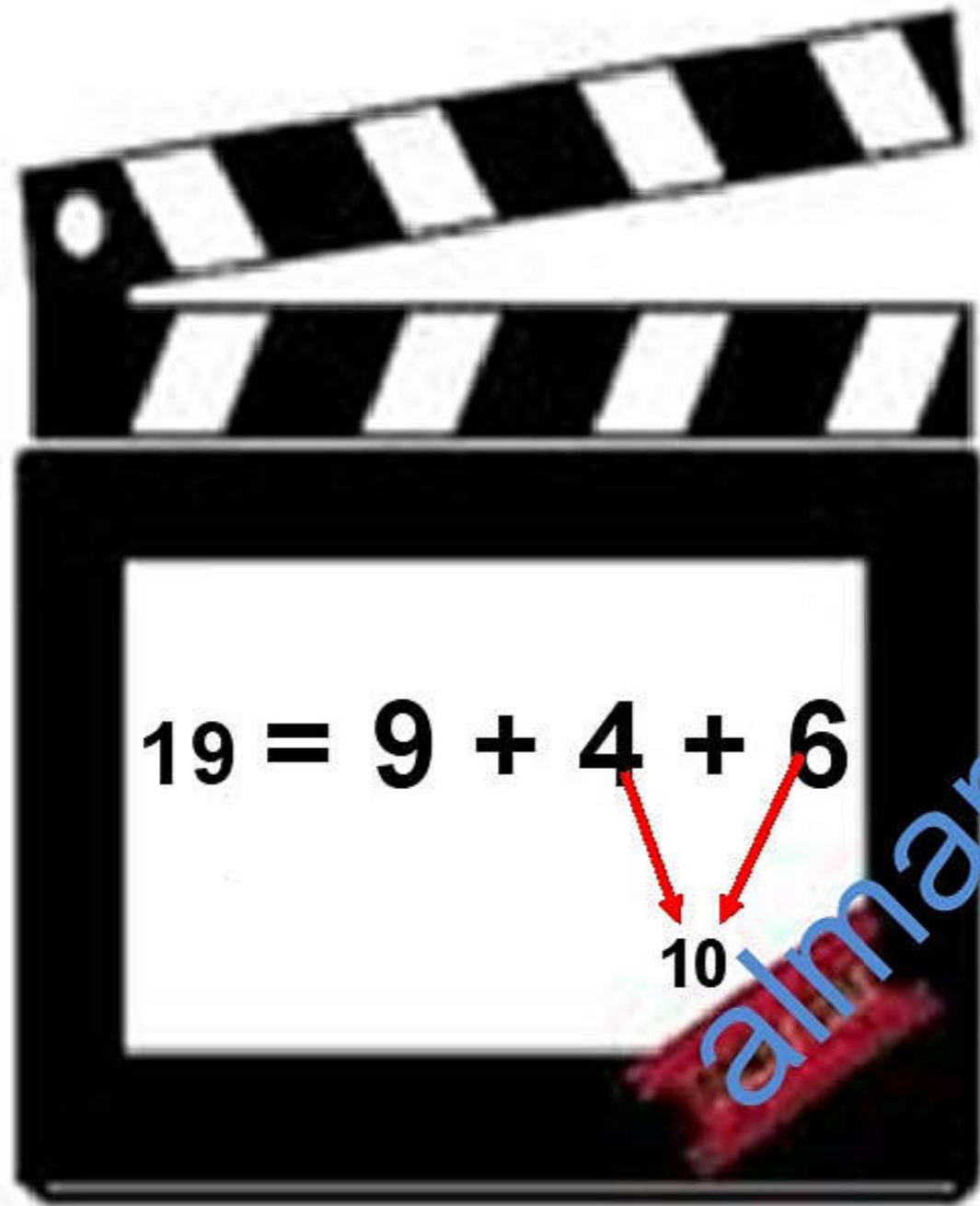


almanahj.com/qom


سیر القرآنی







almanahj.com/om



الوقت  
الرياضة

almanahj.com

## قُرْبَ العَشْرَاتِ

ستحتاج إلى: المضرب ٥، صفحة ٦٣.

المفردات: قُرْب، اجمع، الجمع، المجموع، الجملة العددية، تصنع.

عندما تجمع الأعداد الموجودة على الأكياس مع بعضها، تشكل عدداً قُرْبَ ١٠.  
اكتب العدد الذي من المفترض أن يكون على الكيس الفارغ.

$$\begin{array}{r}
 9 = \boxed{3} + \boxed{6} \\
 11 = \boxed{\phantom{00}} + \boxed{9} \\
 11 = \boxed{\phantom{00}} + \boxed{7} \\
 9 = \boxed{4} + \boxed{\phantom{00}} \\
 11 = \boxed{5} + \boxed{\phantom{00}} \\
 11 = \boxed{3} + \boxed{\phantom{00}}
 \end{array}$$

ملاحظة: استعمال نملة ١٠ لتتأكد من الأعداد المرتبطة.



ساعدوني  
يا  
أصدقائي

فكر جيدا  
يا طالبتي  
المجتهد



### كم تحتاج أكثر؟

كم تحتاج لتصبح أقرب للعشرة؟

إتخذوا زوج العدوية لـ ١٠ لتحديد  
العدد الإضافي لنتقرب لتكوين ١٠.  
ثم أضيف واحدا أو اطرح واحدا.

الوحدة ٣ النشاط الأساسي ٣٣-١ ثوبت العشرة

٤٢





التعليم  
الذاتي  
almanahi.com/om






هيا نلعب ونمرح مع  
الرياضيات بالضغط على  
صورة الطالب المجتهد

مركز التعليم

almanahj.com



ليلى وشخصيات قصتها سيشاركوننا في درسنا جميل ..  
هيا لنلعب معهم



اختر أحد الشخصيات لتجيب عن السؤال يا  
مبدع





$$= 9 + 8 + 6$$



۲۰



۲۱



۱۸



۱۹



@T\_memz\_

$$= 3 + 7 + 0$$



11



9



10



13



@V\_memz\_



= ٤ : ٧ + ٦


١٤

١٧

١٤

١٥





ابدأ

$$6+4=$$

$$9+1+2=$$

$$8+3+5=$$

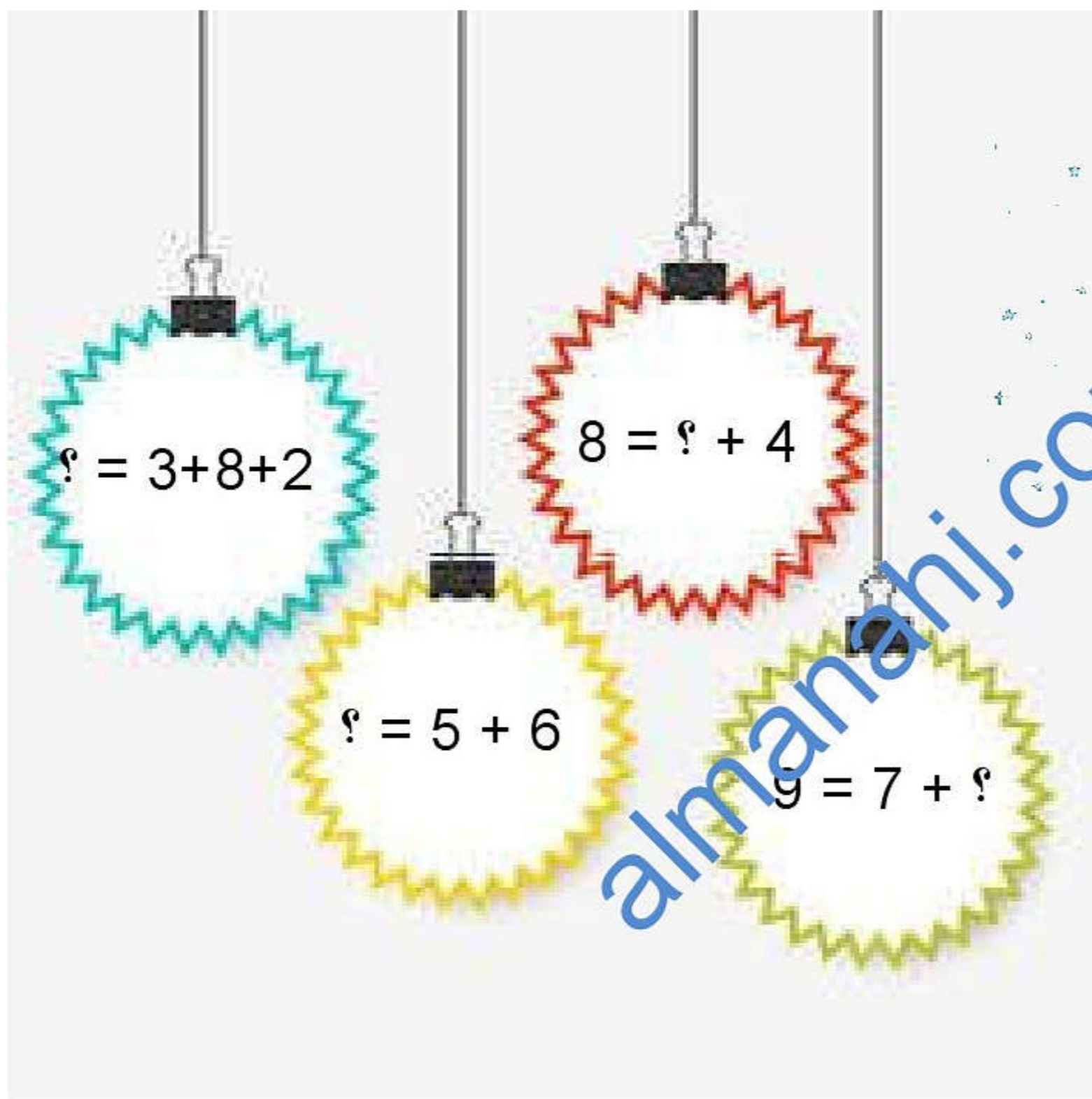
$$6+9=$$

$$2+5+5=$$

@V\_memz\_

# الواجب المنزلي





أوجد ما يلي  
يا بطل :





إلى اللقاء يا  
طلابتي  
المبدعين

almanahi.com/om

