

تم تحميل هذا الملف من موقع المناهج العمانية



## كراسة الأنشطة الشاملة

موقع فايلاتي ← المناهج العمانية ← الصف الأول ← علوم ← الفصل الأول ← ملفات متنوعة ← الملف

تاريخ إضافة الملف على موقع المناهج: 2024-10-27 08:43:09

ملفات اكتب للمعلم اكتب للطالب الاختبارات الكترونية | اختبارات | حلول | عروض بوربوينت | أوراق عمل  
منهج انجليزي | ملخصات و تقارير | مذكرات و بنوك | الامتحان النهائي للمدرس

المزيد من مادة  
علوم:

## التواصل الاجتماعي بحسب الصف الأول



صفحة المناهج  
العمانية على  
فيسبوك

الرياضيات

اللغة الانجليزية

اللغة العربية

التربية الاسلامية

المواد على تلغرام

## المزيد من الملفات بحسب الصف الأول والمادة علوم في الفصل الأول

أنشطة تدريبية

1

سؤال قصير أول نموذج ثاني

2

سؤال قصير أول

3

أنشطة تدريبية وملخص الوحدة الأولى

4

سؤال قصير أول نموذج ثاني

5



سَلْطَنَةُ عُمَانِ  
وَزَارَةُ التَّرْبِيَةِ وَالتَّعْلِيمِ  
المديرية العامة لمحافظة شمال الباطنة  
مدرسة الصويرة الخاصة

# كراسة الأنشطة لمادة العلوم للصف الأول الابتدائي فصل دراسي أول

إعداد أ / كريم أحمد محمود

## الوحدة الأولى

واجب منزلي 1 الكائنات الحية

الدرس الأول النباتات والحيوانات هي كائنات حية  
السؤال الأول ضع علامة (✓) علي الكائنات الحية في الصور  
التي أمامك




( )



( )



( )



( )



( )



( )

السؤال الثاني : ضع علامة (✓) أمام أو علامة (x) فيما يلي :-

- 1- الكرسي كائن حي ( )  
2- الكائن الحي ينمو ويتنفس ( )  
3- النباتات والحشائش كائنات حية ( )

السؤال الثالث : ظلل الشكل الدائري علي يمين الإجابة الصحيحة

- 1- يعتبر ..... شيئاً غير حي  
○ القطة ○ الشجرة ○ الشمس ○ الكلب
- 2- الكائن الحي .....  
○ ينمو ○ يتنفس ○ يتحرك ○ جميع ما سبق
- 3- ..... يأكل وينمو ويتنفس  
○ الحصان ○ القلم ○ التلفاز ○ الطاولة

تابع درس الكائنات الحية والغير حية  
واجب منزلي 2

السؤال الأول : ظلل الشكل الدائري علي يمين الإجابة

1- ..... يعتبر شيء غير حي

○ النباتات ○ الأرنب ○ القطة ○ الكتاب


أي هذه الكائنات هو كائن حي

○ السيارة ○ الدراجة ○ النار ○ الدودة

شيء لا يأكل ولا يشرب ولا يتنفس ولا ينجب صغارا فيما يلي فما هو



○



○



○



○

السؤال الثاني : أمامك بعض الكلمات استعن بها في الإجابة علي السؤال التالي

( قلم - بحر - خروف - كرسي - فيل - نملة )

كائنات حية : ..... ، ..... ، .....

أشياء غير حية : ..... ، ..... ، .....

السؤال الثالث : صف الكائنات التالية إلي كائنات تتغذي و أخرى لا تتغذي



.....



.....



.....

الدرس الثاني البيئات المحلية  
السؤال الأول : ظلل الشكل الدائري علي يمين الإجابة

- 1- يعيش ..... في الماء  
○ القطة ○ الإخطبوط ○ البقرة ○ القرد
- 2- يعيش ..... في الصحراء  
○ السمكة ○ الثعبان ○ الضفدع ○ القرش
- 3- الحيوانات ..... هي التي تعيش في المنزل  
○ البرية ○ المفترسة ○ الأليفة ○ الصغيرة
- 4- يعيش الماعز في .....  
○ المزرعة ○ الماء ○ الهواء ○ الغابة

السؤال الثاني  
صل الحيوان من العمود أ بما يناسبه من بيئة في العمود ب

العمود ب  
الغابة


المنزل

الماء

المزرعة

الصحراء

العمود أ



السؤال الثالث : أجب عن السؤالين الآتيين

أين تبني الطيور أعشاشها ؟

.....


ما الذي يحتاجه النبات لكي ينمو ؟

.....

تابع الدرس الثاني البيئات المحلية

السؤال الأول : اكتب أسفل كل حيوان اسم البيئة التي يعيش فيها

( الغابة - المزرعة - الماء - المنزل )



.....

.....



.....

.....



.....

.....

السؤال الثاني : اكتب الكلمة الدالة علي كل جملة مع الاستعانة بالكلمات الآتية :-  
( مفترسة - أليفة - البيئة )

( )  
( )

1- المكان الذي يعيش فيه الكائن الحي  
2- الحيوانات التي تأكل اللحم

السؤال الثالث : صنف الحيوانات التي أمامك في المكان الصحيح في الجدول

حيوانات مفترسة	حيوانات أليفة



الدرس الثالث ( صغار الحيوانات )  
نشاط منزلي أول



السؤال الأول

- 1- ما اسم الحيوان الموجود بالصورة .....
- 2- هل لديه صغارا .....
- 3- كم عدد صغاره .....
- 4- ما اسم صغير هذا الحيوان .....
- 5- ماذا يأكل هذا الحيوان .....

السؤال الثاني : ظلل الشكل البيضاوي علي يمين الإجابة الصحيحة

- 1- صغير الأسد يسمي  
قطة  هرة  شبل  دغفل
- 2- ..... هو صغير الحصان  
عجل  مهر  جحش  حمل

السؤال الثالث : ضع علامة ( ✓ ) أمام أو علامة ( ✗ ) فيما يلي :-

- 1- الجدي هو صغير الدجاج ( ✓ )
- 2- ينجب الإنسان في العادة طفل واحد ( )
- 3- الجرو هو صغير الكلب ( )

السؤال الرابع : صل كل حيوان بصغيره





تابع الدرس الثالث

صغار الحيوانات

واجب منزلي أول

السؤال الأول : ظلل الشكل البيضاوي علي يمين الإجابة الصحيحة

1-..... هو صغير الدجاجة

○ فرخ ○ مهرة ○ صوص ○ دغفل

2- صغير الفيل يسمى .....

○ دغفل ○ نعجة ○ حمل ○ جدي

2- الدياسم هو صغار

○ الكلب ○ الدب ○ الفيل ○ البقرة

السؤال الثاني ( أَلغاز ) من أنا

1- أنا حيوان لي 4 أرجل وأعيش في الصحراء و أتحمل الجوع والعطش ( )

2- أنا أعيش في المزرعة و ألد صغارا عددهم في الغالب من 4 إلي 5 و أتغذي علي

الخبس والجزر ( )

السؤال الثالث

إذا قمت بعمل حاضنة لقطّة . ماذا تحتاج حتي تصنع حاضنة وتستطيع القطة العيش بداخلها



.....

.....

.....



## الدرس الرابع

### الطعام والشراب الصحي



السؤال الأول : ظلل الشكل الدائري علي يمين الإجابة الصحيحة

- 1-الطعام ..... يفيد الجسم  
○ الملوث ○ الفاسد ○ الصحي ○ الغير صحي
- 2-..... يعتبر طعاما غير صحيا  
○ الألبان ○ الحليب ○ الجبن الطازج ○ الشيبسي

السؤال الثاني : ضع علامة ( √ ) أو علامة ( x ) فيما يلي :-

- 1-الاييس كريم طعام صحي ( )  
2-الطعام الصحي يفيد الجسم ( )  
3-شرب الماء النظيف أمر غير صحي ( )

السؤال الثالث : صنف الأطعمة إلي صحي وغير صحي



السؤال الرابع : ارسم في الطبق وجبة صحية



السؤال الخامس  
محمد طفل بدين لا يستطيع الحركة بسهولة ويعاني من ضيق النفس ذهب محمد إلي الطبيب فنصحه ببعض الأمور  
بماذا نصح الطبيب محمد ؟ .....



مراجعة علي الوحدة الأولى

السؤال الأول : ظلل الشكل البيضاوي علي يمين الإجابة الصحيحة

1- الجدي هو صغير

○ الكلب ○ الفيل ○ الماعز ○ الأسد

2- سمكة القرش كائن

○ حي ولا يتنفس ○ حي يتنفس ○ غير حي ويتنفس ○ لا توجد إجابة صحيحة

3- تناول الكثير من ..... هو أمر صحي

○ الأيس الكريم ○ النقانق ○ الماء ○ البطاطس المقلية

السؤال الثاني : ضع علامة ( √ ) أو علامة ( × ) فيما يلي

( )

1- الجرو هو صغير الكلب


( )

2- الخضروات والفواكه أطعمة ضارة

( )

3- الطعام الصحي هو الطعام الذي يفيد الجسم

السؤال الثالث : صل كلا مما يلي بصغيره



السؤال الرابع : أجب علي السؤال الآتي

انظر إلي الصورة أمامك ثم أجب علي السؤال الآتي

1- من أين نحصل علي الفواكه والخضروات ؟

( من النباتات - من الحيوانات )

2- الخضروات والفواكه ..... الإنسان

( تضر - تفيد )

3- ماذا تحتاج الفواكه والخضروات حتي تتضح ؟

..... ، ..... ، .....



تابع مراجعة علي الوحدة الأولى  
السؤال الأول : ضع علامة ( √ ) أو علامة ( × ) فيما يلي

- 1- بعضنا فاتح اللون وبعضنا داكن ( )  
2- بعضنا يملك شعرا خشنا والبعض الآخر يملك شعرا حريرا ( )  
3- ألوان عيوننا متشابهة ( )

السؤال الثاني : صنف الأطعمة التي أمامك إلى صحي وغير صحي  
( حليب - علكة - مصاصة - دجاج - كولا - سمك )

صحي	غير صحي

السؤال الثالث : قم بوصل اسم كل جزء بالشكل المناسب له

فم

أذن

صدر

ركبة

أصابع قدم

الساق

الفخذ



شعر

أصابع

كتف

العين

الأنف

الجبهة

## الوحدة الثانية

الدرس الأول : أجزاء النبات

نشاط منزلي

السؤال الأول : ضع علامة ( √ ) أو علامة ( × ) فيما يلي

- 1- ينمو الساق أسفل التربة ( )  
2- يتكون النبات من جذور وسيقان فقط ( )  
3- يحتاج النباتات إلي الماء والهواء والضوء حتي تنمو ( )

السؤال الثاني ظلل الشكل الدائري علي يمين الإجابة الصحيحة

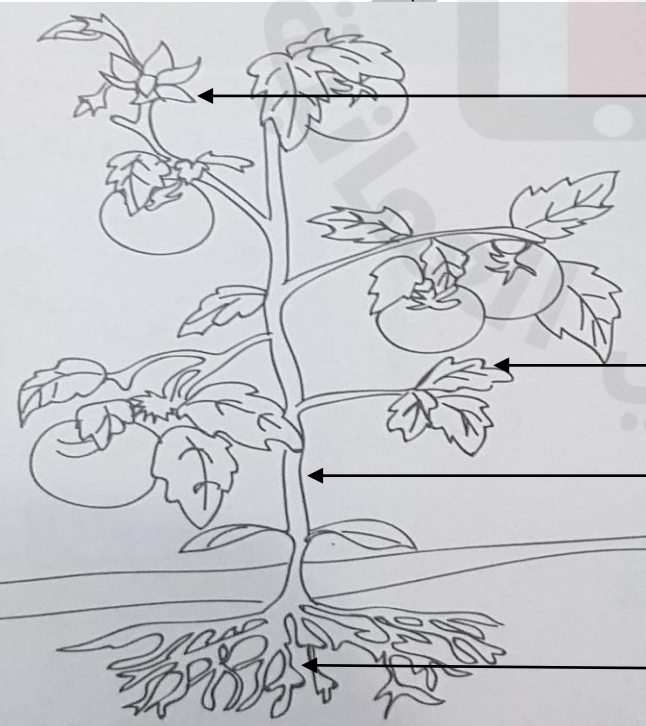
- 1- ينمو ..... أسفل التربة  
○ الأوراق      ○ الجذر      ○ الساق      ○ الأزهار  
2- ألوانها جميلة ورائحتها مميزة  
○ الزهرة      ○ الساق      ○ الورقة      ○ الجذر

السؤال الثالث : ( الغاز )

- 1- أنا جزء من النبات أتواجد تحت التربة .....  
2- أنا المكان الذي ينمو فيه النبات .....  
3- أنا جزء من النبات واللواني رائعة ورائحتي جميلة .....

السؤال الرابع : استعن بالكلمات الآتية للإجابة علي السؤال الآتي  
( ساق - جذر - زهرة - ثمرة - ورقة )

1- اكتب اسم الجزء بجوار الأسهم



2- ماذا يحتاج النبات حتي ينمو ؟

..... ، ..... ، .....

3- لون الثمار باللون الأحمر والورقة والسيقان باللون الأخضر والجذور باللون البني



الدرس الثاني : زراعة البذور

واجب منزلي

السؤال الأول : ظلل الشكل الدائري علي يمين الإجابة الصحيحة

- 1- تحتاج البذور إلي ..... حتي تنمو
- الماء      ○ الهواء      ○ الضوء      ○ الماء والهواء والضوء
- 2- من أمثلة البذور
- الفول      ○ الزهرة      ○ البطاطا الحلوة      ○ البطاطس
- 3- تنمو ..... لتصح نباتا كبيرا
- التربة      ○ البذرة      ○ الزهرة      ○ الماء

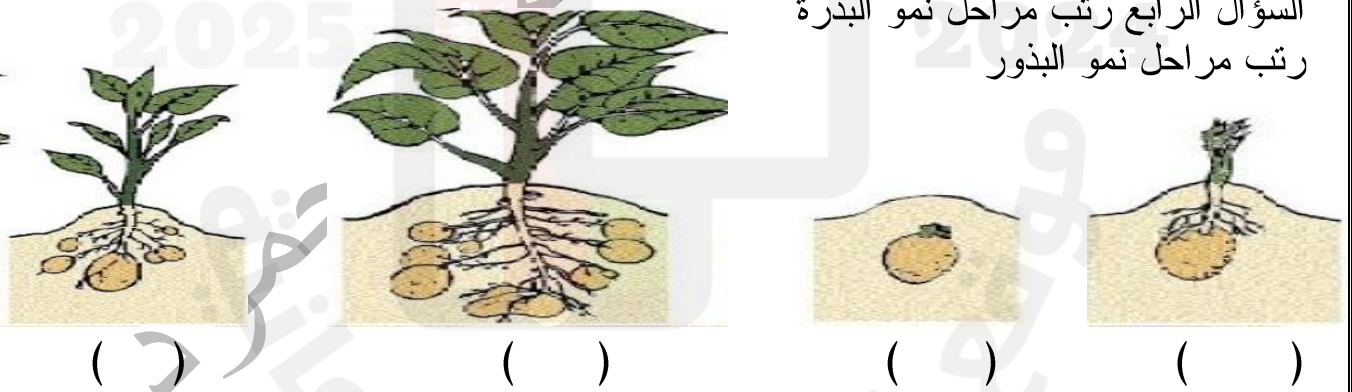
السؤال الثاني : ضع علامة ( √ ) أو علامة ( × ) فيما يلي

- 1- تحتاج البذرة إلي الهواء فقط حتي تنمو ( )
- 2- ينمو الساق أولا ثم الجذر الأوراق ( )
- 3- تنمو الزهرة لتصبح نبتة ( )

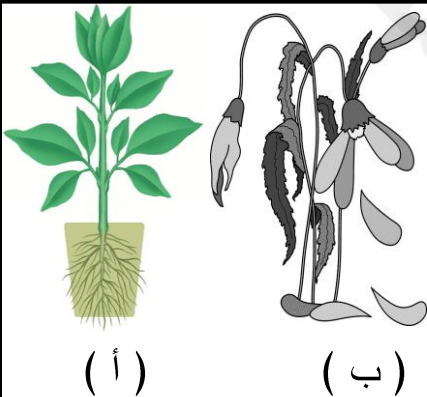
السؤال الثالث : صل من ( أ ) ما يناسبه من ( ب )

- ( أ )
- 1- الجذر
- 2- الساق
- 3- الأوراق
- ( ب )
- الثالثة
- الأول
- الثاني

السؤال الرابع رتب مراحل نمو البذرة  
رتب مراحل نمو البذور



السؤال الخامس : أمامك نبتتين انظر إليهما جيدا ثم أجب عما يلي



- 1- ما النبات الذي بشكل طبيعي أ أم ب
- 2- ما النبات الذي لم يتعرض للضوء ولم يسقي بالماء ؟
- 3- ماذا يحتاج النبات حتي ينمو ..... ، ..... ، .....

### الدرس الثالث

### النبات والضوء

السؤال الأول ظل الشكل الدائري علي يمين الإجابة الصحيحة

- 1- ينمو ..... في اتجاه الضوء
- النبات      ○ التربة      ○ القط      ○ الإنسان
- 2- يحتاج النبات لينمو إلي .....
- الطعام      ○ الصوت      ○ الضوء      ○ الظلام
- 3- يذبل النبات في .....
- الماء      ○ الظلام      ○ الضوء      ○ التربة

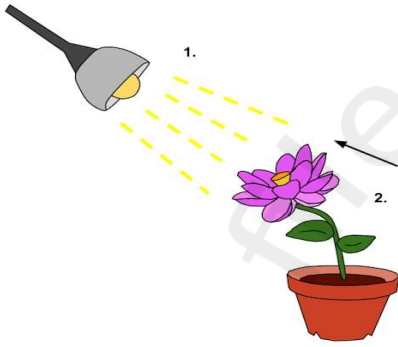
السؤال الثاني : صل من ( أ ) ما يناسبه من ( ب )

المجموعة أ

- 1- يحتاج النبات إلي الطعام والصوت
- 2- لا يحتاج النبات إلي الماء والضوء

المجموعة ب

السؤال الثالث : أجب عن السؤال الآتي



- 1- لماذا ينحني النبات ؟ .....
- 2- ماذا يحتاج النبات حتي ينمو ؟ ..... ، ..... ، .....
- 3- إذا قام محمد بتغطية النبات بصندوق كرتوني خوفا عليه من الرياح والطيور هل تؤيد محمد فيما فعله ؟

4- ماذا يحدث لنبتة محمد في هذه الحالة ؟



السؤال الرابع : أكمل ما يلي

- 1- تميل النباتات تجاه .....
- 2- يذبل النبات في .....
- 3- نسقي النبات بـ .....

### الوحدة الثالثة

الدرس الأول ( نحن متشابهون )

السؤال الأول ظلل الشكل الدائري علي يمين الإجابة الصحيحة

- 1- كلنا متشابهون في .....  
○ لون الشعر ○ طول الشعر ○ وجود الذراعين ○ طول الذراعين
- 2- كلنا متشابهون في .....  
○ لون الشعر ○ طول الشعر ○ وجود الشعر ○ ملمس الشعر
- 3- كلنا يملك .....  
○ طائرة ○ دراجة ○ سيارة ○ عینان

السؤال الثاني : ضع علامة ( √ ) أو علامة ( × ) فيما يلي

- 1- بعض البشر ليس لديهم أذن ( )
- 2- كلنا يملك فم ( )
- 3- جميع أعیننا بنية اللون ( )

السؤال الثالث : ارسم الأشياء التي تتشابه في هذين الوجهين



السؤال الرابع أكمل ما يلي مستعيناً بالكلمات الآتية

( الماء - أنفا - الطعام - الكولا )

- 1- كلنا لدينا .....
- 2- كلنا نأكل .....
- 3- كلنا نشرب .....

السؤال الخامس : انظر إلي الصور المقابلة فيما تتشابه أجسام الأولاد



- 1-
- 2-
- 3-



الدرس الثاني : نحن مختلفون  
السؤال الأول : أكمل ما يلي باستخدام الكلمات الآتية :

( أولاد - نحيف - طويل - مختلف )

- 1- بعضنا بنات وبعضنا .....
- 2- بعضنا بدين وبعضنا .....
- 3- أطوالنا ومظهرنا الخارجي.....

السؤال الثاني : ظلل الشكل الدائري علي يمين الإجابة الصحيحة

1- بعضنا يملك عيوننا زرقاء والبعض يملك عيوننا .....

○ حمراء      ○ صفراء      ○ بنية      ○ بيضاء

2- بعضنا يمتلك شعرا طويلا وبعضنا يملك شعرا

○ قصيرا      ○ ناعما      ○ خشنا      ○ لا توجد إجابة صحيحة

3- نحن نختلف في

○ الطول      ○ الشكل      ○ اللون      ○ جميع ما ذكر صحيح

السؤال الثالث : ضع علامة ( √ ) أو علامة ( × ) فيما يلي

1- نختلف في ملمس الشعر ( )

2- نتشابه جميعنا في لون العيون ( )

3- نحن نتشابه في الطول ( )

السؤال الرابع :

اذكر ثلاثة أشياء مختلفة بين احمد وفاطمة



- 1-
- 2-
- 3-

الدرس الثالث : أجسامنا  
نشاط منزلي

السؤال الأول : أكمل ما يلي باستخدام بعض الكلمات الآتية

(عشر - ذراعان - هواء - عينان - خمس)

- 1- يوجد في اليدين.....أصابع
- 2- نحن لدينا .....
- 3- يوجد في الوجه .....

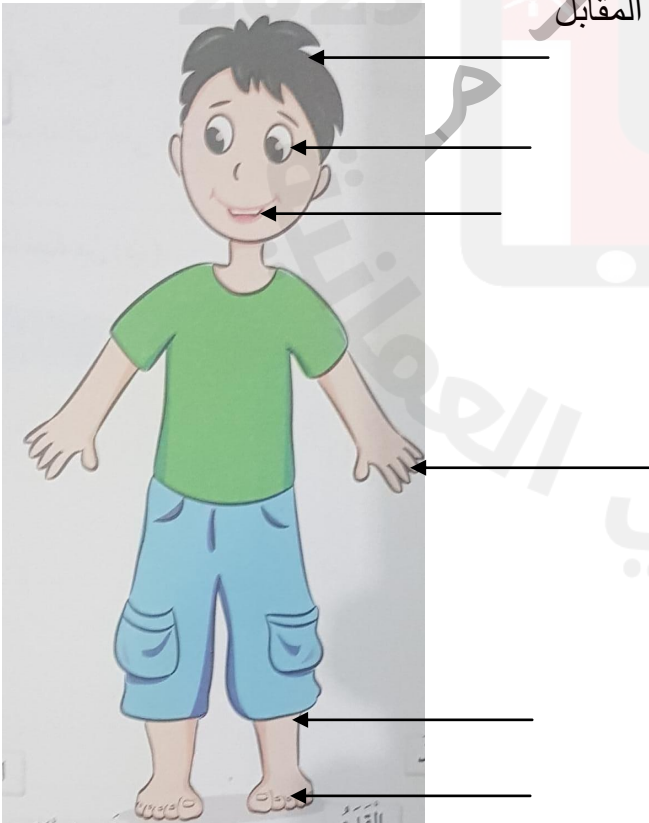
السؤال الثاني : السؤال الثالث : ضع علامة (√) أو علامة (×) فيما يلي:-

- (1) نملك زراعا واحدا ( )
- (2) يوجد الكوع في الساق ( )
- (3) نملك انفا واحدة ( )

السؤال الثالث : ظلل الشكل الدائري على يمين الإجابة الصحيحة

- 1- يوجد الفم في.....  
○ القدم      ○ الكتف      ○ الوجه      ○ الزراع
- 2- يوجد القفص الصدري في منطقة  
○ الرأس      ○ الصدر      ○ البطن      ○ الزراع
- 3- نمتلك .....التي تساعدنا على الركض  
○ الرجل      ○ اليد      ○ الشعر      ○ الأذن

السؤال الرابع: أكتب البيانات بجوار كل سهم في الشكل المقابل



الدرس الرابع : حواسنا الرائحة

السؤال الأول : ظلل الشكل الدائري على يمين الإجابة الصحيحة

1- الحواس عددها .....

○ ثلاثة ○ أربعة ○ خمسة ○ ستة

2- العضو المسئول عن رؤية الأشياء من حولنا



3- نحن نعرف رائحة الطعام عن طريق حاسة .....

○ اللمس ○ السمع ○ التذوق ○ الشم

السؤال الثاني : السؤال الثالث : ضع علامة (√) أو علامة (×) فيما يلي:-

( 1 ) نحدد الأشياء الناعمة أو الخشب عن طريق حاسة اللمس ( )

( 2 ) الأنف عضو نرى به الأشياء المحيطة بنا ( )

( 3 ) الجلد هو المسئول عن حاسة اللمس ( )

السؤال الثالث : انظر إلى الصورتين الموجودتين أمامك ثم أجب عن السؤال الآتي :



( ب )



( أ )

1- نفرق بين المادتين عن طريق حاسة .....

2- المادة..... طعمها ملح

3- المادة..... طعمها حلو

4- العضو المسئول عن معرفة نوع المادة هو.....

السؤال الرابع : أجب عن السؤال الآتي :

1- لرؤية الأزهار وأوراق الشجر في الصورة تستخدم حاسة .....

2- للتعرف على رائحة الزهور تستخدم حاسة .....

3- اذكر باقي الحواس الأخرى

.....، .....، .....



تابع الدرس الرابع ( الحواس الخمسة )

نشاط منزلى

السؤال الأول : اكتب الحواس فى الفراغات المناسبة

( البصر - اللمس - السمع - التذوق - الشم )



السؤال الثاني : السؤال الثالث : ضع علامة (√) أو علامة (×) فيما يلى:-

( 1 ) تستخدم الحيوانات الحواس للبحث عن الطعام ( )

( 2 ) الحاسة القوية عند الصقر هي حاسة اللمس ( )

السؤال الثالث

( 1 ) لماذا يستخدم رجال الشرطة الكلاب فى بعض أعمالهم ؟

( 2 ) لماذا يمتلك الفيل أذنان كبيرة ؟

السؤال الرابع : ظلل الشكل الدائري على يمين الإجابة الصحيحة

1- نشم رائحة الطعام فى المطبخ بـ.....

○ الأنف ○ الفم ○ الجلد ○ اللسان

2- نفرق بين الشاى الساخن والبارد عن طريق

○ الجلد ○ العين ○ الأذن ○ الأنف

السؤال الخامس : طلب المعلم من فاطمة أن تضع يديها علي عينيها ثم وضع نوعين من الفواكه

والخضروات ثم طلب منها التعرف عليهما دون النظر لهما

كيف تستطيع فاطمة التعرف عليهما ؟

..... ، .....



مراجعة على الوحدة الثالثة ( نحن )

السؤال الأول : أكتب اسم الحاسة المستخدمة لكل مما يلي

( حاسة الشم – حاسة البصر – حاسة اللمس – حاسة التذوق – حاسة الشم )

- 1- لمعرفة رائحة العطور نستخدم .....
- 2- لمشاهدة مباراة كرة قدم نستخدم .....
- 3- لتحديد نعومة الملابس أو خشونتها نستخدم .....
- 4- للتمييز بين صوت القطة والبقرة نستخدم .....
- 5- لتذوق عصير المانجو نستخدم .....

السؤال الثاني : ظلل الشكل الدائري على يمين الإجابة الصحيحة

1- يملك الإنسان في جسمه .....

○ رأساً واحدة ○ رأسين ○ ثلاث رؤوس ○ لا توجد إجابة صحيحة

2- يتكون الساق في الإنسان من

○ فخذ وركبه وقدم ○ فخذ وكوع وبطن ○ كوع وركبه ومعصم ○ فخذ وقدم وخصر للأنف

3- جسم الإنسان بالترتيب .....

○ رأس – صدر – رجل – بطن ○ صدر – رأس – أرجل – بطن

○ رأس – صدر – بطن – أرجل ○ أرجل – بطن – صدر – قدم

السؤال الثالث :

أحضر معلم زجاجتان أحدهما بها خل والأخرى بها ماء

وطلب من سعيد التمييز بينهما عند سكب كل منهما في كوب ؟



..... ، .....



اختبار قصير على الوحدة الأولى اختبار  
السؤال الأول : ظل الشكل البيضاوي على يمين الإجابة الصحيحة

- 1- تلد الأم في الغالب  
○ طفلان  
○ ثلاثة أطفال  
○ طفل واحد  
○ أربعة أطفال
- 2- يعيش الأسد في  
○ المزرعة  
○ الصحراء  
○ البحر  
○ الغابة
- 3- الصوص هو صغير  
○ الدجاج  
○ الكلب  
○ الأسد  
○ الفيل

السؤال الثاني : صل كل حيوان بالبيئة المحلية التي يعيش فيها



الغابة



الصحراء



البحر



المزرعة

السؤال الثالث : صنف الأطعمة التالية إلى طعام صحي وغير صحي



.....



.....



.....

السؤال الرابع: أمامك صورة كائن حي تعرف عليه ثم أجب عما يلي:-



- 1- ما اسم الكائن ؟  
2- ما اسم صغيره ؟  
3- أين يعيش ؟  
4- هل هذا الكائن يلد أم يبيض ؟  
5- لماذا يمتلك الكائن خف عريض في أقدامه ؟

اختبار قصير على الوحدة الثانية

السؤال الأول : ظلل الشكل الدائري على يمين الإجابة الصحيحة

- 1- تنتج الزهرة .....  
○ الساق ○ البذور ○ الورق ○ الجذور
- 2- ينمو.....أسفل التربة  
○ الساق ○ الجذر ○ الورقة ○ الزهرة
- 3- يحتاج النبات إلى .....لكي ينمو  
○ الماء ○ الضوء ○ الظلام ○ الضوء والماء

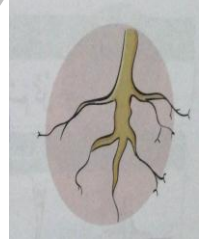
السؤال الثاني : ضع دائرة حول الاسم الصحيح أسفل كل صورة



( جذر - زهرة )



( جذر - ساق )



( ورقة - ثمرة )

السؤال الثالث: أكمل ما يلي مستعينا ببعض الكلمات الآتية

( الورق - البذر - السيقان - الزهرة - الثمار )

- 1- يعتبر الفول من.....  
2- تنقل الماء والأملاح من الجذور إلى الورق.....  
3- جزء من النبات ألوانه رائعة جذابة ورائحته جميلة.....

السؤال الرابع

1- هل هذا النبات حي أم شيء غير حي ؟

2- اكتب الأجزاء المشار إليها بالسهم ؟

3- ماذا يحتاج النبات حتى ينمو؟ .....

4- صح أو خطأ

( أ ) ينمو الساق أعلى التربة ( )

( ب ) التفاح من البذور ( )



( ج ) يجب غسل الثمار قبل تناولها ( )

اختبار قصير على الوحدة الثالثة

السؤال الأول : ظلل الشكل الدائري على يمين الإجابة الصحيحة

1- يوجد في جسم الإنسان

○ حاجب ○ حاجبان ○ حاجب ○ 4 حواجب

2- حاسة البصر هي الحاسة التي ..... بها

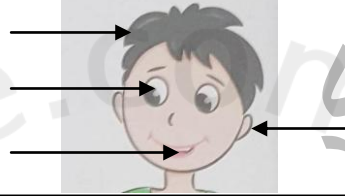
○ نتذوق ○ نرى ○ نسمع ○ نشم

3- نتذوق الطعام بـ.....

○ العين ○ اللسان ○ الأصابع ○ بالأنف

السؤال الثاني : استعن ببعض من الكلمات الآتية للإجابة

( الحاجب - الرجل - الشعر - العين - البطن - الفم - الأنف - الأذن )



السؤال الثالث: اكتب عدد ما نملكه

1- اليد ..... 2 - الأنف ..... 3 - الركبة.....

السؤال الرابع: صل من العمود ( أ ) ما يناسبه من العمود ( ب )

( ب )

( أ )

1- حاسة الشم



2- حاسة البصر:



3- حاسة اللمس



السؤال الخامس : أمامك قطة وفأر انظر إليهما جيدا ثم أجب عن الأسئلة الآتية

1- هل تستطيع القطة أن ترى ؟

2- هل يستطيع الفأر أن يسمع ؟

3- هل يستطيع الفأر أن يسمع ؟

4- ما الحواس التي يمكن أن يستخدمها القط لمعرفة الفأر والهجوم عليه ؟

