

شكراً لتحميلك هذا الملف من موقع المناهج العمانية



تدريبات على الجمع والطرح

موقع المناهج ← المناهج العمانية ← الصف الأول ← رياضيات ← الفصل الثاني ← الملف

التواصل الاجتماعي بحسب الصف الأول



روابط مواد الصف الأول على تلغرام

[الرياضيات](#)

[اللغة الانجليزية](#)

[اللغة العربية](#)




[التربية الاسلامية](#)

المزيد من الملفات بحسب الصف الأول والمادة رياضيات في الفصل الثاني

مذكرة غير محلولة	1
تدريبات على الجمع والطرح بواسطة خط الأعداد	2
تدريبات على الجمع والطرح	3
ملف الإنجاز للطلاب	4
مذكرة مفكر غير محلولة	5

تدريبات على الطرح:




اكتب ناتج عملية الطرح:



١. أسماء اللزامي

تدريبات على الطرح:

اكتب ناتج عملية الطرح:



١. أسماء اللزامي

تدريبات على الجمع

أوجد ناتج الجمع:

$$\square = 2 + 8$$

$$\square = 6 + 2$$

$$\square = 3 + 4$$

$$\square = 4 + 0$$

$$\square = 2 + 7$$

$$\square = 1 + 3$$

$$\square = 4 + 6$$

$$\square = 3 + 7$$

$$\square = 0 + 0$$

$$\square = 4 + 4$$

$$\square = 2 + 4$$

$$\square = 3 + 6$$

$$\square = 3 + 3$$

$$\square = 2 + 3$$

$$\square = 2 + 0$$

$$\square = 1 + 2$$

تدريبات على الجمع

أوجد ناتج الجمع:

$$\square = 2 + 8$$

$$\square = 6 + 2$$

$$\square = 3 + 4$$

$$\square = 4 + 0$$

$$\square = 2 + 7$$

$$\square = 1 + 3$$

$$\square = 4 + 6$$

$$\square = 3 + 7$$

$$\square = 0 + 0$$

$$\square = 4 + 4$$

$$\square = 2 + 4$$

$$\square = 3 + 6$$

$$\square = 3 + 3$$

$$\square = 2 + 3$$

$$\square = 2 + 0$$

$$\square = 1 + 2$$