

تم تحميل هذا الملف من موقع المناهج العُمانية



* للحصول على أوراق عمل لجميع الصفوف وجميع المواد اضغط هنا

<https://almanahj.com/om>

* للحصول على أوراق عمل لجميع مواد الصف الأول اضغط هنا

<https://almanahj.com/om/1>

* للحصول على جميع أوراق الصف الأول في مادة رياضيات ولجميع الفصول, اضغط هنا

<https://almanahj.com/om/1math>

* للحصول على أوراق عمل لجميع مواد الصف الأول في مادة رياضيات الخاصة بـ الفصل الثاني اضغط هنا

<https://almanahj.com/om/1math2>

* لتحميل كتب جميع المواد في جميع الفصول للـ الصف الأول اضغط هنا

<https://almanahj.com/om/grade1>

* لتحميل جميع ملفات المدرس مجموعة المجال الثاني التربوية الالكترونية اضغط هنا

للتحدث إلى بوت على تلغرام: اضغط هنا

https://t.me/omcourse_bot



التعلم القبلي:-
العد تصاعديا و تنازليا



almanahi.com/lom

التمهيد:-

ضِعْفُ الْعَدَدِ الثَّانِي هُوَ أَرْبَعَةٌ.

			●	●
			●	●

هَلْ يُمَكِّنُكَ أَنْ تَجِدَ الضَّعْفَ لِأَعْدَادٍ أُخْرَى؟




almanahji.com/om

ضعف العدد 3 =



ضعف العدد 2 =



اختر الإجابة الصحيحة :-

ضعف العدد 4 هو :-

2 6 8

ضعف العدد 5 هو :-

10 15 20

الأهداف التعليمية :-

1Nc6

يجد قرب المضاعفات باستخدام الأضعاف المعروفة له

أستطيع.....

إيجاد قرب المضاعفات باستخدام الأضعاف المعروفة



مفردات الدرس

الضعف هو
تكرار العدد مرة أخرى

قرب الضعف هو
العدد الذي يكون أقل أو أكثر
بواحد من ضعف العدد

قرب الضعف



الضعف و قرب الضعف

almanahj.com/om



المُفردات

قُرْبُ الضَّعْفِ

مثال:




١٣ قُرْبُ ضَعْفِ العَدَدِ ٦



١١ قُرْبُ ضَعْفِ العَدَدِ ٦

يا الله! ... جهازُ التَّكْوِينِ الكَمْبِيوتَرِ.

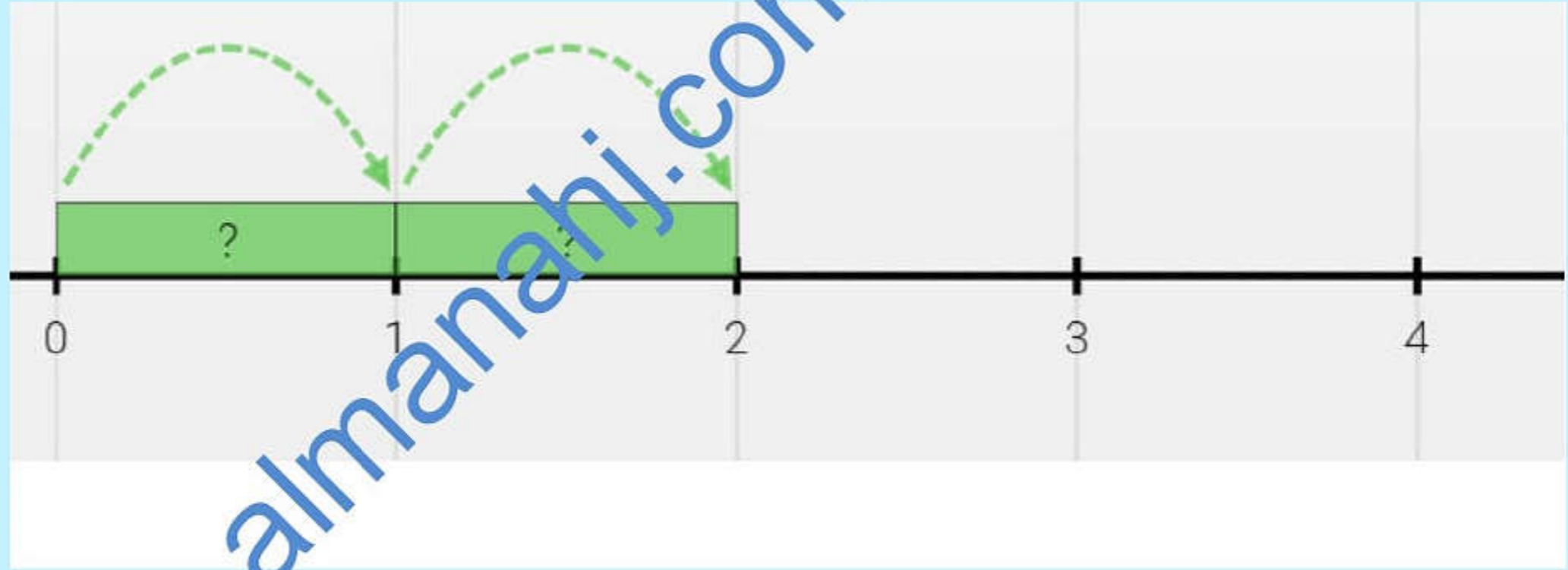


ما الأعدادُ التي يُمكنُ أن يَكونَ قَد تمَّ إدخالُها؟





إذا توقفت طائرة أحمد عند العدد 2 ما هو ضعف العدد 2



الآن هيا يا عباقرة نوجد قرب الضعف

ما هو قريب ضعف العدد 2



١٠

٢٠



almanahi.com/om



٣ ريال



٢ ريال



٣ ريال



٢ ريال



١ ريال



١ ريال



٢ ريال

هيا انظر إلى القائمة التالية و أجب

ثمن الحليب مع البيض هو.....

ضعف العدد هو..... قرب الضعف هو


ما ثمن الفواكه مع الخبز؟.....

ضعف العدد هو..... قرب الضعف

هو.....



أي برج من الأبراج التالية هو قرب الضعف للعدد 3 :-





الواجب المنزلي:-

انقل في دفترك الجدول التالي واكمل ضعف العدد وقرب الضعف

العدد	الضعف	قرب الضعف
2		
3		
4		

تفريد التعلم:-

أوضح لهم إن كل ضعف يمكن أن نضيف له واحد أو نستبعد منه واحد لنحصل على قرب الضعف , و أن هناك عدداً مختلفان قرب الضعف لكل عدد



تحديهم بإعطائهم أضعاف و قرب الأضعاف لأعداد أكبر مثل 12
أو 24 فيصبح العدد 23 و 25 هم قرب ضعف العدد 12



اغلاق الدرس

يكتب أحمد أضعاف الأعداد كما في الجدول التالي:-

العدد	ضعفه
٢	٤
٣	٦
٤	٥

صوب الخطأ الذي وقع فيه
أحمد

ثم قرب الضعف



هل أستطيع أن أجد الضعف وقرب الضعف



أنا لم أفهم وأحتاج
إلى بعض المساعدة.



أنا لم أفهم
الدرس تماماً اليوم.



أنا فهمت الدرس
اليوم.

almanahj.com



مع السلامة يا
أبطال

