

تم تحميل هذا الملف من موقع المناهج العُمانية



\*للحصول على أوراق عمل لجميع الصفوف وجميع المواد اضغط هنا

<https://almanahj.com/om>

\* للحصول على أوراق عمل لجميع مواد الصف الأول اضغط هنا

<https://almanahj.com/om/1>

\* للحصول على جميع أوراق الصف الأول في مادة علوم ولجميع الفصول, اضغط هنا

<https://almanahj.com/om/1science>

\* للحصول على أوراق عمل لجميع مواد الصف الأول في مادة علوم الخاصة بـ الفصل الأول اضغط هنا

<https://almanahj.com/om./1science1>

\* لتحميل كتب جميع المواد في جميع الفصول للـ الصف الأول اضغط هنا

<https://almanahj.com/om./grade1>

\* لتحميل جميع ملفات المدرس صالحة شايع الراسبية و أمل الهاشمية و سليمة الهاشمية و سألمة المدهوشية اضغط هنا

للتحدث إلى بوت المناهج العمانية على تلغرام: اضغط هنا

[https://t.me/omcourse\\_bot](https://t.me/omcourse_bot)



مملكة الأردن  
وزارة التربية والتعليم

# الأول الصف

## الأول

المعلمات المعدات لأدوات التقويم

أ. صالحه شايع الراسبيه / أ. أمل الهاشميه

أ. سالمه المدهوشيه / أ. سليمه الهاشميه

متابعه منسقه الماده : رايه البلوشيه

مشرفه التقويم / فاطمه المسكريه

الفصل الدراسي الأول  
الطبعة المبره ١٤٣٩ هـ - ٢٠١٧ م

CAMBRIDGE  
UNIVERSITY PRESS

نموذج الاجابة للسؤال القصير ٢ للمادة العلوم للصف الأول

الموضوع	مستوى التعليم	الدرجة	الإجابة	الم فر دة
<u>حواسنا</u>	معرفة	١	العين	١
<u>حواسنا</u>	معرفة	١	<p>سماعة الهاتف ← الأذن</p> <p>رائحة البيتزا ← الأنف</p>	٢
<u>اجزاء الجسم</u>	تطبيق	١	<u>رسم الأنف والأنثين</u>	٣
<u>اجزاء الجسم</u> <u>+ حواسنا</u>	تطبيق	٢	<p>أجزاء الجسم ( يد - لسان)</p> <p>الحواس ( تذوق - لمس)</p>	٤

١) ظلل الشكل البيضاوي يمين الإجابة الصحيحة: (درجة):

صغير الدجاجة يسمى:

عجل  صوص  مهرة  صنخل

٢) أكمل: (درجة):

\* تعيش الحيوانات المفترسة كالنمر والاسد في.....

٣) صنف هذه الكلمات الى كائنات حية وأشياء غير حية: (درجتان):

شجرة  قلم  نهر  أرنب

أشياء غير حية

كائنات حية

٤) أجب بنعم أو لا .

( درجة )

يعتبر البرجر  وجبة صحية

- نعم - لا

فسر ذلك . \_\_\_\_\_

نموذج الاجابة للواجب المنزلي ١ للمادة العلوم للصف الأول

المفردة	الإجابة	الدرجة	مستوى التعليم	الموضوع
١	صوص	١	معرفة	<u>صغار</u> <u>الحيوانات</u>
٢	الغابة	١	معرفة	<u>بيئات</u> <u>الحيوانات</u>
٣	<u>كاننات حية ( شجرة – أرنب)</u> <u>أشياء غير حية (قلم – نهر)</u>	٢	تطبيق	<u>الكاننات</u> <u>الحية والغير</u> <u>الحية</u>
٤	لا لانة يسبب السمنة	١	تطبيق	الأكل الصحي

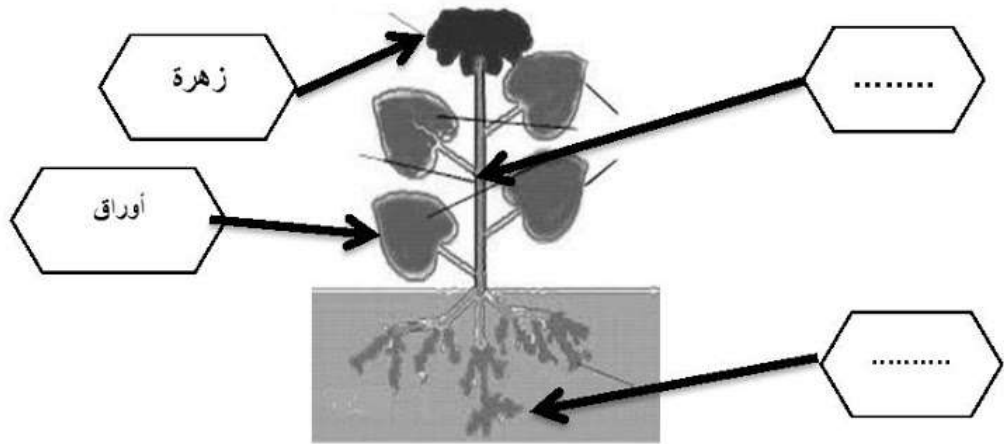
اسم الطالب/ة:.....	السؤال القصير (١)	سلطنة عمان
الصف: ١/....	لمادة العلوم للصف الأول	وزارة التربية والتعليم
الدرجة الكلية: ٥/....	(الوحدة الثانية)	المديرية العامة بمحافظة جنوب الشرقية
		مدرسة سيح السندة للتعليم الأساسي (١-٤)

١) ظلل الشكل البيضاوي يمين الإجابة الصحيحة: (معرفة/ درجتين):

يحتاج النبات لكي ينمو إلى:

الملابس     الماء     الضوء     الموسيقى     السماد

٢) أكمل اسم جزء النبتة الناقص في الرسمة التي أمامك : (درجة):



٣) زرع سالم ويوسف بذور اللوبيا. كان سالم يسقي البذور بالماء يوميا، و يوسف لا يسقيها بالماء. بعد ٣ أيام وضح بالرسم كيف ستمو البذور.



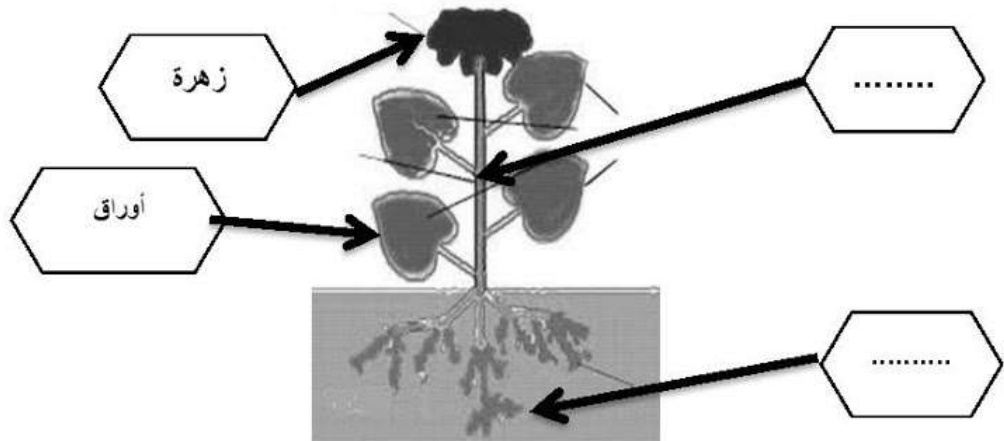
اسم الطالب/ة:.....	السؤال القصير (١)	سلطنة عمان
الصف: ١/....	لمادة العلوم للصف الأول	وزارة التربية والتعليم
الدرجة الكلية: ٥/....	(الوحدة الثانية)	المديرية العامة بمحافظة جنوب الشرقية
		مدرسة سيح السندة للتعليم الأساسي (١-٤)

١) ظلل الشكل البيضاوي يمين الإجابة الصحيحة: (معرفة/ درجتين):

يحتاج النبات لكي ينمو إلى:

- الملابس   
 الماء   
 الضوء   
 الموسيقى   
 السماد

٢) أكمل اسم جزء النبتة الناقص في الرسمة التي أمامك : (درجة):



٣) زرع سالم ويوسف بذور اللوبيا. كان سالم يسقي البذور بالماء يوميا، و يوسف لا يسقيها بالماء. بعد ٣ أيام وضح بالرسم كيف ستمو البذور.



١) ظلل الشكل البيضاوي يمين الإجابة الصحيحة: (معرفة/ درجة):

الجزء المسؤول عن البصر هو:



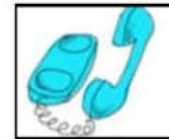
٢) صل بين الحاسة والجزء المناسب لها : ( معرفة/ درجة):

الجزء

.....



الحاسة



٣) ارسم الجزء الناقص في الرأس والوجه : (تطبيق/ درجة)



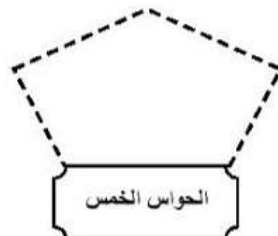
٤) صنف الكلمات التالية: (تطبيق/ درجتين):

لسان

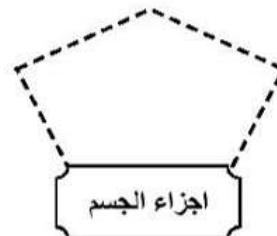
لمس

تذوق

يد



الحواس الخمس



اجزاء الجسم