

تم تحميل هذا الملف من موقع المناهج العُمانية



* للحصول على أوراق عمل لجميع الصفوف وجميع المواد اضغط هنا

<https://almanahj.com/om>

* للحصول على أوراق عمل لجميع مواد الصف الأول اضغط هنا

<https://almanahj.com/om/1>

* للحصول على جميع أوراق الصف الأول في مادة رياضيات ولجميع الفصول, اضغط هنا

<https://almanahj.com/om/1math>

* للحصول على أوراق عمل لجميع مواد الصف الأول في مادة رياضيات الخاصة بـ الفصل الثاني اضغط هنا

<https://almanahj.com/om/1math2>

* لتحميل كتب جميع المواد في جميع الفصول للـ الصف الأول اضغط هنا

<https://almanahj.com/om/grade1>

* لتحميل جميع ملفات المدرس مجموعة المجال الثاني التربوية الالكترونية اضغط هنا

للتحدث إلى بوت على تلغرام: اضغط هنا

https://t.me/omcourse_bot



سلطنة عمان
وزارة التربية والتعليم
المجال الثاني

الصف الأول
الجمع بواسطة العد تصاعدي

[9]

almanahj.com/om

الأهداف

- 1Nc8 – يفهم عملية الجمع على أنها عد تصاعدي ثم دمج مجموعتين ويكتب جملة عددية خاصة بالجمع
- 1Nc15 – يفهم أن تغيير ترتيب الأعداد في عملية الجمع لا يغير الناتج
- 1Nc16 – يجمع زوجاً من الأعداد بالخذ العدد الأكبر أساساً للجمع ثم إضافة الآخر إليه.
- 1Nc18 - يبدأ بجمع عدد مكون من رقم واحد مع عدد مكون من رقمين.



أن يستطيع التلميذ

يستطيع أن يجمع عدد صغير مع عدد بين 10 و 19 باستخدام
خط الأعداد

يستطيع أن يجمع زوج من الأعداد بالعد على خط الأعداد

المفردات

يكثر

إضافة

يجمع

زيادته

أكثر

١٥

almanahji.com

قواعد الحصة

اجلس جلسة صحيحة

احضر أدواتي كاملة

استمع إلي شرح المعلمة

الاستئذان قبل الإجابة

التعلم القبلي

هيا لنلعب معا يا عبقري

[/xqh/play3https://www.tinytap.it/activities/g](https://www.tinytap.it/activities/g/xqh/play3)





والآن يا صغيري
حان وقت القصة

التمهيد

في يوم من الايام ذهب خالد الي البستان ليجمع التفاح
فوجد في الشجرة الاولي ٨ تفاحات وفي الشجرة
الثانية ٧ تفاحات فتسأل عن عدد التفاح في
الشجرتين . **من يساعد خالد ؟** (هيا لنجمع)
يمكنك استخدام خط الاعداد بالضغط على الرابط

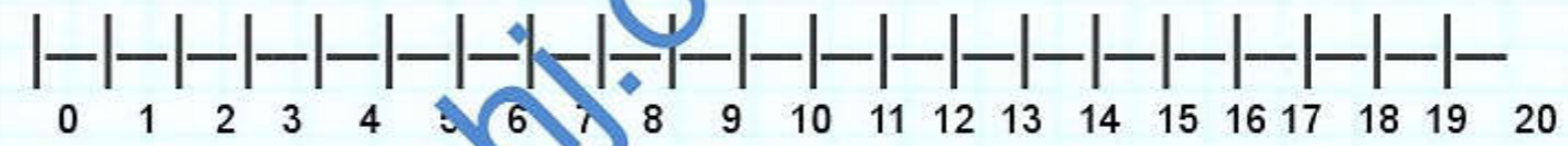
<https://apps.mathlearningcenter.org/number-line>



سير الدرر


$$15 = 8 + 7$$

هيا لنجمع باسخدام خط الأعداد



$$+ 7 = 15 = 7 + 8$$

أحسنتم يا صغاري



نستنتج أن عند تبديل
الأعداد لا يختلف ناتج
الجمع)



هيا لنشاهد الفيديو

<https://youtu.be/mHG6Q1Zcyo>

almanahj.com/om



هيا لنساعد
رجل الفضاء

almanahj.com/om



اجمع بالعد من العدد
الأكبر

$$\underline{\quad} = 5 + 1$$



almanahj.com/om

$$\underline{\quad} = 15 + 4$$

almanahj.com/om



نشاط كتاب التلميذ

الجُمُوح

أضيف الأعداد الآتية

تكرّر بالعدد الذي مكتوباً به

١٢	+	٤
٩	-	٦
٥	+	١٠
٢	+	١١
٩	+	٩

١ ٢ ٣ ٤ ٥ ٦ ٧ ٨ ٩ ١٠ ١١ ١٢ ١٣ ١٤ ١٥ ١٦ ١٧ ١٨ ١٩ ٢٠

الوحدة ٢٣ العناصر الأساسية ٢١-٢٠ الجُمُوح بواسطة العدّ عصافونياً

٣٥





تقويم تكويني مع مراعاة تفريد التعليم



أوجد ناتج :

$$\underline{\hspace{2cm}} = 5 + 6$$

$$\underline{\hspace{2cm}} = 7 + 12$$

$$\underline{\hspace{2cm}} = 6 + 14$$

$$\underline{\hspace{2cm}} = 3 + 15$$

almanahj.com/om

التقويم التكويني مع مراعاة تفريد
التعليم

مع أحمد 13 ريال ومع أخته 7 ريال
فكم مجموع المبلغ معهما ؟

اشتريت منى فستان بثمنه 8 ريال
وحقيبة ثمنها 3 ريال فكم دفعت منى ؟



هيا لنلعب مع حجر النرد من خلال
الرابط


[https://www.didax.com/apps/
dice/](https://www.didax.com/apps/dice/)

كون جملة الجمع أوجد الناتج


هيا لنلعب لنتعلم

<https://wordwall.net/ar/resource/5315586>

almanahj.com/om



التعلم الذاتي
اجمع عدد أفراد عورتك مع
عدد سنوات عمرك واكتب
جملة الجمع



almanahij.com/om

<https://www.liveworksheets.com/py1462466bt>

<https://www.liveworksheets.com/pu1245136nv>

إخلاق الدرس



الواجب المنزلي
اجمع مايلي :





إلي اللقاء
أحبائي
أحسنتم جميعا