

تم تحميل هذا الملف من موقع المناهج العُمانية



\* للحصول على أوراق عمل لجميع الصفوف وجميع المواد اضغط هنا

<https://almanahj.com/om>

\* للحصول على أوراق عمل لجميع مواد الصف الأول اضغط هنا

<https://almanahj.com/om/1>

\* للحصول على جميع أوراق الصف الأول في مادة رياضيات ولجميع الفصول, اضغط هنا

<https://almanahj.com/om/1math>

\* للحصول على أوراق عمل لجميع مواد الصف الأول في مادة رياضيات الخاصة بـ الفصل الثاني اضغط هنا

<https://almanahj.com/om/1math2>

\* لتحميل كتب جميع المواد في جميع الفصول للـ الصف الأول اضغط هنا

<https://almanahj.com/om/grade1>

\* لتحميل جميع ملفات المدرس مجموعة المجال الثاني التربوية الالكترونية اضغط هنا

للتحدث إلى بوت على تلغرام: اضغط هنا

[https://t.me/omcourse\\_bot](https://t.me/omcourse_bot)

دارس  
التكنولوجيا

الصف الأول الأساسي

العامة : الرياضيات

سلطنة عمان  
مجموعة المجال الثاني التربوية  
الإلكترونية



تألق .. تميز .. عطاء ..

almanahji.com/om

## قوانين حصتنا المترامنة

تسليم الواجب  
قبل تاريخ  
الاستحقاق



رفع اليدين  
للمشاركة



اغلاق  
الكاميرا



اغلاق  
المايك



الالتزام  
بوقت  
الحصّة



الهدف التعليمي ← عبارة أنا

أستطيع

1Nn10

يستخدم علامة = للتعبير عن التساوي

أستطيع أن أستخدم علامة يساوي (=) بشكل صحيح في الجمل العددية ،

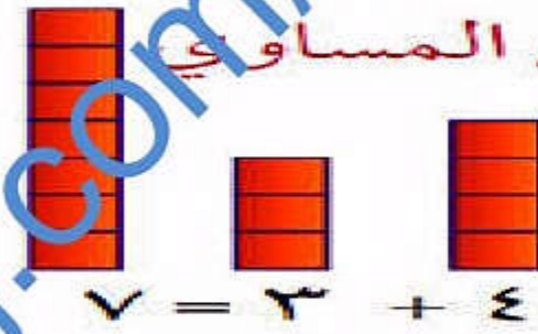
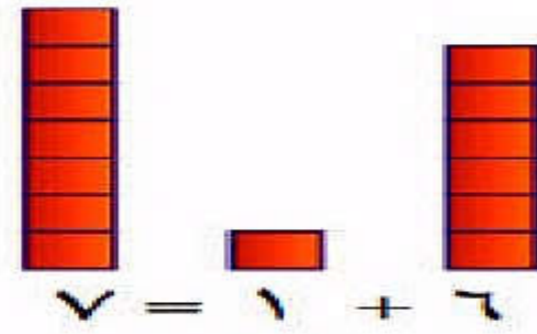
على سبيل المثال  $6 + 1 = 7$

# مفردات الدرس

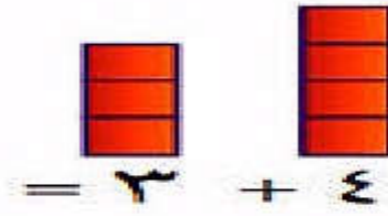
إِضَافَةٌ



الْجَمْعُ



المُكَافِئُ



$1 + 7 = 3 + 4$

مُكَافِئٌ

يَعَادِلُ



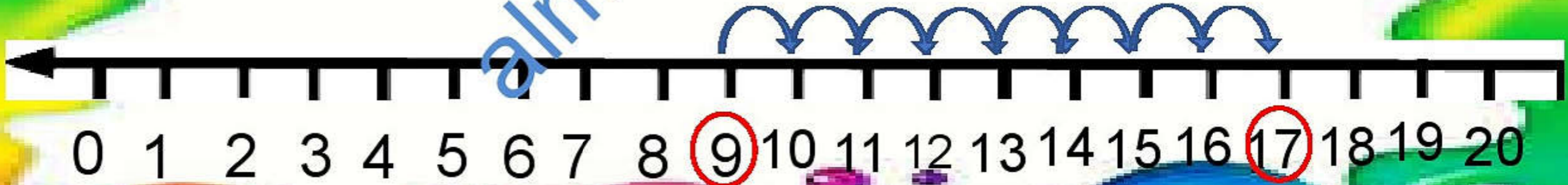
يُسَاوِي

# التعلم القبلي:

لدى محمد 9 ريالاً، وعند  
أخته مريم 8 ريالاً. ما  
مجموع ما لديهما. أوجد الناتج  
باستخدام خط الأعداد



$$17 = 8 + 9$$



التمهيد:

سالم يعمل راعياً وكان كل يوم يعود إلى  
مزرعته ويأخذ كل خروف إلى حضيرته  
المحددة، هيا بنا يا عباقرتي الصغار  
نساعد صديقنا الراعي.

هيااا  
بنا

هيااا  
بنا

$4+6$

$5+5$

$7+2$

$10+0$

$9+1$

حضيرة  
العدد 10

التمهيد حوار ومناقشة









والان يا  
عباقرتي  
الرائعين  
افتحوا  
كتاب  
التلميذ  
صفحة 39

## التساوي

أيُّ البطاقات متساوية؟

$5 + 3$

$3 + 6$

$3 + 9$

$3 + 7$

$4 + 4$

$3 + 4$

$6 + 8$

$5 + 2$

$4 + 5$

$1 + 6$

$3 + 3$

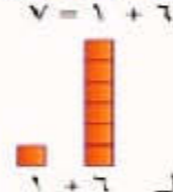

$4 + 2$

$7 + 5$

$1 + 7$

### المُفردات

المُكافئ/ المتساوي



أزجذ أزلا المتشروع الخلل بخل بطاقتي

$$\begin{aligned} 9 &= 3 + 6 \\ 8 &= 4 + 4 \end{aligned}$$



$$\begin{aligned} 7 &= 1 + 6 & 7 &= 3 + 4 \\ 1 + 6 &= 3 + 4 \end{aligned}$$


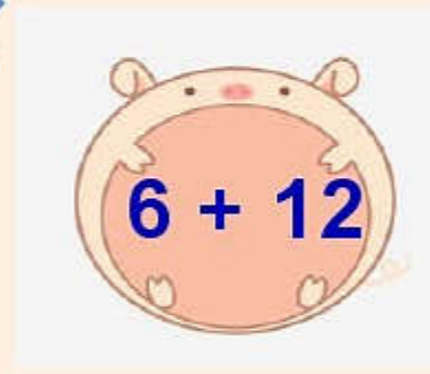
اكتب الزوج العددي في جملة عددية.

طالبى المجهز ابحث عن البطاقات التي

يكون فيها حاصل جمع عددين يساوي العدد 12

مستخدماً خط الأعداد.

تمرين 1:





أحبتي الصغار  
ننتقل الآن إلى  
مناقشة صفحة 36  
من كتاب التلميذ  
ونتعرفه أكثر على  
مفهوم التساوي  
باستخدام الميزان.



## وَأِزِينَ الْمِيزَانَ

تَذَكَّرْ:

يَتَوَازَنُ الْمِيزَانُ فَقَطَّ عِنْدَمَا تَكُونُ الْمَجَامِيعُ عَلَى حُلٍّ  
جَانِبٍ مُتَسَاوِيَةٍ.

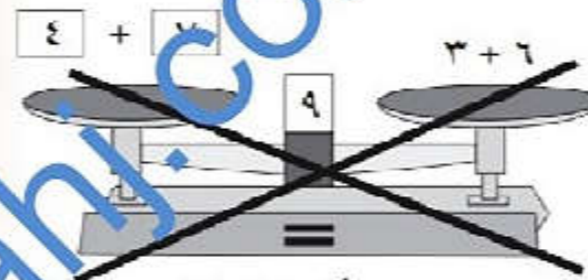
مُلاحَظَةٌ: اسْتَعْمِلْ خَطَّ الأَعْدَادِ لِتَجِدَ جُمْلَةً جَمَعَ أُخْرَى  
بِحَيْثُ يَتَوَازَنُ الْمِيزَانُ.

المُفْرَدَاتُ:

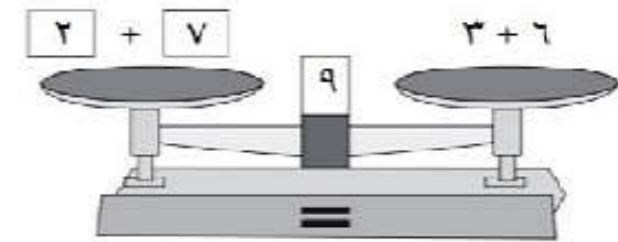
اجْمَع، الجَمْعُ، إِضَافَةٌ،  
أَكْثَرُ، رَافِدٌ، يُسَاوِي، يُعَادِلُ.

$$3+4 \text{ تُعَادِلُ } 1+6$$

$$1+6=3+4$$

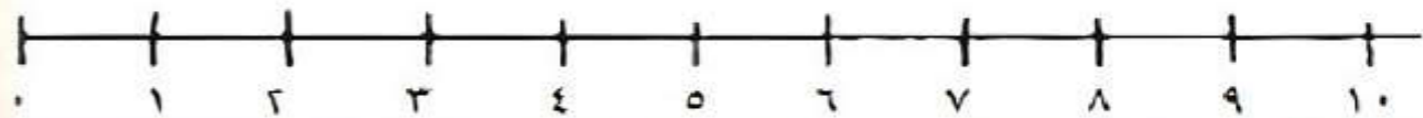
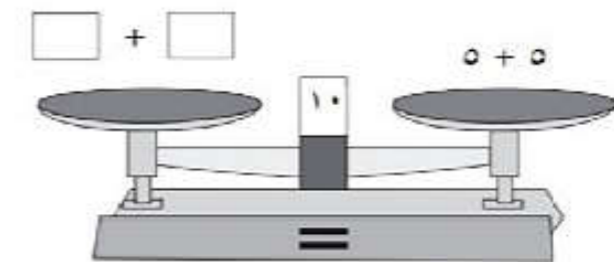
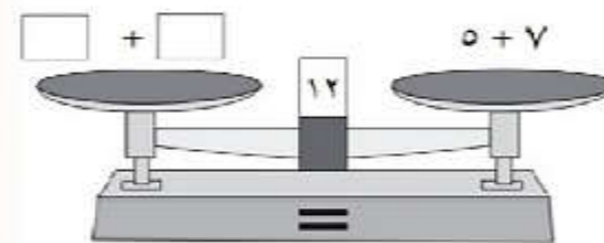


المِيزَانُ لَمْ يَتَوَازَنَ



المِيزَانُ مُتَوَازَنٌ

اكتُبِ الأَرْقَامَ لِتَوَازِنَ الْمِيزَانَ:



هيا يا بطل ساعد صديقنا سعيد في اختيار

البطاقات المتساوية ووضعها في كفتي الميزان.

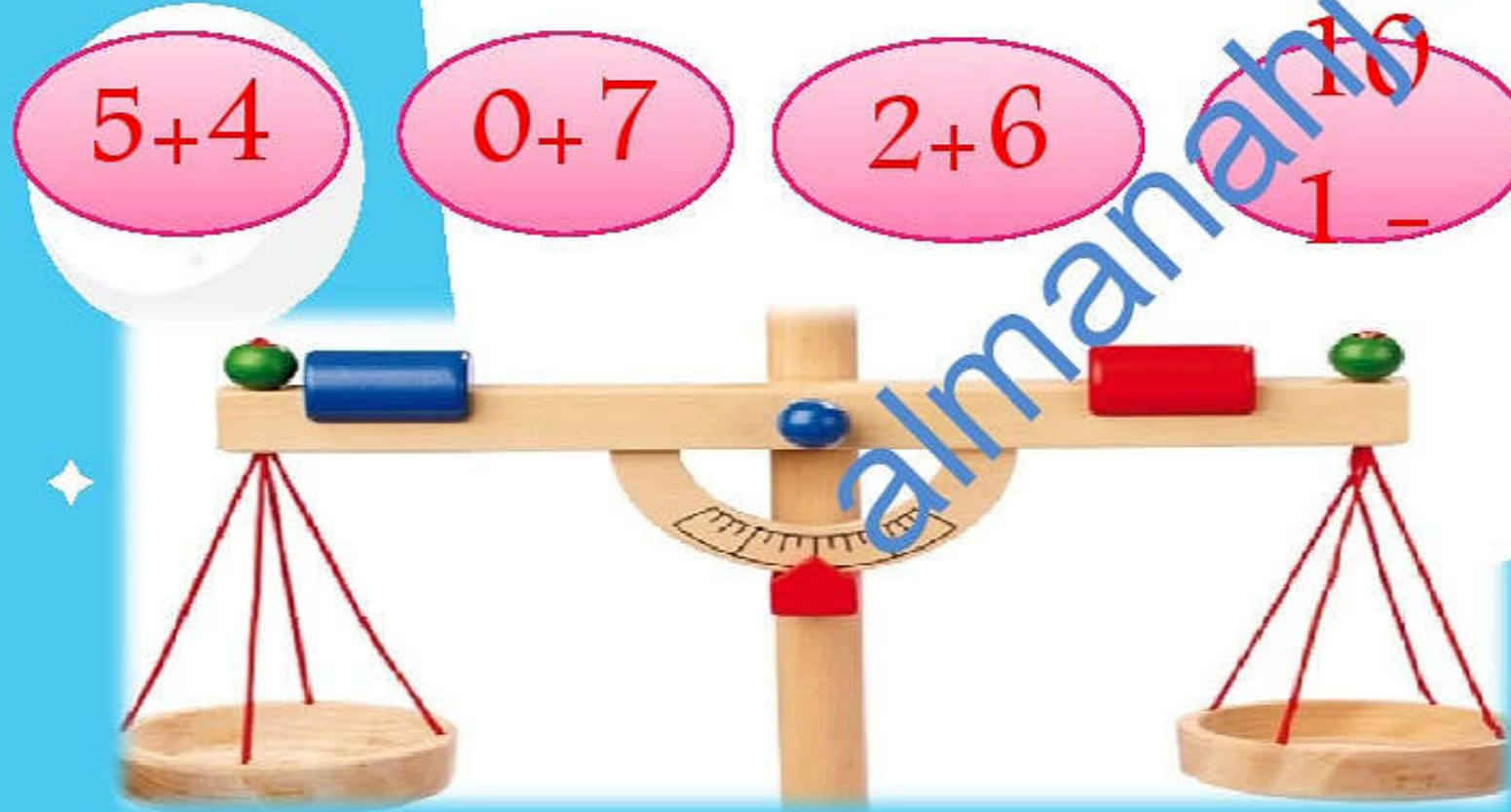
تمرين 2

$5+4$

$0+7$

$2+6$

$10-1$



# أبطال الحلوين هيا بنا نستمتع مع هذه الألعاب التعليمية

[https://drive.google.com/file/d/15ol9nZnDB75HXIBAS\\_HhKast-Zne2gVK1/view?usp=sharing](https://drive.google.com/file/d/15ol9nZnDB75HXIBAS_HhKast-Zne2gVK1/view?usp=sharing)

<https://wordwall.net/resource/12327349>

<https://www.liveworksheets.com/c?ac=sr=n&l=kc&i=ufznzfd&r=sg&db=0>

أصدقائي الرائعين

ساعدوني في إيجاد

الجمال العددية المتساوية



$1+2$

$5+1$

$1-7$


$0+6$

$3+3$

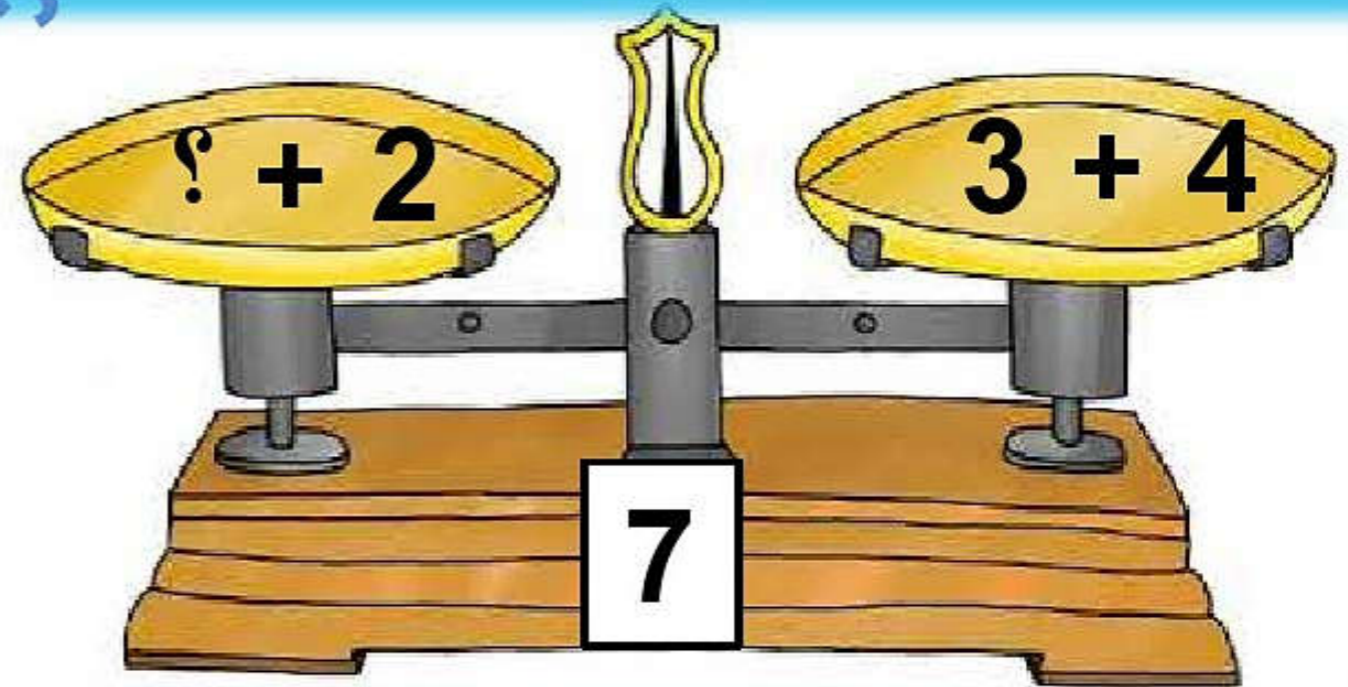
$4+5$

$4-10$

التقويم الختامي مع مراعاة تفريغ  
التعليم



1. ما العدد المفقود في الجملة العددية  
التالية ليكون الميزان في توازن؟

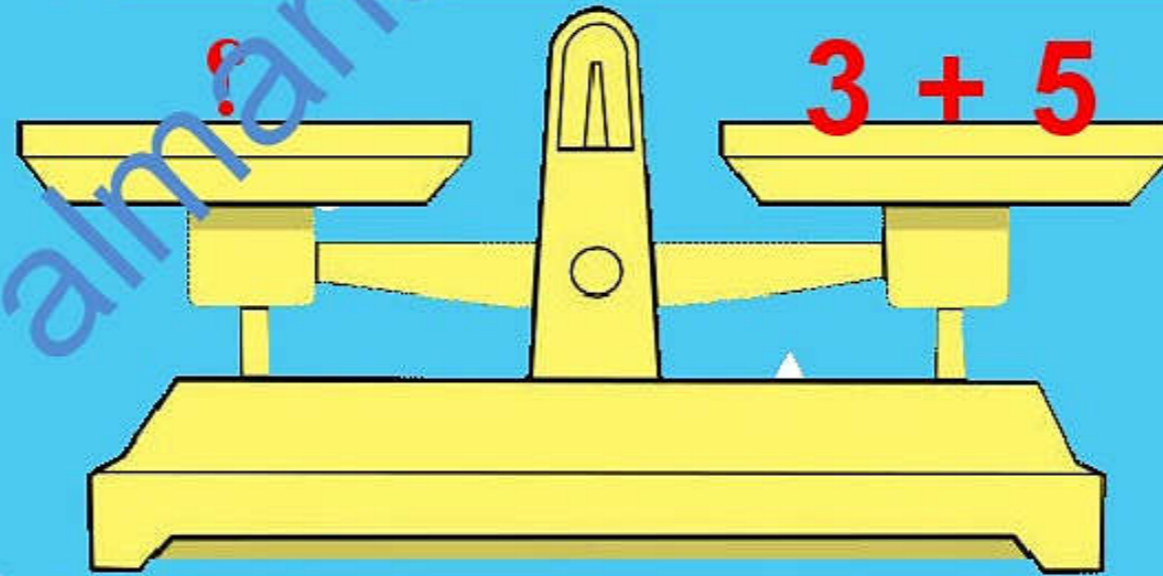




التقويم الختامي مع مراعاة  
تفريد التعليم

2. إذا كان لدي  $3 + 5$  على كفة القياس، فماذا  
يمكن أن يكون في الكفة الثابتة ليتحقق التوازن؟

ماذا لو كان فيها  $3 - 5$  ???



الواجب

المنزلي

التعلم الذاتي

أيها الرائع قم  
بمل صفحة 37  
من كتاب النشاط

ابحث في منزلك عن  
مجموعات متساوية أو قم  
بجمع العايرك ثم عبر عنها  
بعلامة التساوي (=)

هيا نقيم الدرس .. التقييم الذاتي

ماذا تعلمت اليوم؟

قيم نفسك يا صغيري لدرس اليوم :



مع السلامة



امدح

شكراً لجهودكم  
الرائعة يا طلابي  
الأغراء



و



تعلم

almanah.com/lom