

شكراً لتحميلك هذا الملف من موقع المناهج العمانية



## سؤال قصير أول

[موقع المناهج](#) ← [المناهج العمانية](#) ← [الصف الأول](#) ← [علوم](#) ← [الفصل الأول](#) ← [الملف](#)

تاريخ نشر الملف على موقع المناهج: 2023-10-29 07:00:32

## التواصل الاجتماعي بحسب الصف الأول



## روابط مواد الصف الأول على تلغرام

[الرياضيات](#)

[اللغة الانجليزية](#)

[اللغة العربية](#)

[التربية الاسلامية](#)

## المزيد من الملفات بحسب الصف الأول والمادة علوم في الفصل الأول

[سؤال قصير أول نموذج ثالث](#)

1

[سؤال قصير أول نموذج ثاني](#)

2

[سؤال قصير أول](#)

3

[ملخص الوجدتين الثانية والثالثة](#)

4

[ملخص الوحدة الأولى الكائنات الحية وغير الحية](#)

5

الاسم:

الصف:

٥

**السؤال الأول: اختر الإجابة الصحيحة من بين البدائل المعطاة:**

1. يتحرك الأرنب من مكان إلى آخر بـ :

أ- التآرجح

ب- الدوران

ج- السباحة

د- القفز



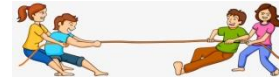
2. الصورة التالية تمثل:

أ- توقف

ب- سحب

ج- انزلاق

د- دفع



3. ما هي الحركة التي يستخدمها لاعبي كرة القدم أثناء اللعب:

أ- التآرجح

ب- الركض

ج- السباحة

د- القفز



4. إذا كنت تقود الدراجة الهوائية وأردت أن تبطئ/تتوقف فإنك سوف تقوم باستعمال:

أ- المكابح

ب- الدواسات

ج- المقود

د- الاطارات




5. أراد أحمد أن يتآرجح في الأرجوحة فطلب من أبيه أن :

أ- يسحبه

ب- يدفعه

ج- يوقفه

د- يحمله



السؤال الثاني: أجب عما يلي:

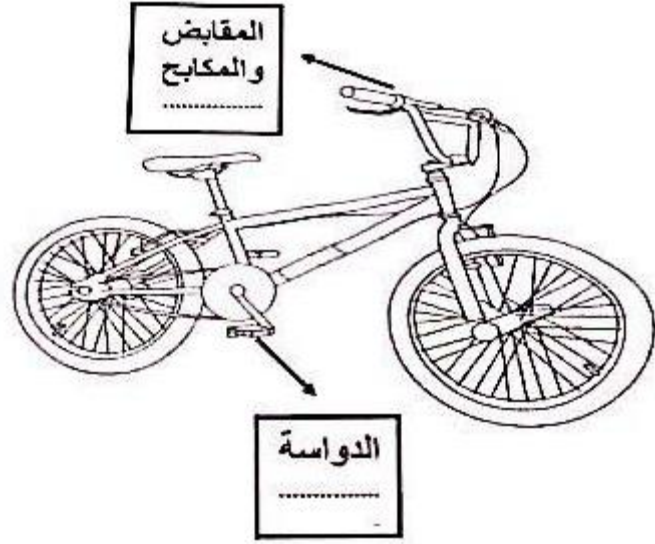
1. لعب سعيد لوحده متحديا زملاؤه الثلاثة لعبة شد الحبل، فمن سيفوز برأيك:

0 زملاؤه

0 سعيد



2. ساعدني يا صديقي في تحديد نوع القوة المستخدمة في المكان المشار إليه:



3. اكتب كلمة (دفع / سحب) في المكان المناسب:

