

تم تحميل هذا الملف من موقع المناهج العُمانية



* للحصول على أوراق عمل لجميع الصفوف وجميع المواد اضغط هنا

<https://almanahj.com/om>

* للحصول على أوراق عمل لجميع مواد الصف الأول اضغط هنا

<https://almanahj.com/om/1>

* للحصول على جميع أوراق الصف الأول في مادة رياضيات ولجميع الفصول, اضغط هنا

<https://almanahj.com/om/1math>

* للحصول على أوراق عمل لجميع مواد الصف الأول في مادة رياضيات الخاصة بـ الفصل الثاني اضغط هنا

<https://almanahj.com/om/1math2>

* لتحميل كتب جميع المواد في جميع الفصول للـ الصف الأول اضغط هنا

<https://almanahj.com/om/grade1>

* لتحميل جميع ملفات المدرس مجموعة المجال الثاني التربوية الالكترونية اضغط هنا

للتحدث إلى بوت على تلغرام: اضغط هنا

https://t.me/omcourse_bot



School Time

اوجد الناتج

$\square = \square + 0$	$\square = 3 + 4$
$\square = 4 + 4$	$\square = 2 + 3$
$\square = 1 + 3$	$\square = 2 + 1$
$\square = 3 + 0$	$\square = 0 + 2$

School

School Bus

التمهيد


هيا يا ابطال نرتب الأعداد ترتيبا تنازليا من الأكبر حتى الأصغر

18 14 15 17 12

3 4 12

19 9 8 13 11

6 2 5 20 110



الأهداف

9Nn1 يفهم عملية الطرح على أنها عد تنازلي (الأخذ من) ويكتب جملة عددية خاصة بالطرح **10Nc1** يبدأ في استخدام علامات +, -, = لتسجيل العمليات الحسابية في جمل عددية

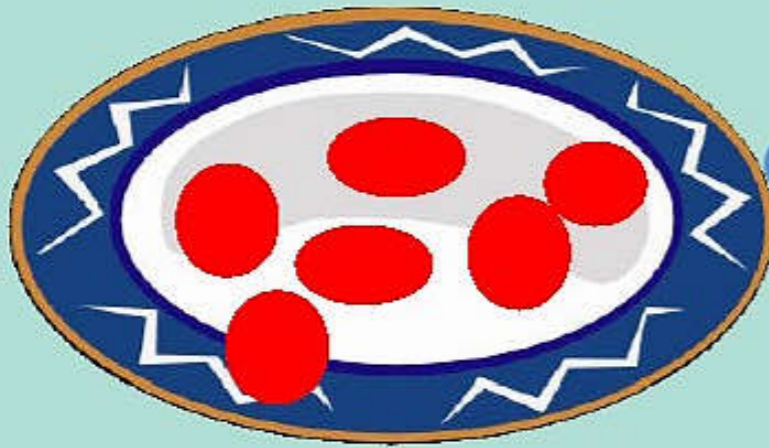
أنا أستطيع أن
أن أطرح عدد صغير من عدد بين 10 و 19 بالعد التنازلي على خط الأعداد



سير الدرس:

في الإناء يوجد 6 قطع من أقراص العد أخذ علي من قرصان فكم قرصا
تبقى في الإناء ؟

$$\square = \square - \square$$



هيا لنشاهد عملية الطرح باستخدام خط الاعداد

<https://youtu.be/zWb2WfLWhts>



almanahj.com/om



ي بطل استخدم خط الاعداد لإيجاد ناتج الطرح



<input type="text"/>	-	٩	=	١٠	١
<input type="text"/>	-	٨	=	١٢	٢
<input type="text"/>	-	١٢	=	١٧	٣
<input type="text"/>	-	١٩	=	١٢	٤
<input type="text"/>	-	١٠	=	٥	٥
<input type="text"/>	-	١٧	=	١٢	٦
<input type="text"/>	-	١٦	=	٩	٧

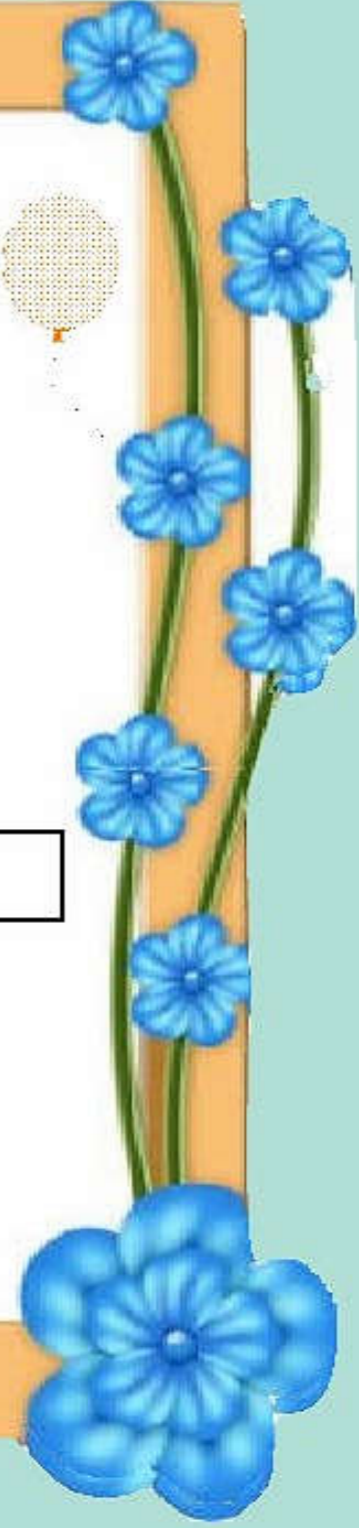


$$= 8 - 7$$



$$= 3 - 0$$

almanahj.com/om



كان لدي ١٨ قطعة حلوى أكلت منها ٧ قطع
فكم بقي منها

almanahj.com/om

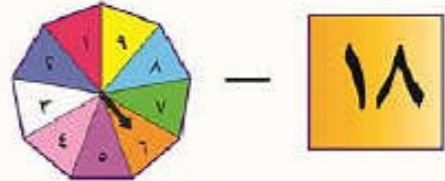



أفتح كتاب التلميذ صفحة 36

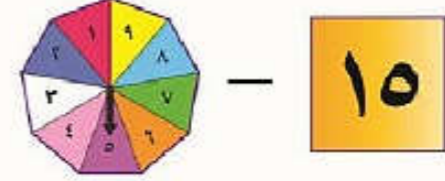



الطَّرْحُ

لَمْ يَتِمَّ فَصْلُ مِنْ إِكْمَالِ عَمَلِيَّاتِ الطَّرْحِ لِتَطْبِيقِ الْوَقْتِ، اطَّلَبْ إِلَى مَعْلَمِكَ مُسَاعَدَتَهُ فِي إِجَادِ الْعَدَدَيْنِ عَلَى خَطِّ الْأَعْدَادِ لِاسْتِكْمَالِهِمَا.


 — ١٨



 — ١٥

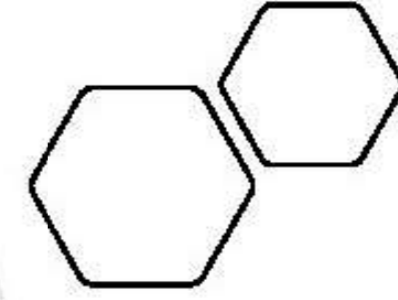



ارْتِمْ قُرَّاتِ عَلَى خَطِّ الْأَعْدَادِ.



٣-١١ الطَّرْحُ بِوَسِيلَةِ الْأَعْدَادِ تَتَارِثًا

٣٦



لدي ٨ وردات زرقاء اللون إذا
قمت بإعطاء صديقي ٣ وردات
كم سيصبح معي؟



= ٣ - ٨

هيا ي عبقرى لنتدرب

<https://wordwall.net/play/5055/403/29703>

almanahj.com/om



الواجب
almanahj.com/om

<https://www.liveworksheets.com/lt1545984of>

