

تم تحميل هذا الملف من موقع المناهج العُمانية



* للحصول على أوراق عمل لجميع الصفوف وجميع المواد اضغط هنا

<https://almanahj.com/om>

* للحصول على أوراق عمل لجميع مواد الصف الأول اضغط هنا

<https://almanahj.com/om/1>

* للحصول على جميع أوراق الصف الأول في مادة رياضيات ولجميع الفصول, اضغط هنا

<https://almanahj.com/om/1math>

* للحصول على أوراق عمل لجميع مواد الصف الأول في مادة رياضيات الخاصة بـ الفصل الثاني اضغط هنا

<https://almanahj.com/om/1math2>

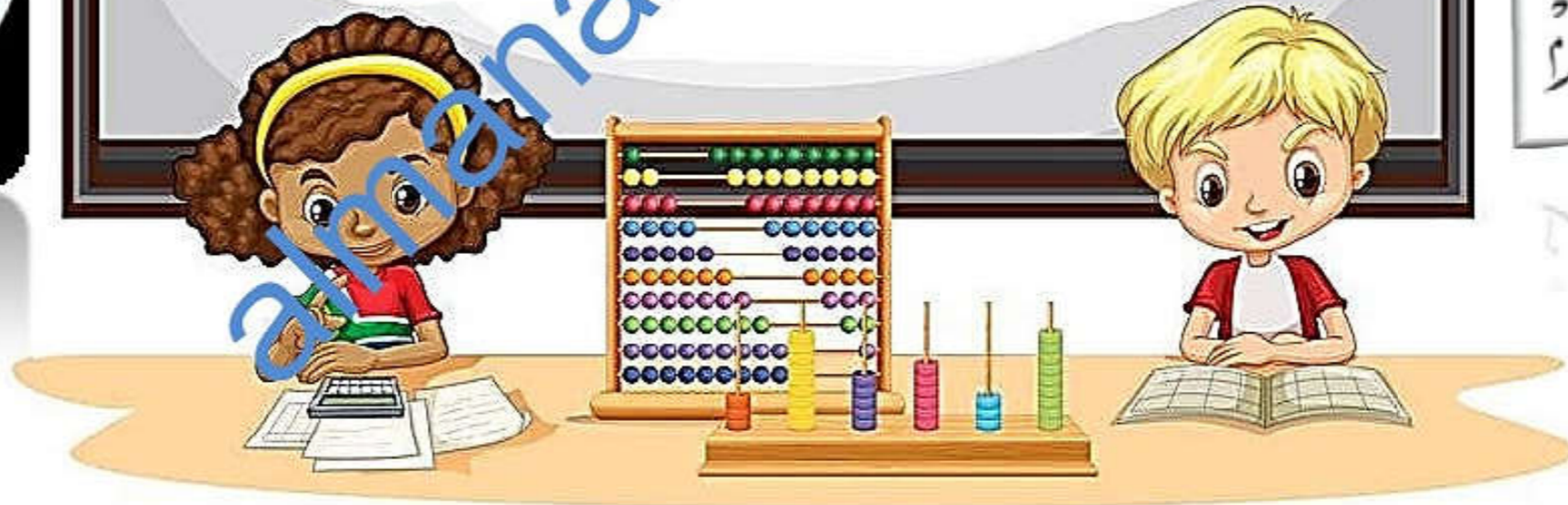
* لتحميل كتب جميع المواد في جميع الفصول للـ الصف الأول اضغط هنا

<https://almanahj.com/om/grade1>

* لتحميل جميع ملفات المدرس سمر رضوان -مجموعة المجال الثاني التربوية الالكترونية اضغط هنا

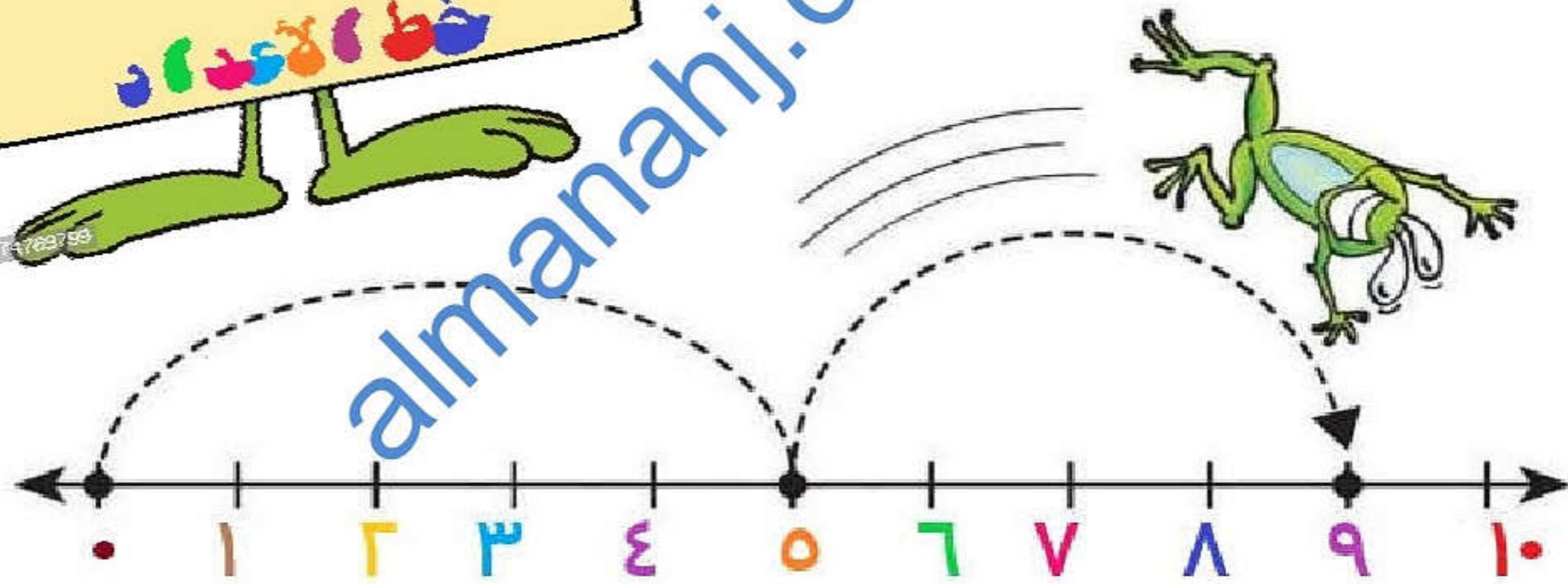
للتحدث إلى بوت على تلغرام: اضغط هنا

https://t.me/omcourse_bot





$= 4 + 5$



قوة عدد

الحصة



almanahi.com/om



1Nc18

يبدأ بجمع عدد مكون من رقم واحد مع
عدد مكون من رقمين

1Nc14

يبدأ في استخدام علامات $+$, $-$, $=$ لتسجيل
العمليات الحسابية في جمل عددية

1Nc15

يفهم أن تغيير ترتيب الأعداد في عملية
الجمع لا يغير الناتج



معايير النجاح





قم بتجميع قطع البازل أيها العبقرى ثم اذكر اسم
الشكل واكمل الناقص





كان أرنب يملك جزرتين وذهب الى السوق
وأشترى ٤ جزرات فكم جزرة مع أرنب

أنتهمهين



هيا أيها الذكي نلعب لعبة الجمع

من هنا



مفردات
لدرس

يجمع

يجمع

خط
الأعداد

زيادة

إضافة



خط الأعداد

٠ ١ ٢ ٣ ٤ ٥ ٦ ٧ ٨ ٩ ١٠ ١١ ١٢ ١٣ ١٤ ١٥ ١٦ ١٧ ١٨ ١٩ ٢٠

سير الدرس



كان مع خالد ٩ ريالاً و أعطاه والده ٤
ريالات فاخذ يفكر كم معه من الريالات ؟
فتناوله صديقنا الضفدع الشقي وقال له انا
سوف اساعدك
سوف نستخدم خط الاعداد فانا اجيد القفز
جيذا

$$9 + 4 = \text{؟؟}$$





شكر خالد الضفدع كثيرا

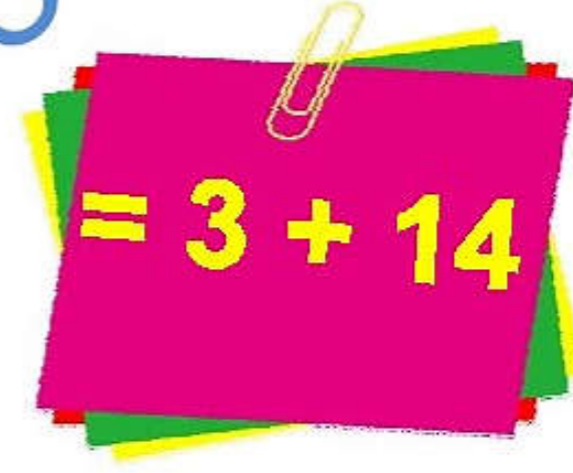


almanahj.com/om

هيا يا طلابي نشاهد هذا الفيديو سويا



الآن هيا يا طلابي نقوم بحل هذا المثال مستعينين بصديقنا الضفدع
الشقي الذي يساعدنا في القفز على خط الأعداد



almanahj.com/om

الجَمْعُ

أضيف الأعداد الآتية:

$$16 + 4$$

$$9 + 6$$

$$5 + 1$$

$$3 + 11$$

$$1 + 9$$

تكرّر العددي الذي تحببنا به



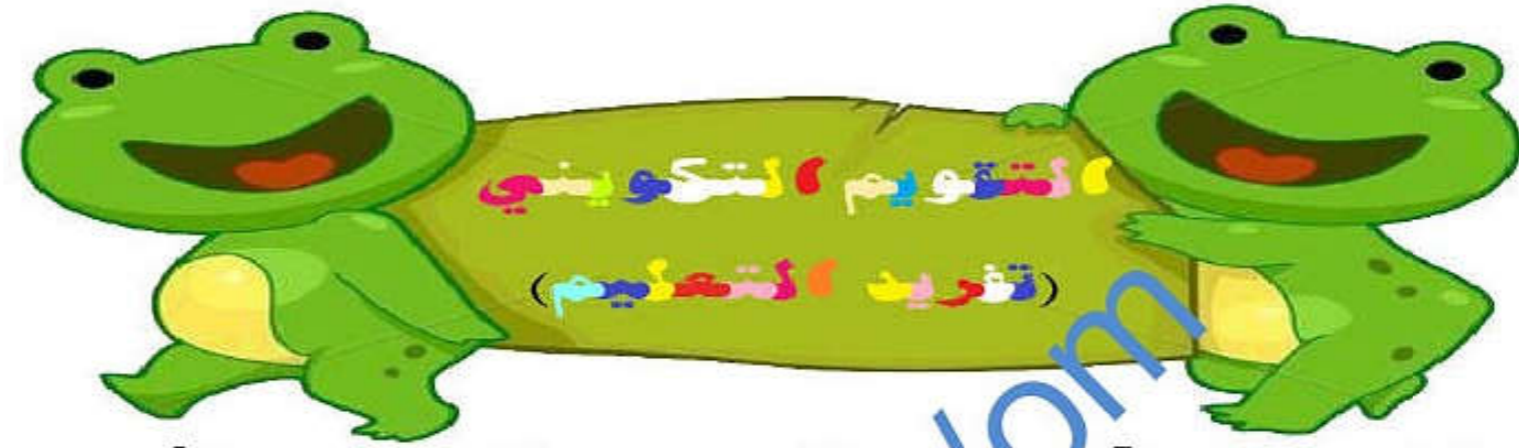
نشاط كتاب التلميذ

مستعينا بخط الأعداد في الرابط

من هنا



Presenter media

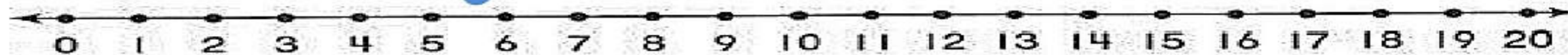


أوجد ناتج الجمع باستخدام خط الأعداد يا شطور:

(قفز الضفدع عند 6)

$$= 3 + 6$$

احسب يا شطور أكل القرد 5 موزات ثم بعد ذلك أكل موزتان كم عدد ما أكله من الموز؟





أوجد ناتج الجمع باستخدام خط الأعداد:

$$= 6 + 11$$

$$= 5 + 13$$

١٨ ريال



كان مع مريم 12 ريال و أعطتها والدها 5 ريالات
كم ريالاً مع مريم
هل تستطيع مريم شراء هذه الدمية؟







افتح المصحف ثم
أوجد نتائج جمع
آيات سورة القارعة وسورة الفلق
مستخدما خط الأعداد



التعلم
الذاتي



إلى اللقاء طلابي
المتميزون
والرائعون



أ/ سمر رضوان

