

شكراً لتحميلك هذا الملف من موقع المناهج العمانية



أسئلة قصيرة وواجبات منزلية

[موقع المناهج](#) ← [المناهج العمانية](#) ← [الصف الأول](#) ← [علوم](#) ← [الفصل الثاني](#) ← [الملف](#)

التواصل الاجتماعي بحسب الصف الأول



روابط مواد الصف الأول على تلغرام

[الرياضيات](#)

[اللغة الانجليزية](#)

[اللغة العربية](#)

[التربية الاسلامية](#)

المزيد من الملفات بحسب الصف الأول والمادة علوم في الفصل الثاني

[واحب منزلي في وحدة المواد في عالمي](#)

1

[نشاط في وحدة المواد في عالمي](#)

2

[سؤال قصير](#)

3

[أسئلة قصيرة وواجبات منزلية](#)

4

[سؤال قصير في الاستقصاء](#)

5

سؤال قصير ٣ (م - ف) مادة علوم الصف الاول فصل الدراسي الثانيالسؤال الاول: ظلل الشكل يمين الاجابة الصحيحة

(١) يصنع البالون من

خشب مطاط قماش معدن

٢

(٢) من المواد الشفافة



السؤال الثاني: ضع (√) أمام كل عبارة من العبارات في الجدول

خطأ	صح	العبارة
		الطائرة الورقية قوية
		العدسة المكبرة شفافة

السؤال الثالث: صل الصورة ف العمود الأيمن بتسميتها في العمود الأيسر

ورق



(١)

زجاج



(٢)

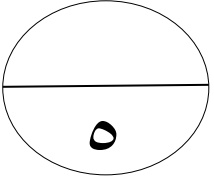
بلاستيك



(٣)

٢

١



واجب منزلي للصف الاول الفصل الدراسي الثاني

السؤال الاول : ظلل الشكل يمين الاجابة الصحيحة

٢

١- القميص مصنوع من


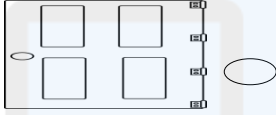
الورق

القماش

المعدن


الخشب

٢- من الأشياء المصنوعة من الخشب.....



٢

السؤال الثاني : ضع دائرة حول الأشياء المصنوعة من الزجاج



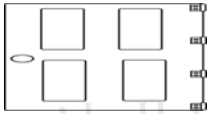

١

السؤال الثالث : ضع (√) أمام كل عبارة من العبارات في الجدول

خطأ	صح	العبارة
		السيارة مصنوعة من مادة قوية
		الكتاب مصنوع من الورق





نموذج الاجابة للواجب المنزلي للصف الاول علوم (فهم - معرفة) الفصل الدراسي

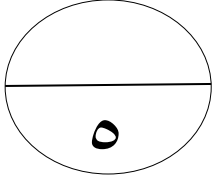
الثاني

السؤال	رقم الهدف	الاجابة	معلومات اضافية
١		القماش 	درجتين اذا كانت جميع الاجابات صحيحة • درجة اذا كانت اجابة واحدة صحيحة
٢			• درجتين اذا كانت جميع الاجابات صحيحة • درجة اذا كانت اجابتين صحيحتين
٣		(√) العبارة صح (√) العبارة صح	• درجة اذا كانت الاجابة صحيحة بالكامل

نموذج الاجابة السؤال القصير للصف الاول علوم (فهم - معرفة) الفصل الدراسي

الثاني

السؤال	رقم الهدف	الاجابة	معلومات اضافية
١		(١) مطاط (٢) 	درجتين اذا كانت جميع الاجابات صحيحة • درجة اذا كانت اجابة واحدة صحيحة
٢		(٧) العبارة خطأ (٧) العبارة صح	• درجة اذا كانت الاجابة صحيحة بالكامل
٣		(١) زجاج  (٢) بلاستيك  (٣) ورق 	• درجتين اذا كانت جميع الاجابات صحيحة • درجة اذا كانت اجابتين صحيحتين



سؤال قصير ٥ (م - ف) مادة علوم الصف الاول الفصل الدراسي الثاني

السؤال الاول : ظلل الشكل يمين الاجابة الصحيحة

٢

(١) اى من الصور تمثل قوى سحب



(٢) من الأشياء التي تدفع



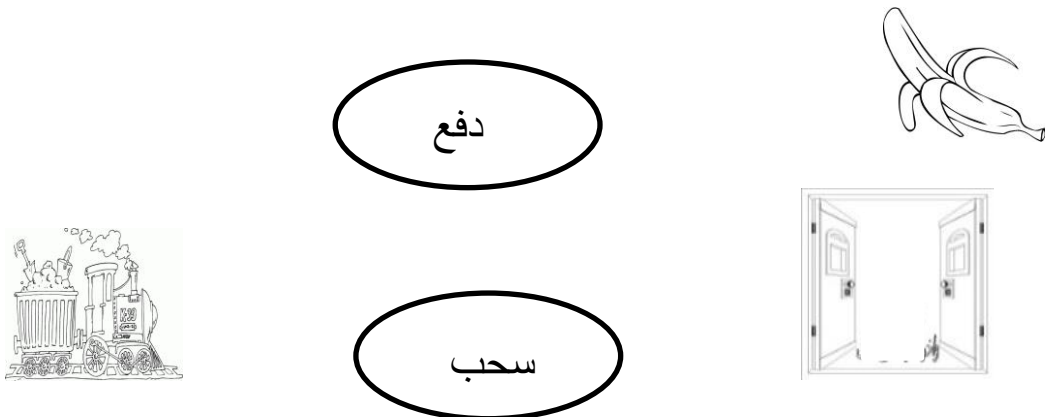
السؤال الثاني : ضع علامة (√) أمام كل عبارة من العبارات في الجدول

١

خطأ	صح	العبارة
		ندفع ستارة النافذة
		نسحب غطاء القلم

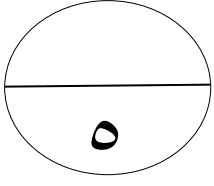
السؤال الثالث : صل الصورة ف العمود الأيمن بتسميتها في العمود الأيسر

٢



نموذج الاجابة سؤال قصيره (م - ف) مادة علوم الصف الاول الفصل الدراسي الثاني

السؤال	رقم الهدف	الاجابة	معلومات اضافية
١			• درجة لكل اختياري صحيح
٢		<p>(×) العبارة خطأ</p> <p>(√) العبارة صح</p>	• درجة اذا كانت الاجابة صحيحة بالكامل
٣		<p>دفع</p>  <p>سحب</p>  <p>سحب</p> 	<p>• درجتين اذا كانت جميع الاجابات صحيحة</p> <p>• درجة اذا كانت اجابتين صحيحتين</p>



واجب منزلي ٥ (م - ف) مادة علوم الصف الاول الفصل الدراسي الثاني

السؤال الاول : ظلل الشكل يمين الاجابة الصحيحة

٢



تمثل

(١) الصورة التالية

دوران تأرجح قفز ركض

تمثل



(٢) الصورة التالية

انزلاق سحب دفع توقف


السؤال الثاني : ضع علامة (√) أمام كل عبارة من العبارات في الجدول

١


العبارة	صح	خطأ
الأم تدفع عربة الطفل		
يدفع محمد قشرة الموز		

السؤال الثالث : ضع دائرة حول الأشياء التي تسحب

٢



نموذج الاجابة للواجب المنزلي ٥ (م- ف) علوم للصف الاول الفصل الدراسي الثاني

السؤال	رقم الهدف	الاجابة	معلومات اضافية
١		تأرجح سحب	• درجة لكل اختيار صحيح
٢		(√) العبارة صح (√) العبارة خطأ	• درجة اذا كانت الاجابة صحيحة بالكامل
٣		 	درجتين اذا كانت جميع الاجابات صحيحة درجة اذا كانت اجابتين صحيحتين

سلطنة عمان

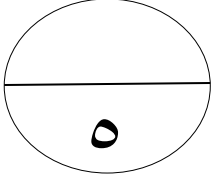
اسم التلميذ/

وزارة التربية والتعليم

الصف/

المديرية العامة للتربية والتعليم محافظة مسقط

مدرسة الزهراء للتعليم الاساسي



اختبار قصير ٣ (م - ف) مادة رياضيات الصف الأول الفصل الدراسي الثاني

السؤال الاول : ظلل الشكل يمين الاجابة الصحيحة

٢

(١) الرقم الموجود في منزلة الأحاد للعدد ٣٧ هو

٧٠ ○

٣٠ ○

٧ ○

٣ ○

تم تحميل هذا الملف من

(٢) مجموع $٥ + ١٠ =$

موقع المناهج العمانية

٢٠ ○

١٥ ○

١٠ ○

٥ ○

السؤال الثاني : اكمل ما يأتي

١

الأعداد التي تقع بين ١٧ و ٢٠ هي؛

alManahj.com/om

السؤال الثالث : صل البطاقة من العمود الأيمن بالبطاقة المساوية في العمود الأيسر

٢

$$٥ + ٥$$

$$٣ + ٦$$

$$٠ + ٧$$

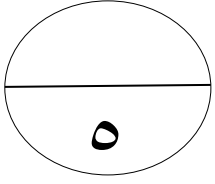
$$٢ + ٨$$

$$٥ + ٤$$

$$١ + ٦$$

نموذج الاجابة اختبار قصير ٣ (م - ف) مادة رياضيات الصف الأول الفصل الدراسي الثاني

السؤال	المستوى المعرفي	رقم الهدف	الاجابة	معلومات اضافية
١	استخراج	1Nn6	٧	• درجة للاختياري الصحيح
٢	حساب	1Nc8	١٥	• درجة للاختياري الصحيح
٣	تذكر	1Nn7	١٨ - ١٩	درجة اذا كانت الاجابة صحيحة بالكامل للعددین
	حساب	1Nc14	نواتج الجمع متساوية	درجتان



واجب منزلي ٣ (م - ف) مادة رياضيات الصف الأول الفصل الدراسي الثاني

السؤال الاول : ظلل الشكل يمين الاجابة الصحيحة

٢

(١) العدد الذي يأتي بعد ٢٠ هو

٢٢ ○

٢١ ○

٢١ ○

١٩ ○

(٢) ناتج طرح ١٢ - ٨ = هذا الملف من

٦ ○

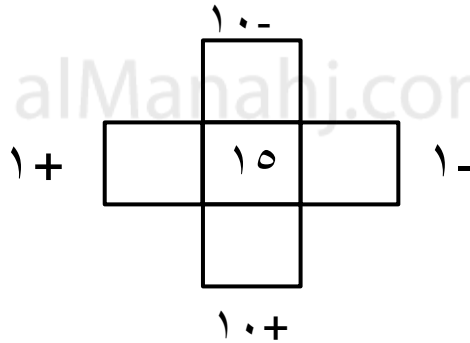
٥ ○

٤ ○

٣ ○

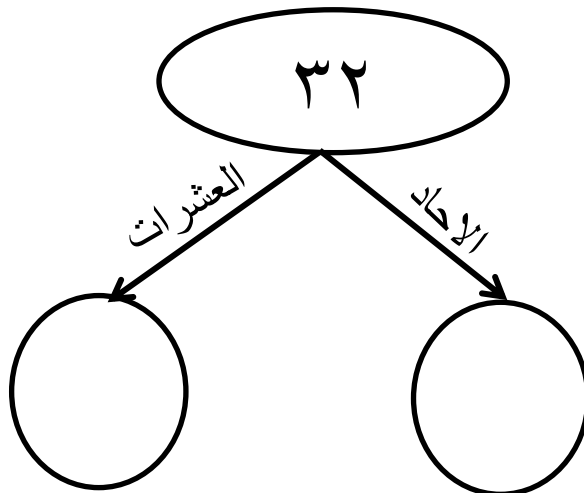
السؤال الثاني : اكمل المخطط التالي :

٢

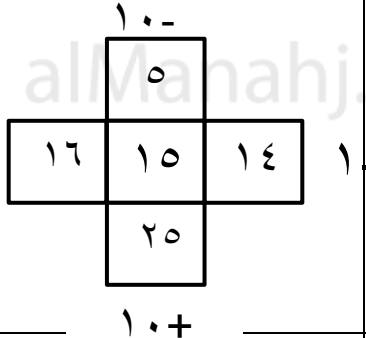
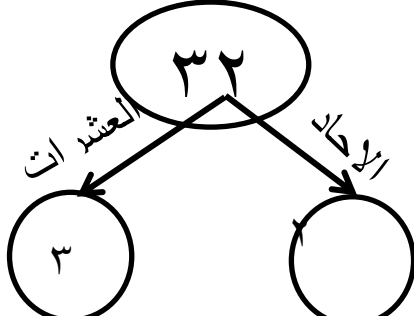


السؤال الثالث : جزء الى احاد وعشرات

١



نموذج الاجابة اختبار قصير ٣ (م - ف) مادة رياضيات الصف الأول الفصل الدراسي الثاني

السؤال	المستوى المعرفي	رقم الهدف	الاجابة	معلومات اضافية
١	تذكر	1Nn7	٢١ (١)	درجة اذا كان اجابة واحدة صحيحة
٢	حساب	1Nc9	٤	درجة اذا كان اجابة واحدة صحيحة
٣	حساب	1Nn7		درجتان لكل اجابتين درجة
	تحليل	1Nt6		درجة

