

تم تحميل هذا الملف من موقع المناهج العُمانية



*للحصول على أوراق عمل لجميع الصفوف وجميع المواد اضغط هنا

<https://almanahj.com/om>

* للحصول على أوراق عمل لجميع مواد الصف الأول اضغط هنا

<https://almanahj.com/om/1>

* للحصول على جميع أوراق الصف الأول في مادة رياضيات ولجميع الفصول, اضغط هنا

<https://almanahj.com/om/1math>

* للحصول على أوراق عمل لجميع مواد الصف الأول في مادة رياضيات الخاصة بـ الفصل الثاني اضغط هنا

<https://almanahj.com/om/1math2>

* لتحميل كتب جميع المواد في جميع الفصول للـ الصف الأول اضغط هنا

<https://almanahj.com/om/grade1>

* لتحميل جميع ملفات المدرس مجموعة المجال الثاني التربوية الالكترونية اضغط هنا

للتحدث إلى بوت على تلغرام: اضغط هنا

https://t.me/omcourse_bot

المديرة العامة للتربية والتعليم بمحافظة
مدرسة:

تحضير مادة ... الرياضيات العام الدراسي 2021/2020 م

• اسم المعلم/المعلمة:

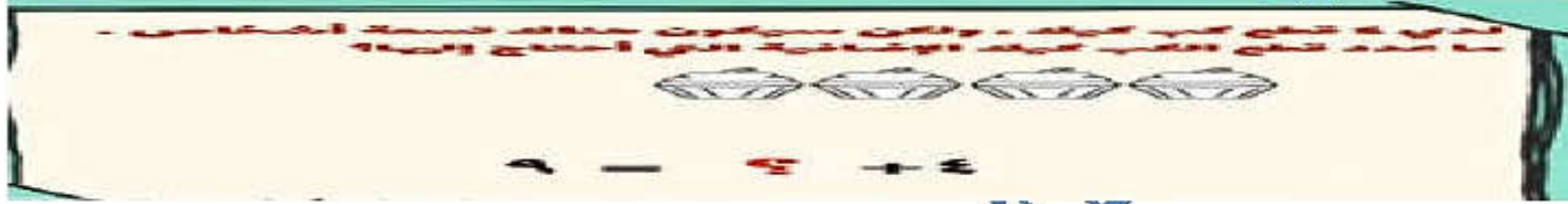
الصف: الأول	الوحدة:	عنوان الدرس/ الموضوع: ما العدد المفقود؟
-------------	---------	---

اليوم والتاريخ	الحصة	الشعبة	أرقام الأهداف/المخرجات
			1pt6 1Nc17






التعلم القبلي: استراتيجية ابحت مع كونان وحل الالغاز

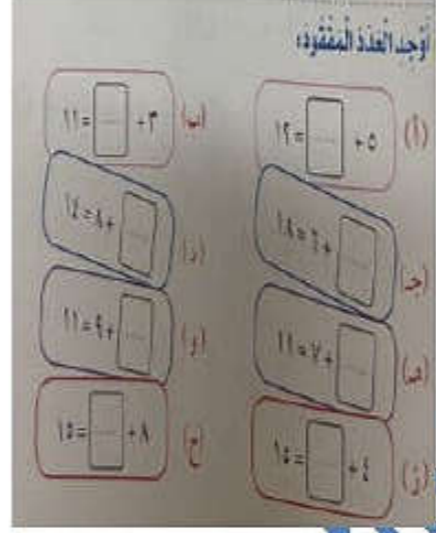
التمهيد: لدى يوسف 3 بالونات واشترى من المحل بالونات أخرى واصبح لديه 5 بالونات . كم بالوناً اشترى من المحل ؟
المفاهيم: (□) تستخدم للتعبير عن أن عدد ما غير معلوم (مجهول)



التعلم القبلي/التمهيد/المفاهيم

الوسائل ومصادر التعلم	آلية التنفيذ/الأنشطة التدريبية/التعليمية	الاستراتيجيات/طرق التدريس	الأهداف/المخرجات التعليمية
النسخة الرئيسية من العدد المفقود صفحة 114 دليل المعلم أقراص عد - أعواد مص	*استخدام استراتيجية اللعب على خط الاعداد والعد  *استراتيجية حل المشكلات بعض المسائل 	(√) الحوار والمناقشة. () الاستقصاء () العصف الذهني. (√) تنبأ، فسر، لاحظ، فسر (√) التعلم التعاوني. () شكل (7) المعرفي (√) القياس. () القصة	1Nc17 يتعرف استخدام علامة مثل (?) للتعبير عن قيمة مجهولة معايير النجاح: أستطيع أن أجد رقم مجهول في جملة عددية، على سبيل المثال $11 = \square + 6$

	<p>*كتاب التلميذ صفحة 44</p>  <p>*استخدام استراتيجية اللعب على خط الاعداد والعد</p> <p>.....</p> <p>.....</p> <p>*الجملة العددية تتضمن عددا غير معلوم</p> <p>*أنتقل إلى العدد المفقود في جمل طرح</p> <p>*لعبة تعليمية على برنامج الورد وول</p> <p>https://wordwall.net/ar/resource/8185023</p>	<p>(الخرائط الذهنية.) (الاستكشاف الاستقرائي) (التعلم باللعب.) ✓ (تمثيل الأدوار.) (التعلم بالأقران،) (حل المشكلات.) ✓ • أخرى:</p> <p>.....</p> <p>.....</p> <p>.....</p> <p>.....</p>	
--	---	--	--

الواجب المنزلي	التقويم الختامي	نشاط إثرائي / علاجي تفريد التعليم	التقويم التكويني
<p>الواجب المنزلي كتاب النشاط صفحة 39</p> <p>التعلم الذاتي اكتب مجموع النوافذ والابواب في منزلك في المربع الأخضر ، واكتب عدد النوافذ في المربع الأزرق أوجد العدد المفقود في المربع الأصفر.</p>	 <p>أوجد العدد المفقود:</p> <p>أ) $11 = \square + 2$ ب) $12 = \square + 5$ ج) $18 = 7 + \square$ د) $11 = 7 + \square$ هـ) $15 = \square + 8$ و) $15 = \square + 1$</p>	<p>التلاميذ ذوي التحصيل المرتفع: الانتقال معهم إلى جمل الطرح</p> <p>التلاميذ ذوي التحصيل المنخفض: أساعدهم بتذكيرهم بالأزواج العددية</p>	<p>أوجد العدد المفقود:</p> <p>$9 = \square + 3$ $5 = \square + 2$ $12 = 4 + \square$ $8 = 5 + \square$ $9 = \square - 14$ $15 = 7 - \square$</p>
			ملاحظات المعلم



(00) تاريخ الإصدار أكتوبر 2020 نموذج إضافي رقم (15)
نموذج استمارة التحضير الإلكتروني للدروس
عملية إعداد وتنفيذ الخطة الإجرائية لأقسام الإشراف الفني



الأول

المعلم

يعتمد،،

يعتمد،،، المشرف التربوي

موقع المناهج العمانية almanahj.com/om