

تم تحميل هذا الملف من موقع المناهج العمانية



## اختبار قصير أول في محافظة جنوب الشرقية

موقع فايلاتي ← المناهج العمانية ← الصف العاشر ← أحياء ← الفصل الأول ← اختبارات ← الملف

تاريخ إضافة الملف على موقع المناهج: 2024-10-24 21:04:31

ملفات اكتب للمعلم اكتب للطالب | اختبارات الكترونية | اختبارات | حلول | عروض بوربوينت | أوراق عمل  
منهج انجليزي | ملخصات وتقارير | مذكرات وبنوك | الامتحان النهائي للمدرس

المزيد من مادة  
أحياء:

## التواصل الاجتماعي بحسب الصف العاشر



صفحة المناهج  
العمانية على  
فيسبوك

الرياضيات

اللغة الانجليزية

اللغة العربية

التربية الاسلامية

المواد على تلغرام

## المزيد من الملفات بحسب الصف العاشر والمادة أحياء في الفصل الأول

ملخص آخر للوحدة الأولى النقل في الثدييات

1

معايير النجاح في المادة

2

ملخص الوحدة الأولى النقل في الثدييات

3

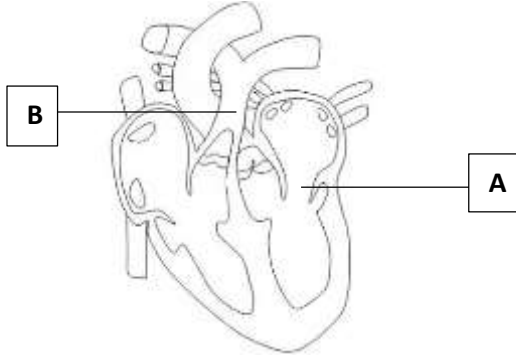
ملخص شرح درس الإخصاب وتطور الجنين

4

أعضاء الجهاز التناسلي في الإنسان

5

## الاختبار القصير (1) في مادة الأحياء للصف العاشر



1. يوضح الشكل المقابل عضلة قلب الإنسان. أجبني عما لي: (4 درجات)

أ. ما اسم الجزء المشار إليه بالرمز B.

.....

ب. ما وظيفة الجزء المشار إليه A.

.....

ب. جدار البطين الأيسر أكثر سماكة من جدار البطين الأيمن. فسري ذلك.

.....

.....

ج. العضلة القلبية تحتاج إلى إمداد مستمر من المواد الغذائية والدم لتستمر بالانقباض والانبساط.

المسؤول عن إمداد القلب بالأكسجين اللازم لعملها هو: (اختاري الإجابة الصحيحة)

أ. الشرايين الرئوية

ب. الشرايين التاجية

ج. الشريان الأبهر

د. الوريد الأجوف

2. الشكل المقابل يمثل عملية تبادل الغازات في الجهاز التنفسي للإنسان، ادرسيه

جيدا ثم أجبني عما يليه: (3 درجات)

أ. ماذا يمثل الجزء المشار إليه بالرمز X؟

.....

ب. اعطي خاصية تميز الجزء X وتزيد من كفاءة الوظيفة التي يقوم بها.

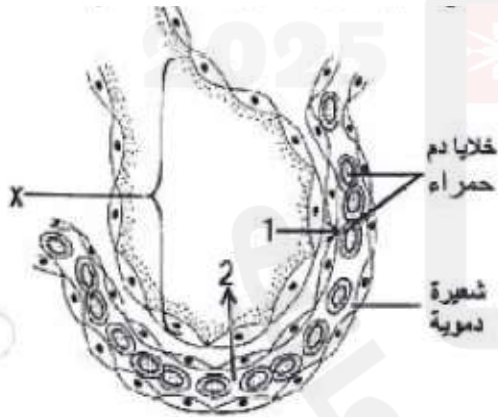
.....

ج. الأرقام 1 و2 يمثلان اتجاه مرور الغازات خلال سطح التبادل الغازي .

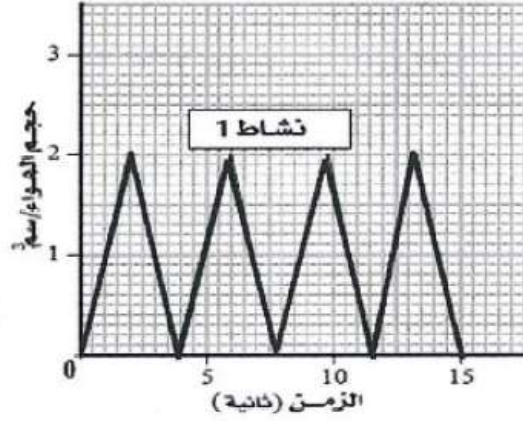
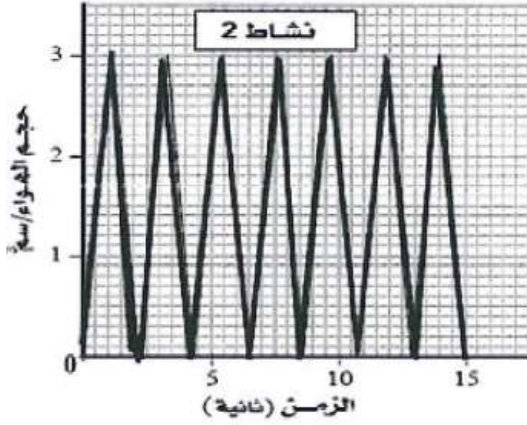
حددي اسم الغاز الذي يمر في:

1-.....

2-.....



3. الشكل الآتي يوضح حجم الهواء المتنفس لشخص ما خلال نشاطين مختلفين. ادرسيهما جيدا ثم أجيب عن الأسئلة التي تليه: (3 درجات)



أ. كم عدد مرات التنفس التي مارسها الشخص خلال النشاط (1)؟.....

ب. أي المخططين يمثل ممارسة الشخص لتمرين رياضي؟.....

فسري إجابتك.....

ج. يمثل الرسم البياني المقابل ضغط الهواء في الرئتين أثناء عملية الشهيق والزفير.

جميع ما يلي صحيح ما عدا:



البدائل	زفير	شهيق
أ	انقباض عضلة الحجاب الحاجز	انبساط عضلة الحجاب الحاجز
ب	انبساط عضلة الحجاب الحاجز	انقباض عضلة الحجاب الحاجز
ج	يقل حجم الرئة	يزيد حجم الرئة
د	تنبسط عضلات الضلوع	تنقبض عضلات الضلوع

أتمنى لكم التوفيق والتميز

إعداد: أ. سهام المعمرية