

شكراً لتحميلك هذا الملف من موقع المناهج العمانية



اختبار قصير أول نموذج أول

[موقع المناهج](#) ← [المناهج العمانية](#) ← [الصف العاشر](#) ← [كيمياء](#) ← [الفصل الأول](#) ← [الملف](#)

تاريخ نشر الملف على موقع المناهج: 07:29:18 2023-10-11

التواصل الاجتماعي بحسب الصف العاشر



روابط مواد الصف العاشر على تلغرام

[الرياضيات](#)

[اللغة الانجليزية](#)

[اللغة العربية](#)

[التربية الاسلامية](#)

المزيد من الملفات بحسب الصف العاشر والمادة كيمياء في الفصل الأول

أسئلة إثرائية اختبار من متعدد	1
مراجعة المادة من الوحدة الأولى إلى الوحدة الرابعة	2
نشاط درس المول مع نموذج الإجابة	3
نشاط درس الكتل النسبية مع نموذج الإجابة	4
نشاط الدرس الثاني	5

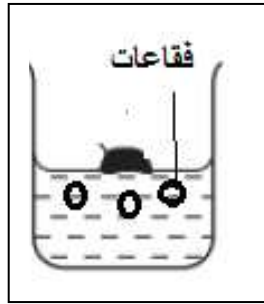
السؤال الأول :

أ - يعتبر النحاس عنصر انتقالي يستخدم في صناعة أواني الطبخ، أي من الخصائص الآتية غير صحيح بالنسبة للنحاس:

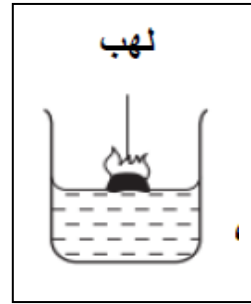
جيد التوصيل للحرارة صلد ومتين

درجة انصهاره منخفضة قابل للطرق و السحب (ظلي الدائرة المرسومة بجوار الإجابة الصحيحة)

ب - يوضح الشكل التالي ما يحدث عند إضافة عنصرين من عناصر المجموعة الأولى إلى الماء ، ادرسيه جيدا ثم أجبني عن الأسئلة التي تليه :




ص



س

1 - أكمل المعادلة التالية :



2 - الشكل (س) يمثل عنصر :

الليثيوم البوتاسيوم (ظلي الدائرة المرسومة بجوار الإجابة الصحيحة)

فسري إجابتك :

السؤال الثاني :

الجدول المقابل يوضح درجات الانصهار لمجموعة من المواد ، ادرسيه جيدا ثم أجبني عن المفردتين (أ) و (ب) :

أ - المادة التي تمثل عنصر الفرانسيوم (Fr) هي: (ظلي الدائرة المرسومة بجوار الإجابة الصحيحة)

س ص ع ل

ب - المادة التي تمثل العنصر الأكثر صلادة هي

المادة	درجة الانصهار (بالسيليزي)
س	27C
ص	28.44C
ع	39.3C
ل	63.5

السؤال الثالث: ادرسى الجدول المقابل ثم اجيبي عن الأسئلة التي تليه :

أ -

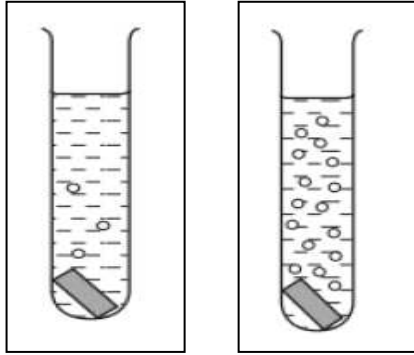
لون أيون الفلز في الماء	رمز الفلز
أخضر	س
عديم اللون	ص

1- رمز الفلز الذي يمثل عنصر الكالسيوم هو

2- رمز الفلز الذي له أكثر من حالة تكافؤ هو

ب - الشكل المقابل يمثل تجربة قام بها أحد الطلاب لدراسة تأثير العوامل الحفازة على سرعة التفاعلات الكيميائية ،

ادرسه جيدا ثم اجيبي عن الأسئلة التالية :



1 - اذكر تعريف العوامل الحفازة :

.....

2- الأنبوبة التي تحتوي على العامل الحفاز هي

Y

X