

تم تحميل هذا الملف من موقع المناهج العمانية



ملخص شامل للمادة من أطلسي

موقع فايلاتي ⇨ المناهج العمانية ⇨ الصف العاشر ⇨ اجتماعيات ⇨ الفصل الأول ⇨ ملخصات وتقارير ⇨ الملف

تاريخ إضافة الملف على موقع المناهج: 2024-11-29 23:10:48

ملفات اكتب للمعلم اكتب للطالب | اختبارات الكترونية | اختبارات | حلول | عروض بوربوينت | أوراق عمل
منهج انجليزي | ملخصات وتقارير | مذكرات وبنوك | الامتحان النهائي للمدرس

المزيد من مادة
اجتماعيات:

التواصل الاجتماعي بحسب الصف العاشر



صفحة المناهج
العمانية على
فيسبوك

الرياضيات

اللغة الانجليزية

اللغة العربية

التربية الاسلامية

المواد على تلغرام

المزيد من الملفات بحسب الصف العاشر والمادة اجتماعيات في الفصل الأول

اختبار قصير ثاني في محافظة ظفار

1

سؤال قصير ثاني في محافظة ظفار

2

ملخصات المادة من سلسلة ملخصات من أجلك طالبتي

3

تقرير عن ظهور الإسلام وبناء الدولة الجديدة

4

تقرير عن التعرية البحرية

5



سلطنة عمان
وزارة التربية والتعليم
المديرية العامة للتربية والتعليم بمحافظة الباطنة جنوب
مادة الدراسات الاجتماعية



أطلسي

للسف العاشر الأساسي



إعداد أ. رياء الشكيلي
مدرسة نخل للتعليم الأساسي 5-12



الهدف من المشروع :-

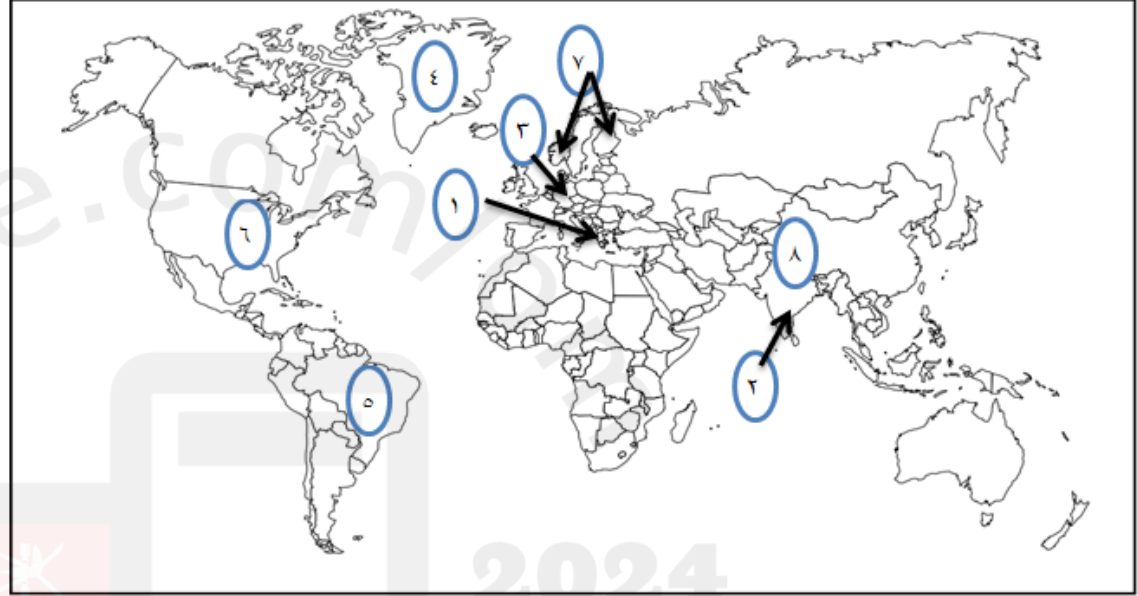
يهدف المشروع إلى تلخيص جميع ما ذكر في الفصل الأول من مناطق ودول وظواهرات طبيعية في خرائط بحيث يسهل على الطالب عملية المذاكرة والرجوع إليها.
وتتلخص فكرة المشروع بكتابة المعلومة عن الدولة وتوقيع رقم المعلومة على موقع الدولة في الخريطة كما تم ترتيب الملخص على حسب الدروس وإدراج الخرائط على حسب الحاجة (العالم ، الوطن العربي ، شبة الجزيرة العربية ، سلطنة عمان) .

2025

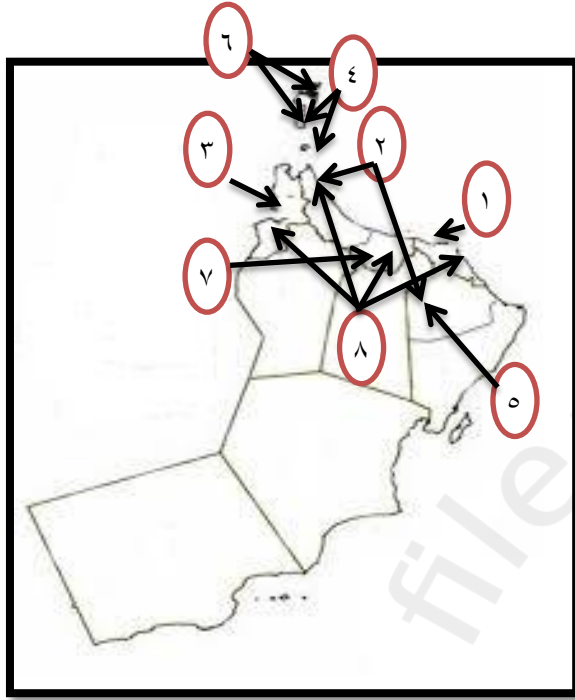
2024

الوحدة الأولى :-

الدرس الأول :- نشأة الأرض .



- ١- الحضارة التي اعتقد علماءها أن الأرض محمولة على قرن ثور .
- ٢- الحضارة التي اعتقدت أن الارض محمولة فوق أربعة فيلة واقفه على سلحفاة ضخمة .
- ٣- الدولة التي نبغ فيها صاحب نظرية زحزحة القارات .
- ٤- الجزيرة التي عثر فيها على نباتات مدارية .
- ٥- الدولة التي أثبت العلماء جريان أنهار جليدية فيها .
- ٦- الدولة التي توجد فيها جبال الأبلش .
- ٧- الدولة التي أثبت العلماء وجود تشابه حفري بينها وبين جبال الأبلش .
- ٨- الدولة التي يوجد فيها جبال الهملايا .

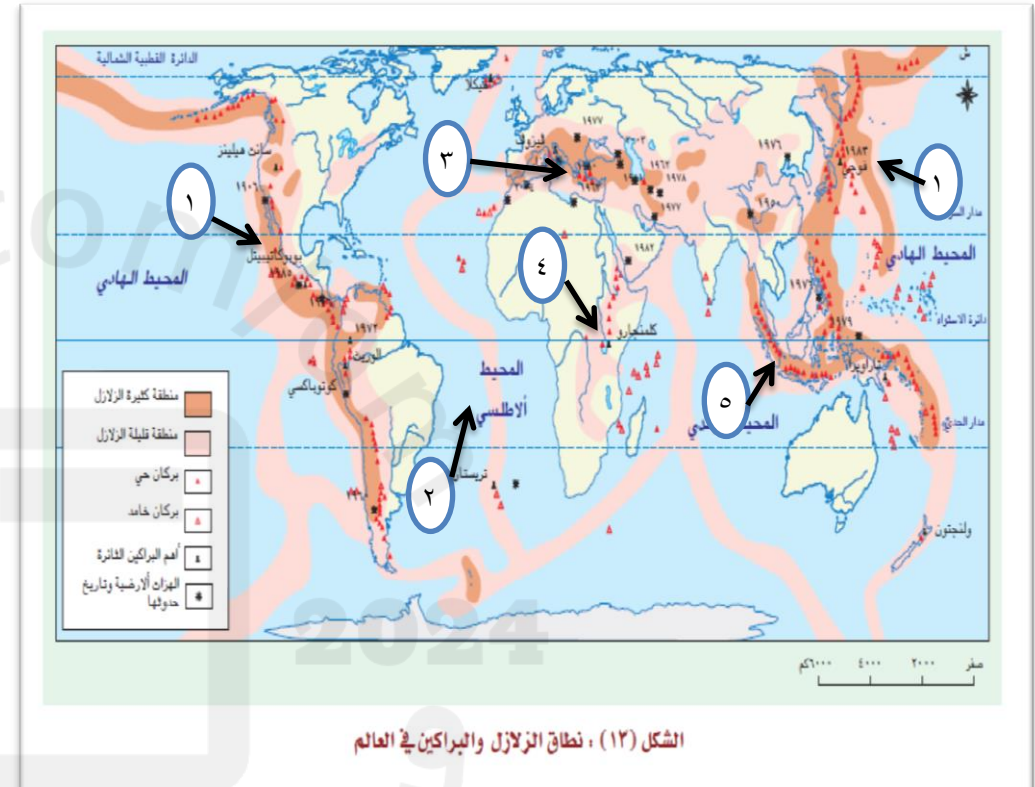


- ١- الولاية التي يوجد بها المركز الرئيسي لرصد الزلازل .
- *الولايات التي تأثرت بالهزات الزلزالية وفق الأعوام التالية:-
- ٢- عام ٢٠١١ م .
- ٣- عام ٢٠٠٨ م .
- ٤- عام ٢٠٠٧ م .
- ٥- عام ٢٠٠٥ م .
- ٦- عام ٢٠٠٢ م .
- ٧- عام ١٩٩٩ م .
- ٨- عام ١٩٦٥ م .

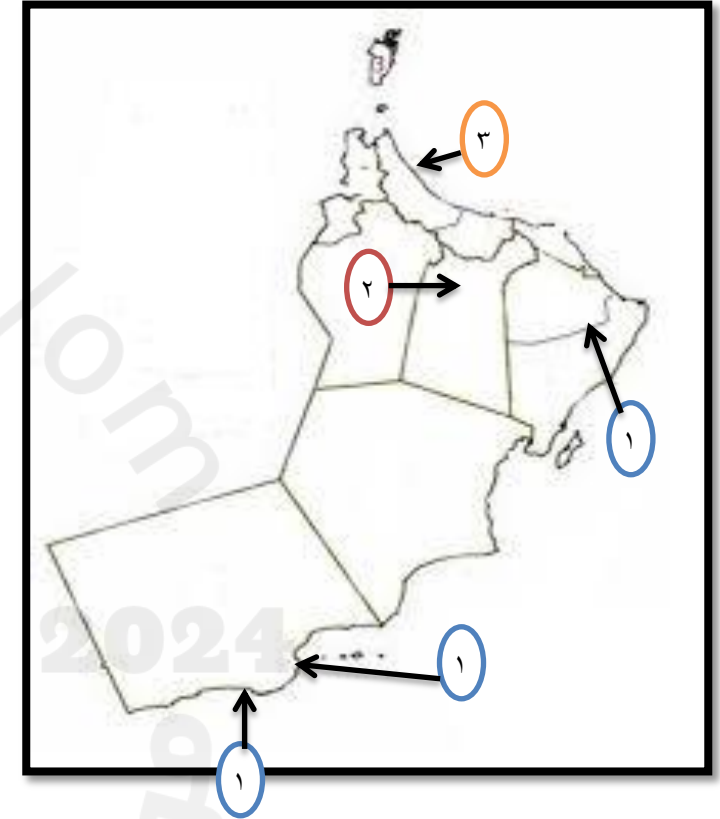
- ١- الدولة التي يوجد بها بركان أتنا .
- ٢- الدولة التي يوجد بها بركان أساما .
- ٣- الدولة التي يوجد بها بركان لاسن .
- ٤- الدولة التي يوجد بها بركان كلمنجارو .
- ٥- الدولة التي تؤثر هزاتها الزلزالية على السلطنة .



* معرفة مواقع محطات الرصد حسب كل محافظة



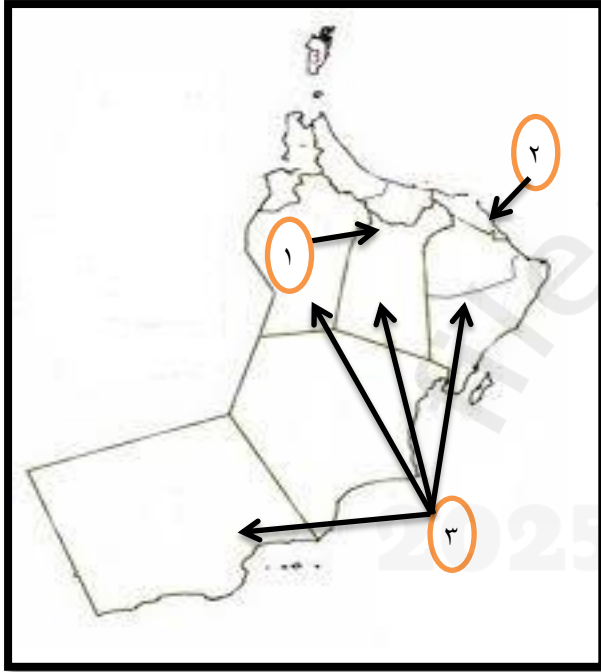
- ١- نطاق حلقة النار .
- ٢- نطاق المحيط الأطلسي .
- ٣- نطاق جنوب أوروبا .
- ٤- نطاق الأخدود الأفريقي العظيم .
- ٥- نطاق جنوب شرق اسيا .



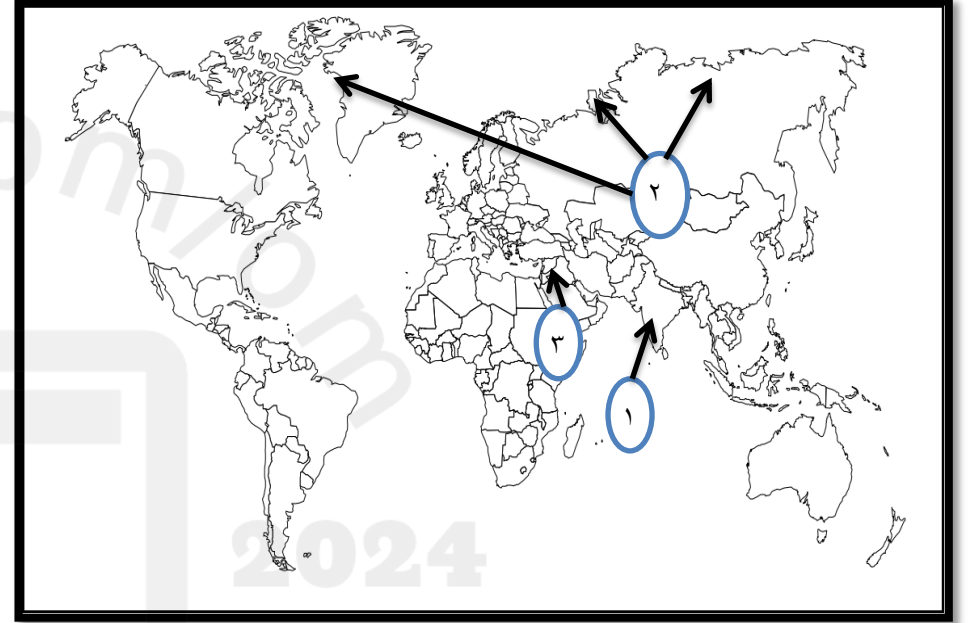
- ١- الولايات التي توجد فيها أقدم أنواع الصخور في عمان (صخور المرحلة الأولى) .
- ٢- الولايات التي يوجد بها صخور المرحلة الثالثة .
- ٣- الولاية التي يوجد بها الترسبات النحاسية التي تكونت في المرحلة الثالثة .

الوحدة الثانية :-

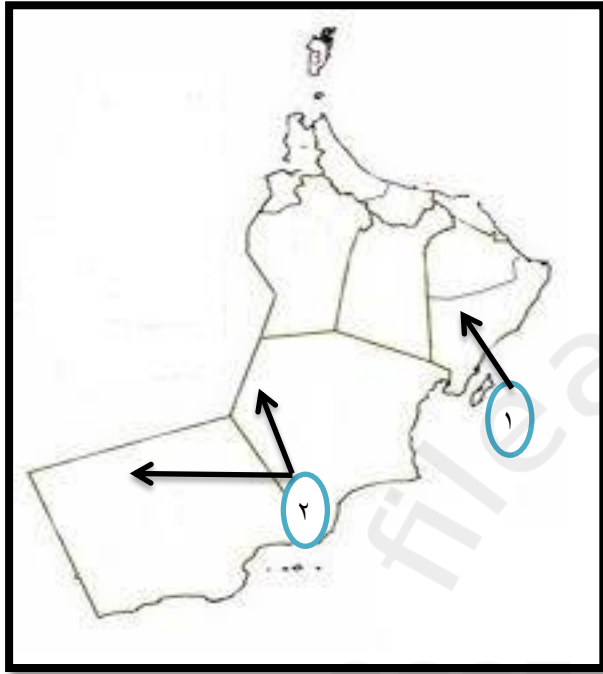
الدرس الأول :- التجوية .



- ١- الولاية التي يوجد بها كهف الهوتة .
- ٢- الولاية التي يوجد بها كهف مجلس الجن .
- ٣- المحافظات التي تتركز فيها الكهوف في السلطنة .



- ١- الدولة التي يوجد بها تاج محل .
- ٢- المنطقة التي يندر فيها تأثير التجوية الميكانيكية .
- ٣- الدولة التي توجد بها مغارة جعيتا .



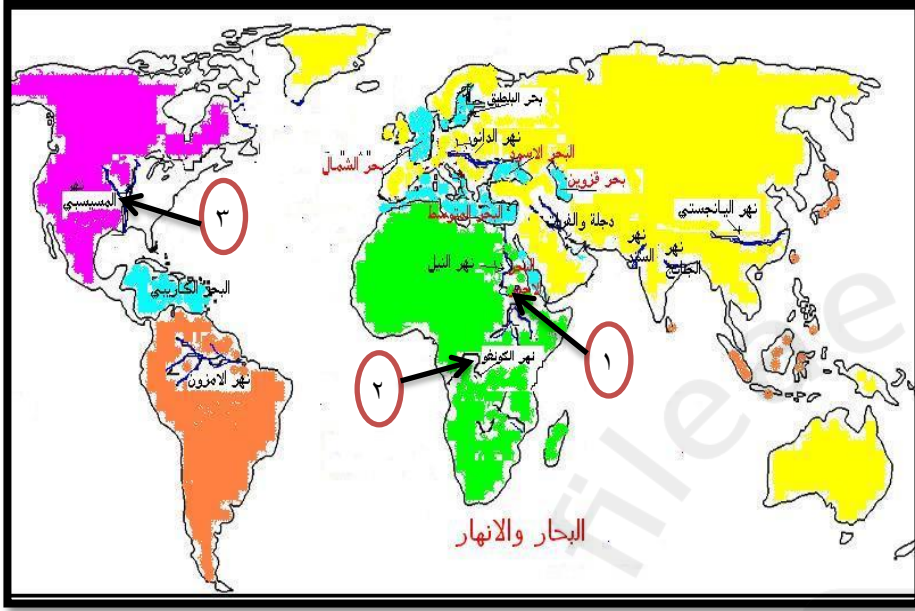
- ١- امتداد رمال الشرقية .
- ٢- امتداد صحراء الربع الخالي .



- ١- الدولة التي يوجد بها منخفض القطارة .
- ٢- الدولة التي يوجد بها منخفض صحراء ناميبيا .
- ٣- الدولة التي يوجد بها منخفض الصحراء الليبية الجزائرية .
- ٤- الدولة التي يوجد بها منخفض منغوليا .
- ٥- الدولة التي توجد بها بحيرة باند إي مير بأفغانستان .
- ٦- المنطقة التي تؤثر فيها رياح السيروكو .
- ٧- الدولة التي تشتهر بوجود تربة اللوس .



* معرفة أسماء ومواقع انتشار الصحاري في كل قارة .



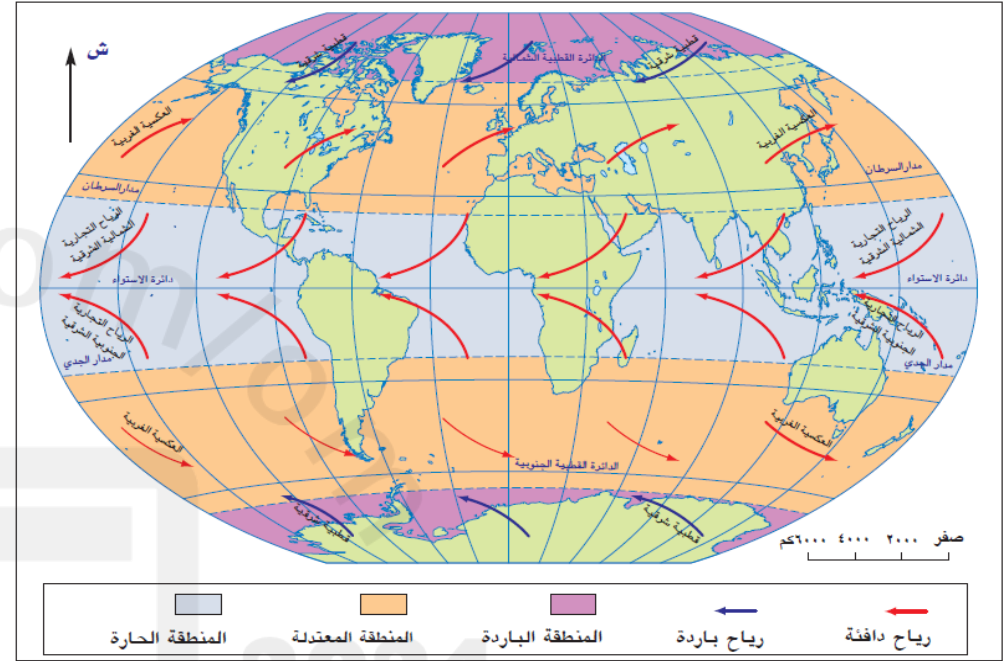
- ١- نهر النيل .
- ٢- نهر الكونغو .
- ٣- نهر الميسيسيبي .

- ١- الدول التي يوجد بها الجنادل الستة بين الخرطوم واسوان
- ٢- الدولة التي يوجد بها شلال أنجل .
- ٣- دولة التي يوجد بها شلالات نياجرا
- ٤- الدولة التي يوجد بها خائق كولورادو العظيم .

الدرس الرابع :- التعرية البحرية .



الشكل (٢٨) : التعرية البحرية في سلطنة عمان

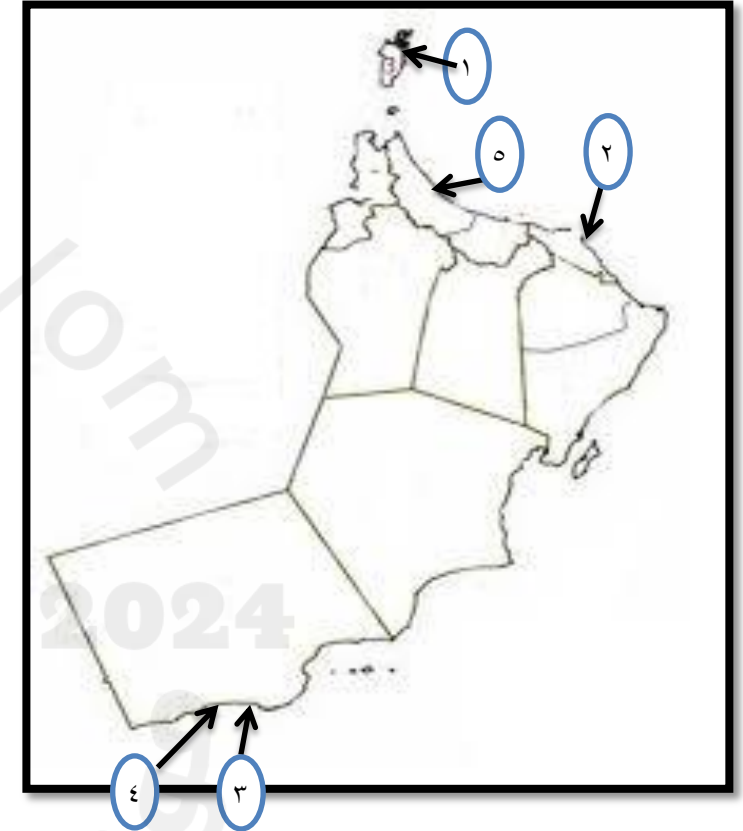


الشكل (٢٥) : الرياح الدائمة وتأثير قوة كوريولي

* معرفة نوع وطريقة تكون الشاطئ في جميع محافظات السلطنة .

* معرفة أسماء وإتجاه الرياح في كل منطقة .

- * الولايات التي تنتشر فيها الجروف الساحلية .
- ١- ١- مسندم .
 - ٢- ٢- بر الجصة .
 - ٣- ٣- مرباط إلى المغسيل .
 - * ٤- الولاية التي تشتهر بالنافورات البحرية .
 - * ٥- السهل الذي تنتشر فيه الحواجز الرملية .



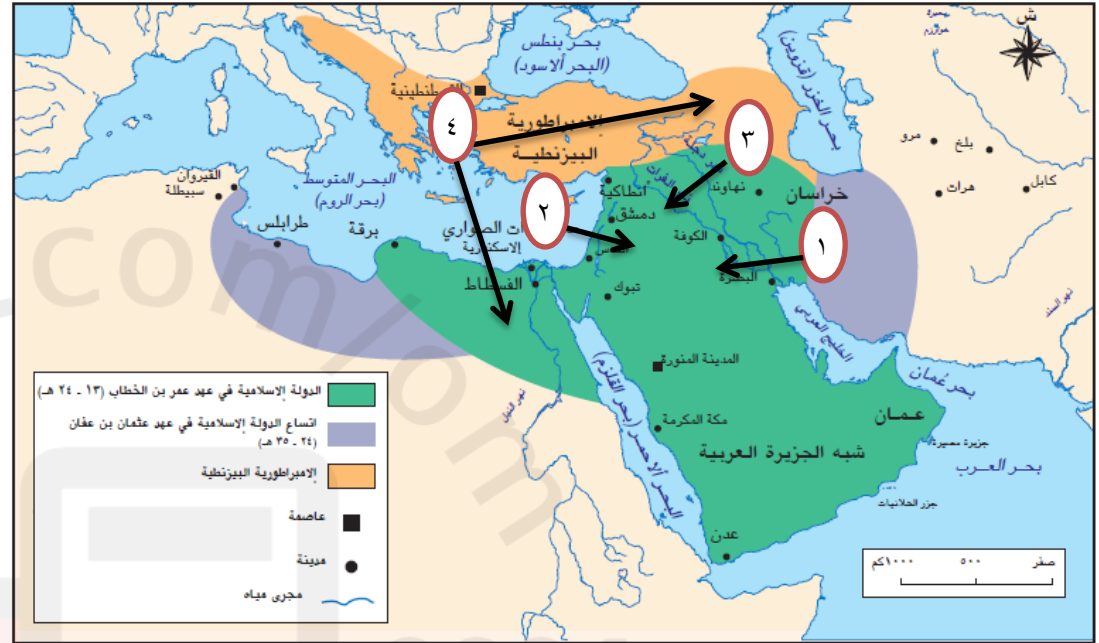
الوحدة الثالثة :-

الدرس الأول :- ظهور الإسلام وبناء الدولة الجديدة .

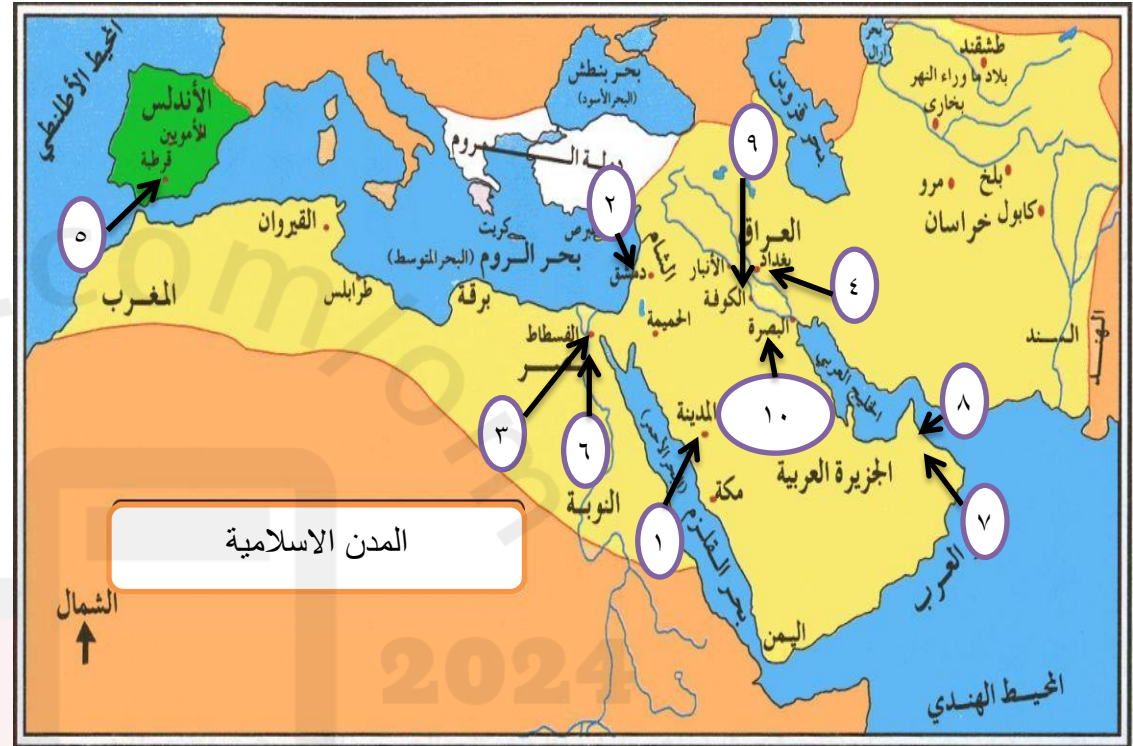


- ١- المنطقة التي ظهرت فيها الدعوة الإسلامية .
- ٢- المنطقة التي قامت فيها الإمبراطورية الفارسية .
- ٣- المنطقة التي قامت فيها الإمبراطورية الرومانية .
- ٤- الدولة التي توجد بها مدينة القسطنطينية .
- ٥- المغرب الأدنى . ٦- المغرب الأوسط . ٧- المغرب الأقصى .

- ١- المنطقة التي حدثت فيها معركة القادسية .
- ٢- المنطقة التي حدثت فيها معركة اليرموك .
- ٣- المنطقة التي حدثت فيها معركة صفين .
- ٤- اتساع الدولة الاسلامية في عهد الخليفة عثمان بن عفان (أرمينا ، مصر) .



الشكل (١) : حدود الدولة الإسلامية زمن الخلفاء الراشدين



- ١- المدينة التي احتضنت الحضارة الاسلامية وكانت من أهم المراكز العلمية في بداية الدولة الجديدة وتأسست فيها مدرسة الحديث .
- ٢- المدينة التي مثلت دور النشأة للحضارة الاسلامية .
- * المدن التي ازدهرت فيها الحضارة الاسلامية .
- ٣- الفسطاط . ٤- بغداد . ٥- قرطبة .
- ٦- القاهرة . ٧- الرستاق . ٨- صحار .
- ٩- المدينة التي تأسست فيها مدرسة الرأي .
- ١٠ - المدينة التي اشتهرت بعلم النحو وظهر فيها منهج جديد يجمع بين مدرسة الرأي والحديث .

الدرس الثالث :- المذاهب الإسلامية وتطورها التاريخي.



- * البلد الذي نبع فيه الأئمة التالية أسمائهم .
- ١- سعيد بن المسيب .
 - ٢- عطاء بن أبي رباح .
 - ٣- الشعبي .
 - ٤- الحسن البصري وجابر بن زيد .
 - ٥- طاووس .
 - * ٦- المدينة التي ولد فيها جابر بن زيد .

محمد ﷺ