

تم تحميل هذا الملف من موقع المناهج العُمانية



*للحصول على أوراق عمل لجميع الصفوف وجميع المواد اضغط هنا

<https://almanahj.com/om>

* للحصول على أوراق عمل لجميع مواد الصف العاشر اضغط هنا

<https://almanahj.com/om/10>

* للحصول على جميع أوراق الصف العاشر في مادة اجتماعيات ولجميع الفصول, اضغط هنا

<https://almanahj.com/om/10social>

* للحصول على أوراق عمل لجميع مواد الصف العاشر في مادة اجتماعيات الخاصة بـ الفصل الثاني اضغط هنا

<https://almanahj.com/om./10social2>

* لتحميل كتب جميع المواد في جميع الفصول للـ الصف العاشر اضغط هنا

<https://almanahj.com/om./grade10>

للتحدث إلى بوت المناهج العمانية على تلغرام: اضغط هنا

https://t.me/omcourse_bot



امتحان الصف العاشر
للعام الدراسي ١٤٣٧/١٤٣٨ هـ - ٢٠١٦/٢٠١٧ م
الدور الأول - الفصل الدراسي الثاني

- المادة: الدراسات الاجتماعية
- زمن الإجابة: ساعتان
- عدد صفحات أسئلة الامتحان: (١٠) صفحات.
- الإجابة في الورقة نفسها.

الصف		اسم الطالب
		المدرسة

السؤال	الدرجة		التوقيع بالاسم	
	بالأرقام	بالحروف	المصحح الأول	المصحح الثاني
١				
٢				
٣				
٤				
المجموع			جمعه	مراجعة الجمع
المجموع الكلي				

أجب عن الأسئلة الآتية:

السؤال الأول: ضع دائرة حول رمز الإجابة الصحيحة لكل مفردة من المفردات الآتية:

(١) انسحب الأمام أبو بلال مرداس بن حدير التميمي بعد مقتل عبدالله بن وهب الراسبي إلى مدينة :

(أ) الكوفة (ب) البصرة (ج) الاهواز (د) بغداد

(٢) كان له العديد من المراسلات مع الخليفة الأموي عبدالملك بن مروان حول المذهب الإباضي ومبادئه هو :

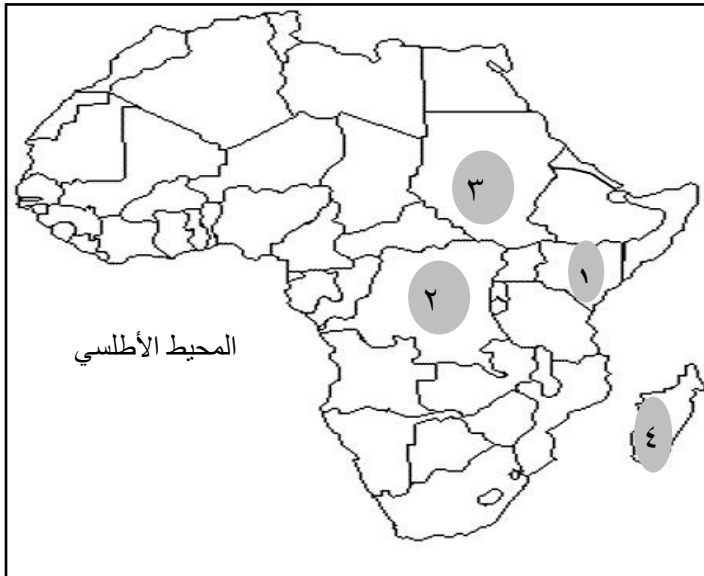
(أ) جابر بن زيد (ب) عبدالله بن وهب (ج) عبدالله بن أباض (د) أبو بلال مرداس

(٣) يتوقع أن ترتفع درجة حرارة الجو حتى عام ٢٠٧٥ م ما بين :

(أ) ١،٥ و ٤،٥ س° (ج) ١،٥ و ٧،٥ س°

(ب) ١،٥ و ٦،٥ س° (د) ١،٥ و ٥،٨ س°

(٤) الرقم الذي يشير إلى الدولة التي قامت بإعادة تأهيل ضفاف نهر فوجي من خلال زراعة أشجار الخيزران :



(أ) ١

(ب) ٢

(ج) ٣

(د) ٤

(٢)

تابع: امتحان الصف العاشر
للعام الدراسي ١٤٣٧/١٤٣٨ هـ - ٢٠١٦/٢٠١٧ م
الدور الاول - الفصل الدراسي الثاني
المادة: الدراسات الاجتماعية

تابع السؤال الأول :

٥) المصطلح الذي يطلق على الأعاصير في المحيط الهندي هو :

ب- hurricane

أ - cyclone


د- Katrina

ج- typhoon

٦) إحدى الصور تمثل المعالم الأثرية في اليابان الذي تعرض للقصف بالقنبلة النووية :




(ب)



(أ)



(د)



(ج)


٧) من بين الدول الأوروبية التي يستخدم سكانها التدفئة بواسطة مياه الينابيع الحارة :



(ب)



(أ)



(د)



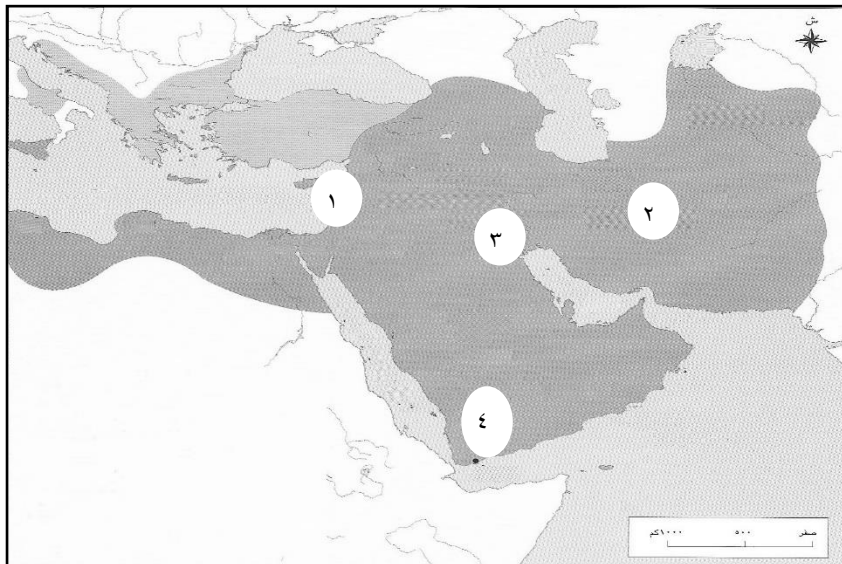
(ج)

(٣)

تابع: امتحان الصف العاشر
للعام الدراسي ١٤٣٧/١٤٣٨ هـ - ٢٠١٦/٢٠١٧ م
الدور الاول - الفصل الدراسي الثاني
المادة: الدراسات الاجتماعية

تابع: السؤال الأول:

٨ (الرقم الذي يشير إلى الدولة التي أصبحت أهم ميادين أزد عُمان في المشرق :



أ (١ ب (٢

ج (٣ د (٤

٩ (مصطلح الحرب الباردة يطلق على الصراع السياسي بين أمريكا و... :

أ - اليابان ب - الاتحاد السوفياتي

ج - الصين د - الهند

١٠ (المدينة التي وصفها الأحنف بن قيس بقوله : (أنها أكثر ساجاً ، وعاجاً ، وديباجاً ، ونهراً عجاجاً :

أ- الكوفة ب - البصرة

ج - الاهواز د - حضرموت

١١ - **النافتا** - مصطلح يطلق على أحد التكتلات الاقتصادية في العالم ويشمل الدول التالية :

أ (كندا والمكسيك وكوبا

ب (كندا والمكسيك وجاميكا

ج (كندا والمكسيك والولايات المتحدة الامريكية

د (كندا والمكسيك وبيرو

تابع: السؤال الأول:

١٢) يقبل اليابانيون على أكل الطحالب البحرية بكثرة نظرا لفائدتها في التقليل من مرض :

(ب) السل

(أ) الزهايمر

(د) الايدز

(ج) السرطان

السؤال الثاني: أجب عن الأسئلة التالية:

(أ) ١ - عرف المفاهيم التالية :

أ - جماعة القعدة :

ب - الثورة الخضراء :

(٢) علل:

أ- أصبحت البصرة من أهم الحواضر والأمصار في الدولة الجديدة.

ب - ارتفاع استيراد الحبوب في اليابان.

تابع السؤال الثاني: أجب عن الأسئلة التالية:

(ب)

١- أ - اكتب نتيجة واحدة لكل سبب :

م	السبب	النتيجة
١	عدم وجود أنظمة انذار مبكر
٢	تمكن الامام جابر بن زيد من علوم الدين وقضايا عصره
٣	تراجع مكانة القطاع الزراعي في الاقتصاد الصيني

ب -

١- من خلال الخريطة التي

أمامك. ما الرقم الذي يشير إلى المدينة التي وقع فيها معاهدة إنشاء الاتحاد الأوروبي في مارس ١٩٥٧ م ؟

٢- يشير الرقم (٢) إلى دولة لا تسعى للانضمام إلى الاتحاد الأوروبي

.....



٣- صنّف الصناعات التالية حسب الولاية الأمريكية التي تشتهر بها :

الولاية	كارولينا الجنوبية	ديترويت
الصناعة

تابع السؤال الثاني: أجب عن الأسئلة التالية:

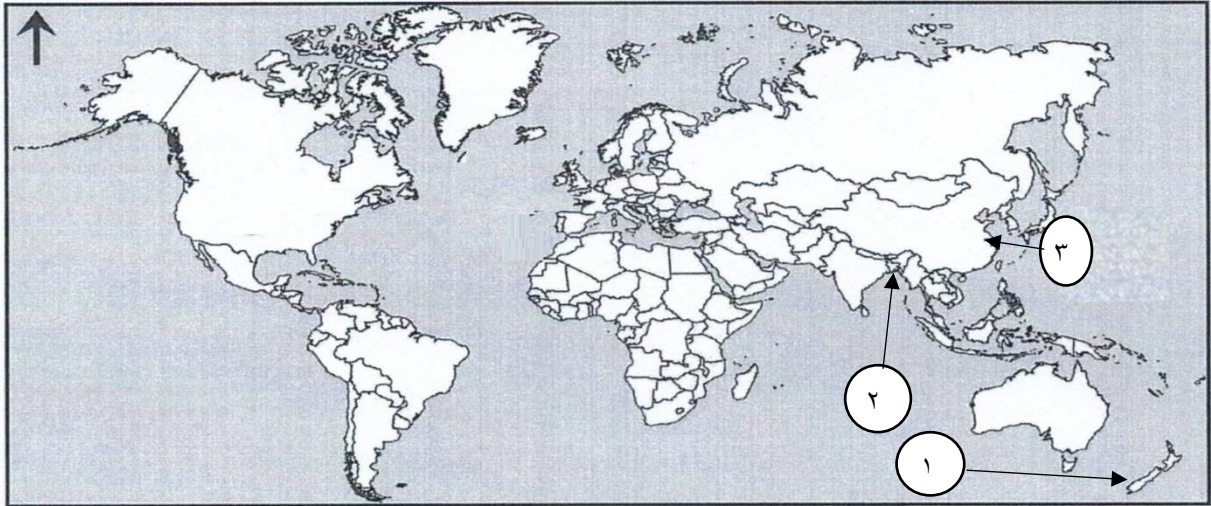
ج () : من خلال دراستك لموضوع الحياة الثقافية والاجتماعية والاقتصادية لعمان خلال القرون الثلاثة الأولى من الهجرة ، ازدهرت الكثير من المدن العمانية وكانت محط كثير من الرحالة والجغرافيين ..) .

أكمل بيانات الجدول التالي :

الوصف	اسم المدينة	اسم الرحالة
أعمر مدن عُمان وأكثرها مالا
أنها مرفأ لأكثر سفن الهند

السؤال الثالث :

أ (١) - أمامك خريطة الوطن العربي ، ادرسها جيداً ، ثم أجب عن الأسئلة التي تليها :



- ١ - الرقم الذي يشير إلى الدولة التي تعرضت لأسوأ الأعاصير عام ١٩٧٠ م . (.....) .
- ٢ - ارسم دائرة حول الجزيرة التي تعرضت لأكبر زلزال عام ٢٠٠٤ م بلغت قوته ٨,٥ على مقياس ريختر.
- ٣ - اسم الجزيرة العمانية التي تعرضت لإعصار قوي عام ١٩٧٧ . (.....) .
- ٤ - كيف يمكن الاستفادة من البراكين في الدولة المشار إليها بالرقم (١) ؟

تابع السؤال الثالث : أجب عن الأسئلة التالية :

ب (١ - اقرأ الآية الكريمة التالية ، ثم أجب عن ما يليها :
قال تعالى :

” ادفع بِأَلْتِي هِيَ أَحْسَنُ فَإِذَا الَّذِي بَيْنَكَ وَبَيْنَهُ عَدَاوَةٌ كَأَنَّهُ وَلِيٌّ حَمِيمٌ “ ٣٤ (سورة فصلت) .

أ – طبقت المدرسة الاباضية في مسيرتها التاريخية مجموعة من المبادئ التي تدعو إليها هذه الآية.
دل على صحة هذه العبارة.


ب - ”لأن أتصدق بدرهم على يتيم أحب إليّ من حجة بعد حجة الإسلام“ .

١- من صاحب هذه المقولة ؟

٢- فسر هذه العبارة التالية :

(رغم قصر فترة حكم طالب الحق إلا إنه ترك آثاراً اجتماعية وإنسانية في تاريخ المنطقة) .

ج (١ - اكتب دلالة الشعارات التي أمامك ، والتي تدل على أبرز التكتلات الاقتصادية في العالم :

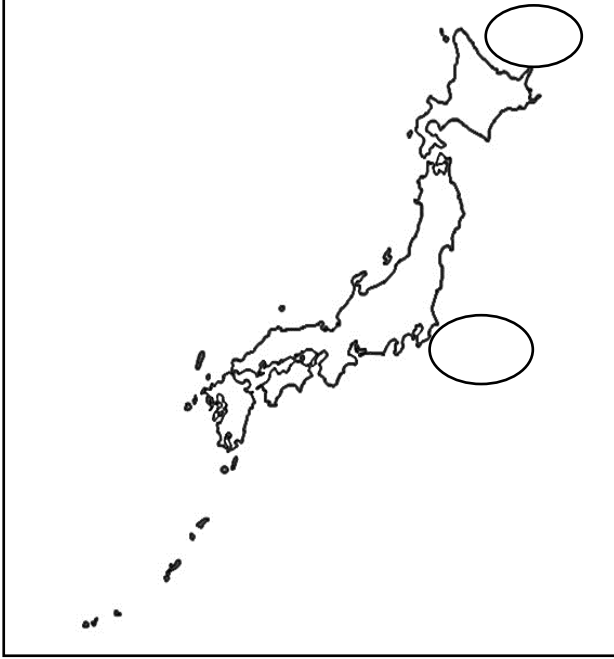


(٨)

تابع: امتحان الصف العاشر
للعام الدراسي ١٤٣٧/١٤٣٨ هـ - ٢٠١٦/٢٠١٧ م
الدور الأول - الفصل الدراسي الثاني
المادة: الدراسات الاجتماعية

تابع السؤال الثالث : أجب عن الأسئلة التالية :

٢- انقل أرقام المدن اليابانية على الخريطة التي أمامك حسب موقع كل مدينة :



١- طوكيو

٢- هوكايدو

السؤال الرابع : أجب عن الأسئلة التالية :

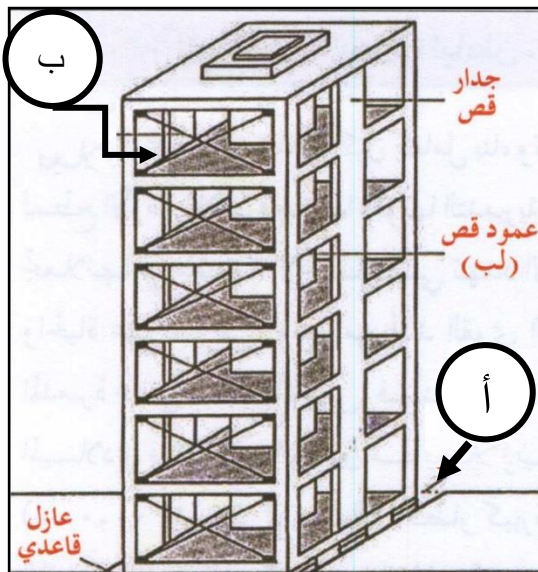
١- على ماذا يدل الشكل الذي أمامك ؟

.....

٢- اكتب ما تمثله الرموز في الشكل .

أ -

ب -



تابع : السؤال الرابع : أجب عن الأسئلة التالية :

ب (١ - اعط مثلاً على تنافس الميسورين العمانيين في سد حاجات الفقراء ودفع ديون عن من يموت من أفراد المجتمع .

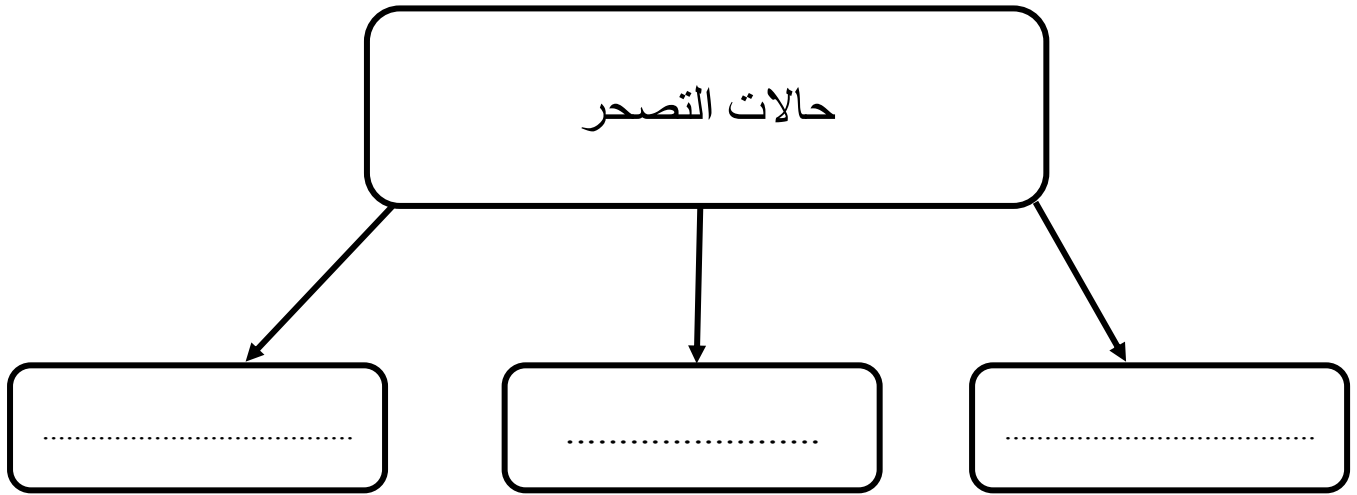
.....

.....

٢- انسب الكتب التالية إلى مؤلفيها :

الكتاب	معجم العين	الجمهرة	الروضة
المؤلف

ج (١ - أمامك مخطط لحالات التصحر، ادرسه جيداً، ثم أكمل البيانات:



٢- اقترح إجراءات السلامة التي تتخذها عند معرفتك بقدم عاصفة مدارية أو إعصار على منطقتك.

.....

.....

.....

.....

انتهت الأسئلة مع الدعاء للجميع بالتوفيق والنجاح ..

نموذج إجابة امتحان الصف العاشر
 للعام الدراسي ١٤٣٧/١٤٣٨ هـ - ٢٠١٦/٢٠١٧ م
 الدور الأول - الفصل الدراسي الثاني

المادة: الدراسات الاجتماعية
 تنبيه: نموذج الإجابة في (٤) صفحات.
 الدرجة الكلية: (٦٠) درجة.

أولاً: إجابة السؤال الموضوعي:

		درجة (٢٤)			إجابة السؤال الأول	
المستوى المعرفي	المخرج التعليمي	الصفحة	الدرجة	الإجابة	البديل الصحیح	المفرد ة
معرفة		١٢	٢	البصرة	ب	١
معرفة		١٢	٢	عبدالله بن أباض	ج	٢
معرفة		٣٢	٢	١٠،٥ و ٤،٥ س٠	أ	٣
تطبيق		٤٤	٢	١ - كينيا	أ	٤
فهم		٤٦	٢	CYCLONE	أ	٥
تطبيق		٧٨	٢	متحف السلام 	أ	٦
تطبيق		٥٧- ١٢٣	٢	ايسلندا 	د	٧
تطبيق		١٥٤-١٩	٢	٢	ب	٨
معرفة		٧٠	٢	الاتحاد السوفياتي	ب	٩
معرفة		١٥	٢	البصرة	ب	١٠
فهم		٩٩	٢	كندا والمكسيك والولايات المتحدة الامريكية	ج	١١
فهم		٨٤	٢	السرطان	ج	١٢
		٢٤	المجموع			

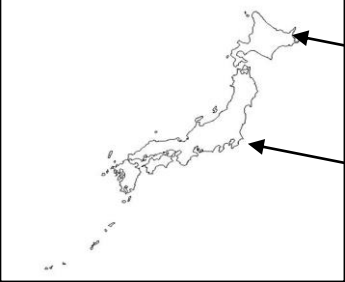
تابع نموذج إجابة امتحان الصف العاشر
للعام الدراسي ١٤٣٧/١٤٣٨ هـ - ٢٠١٦/٢٠١٧ م
الدور الأول - الفصل الدراسي الثاني
المادة : الدراسات الاجتماعية

ثانيا: إجابة الأسئلة المقالية:

إجابة السؤال الثاني						الدرجة الكلية: ١٢ درجة	
المستوى المعرفي	المخر ج التعلي مي	الصفحة	الدرجة	الإجابة الصحيحة	المفردة	الجزئية	
معرفة		١٢	١	أ- جماعة القعدة : هم الذين آثروا القعود وعدم اشهار السلاح الا في وجه المعتدين مع عدم تخليهم عن الامر بالمعروف والنهي عن المنكر .	١	أ	
معرفة		٨٣	١	ب - الثورة الخضراء : اتجاه الدول والحكومات لتحقيق الامن الغذائي ومضاعفة الإنتاج الزراعي لسكان الأرض بعد الحرب العالمية الثانية وتوفير الشروط اللازمة لتنمية الزراعة .			
فهم		١٥	١	أ - بسبب موقعها بين الصحراء وسهول العراق - تربعها على رأس الخليج - اتصالها بكافة مراكز الحضارات (يكتفى بواحدة فقط)	٢		
فهم		٨٣	١	ب - بسبب زيادة عدد السكان - زيادة الاستهلاك			
قدرات عليا		٦٢	١	أ- تضاعف حجم الكارثة التي وقعت في جنوبي آسيا	١	ب	
قدرات عليا		١٦	١	ب- تمكن من تفعيل مبادئ وقيم عقيدته وبرع في توضيح مسائل قاصديه حسب مقتضيات يومه.			
قدرات عليا		٩٢	١	ج- نتيجة للتطور السريع للأنشطة غير الزراعية.			
قدرات عليا		١٠٠	١	أ- إيطاليا (٣) .	٢	ج	
قدرات عليا		١٠١	١	ب- سويسرا (٢)			
قدرات عليا		٧٥	١	ج- النسيج ١/٢ - السيارات ١/٢			
تطبيق		٢٦	٢	* اسم الرحالة (الاضطخري) ١/٢ _ اسم المدينة (صحار) ١/٢ * اسم الرحالة (ياقوت الحموي) ١/٢ _ اسم المدينة (قلعات) ١/٢			

تابع نموذج إجابة امتحان الصف العاشر
للعام الدراسي ١٤٣٧/١٤٣٨ هـ - ٢٠١٦/٢٠١٧ م
الدور الأول - الفصل الدراسي الثاني
المادة : الدراسات الاجتماعية

تابع ثانياً: إجابة الأسئلة المقالية:

الدرجة الكلية: (١٢) درجة				إجابة السؤال الثالث		
المستوى المعرفي	المخرج التعليمي	الصفحة	الدرجة	الإجابة الصحيحة	المفردة	الجزئية
قدرات عليا تطبيق		٥٢	١	أ - بنجلاديش	١	أ
		٥٦	١	ب- جزيرة سومطرة		
تطبيق		٥٢	١	ج - جزيرة مصيرة	٢	
		٥٧	١	د - نيوزلندا لإنتاج الطاقة الكهربائية		
		٢١	١	١- التسامح - احترام وجهات نظر المحاورين .		
تطبيق		١٦	١	- الامام جابر بن زيد	١	ب
		١٨	١	- أحسن للناس وعاملهم معاملة حسنة وكان متسامحاً مع كافة فئات المجتمع ورفع الظلم عن كاهل المواطنين ووزع الأموال والصدقات على الفقراء والمحتاجين . (يكتفى بواحدة فقط)	٢	
تطبيق		١٠٥	١	* دلالة الشعارات :	١	
		١٠٨	١	أ - رابطة الآسيان		
		١٠٠	١	ب - مجموعة الدول الثماني النامية ج - علم الاتحاد الأوروبي		
تطبيق		79	١		٢	ج
			١			

(٤)

تابع نموذج إجابة امتحان الصف العاشر
للعام الدراسي ١٤٣٧/١٤٣٨ هـ - ٢٠١٦/٢٠١٧ م
الدور الأول - الفصل الدراسي الثاني
المادة : الدراسات الاجتماعية

تابع ثانياً: إجابة الأسئلة المقالية:

إجابة السؤال الرابع :												
الدرجة الكلية: (١٢) درجة												
الجزئية	المفردة	الإجابة الصحيحة	الدرجة	الصفحة	المخرج التعليمي	المستوى المعرفي						
أ	١	نموذج لبنانية مقاومة للزلازل	١	٥٥		تطبيق						
	٢	أ - خندق ب - تدعيم متقاطع	١	٥٥		تطبيق						
ب	١	مثال على ذلك : الداعية الإباضي أبو الحر علي بن الحصين موسراً وتأتيه غلته سنوياً فيقسمها قسمين نصف لأهل بيته والنصف الثاني يصرفه على الفقراء والمحتاجين من أفراد أسرته .	١	٢٣		فهم						
	٢	<table border="1"> <thead> <tr> <th>الكتاب</th> <th>معجم العين</th> <th>الجمهرة</th> <th>الروضة</th> </tr> </thead> <tbody> <tr> <td>المؤلف</td> <td>الخليل بن احمد الفراهيدي</td> <td>أبو بكر محمد بن الحسن بن دريد</td> <td>أبو العباس (المبرد)</td> </tr> </tbody> </table>	الكتاب	معجم العين	الجمهرة	الروضة	المؤلف	الخليل بن احمد الفراهيدي	أبو بكر محمد بن الحسن بن دريد	أبو العباس (المبرد)	٣	٢٢
الكتاب	معجم العين	الجمهرة	الروضة									
المؤلف	الخليل بن احمد الفراهيدي	أبو بكر محمد بن الحسن بن دريد	أبو العباس (المبرد)									
ج	١	<p>حالات التصحر</p> <pre> graph TD A[حالات التصحر] --> B[شديد جداً] A --> C[شديد] A --> D[طفيف] </pre>	٣	٤٢		تطبيق						
	٢	<p>الإجراءات المقترحة :</p> <ul style="list-style-type: none"> - بقاء الافراد في منازلهم . - الابتعاد عن الشواطئ . - الابتعاد عن مجاري الاودية والأماكن المنخفضة . <p>* أو ما يفيد المعنى ..</p>	٢	٥٠		قدرات عليا						

نهاية نموذج الإجابة