

تم تحميل هذا الملف من موقع المناهج العُمانية



*للحصول على أوراق عمل لجميع الصفوف وجميع المواد اضغط هنا

<https://almanahj.com/om>

* للحصول على أوراق عمل لجميع مواد الصف العاشر اضغط هنا

<https://almanahj.com/om/10>

* للحصول على جميع أوراق الصف العاشر في مادة اجتماعيات ولجميع الفصول, اضغط هنا

<https://almanahj.com/om/10social>

* للحصول على أوراق عمل لجميع مواد الصف العاشر في مادة اجتماعيات الخاصة بـ الفصل الأول اضغط هنا

<https://almanahj.com/om./10social1>

* لتحميل كتب جميع المواد في جميع الفصول للـ الصف العاشر اضغط هنا

<https://almanahj.com/om./grade10>

للتحدث إلى بوت المناهج العمانية على تلغرام: اضغط هنا

https://t.me/omcourse_bot



امتحان الصف العاشر

للعام الدراسي ١٤٣٧/١٤٣٨ هـ - ٢٠١٦/٢٠١٧ م
الدور الأول - الفصل الدراسي الأول

• عدد صفحات أسئلة الامتحان: (١١) صفحات.
• الإجابة في الورقة نفسها.

• المادة: الدراسات الاجتماعية
• زمن الإجابة: ساعتان

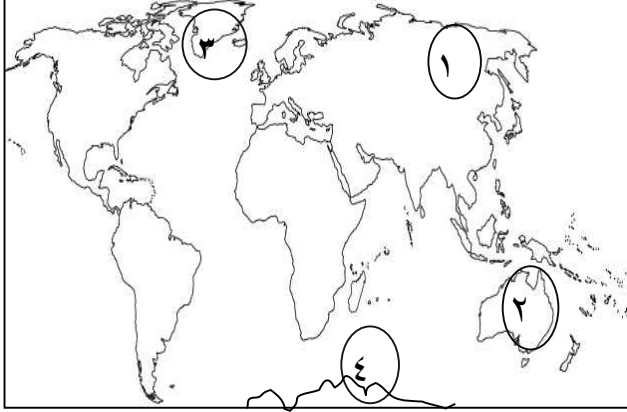
| اسم الطالب | |
|------------|---------|
| الصف | المدرسة |

| السؤال | الدرجة | | التوقيع بالاسم | |
|---------------|----------|---------|----------------|---------------|
| | بالأرقام | بالحروف | المصحح الأول | المصحح الثاني |
| ١ | | | | |
| ٢ | | | | |
| ٣ | | | | |
| ٤ | | | | |
| المجموع | | | جمعه | مراجعة الجمع |
| المجموع الكلي | | | | |

أجب عن الأسئلة الآتية:

السؤال الأول: ضع دائرة حول رمز الإجابة الصحيحة لكل مفردة من المفردات الآتية:

(١) الرقم الذي يشير إلى الجزيرة القطبية التي عثر فيها على نباتات مدارية حارة:

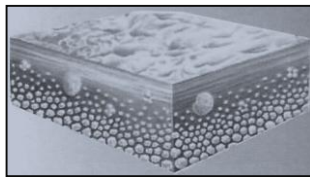


- أ - ١
ب - ٢
ج - ٣
د - ٤


(٢) يصنف الزلزال الذي ضرب ولايتي مدحا ودبا في عام ٢٠٠٧ م، والذي بلغ قوته (٤,٥) ضمن مقياس ريختر :

- أ- زلزال خفيف
ب - زلزال لا نشعر به
ج - زلزال قوي
د - دمار شامل

(٣) الشكل الذي يمثل المرحلة الثالثة من مراحل تكون الصخور الرسوبية هو :




(ب)



(أ)



(د)



(ج)

تابع السؤال الأول :

٤ (يعد بركان كليمنجارو في تنزانيا من نوعية البراكين:

أ - النشطة ب- المنقطعة

ج - الساكنة د- الخامدة


٥ (الشكل الذي ينتج عن التعرية النهرية في مرحلة الشباب هو :




(ب)



(أ)



(د)



(ج)

٦ (تكونت حقول الجلاميد المستديرة الشكل بفعل عامل:

أ - الكربنة ب - الاذابة

ج - الاكسدة د - التميؤ

٧ (الترتيب الصحيح لتكوين المسلة البحرية بفعل الأمواج:

أ - نحت - قوس - مسلة - كهف

ب - نحت - كهف - مسلة - قوس

ج - نحت - كهف - قوس - مسلة

د - نحت - مسلة - قوس - كهف

تابع: السؤال الأول:

٨ (تبدأ عملية التذرية التي تتعرض لها الرمال عندما تصل سرعة الرياح أكثر من :

أ - ٩ كم /ساعة

ب - ١٠ كم / ساعة

ج - ١١ كم / ساعة

د - ١٢ كم / ساعة

٩ (هضاب صخرية مترامية الأطراف متوسطة الارتفاع تحصر بينها أحواض رملية:

أ - صحارى الحماده

ب - التلال المفردة

ج - سهول الرق

د - المنخفضات الصحراوية

١٠ (قال عليه أفضل الصلاة والسلام لأحد أصحابه: (أفلا شققت عن قلبه حتى تعلم أقالها أم لا) تدل على أحد الآداب الأخلاقية :

أ- الاحترام

ب- حسن الظن

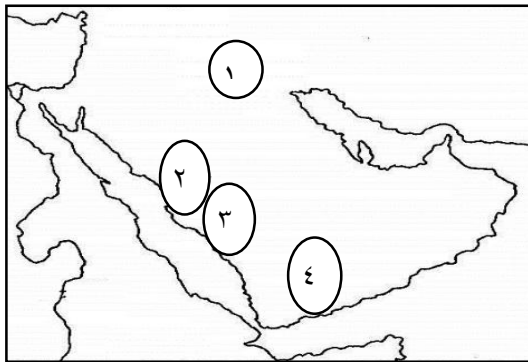
ج - عدم الغيبة

د - عدم تصيد الأخطاء

١١ (الترتيب الصحيح للأحداث التاريخية التالية:

أ - بناء اسطول بحري - القضاء على المرتدين - انتقال الخلافة الى الشام - معركة القادسية
ب - انتقال الخلافة الى الشام - معركة القادسية - بناء اسطول بحر - القضاء على المرتدين
ج - القضاء على المرتدين - معركة القادسية - بناء اسطول بحري - انتقال الخلافة الى الشام
د - معركة القادسية - بناء اسطول بحري - القضاء على المرتدين - انتقال الخلافة الى الشام

١٢ (الرقم الذي يشير المدينة الذي ظهرت فيها مدرسة الرأي :



أ (١

ب (٢

ج (٣

د (٤

السؤال الثاني: أجب عن الأسئلة التالية:

أ -

(١) علل:

أ- تعد الزلازل البلوتونية من أخطر أنواع الزلازل.

ب - عدم اصطدام رسالة الإسلام الجديدة بالحضارات والثقافات الأخرى.

(٢)

أ- حدد أوجه الشبه والاختلاف بين الظاهرتين حسب الجدول المرفق :

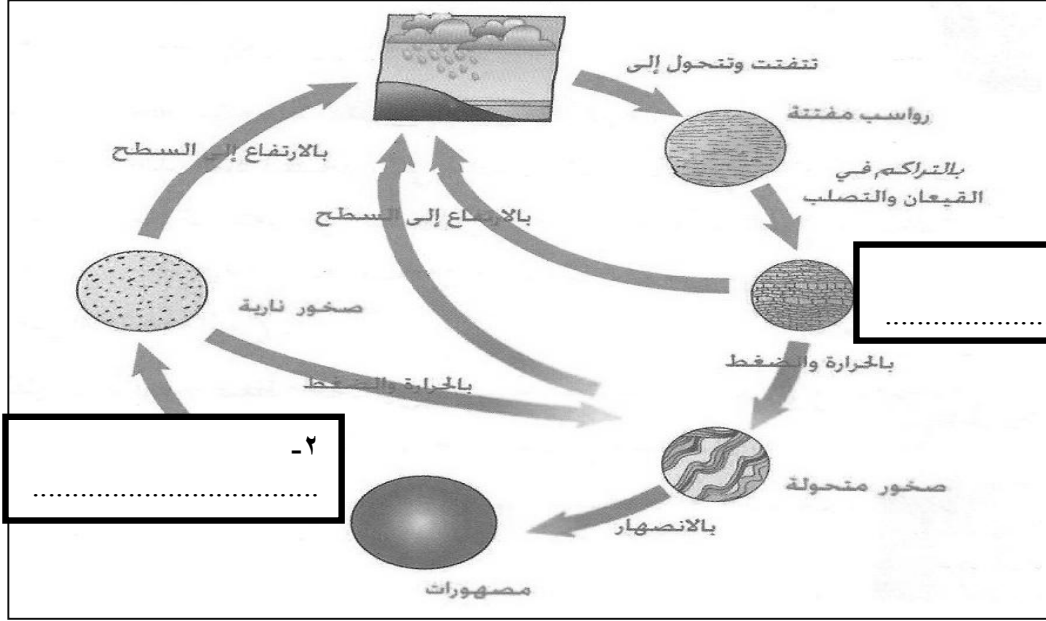
| أوجه الاختلاف | أوجه الشبه | أوجه المقارنة الظاهرة |
|---------------|------------|--------------------------|
| | | المراوح الفيضية |
| | | السهل الفيضي |

(٥)

تابع: امتحان الصف العاشر
للعام الدراسي ١٤٣٧/١٤٣٨ هـ - ٢٠١٦/٢٠١٧ م
الدور الأول - الفصل الدراسي الأول
المادة: الدراسات الاجتماعية

تابع السؤال الثاني:

ب - ١ - ادرس الشكل التالي ، ثم أجب عما يلي :
أ - أكمل بيانات الشكل :



٣ (ما العامل الذي يؤدي إلى تحول الصخور إلى مفتتات؟

.....

.....

ب - ٢ (يعد القرآن الكريم من المرتكزات الأساسية في الفكر الإسلامي . وضح ذلك .

.....


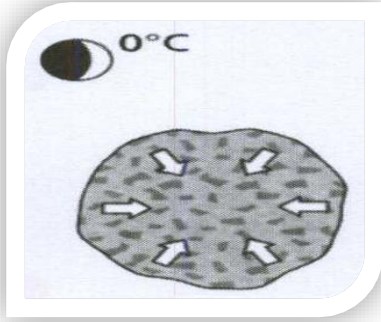
.....

.....

تابع السؤال الثاني :

ج :- ١- (ظاهرة تحدث في المناطق الحارة نتيجة لاختلاف درجة الحرارة بين الليل والنهار مما يؤثر على المعادن المكونة للصخر) .

- اكتب اسم الظاهرة أسفل كل شكل:



..... (أ) (ب)

ج - ارسم النتيجة المترتبة على هذه الظاهرة موضحاً ذلك بالرسم.



٢- قال عبدالله بن مسعود رضى الله عنه : (يا أيها الناس عليكم بالطاعة والجماعة فإنها حبل الله الذي أمر به ، وإن ما تكرهون في الجماعة خير مما تحبون في الفرقة) .

- وضح كيف طبق الحسن بن علي بن أبي طالب (كرم الله وجهه) هذا القول.

السؤال الثالث : أجب عن الأسئلة التالية :

١ -

أ) ما النتيجة المترتبة على ما يلي؟

١- تراكم المواد البركانية حول فوهة البركان.

.....
.....

٢- إذابة معدن الفلسبار الموجود في صخر الجرانيت.

.....
.....

ب (

١- انسب الكتاب إلى المؤلف كما في الجدول التالي:

| المؤلف | الكتاب |
|--------|----------------|
| | المجموع الكبير |
| | المسند |

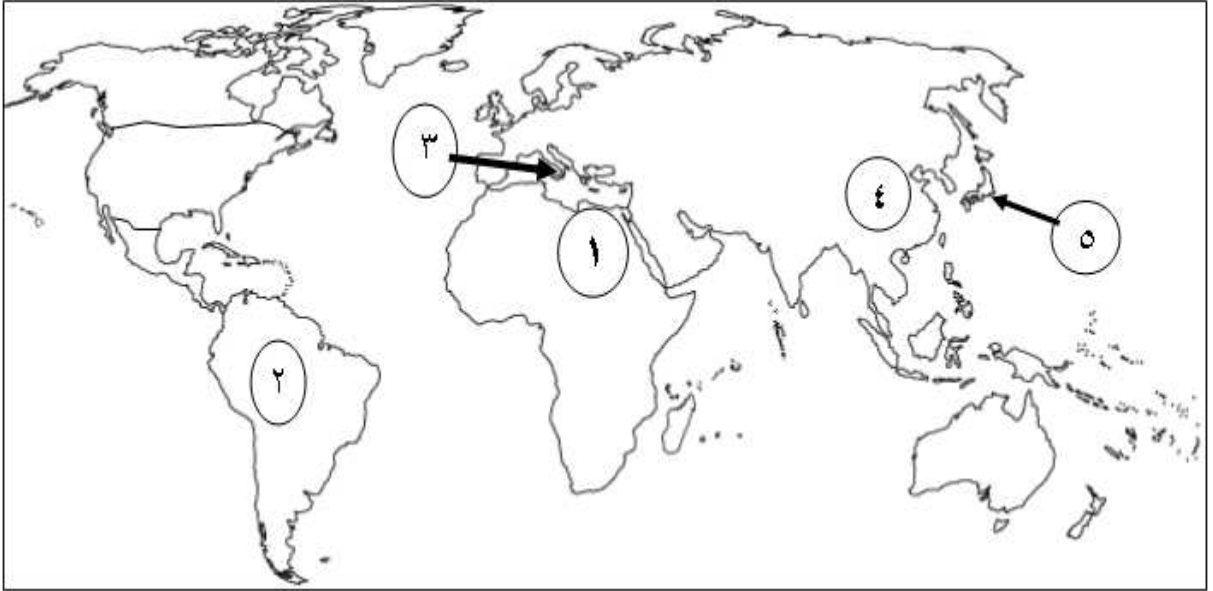
٢- ميز بين كل من: الحركات البانية للقارات والحركات المكونة للجبال .

.....
.....
.....

تابع السؤال الثالث :

(ج) :

١- ادرس خريطة العالم الصماء التالية ، ثم أجب عن الأسئلة التي تليها :



الأسئلة :

أ - ما الظاهرة الناتجة عن ارساب الرياح في الدولة المشار إليها بالرقم (٤) .

ب - ما الرقم الذي يشير إلى الدولة التي يوجد بها منخفض القطارة ؟

ج - ما الرقم الذي يشير إلى الدولة التي يوجد بها بركان أتنا ؟

د - ظل على الخريطة الدولة التي يوجد بها خانق كولورادو .

(٩)

تابع: امتحان الصف العاشر
للعام الدراسي ١٤٣٧/١٤٣٨ هـ - ٢٠١٦/٢٠١٧ م
الدور الأول - الفصل الدراسي الأول
المادة: الدراسات الاجتماعية

تابع السؤال الثالث : أجب عن الأسئلة التالية :

(ج)

٢ - (الاختلاف في الرأي والاجتهاد قائما من عهد الصحابة الكرام ، مما كان له الأثر الأكبر في تطور المدارس الفكرية ..) في ضوء هذه العبارة أجب عن الأسئلة التالية:

أ - من آداب الاختلاف العلمية القدرة على المحاكمة وابداء الرأي. وضح المقصود بذلك.

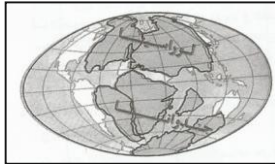
.....
.....
.....

ب - تميز الفكر الإسلامي بالمرونة والتسامح. دلل على صحة ذلك.

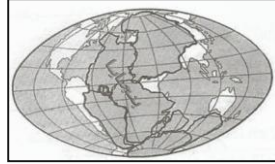
.....
.....
.....

السؤال الرابع : أجب عن الأسئلة التالية :
(أ)

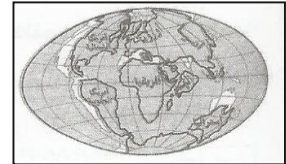
١- رتب مراحل تكون القارات والمحيطات حسب نظرية فجنر بوضع الأرقام (١ ، ٢ ، ٣) أسفل كل مرحلة :



ج -



ب -



أ -

.....

تابع السؤال الرابع :

٢- تصنف الرواسب البحرية حسب الحجم والنوع. (اختر الإجابة) :

نعم لا

- فسر اجابتك.

.....
.....
.....

(ب)
١-وضح أثر كل من:

أ-الكائنات الحية على الصخور.

.....
.....
.....

ب - الانكسارات في تشكيل سطح الأرض.

.....
.....
.....

٢- أكمل بيانات المسطرة الزمنية التالية ، وذلك بكتابة مدة الحكم:

| الخليفة علي بن ابي الطالب | الخليفة عثمان بن عفان | الخليفة عمر بن الخطاب | الخليفة أبو بكر الصديق |
|---------------------------|-----------------------|-----------------------|------------------------|
| ٥ سنوات | | | ٣ سنوات |

تابع السؤال الرابع :

ج) ١- اقرأ الفقرة التالية بتمعن، ثم صنف لأي أنواع التجوية تنتمي :

(تأكل طبقة رقيقة من الصخر الكلسي لا يزيد سمكها عن سنتيمتر واحد يستغرق ٢٠٠ سنة تقريبا ، مع العلم أن الصخور الكلسية أكثر أنواع الصخور الرسوبية تأثرا بعوامل التجوية ..) .

التجوية الميكانيكية - التجوية الكيميائية

فسر اجابتك.

.....
.....
.....

٢- اكتب مقترحاتك لاستغلال الكهوف التي تتميز بها بعض محافظات السلطنة.

.....
.....
.....
.....

انتهت الأسئلة مع الدعاء للجميع بالتوفيق والنجاح..

نموذج إجابة امتحان الصف العاشر
 للعام الدراسي ١٤٣٧/١٤٣٨ هـ - ٢٠١٦/٢٠١٧ م
 الدور الأول- الفصل الدراسي الأول

المادة: دراسات اجتماعية
 تنبيهه: نموذج الإجابة في () صفحات.

أولاً: إجابة السؤال الموضوعي: (٢٤ درجة)

| إجابة السؤال الأول | | | | | | |
|--------------------|--------------------|--------|--------|---|------------------|---------|
| المستوى المعرفي | المخرج التعليمي | الصفحة | الدرجة | الإجابة | البديل الصحيح | المفردة |
| | | ١٥ | ٢ | ٣ | ج | ١ |
| | | ٢١ | ٢ | زلازل قوي | ج | ٢ |
| | | ٣٥ | ٢ |  | ب | ٣ |
| | | ٢٣ | ٢ | البراكين الخامدة | د | ٤ |
| | | ٦٠ | ٢ |  | ب | ٥ |
| | | ٤٨ | ٢ | الإذابة | ب | ٦ |
| | | ٧١ | ٢ | نحت - كهف - قوس - مسلة | ج | ٧ |
| | | ٥٢ | ٢ | ١٢ كم/ساعة | د | ٨ |
| | | ٥٣ | ٢ | صحارى الحمادة | أ | ٩ |
| | | ٩٣ | ٢ | حسن الظن | ب | ١٠ |
| | | ٨٢-٧٩ | ٢ | القضاء على المرتدين - معركة القادسية - بناء اسطول بحري - انتقال الخلافة الى الشام | ج | ١١ |
| | | ٨٨ | ٢ | (الكوفة) ١ | أ | ١٢ |
| | | ٢٤ | | المجموع | | |

(٢)

تابع نموذج إجابة امتحان الصف العاشر
للعام الدراسي ١٤٣٧/١٤٣٨ هـ - ٢٠١٦/٢٠١٧ م
الدور الاول - الفصل الدراسي الاول
المادة : الدراسات الاجتماعية

ثانيا: إجابة الأسئلة المقالية:

| إجابة السؤال الثاني | | الدرجة الكلية: (١٢) درجة | | | | |
|---------------------|---------|---|---------------------|--------|-----------------|-----------------|
| الجزئية | المفردة | الإجابة الصحيحة | الدرجة | الصفحة | المخرج التعليمي | المستوى المعرفي |
| | أ-١ | بسبب الهزات القوية الناتجة عنة والدمار الشامل الذي يخلفه. | ١ | ٢٠ | | |
| | ب-١ | لانها وجهت اتباعها الى التفاعل والافادة من تجارب الامم الاخرى بما يتفق مع مضمونها ودعت معتنقيها الى الالتزام بالتسامح مع غيرهم واوضحت ادب الحوار مع مخالفيهم في ظل حرية شاملة ومساواة تامة فسارعت الشعوب الى اعتناق الدين الجديد. | ١ | ٧٧ | | |
| أ- | ٢ | أوجه الشبه | ٢ لكل مربع نصف درجة | ٦٥-٦٣ | | |
| | | أوجه الاختلاف | | | | |
| | ١-١ | في الشكل ١- صخور رسوبية ٢- بالتبريد والتبلور | ١+١ | ٣٨ | | |
| | | ٣- التعرية والتجوية | ١ | | | |
| | ٢ | وذلك بما يحويه من نظرة حضارية إلى الانسان والكون وطبيعة الحياة فضلا عن التشريعات التي تستهدف الرقي بالإنسان خلقيا وفكريا وروحيا. | ١ | ٨٤ | | |
| ب | ١ | أ-التمدد ب- الانكماش | ١+١ | ٤٥ | | |
| | | ج- تحتسب الإجابة على أي شكل يشير إلى تقشر الصخر (دليل المعلم ص٧٢) | ١ | ٧٢ | | |
| | ٢ | بالتفاوض مع معاوية لحقن الدماء وانتهى الأمر بتنازله عن الخلافة وأصبح معاوية بذلك خليفة الأمة الاوحد | ١ | ٨٢ | | |

تابع ثانيا: إجابة الأسئلة المقالية:

| الدرجة الكلية: (١٢) درجة | | | | إجابة السؤال الثالث | | | | | | | | |
|----------------------------|-----------------|--------|--------|--|--|---------|----------------------------|----------------|------------------------|--------|---|---|
| المستوى المعرفي | المخرج التعليمي | الصفحة | الدرجة | الإجابة الصحيحة | المفردة | الجزئية | | | | | | |
| | | ٢٢ | ١ | ١- جبل بركاني | -١ | أ | | | | | | |
| | | ٤٣ | ١ | ٢- الكوارتز (المكون للرمل) | | | | | | | | |
| | | ٩٧-٩٦ | ١ | <table border="1"> <tr> <td>المؤلف</td> <td>الكتاب</td> </tr> <tr> <td>زيد بن علي زين العابدين</td> <td>المجموع الكبير</td> </tr> <tr> <td>الامام أحمد بن حنبل</td> <td>المسند</td> </tr> </table> | المؤلف | الكتاب | زيد بن علي زين العابدين | المجموع الكبير | الامام أحمد بن حنبل | المسند | ١ | ب |
| المؤلف | الكتاب | | | | | | | | | | | |
| زيد بن علي زين العابدين | المجموع الكبير | | | | | | | | | | | |
| الامام أحمد بن حنبل | المسند | | | | | | | | | | | |
| | | ٢٧ | ١ | الحركات البانية للقارات تحدث من الاسفل الى الاعلى ويكون مصدرها باطن الأرض. حركات المكونة للجبال الحركات التي تحدث في وضع أفقي أي في اتجة مواز لسطح الأرض. | ٢ | | | | | | | |
| | | ٥٦ | ١ | أ- تربة اللوس | ١ | | | | | | | |
| | | ٥٢ | ١ | ب- ١ | | | | | | | | |
| | | ٢٣ | ١ | ج- ٣ | | | | | | | | |
| | | ٦٢ | ١ | د_ الخريطة | | | | | | | | |
| | | ٩٤ | ١ | أ- إن الكثير من الاختلافات يأخذ سبيله السيئ والسلبى من جراء الفهم المنقوص للمسألة التي دار حولها الخلاف لذلك وقبل أن يرتب أحد أطراف الاختلاف أي قناعة أو موقف لابد أن يفهم المسألة بشكل كامل بحيث تتوافر لديه المعرفة التامة حول مسألة معينة | ٢ | ج | | | | | | |
| | | | ٨٦ | ١ | ب-التسامح لم يقتصر على تقبل كل ما ينفع وكل ما لا يتعارض مع أحكام الدين والعقل والاخلاق من عناصر الحضارات الأخرى وإنما اتسعت دائرة أفق ذلك التسامح لتشمل أتباع الديانات الأخرى من غير المسلمين وهو أمر تميزت به المدينة الاسلامية عن غيرها من المدن . | | | | | | | |

تابع ثانيا: إجابة الأسئلة المقالية:

| الدرجة الكلية: (١٢) درجة | | | | إجابة السؤال الرابع | | |
|----------------------------|-----------------|--------|----------------|---|---------|---------|
| المستوى المعرفي | المخرج التعليمي | الصفحة | الدرجة | الإجابة الصحيحة | المفردة | الجزئية |
| | | ١٤ | لكل مفردة درجة | أ- ٣ ب- ١ ج- ٢ | ١ | أ |
| | | ٧٢ | ١ ١ | نعم عندما تتجه إلى البحر تبدأ بترسيب الجلاميد فالحصى ثم الرمال فالطين | ٢ | |
| | | ٣١ | ١ | تساعد جذور النباتات والاحماض التي تفرزها على تفتيت الصخور واستطاعت الحيوانات أن تفعل فعل النباتات من خلال تحلل المواد العضوية الحيوانية وأصبح للإنسان دور بالغ الأهمية في التفتت من خلال أعمال الحفر التي يقون بها أثناء شق الطرق وأعمال البناء. | ١- أ | ب |
| | | ٢٨ | ١ | تكون جبال انكسارية والحافات الصدعية الشاهقة والخوانق الأرضية العميقة | ١- ب | |
| | | ٧٩ | ١ ١ | الخليفة عمر بن الخطاب _ ١٠ سنة الخليفة عثمان بن عفان _ ١٢ سنة | ٢ | |
| | | ٥٢/٤٢ | ١ ١ | التجوية الكيميائية تتأثر بتركيب الصخور والمعادن التي تكونها ومدى احتواء الصخور على الشقوق والفواصل وتتأثر بالمناخ والفترة الزمنية التي تحدث فيها. | ١ | ج |
| | | ٤٩ | ١ | أهمية سياحية واقتصادية كمزارات سياحية وتقام عندها مطاعم واستراحات وحدائق عامة (كل ما يدل على ذلك صحيح) | ٢ | |

نهاية نموذج الإجابة