

شكراً لتحميلك هذا الملف من موقع المناهج العمانية



اختبار قصير أول

[موقع المناهج](#) ← [المناهج العمانية](#) ← [الصف العاشر](#) ← [اجتماعيات](#) ← [الفصل الثاني](#) ← [الملف](#)

التواصل الاجتماعي بحسب الصف العاشر



روابط مواد الصف العاشر على تلغرام

[الرياضيات](#)

[اللغة الانجليزية](#)

[اللغة العربية](#)

[التربية الاسلامية](#)

المزيد من الملفات بحسب الصف العاشر والمادة اجتماعيات في الفصل الثاني

[نموذج إجابة الامتحان النهائي الرسمي لجميع المحافظات](#)

1

[الامتحان الرسمي النهائي لجميع المحافظات](#)

2

[مذكرة دفترى سر تميزي مع أسئلة اختبارية بدون الدروس المحذوفة](#)

3

[امتحان تجريبي نهائي مع نموذج الإجابة](#)

4

[أسئلة اختبارات قصيرة ونهائية للوحدة السادسة مع الإجابة](#)

5



المديرية العامة للتربية والتعليم لمحافظة جنوب الباطنة
الاختبار القصير الاول للفصل الدراسي الثاني للصف العاشر الاساسي
للعام الدراسي ١٤٤٢/١٤٤٣ هـ - ٢٠٢١/٢٠٢٢ م

المادة : الدراسات الاجتماعية

الاسم :

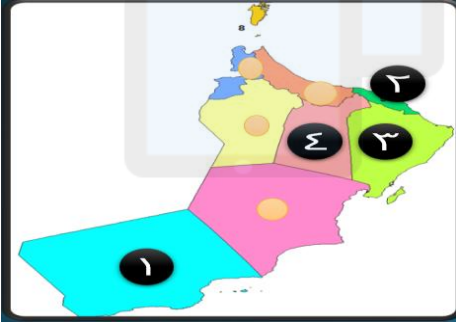
الصف : ١٠ ()

السؤال الأول: (٣ درجات) ضعي دائرة حول الحرف الدال على الإجابة الصحيحة من بين البدائل المعطاة :

١) تغطي المناطق الجافة وشبه الجافة مساحة من اليابسة تقدر بـ :
(أ) النصف (ب) الثلث (ج) الربع (د) الثمن

٢) الرقم الذي يشير في الخريطة إلى المحافظة العمانية التي عقد فيها المؤتمر الدولي للتصحر:

(أ) ١ (ب) ٢ (ج) ٣ (د) ٤




٣) الغاز الذي يسهم بدرجة كبيرة في زيادة ظاهرة الاحتباس الحراري :

(أ) الميثان (ب) أكسيد النيتروجين
(ج) ثاني أكسيد الكربون (د) كلورفلوركربون

السؤال الثاني: (٤ درجات) : أجبيني عما يلي من اسئلة يمثل الشكل المقابل محاكاة لظاهرة طبيعية أدرسه ثم أجب عن الأسئلة الآتية:

١) استنتج كيفية حدوث هذه الظاهرة.

.....
.....
.....



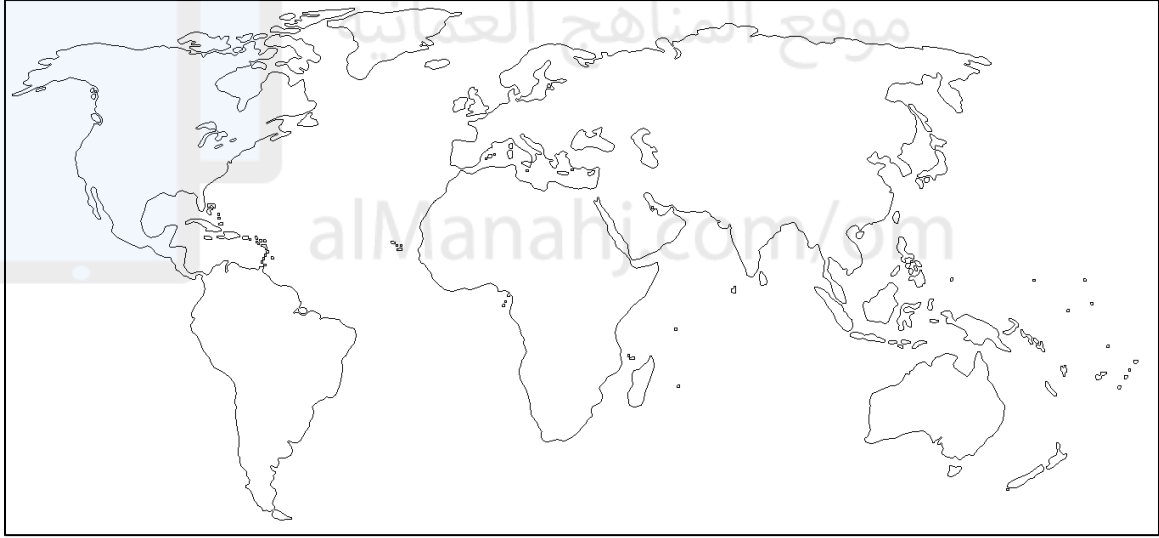
٢) صنف العوامل التالية والتي تؤدي إلى ظاهرة التصحر إلى عوامل طبيعية
وبشرية

(انجراف التربة – زراعة الاراضي الهامشية – الحراثة العميقة – قلة الغطاء النباتي)

العوامل الطبيعية	العوامل البشرية
.....
.....

السؤال الثالث : (٣ درجات)

- امامك خريطة ادريسيها ثم اجيبي عما يلي من اسئلة:



١- استخرجي رقم الدولة التي استخدمت نظام الفوجارات

٢- استنتجي العوامل الطبيعية للتصحر في الدولة المشار إليها بالرقم (٢)؟

.....

.....

٣- وقعي بالرمز ▲ على الدولة التي ظهرت فيها ظاهرة التصحر بسبب
زراعة الارز والقطن .