

تم تحميل هذا الملف من موقع المناهج العُمانية



\*للحصول على أوراق عمل لجميع الصفوف وجميع المواد اضغط هنا

<https://almanahj.com/om>

\* للحصول على أوراق عمل لجميع مواد الصف العاشر اضغط هنا

<https://almanahj.com/om/10>

\* للحصول على جميع أوراق الصف العاشر في مادة اجتماعيات ولجميع الفصول, اضغط هنا

<https://almanahj.com/om/10social>

\* للحصول على أوراق عمل لجميع مواد الصف العاشر في مادة اجتماعيات الخاصة بـ الفصل الأول اضغط هنا

<https://almanahj.com/om/10social1>

\* لتحميل كتب جميع المواد في جميع الفصول للـ الصف العاشر اضغط هنا

<https://almanahj.com/om/grade10>

\* لتحميل جميع ملفات المدرس علي بن محمد الحسان اضغط هنا

للتحدث إلى بوت على تلغرام: اضغط هنا

[https://t.me/omcourse\\_bot](https://t.me/omcourse_bot)



## مذكرة إثرائية لمادة الدراسات الاجتماعية

2020-2021

الصف العاشر

الفصل الدراسي الأول

الوحدة الأولى

( درس : نشأة الأرض وتكوينها )

أسئلة

إعداد :

علي بن محمد الحسان

للتواصل :

99493923

Ali 47536@moe.om

**درس : نشأة الأرض****السؤال الأول : ضع علامة (✓) أو (X) أمام العبارة المناسبة مع تصحيح ما تحته خط إذا كانت العبارة خطأ .**

- ١- ( ) الأرض تدور حول الشمس مع بقية كواكب المجموعة الشمسية .
- ٢- ( ) أثبت العلماء بأن صدئ الانفجار في نظرية الانفجار العظيم مازال واقعا ويمكن سماعه .
- ٣- ( ) أعتقد علماء الحضارة الهندية بأن الأرض محمولة فوق أربعة فيلة واقفة على ظهر حصان .
- ٤- ( ) تتحرك الصفائح الأرضية ببطء على طبقة من الليثوسفير في الوشاح .
- ٥- ( ) كلما ارتفعنا عن سطح البحر زادت درجة الحرارة في طبقة التروبوسفير .
- ٦- ( ) نظرية زحزحة القارات تقسم مراحل تكون القارات والمحيطات إلى أربع مراحل .

**السؤال الثاني : ضع دائرة حول الإجابة الصحيحة من بين البدائل المعطاه .**

- ١- عدد الكواكب السيارة التي تدور حول الشمس .... كوكب  
( ٧ - ٨ - ٩ )
- ٢- أعتقد علماء الحضارة .... أن الأرض محمولة على قرن ثور .  
( الهندية - الإغريقية - الصينية )
- ٣- أكثر النظريات التي لاقت قبولا لتفسير نشأة الأرض كانت نظرية  
( الانفجار العظيم - النيازك - السديمية )
- ٤- صاحب نظرية زحزحة القارات هو العالم الألماني  
( الفرد نوبل - الفرد كونل - الفرد فيجنر )
- ٥- قسمت نظرية حركة الصفائح الأرضية القشرة الأرضية إلى .... صفيحة  
( ١٥ - ١٦ - ١٧ )
- ٦- تتحرك الصفائح الأرضية بـ .... حركات  
( ٣ - ٤ - ٥ )

**السؤال الثالث : أكمل العبارات التالية بكلمات مناسبة من عندك .**

- ١- الأرض ..... الشكل مفلطحة عند القطبين .
- ٢- كلما تعمقنا في باطن الأرض كلما ..... درجة الحرارة .
- ٣- لم يتمكن العلماء من الوقوف على مصدر الطاقة المحركة في نظرية زحزحة القارات الا في ..... من القرن العشرين
- ٤- تتكون كل صفيحة من الصفائح الأرضية من ..... الأرض والجزء العلوي من .....
- ٥- يمكن تقسيم جسم الأرض من السطح إلى المركز إلى ..... طبقات .
- ٦- معظم معلوماتنا عن باطن الأرض مستمدة من دراسة حركات موجات ..... ومرورها عبر طبقات الأرض .

**السؤال الرابع : " من خلال تعرفك لنظرية الانفجار العظيم " أكمل مايلي :**



تنص نظرية الانفجار العظيم على أن كلا من المادة و..... كانت مضغوطة على شكل ..... ( نيوترونات وبروتونات والكترونات ) ثم انفجرت نتيجة شدة ..... واندفعت في الفضاء الخارجي فبردت و..... فكونت ..... وأن النجوم تكونت عندما تكاثفت هذه المواد في ..... وشكلت سحباً من الغبار ..... التي تجمعت بفعل شدة الجاذبية مما أدى إلى تحول هذه المكونات إلى مواد ..... ارتفعت حرارتها عن طريق ..... وأصبحت متوهجة وتقدف ..... وبهذه الطريقة تحولت إلى ..... مثل الشمس .

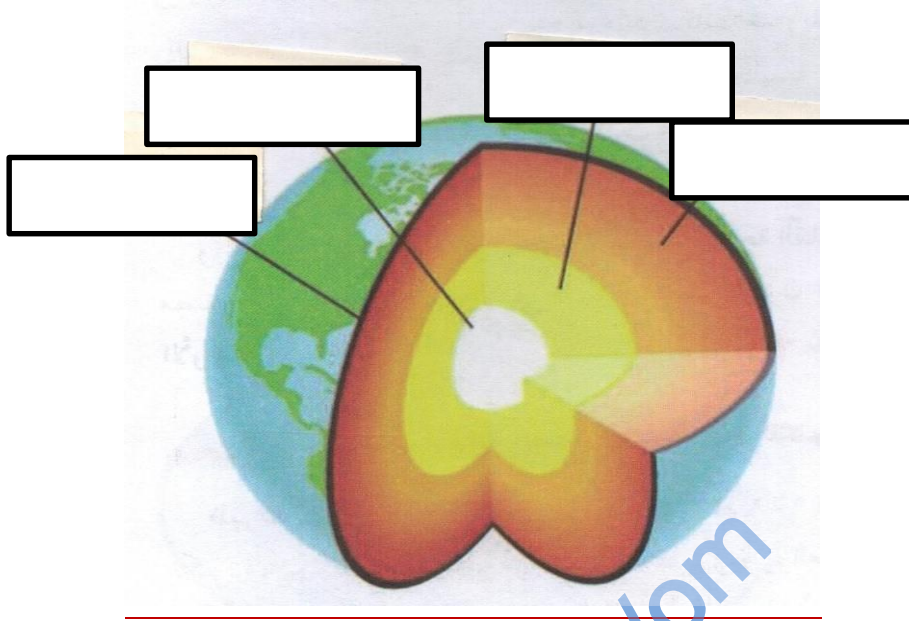
**السؤال الخامس : " تتحرك الصفائح الأرضية بثلاث حركات " أكمل مايلي :**

- ١- تتحرك كل صفيحة بالاتجاه ..... للصفحة الأخرى ويطلق عليها (.....) فنتج الزلازل و.....
- ٢- تتحرك كل صفيحة باتجاه ..... ويطلق عليها (.....) مثال تكونت جبال الهماليا نتيجة اصطدام الصفيحة الهندية بصفيحة .....
- ٣- تتحرك كل صفيحة ..... الأخرى ويطلق عليه (.....) مثال تحرك صفيحة اوراسيا بجانب صفيحة افريقيا فتصدعت ..... وانفصلت عن افريقيا مكونة ..... العظيم .

**السؤال السادس : من خلال معرفتك لنظرية زحزحة القارات أكمل الجدول التالي :**

المرحلة الأولى	المرحلة الثانية	المرحلة الثالثة
- كانت قبل ..... مليون سنة . - كانت القارات كتلة أرضية ..... - سميت هذه الكتلة باسم ..... - كانت هذه الكتلة تحاط بمحيط يسمى .....	- كانت قبل ..... مليون سنة - انقسمت بنجاليا إلى ..... قاريتين - كانت قارة لوراسيا في ..... - وقارة ..... في الجنوب - كان بحر ..... يفصل بين القارتين - كان يحيط بالقارتين محيط يسمى محيط .....	- كانت قبل ..... مليون سنة - تكسرت جندوانا لتظهر قارات أفريقيا وأمريكا ..... وشبه القاره ..... - تكسرت لوراسيا لتظهر كتلة أوروبا و..... وقارة أمريكا .....

**السؤال السابع : ماذا تمثل لك الصور التالية :**

**السؤال الثامن : أكتب في الشكل التالي مكونات طبقات الأرض :****السؤال التاسع : أجب عن الأسئلة التالية .**

س ١ : " تعرفت على اربع نظريات لتفسير نشأة الأرض " أذكرها ؟

ج ١ : .....

.....

س ٢ : " تعرفت على نظريتين لتفسير توزيع القارات والمحيطات " أذكرها ؟

ج ٢ : .....

.....

س ٣ : أذكر دليلين على صحة نظرية زحزحة القارات ؟

ج ٣ : - .....

- .....