

## شكراً لتحميلك هذا الملف من موقع المناهج العمانية



## الامتحان النهائي الموحد الدور الأول الفترة الصباحية

[موقع المناهج](#) ← [المناهج العمانية](#) ← [الصف العاشر](#) ← [اجتماعيات](#) ← [الفصل الأول](#) ← [الملف](#)

تاريخ نشر الملف على موقع المناهج: 05:46:20 2024-01-04

## التواصل الاجتماعي بحسب الصف العاشر



## روابط مواد الصف العاشر على تلغرام

[الرياضيات](#)

[اللغة الانجليزية](#)

[اللغة العربية](#)

[التربية الاسلامية](#)

## المزيد من الملفات بحسب الصف العاشر والمادة اجتماعيات في الفصل الأول

[ملخص شرح درس المدارس الفكرية في الإسلام في الوحدة الثالثة](#)

1

[مواصفات الورقة الامتحانية](#)

2

[اختبار قصير ثاني مع نموذج الإجابة](#)

3

[اختبار قصير أول نموذج حديث](#)

4

[اختبار قصير مع سؤال قصير أول](#)

5

أجب عن جميع الأسئلة الآتية

السؤال الأول: (١٢ درجة)

- ضع دائرة حول رمز الإجابة الصحيحة من بين البدائل المعطاة:  
١- الحضارة التي ساد فيها اعتقاد العلماء أن الأرض محمولة فوق أربعة فيلة واقفة على ظهر سلحفاة:

- (أ) الفرعونية (ب) اليونانية (ج) الهندية (د) الفارسية

٢- الجدول الصحيح الذي يوضح تصنيف البراكين حسب نشاطها:

اسم البركان	نوع البركان
كلمنجارو	نشط
إتانا	ساكن
لاسن	خامد

(ب)

اسم البركان	نوع البركان
إتانا	نشط
لاسن	ساكن
كلمنجارو	خامد

(أ)

اسم البركان	نوع البركان
لاسن	نشط
كلمنجارو	ساكن
إتانا	خامد

(د)

اسم البركان	نوع البركان
لاسن	نشط
إتانا	ساكن
كلمنجارو	خامد

(ج)

٣- يصنف الزلزال الذي ضرب ولاية شناس عام ٢٠١١م والذي بلغت قوته (٣,٤) حسب مقياس ريختر:

- (أ) زلزال خفيف (ب) زلزال قوي  
(ج) زلزال قوي جداً (د) زلزال دمار شامل

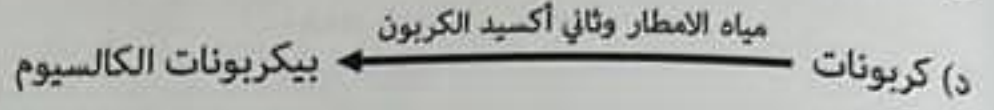
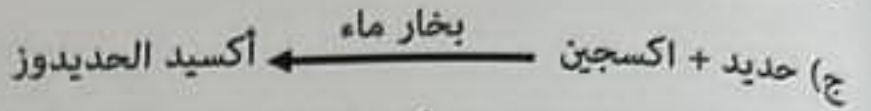


٤- إذا كانت سرعة الرياح أكثر من ١٢ كم/ساعة فالمنطقة الأكثر تأثراً بعملية التذرية:

- (أ) منطقة بها تربة متماسكة وغطاء نباتي كثيف.  
(ب) منطقة بها تربة مفككة وغطاء نباتي كثيف.  
(ج) منطقة بها تربة مفككة وغطاء نباتي قليل.  
(د) منطقة بها تربة متماسكة وغطاء نباتي قليل.



تابع السؤال الأول:

٥- تتم عملية الكربنة في التجوية الكيميائية وفق المعادلة الآتية:



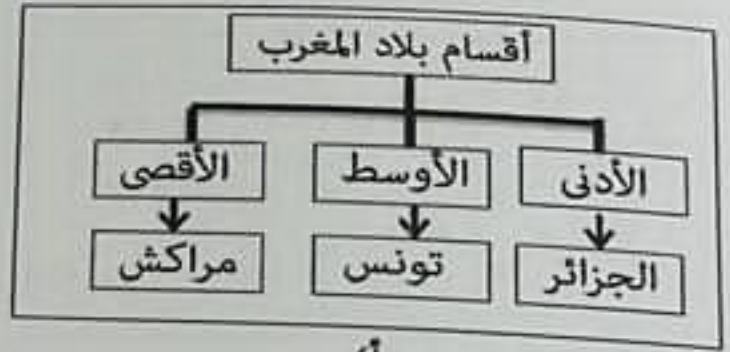
٦- حافة رملية أو حصوية منخفضة السطح تمتد امتداداً طويلاً باتجاه البحار المفتوحة نتيجة تزايد الرواسب:

(أ) البلاج (ب) اللسان البحري (ج) الحواجز الرملية (د) الجروف البحرية

٧- المخطط الذي يوضح التقسيم الصحيح لبلاد المغرب:



(ب)



(أ)



(د)



(ج)

٨- تلتحم مفتتات الحطام الصخري الذي يتراكم أسفل المنحدرات الجبلية مكوناً صخوراً صلبة تعرف باسم:

(أ) القوس

(ب) البريشيا

(ج) الكهوف

(د) الخطاف

(٩)

المادة: الدراسات الاجتماعية الصف: العاشر - الفصل الدراسي الأول - الدور الأول - العام الدراسي ٢٠٢٣/٢٠٢٤ م

تابع / السؤال الرابع:

ثالثًا: ادرس الأشكال الآتية، ثم أجب عن الأسئلة التي تليها:



(ب)



(أ)

١- ما اسم الكتلة التي يوضحها الشكل (أ)؟

\_\_\_\_\_

٢- المحيط المائي الذي يحيط بالكتلة القارية في الشكل (أ).


\_\_\_\_\_

٣- اسم الكتلة في الشكل (ب) المشار إليها بالرقم (١).

\_\_\_\_\_

٤- رقم المرحلة التي يمثلها الشكل (ب).

\_\_\_\_\_



يتبع/١٠

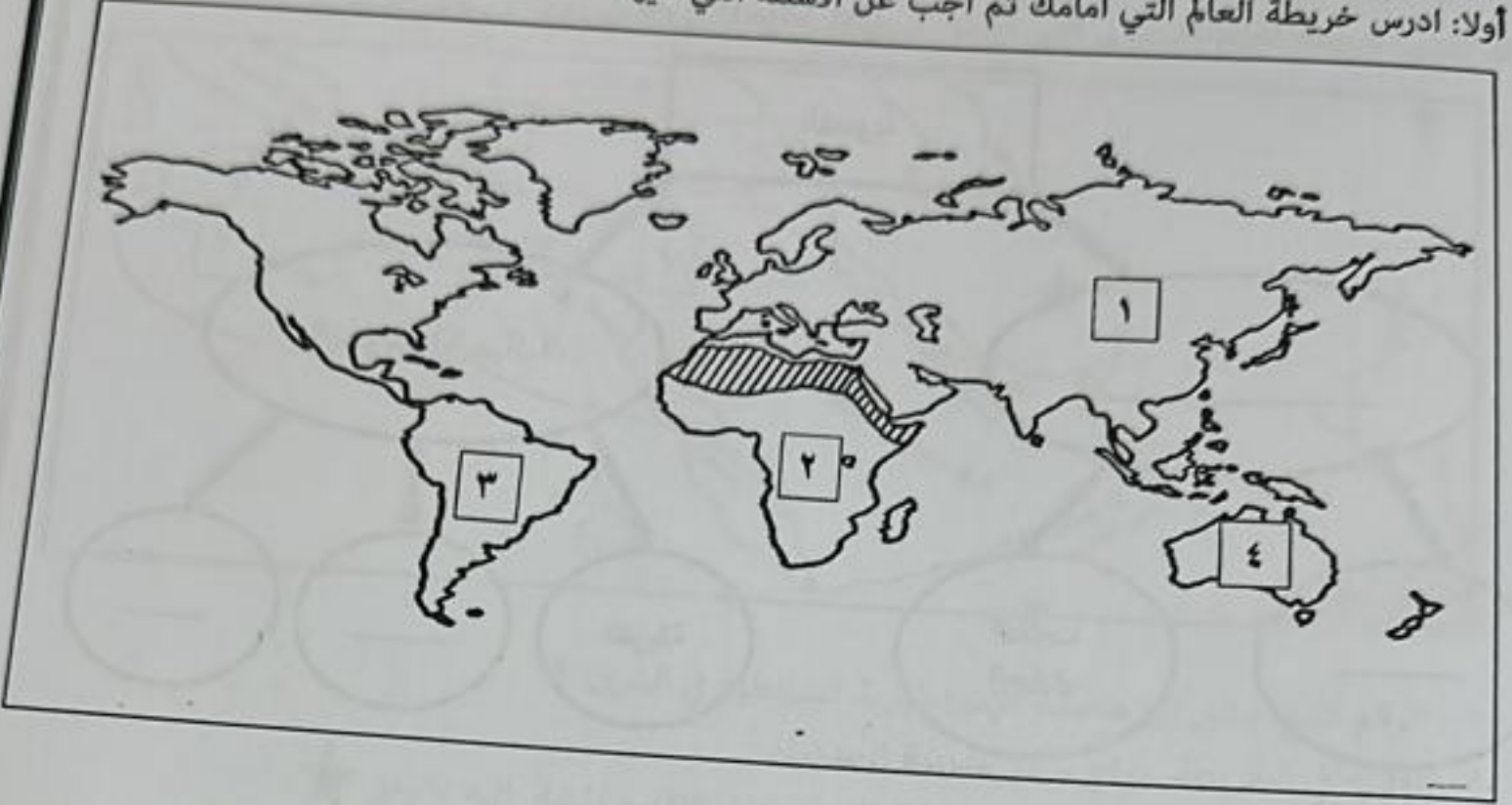




(٤)

المادة: الدراسات الاجتماعية الصف: العاشر - الفصل الدراسي الأول - الدور الأول - العام الدراسي ٢٠٢٣/٢٠٢٤م

السؤال الثاني: (١٢ درجة)

أولاً: ادرس خريطة العالم التي أمامك ثم أجب عن الأسئلة التي تليها:



- ١- الرقم الذي يشير إلى منخفض صحراء منغوليا والبالغ عمقه ١٤٠ متر. \_\_\_\_\_
- ٢- ما اسم الصحراء المظللة بالرمز  في الخريطة؟ \_\_\_\_\_
- ٣- وقع الرمز  في الخريطة على الدولة التي توجد بها شلالات نياجرا. \_\_\_\_\_
- ٤- استنتج من الخريطة دليلاً واحداً على صحة نظرية فيجنر في المنطقة المشار إليها بالرقم (٣-٢). \_\_\_\_\_

ثانياً: ١- اكتب مقابل كل عبارة في الجدول الآتي (المفهوم / المصطلح) الدال عليها:

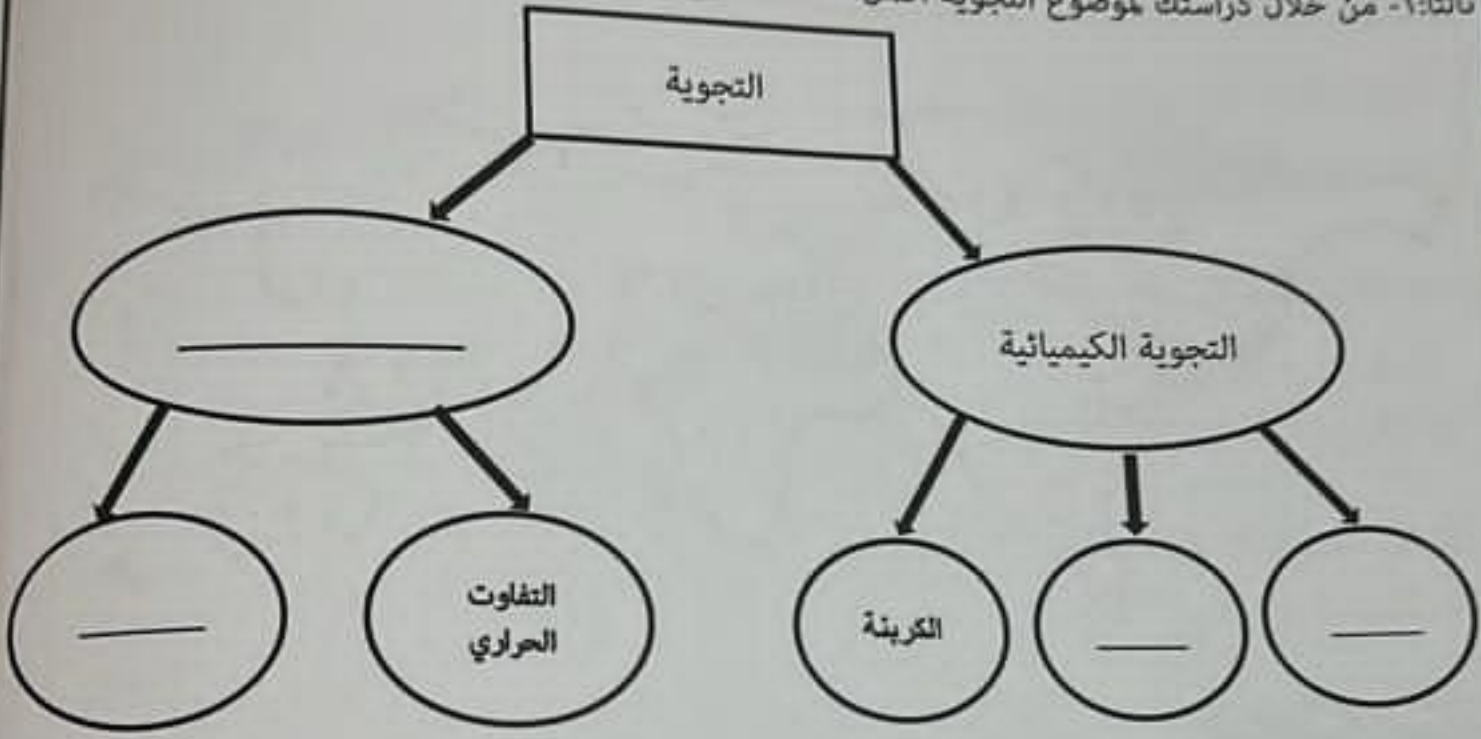
م	المفهوم/المصطلح	العبارة
١		تلال قبابية مدببة الذرى وذات سفوح شديدة الانحدار.
٢		ينص على أن الأجسام تتحرك باتجاه اليمين في نصف الكرة الشمالي وإلى اليسار في نصف الكرة الجنوبي.
٣		الظروف الصعبة التي تعرضت لها الدولة في نهاية خلافة عثمان بن عفان رضي الله عنه حول سياسته وبداية خلافة علي بن أبي طالب كرم الله وجهه.

(5)

المادة: الدراسات الاجتماعية الصف: العاشر - الفصل الدراسي الأول - الدور الأول - العام الدراسي ٢٠٢٣/٢٠٢٤ م

تابع السؤال الثاني:

ثالثاً: ١- من خلال دراستك لموضوع التجوية أكمل المخطط الآتي:



٢- علل تعدد الزلازل البلوتونية من أخطر أنواع الزلازل.

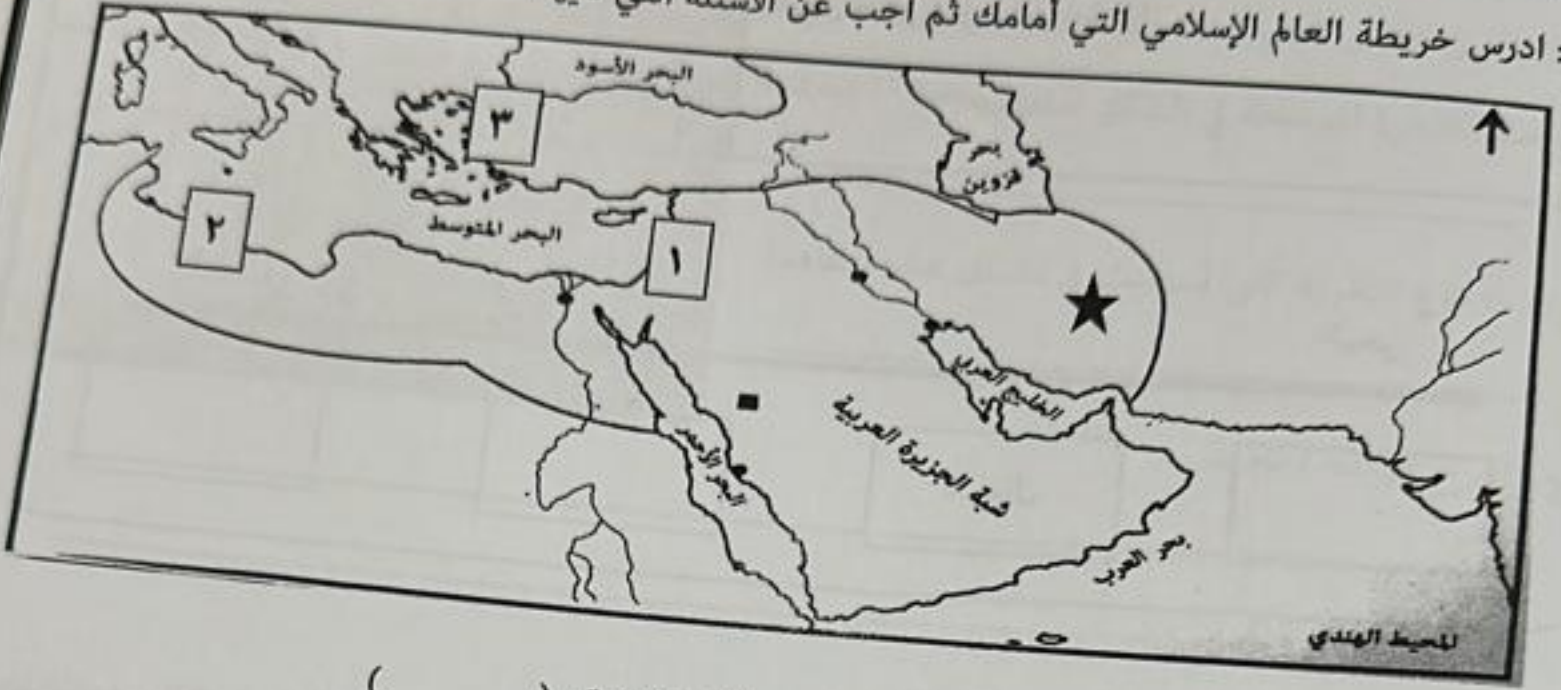
---

---

١٢



أولاً: ادرس خريطة العالم الإسلامي التي أمامك ثم أجب عن الأسئلة التي تليها:



- ١- الرقم الذي يشير إلى عاصمة الإمبراطورية البيزنطية في الشرق. ( )
- ٢- اكتب في الخريطة موقع مركز مدرسة الحديث.
- ٣- اسم الخليفة الذي استكمل الفتوحات الإسلامية في الإقليم المشار إليه بالرمز ★.

ثانياً: ١- من خلال الجدول الذي أمامك أجب عن الأسئلة التي تليه:

أشهر السنة	يناير	فبراير	مارس	أبريل	مايو	يونيو	يوليو	أغسطس	سبتمبر	أكتوبر	نوفمبر	ديسمبر
درجات الحرارة	١٥	١٧	٢٠	٢٥	٣٠	٣٦	٤٣	٤٠	٣٨	٣٤	٢٨	٢٣

أ- ما المقصود بالمدى الحراري؟

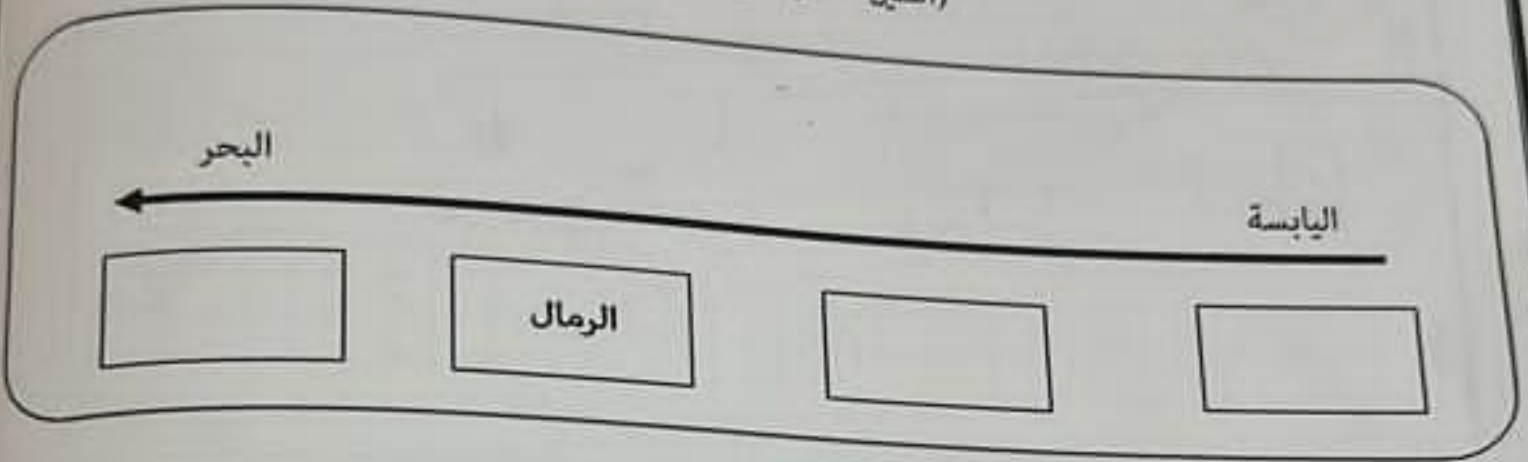
ب- أوجد المدى الحراري السنوي من الجدول السابق.

ج- اكتب نتيجة واحدة للتفاوت الحراري في المناطق الحارة.

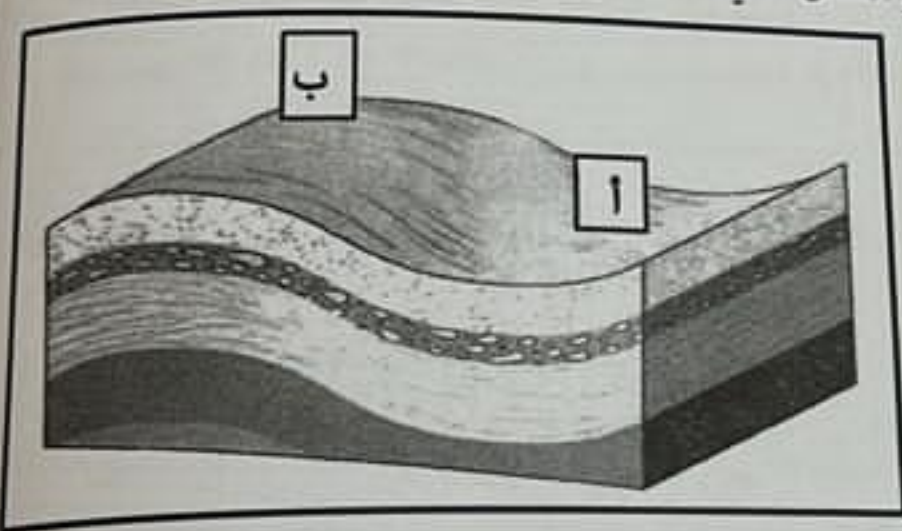
٢- دلل صحة نظرية الانفجار العظيم عام ١٩٦٥ م.

تابع السؤال الثالث:

ثالثاً: ١- رتب الرواسب التالية للمناطق الساحلية بشكل صحيح في المخطط الآتي:  
(الطين - الجلاميد - الحصى)



٢- حدد نوعي الالتواء في المنطقتين (أ) و (ب) في الشكل الذي أمامك:



(أ) \_\_\_\_\_  
(ب) \_\_\_\_\_

١٢

يتبع



(٨)

المادة: الدراسات الاجتماعية الصف: العاشر - الفصل الدراسي الأول - الدور الأول - العام الدراسي ٢٠٢٣/٢٠٢٤ م

السؤال الرابع (١٢ درجة).



أولاً: ادرس الشكل الذي أمامك ثم أجب عن الأسئلة الآتية:  
أ- إسم الظاهرة الموضحة في الشكل أمامك.

ب - ما نوع التعرية التي أسهمت في تشكل هذه الظاهرة.

ج - اشرح طريقة تكونها.

د- برأيك ما الأهمية الاقتصادية لهذه الظاهرة.

ثانياً:

١- "يا أيها الناس عليكم بالطاعة والجماعة فإنها جبل الله الذي أمر به، وإن ما تكرهون في الجماعة خير مما تحبون في الفرقة" من قائل هذه العبارة؟

٢- أثبت صحة العبارة الآتية (الإسلام دين الوسطية).

٣- فسر كلاً مما يأتي:

أ- صعوبة التنبؤ بحدوث الزلازل.

ب- احتواء تربة اللوس على مواد غريبة لا تنتمي إلى المنطقة التي توجد بها.

(٩)

المادة: الدراسات الاجتماعية الصف: العاشر - الفصل الدراسي الأول - الدور الأول - العام الدراسي ٢٠٢٣/٢٠٢٤ م

تابع / السؤال الرابع:

ثالثاً: ادرس الأشكال الآتية، ثم أجب عن الأسئلة التي تليها:



(ب)



(أ)

١- ما اسم الكتلة التي يوضحها الشكل (أ)؟

\_\_\_\_\_

٢- المحيط المائي الذي يحيط بالكتلة القارية في الشكل (أ).

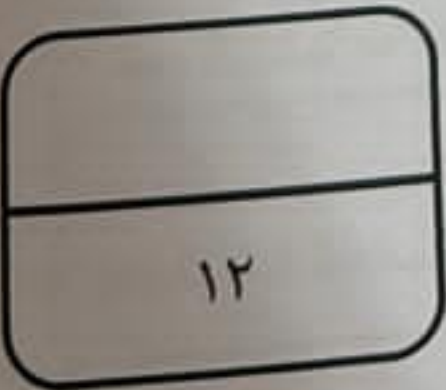
\_\_\_\_\_

٣- اسم الكتلة في الشكل (ب) المشار إليها بالرقم (١).

\_\_\_\_\_

٤- رقم المرحلة التي يمثلها الشكل (ب).

\_\_\_\_\_



يتبع / ١٠

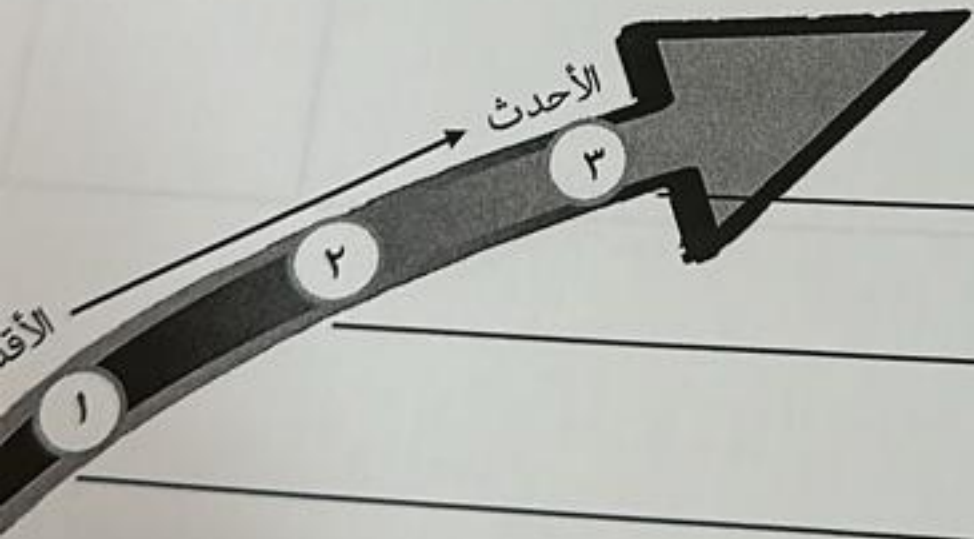


أولاً: ١- اكتب أسفل كل صورة اسم الشكل التضاريسي الذي تمثله:



٢- رتب الأحداث التاريخية الآتية من الأقدم إلى الأحدث:

(نقل عاصمة الدولة الإسلامية من المدينة إلى الكوفة / تخلف والي الشام عن مبايعة الامام علي بن أبي طالب بالخلافة / انتصار المسلمين على الفرس في معركة القادسية).



(١١)

المادة: الدراسات الاجتماعية الصف: العاشر - الفصل الدراسي الأول - الدور الأول - العام الدراسي ٢٠٢٣/٢٠٢٤م

تابع السؤال الخامس:

ثانياً: ١- اذكر اثنين لكلا من:

أ- أبرز علماء مدرسة المدينة.

---

---

ب- فوائد الانكسارات الأرضية للإنسان.

---

---

٢- قارن بين الكواكب والنجوم من حيث تكونها حسب نظرية الانفجار العظيم في الجدول الآتي:

وجه المقارنة	الكواكب	النجوم
طريقة تكونها		

١٢

انتهت الأسئلة مع الدعاء للجميع بالتوفيق والنجاح