

شكراً لتحميلك هذا الملف من موقع المناهج العمانية



اختبار قصير ثاني

[موقع المناهج](#) ← [المناهج العمانية](#) ← [الصف العاشر](#) ← [رياضيات](#) ← [الفصل الثاني](#) ← [الملف](#)

تاريخ نشر الملف على موقع المناهج: 2023-04-04 16:40:39

التواصل الاجتماعي بحسب الصف العاشر



روابط مواد الصف العاشر على تلغرام

[الرياضيات](#)

[اللغة الانجليزية](#)

[اللغة العربية](#)

[التربية الاسلامية](#)

المزيد من الملفات بحسب الصف العاشر والمادة رياضيات في الفصل الثاني

[الاختبار النهائي الرسمي لجميع المحافظات](#)

1

[نموذج إجابة الامتحان النهائي الدور الأول لمحافظة مسقط](#)

2

[امتحان نهائي الدور الأول لمحافظة مسقط](#)

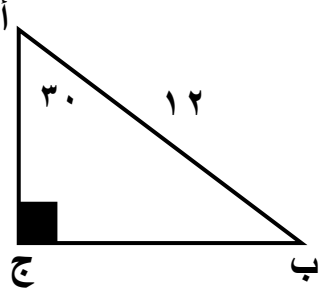
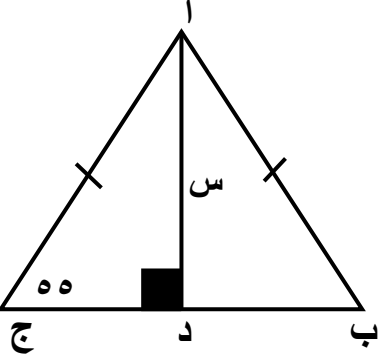
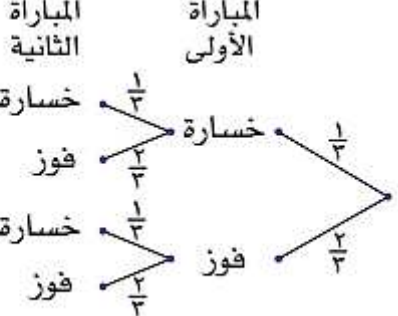
3

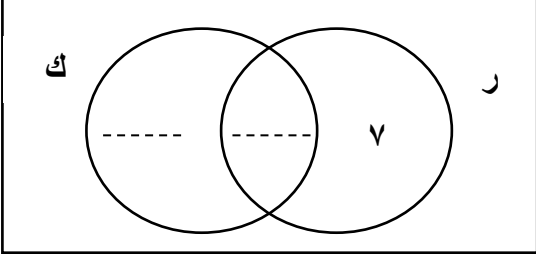

[امتحان تحريبي نهائي جديد لمحافظة شمال الباطنة](#)

4

[امتحان تحريبي نهائي جديد مع نموذج الإجابة لمحافظة الداخلية](#)

5

الدرجة	السؤال	رقم المفردة
[١]	<p>ضعي دائرة حول الإجابة الصحيحة :</p> <p>قيمة س إذا كانت جتا س = $\frac{1}{3}$</p> <p>٦٠ ٣٠ ,٩٩ ,٨٦٦</p>	١
[١]	 <p>ضعي دائرة حول الإجابة الصحيحة :</p> <p>في الشكل المجاور طول ب ج =</p> <p>١٢ ٢٤</p> <p>٤ ٦</p>	٢
[١]	 <p>في الشكل المقابل: ب ج = ١٢ سم</p> <p>أ) طول ج د = _____ سم</p> <p>ب) أوجدي ارتفاع المثلث (س)</p>	٣
[١]	<p>يعرض مخطط الشجرة ما يمكن أن يحدث لفريق ما خلال مباراتين :</p>  <p>ما احتمال أن يفوز الفريق بالمباراتين ؟</p>	٤

الدرجة	السؤال	رقم المفردة
[١]	عدد النواتج الممكنة عند رمي حجر نرد وقطعتي نقد	٥
[١]	٢٤ ١٢ ١٠ ٤	
[١] [١]	<p>يتكون الصف العاشر من ٤٠ طالبا يفضل ٢٠ منهم مادة الرياضيات ويفضل ٢٥ منهم مادة الكيمياء في حين ٨ منهم لا يفضلون أي من المادتين</p> <p>(١) أكمل مخطط فن</p>  <p>(٢) ما احتمال اختيار طالب عشوائي يفضل مادة الرياضيات بشرط أن يفضل مادة الكيمياء</p>	٦
[٢]	<p>تقول منيرة : أقف عند زاوية بصفي الذي أبعاده ٣م ، ٤م فإذا مشيت بخط مستقيم للزاوية المقابلة سوف أمشي ٧ م هل ماتقوله منيرة صحيح؟؟ صواب <input type="checkbox"/> خطأ <input type="checkbox"/> فسري اجابتك؟</p> 	٧