

تم تحميل هذا الملف من موقع المناهج العُمانية



*للحصول على أوراق عمل لجميع الصفوف وجميع المواد اضغط هنا

<https://almanahj.com/om>

* للحصول على أوراق عمل لجميع مواد الصف العاشر اضغط هنا

<https://almanahj.com/om/10>

* للحصول على جميع أوراق الصف العاشر في مادة اجتماعيات ولجميع الفصول, اضغط هنا

<https://almanahj.com/om/10social>

* للحصول على أوراق عمل لجميع مواد الصف العاشر في مادة اجتماعيات الخاصة بـ الفصل الثاني اضغط هنا

<https://almanahj.com/om/10social2>

* لتحميل كتب جميع المواد في جميع الفصول للـ الصف العاشر اضغط هنا

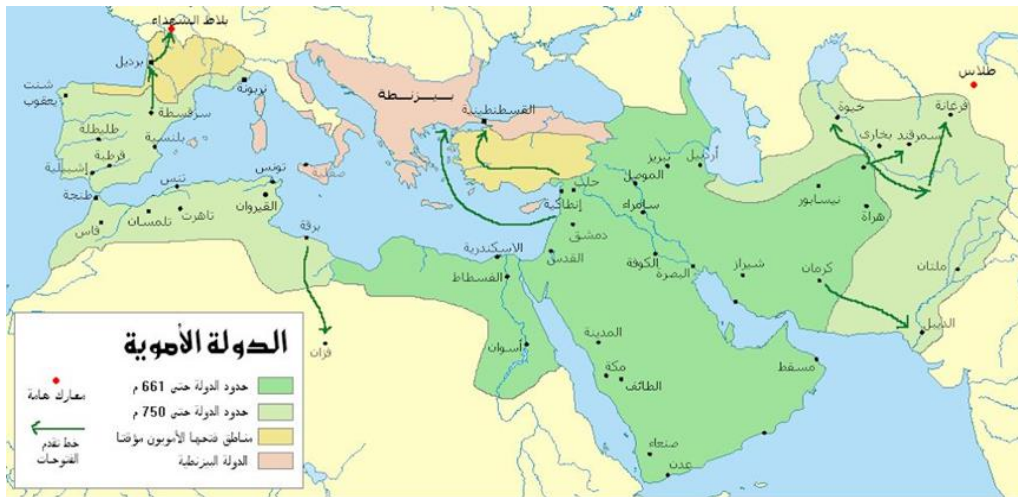
<https://almanahj.com/om/grade10>

* لتحميل جميع ملفات المدرس مريم القائدي اضغط هنا

للتحدث إلى بوت على تلغرام: اضغط هنا

https://t.me/omcourse_bot

ملخص في مادة الدراسات الاجتماعية للصف العاشر الوحدة الرابعة



مدرسة أم كلثوم بنت عقبة للتعليم الاساسي
إعداد الاستاذة : مريم القائدي

• **اختار الاجابة الصحيحة :-** الناطق العلني للمذهب الاباضي مع الخليفة عبد الملك بن مروان :-

(أ) جابر بن زيد (ب) ابو عبيدة مسلم (ج) عبدالله بن أباض (د) عبيد الله بن زياد

(1) **فسر :** لم يكن ابو بلال بن مرداس مرتاحا لما حدث بين المسلمين من خلاف وفتنة .

(2) ما النتيجة المترتبة على عدم تقبل أبو بلال مرداس لما حدث بين المسلمين من خلاف وفتنة ..

(3) **دلل :** - يمثل عام 64 هـ نقطة تحول بالنسبة لتاريخ الدعوة الاباضية .

(4) **تتبع دور كلا من الشخصيات الآتية ، في نشأة المذهب الأباضي وتطوره ؟**

الشخصية	الدور الذي قام به
أبو بلال مرداس	
جابر بن زيد	
أبو عبيدة	

(5) **رتب الاحداث التاريخية المرتبطة بنشأة المذهب الاباضي من الأقدم الى الأحدث :-**

() انشأ بيت مال خاص بأتباع المذهب الاباضي في البصرة

() تولى الامام ابو بلال مرداس قيادة المحكمة

() ظهور جماعة القعدة

() نشر آرائه و مبادئه التي تدعو الى التسامح وحقن الدماء

() تولى الامام جابر بن زيد رئاسة الاباضية

() قتل عبيد الله بن زياد بالاهواز أبو بلال مرداس

الإمام جابر و انتشار المذهب الأباضي

الدرس
الثاني
(2)

(1) فسر :

- أصبحت البصرة من أهم الحواضر و الأمصار في الدولة الجديدة منذ تمصيرها 14 هـ .

- ظهور عدد من العلماء في حصرموت و اليمن مثل عبدالله بن يحيى .

- ارتباط أهل عمان بفكر الامام جابر بن زيد .

(2) برأيك ما النتائج المترتبة على كلام :-

- أصبحت البصرة من أهم الحواضر و الأمصار في الدولة الجديدة في 14 هـ .

- زيادة عدد السكان و تنوع الثقافات و تعدد منارات العلم في البصرة .

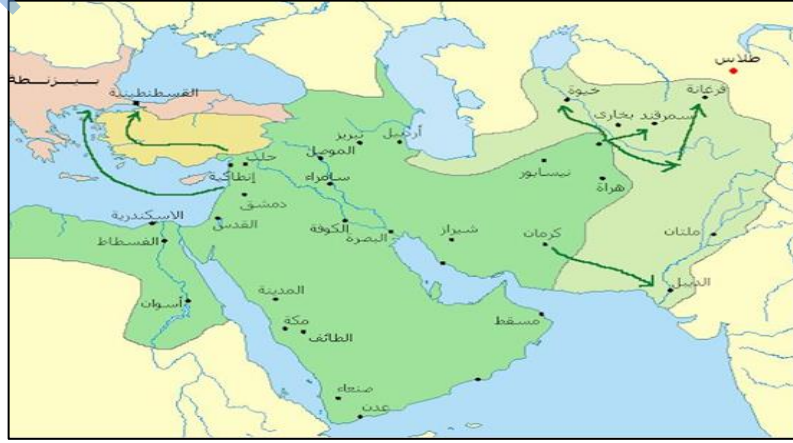
- السلوكيات الاخلاقية و صفة التسامح و الاعتدال للعلماء لاهل عمان.

(3) فسر العبارة الآتية (تمثل البصرة مدينة مهمة للأمام جابر للبصرة و يمثل الامام جابر بن زيد امام مهم للبصرة) ؟

(4) عدد ابرز طلاب الامام جابر بن زيد في البصرة .

(5) اذكر قائل المقولات الآتية :-

المقولة	القائل
نحن أكثر ساجا و عاجا و ديباجا و نهرا عجاجا	
لأن اتصدق بدرهم على يتيم أحب الى من حجة بعد حجة الإسلام	



6) من خلال الخريطة الموضحة أجب عن الاسئلة الآتية :

- ارسم على الخريطة المسار الصحيح للمناطق التي ضمها طالب الحق.
- ضع الرمز (*) على الخريطة للمنطقة التي قتل فيها الإمام ابو بلال بن مرداس.
- المدينة التي تأسس فيها الفكر الاباضي ؟

6) من خلال دراستك لانتشار فكر جابر بن زيد في حضرموت و اليمن أجب عن الاسئلة الآتية :-
 أ) دال على منهج الاعتدال و التسامح الذي اشترط عليه خليفة الامام جابر لطالب الحق .

.....

ب) القائد الذي ارسله الأمويين لإعادة السيطرة على المناطق التي سيطر عليها طالب الحق ؟

.....

ج) على الرغم من قصر فترة حكم عبدالله بن يحيى إلا أنه ترك آثار اجتماعية و إنسانية في تلك المنطقة ، وضح ذلك ؟

.....

.....

7) دال تاريخيا : التزم أهل عمان بالمنهج المعتدل و المستقيم لمبادئ الاسلام .

.....

8) دال : وجود علاقة بين علماء المذهب الاباضي و العصر الاموي في خرسان .

.....

9) ما العوامل التي أدت الى ارتباط أهل عمان بفكر الاعتدال و التسامح ؟

.....

10) بين طرق انتشار الفكر الاباضي في كلا من سواحل شرقي افريقيا و سواحل جنوب و جنوبي شرقي آسيا ؟

من خلال الخريطة الموضحة أمامك اجيب عن الاسئلة الآتية :-



- ضعي الرمز (*) على المنطقة التي اسهم فيها عبدالله بن يحيى بنشر الفكر الاباضي .
- ما طرق نشر الفكر الاباضي في المنطقة المشار لها بالرقم (1) ؟

-
- ظلل على الخريطة المنطقة التي يطلق عليها بلاد السودان ؟
 - من كان له دور في نشر الفكر الاباضي في المنطقة المشار لها بالرقم (2) وما اهم أعماله ؟

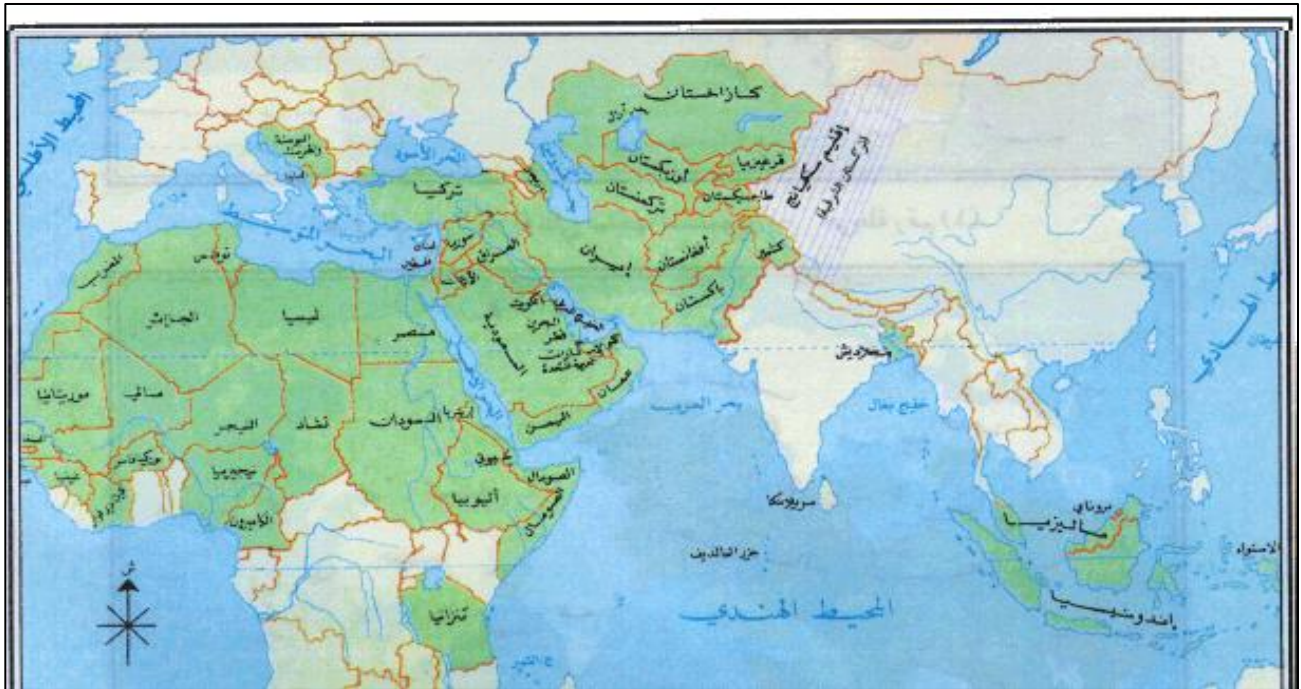
-
- استخرجي من الخريطة الدول التي يشملها اقليم بلاد المغرب ؟
-

(11) دلي من القرآن على :

- اعتبار جميع الرسالات و الرسل بناء حضاريا متوصلا ومتكاملا (.....
- دفع الحسنة مقابل السيئة . (.....)

12) ضع الرمز في الموقع الصحيح في الخريطة لكل من العبارات التي توضح الاقاليم التي انتشر فيها فكر جابر بن زيد :-

ارتبط أهلها بفكر الاعتدال و التسامح	تبدلت أحوال الاقليم بعد نكبة المهالبة سنة 103هـ	اسهمت هجرة سعيد وسليمان ابني الجندی ف نشر الفكر في المناطق	كانت تاهرت من اهم الكيانات زمن الدولة الرسمية	كان له دور على رفع الظلم عن الاهالي و إصلاح احوالهم	انتقل فيها الفكر الاباضي مع السفن و الجاليات العمانية
(أ)	(ب)	(و)	(ن)	(ج)	(س)



الحياة الثقافية والاجتماعية والاقتصادية

الدرس
الثالث
(3)

فسر العبارات التالية :

(1) يعد العمانيين بحق موسوعة علمية .

(2) ظهور كثير من العلماء الذين كان لهم الأثر الكبير في الثروة العلمية والتي تزخر بها المكتبة العمانية .

(3) ازدهار الزراعة و تنوع حاصلاتها في عمان .

(4) نبغ العمانيون في الصناعات المعدنية وخاصة صناعة النحاس و الحديد و الفضة .

ما النتائج المترتبة على كلا من :-

(1) اتساع رقعة البلاد و تباين طبيعتها في سلطنة عمان .

(2) توسع العمانيين في النشاط البحري .

دلل على كلا من :-

- تنافس الميسورين في سد حاجات الفقراء في المجتمع العماني.

- الاهتمام الكبير بالمرأة و الاسرة في المجتمع العماني .

- اشتها العمانيين بالتجارة في القرون الثلاثة الأولى من الهجرة .

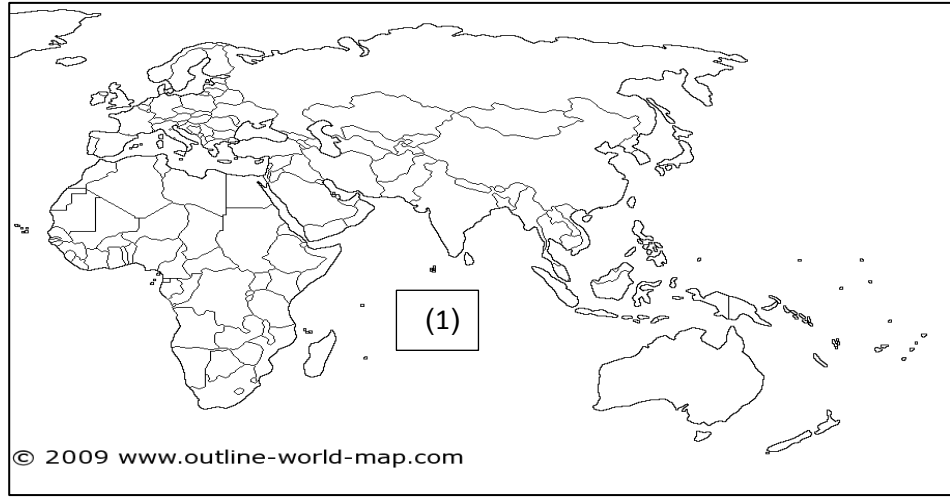
صنف الكتب التالية للمؤلفين كما هو موضح في الجدول (الديوان – الروضة – معجم العين – الاشتقاق – علم العروض – الكامل – معجم البلدان – الجمهرة) مع توضيح المجال الذي اختص به.

العالم	ياقوت الحموي	الخليل بن احمد الفراهيدي	أبو العباس	أبو بكر محمد بن الحسن	جابر بن زيد
اسم الكتاب
مجال الكتاب	اللغة

وضح في الجدول اسماء الرحالة الجغرافيين والمدن العمانية التي وصفوها :-

اسم المدينة	اسم الرحالة	العبارة
		مدينة طيبة الهواء كثيرة الخيرات و الفاكهة
		مدينة حسنة الأسواق و أميرها رجل فاضل حسن الأخلاق
		أعمر مدن عمان وأكثرها مالا
		تقع على البحر وبها من التجارة والتجار

من خلال الخريطة اجيب عن الاسئلة التالية :-



- ارسم على الخريطة مسار الطرق التجارية التي سلكها العمانيون خلال القرون الثلاثة الماضية ؟
-
- ما السلع التي كان العمانيون يتاجرون بها مع المناطق ؟
-
- اسم المحيط المشار له بالرقم (1) ؟
-



باستخدام الرمز (●) حدد على الخريطة المدن العمانية التي وصفوها الرحالة الجغرافيين :
(صحار - نزوى - مرباط - قلھات)

الاحتباس الحراري

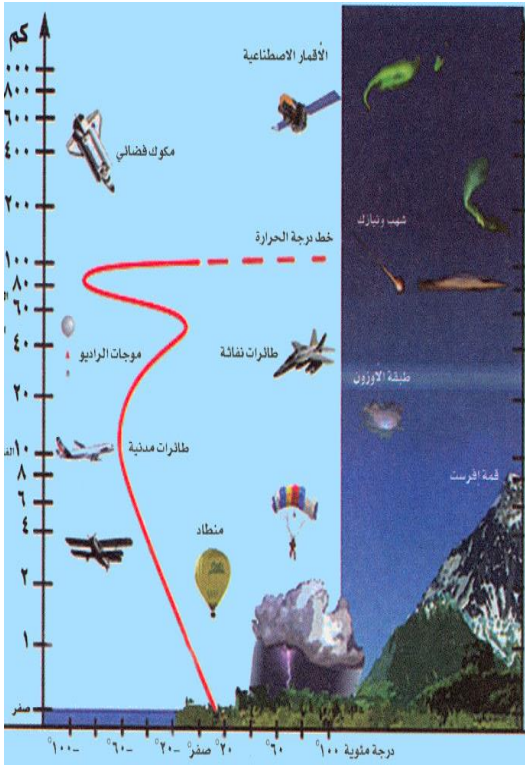
الدرس
الأول
(1)

(1) فسر :

- يعتبر الاحتباس الحراري ظاهرة طبيعية وضرورة حيوية .

- ارتفعت درجات الحرارة الى 15,5% خلال ما يقارب عقدين من الزمن .

(2) من خلال الشكل وضح اسماء طبقات الغلاف الجوي و استنتج أهمية كل طبقة من طبقات الغلاف الجوي .



الاهمية	اسم الطبقة

(3) ارسم شكلا بيانيا يوضح الغازات التي تشكل الغلاف الغازي ؟

التصحّر

الدرس
الثاني
(2)

(1) فسر :-

- تعد المناطق التي تقع بمحاذاة الصحاري من أكثر البيئات عرضة لظاهرة التصحر

.....

- تظهر التعرية الريحية في المناطق الجافة وشبة الجافة .

.....

(2) تتفاعل العوامل الطبيعية مع بعضها البعض لظهور التصحر تتبع ذلك .

.....

.....

.....

(3) ما الاساليب الخاطئة التي يتبعها الانسان في الاستعمال الزراعي ؟

.....

.....

(4) صنف العبارات التالية الى حالات التصحر الثلاثة :- (طبقة ملحية – صيفها طويل وقليل الامطار –
تعرية ريحية – ذات نفاذية عالية – غير مكلف اقتصاديا)

التصحّر الشديد جدا	التصحّر الشديد	التصحّر الطفيف

(5) دلل : اهتمام سلطنة عمان بظاهرة التصحر .

.....

.....

(6) وضح أسباب ظهور التصحر في الجزائر و كينيا .

.....

.....

(7) ما أدوات المسح التي تتخذها الدول لمكافحة التصحر ؟

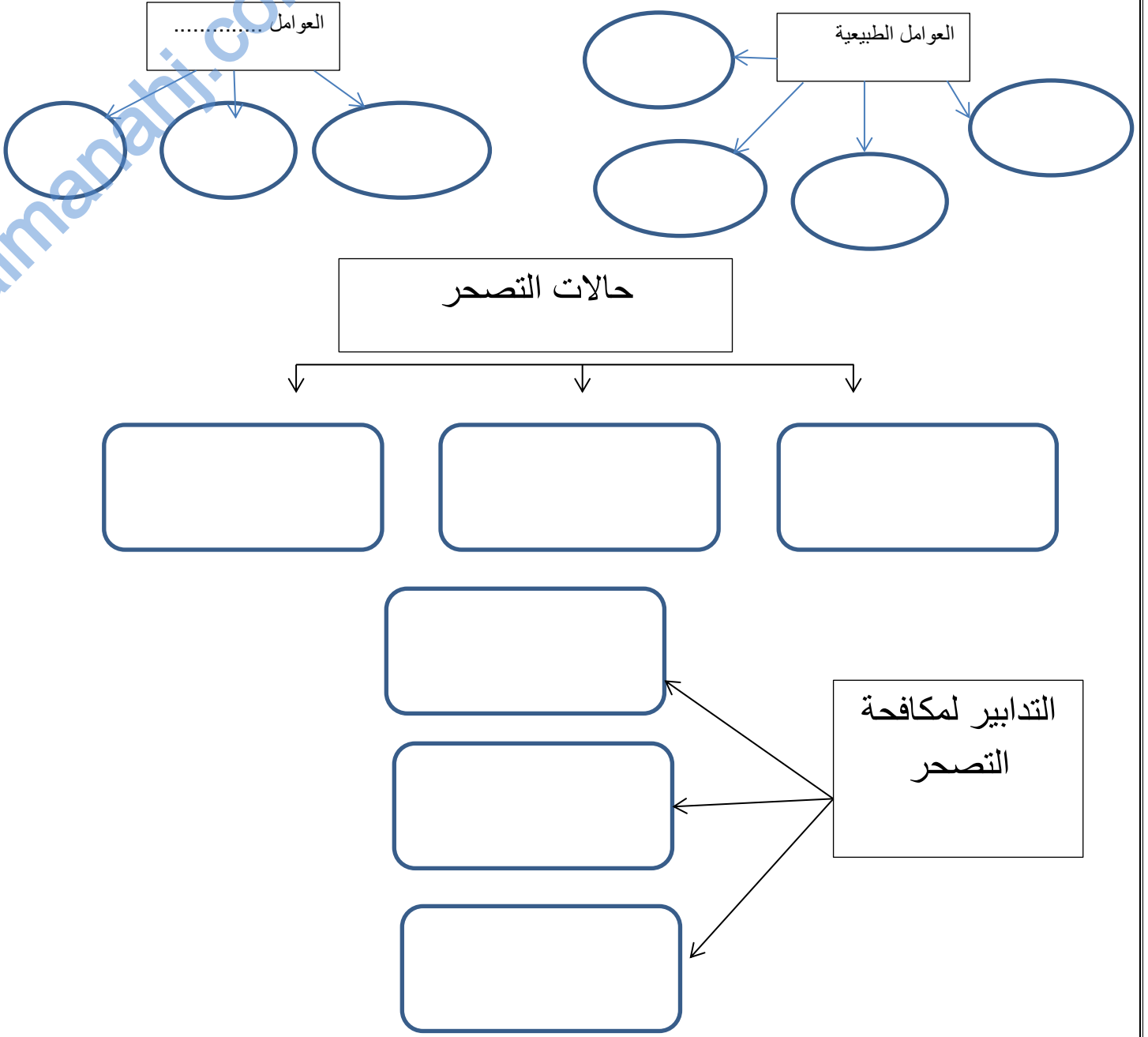
.....

.....

.....

.....




(8) أكمل المخطط التالي الذي يوضح التصحر .



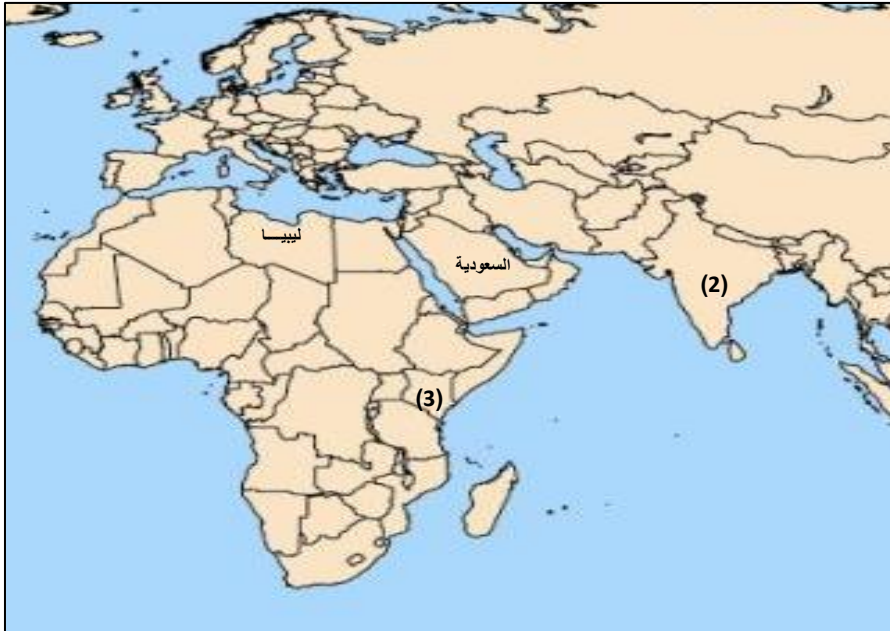
قارن بين اسباب التصحر وطرق مكافحة التصحر في كلا من عمان والهند .

الهند	عمان	
(1)	(1)	اسباب التصحر
(2)	(2)	
(3)	(3)	
(1)	(1)	طرق مكافحة التصحر
(2)	(2)	
(3)	(3)	

أدرس الصور جيدا ثم أكتب أسفل كل صورة حالة التصحر التي تعبر عنها؟

		
.....

من خلال الخريطة التي توضح الدول التي تعاني من مشكلة التصحر أجب عن الأسئلة الآتية :-



- (1) أكتب على الخريطة رقم (1) على الدولة التي تعاني من تكرار سنوات الجفاف و انحباس الامطار؟
- (2) ما نتائج المشكلة التصحر في الدولة المشار لها بالرقم (2)؟
.....
- (3) ظلل على الخريطة الدولة التي ظهر فيها التصحر بسبب استخدام مضخات المياه لري المزروعات .
- (4) ما أسباب انتشار التصحر في المنطقة المشار لها بالرقم (3) وما طرق مكافحة التصحر؟
.....
.....

(5) يصنف الوطن العربي من المناطق التي تعاني من التصحر :

- شديد الجفاف - شبة جاف - جاف - رطبة

الاعاصير المدارية

الدرس
الثالث
(3)

ما النتائج المترتبة لكلا من العبارات التالية :-

- اختلاف درجات الحرارة من منطقة الى أخرى .

- وجود اختلاف بين منطقة الضغط الجوي المرتفع و الضغط الجوي المنخفض .

- زيادة حجم الفراغ في قمع الاعصار .

فسر العبارات التالية :-

- انفجار البنايات في المناطق التي تتعرض للاعاصير .

- امكانية مراقبة والتحذير من الاعاصير قبل وصولها .

- عدم انتظام تعرض السلطنة للأعاصير المدارية .

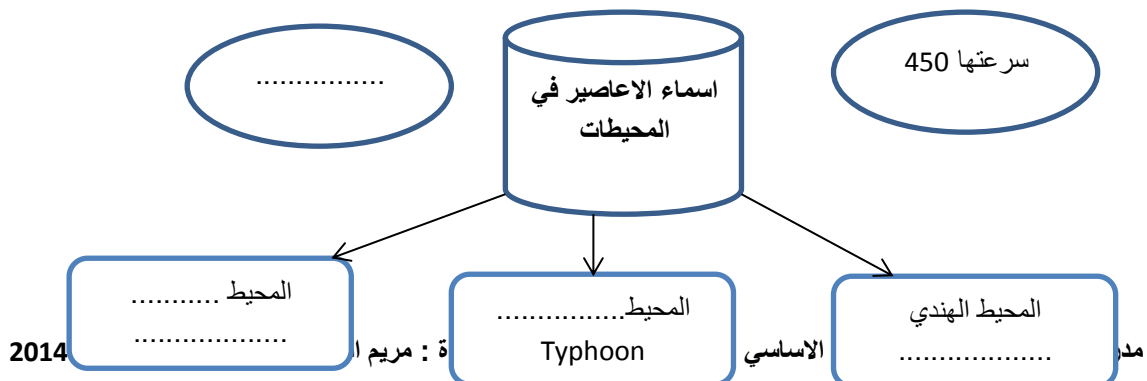
أكمل الخريطة المفاهيمية التالية :-

الاعصار يقصد به :


حركات الاعصار

حركة الرياح الى الامام اتجاه اليابسة أو اتجاه المياه الباردة

.....



الموضح أمامك أجب عن الاسئلة الآتية :-







(1) فسر كيف تتكون الاعاصير ؟

(2) وضح على الشكل التيار البارد والتيار الدافئ ؟

(3) يشير الرقم (1) في الرسم التخطيطي لكيفية حدوث الإعصار الى

ضع علامة (√) أمام الصورة التي تعبر عن آثار الاعاصير (الطبيعية والبشرية) :-

آثار بشرية	آثار طبيعية	الأثار
		
		
		
		

قارن بين الاعاصير التي تعرضت لها السلطنة من حيث السنة التي ضرب الاعصار و سرعة الرياح ومعدل سقوط الامطار ؟

الاعصار	السنة	سرعة الرياح	معدل سقوط الامطار
اعصار مصيرة			
جونو			
فيت			

يصنف درجة وقوة الاعصار جونو و فيت حسب مقياس Saffir Simpson

من خلال الجدول الذي يوضح معدل الضحايا الأعاصير أجب عن الاسئلة الآتية :-

السنة	البلد	إجمالي الضحايا
١٩٦١	الولايات المتحدة	٢٥٦
١٩٧٠	بنجلاديش	٥٠٠.٠٠٠
١٩٧٢	الولايات المتحدة	١١٨
١٩٧٣	المكسيك	٢٠٠
١٩٧٤	هندوراس	٨٠٠٠
١٩٧٧	أستراليا	٤٧
١٩٧٧	الهند	١٠٠.٠٠٠
١٩٧٩	فلوريدا (الولايات المتحدة)	١.٠٢٤
١٩٨٩	الفلبين	٣٢.٠٠٠
١٩٩١	بنجلاديش	١٣٥.٠٠٠
٢٠٠٣	الولايات المتحدة	١٥
٢٠٠٥	الولايات المتحدة	١٣٠٠

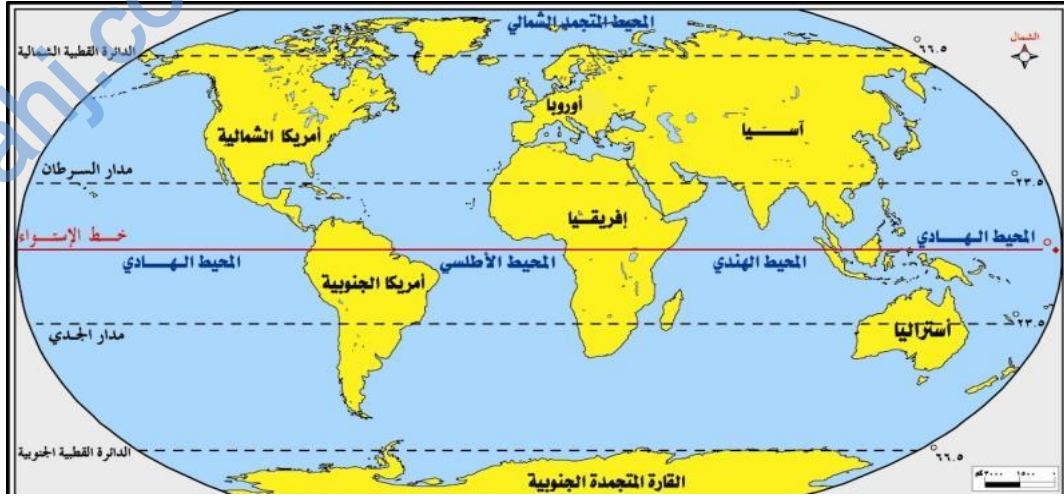
(1) الدولة التي ترتفع فيها معدلات الضحايا ؟

(2) برأيك ما أسباب ارتفاع معدل الضحايا في الهند و بنجلادش ؟

(3) رتب ترتيبا تنازليا يوضح معدل الضحايا لخمس دول الاولى فقط ؟

(4) لو كنت أحد موظفي الإرساد الجوية بمطار مسقط الدولي فما هي أهم التنبيهات التي ستبثها للمواطنين في حالة تعرض السلطنة لإعصار ؟

(5) - من خلال الخريطة الموضحة أمامك أجب عن الأسئلة التالية :



- ظلل على خريطة العالم المنطقة التي تتعرض للأعاصير ؟
- اكتب على الخريطة موقع بنجلادش و الولايات المتحدة الأمريكية ؟
- كيف تفسر وجود فترتين مختلفتين لحدوث الأعاصير المدارية في النصف الشمالي والجنوبي على سطح الأرض ؟

-
- يتعرض النصف الشمالي من الكرة الأرضية للأعاصير في فصل بينما يتعرض النصف الجنوبي للأعاصير في فصل

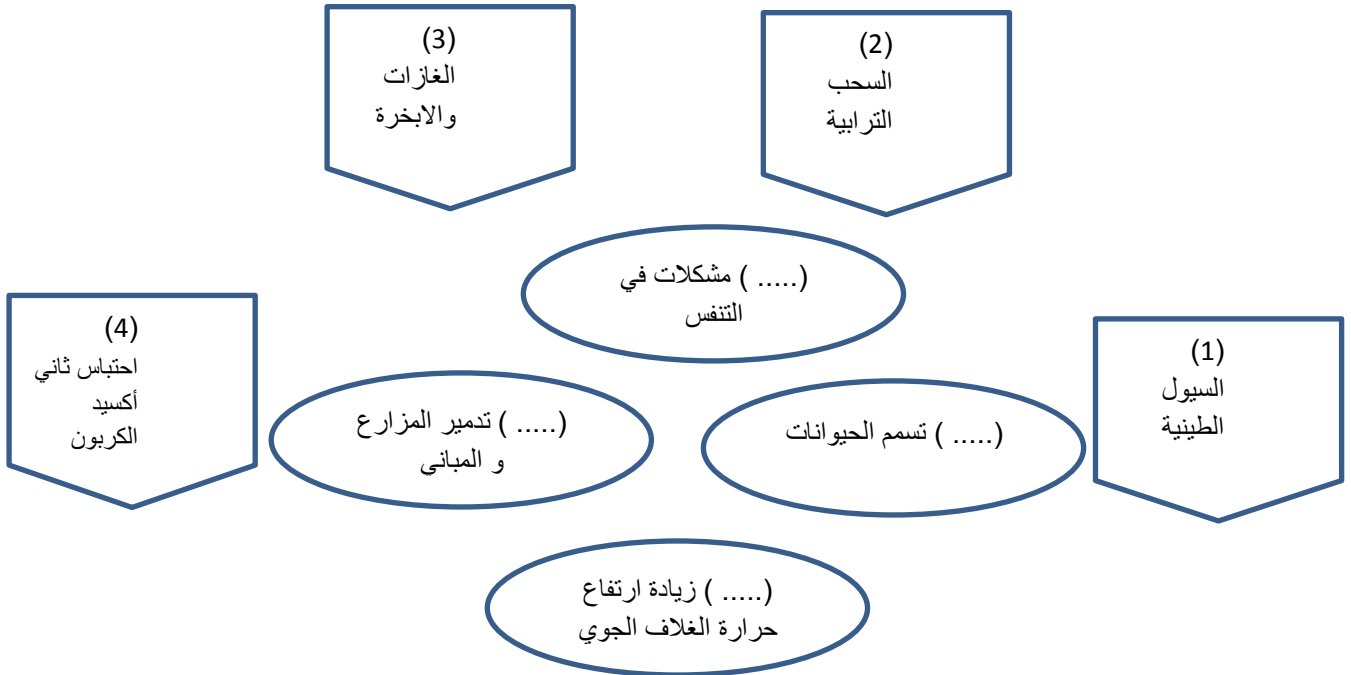
أخطار الزلازل والبراكين

الدرس
الرابع
(4)

اختر الاجابة الصحيحة من بين البدائل المعطاة :-

- (1) تعرضت اليابان لزلازل كوبي خلف آثار مدمره سنة :-
(أ) 1992 (ب) 1993 (ج) 1994 (د) 1995
- (2) وصل قوة الزلزالي حسب مقياس رختر الذي ضرب منطقة جنوب شرقي آسيا :-
(أ) 8.5 (ب) 8.6 (ج) 8.8 (د) 9
- (3) الجزيرة التي تحركت باتجاه الجنوب الغربي نتيجة المد الزلزالي تسونامي بمقدار 26 مترا :-
(أ) جاوة (ب) المالديف (ج) سومطرة (د) سريلانكا
- (4) ارتفع معدل الضحايا الي 26 ألف شخص في جزيرة هونشو اليابانية بسبب :-
(أ) زلزال (ب) بركان (ج) تساقط مذنبات (د) الانهيارات

ب) من خلال المخطط ضع الرقم المناسب للأخطار الناتجة من المواد البركانية :-



ج) دلي على العبارات التالية :-

(1) على الرغم من المخاطر التي تنتجها البراكين إلا أنها لها منافع للإنسان .

(2) تحرك بعض الجزر الصغيرة في المحيط الهندي بسبب موجة المد الزلزالي .

(3) تأثر سلطنة عمان بموجة المد تسونامي خلال يومي 2004/27/26

هـ (صنف العبارات التالية التي توضح آثار المد الزلزالي تسونامي الي آثار اقتصادية والبيئية والجغرافية .

تقليل سرعة دوران الارض حول نفسها

تعفن الجثث ونقص وسائل التدفئة

آثار اقتصادية	آثار بيئية	آثار جغرافية

تدمير الشعب المرجانية

تغير أولويات الدولة و إعادة البنية التحتية المدمرة

تدمير الشعب المرجانية

و (صمم خريطة مفاهيمية توضح مخاطر الزلازل ؟


ل) من خلال الخريطة الموضحة أجب عن الاسئلة الآتية :-



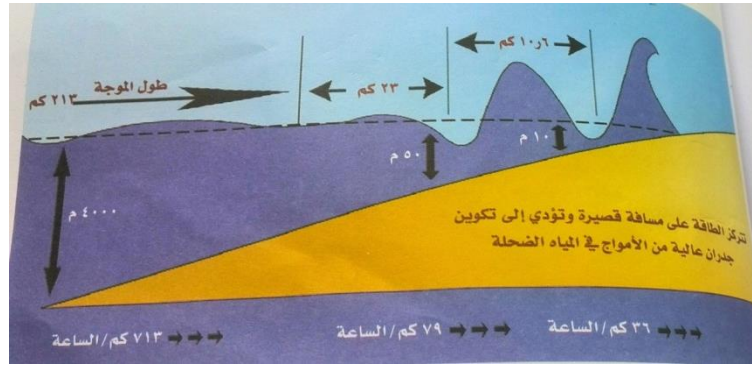
- أحد المناطق التي استفادت من البراكين المشار لها بالرقم (1) وكيف استغلت ذلك ؟

- أكتب على الخريطة موقع نيوزلندا التي استخدمت الطاقة الحرارية لانتاج الطاقة الكهربائية ؟
- ظلل على الخريطة الدول التي تعرضت لموجة المد تسونامي 2004 في شرقي أفريقيا ؟
- الرقم المناسب الذي يوضح الدولة التي ارتفعت فيها معدل الضحايا من موجة تسونامي 2004 ؟
- برأيك ما أسباب ارتفاع معدل الضحايا من موجة المد تسونامي يصل حوالي 275000 ؟

(س) وضح بالرسم شكلا توضيحا يشرح كيفية الانذار المبكر للتنبؤ بأموج تسونامي ؟



(ش) من خلال الشكل الذي يوضح المد البحري أجب عن الأسئلة :-

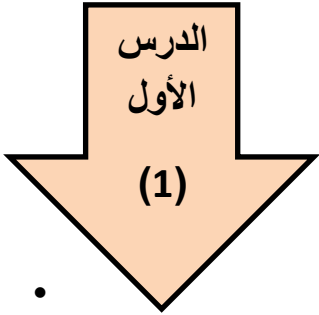


- ما أسباب حدوث المد البحري تسونامي ؟

- استنتج العلاقة بين طول الموجة و العمق ؟

- ماذا يحدث لسرعة الامواج في المياه الضحلة ؟ وما السبب ؟

الولايات المتحدة الأمريكية



• فسر العبارات التالية :-

(1) يتميز المجتمع الأمريكي بأنه الأكثر تنوعا في العالم .

(2) تعد الصناعة القطاع الثاني من النشاط الاقتصادي ف العالم .

(3) تحتل الولايات المتحدة الأمريكية المراكز الأولى في الانتاج الزراعي العالمي .

(4) تتم مراحل الانتاج الأخيرة للنسيج في الولايات المتحدة الأمريكية في جنوب البلاد .

• رتب الاحداث التاريخية التالية للولايات المتحدة الأمريكية :-

() استقبلت الولايات المتحدة الأمريكية ملايين المهاجرين من قارة أوروبا

() تمكن الملاح الايطالي كريستوفر كولومبوس من اكتشاف أراضي جديدة أطلق عليها

جزر الهند الغربية

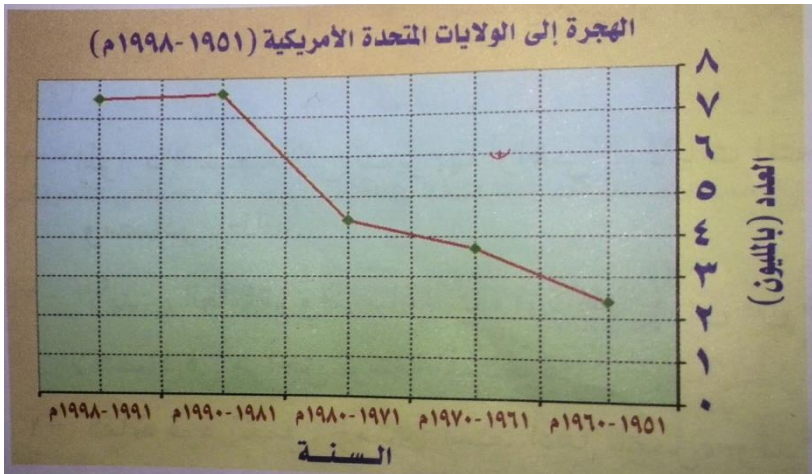
() نشب خلاف بين الحكومة البريطانية و المهاجرين في الولايات المتحدة الأمريكية

() استقلال الولايات المتحدة الأمريكية عام 1776 م بقيادة جورج واشنطن

() استكشف الملاح البرتغالي أمريكو فسبوتشي أراضي جديدة أطلق عليها أمريكا

• من خلال الشكل الذي يوضح معدلات الهجرة الى الولايات المتحدة الأمريكية تتبع

معدلات الهجرة خلال (1951 – 1998)



.....

.....

.....

.....

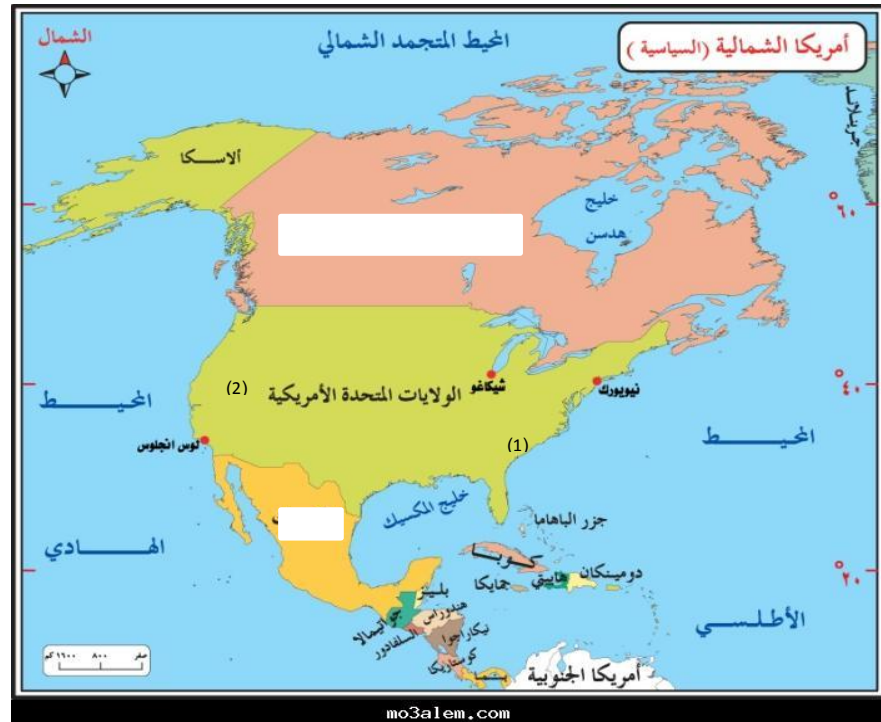
.....

.....

.....

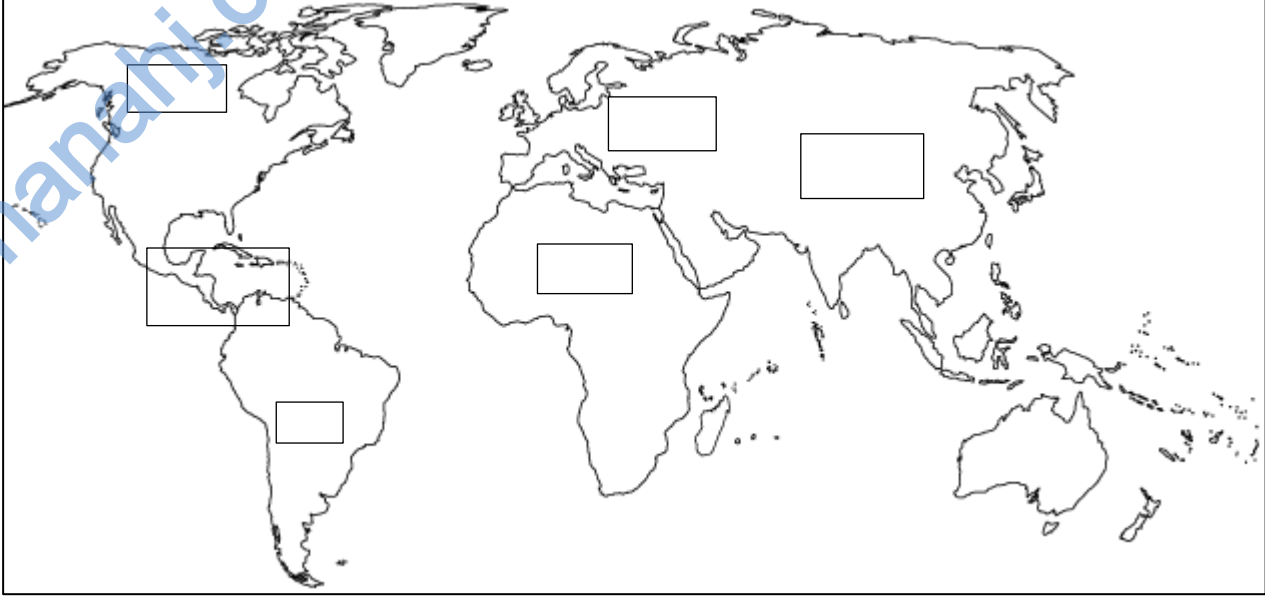
.....

من خلال الخريطة الموضحة للولايات المتحدة الأمريكية أجب عن الأسئلة التالية :-



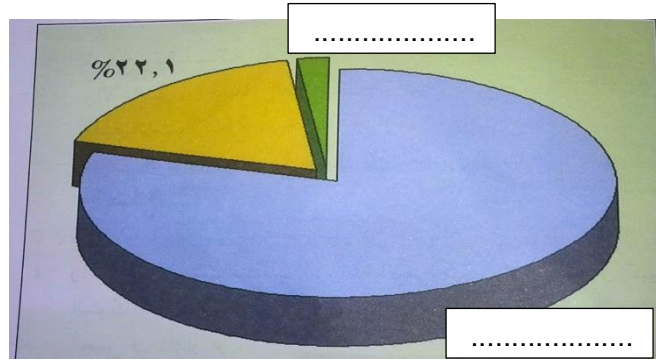
- 1) المسطح المائي الذي يحده الولايات المتحدة الأمريكية من جهة الغرب ؟
- 2) المنطقة التي تم شراؤها من روسيا عام 1867 م ؟
- 3) أكتب على الخريطة الدولة التي تحده الولايات المتحدة الأمريكية من الشمال ؟
- 4) ضع الرمز (■) على موقع عاصمة الولايات المتحدة الأمريكية ؟
- 5) ما نتائج الامتداد المساحي الكبير للولايات المتحدة الأمريكية ؟
- 6) وضح النتائج الايجابية والسلبية على اختلاف التوقيت الزمني داخل الدولة الواحدة من منطقة الى أخرى ؟
- 7) ضع الرمز (*) على موقع استخراج النفط والغاز في الولايات المتحدة الأمريكية ؟
- 8) عاصمة السيارات في الولايات المتحدة الأمريكية ؟
- 9) ما الاسباب التي دفعت الولايات المتحدة الأمريكية وضعت قيود على الصادرات الصينية بحيث لا تتجاوز 7.5% من مجمل الصادرات من المنسوجات الصينية ؟
- 10) المنطقة المشار لها بالرقم (1) أحد المصانع لانتاج
- 11) يستخرج من المنطقة المشار لها بالرقم (2) أحد الموارد المعدنية
- 12) المنطقة العلمية و الصناعية في حقل الكمبيوتر في الولايات المتحدة الأمريكية

- أكتب على خريطة العالم الارقام من 1 - 4 المناطق التي وفد منها المهاجرون الى الولايات المتحدة الأمريكية من الأكثر الى الأقل ؟




- المنطقة التي تنخفض فيها نسبة المهاجرين الى الولايات المتحدة الأمريكية ؟ فسر ذلك ؟

من خلال الشكل الذي يوضح نسبة مساهمة القطاعات في الناتج القومي الأمريكي أجب عن الاسئلة التالية :-



- القطاع الذي يسهم بنسبة 22.1% في الاقتصاد الأمريكي
- فسر : تنخفض نسبة مساهمة القطاع الزراعي في الاقتصاد الأمريكي ؟
- دلل على أن الزراعة بدأت تتناقص أهميته في الاقتصاد الأمريكي ؟
- وضح عوامل نجاح الصناعة الأمريكية ؟
- ما القطاع الذي يسهم بنسبة أكبر في الاقتصاد الأمريكي ؟ وفسر ذلك ؟
- ما مظاهر الأزمة الاقتصادية التي تعرض لها العالم الصناعي عام 1929 م ؟

من خلال الشكل البياني الموضح أمامك أجب عن الاسئلة التالية :-



- ما مناطق استخراج المعدن الذي يسهم بنسبة 21% في الولايات المتحدة الأمريكية .

.....
- أكثر المواد المعدنية استخرجا في الولايات المتحدة الأمريكية

- رتب اسماء مصادر الطاقة ترتيبا تصاعديا من الأقل الى الأكثر ؟

.....

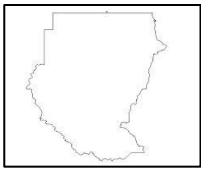
اليابان

الدرس
الثاني

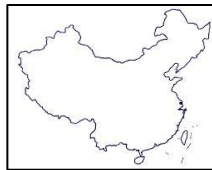
(2)

اختر الاجابة الصحيحة من بين البدائل المعطاة فيما يلي :-

(1) الدولة التي ارتفعت فيها نسبة المهاجرين من اليابان بنسبة 36% بعد أحداث الحرب العالمية الثانية :-



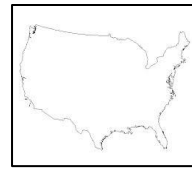
(د)



(ج)



(ب)



(أ)

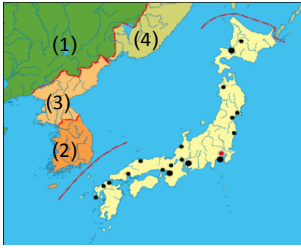
(2) المحصول الذي يسهم بالمرتبة الأولى في الانتاج المحلي لليابان :-

(أ) الأرز (ب) البطاطا (ج) الخضروات (د) الحبوب

(3) الرقم الذي يشير الى الدولة التي تنافس اليابان في صناعة السفن :-

(أ) 1 (ب) 2

(ج) 3 (د) 4



(4) السبب وراء انخفاض الناتج المحلي في اليابان مقارنة مع الولايات المتحدة الأمريكية :-

(أ) طول السواحل (ب) انتشار الجزر (ج) البيئة الجبلية (د) صغير المساحة

(5) من أبرز أنشطة الخدمات التي تميز اليابان :

(أ) الطاقة (ب) التجارة (ج) الاتصالات (د) البنوك

فسر العبارات التالية :-

- يشكل المجتمع الياباني وحدة عرقية ولغوية تميزه عن باقي المجتمعات الأخرى .

- تحتل اليابان المرتبة الثانية اقتصاديا بعد الولايات المتحدة الأمريكية على مستوى العالم .

- لم يتحقق لليابان الاكتفاء الذاتي من انتاج الأرز .

- يسهم الانتاج العالمي للصيد في اليابان حوالي 3.2% .

من خلال الخريطة الموضحة أجب عن الأسئلة الآتية :-



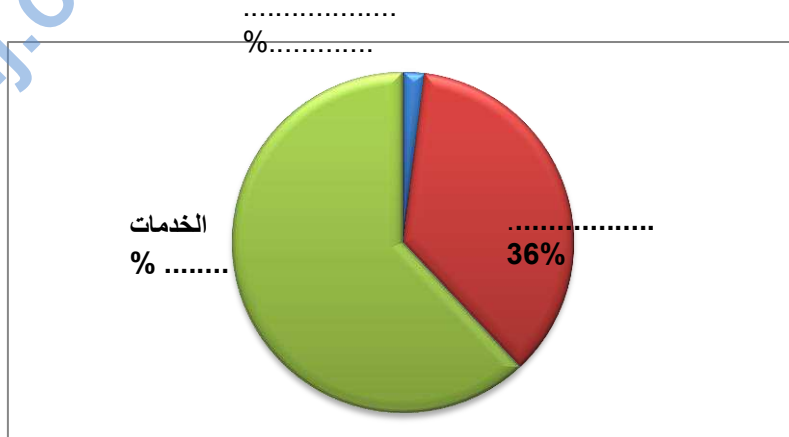
- 1) المسطح المائي الذي يحده اليابان من الشمال الغربي
- 2) اسم الجزيرة التي توجد فيها عاصمة اليابان طوكيو
- 3) استنتج من الخريطة النتائج الايجابية و السلبية للموقع الجغرافي لليابان ؟
الايجابي :
السلبى :
- 4) من خلال الخريطة ما سبب نقص المواد الأولية في اليابان ؟
.....
- 5) ما الحلول التي وضعتها اليابان بسبب الطبيعة الجبلية و التي تشكل 75% من مساحتها ؟
.....

من خلال الجدول الذي يوضح مصادر الطاقة في اليابان أجب عن الاسئلة الآتية :-

مصدر الطاقة	1973	2000
النفط	77%	52%
الطاقة النووية	1.5%	12%
الغاز الطبيعي	2%	13%
الفحم الحجري	15%	18%
الطاقة الكهرومائية	4%	3%

- 1) كيف واجهت اليابان نقص مواد الطاقة في بلادها ؟
.....
- 2) ماذا تلاحظ في معدلات استيراد الغاز الطبيعي بين عام 2000 / 1973 ؟
.....

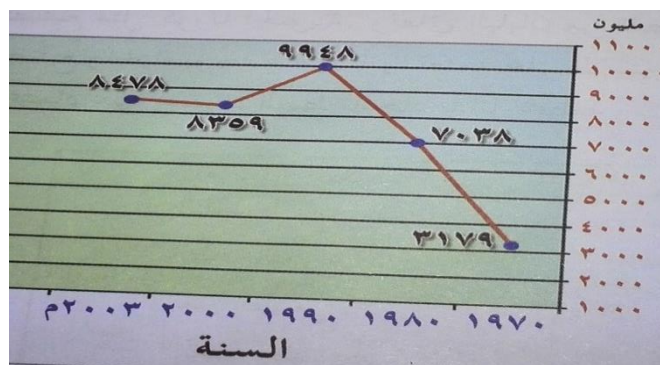
من خلال الشكل البياني الذي يوضح مساهمة القطاعات الاقتصادية في الناتج المحلي في اليابان :



- أكمل البيانات في الشكل .
- وصل معدل النمو الاقتصادي في اليابان من 1953 الى 1973 حوالي
- تصل نسبة الاراضي الصالحة لزراعة في اليابان حوالي
- من أهم الصناعات في اليابان :

- فسر يقبل اليابانيون بكثرة على أكل الطحالب .

من خلال الشكل الذي يوضح تطور انتاج السيارات في اليابان أجب عن الاسئلة التالية :



- العام الذي ارتفعت فيه أعداد انتاج السيارات ؟
- وصل أعداد انتاج السيارات في عام 2003 م ؟
- ماذا تلاحظ في أعداد انتاج السيارات من 1970 الى 1990 ؟

الصين

الدرس
الثالث

(3)

اختار الاجابة الصحيحة من بين البدائل المعطاة :-

- (1) السنة التي قامت فيها جمهورية الصين الشعبية :-
 (أ) 1944 (ب) 1947 (ج) 1949 (د) 1950
- (2) دولة احتلت منطقة ماكاو في الصين الى عام 1999 :-
 (أ) البرتغال (ب) بريطانيا (ج) اليابان (د) فرنسا
- (3) وصل معدل النمو الاقتصادي في الصين في عام 2011 حوالي :-
 (أ) 8.1% (ب) 9.2% (ج) 10.5% (د) 12%
- (4) أشهر القواعد الصناعية التي أنشئت في أولى فترات الاصلاح الاقتصادي في الصين :-
 (أ) بكين و ماكاو (ب) هونج كونج و كرامي (ج) ماكاو و أنشان (د) أنشان و تبشي

فسر العبارات التالية :-

- (1) لم يعد يحظى القطاع الزراعي باهتمام في الاقتصاد الصيني .

 - (2) تتركز زراعة الأرز في الحوض الأسفل من حوض نهر اليانجتسي .

 - (3) ارتفاع نسبة الأراضي المعرضة للتصحر في الصين الى حوالي 37% .

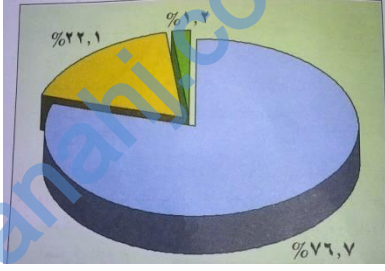
 - (4) ارتفاع حجم المبيعات من الأجهزة الكهربائية المنزلية في الصين من 8 % الى 14% .

 - (5) لا يركز الاقتصاد في الصين على قطاع الخدمات .

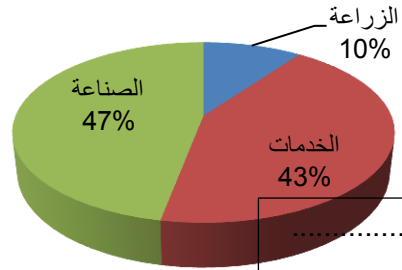
- تعاني المناطق الريفية و الزراعية في الصين من مشكلة التصحر و تآكل التربة ، اذكر جهود الحكومة الصينية لمعالجة هذه المشكلة و النتائج المترتبة لهذه الحلول ؟
 دور الحكومة :-
- النتائج :-

ما النتائج السلبية في ارتفاع معدل النمو الاقتصادي في الصين الى 10 % ؟

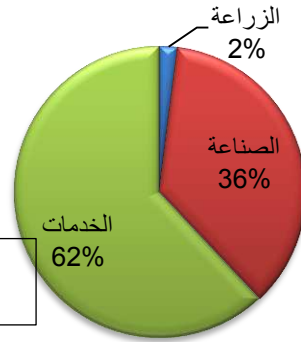
أكتب أسفل كل شكل بياني الدولة التي يمثل لها القطاعات الاقتصادية:



.....

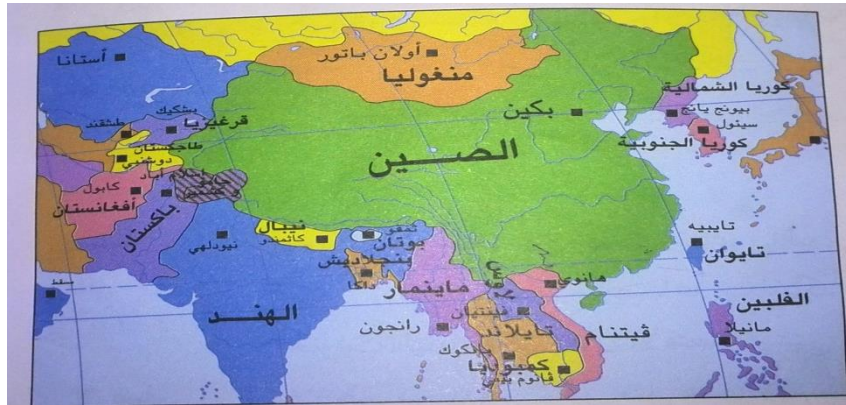


.....



.....

من خلال الخريطة الموضحة أمامك أجب عن الأسئلة الآتية :-



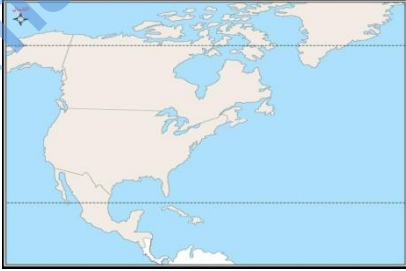
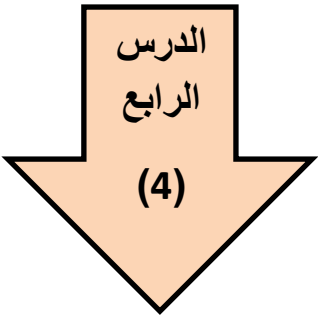
- ضع دائرة على عاصمة الصين على الخريطة .
- تتركز القواعد الصناعية للحديد والصلب في الصين في الاجزاء
- وضح النتائج الايجابية والسلبية لاشترك الصين مع ستة عشر دولة في حدودها ؟
- الايجابي :
- السلبي :
- أكتب على الخريطة اسم المسطح المائي المطل عليه الصين من الشرق .
- إذا كانت الساعة الخامسة صباحا في مدينة بكين الواقعة على خط طول 117 شرقا فكم تكون الساعة في مدينة مسقط بسلطنة عمان الواقعة على خط طول 58 شرقا ؟

.....
.....

مقارنة بين الولايات المتحدة الأمريكية و اليابان والصين

الصين	اليابان	الولايات المتحدة الأمريكية	
9.6 مليون	377 مليون	9,8 مليون	المساحة
شنجهاي	طوكيو	نيويورك	أكبر مدن
1.37 مليار	128 مليون	311 مليون	عدد السكان
الصينية الهانية	اليابانية	الانجليزية	اللغة
يوان	الين الياباني	دولار أمريكي	العملة
تعدد القوميات 55 و 53 لغة ، تطبيق سياسة الطفل الواحد	وحدة عرقية ولغوية / ارتفاع نسبة الشيوخوخة وانخفاض معدل الخصوبة	أكثر المجتمعات تنوعا بسبب الهجرة من قارات العالم إليها	السكان والمجتمع
2011 عام 9.2%	1953- 1973 عام 8%	-	معدل النمو الاقتصادي
47%	36% معدل النمو الصناعي 12%	22.1%	مساهمة الصناعة
43%	62%	76.7%	مساهمة الخدمات
10% مساحة الأراضي الصالحة لزراعة 13%	2% مساحة الاراضي الصالحة لزراعة 11.8%	1.2% تحتل المراكز الأولى عالميا مساحة الأراضي الصالحة لزراعة 18%	مساهمة الزراعة
المرتبة الأولى في عام 2010 بنسبة 23.5%	المرتبة الثانية بعد الولايات المتحدة وبلغ 14.3% عام 2010 م	المرتبة الثالثة عام 2011 وبلغ 10.8	صناعة السيارات
- السيارات - الاجهزة الكهربائية	- السيارات - الصناعات الالكترونية - صناعة السفن	- التعدين - النسيج - السيارات	صناعات

التكتلات الاقتصادية في العالم



• اختر الاجابة الصحيحة من بين البدائل المعطاة :

- 1) اسم التكتل الاقتصادي الموضح على الخريطة :-
 (أ) الآسيان (ب) الناقتا (ج) الاتحاد الاوروبي (د) الاتحاد الأفريقي
- 2) العام الذي تشكلت فيه المجموعة الأوروبية للفحم والحديد :
 (أ) 1951 (ب) 1986 (ج) 1995 (د) 2004
- 3) عدد الدول التي أسست الاتحاد الأوروبي في عام 1957:-
 (أ) 3 (ب) 6 (ج) 9 (د) 12
- 4) أصغر الدول مساحة في قارة آسيا :-
 (أ) لاوس (ب) كولومبو (ج) فيتنام (د) المالديف

• اذكر اسباب ظهور التكتلات الاقتصادية في العالم ؟

.....

• ما نتائج المترتبة لكلا من :-

- التخصص الاقليمي لدول التكتلات الاقتصادية سواء في المجال الزراعي أو الصناعي وغيرها .
- إزالة القيود والحواجز الجمركية بين دول التكتلات الاقتصادية .
- نشأة رابطة الآسيان في جنوب شرقي آسيا .

.....

