

تم تحميل هذا الملف من موقع المناهج العمانية



نموذج أسئلة الامتحان الرسمي للدور الأول مع حل بخط اليد

موقع فايلاتي ← المناهج العمانية ← الصف العاشر ← اجتماعيات ← الفصل الأول ← حلول ← الملف

تاريخ إضافة الملف على موقع المناهج: 18:01:39 2024-10-05

ملفات اكتب للمعلم اكتب للطالب | اختبارات الكترونية | اختبارات | حلول | عروض بوربوينت | أوراق عمل
منهج انجليزي | ملخصات وتقارير | مذكرات وبنوك | الامتحان النهائي للمدرس

المزيد من مادة
اجتماعيات:

التواصل الاجتماعي بحسب الصف العاشر



صفحة المناهج
العمانية على
فيسبوك

الرياضيات

اللغة الانجليزية

اللغة العربية

التربية الاسلامية

المواد على تلغرام

المزيد من الملفات بحسب الصف العاشر والمادة اجتماعيات في الفصل الأول

تدريبات اختباراتي في دفترتي لدرس ظهور الإسلام وبناء الدولة الجديدة من الوحدة الثالثة

1

تدريبات اختباراتي في دفترتي لدرس المدارس الفكرية في الإسلام

2

تدريبات اختباراتي في دفترتي لدرس العوامل الداخلية التي تسهم في تشكيل سطح الأرض

3

تدريبات اختباراتي في دفترتي لدرس التعرية المائية من الوحدة الثانية

4

تدريبات اختباراتي في دفترتي لدرس التعرية الريحية من الوحدة الثانية

5

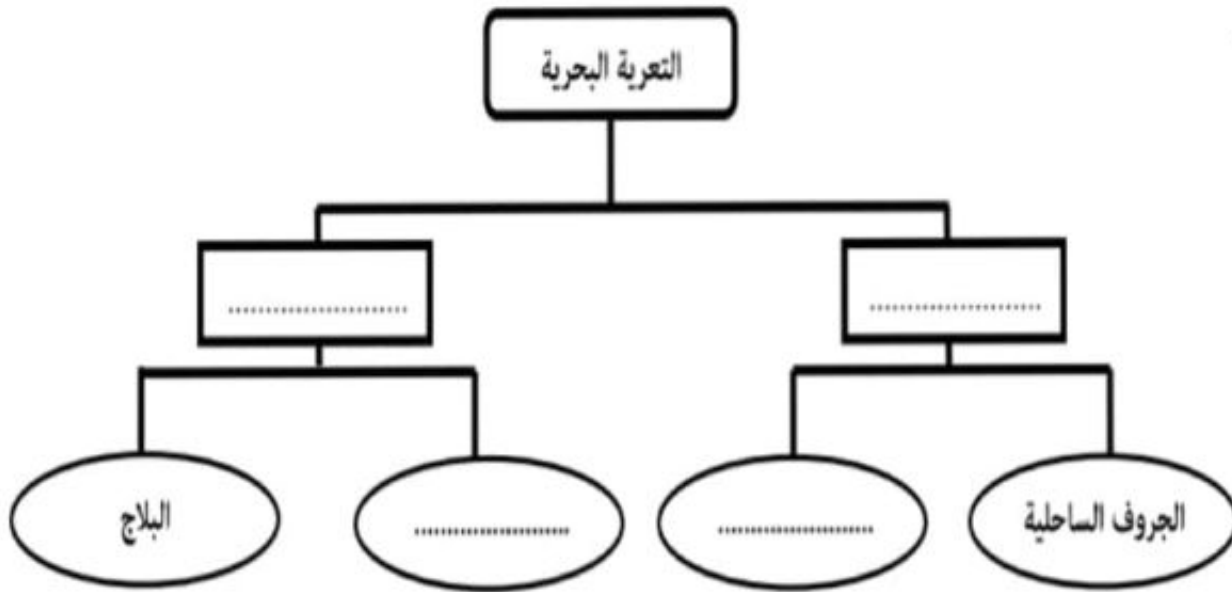
(9)
تابع / امتحان الصرف العاشر في مادة الدراسات الاجتماعية
للعام الدراسي 1442 / 1443 هـ - 2021 / 2022 م
الدور الأول - الفصل الدراسي الأول

ثالثا :

(أ) وضح جهود السلطنة في عملية رصد الزلازل ؟

(ب) إذا كانت درجة الحرارة بولاية نخل في النهار 40 درجة سيليزية وفي الليل 25 درجة سيليزية فكم يبلغ المدى الحراري فيها ؟

(ج) أكمل المخطط التالي :



١٢

انتهت الأسئلة مع الدعاء للجميع بالتوفيق والنجاح.

السؤال الخامس:

أولاً:

أ- عددي اثنين من عمليات النحت البحري ؟

ب- أنظر الى الصورة المقابلة ثم أجب عن الأ


سئلة الآتية :

1- سم الشكل الناتج عن النحت البحري

المشار إليه بالرمز (أ).

2- ارسم شكل ظاهرة النحت البحري التي

تسبق تكون الظاهرة المشار اليها بالرمز (أ)



ثانياً : قارن بين طرق النقل النهري حسب الجدول الآتي :

الشكل	وجه المقارنة
.....
.....
.....

السؤال الرابع:

أولا:

(أ) فتنة تعرضت لها الدولة الإسلامية في أواخر عهد أحد الخلفاء الراشدين وأدت إلى مقتله سنة 35هـ-)

- 1- أكتب اسم الخليفة الذي بدأت في عهده الفتنة ؟
- 2- برأيك ما أثر الفتنة على المجتمع الإسلامي ؟

(ب) أنسب الأعمال الواردة في الجدول الآتي إلى الشخصية الصحيحة :

م	الأعمال	الشخصية
1	أحرز أهم الانتصارات العسكرية في معركة القادسية واليرموك	
2	اختاره الخليفة علي بن أبي طالب للتفاوض في أمر التحكيم عام 37هـ-	
3	تزعّم جماعة المحكمة	
4	تنازل له الحسن بن علي بالخلافة عام 40هـ-	



ثانيا : (أ) من خلال الشكل الذي أمامك أجب عن الآتي:

- 1- أكتب اسم الظاهرة المشار إليها بالرمز (س)
- 2- عدد اثنين من العوامل التي ساهمت في تكوينها ؟

.....
.....

(ب) صنف الأشكال الآتية حسب نوع العملية المكونة لها في التعرية المائية : (الشلالات ، المراوح الفيضية ، الجنادل)


النحت	الإرساب

١٢

تابع / السؤال الثالث:

ثانياً : أ) ما أهمية الحواجز الرملية بالنسبة للوحدات الخصبة في سهل الباطنة.

ب - من خلال المعلم الأثري العماني الذي أمامك أجب عن الآتي:



1- أكتب واحدة من طرق التجوية الكيميائية

التي تؤثر على هذا المعلم؟.....

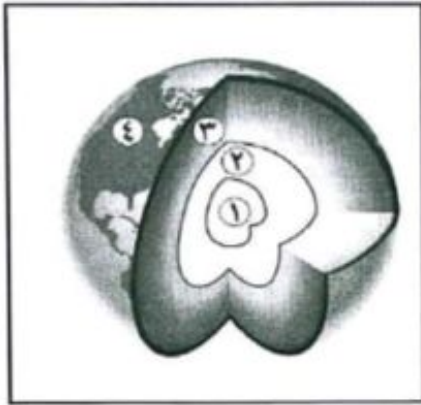
2- اقترح حلاً واحداً للمحافظة عليه.

ثالثاً : أ) أذكر مثالين لكل من :

1- أنواع الزلازل .

2- الأشكال الناتجة عن الإنكسارات.

ب) أنظر إلى الشكل الذي أمامك ، ثم أجب عن الأسئلة التالية :



1- ما الرقم الذي يشير إلى أعلى طبقات الأرض حرارة ؟

.....

2- أكتب أسماء الطبقات المشار إليها بالرقمين .

..... (2)

..... (4)

يتبع/7

١٢

(7)

تابع / امتحان الصف العاشر في مادة الدراسات الاجتماعية
للعام الدراسي 1442 / 1443 هـ - 2021 / 2022 م
الدور الأول - الفصل الدراسي الأول

الدور الأول - الفصل الدراسي الأول

تابع / السؤال الثاني :

ب- أكتب مقابل كل عبارة من العبارات الواردة في الجدول الآتي المفهوم الدال عليها:

م	العبارة	المفهوم
1	طيات أو ثنيات تصيب سطح الأرض نتيجة الضغط الناتج عن الحركات الأفقية للصفائح الأرضية .	
2	حطام صخري يتراكم أسفل المنحدرات الجبلية نتيجة النقل بفعل الجاذبية الأرضية .	

١٢

Afedne.com

السؤال الثالث :

أولا : أدرس خريطة العالم ثم أجب عن الأسئلة التي تليها :



- 1- سمى الخانق الموجود في الدولة المشار إليها بالرقم (4)
- 2- استخرجي من الخريطة الأرقام التي تشير إلى كل من :
1) الدولة التي يوجد بها أكبر تجمع لتربية اللوس . (.....)
2) المنطقة التي كانت مقرا لخلافة علي بن أبي طالب . (.....)
- 3- حددي على الخريطة موقع صحراء بتجونيا بالرمز ●

يتبع/6

(6)

تابع / امتحان الصف العاشر في مادة الدراسات الاجتماعية
للعام الدراسي 1442 / 1443 هـ - 2021 / 2022 م
الدور الأول - الفصل الدراسي الأول

الدور الأول - الفصل الدراسي الأول

السؤال الثاني:

أولاً: أجب عن الأسئلة الآتية:

أ- أكمل الجدول الذي أمامك مستخدماً الأسهم في رسم اتجاه الصفائح الأرضية حسب الظاهرة الناتجة

المظهر الناتج	حركة الصفائح
الأخدود الأفريقي العظيم	
جبال الهملايا	
الزلازل و البراكين	

ب- دلل على صحة نظرية زحزحة القارات. (يكتفي بدليل واحد)

.....

ثانياً: - (أ) علل ما يلي:

1- حدوث هزات أرضية في بعض مناطق سلطنة عمان.

.....

2- زيادة نشاط التعرية الريحية في المناطق الصحراوية .

.....

(ب) ما النتيجة المترتبة على ما يأتي:

1- اصطدام الصفيحة الهندية بصفيحة أوراسيا .

.....

2- معركة صفين .

.....

ثالثاً: أ- قارن بين الموجات الباطنية والموجات السطحية للزلازل من خلال الجدول الآتي :

الموجات الزلزالية	السرعة	درجة الخطورة
الباطنية
السطحية

يتبع/5

(5)

تابع / امتحان الصف العاشر في مادة الدراسات الاجتماعية
للعام الدراسي 1442 / 1443 هـ - 2021 / 2022 م

تابع / السؤال الأول:

10- الشكل الصحيح الذي يمثل الأحداث التاريخية التي وقعت في عهد الخليفة عثمان بن عفان :

(د) - تبليغ الرسالة الجديدة لحكام الفرس والروم. - انتصار المسلمون في معركة اليرموك.	(ج) - انتصار المسلمون في معركة القادسية. - ظهور المدارس الفقهية.	(ب) - بداية حروب الردة. - ضم جزر البحر المتوسط.	(أ) - بناء أسطول حربي. - بداية أحداث الفتنة.
--	---	--	---

11- الرقم الذي يشير إلى الدولة التي يوجد بها بركان أساما في الخريطة المقابلة :



- 1- 1
- 2- 2
- ج- 3
- د- 4

12- عملية تحدث نتيجة تفاعل غاز الأكسجين مع المعادن المكونة للصخور في ظل وجود الماء :

- أ- الأكسدة ب- الكربنة ج- التميؤ د- الهدرجة



يتبع/4

Afedne.com

(4)

تابع / امتحان الصف العاشر في مادة الدراسات الاجتماعية
للعام الدراسي 1442 / 1443 هـ - 2021 / 2022 م

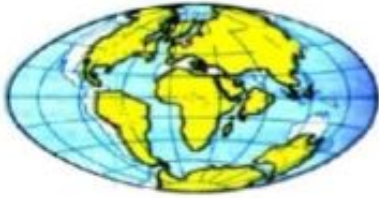
(3)
تابع / امتحان الصف العاشر في مادة الدراسات الاجتماعية
للعام الدراسي 1442 / 1443 هـ - 2021 / 2022 م
الدور الأول - الفصل الدراسي الأول

(2)

تابع / امتحان الصف العاشر في مادة الدراسات الاجتماعية
للعام الدراسي 1442 / 1443 هـ - 2021 / 2022 م
الدور الأول - الفصل الدراسي الأول

تابع / السؤال الأول:

5- الترتيب الصحيح للأشكال الآتية حسب نظرية زحزحة القارات:



٣



٢



١

٣ ← ١ ← ٢-ب
١ ← ٣ ← ٢-د

٢ ← ٣ ← ١-أ
٢ ← ١ ← ٣-د

6- الوصف الصحيح لخصائص النهر في مرحلة الشباب:

ب- يقل طول روافد النهر ويتسع

أ- يزيد طول روافد النهر ويتسع المجرى

المجرى

د- يقل طول روافد النهر ويضيق

ج- يزيد طول روافد النهر ويضيق المجرى

المجرى

7- المعركة التي انتصر فيها المسلمون على الفرس:

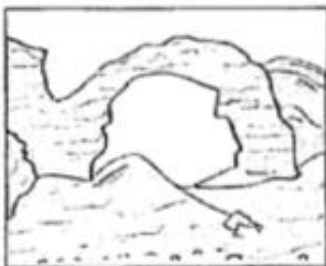
د- اليرموك

ج- صفين

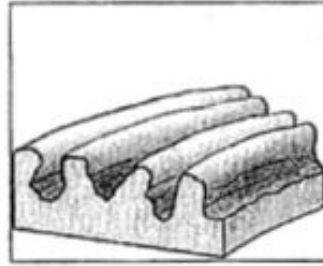
ب - النهروان

أ - القادسية


8- الصورة التي توضح الشكل الناتج عن الإرساب الريحي:



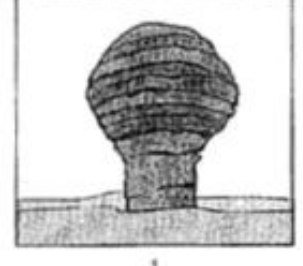
د



ج



ب



أ

9- القرن الذي ظهرت فيه نظرية الانفجار العظيم:

د- الواحد و

ج- العشرين

ب - التاسع عشر

أ - الثامن عشر

العشرين

(1)
امتحان الصف العاشر في مادة الدراسات الاجتماعية
للعام الدراسي 1442 / 1443 هـ - 2021 / 2022 م
الدور الأول - الفصل الدراسي الأول

أجب عن جميع الأسئلة الآتية

السؤال الأول: ضع دائرة حول رمز الإجابة الصحيحة لكل مفردة من المفردات الآتية:
1- الشكل الذي يوضح الآثار المتوقعة للزلازل الذي ضرب ولاية شناس عام 2011م، وكانت قوته (3.4) على مقياس ريختر:



د



ج

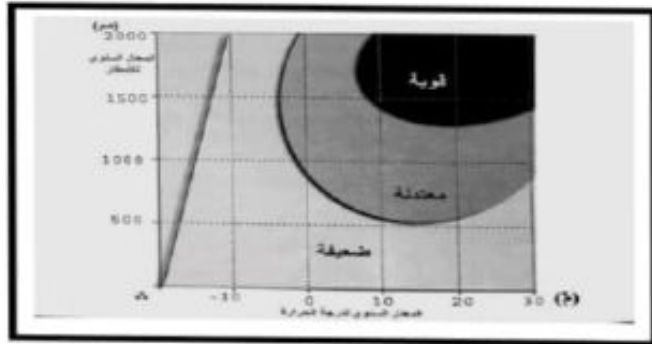


ب



أ

2- من خلال الجدول والشكل الآتين، فإن الرقم الذي يمثل العلاقة الصحيحة بين التجوية الكيميائية وعاملي الحرارة والأمطار:



د- 4

ج- 3


ب- 2

أ- 1

الرقم	الحرارة	الأمطار	التجوية الكيميائية
1	منخفضة	مرتفعة	مرتفعة
2	مرتفعة	مرتفعة	منخفضة
3	مرتفعة	منخفضة	مرتفعة
4	مرتفعة	مرتفعة	مرتفعة

3- جميع ما يأتي من الأشكال الناتجة عن الإرساب البحري ماعدا:
أ- الحواجز الرملية. ب- الخلجان. ج- اللسان البحري. د- البلاج

4- الشكل الذي يوضح الاتجاه الصحيح لحركة الرياح القطبية في نصف الكرة الجنوبي:




د



ج



ب



أ



مِنَاظِمَةُ عُومَانِ
وَزَارَةُ التَّرْبِيَةِ وَالتَّعْلِيمِ

امتحـان الصـف العاشر
للفصل الدراسي الأول - الدور الأول
للعام الدراسي 1442 / 1443 هـ - 2021 / 2022 م

- المادة: الدراسات الاجتماعية.
- زمن الإجابة: ساعتان.
- عدد صفحات أسئلة الامتحان: (9) صفحات.
- الإجابة في الورقة نفسها.

اسم الطالب	
الصف	المدرسة

التوقيع بالاسم		الدرجة		السؤال
المصحح الثاني	المصحح الأول	بالحروف	بالأرقام	
				1
				2
				3
				4
				5
مراجعة الجمع	جمعه			المجموع
				ع الكلي