

شكراً لتحميلك هذا الملف من موقع المناهج العمانية



## تجميع اختبارات قصيرة

موقع المناهج ← المناهج العمانية ← الصف العاشر ← مهارات حياتية ← الفصل الثاني ← الملف

## التواصل الاجتماعي بحسب الصف العاشر

### روابط مواد الصف العاشر على تلغرام

[الرياضيات](#)

[اللغة الانجليزية](#)

[اللغة العربية](#)

[التربية الاسلامية](#)

## المزيد من الملفات بحسب الصف العاشر والمادة مهارات حياتية في الفصل الثاني


<a href="#">تجميع اختبارات قصيرة</a>	1
<a href="#">نشاط ثاني دراسة الحدوى السوقية</a>	2
<a href="#">نشاط ثالث درس دراسة الحدوى الفنية</a>	3
<a href="#">مقرر الدروس المحذوفة والمطلوبة حسب وثيقة المحتوى التدريسي في ظل جائحة الكورونا</a>	4
<a href="#">اختبار قصير نموذج 7</a>	5

تجميع اختبارات

مهارات

للصف العاشر

تجميع / أبو الياس الوضاحي



## اختبار قصير في مادة المهارات الحياتية للصف العاشر الأساسي

السؤال الأول: اختر رمز الإجابة الصحيحة من بين البدائل المعطاة فيما يأتي : (درجة واحدة)

١- مخلفات الطريق من أسباب الحوادث التي تدرج تحت

أ- قائد المركبة      ب- المركبة      ج- الطريق

السؤال الثاني: أجب عما يأتي: ( ٤ درجات )

١- عدد مستويات الخلاف واضرب مثالا على كل مستوى؟

الامثلة	مستويات الخلاف
.....	.....
.....	.....
.....	.....
.....	.....
.....	.....

٢- عدد خطوات التوسط لحل الخلاف بمواجهة الطرفين معا؟ (درجتان)

.....

.....

( ٣ درجات )

السؤال الثالث: أجب عما يأتي

١- قارن بين السبلة العمانية والبرزة العمانية من حيث:

وجه المقارنة	الأشخاص	الموضوع	المكان
السبلة العمانية			
والبرزة العمانية			

( انتهت الأسئلة )

اختبار قصير في مادة المهارات الحياتية للصف العاشر الأساسي

السؤال الأول: اختر رمز الإجابة الصحيحة من بين البدائل المعطاة فيما يأتي: (٤ درجات)

١- الانتماء للعمل يؤدي إلى:

أ- ضعف إرادة الفرد.

ب- عشوائية في العمل.

ج- يحقق السعادة للفرد.

٢- عندما يلتحق الفرد بالعمل للمرة الأولى فإنه يشعر ب:

أ- القلق.

ب- الحزن.

ج- الغضب.

٣- من مظاهر الانتماء للعمل :

أ- إرجاع أسباب نجاح جهة العمل إلى الفرد.

ب- اعتبار الشخص نفسه ممثلاً لجهة العمل.

ج- لوم جهة العمل في حال النتائج السلبية.

٤- محاولة الفرد إحداث نوع من الانسجام بينه وبين بيئته يسمى:

أ- انتماء.

ب- استقرار.

ج- تكيف.

السؤال الثاني: أجب عما يأتي

١- أذكر اثنين من النتائج السلبية لعدم الاستقرار في العمل؟  
أ- .....

ب- .....

٢- يتضمن عقد العمل ناحيتين هما: الناحية القانونية والناحية الأخلاقية.  
وضح ذلك؟

.....

٣- علل: يلجأ بعض الأفراد إلى تغيير أعمالهم باستمرار؟  
.....

( انتهت الأسئلة )

### اختبار قصير في مادة المهارات الحياتية للصف العاشر الأساسي

( ٤ درجات )

**السؤال الأول:** اختر رمز الإجابة الصحيحة من بين البدائل المعطاة فيما يأتي:

١- من أسباب الحوادث المرورية "السرعة الزائدة":

أ- المركبة      ب- قائد المركبة      ج- الطريق      د- الطقس

٢- اللون الأحمر في اشارات الضونية يمثل:

أ- استعداد      ب- انطلق      ج- قف      د- جميع ما ذكر

٣- جميع ما يلي من مسببات الحوادث المرورية التي تعود للطقس ماعدا:





أ- الأمطار      ب- الضباب      ج- الرياح الرملية      د- نظافة الزجاج

٤- من أشكال إشارات المرور:

أ- لوحات معدنية      ب- دهانات      ج- أزرار      د- جميع ما ذكر

( درجتان )

**السؤال الثاني:** أكمل الجدول التالي :

				
.....	.....	.....	.....	مدلول الإشارة

( ٤ درجات )

**السؤال الثالث:** علل

١- يمنع التجاوز والسرعة الزائدة بالقرب من الأحياء السكنية.

.....

٢- يجب على كل مستخدم للطرق أن يدرك أهمية الاستجابة بصورة صحيحة لإشارات الطريق.

.....

( انتهت الأسئلة )

اختبار قصير في مادة المهارات الحياتية للصف العاشر الأساسي

١٠

السؤال الأول: أجب عن الأسئلة التالية

٥

(١) أذكر مثالين للقوانين؟





..... (أ)  
..... (ب)

(٢) عدد مجموعات إشارات المرور؟

أ- ..... ب- ..... ج- .....  
د- ..... هـ- ..... و- .....

٢

السؤال الثاني: أكمل الجدول التالي :

				مدلول الإشارة
.....	.....	.....	.....	

السؤال الثالث: أجب عما يأتي

٣

١- يوجد عدة أساليب للتعامل مع الخلاف. أذكر ثلاثة منها

..... (أ)  
..... (ب)  
..... (ج)

( انتهت الأسئلة )



## اختبار قصير في مادة المهارات الحياتية للصف العاشر الأساسي

١٠

٢

السؤال الأول : أكمل العبارات الآتية بما يناسبها:

- (١) من إستراتيجيات المعالجة الإبداعية .....
- (٢) أن يحسب الفرد العامل نفسه جزءا من جهة العمل التي يعمل فيها ، يطلق عليه .....
- (٣) الجهة المشرفة والمسئولة عن تفعيل العملية الانتخابية لمجلس الشورى هي .....
- (٤) لا بد أن تتميز الأفكار الإبداعية بأكبر قدر من .....

السؤال الثاني :

أولا : عرف كلا مما يلي :

(١) ضغط العمل :

.....  
.....

(٢) التفكير الإبداعي :

.....  
.....

ثانيا :

(١) "لاحظت أن أحد الشباب من أقربائك يكثر من تغيير عمله حيث لا يستقر في موقع معين " بماذا تنصحه ؟

.....  
.....

(٢) كيف يمكن للعامل بناء علاقات إيجابية في محيط العمل ؟

(١) .....

(٢) .....

(٣) أكمل الجدول التالي :

الشروط الواجب توفرها في المرشح	الشروط الواجب توفرها في الناخب
(١)	(١)
(٢)	(٢)
(٣)	(٣)

( انتهت الأسئلة )

٤

اختبار قصير في مادة المهارات الحياتية للصف العاشر الأساسي

١٠

السؤال الأول : ضع علامة صح أو خطأ في المكان المخصص لكل جملة من الجمل التالية: (٦ درجات)

- أ- ( ) أول مرحلة من مراحل العملية الانتخابية هي الترشيح .
- ب- ( ) التزكية مصطلح يستخدم في العملية الانتخابية إذا ترشح لرئاسة المجلس أكثر من شخص .
- ج- ( ) الجمعية العمومية مصطلح يطلق على الأشخاص الذين انضموا للمؤسسة والذين أكملوا ثلاثة أشهر منذ انضمامهم للمؤسسة
- د- ( ) أول مرحلة من مراحل العملية الانتخابية هي الترشيح .
- هـ- ( ) التزكية مصطلح يستخدم في العملية الانتخابية إذا ترشح لرئاسة المجلس أكثر من شخص .
- و- ( ) الجمعية العمومية مصطلح يطلق على الأشخاص الذين انضموا للمؤسسة الاجتماعية والذين أكملوا ثلاثة أشهر منذ انضمامهم للمؤسسة .

السؤال الثاني: أجب عما يلي :- ( ٤ درجات)

أ- علل : يجب استبعاد جوانب العاطفة والقربى والصدقة عند إجراء العملية الانتخابية .

.....

.....

ب- ماذا يقصد بالافتراء .

.....

.....

( انتهت الأسئلة )

اختبار القصير الأول للفصل الدراسي الثاني للصف العاشر الأساسي

السؤال الأول: اختر رمز الإجابة الصحيحة من بين البدائل المعطاة فيما يأتي: ( ٤ درجات )

١- من أسباب الحوادث المرورية "السرعة الزائدة":

أ- المركبة      ب- قائد المركبة      ج- الطريق      د- الطقس

٢- اللون الأحمر في اشارات الضونية يمثل:

أ- استعد      ب- انطلق      ج- قف      د- جميع ما ذكر

٣- جميع ما يلي من مسببات الحوادث المرورية التي تعود للطقس ماعدا:

أ- الأمطار      ب- الضباب      ج- الرياح الرملية      د- نظافة الزجاج

٤- من أشكال إشارات المرور:

أ- لوحات معدنية      ب- دهانات      ج- ازرار      د- جميع ما ذكر

السؤال الثالث: علل لما يأتي ( درجتان )

١- يمنع التجاوز والسرعة الزائدة بالقرب من الأحياء السكنية.

٢- يجب على كل مستخدم للطرق أن يدرك أهمية الاستجابة بصورة صحيحة لإشارات الطريق.

السؤال الثالث: أجب عما يأتي ( ٤ درجات )

١- "حمد يقود سيارته بسرعة جنونية وكان يتحدث في الهاتف ولم ينتبه للإشارات الضونية فوق حادث كاد يتسبب في موته". استخلص من الموقف السابق مسببات الحادث.

٢- "تعرض مازن لحادث مروري ونكرت الشرطة أن سبب الحادث يرجع لصاحب المركبة" باعتقادك ماهي الاحتمالات التي قد تكون أدت للحادث؟؟؟

انتهت الأسئلة