

شكراً لتحميلك هذا الملف من موقع المناهج العمانية



أسئلة اختبارات قصيرة ونهاية للوحدة السادسة مع الإجابة

[موقع المناهج](#) ⇨ [المناهج العمانية](#) ⇨ [الصف العاشر](#) ⇨ [اجتماعيات](#) ⇨ [الفصل الثاني](#) ⇨ [الملف](#)

تاريخ نشر الملف على موقع المناهج: 2023-04-23 18:08:36 | اسم المدرس: علي بن محمد الحسان

التواصل الاجتماعي بحسب الصف العاشر



روابط مواد الصف العاشر على تلغرام

[الرياضيات](#)

[اللغة الانجليزية](#)


[اللغة العربية](#)

[التربية الاسلامية](#)

المزيد من الملفات بحسب الصف العاشر والمادة اجتماعيات في الفصل الثاني

سؤال قصير أول واختبار قصير ثاني	1
نموذج إجابة الامتحان النهائي الرسمي لجميع المحافظات	2
الامتحان الرسمي النهائي لجميع المحافظات	3
مذكرة دفترية سر تميزي مع أسئلة اختبارية بدون الدروس المحذوفة	4
امتحان تحريبي نهائي مع نموذج الإجابة	5

الدراسات
الاجتماعية



الصف
العاشر

سؤال
و
جواب

مذكرة اثرائية
٢٠٢٣/٢٠٢٢

الفصل الدراسي الثاني
الوحدة السادسة


دروس الوحدة السادسة

الولايات المتحدة الامريكية

التكتلات الاقتصادية في العالم

علي بن محمد الحسان

99493923



الدراسات الاجتماعية

الصف العاشر

٢٠٢٣ / ٢٠٢٢

أسئلة واجوبة

الفصل الدراسي الثاني

الوحدة السادسة

درس : الولايات المتحدة الامريكية

علي بن محمد الحسان

99493923

درس : الولايات المتحدة الأمريكية**السؤال الأول : ضع علامة (✓) أو (X) أمام العبارة المناسبة مع تصحيح ما تحته خط إذا كانت العبارة خطأ .**

- ١- (✓) كانت القارة الأمريكية حتى عام ١٤٩٢م أرضا مجهولة لم يتم اكتشافها بعد .
- ٢- (X) تجري الولايات المتحدة إحصاء عام للسكان كل خمس سنوات . عشر .
- ٣- (✓) تمتلك الولايات المتحدة مساحة شاسعة من الأراضي الزراعية تقدر بحوالي ١٨٪ .
- ٤- (✓) يواجه قطاع النسيج في الولايات المتحدة أكبر تحد له من المنتجات الصينية رخيصة الاسعار .
- ٥- (X) تأتي الولايات المتحدة في المرتبة الرابعة في إنتاج السيارات عام ٢٠١١ . الثانية

السؤال الثاني : ظلل الإجابة الصحيحة من بين البدائل المعطاه .

- ١- الملاح البرتغالي الذي اكتشف قارة أمريكا وسميت باسمه هو ...
- امريكو فسبوتشي ○ امريكو كولمبس ○ امريكو كريستوفر
- ٢- الصراع السياسي بين الولايات المتحدة والاتحاد السوفيتي سابقا بعد الحرب العالمية الثانية اطلق عليه ...
- الحرب الساخنة ○ الحرب الرمادية ● الحرب الباردة
- ٣- تعرض العالم الصناعي لأزمة اقتصادية كبرى أدت الى كساد الانتاج وقد اطلق عليها اسم ...
- الكساد العظيم ● الكساد الكبير ○ الكساد الخطير
- ٤- تعتبر المناطق السهلية ... في الولايات المتحدة من اهم المناطق الزراعية والأكثر خصوبة على مستوى العالم .
- وسط أمريكا ○ شرق امريكا ○ غرب أمريكا
- ٥- تعد مدينة ... عاصمة صناعة السيارات في العالم وهي تقع في منطقة البحيرات الكبرى .
- سان فرانسيسكو ● ديترويت ○ واشنطن

السؤال الثالث : ضع دائرة حول الإجابة الصحيحة فيما يلي :

- ١- اول رئيس للولايات المتحدة كان (جورج واشنطن - جورج مايكل) .
- ٢- كانت الولايات المتحدة في الأصل مستعمرة (إيطالية - انجليزية) .
- ٣- تضم الولايات المتحدة (٥٠ - ٥٥) ولاية ومقاطعة .
- ٤- تعد (الصناعة - التجارة) القطاع الثاني من النشاط الاقتصادي في الولايات المتحدة .
- ٥- تصنف أمريكا من قارات العالم (القديم - الجديد) حيث اكتشفت في نهاية القرن ١٥ م .

السؤال الرابع : أكمل العبارات التالية بكلمات مناسبة من عندك .

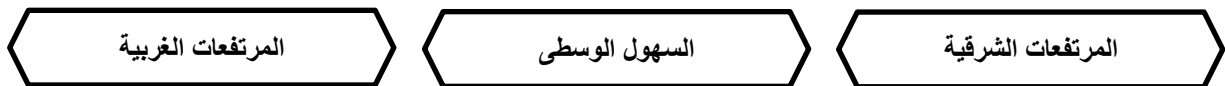
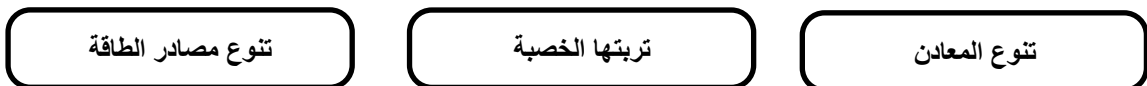
- ١- استطاع الملاح الإيطالي كولومبس من اكتشاف الأرض الجديدة حيث اطلق عليها اسم جزر الهند الغربية .
- ٢- استقلت الولايات المتحدة عن الانجليز عام ١٧٧٦ بقيادة جورج واشنطن الذي اصبح اول رئيس لأمريكا .
- ٣- تأتي الولايات المتحدة في المرتبة الثالثة في عدد السكان بعد الصين والهند .
- ٤- مجموع الأجور والارباح والايجارات والفوائد التي تدفعها مؤسسة معينة لإنجاز عمل ما يقصد بها القيمة المضافة .
- ٥- تتركز معظم معامل انتاج النسيج في الولايات المتحدة في كارولينا الجنوبية و جورجيا .

السؤال الخامس : علل " أذكر السبب "

- ١- يتميز المجتمع الأمريكي بأنه الأكثر تنوعا من حيث السكان .
يعود ذلك الى موجات المهاجرين التي كانت تفد على البلاد بشكل متواصل ومتزايد .
- ٢- تسميه الحرب الباردة بهذا الاسم .
لأنه لم يستخدم فيها أي سلاح حربي .
- ٣- يعد التعدين ركيزة الصناعات الأمريكية .
بسبب توفر الموارد المعدنية المتنوعة .
- ٤- اصدر الرئيس الأمريكي عام ٢٠٠٣ قرار بوضع قيود على صادرات الصين للمنسوجات .
بسبب رخص أسعار المنسوجات الصينية مما اثرت سلبا على المنسوجات الأمريكية .

السؤال السادس : أكمل العبارة التالية :

تقع الولايات المتحدة في قارة أمريكا الشمالية وتضم ٥٠ ولاية ومقاطعة ويقسم سطح الأرض الى ثلاثة اقسام رئيسية مما يؤدي الى تنوع المناخ بشكل كبير من مكان الى آخر، وتشمل على ستة أقاليم مناخية .

السؤال السابع : " يقسم سطح الأرض في الولايات المتحدة الى ثلاثة اقسام رئيسية " اكتب اسماءها في الشكل التالي .**السؤال الثامن : اكمل الشكل بكتابة اهم ثلاث موارد طبيعية تتميز بها أراضي الولايات المتحدة .**

السؤال التاسع : اكمل الشكل بكتابة القطاعات الثلاث التي يركز عليها الاقتصاد الأمريكي**السؤال العاشر : أجب عن الأسئلة التالية**

س ١ : " يرجع التميز في النمو السريع للاقتصاد الأمريكي الى عدة عوامل ومقومات " اذكر ثلاث منها ؟

- ج ١ : ١- الموارد الطبيعية التي تتميز بها أراضي الولايات المتحدة (معادن - ترة خصبة - مصادر طاقة) .
 ٢- وفرة الايدي العاملة .
 ٣- كفاءة قوة العمل ومدى استعدادها للعمل (التعليم التقني - التعليم المهني) .
 ٤- الاستثمارات والمشاريع الكبرى (داخلية وخارجية) .
 ٥- القيادات الإدارية التي تضمن سير العمل بسلاسة وفعالية .

س ٢ : " تتعرض الزراعة في الولايات المتحدة الامريكية الى عدة مشكلات " اذكر ثلاث من هذه المشكلات ؟


- ج ٢ : - المناخ وتقلباته المفاجئة (عواصف - اعاصير - جليد - ثلوج) .
 - ضعف السوق مما يؤدي الى تكديس السلع والبضائع .
 - التلوث وما يترتب عليه من مشاكل على المياه والتربة .
 - رأس المال حيث تتطلب الزراعة رؤوس أموال كبيرة .

س ٣ : " يعود نجاح الصناعة الامريكية الى توفر عدة أسباب ساعدت على ذلك " اذكر ثلاث منها ؟

- ج ٣ : - توافر المواد الاولية .
 - القدرة على التجديد في نوعية الإنتاج .
 - تنوع المنتجات .
 - توافر الايدي العاملة الماهرة .
 - التصدير الهائل في الحقل التكنولوجي .

س ٤ : " وقعت السلطنة اتفاقية التجارة الحرة مع الولايات المتحدة عام ٢٠٠٦م " أذكر اهم ثلاث بنود تضمنتها الاتفاقية ؟

- ج ٤ : ١- اعفاء المنتجات الاستهلاكية والصناعية وغالبية المنتجات الزراعية من الرسوم الجمركية بنسبة ١٠٠٪ .
 ٢- فتح الأسواق لكافة أنواع الخدمات وتوفير اطار قانوني وآمن للمستثمرين .
 ٣- تعزيز مجالات العمل والعمال والبيئة والملكية الفكرية .



الدراسات الاجتماعية

الصف العاشر

٢٠٢٣ / ٢٠٢٢

أسئلة

الفصل الدراسي الثاني

الوحدة السادسة

درس : الولايات المتحدة الامريكية

علي بن محمد الحسان

99493923

درس : الولايات المتحدة الأمريكية**السؤال الأول : ضع علامة (✓) أو (X) أمام العبارة المناسبة مع تصحيح ما تحته خط إذا كانت العبارة خطأ .**

- ١- () كانت القارة الأمريكية حتى عام ١٤٩٢م ارضا مجهولة لم يتم اكتشافها بعد .
- ٢- () تجري الولايات المتحدة إحصاء عام للسكان كل خمس سنوات .
- ٣- () تمتلك الولايات المتحدة مساحة شاسعة من الأراضي الزراعية تقدر بحوالي ١٨٪ .
- ٤- () يواجه قطاع النسيج في الولايات المتحدة أكبر تحد له من المنتجات الصينية رخيصة الاسعار .
- ٥- () تأتي الولايات المتحدة في المرتبة الرابعة في انتاج السيارات عام ٢٠١١ .

السؤال الثاني : ظلل الإجابة الصحيحة من بين البدائل المعطاه .

- ١- الملاح البرتغالي الذي اكتشف قارة أمريكا وسميت باسمه هو ...
 امريكو فسبوتشي امريكو كولمبس امريكو كريستوفر
- ٢- الصراع السياسي بين الولايات المتحدة والاتحاد السوفيتي سابقا بعد الحرب العالمية الثانية اطلق عليه ...
 الحرب الساخنة الحرب الرمادية الحرب الباردة
- ٣- تعرض العالم الصناعي لأزمة اقتصادية كبرى أدت الى كساد الانتاج وقد اطلق عليها اسم
 الكساد العظيم الكساد الكبير الكساد الخطير
- ٤- تعتبر المناطق السهلية ... في الولايات المتحدة من اهم المناطق الزراعية والأكثر خصوبة على مستوى العالم .
 وسط أمريكا شرق أمريكا غرب أمريكا
- ٥- تعد مدينة ... عاصمة صناعة السيارات في العالم وهي تقع في منطقة البحيرات الكبرى .
 سان فرانسيسكو ديترويت واشنطن

السؤال الثالث : ضع دائرة حول الإجابة الصحيحة فيما يلي :

- ١- اول رئيس للولايات المتحدة كان (جورج واشنطن - جورج مايكل) .
- ٢- كانت الولايات المتحدة في الأصل مستعمرة (ايطالية - انجليزية) .
- ٣- تضم الولايات المتحدة (٥٠ - ٥٥) ولاية ومقاطعة .
- ٤- تعد (الصناعة - التجارة) القطاع الثاني من النشاط الاقتصادي في الولايات المتحدة .
- ٥- تصنف أمريكا من قارات العالم (القديم - الجديد) حيث اكتشفت في نهاية القرن ١٥ م .

السؤال الرابع : أكمل العبارات التالية بكلمات مناسبة من عندك .

- ١- استطاع الملاح الإيطالي كولومبس من اكتشاف الأرض الجديدة حيث اطلق عليها اسم جزر
- ٢- استقلت الولايات المتحدة عن الانجليز عام ١٧٧٦ بقيادةالذي اصبح اول رئيس لأمريكا .
- ٣- تأتي الولايات المتحدة في المرتبة في عدد السكان بعد الصين والهند .
- ٤- مجموع الأجور والارباح والايجارات والفوائد التي تدفعها مؤسسة معينة لإنجاز عمل ما يقصد بها القيمة
- ٥- تتركز معظم معامل انتاج النسيج في الولايات المتحدة في كارولينا الجنوبية و.....

السؤال الخامس : علل " أذكر السبب "

- ١- يتميز المجتمع الأمريكي بأنه الأكثر تنوعا من حيث السكان .

.....

- ٢- تسميه الحرب الباردة بهذا الاسم .

.....

- ٣- يعد التعدين ركيزة الصناعات الامريكية .

.....

- ٤- اصدر الرئيس الأمريكي عام ٢٠٠٣ قرار بوضع قيود على صادرات الصين للمنسوجات .

.....

السؤال السادس : أكمل العبارة التالية :

تقع الولايات المتحدة في قارةوتضم ولاية ومقاطعة ويقسم سطح الأرض الىاقسام رئيسية مما يؤدي الىبشكل كبير من مكان الى آخر، وتشمل علىأقاليم مناخية .

السؤال السابع : " يقسم سطح الأرض في الولايات المتحدة الى ثلاث اقسام رئيسية " اكتب اسماءها في الشكل التالي .

السؤال الثامن : اكمل الشكل بكتابة اهم ثلاث موارد طبيعية تتميز بها أراضي الولايات المتحدة .

--	--	--

السؤال التاسع : اكمل الشكل بكتابة القطاعات الثلاث التي يركز عليها الاقتصاد الأمريكي

--	--	--

السؤال العاشر : أجب عن الأسئلة التالية

س ١ : " يرجع التميز في النمو السريع للاقتصاد الأمريكي الى عدة عوامل ومقومات " اذكر ثلاث منها ؟

- ج ١ : ١ -
- ٢ -
- ٣ -

س ٢ : " تتعرض الزراعة في الولايات المتحدة الامريكية الى عدة مشكلات " اذكر ثلاث من هذه المشكلات ؟


- ج ٢ : ٢ -
- ٣ -
- ٤ -

س ٣ : " يعود نجاح الصناعة الامريكية الى توفر عدة أسباب ساعدت على ذلك " اذكر ثلاث منها ؟

- ج ٣ : ٣ -
- ٤ -
- ٥ -

س ٤ : " وقعت السلطنة اتفاقية التجارة الحرة مع الولايات المتحدة عام ٢٠٠٦م " اذكر اهم ثلاث بنود تضمنتها الاتفاقية ؟

- ج ٤ : ٤ -
- ٥ -
- ٦ -



الدراسات الاجتماعية

الصف العاشر

٢٠٢٣ / ٢٠٢٢

أسئلة واجوبة

الفصل الدراسي الثاني

الوحدة السادسة

درس : التكتلات الاقتصادية في العالم " الاتحاد الأوروبي - الاسيان "

علي بن محمد الحسان

99493923

درس: التكتلات الاقتصادية في العالم (الاتحاد الأوروبي – الآسيان)

السؤال الأول : ضع علامة (✓) أو (X) أمام العبارة المناسبة مع تصحيح ما تحته خط إذا كانت العبارة خطأ .

- ١- (✓) تعبر التكتلات الاقتصادية عن التضامن والتكامل بين الدول الاعضاء .
- ٢- (X) تحتل السوق الاوربية المشتركة المركز الثاني عالميا من حيث القوة التجارية . الاول
- ٣- (✓) رابطة الدول المطلة على المحيط الهندي تضم سبع دول منها سلطنة عمان .
- ٤- (✓) تعد السوق الاوربية المشتركة من اهم مؤسسات الاتحاد الأوروبي واقوى الأسواق التجارية في العالم .
- ٥- (X) تعتبر دولة الفاتيكان اصغر دول العام وهي تقع في قارة آسيا . اوروبا

السؤال الثاني : أكمل العبارات التالية بكلمات مناسبة من عندك .

- ١- قامت بعض الدول المجاورة بعمل تجمعات للنهوض بالناحية الاقتصادية بعد الحرب العالمية الثانية اطلق عليها مصطلح التكتلات الاقتصادية.
- ٢- نشأ الاتحاد الأوروبي بموجب معاهدة وقعت في روما في ٥ مارس عام ١٩٥٧ من قبل ست دول اوربية .
- ٣- من اهم مؤسسات الاتحاد الأوروبي واقوى الأسواق التجارية في العالم هو السوق الاوربية المشتركة .
- ٤- ظهرت مجموعة تضم اكبر الدول النامية ذات الأغلبية السكانية المسلمة تحت مسمى مجموعة الدول الثماني النامية .
- ٥- نبعت فكرة الاتحاد الأوروبي من فكر اقتصادي بالدرجة الاولى يهدف الى التكامل بين دولة .

السؤال الثالث : ظلل الإجابة الصحيحة من بين البدائل المعطاه .

١- ظهرت العديد من التجارب الاقتصادية بعد ما أفرزته الحرب العالمية ... من خسائر بشرية ومادية

- الاولى الثانية الثالثة

٢- أقيم الاتحاد الاوربي بموجب معاهدة ... عام ١٩٩٢

- ماسترخت ماسترخت كاسترخت

٣- ظهرت السوق الاوربية المشتركة عام ١٩٥٨ مكونة من ... دول

- ٤ ٦ ٨

٤- استطاعت أعضاء دول السوق الاوربية المشتركة من توحيد عملة موحدة بينهم اسمها ...

- الدولار الين اليورو

٥- تأسست مجموعة الدول الثماني النامية والتي تضم اكبر الدول النامية ذات الأغلبية السكانية في ...

- تركيا مصر اندونيسيا

السؤال الرابع : ضع دائرة حول الإجابة الصحيحة من بين البدائل المعطاه :

- ١- تعد التنمية (الاجتماعية - الاقتصادية) دافعا قويا لظهور العديد من التجارب الاقتصادية في مختلف الدول .
- ٢- عدد دول مجلس التعاون الخليجي (ست - سبع) دول
- ٣- علم الاتحاد الأوربي مكون من (١٢ - ١٤) نجمة صفراء موضوعة بشكل دائري على خلفية زرقاء اللون .
- ٤- تعد (رابطة الآسيان - السوق الأوروبية المتحدة) اقوى الأسواق التجارية في العالم .
- ٥- مجموعة من اكبر الدول النامية ذات الأغلبية السكانية المسلمة هي (مجموعة الدول الثماني - مجموعة الدول العشري) .

السؤال الخامس : علل " اذكر السبب " .

- ١- لرابطة الآسيان أهمية كبيرة بين الدول الأعضاء لا سيما على الجانب الاقتصادي والأمني .
بسبب موقعها الاستراتيجي المهم وكبر مساحتها " ٤،٥ مليون كم^٢ وعدد سكانها البالغ ٥٦٠ مليون نسمة .
- ٢- انتكس النمو الاقتصادي لدول الآسيان بحلول عام ١٩٩٧ بالرغم من نموه الهائل في النصف الاول من عقد التسعينات .
بسبب الازمة الآسيوية التي عانت منها المنطقة الذي أدى الى تراجع اقتصادي وسياسي للمنطقة للكل وللرابطة بوجه مخصوص .

السؤال السادس : اكتب تحت الصور التالية ما تدل عليها

			
مجموعة الدول الثماني	دول رابطة الآسيان	عملة اليورو	علم الاتحاد الأوروبي

السؤال السابع : اكمل الشكل بكتابة الست الدول المؤسسة للاتحاد الأوروبي

هولندا	فرنسا	المانيا
إيطاليا	لكسمبورج	بلجيكا

السؤال الثامن : أكمل الشكل التالي بمجال المقارنة فيما يلي :

مجال المقارنة	قارة اوروبا	قارة اسيا
عدد الدول	٤٤ دول	٤٧ دولة
اكبر الدول	روسيا	روسيا
اصغر الدول	الفاتيكان	جزر المالديف
أطول الأنهار	الفولجا	الياتجتسي " الصين "
اعلى المناطق	جبل الروس " روسيا "	قمة جبل افرست

السؤال التاسع : أكمل الشكل التالي بمجال المقارنة فيما يلي :

مجال المقارنة	الاتحاد الاوروبي	الآسيان
سنة قيامها	١٩٥٧	١٩٦٧
عدد الدول المؤسسة	٦ دول	٥ دول
عدد الدول الحالية	٢٨ دولة	١٠ دول

السؤال العاشر : أجب عن الأسئلة التالية

س ١ : " نتيجة لظهور العديد من المشكلات الناتجة عن التخلف الاقتصادي ظهرت تجمعات لدول مجاورة " اذكر اهم هدفين لها ؟

- ج ١ : ١- تنمية التجارة وتحريرها بين الدول الأعضاء .
٢- دفع عجلة النشاط الاقتصادي لتحقيق معدلات النمو المطلوب .

س ٢ : " للتكتلات الاقتصادية أهمية كبرى لأعضائها " اذكر اهمها ؟

- ج ٢ : ١- تحقق التقارب وتوثيق العلاقات بين الشعوب .
٢- إرساء قواعد السلام والاستقرار .
٣- زيادة التخصص الإقليمي في الإنتاج في المجالات المختلفة .

س ٣ : " يسعى الاتحاد الأوروبي الى تحقيق جملة من الأهداف بعضها قصير المدى وبعدها طويل المدى " اذكر ثلاث منها ؟

- ج ٣ : ١- توحيد أوروبا بطريقة سليمة بعد عقود من الانقسام والصراعات .
٢- تحقيق الاستقرار والرخاء للدول الأعضاء لتصبح أوروبا أكثر امانا .
٣- إيجاد سوق موحد يساهم في تعزيز اقتصاد الاتحاد الاوروبي وتوفير فرص العمل .
٤- تحفيز الدول الاوربية الأخرى للقيام بالعديد من الإصلاحات الاقتصادية والاجتماعية للانضمام الى الاتحاد .
٥- جذب الاستثمارات الأجنبية التي ساعدت في تحقيق معدلات نمو سريعة في اقتصاديات الدول المرشحة للانضمام .

س ٤ : "ظهرت السوق الأوروبية المشتركة عام ١٩٥٨ وتم وضع عدة أهداف لضمان نجاحها " اذكر ثلاث من هذه الأهداف ؟

ج ٤ : ١- إزالة الرسوم الجمركية وإيجاد تعرفه جمركية موحدة .

٢- إزالة العقبات التي تحول دون انتقال رؤوس الأموال والأفراد .

٣- وضع سياسة موحدة في ميدان الإنتاج الزراعي والنقل .

٤- سن القوانين التي تمنع الاحتكارات والتي تحدد الاسعار .

٥- وضع سياسة موحدة لتشجيع النمو الاقتصادي .

٦- تشجيع حرية الخدمات مثل البنوك

س ٥ : " كان للأهداف التي وضعت للسوق الأوروبية المشتركة أثر إيجابي على دوله من خلال عدة مؤشرات " اذكر ثلاث منها ؟

ج ٥ : ١- انها تأتي اليوم في المرتبة الأولى عالميا من حيث القوة الاقتصادية .

٢- اتفقت على اعتماد عملة واحدة موحدة اطلق عليها اسم " يورو " .

٣- وضعت لنفسها برامج اقتصادية وعلمية متكاملة .

٤- اصبحت قوة صناعية كبرى في مجال تصنيع الطائرات والسيارات والقطارات .

س ٦ : " لرابطة الآسيان أهداف عدة عند نشأتها " اذكر اهم هذه الأهداف ؟

ج ٦ : ١- تشكيل كتلة اقتصادية قادرة على تدعيم مسيرة التنمية والسلام والاستقرار الاقليمي .

٢- قادرة على المنافسة الاقتصادية ببناء اقتصاد يعتمد على التنوع .

س ٧ : " أصبحت لرابطة الآسيان واحدة من المؤسسات الاقتصادية في آسيا وعلى المستوى العالمي " اذكر اهم هذه النجاحات ؟


ج ٧ : ١- النمو السريع في المنتجات الزراعية .

٢- ارتفاع معدلات نمو الانتاج .

٣- ارتفاع الصادرات المصنعة .

٤- انخفاض معدلات الفقر .

٥- زيادة نسبة الاستثمارات والمدخرات المحلية .



الدراسات الاجتماعية

الصف العاشر

٢٠٢٣ / ٢٠٢٢

أسئلة

الفصل الدراسي الثاني

الوحدة السادسة

درس : التكتلات الاقتصادية في العالم " الاتحاد الأوروبي - الآسيان "

علي بن محمد الحسان

99493923

درس: التكتلات الاقتصادية في العالم (الاتحاد الأوروبي – الآسيان)

السؤال الأول : ضع علامة (✓) أو (X) أمام العبارة المناسبة مع تصحيح ما تحته خط إذا كانت العبارة خطأ .

- ١- () تعبر التكتلات الاقتصادية عن التضامن والتكامل بين الدول الاعضاء .
- ٢- () تحتل السوق الاوربية المشتركة المركز الثاني عالميا من حيث القوة التجارية .
- ٣- () رابطة الدول المطلة على المحيط الهندي تضم سبع دول منها سلطنة عمان .
- ٤- () تعد السوق الاوربية المشتركة من اهم مؤسسات الاتحاد الأوروبي واقوى الأسواق التجارية في العالم .
- ٥- () تعتبر دولة الفاتيكان اصغر دول العام وهي تقع في قارة آسيا .

السؤال الثاني : أكمل العبارات التالية بكلمات مناسبة من عندك .

- ١- قامت بعض الدول المجاورة بعمل تجمعات للنهوض بالناحية الاقتصادية بعد الحرب العالمية الثانية اطلق عليها مصطلح
- ٢- نشأ الاتحاد الأوروبي بموجب معاهدة وقعت في روما في ٥ مارس عام من قبل ست دول اوربية .
- ٣- من اهم مؤسسات الاتحاد الأوروبي واقوى الأسواق التجارية في العالم هو السوق
- ٤- ظهرت مجموعة تضم اكبر الدول النامية ذات الأغلبية السكانية المسلمة تحت مسمى مجموعة الدول النامية .
- ٥- نبعت فكرة الاتحاد الأوروبي من فكر.....بالدرجة الاولى يهدف الى التكامل بين دولة .

السؤال الثالث : ظلل الإجابة الصحيحة من بين البدائل المعطاه .

١- ظهرت العديد من التجارب الاقتصادية بعد ما افرزته الحرب العالمية ... من خسائر بشرية ومادية

- الاولى الثانية الثالثة

٢- أقيم الاتحاد الأوروبي بموجب معاهدة ... عام ١٩٩٢

- ماسترخت ماسترخت كاسترخت

٣- ظهرت السوق الاوربية المشتركة عام ١٩٥٨ مكونة من ... دول

- ٤ ٦ ٨

٤- استطاعت أعضاء دول السوق الاوربية المشتركة من توحيد عملة موحدة بينهم اسمها ...

- الدولار الين اليورو

٥- تأسست مجموعة الدول الثماني النامية والتي تضم اكبر الدول النامية ذات الأغلبية السكانية في ...

- تركيا مصر اندونيسيا

السؤال الرابع : ضع دائرة حول الإجابة الصحيحة من بين البدائل المعطاه :

- ١- تعد التنمية (الاجتماعية - الاقتصادية) دافعا قويا لظهور العديد من التجارب الاقتصادية في مختلف الدول .
- ٢- عدد دول مجلس التعاون الخليجي (ست - سبع) دول
- ٣- علم الاتحاد الأوربي مكون من (١٢ - ١٤) نجمة صفراء موضوعة بشكل دائري على خلفية زرقاء اللون .
- ٤- تعد (رابطة الآسيان - السوق الأوروبية المتحدة) اقوى الأسواق التجارية في العالم .
- ٥- مجموعة من اكبر الدول النامية ذات الأغلبية السكانية المسلمة هي (مجموعة الدول الثماني - مجموعة الدول العشري) .

السؤال الخامس : علل " اذكر السبب " .

- ١- لرابطة الآسيان أهمية كبيرة بين الدول الأعضاء لا سيما على الجانب الاقتصادي والأمني .

- ٢- انتكس النمو الاقتصادي لدول الآسيان بحلول عام ١٩٩٧ بالرغم من نموه الهائل في النصف الاول من عقد التسعينات .

السؤال السادس : اكتب تحت الصور التالية ما تدل عليها**السؤال السابع : اكمل الشكل بكتابة الست الدول المؤسسة للاتحاد الأوروبي**

السؤال الثامن : أكمل الشكل التالي بمجال المقارنة فيما يلي :

قارة اسيا	قارة اوروبا	مجال المقارنة
		عدد الدول
		اكبر الدول
		اصغر الدول
		أطول الأتهار
		اعلى المناطق

السؤال التاسع : أكمل الشكل التالي بمجال المقارنة فيما يلي :

الآسيان	الاتحاد الاوروبي	مجال المقارنة
		سنة قيامها
		عدد الدول المؤسسة
		عدد الدول الحالية

السؤال العاشر : أجب عن الأسئلة التالية

س ١ : " نتيجة لظهور العديد من المشكلات الناتجة عن التخلف الاقتصادي ظهرت تجمعات لدول مجاورة " اذكر اهم هدفين لها ؟

- ج ١ : ١-
٢-

س ٢ : " للتكتلات الاقتصادية أهمية كبرى لأعضائها " اذكر اهمها ؟

- ج ٢ : ١-
٢-
٣-

س ٣ : " يسعى الاتحاد الأوروبي الى تحقيق جملة من الأهداف بعضها قصير المدى وبعدها طويل المدى " اذكر ثلاث منها ؟

- ج ٣ : ١-
٢-
٣-

س ٤ : " ظهرت السوق الاوربية المشتركة عام ١٩٥٨ وتم وضع عدة اهداف لضمان نجاحها " اذكر ثلاث من هذه الاهداف ؟

- ج ٤ : ١-
 ٢-
 ٣-

س ٥ : " كان للأهداف التي وضعت للسوق الاوربية المشتركة اثر ايجابي على دوله من خلال عدة مؤشرات " اذكر ثلاث منها ؟

- ج ٥ : ١-
 ٢-
 ٣-

س ٦ : " لرابطة الآسيان اهداف عدة عند نشأتها " اذكر اهم هذه الاهداف ؟

- ج ٦ : ١-
 ٢-

س ٧ : " أصبحت لرابطة الآسيان واحدة من المؤسسات الاقتصادية في آسيا وعلى المستوى العالمي " اذكر اهم هذه النجاحات ؟

- ج ٧ : ١-
 ٢-
 ٣-
 ٤-
 ٥-