

تم تحميل هذا الملف من موقع المناهج العمانية



امتحان تجريبي نهائي في محافظة ظفار مع نموذج الإجابة

[موقع المناهج](#) ⇨ [المناهج العمانية](#) ⇨ [الصف الحادي عشر](#) ⇨ [جغرافيا](#) ⇨ [الفصل الثاني](#) ⇨ [الملف](#)

تاريخ إضافة الملف على موقع المناهج: 07:25:51 2024-06-01

التواصل الاجتماعي بحسب الصف الحادي عشر



اضغط هنا للحصول على جميع روابط "الصف الحادي عشر"

روابط مواد الصف الحادي عشر على تلغرام

[الرياضيات](#)

[اللغة الانجليزية](#)

[اللغة العربية](#)

[التربية الاسلامية](#)

المزيد من الملفات بحسب الصف الحادي عشر والمادة جغرافيا في الفصل الثاني

[ملخص شرح درس الاتصالات](#)

1

[ملخص شرح درس التجارة الدولية](#)

2

[اختبار قصير أول](#)

3

[كتيب المادة](#)

4

[نموذج إجابة الامتحان الرسمي الفترة الصباحية](#)

5



المديرية العامة للتربية والتعليم بمحافظة ظفار
وحدة الدراسات الاجتماعية
امتحان تجريبي مادة : الجغرافيا الاقتصادية
للعام الدراسي ١٤٤٥هـ - ٢٠٢٣/٢٠٢٤ م
الفصل الدراسي الثاني

● عدد صفحات أسئلة الامتحان: (١١) صفحات.

● زمن الامتحان: (ساعتان)

● الإجابة في الدفتر نفسه.

اسم الطالب/ة	
الصف	المدرسة

التوقيع بالاسم		الدرجة		السؤال
المصحح الأول	المصحح الثاني	بالأرقام	بالحروف	
				١
				٢
				٣
				٤
				٥
مراجعة الجمع	جمعه			المجموع
				المجموع الكلي
				٦٠

أجب عن جميع الأسئلة الآتية

السؤال الأول: ضع دائرة حول رمز الإجابة الصحيحة لكل مفردة من المفردات الآتية:

١- العام الميلادي الذي اخترع فيه أول كمبيوتر في العالم:

١٩٥١ (د)

١٩٥٠ (ج)

١٩٤٩ (ب)

١٩٤٨ (أ)

٢- الآثار السياحية التي تعبر عن التعرف على حياة الشعوب وعاداتها وتقاليدها:

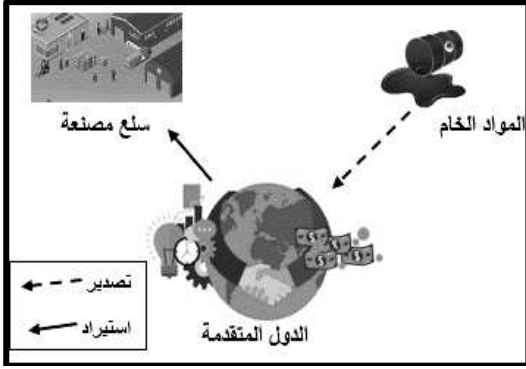
السياسية (د)

الاجتماعية (ج)

الاقتصادية (ب)

البيئية (أ)

٣- العامل المؤثر في التجارة الدولية الذي يمثله الشكل المقابل:



الموقع الجغرافي (أ)

النقل والاتصالات (ب)

التطور الاقتصادي (د)

الموارد الطبيعية (ج)

٤- القمر المستخدم لنقل المعلومات بين المحطات الأرضية والاقمار الصناعية:

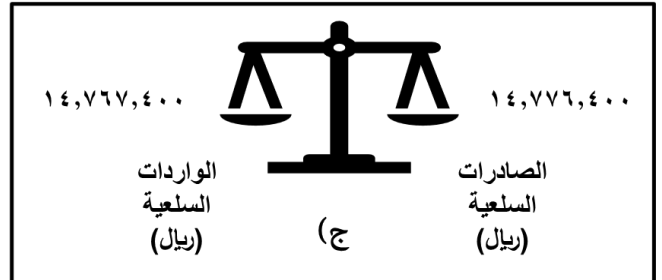
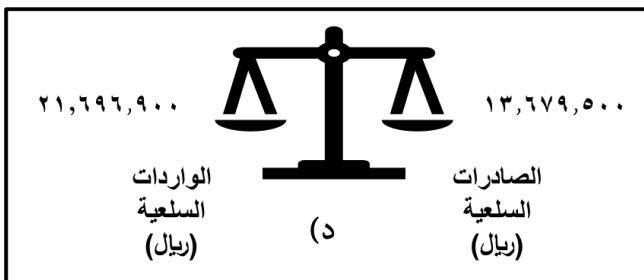
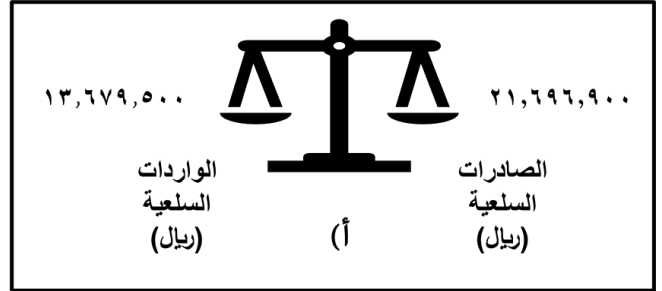
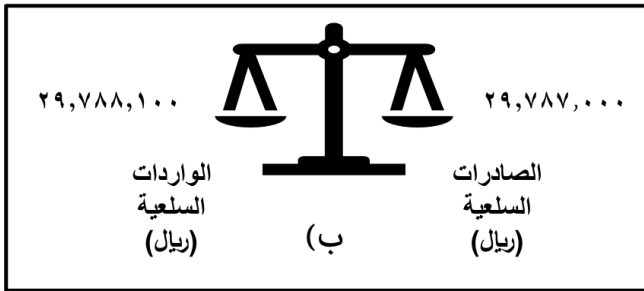
Nilesat (د)

Noaa (ج)

Goes (ب)

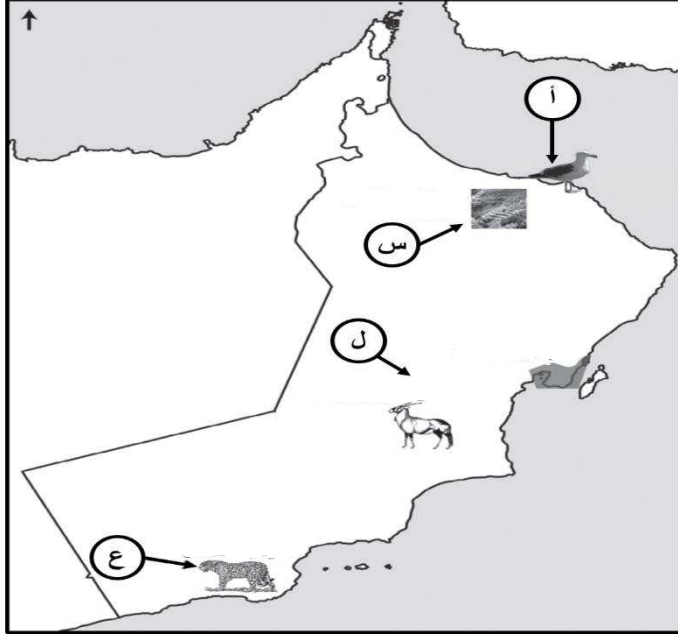
Landsat (أ)

٥- الشكل الصحيح الذي يوضح الدولة التي حققت فائضا في ميزانها التجاري:



تابع: السؤال الأول:

٦- الجدول الصحيح الذي يوضح توزيع المحميات الطبيعية في سلطنة عُمان وفق الخريطة التي أمامك :



اسم المحمية	الرمز
الجبل الأخضر	ل
القرم الطبيعية	أ
الكائنات الحية	س

(ب)

اسم المحمية	الرمز
القرم الطبيعية	ل
الجبل الأخضر	أ
الكائنات الحية	س

(أ)

اسم المحمية	الرمز
الكائنات الحية	ل
القرم الطبيعية	أ
الجبل الأخضر	س

(د)

اسم المحمية	الرمز
الجبل الأخضر	ل
الكائنات الحية	أ
القرم الطبيعية	س

(ج)

٧- القرن الميلادي الذي يُعد السفر لمناطق العلاج بالمياه المعدنية والسياحة التعليمية لأبنا الطبقة الغنية إحدى مظاهر التطور السياحي:

٢٠ (د)

١٩ (ج)

١٨ (ب)

١٧ (أ)

٨- يعتبر أحمد إذا قرر أن يسافر من سلطنة عُمان إلى شرم الشيخ في جمهورية مصر العربية لحضور مؤتمر علمي أستغرق خمسة أيام:

د (د) وافد

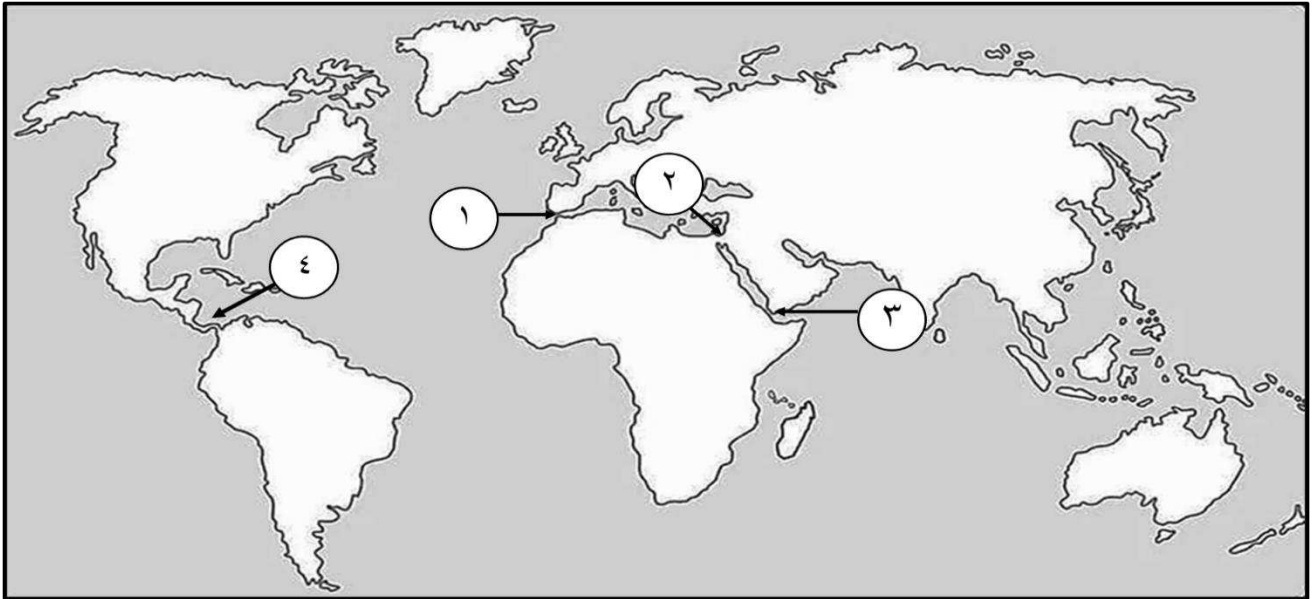
ج (ج) سائح

ب (ب) متنزه

أ (أ) مُقيم

تابع السؤال الأول:

٩- الرقم الذي يشير إلى ممر مائي يربط بين قارات العالم القديم في الخريطة أمامك:



٤(د)

٣(ج)

٢(ب)

١(أ)

١٠- تعد المرحلة الرابعة من مراحل عملية الاتصال:

د (الرسالة

ج (التغذية الراجعة

ب (الوسيلة

أ (المستقبل

١١- الجدول الذي يمثل المقارنة الصحيحة لوجه الشبة بين خصائص أنواع النقل:

النقل بالسكك الحديدية	وجه الشبة	(ب)	النقل بالسكك الحديدية	وجه الشبة	(أ)
النقل البحري	آمنه من تقلبات الجو		النقل البحري	انخفاض التكلفة	
النقل بالسكك الحديدية	وجه الشبة	(د)	النقل بالسكك الحديدية	وجه الشبة	(ج)
النقل البحري	ارتفاع سعر التكلفة		النقل البحري	نقل كميات كبيرة من البضائع	

١٢- الولاية العُمانية التي تمتلك العديد من المقومات السياحية من أمثلتها حديقة الصخور:

د (الدقم

ج (خصب

ب (هيما

أ (صور

السؤال الثاني:

أولاً: أ) اذكر واحداً لكل من:

١- اختصاصات منظمة التجارة العالمية (WTO).

٢- العوامل المساعدة التي تشكل بيئة مناسبة للمناخ الاستثماري السياحي.

ب) اقرأ العبارات الآتية، ثم أكتب وجه الدلالة المناسبة لكل عبارة في الجدول الآتي:

(أهمية الاتصالات في المجال الثقافي والتعليمي، الأثار البيئية للسياحة، أثر السياحة في توفير اليد العاملة ، أهمية النقل في المجال السياسي)

وجه الدلالة	العبارة
.....	تدهور البيئة البحرية والساحلية مثل تدمير الشعب المرجانية.
.....	يسهم النقل في المحافظة على وحدة الدول وسهول الاتصال فيما بينها.
.....	بلغت نسبة التعمين عام ٢٠١٣ في مكاتب السفر والسياحة ٩٥٪.
.....	تزود وسائل الاتصال الأفراد بالمعلومات الثقافية في مختلف المجالات.

ثانياً: أ) الشكل المقابل يوضح أحد أنواع النقل، ادرسه جيداً، ثم أجب عن الأسئلة الآتية:

١- سم هذا النوع من النقل؟

.....

٢- اعط سبب واحداً لظهور هذا النوع من النقل.

.....



يتبع/٥

تابع السؤال الثاني:

ب) اكتب اسم المفهوم / المصطلح الدال على العبارات الواردة في الجدول الآتي:

المفهوم	العبارة
.....	مواد مصنوعة من الزجاج النقي وتكون طويلة ورفيعة لا يتعدى سمكها سمك الشعرة.
.....	سجل يوضح جميع المعاملات الاقتصادية لدولة ما مع بقية دول العالم خلال فترة زمنية معينة عادة تكون سنة.

ثالثاً: علل لما يأتي:

١- تطور نشاط السياحة بعد الحرب العالمية الثانية.


.....

٢- يختلف النقل الجوي عن أنواع النقل الأخرى.

.....

السؤال الثالث:

أولاً: أ) اكتب أرقام العبارات الصحيحة التي تنطبق على الصورة أمامك في الجدول الذي يلي العبارات.



١- مدونة صدرت عن الجمعية العامة للمنظمة العالمية للسياحة في دورتها الثالثة عشر.

٢- وثيقة دولية تناولت المبادئ الأخلاقية التي تحكم الجوانب الاقتصادية والبيئية والاجتماعية لصناعة السياحة.

٣- تتألف المدونة من عشر مواد أساسية.

٤- إلزام كافة الحكومات والأجهزة الأخرى المشاركة في السياحة بنود هذه المدونة.

٥- المجالات التي تشتمل عليها المدونة تتمثل في المحافظة على الموارد البيئية وعلى المجتمع وثقافته، وتحقيق منافع اقتصادية.

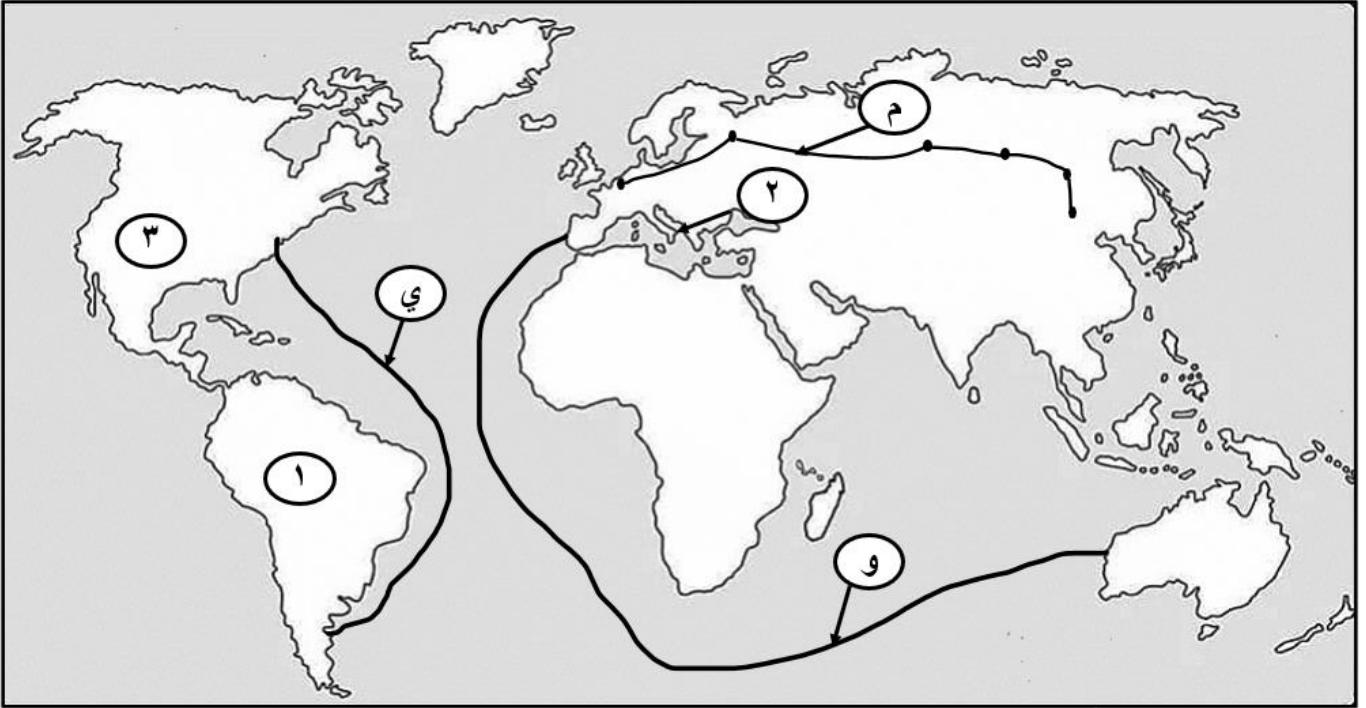
٦- تعمل على تدعيم الجانب الثقافي بشكل أكبر من الجانب الاقتصادي.

أرقام العبارات الصحيحة

--	--	--	--

تابع السؤال الثالث:

(ب) ادرس خريطة العالم الآتية، ثم أجب عن الأسئلة التي تليها:



١- اكتب اسم الخط التجاري الذي يرمز له بالرمز (م) (.....).

٢- رمز الخط التجاري الذي يربط رأس الرجاء الصالح، ويربط بين أوروبا، وأستراليا (.....).

٣- رقم الحضارة التي اشتهر شعبها في تمهيد شبكة كبيرة من الطرق البرية (.....).

٤- رقم الدولة الأولى عالمياً من حيث أطول خطوط سكك الحديد (.....).

ثانياً: أ) من خلال دراستك " لموضوع السياحة المفهوم والأهمية "

أجب عن الأسئلة الآتية:

١- ما أهمية السياحة بالنسبة للأفراد والمجتمعات.

•

٢- حدد العوامل التي ساعدت على ازدهار السياحة في العالم.

•

تابع السؤال الثالث:

(ب) صنف الأنشطة السياحية الآتية وفق أنواعها.

نوع النشاط

النشاط السياحي

.....

رحلة السفاري في صحراء الربع الخالي

.....

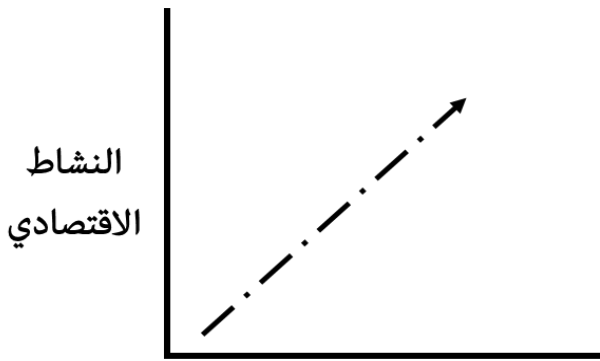
حضور بطولة الألعاب المائية في الدوحة ١٨ فبراير ٢٠٢٤ م

.....

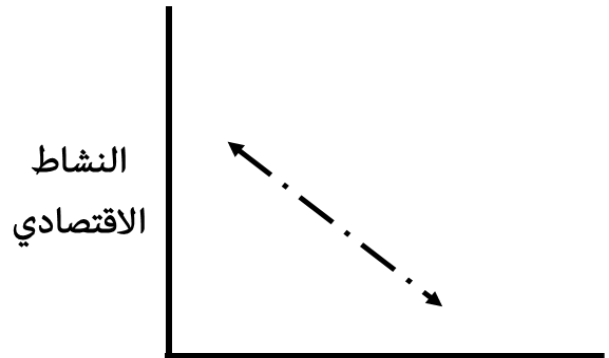
زيارة متحف أرض اللبان في محافظة ظفار

.....

زيارة عين الكسفة ذات المياه الحارة

ثالثاً: ادرس الشكلين الآتين، ثم أجب عن الأسئلة التي تليهما.

الانترنت



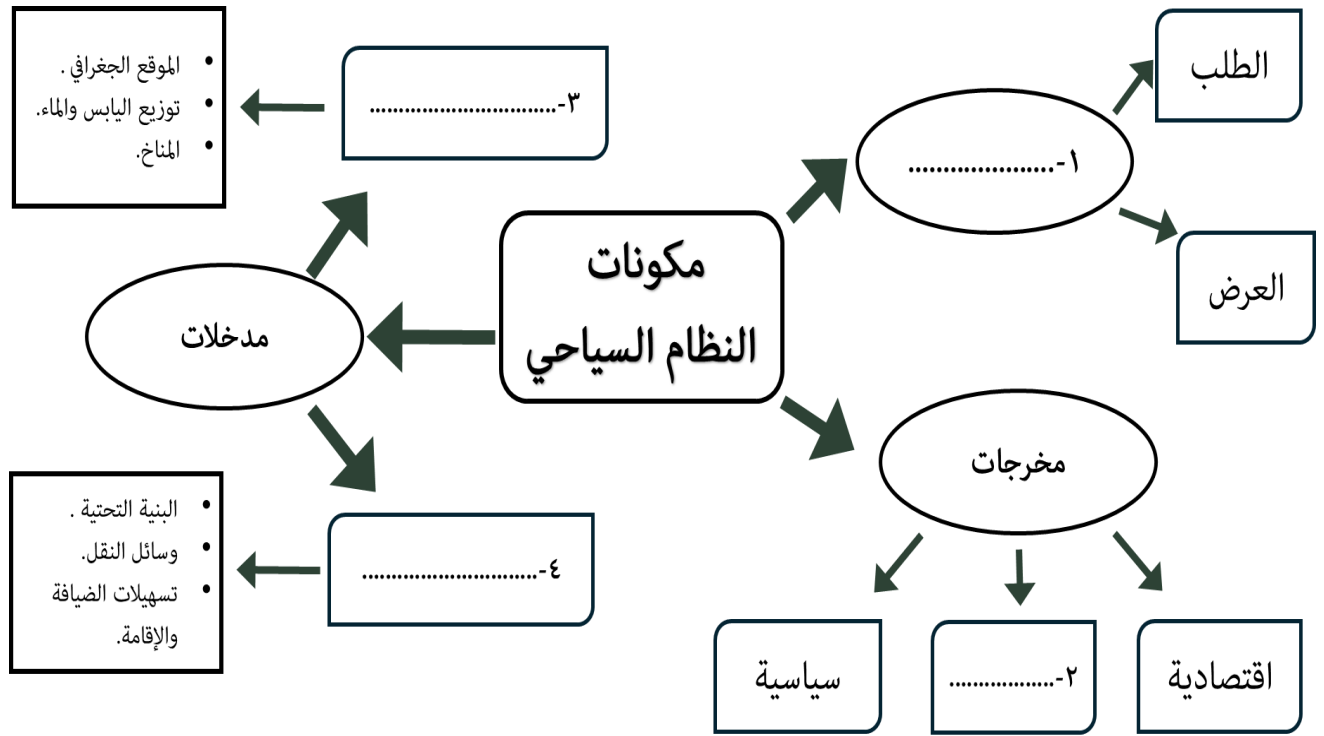
الانترنت

١- ظلل المربع الصحيح أسفل الشكل المعبر عن نوع العلاقة بين انتشار الانترنت والنشاط الاقتصادي.

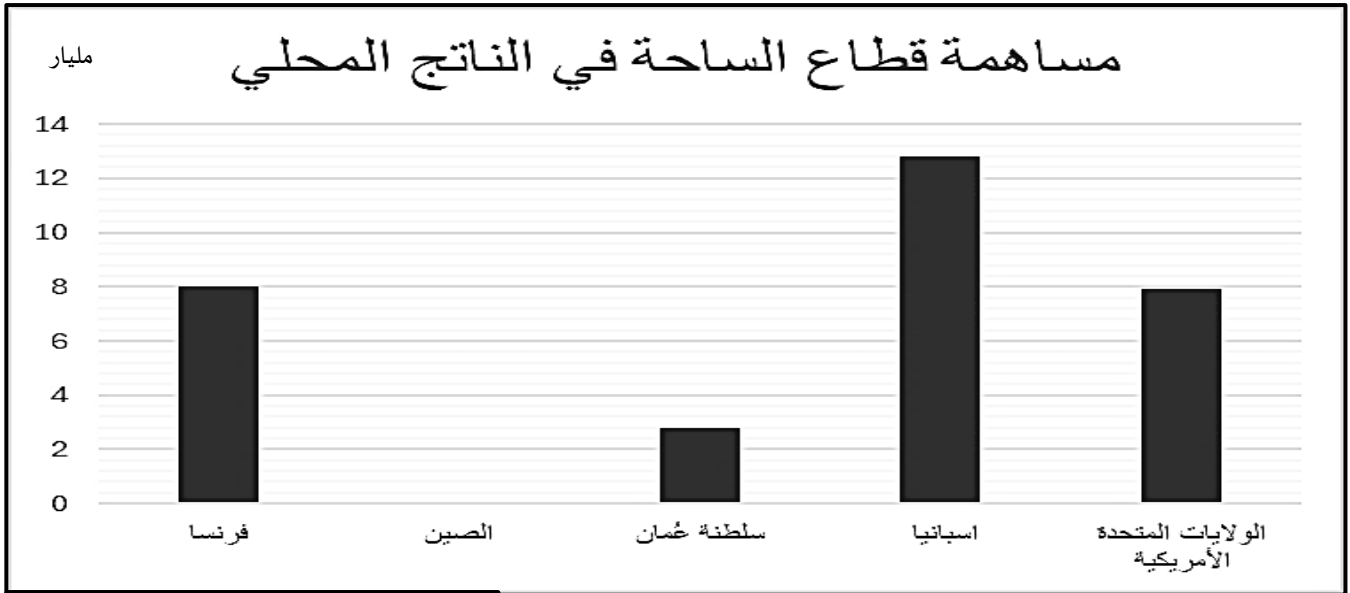
٢- وضح أثر شبكة الانترنت على الاقتصاد حول العالم.

السؤال الرابع:

أولاً: أ) أكمل المخطط الآتي:



ب) ادرس المخطط البياني الذي أمامك، ثم أجب عن الأسئلة الآتية:



١- سم الدولة التي سجل قطاعها السياحي أعلى نسبة مساهمة في الناتج المحلي؟ وكم بلغ؟

٢- بلغت مساهمة القطاع السياحي في الناتج المحلي للصين ٤,٨ مليار دولار مثل ذلك بيانياً.

تابع: السؤال الرابع:

ثانياً: أ) ادرس النص الآتي، ثم أجب عن الأسئلة التي تليه.

" يلعب النقل دوراً حاسماً في تطور الدول، فهو وسيلة للتواصل والتفاعل بين الدول والمجتمعات مما يؤدي إلى تعزيز التكامل الإقليمي والدولي ولزيادة الروابط بين العلاقات الدولية، كما أنه يساهم في تطوير التنمية المستدامة ورفاهية الأفراد حيث يتيح الوصول إلى فرص العمل والتعليم والخدمات الأساسية وتحسين جودة الحياة، ويعزز نظام النقل الفعال والتجارة من خلال تيسير حركة السلع والخدمات بين المناطق والأسواق المختلفة".

١- ما المجالات التي يشملها أهمية النقل التي ذكرها النص السابق.

٢- استنتج أهمية واحدة للنقل ذكرت في النص السابق، مع ذكر تصنيف مجالها.

ب) للأقمار الصناعية عدة مهام عدد اثنان منها؟

•

•

السؤال الخامس:

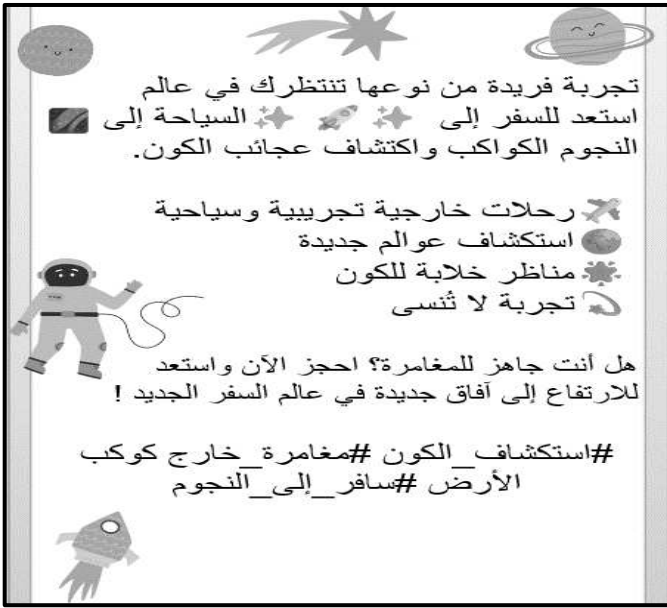
أولاً: أ) ادرس الخريطة التي امامك، ثم اكتب الرمز المناسب على الصورة التي توضح نوع النقل التي امامك.



تابع: السؤال الخامس:

ب) "١- تتنافس الدول فيما بينها من أجل استقطاب المزيد من السياح من خلال تقديم العديد من التسهيلات " وضح ذلك.

٢- تأمل البوستر الإعلاني الذي أمامك جيداً، ثم أجب عن الأسئلة الآتية:



• ما نوع السياحة المعلن أمامك؟

• برأيك ما التدابير التي يمكن اتخاذها للتوسع في هذا النوع من السياحة.

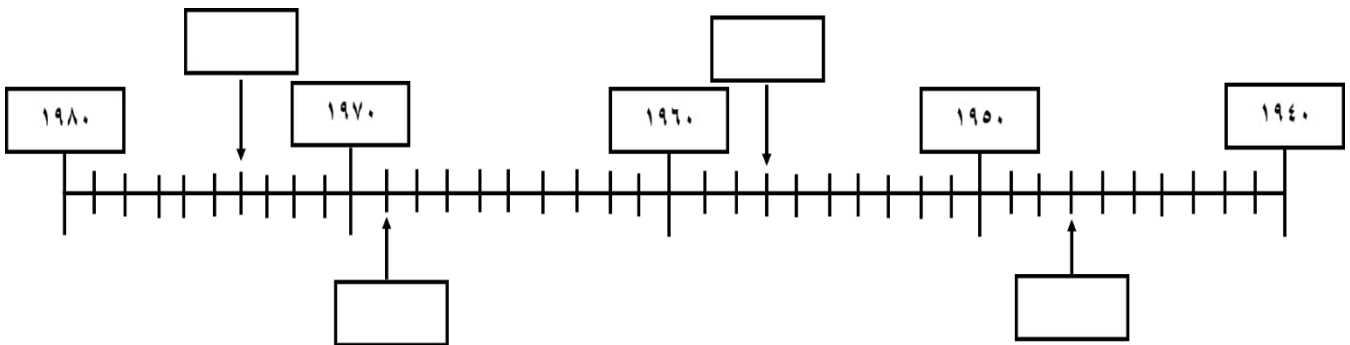
ثانياً: أ) أنقل أرقام الأحداث التاريخية الآتية إلى المسطرة الزمنية في موقعها الصحيح.

١- اختراع فينتون سيرف نظام الإنترنت المعمول به حالياً.

٢- إطلاق روسيا أول قمر اصطناعي.

٣- اختراع الترانزستور في الولايات المتحدة الأمريكية.

٤- نشوء فكرة الانترنت في وزارة الدفاع الأمريكية.



تابع: السؤال الخامس:

ب- ادرس الشكل الآتي ، ثم حدد العنصر المختلف من بين العناصر الآتية . مع ذكر السبب.

٢-التعاون مع المنظمات الدولية.

١-سرعة تقديم الخدمات للمواطنين.

٤-الانفتاح والانتشار وتوفرها للجميع.

٣-سهولة الوصول إلى الخدمة.

العنصر المختلف هو:

السبب:

انتهت الأسئلة مع الدعاء للجميع بالتوفيق والنجاح



المديرية العامة للتربية والتعليم / محافظة ظفار
وحدة الدراسات الاجتماعية
نموذج إجابة امتحان تجريبي الصف الحادي عشر لمادة الجغرافيا الاقتصادية
للعام الدراسي ٢٠٢٣-٢٠٢٤م
الفصل الدراسي الثاني

الدرجة الكلية: ٦٠

المادة: الدراسات الاجتماعية

تنبيه: نموذج الإجابة في (٧) صفحات.

أولاً: إجابة السؤال الموضوعي

١٢ درجات

السؤال الأول

رقم المفردة	البديل الصحيح	الإجابة الصحيحة	الدرجة	الصفحة								
١	ب	١٩٤٩	١	١٢٢								
٢	ج	الاجتماعية	١	١٨٢								
٣	د	التطور الاقتصادي	١	١٢٩								
٤	د	Nilesat	١	١٢٣								
٥	أ	<p>١٣,٦٧٩,٥٠٠ ٢١,٦٦٦,٩٠٠ الواردات السلعية (ديال) أ الصادرات السلعية (ديال)</p>	١	١٢٨								
٦	د	<table border="1"><thead><tr><th>الرمز</th><th>اسم المحمية</th></tr></thead><tbody><tr><td>ل</td><td>الكائنات الحية</td></tr><tr><td>أ</td><td>القرم الطبيعية</td></tr><tr><td>س</td><td>الجيل الأخضر</td></tr></tbody></table> <p>(٥)</p>	الرمز	اسم المحمية	ل	الكائنات الحية	أ	القرم الطبيعية	س	الجيل الأخضر	١	١٦٤
الرمز	اسم المحمية											
ل	الكائنات الحية											
أ	القرم الطبيعية											
س	الجيل الأخضر											
٧	ب	١٨	١	١٤٣								
٨	ج	سائح	١	١٤٤								
٩	ب	٢	١	١١٦								
١٠	أ	المستقبل	١	١٢١								

(٢)

نموذج إجابته امتحان تجريبي الصف الحادي عشر

مادة الجغرافيا الاقتصادية

للعام الدراسي ١٤٤٥هـ / ٢٠٢٣-٢٠٢٤م

الفصل الدراسي الثاني

أولاً: إجابة السؤال الموضوعي

١٢ درجات

تابع: السؤال الأول

الصفحة	الدرجة	الإجابة الصحيحة	البديل الصحيح	رقم المفردة
١٠٨- ١١٤	١	<div style="border: 1px solid black; padding: 5px; display: inline-block;">النقل بالسكك الحديدية</div> <div style="border: 1px solid black; padding: 5px; display: inline-block; margin-left: 20px;">وجه الشبنة</div> <div style="border: 1px solid black; padding: 5px; display: inline-block; margin-left: 20px;">نقل كميات كبيرة من البضائع</div> <p style="text-align: center;">(ج)</p> <div style="border: 1px solid black; padding: 5px; display: inline-block; margin-left: 20px;">النقل البحري</div>	ج	١١
١٨٦	١	الدقم	د	١٢
١٢ درجة		المجموع		

(٣)

نموذج إجابة امتحان تجريبي الصف الحادي عشر

مادة الجغرافيا الاقتصادية

للعام الدراسي ١٤٤٥هـ / ٢٠٢٣-٢٠٢٤م

الفصل الدراسي الثاني

ثانياً: إجابة الأسئلة المقالية

١٢ درجة

السؤال الثاني

الصفحة	الدرجة	الإجابة الصحيحة	المفردة	الجزئية
١٣١- ١٣٢	١	<ul style="list-style-type: none"> • إدارة الاتفاقيات التجارية. • مساعدة الدول النامية في المواضيع المتعلقة بالسياسات التجارية مثل: التكنولوجيا، وبرامج التدريب. • فض المنازعات ذات الصلة التجارية. • مراجعات السياسات القومية المتعلقة بالتجارة. • التعاون مع المنظمات الدولية الأخرى. 	١	أ أولا
١٧٨- ١٧٩	١	<ul style="list-style-type: none"> • توفر البنى التحتية (المرافق العامة) وتشمل مياه الشرب ، وخدمات الصرف الصحي ، والكهرباء ، والاتصالات وإنشاء شبكات الطرق البرية الرئيسية والفرعية وفق المواصفات الدولية ، وأماكن التخلص من النفايات . • التسهيلات المصرفية والتجارية، وتضم البنوك وملاص الصرافة، والمحلات التجارية العامة، ومحلات الطعام. • توفير الأيدي العاملة المؤهلة والمدربة، فكلما تطورت الصناعة السياحية تطلب ذلك المزيد من الأيدي العاملة. • التسهيلات عند المنافذ الحدودية سواء المطارات، أو المراكز الحدود البرية ، أو الموانئ البحرية ، ومنح تأشيرات الدخول. 	٢	
		يكتفي بذكر واحدة فقط في المفردة (١-٢)	معياري التصحيح	
١٨١	١	الاثار البيئية الساحلية		
١٠٣	١	أهمية النقل في المجال السياسي	-	ب
١٢٢	١	أثر السياحة في توفير اليد العاملة		
١٨٠	١	أهمية الاتصالات في المجال الثقافي والتعليمي		

(٤)

نموذج إجابته امتحان تجريبي الصف الحادي عشر

مادة الجغرافيا الاقتصادية

للعام الدراسي ١٤٤٥هـ / ٢٠٢٣-٢٠٢٤م

الفصل الدراسي الثاني

ثانياً: إجابة الأسئلة المقالية

١٢ درجة

تابع: السؤال الثاني

الصفحة	الدرجة	الإجابة الصحيحة	المفردة	الجزئية
١١٩	١	النقل المستدام أو السيارات الكهربائية.	١	ثانياً أ
	١	بسبب زيادة الانبعاثات المسببة للاحتباس الحراري من وسائل النقل الأخرى، استهلاك كميات كبيرة من الوقود، أو بما يفيد المعنى .	٢	
١٢٤	١	الألياف البصرية	-	ب
١٤٧	١	ميزان المدفوعات		
١٤٠	١	تزامنا مع ما شهده العالم من تطور في وسائل النقل والاتصالات، وارتفاع المستوى الاقتصادي للدول والأفراد.	١	ثالثاً أ
		بسبب تركيزه على نوع المواد المنقولة وليس وزنها.	٢	
١٢ درجة		المجموع		

(٥)

نمذج إجابته امتحان تجريبي الصف الحادي عشر

مادة الجغرافيا الاقتصادية

للعام الدراسي ١٤٤٥هـ / ٢٠٢٣-٢٠٢٤م


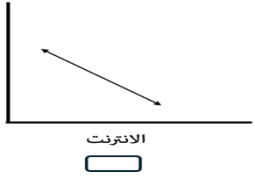




الفصل الدراسي الثاني

ثانياً: إجابة الأسئلة المقالية

١٢ درجة

السؤال الثالث

الصفحة	الدرجة	الإجابة الصحيحة	المفردة	الجزئية									
١٨٥	٢ لكل جزئية نصف درجة	<table border="1"><thead><tr><th colspan="4">أرقام العبارات الصحيحة</th></tr></thead><tbody><tr><td>٥</td><td>٣</td><td>٢</td><td>١</td></tr></tbody></table>	أرقام العبارات الصحيحة				٥	٣	٢	١	-	أ	أولاً
أرقام العبارات الصحيحة													
٥	٣	٢	١										
١١٠	١	خط الحرير الجديد	١	ب									
١١٥	١	(و)	٢										
١٠٦	١	٢	٣										
١٠٩	١	٣	٤										
١٤٦	١	<ul style="list-style-type: none">تعمل على الترويح عن النفس، وتبعد الفرد عن ممارسة الروتين اليومي، وقضاء أوقات راحة خلال السنة.تعزز روح الانتماء عند المواطن.توطد روح العمل الجماعي بين المشاركين في الرحلات، وفيها تتسع آفاق الأفراد والجماعات، وتتنوع أنشطتهم وتجدد طاقاتهم.وسيلة مهمة لتحقيق التقارب بين الشعوب، الأمر الذي يعمل على زيادة التفاعل الحضاري فيما بينها.تعمل على تطوير العلاقات الاجتماعية من خلال الانفتاح على العالم، وتعرف حياة الشعوب وعاداتها وتقاليدها.تساعد على الاهتمام بالتراث والمحافظة عليه.	١	أ	ثانياً								
١٤٩	١	<ul style="list-style-type: none">ازدهار اقتصاد الدول وبخاصة المتقدمة، وازدياد قدرة الأفراد والجماعات على امتلاك وسائل النقل المختلفة، مما سهل التنقل من مكان إلى آخر.إدراك الحكومات أهمية السياحة في تحسن الدولة وازدهارها.	٢										

		<ul style="list-style-type: none"> تطور المواصلات والبنية الأساسية الخاصة بها من طرق وسكك حديدية ومطارات، وبخاصة في مواقع الجذب السياحي، مما شجع أعداد كبيرة من السياح للسفر لمسافات طويلة. تطور وسائل الدعاية والإعلان ولا سيما في فترات العطل السنوية والمناسبات والأعياد، الأمر الذي أوجد نوعاً من الوعي عند الناس. توافر فرص التسلية في البرامج السياحية وبخاصة للأطفال، وهو ما يدفع الكثير من العائلات لاستغلال مثل هذه الفرص. تطور مفهوم السياحة الشاملة أجور النقل وتسهيلات الضيافة التي تعد من قبل منظم الرحلات، حيث يلبي هذا النوع حاجات كل الأفراد ومن مختلف المستويات لقلة التكاليف. 													
		يكتفي بذكر واحد في كل من المفردة (١-٢)	معياري التصحيح												
١٦١ ١٥٣ ١٥٧ ١٥٨	٢	<table border="1"> <thead> <tr> <th>نوع النشاط</th> <th>النشاط السياحي</th> </tr> </thead> <tbody> <tr> <td>السياحة البيئية</td> <td>رحلة السفاري في صحراء الربع الخالي</td> </tr> <tr> <td>السياحة الرياضية</td> <td>حضور بطولة الألعاب المائية في الدوحة ١٨ فبراير ٢٠٢٤م.</td> </tr> <tr> <td>السياحة الثقافية</td> <td>زيارة متحف أرض اللبان في محافظة ظفار</td> </tr> <tr> <td>السياحة العلاجية</td> <td>زيارة عين الكسفة ذات المياه الحارة</td> </tr> </tbody> </table>	نوع النشاط	النشاط السياحي	السياحة البيئية	رحلة السفاري في صحراء الربع الخالي	السياحة الرياضية	حضور بطولة الألعاب المائية في الدوحة ١٨ فبراير ٢٠٢٤م.	السياحة الثقافية	زيارة متحف أرض اللبان في محافظة ظفار	السياحة العلاجية	زيارة عين الكسفة ذات المياه الحارة	-	ب	
نوع النشاط	النشاط السياحي														
السياحة البيئية	رحلة السفاري في صحراء الربع الخالي														
السياحة الرياضية	حضور بطولة الألعاب المائية في الدوحة ١٨ فبراير ٢٠٢٤م.														
السياحة الثقافية	زيارة متحف أرض اللبان في محافظة ظفار														
السياحة العلاجية	زيارة عين الكسفة ذات المياه الحارة														
		٢ درجات لكل إجابة نصف درجة	معياري التصحيح												
١٢٥	١	<table border="1"> <thead> <tr> <th>النشاط الاقتصادي</th> <th>النشاط الاقتصادي</th> </tr> </thead> <tbody> <tr> <td></td> <td></td> </tr> </tbody> </table>	النشاط الاقتصادي	النشاط الاقتصادي			١								
النشاط الاقتصادي	النشاط الاقتصادي														
															
١٢٥	١	اسهم انتشار الانترنت إلى ظهور نوع جديد من الاقتصاد هو الاقتصاد الرقمي ، الذي يعتمد على استخدام التكنولوجيا الرقمية من إنجاز المعاملات التجارية ، حيث ظهرت العديد من المواقع الإلكترونية بهدف تسويق سلع وخدمات معينة يمكن المستهلك الحصول عليها في أي مكان في العالم عن طريق شبكة الإنترنت . بما يفيد المعنى	٢	-	ثالثاً										
١٢ درجة		المجموع													

(٦)

نموذج إجابته امتحان تجريبي الصف الحادي عشر

مادة الجغرافيا الاقتصادية

للعام الدراسي ١٤٤٥هـ / ٢٠٢٣-٢٠٢٤م

الفصل الدراسي الثاني

ثانياً: إجابة الأسئلة المقالية

السؤال الرابع

١٢ درجة

الصفحة	الدرجة	الإجابة الصحيحة	المفردة	الجزئية												
١٦٦	٤	١- عمليات. ٢- اجتماعية، ٣- مقومات طبيعية ٤- مقومات بشرية	-	أ												
٤ درجات لكل إجابة درجة			معيار التصحيح													
١٤٧	٢	اسبانيا ١٣-	١	أولاً												
لكل مفردة درجة			معيار تصحيح													
١٤٧	١	<p>مساهمة قطاع الساحة في الناتج المحلي</p> <table border="1"> <caption>مساهمة قطاع الساحة في الناتج المحلي</caption> <thead> <tr> <th>الدولة</th> <th>المساهمة</th> </tr> </thead> <tbody> <tr> <td>فرنسا</td> <td>8</td> </tr> <tr> <td>الصين</td> <td>5</td> </tr> <tr> <td>سلطنة عُمان</td> <td>3</td> </tr> <tr> <td>اسبانيا</td> <td>13</td> </tr> <tr> <td>الولايات المتحدة الأمريكية</td> <td>8</td> </tr> </tbody> </table>	الدولة	المساهمة	فرنسا	8	الصين	5	سلطنة عُمان	3	اسبانيا	13	الولايات المتحدة الأمريكية	8	٢	ب
الدولة	المساهمة															
فرنسا	8															
الصين	5															
سلطنة عُمان	3															
اسبانيا	13															
الولايات المتحدة الأمريكية	8															
١٠٣	١	المجال الاقتصادي - المجال السياسي - المجال الاجتماعي	١													
١٠٣	٢	<ul style="list-style-type: none"> المجال السياسي / وسيلة للتواصل والتفاعل بين الدول والمجتمعات مما يؤدي إلى التكامل الإقليمي والدولي لزيادة الروابط بين العلاقات الدولية. المجال الاجتماعي / يساهم في تعزيز التنمية المستدامة ورفاهية الأفراد حيث يتيح الوصول إلى فرص العمل والتعليم والخدمات الأساسية وتحسين جودة الحياة. المجال الاقتصادي / يعزز نظام النقل الفعال التجارة من خلال تيسير حركة السلع والخدمات بين المناطق والأسواق المختلفة. يكفي بوحدة فقط 	٢	أ												
ذكر المجال درجة / ذكر الأهمية الصحيحة المرتبطة بالمجال درجة			معيار التصحيح													
١٢٣	٢	أقمار الاتصالات - أقمار الأرصاد الجوية - أقمار مراقبة سطح الأرض - أقمار الأبحاث العلمية. يكفي باثنان فقط لكل إجابة درجة	-	ب												
١٢ درجة	المجموع															

(٧)

نموذج إجابته امتحان تجريبي الصف الحادي عشر
للعام الدراسي ١٤٤٥هـ / ٢٠٢٣-٢٠٢٤م
الفصل الدراسي الثاني

ثانياً: إجابة الأسئلة المقالية

١٢ درجة

السؤال الخامس

الصفحة	الدرجة	الإجابة الصحيحة	المفردة	الجزئية
١٢٠ ١١١	٢	<p>ب</p>  <p>سولار إمبلس ٢</p> <p>م</p> 	١	أ
لكل إجابة درجة			معياري التصحيح	
١٧٣	٢	<ul style="list-style-type: none"> توفير المعلومات عن المناطق السياحية في الدولة من وبلغات مختلفة، كالخرائط السياحية. توظيف المرشدين السياحيين المدربين تدريباً جيداً والمؤهلين لهذه المهنة. سرعة إنجاز معاملات دخول السياح عند المعابر الحدودية وبخاصة المعاملات المتعلقة بتأشيرة الدخول ودفع الرسوم. تطوير عمليات التفتيش الجمركي. تأهيل رجال الأمن والجمارك بحيث يمثلون الوجه المشرق للدولة . توفير وسائل النقل السياحية التي تعمل بدقة وانتظام ومزودة بالعاملين من ذوي الأخلاق الحسنة والأمانة. 	١	ب
يكتفي بإثنان			معياري التصحيح	
١٥٩ ١٦٠	٢	<ul style="list-style-type: none"> سياحة فضائية انشاء شركات للسياحة الفضائية، التوسع في أبحاث عن كيفية تفعيل السياحة الفضائية، تخفيض تكلفة السياحة الفضائية ، تطوير صناعة المركبات الفضائية لتكون مناسبة للسائح . 	٢	ب
لكل إجابة درجة ، الجزئية الثانية يقبل أي مقترح أو تدبير مناسب لتطوير السياحة			معياري تصحيح	
١٠٣	١ ١ ١ ١	<ul style="list-style-type: none"> اختراع الترانزستور في الولايات المتحدة الأمريكية (١٩٤٧) إطلاق روسيا أول قمر اصطناعي (١٩٥٧) نشوء فكرة الانترنت في وزارة الدفاع الأمريكية (١٩٦٩) اختراع فينتون سيرف نظام الإنترنت المعمول به حالياً (١٩٧٤) 	-	أ
				ثانياً

-١٢٦ ١٣٢	٢	العنصر المختلف ٢- التعاون مع المنظمات الدولية. السبب: أنه أحد اختصاصات منظمة التجارة العالمية (wto)، وباقي العناصر هي إيجابيات الحكومة الإلكترونية.	-	ب	
١٢ درجة		المجموع			

انتهى نموذج الإجابة