

شكراً لتحميلك هذا الملف من موقع المناهج العمانية



اختبار قصير أول

[موقع المناهج](#) ⇨ [المناهج العمانية](#) ⇨ [الصف الحادي عشر](#) ⇨ [اجتماعيات](#) ⇨ [الفصل الأول](#) ⇨ [الملف](#)

تاريخ نشر الملف على موقع المناهج: 06:17:05 2023-10-29

التواصل الاجتماعي بحسب الصف الحادي عشر



روابط مواد الصف الحادي عشر على تلغرام

[الرياضيات](#)

[اللغة الانجليزية](#)

[اللغة العربية](#)

[التربية الاسلامية](#)

المزيد من الملفات بحسب الصف الحادي عشر والمادة اجتماعيات في الفصل الأول

نماذج اختبارات قصيرة وواجبات منزلية	1
أنشطة وأوراق عمل على الوحدة الرابعة عمان الدولة العصرية	2
مذكرة أنشطة في الوحدة الثانية - المجتمع العماني بين الأصالة (دفترتي سر تميزي)	3
مذكرة أنشطة في الوحدة الأولى - عُمان..المكان والحضارة (دفترتي سر تميزي)	4
أوراق عمل في الوحدة الأولى (أحوية)	5

اختبار قصير أول

10

الاسم: الصف: الحادي عشر /

3

السؤال الأول: أختَر الإجابة من بين البدائل المعطاء:


1) تبلغ طول سواحل عمان حوالي:

أ- 3163 كلم ب- 3164 كلم ج- 3265 كلم د- 3166 كلم

2) الوادي الذي يقسم سلسلة جبال حجر عمان الى قسمين:

أ- وادي الجزري ب- وادي سمائل ج- وادي الحوض د- وادي الحوقين

3) الصورة التالية توضح:



أ- كهف الهوته ب) جبل سمحان

ج- كهف المرنيف د- حديقة الصخور

4

السؤال الثاني: أجب على الأسئلة الآتية:

1) اشرح كيف أسهم الموقع الجغرافي لعمان بالتحكم في شبكة التجارة والملاحة في المحيط الهندي.

2) أكمل الشكل الذي يوضح أنواع الواحات الداخلية في سلطنة عمان.

الواحات الداخلية في سلطنة عمان

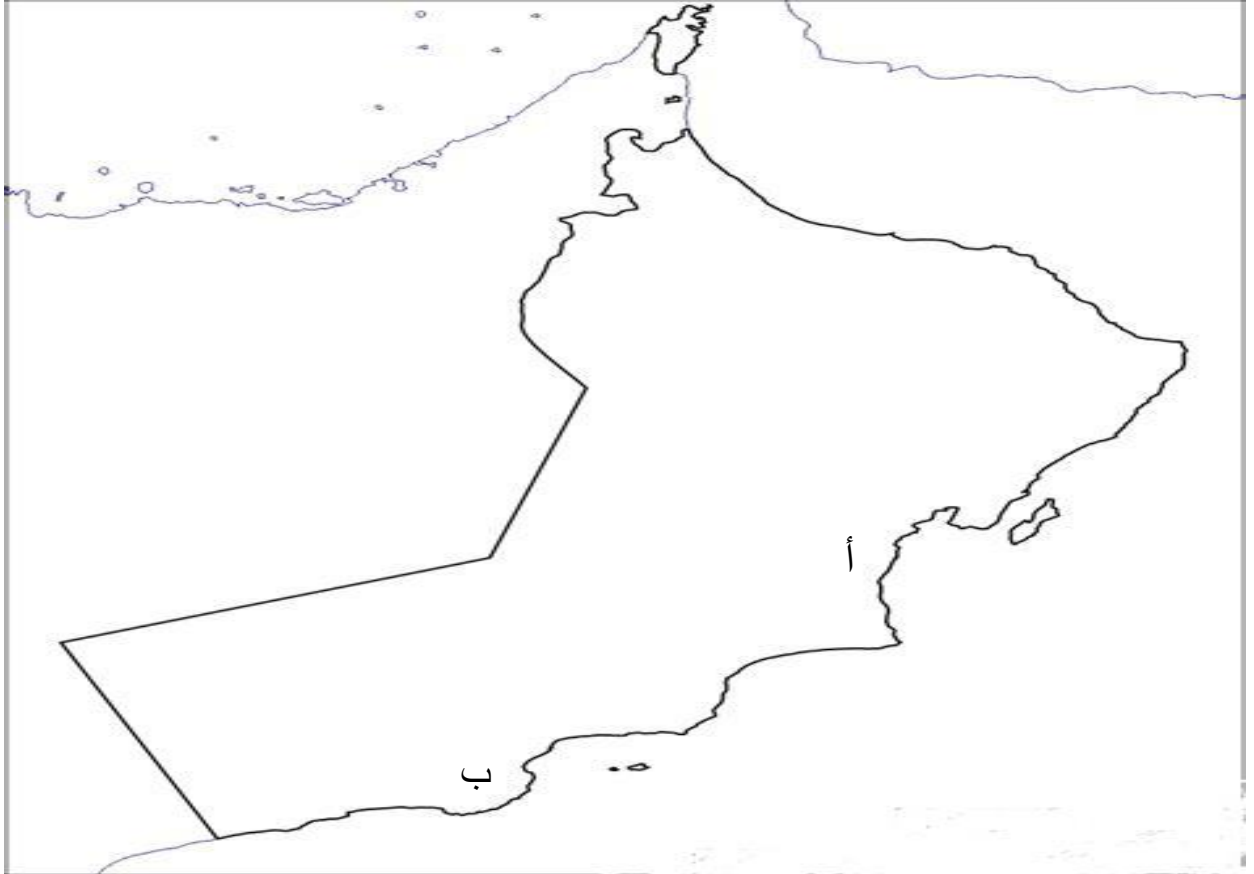
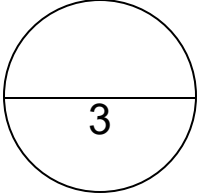
المصاطب الصخرية
على الحافات الجبيلة

الرستاق ونزوى

3) وضح الفرق بين:

.....	الأخوار الدائمة
.....	الأخوار المؤقتة

السؤال الثالث:



1) ادرس الخريطة ثم أجب على الاسئلة الآتية:

أ- لون على الخريطة امتداد سهل الباطنة.

ب- سم الصحراء (منطقة) المشار إليها بالرمز (أ):.....

ج- أذكر نوع من أنواع الحيوانات الموجود في المحمية المشار إليها بالرمز (ب):.....

2) تحدث عن سبحة أم السميم.

.....
.....
.....