

شكراً لتحميلك هذا الملف من موقع المناهج العمانية



اختبار قصير (2) ثاني مع نموذج الإجابة

[موقع المناهج](#) ← [المناهج العمانية](#) ← [الصف الحادي عشر](#) ← [كيمياء](#) ← [الفصل الثاني](#) ← [الملف](#)

التواصل الاجتماعي بحسب الصف الحادي عشر



روابط مواد الصف الحادي عشر على تلغرام

[الرياضيات](#)

[اللغة الانجليزية](#)

[اللغة العربية](#)

[التربية الاسلامية](#)

المزيد من الملفات بحسب الصف الحادي عشر والمادة كيمياء في الفصل الثاني

نموذج إجابة الامتحان النهائي الرسمي	1
إجابة الاختبارات النهائية الجديدة بمحافظة ظفار	2
اختبارات نهائية جديدة بمحافظة ظفار	3
نموذج إجابة الامتحان التحريبي النهائي الجديد بمحافظة ظفار	4
امتحان تحريبي نهائي نموذج جديد بمحافظة ظفار	5

5- تكون الألكانات سلسلة متجانسة لجميع مركباتها نفس الصيغة الجزيئية العامة وتشارك في الخواص الكيميائية وتدرج في الخواص الفيزيائية .
(3 م-ت-س)

1- اكتب الصيغة العامة للألكانات.

ب- وضح تفاعل غازي البروبان والكلور (موضحاً خطوات آلية التفاعل) (الابتداء - الانتشار - الانتهاء)

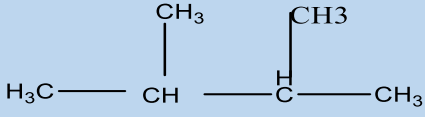

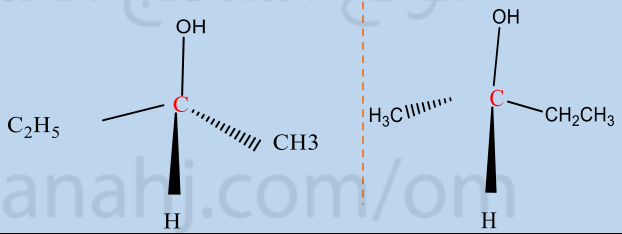
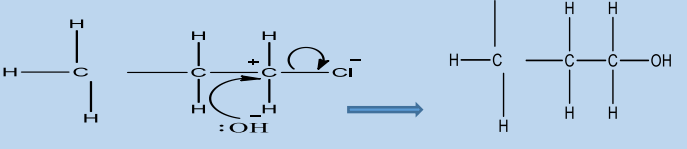
تم تحميل هذا الملف من
موقع المناهج العُمانية


(انتهت الأسئلة)

(مع أطيب الأمنيات بالنجاح والتوفيق)

alManahj.com/om

نموذج الإجابة

رمز الهدف	درجة هدف التقويم	الإجابة	الجزئية	المفردة
	المعرفة AO1 التطبيق والاستدلال AO2			
	1	<p style="text-align: center;">3.2 - ثنائي ميثيل بيوتان</p> 		1
	2			2
	1			3
	1	 <p style="text-align: center;">لأنه يمكنه منح زوج كن الإلكترونات إلى الكاتيون الكربوني .</p>	4 أ- ب-	
	1	<p style="text-align: center;">C_nH_{2n+2}</p> <p>الابتداء $Cl_2 \longrightarrow \bullet Cl + \bullet Cl$</p> <p>الانتشار $C_3H_7\bullet + Cl \bullet \longrightarrow C_3H_7\bullet + HCl$</p> <p>$C_3H_7\bullet + Cl_2 \longrightarrow Cl \bullet + C_3H_7Cl$</p> <p>الإيقاف $C_3H_7\bullet + Cl \bullet \longrightarrow C_3H_7Cl$</p>	أ- ب.	5
	6	4	المجموع 10	



تم تحميل هذا الملف من
موقع المناهج العُمانية

alManahj.com/om